



Какие из изображённых ниже архитектурных памятников были созданы в том же веке, к которому относится событие, юбилею которого посвящена монета? В ответе запишите две цифры, под которыми они указаны.




1)



2)



3)



4)



РЕШУЕГЭ.РФ