

Рассмотрите изображение и выполните задание.



Какой из представленных ниже памятников архитектуры был сооружён позже события, которому посвящена монета? В ответе запишите цифру, которой обозначен этот памятник архитектуры. Укажите московского князя, при котором было закончено строительство этого памятника архитектуры.




Рис. 1




Рис. 2




Рис. 3




Рис. 4