


Рассмотрите изображение и выполните задания 15, 16.




Создание какого из приведённых ниже памятников архитектуры приходится на царствование государя, правившего в период основания города, юбилею которого посвящена марка? В ответе запишите цифру, которой обозначен этот памятник архитектуры. Укажите архитектурный стиль, в котором он выстроен.


1)



2)



3)



4)

