

ЕГЭ по истории 30.05.2013. Основная волна. Центр. Вариант 5.

При выполнении заданий с кратким ответом впишите в поле для ответа цифру, которая соответствует номеру правильного ответа, или число, слово, последовательность букв (слов) или цифр. Ответ следует записывать без пробелов и каких-либо дополнительных символов. Имена правителей в заданиях с кратким ответом необходимо указывать словами: Пётр Первый или Пётр Великий, но не Пётр I или Пётр I.

Если вариант задан учителем, вы можете вписать или загрузить в систему ответы к заданиям с развернутым ответом. Учитель увидит результаты выполнения заданий с кратким ответом и сможет оценить загруженные ответы к заданиям с развернутым ответом. Выставленные учителем баллы отобразятся в вашей статистике.

1. Какое из перечисленных событий произошло раньше других?

1. Первое упоминание в летописи о Москве
2. Поход Тохтамыша на Москву
3. Поход Батгя на Северо-Восточную Русь
4. Стояние на реке Угре

2. «Вечу и колоколу в отчине нашей Новгороде не быти», — так заявил, отправляясь в поход на Новгород,

- 1) Василий III
- 2) Александр Невский
- 3) Иван IV
- 4) Иван III

3. Что стало одним из последствий принятия Русью христианства?

1. Установление уроков и погостов
2. Приобщение восточных славян к новым культурным ценностям и традициям
3. Смена правящей династии
4. Начало дробления Древнерусского государства на удельные княжества

4. Какое из произведений древнерусской литературы повествует о Куликовской битве?

- 1) «Повесть временных лет»
- 2) «Слово о полку Игореве»
- 3) Русская Правда
- 4) «Задонщина»

5. Прочтите отрывок из сочинения современного историка и укажите имя хана, о походе которого идёт речь.

«Дав своему войску возможность собраться с силами в степях Северного Причерноморья и Поволжья и получив подкрепление с востока, [он] продолжил поход на запад. Были уничтожены Чернигов и Переяславль, ... пал после осады Киев... Затем [он] огнём и мечом прошёл по Галицко-Волынской земле, разгромил Венгрию, Польшу, Хорватию. Было побеждено войско рыцарей, посланных навстречу монголам императором Германии».

- 1) Тимур
- 2) Чингисхан
- 3) Мамай
- 4) Батый

6. Какое из названных морских сражений произошло в ходе Северной войны?

- 1) Чесменское
- 2) Наваринское
- 3) Гангутское
- 4) Синопское

7. Кто из названных лиц были участниками русско-турецких войн второй половины XVIII в.?

- 1) В. В. Голицын, Ф. Я. Лефорт
- 2) Ф. Ф. Ушаков, П. А. Румянцев
- 3) М. Д. Скобелев, И. В. Гурко
- 4) П. С. Нахимов, А. П. Ермолов

8. В целях привлечения дворян к государственной службе Пётр I издал

- 1) указ о проведении переписи населения
- 2) указ о едином наследии
- 3) указ о престолонаследии
- 4) указ о введении рекрутской повинности

9. Прочтите отрывок из сочинения военного историка и назовите военачальника, о котором идёт речь.

«Из-за ...близорукости австрийского кабинета ему пришлось оставить дело в Италии недоконченным, с боями — вновь победоносными и беспримерными: совершить переход через неприступные Альпы, пробиваться через Сен-Готард и Чёртов мост в Швейцарию, спасая честь России, увековечивая славу русского оружия и бессмертное своё имя. За подвиги в Итальянском и Швейцарском походах [он] был отмечен достоинством князя Российской империи, получил звание генералиссимуса российских войск. Но тут же в очередной раз оказался в немилости у Павла I, что приблизило кончину полководца».

- 1) А. Г. Орлов
- 2) А. Д. Меншиков
- 3) А. В. Суворов
- 4) А. П. Ермолов

10. Какое из перечисленных явлений свидетельствовало о существовании пережитков крепостного права в России в 1860–1870-х гг.?

1. Перевод крестьян в дворовые
2. Временнообязанное положение крестьян
3. Введение месячины
4. Участие крестьян в работе земств

11. Что из перечисленного явилось следствием поражения России в Крымской войне?

1. Потеря Россией Севастополя
2. Создание Священного союза
3. Установление нейтрального режима Чёрного моря
4. Создание «Союза трёх императоров»

12. Прочтите отрывок из сочинения историка и назовите императора, о котором идёт речь.

«Первое заседание высших сановников государства под председательством нового императора состоялось 8 марта... Главным вопросом, стоявшим на повестке дня, было утверждение проекта Лорис-Меликова о создании законосовещательного органа, формируемого из представителей общественности... [Император] не склонен был решать этот вопрос положительно и за день до заседания советовался с К. П. Победоносцевым, каким образом организовать его обсуждение на совещании, намереваясь дать "бой" либеральным министрам».

- 1) Николай I
- 2) Александр III
- 3) Александр I
- 4) Александр II

13. Из перечисленных лиц художником-портретистом был

- 1) В. А. Жуковский
- 2) М. И. Глинка
- 3) О. А. Кипренский
- 4) А. Н. Воронихин

14. Декрет о земле был принят в 1917 г.

- 1) Вторым Всероссийским съездом Советов
- 2) Съездом РКП(б)
- 3) Временным правительством
- 4) Учредительным собранием

15. Что из названного стало следствием вынужденного отказа руководства СССР в августе 1939 г. от продолжения политики создания системы коллективной безопасности в Европе?

1. Заключение пакта Молотова-Риббентропа
2. Заключение СССР, Великобританией и Францией союза против фашистской Германии
3. Создание Лиги Наций
4. Создание Коминтерна

16. Какое событие произошло ранее других?

1. Освобождение г. Орла от фашистов
2. Освобождение г. Киева от фашистов
3. Танковое сражение в районе д. Прохоровки
4. Начало контрнаступления Красной армии под Сталинградом

17. Прочтите отрывок из воспоминаний современника и укажите, когда происходили описываемые события.

«Мы чаще и чаще в свободное время подходили к картам и всматривались в те пункты, которые обозначались в военных сводках. Особенно тревожило смоленское направление, поскольку это прямая дорога на Москву. Беспокоил также и Житомир, это уже глубокая стрела, нацеленная в глубь Украины, к её славному городу Киеву. Обозначилась также угроза и для Ленинграда. И хотя на этих трёх направлениях стояли славные маршалы Ворошилов, Тимошенко и Будённый, мы тем не менее испытывали законное беспокойство, зная, что такую же тревогу испытывают и все люди».

1. Летом 1941 г.
2. Осенью 1942 г.
3. Весной 1942 г.
4. Зимой 1941-1942 гг.

18. Что было характерно для внешней политики СССР при Н. С. Хрущёве?

1. Утверждение тезиса о мирном сосуществовании и соревновании двух систем
2. Установление отношений полного доверия и взаимопонимания с западными странами
3. Отказ от поддержки антиколониального движения
4. Улучшение советско-китайских отношений

19. Что стало одним из результатов политики государства в сфере сельского хозяйства, проводимой в 1950-е — начале 1960-х гг.?

1. Значительное сокращение площади распаханых земель
2. Снижение цен на мясо-молочные продукты
3. Массовое создание фермерских хозяйств
4. Возникновение необходимости закупки зерна за рубежом

20. Какое событие относится к периоду застоя?

1. Издание постановления Оргбюро ЦК ВКП(б) о кинофильме «Большая жизнь»
2. Отказ Б. Л. Пастернака от Нобелевской премии по литературе
3. Издание постановления Оргбюро ЦК ВКП(б) о журналах «Звезда» и «Ленинград»
4. Высылка А. И. Солженицына из страны

21. Какое событие произошло в годы президентства Б. Н. Ельцина?

1. Провозглашение приоритетных национальных проектов
2. Принятие закона об увеличении срока полномочий Государственной Думы РФ до пяти лет и Президента РФ до шести лет
3. Подписание Федеративного договора
4. Принятие закона о выборах в Госдуму только по спискам политических партий

22. Расположите в хронологической последовательности исторические события. Запишите цифры, которыми обозначены исторические события, в правильной последовательности в таблицу.

1. Введение урочных лет
2. Заключение первого русско-византийского договора
3. Окончание Смуты в России
4. Издание манифеста о трёхдневной барщине
5. Присоединение Новгорода к Москве

23. Что из перечисленного относится к итогам Первой российской революции 1905–1907 гг.? Выберите три верных ответа и запишите в таблицу цифры, под которыми они указаны.

1. Свержение монархии, установление республики
2. Создание Государственной думы
3. Разрешение создавать политические партии
4. Национализация всех помещичьих земель
5. Ликвидация сословий и гражданских чинов
6. Отмена выкупных платежей

24. Установите соответствие между определениями и понятиями. В ответ запишите последовательность цифр.

ОПРЕДЕЛЕНИЯ

- А) земледельцы, заключившие с хозяином земли договор на выполнение работ
- Б) свободные или зависимые земледельцы, основная масса населения Древней Руси
- В) люди, находившиеся в полной зависимости от хозяина земли
- Г) земледельцы, взявшие ссуду

ПОНЯТИЯ

- 1) смерды
- 2) холопы
- 3) закупы
- 4) тиуны
- 5) рядовичи

Запишите в ответ цифры, расположив их в порядке, соответствующем буквам:

А	Б	В	Г

25. Ниже приведён перечень терминов. Все они, за исключением одного, относятся к эпохе правления Ивана IV.

- 1. Стрельцы.
- 2. Опричники.
- 3. Полки «нового строя»;
- 4. Избранная рада;
- 5. Стоглавый собор;
- 6. Уложение о службе.

Найдите и запишите порядковый номер термина, относящегося к другому историческому периоду.

26. Напишите пропущенное слово.

Арест Временного правительства, II Всероссийский съезд Советов явились событиями, результатом которых стал приход к власти партии _____.

27. Заполните пустые ячейки таблицы, используя представленные в приведённом ниже списке данные. Для каждой ячейки, обозначенной буквами, выберите номер нужного элемента.

Правитель	Социально-экономическое преобразование	Результат
(А)	Ликвидация внутренних таможен	Создание благоприятных условий для развития торговли
Пётр III	Запрет покупки крестьян к заводам	(Б)
(В)	(Г)	Дробление дворянских имений
Пётр I	(Д)	(Е)

Пропущенные элементы:

- 1) Екатерина II
- 2) увеличение численности налогоплательщиков
- 3) отмена указа о единонаследии
- 4) издание указа о секуляризации церковных земель
- 5) расширение использования наёмного труда в промышленности
- 6) Елизавета Петровна
- 7) облегчение распределения государственных заказов на изготовление военной продукции
- 8) введение подушной подати
- 9) Анна Иоанновна

Запишите в ответ цифры, расположив их в порядке, соответствующем буквам:

А	Б	В	Г	Д	Е

28. Прочтите отрывок из заявления политического деятеля.

«Секретариат, Политбюро ЦК КПСС не выступили против государственного переворота. Центральный Комитет не сумел занять решительную позицию осуждения и противодействия, не поднял коммунистов на борьбу против попрания конституционной законности. Среди заговорщиков оказались члены партийного руководства, ряд партийных комитетов и средств массовой информации поддержал действия государственных преступников. Это поставило коммунистов в ложное положение.

Многие члены партии отказались сотрудничать с заговорщиками, осудили переворот и включились в борьбу против него. Никто не имеет морального права огульно обвинять всех коммунистов, и я как Президент считаю себя обязанным защитить их как граждан от необоснованных обвинений.

В этой обстановке ЦК КПСС должен принять трудное, но честное решение о самороспуске. Судьбу республиканских компартий и местных партийных организаций определяют они сами.

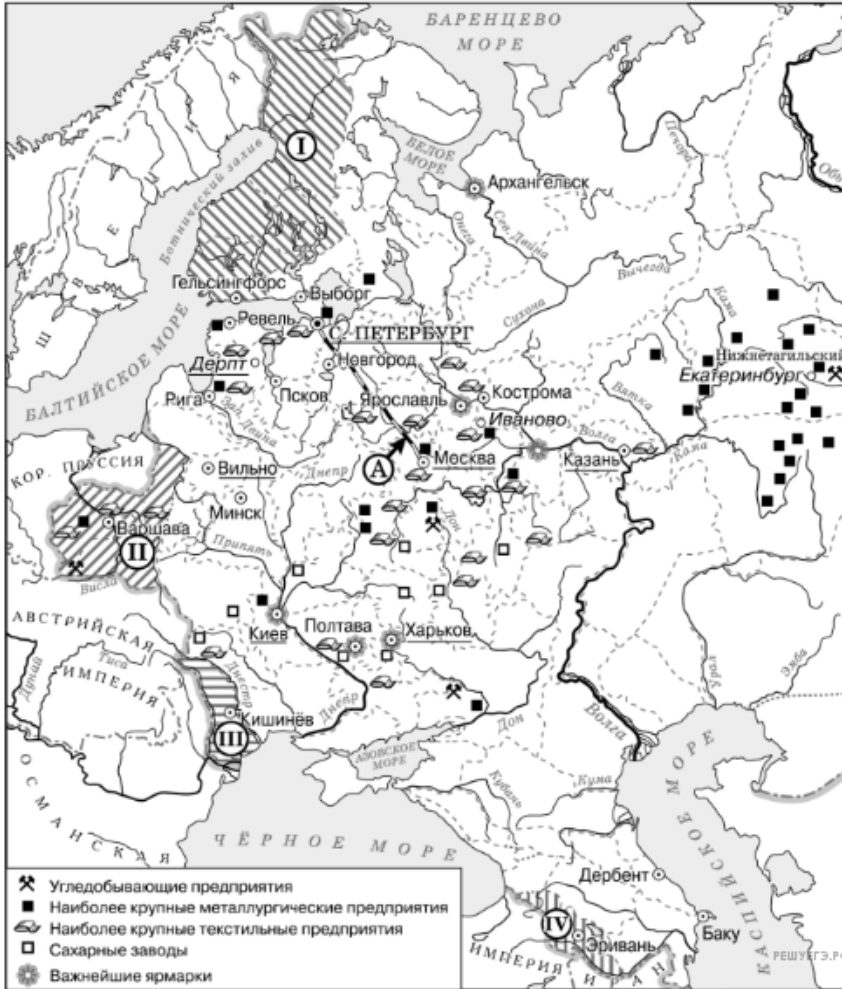
Не считаю для себя возможным дальнейшее выполнение функций Генерального секретаря ЦК КПСС и слагаю соответствующие полномочия».

Используя отрывок и знания по истории, выберите в приведённом списке верные суждения.

Запишите в таблицу цифры, под которыми они указаны.

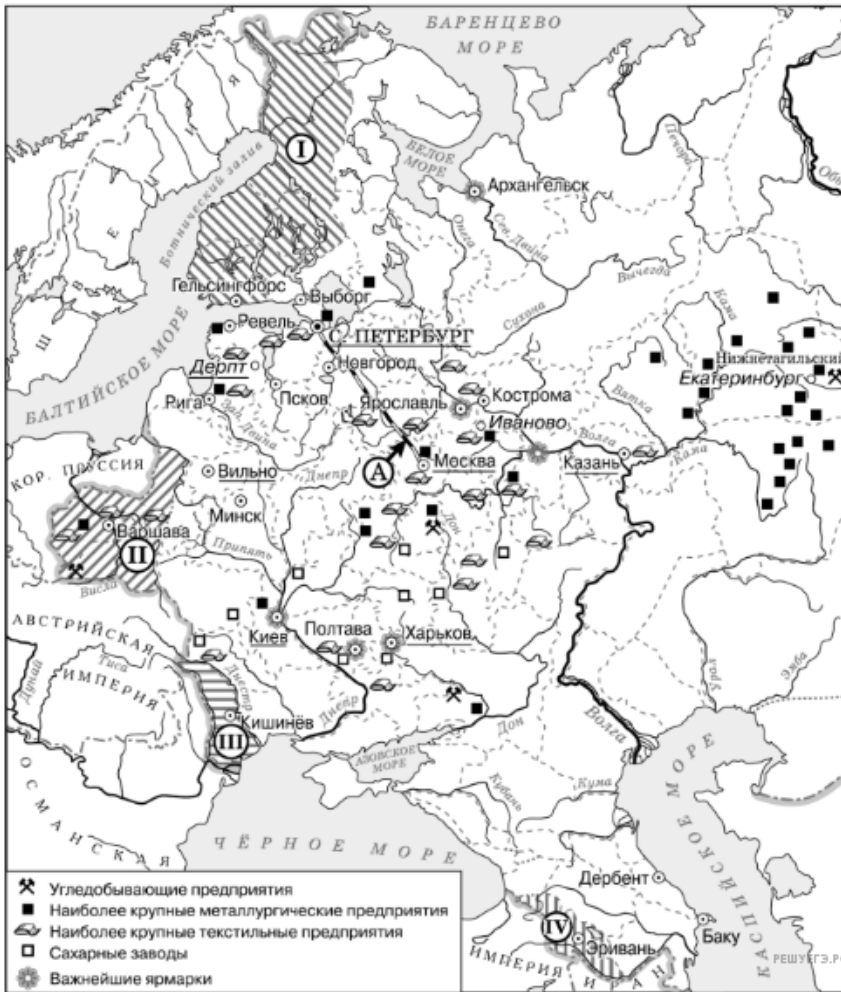
- 1) Автор заявления занимал одновременно с постом Генерального секретаря важный государственный пост.
- 2) Одним из тех, кого автор заявления называет заговорщиками, был Г. И. Янаев.
- 3) Заговорщики, о которых идёт речь в данном отрывке, были в сговоре с Президентом РФ.
- 4) Автор заявляет, что все члены партии поддержали заговорщиков.
- 5) Заявление сделано в 1993 г.
- 6) В течение того же года, когда было сделано данное заявление, деятельность названной в отрывке партии была прекращена на территории России.

29. Рассмотрите схему и выполните задания



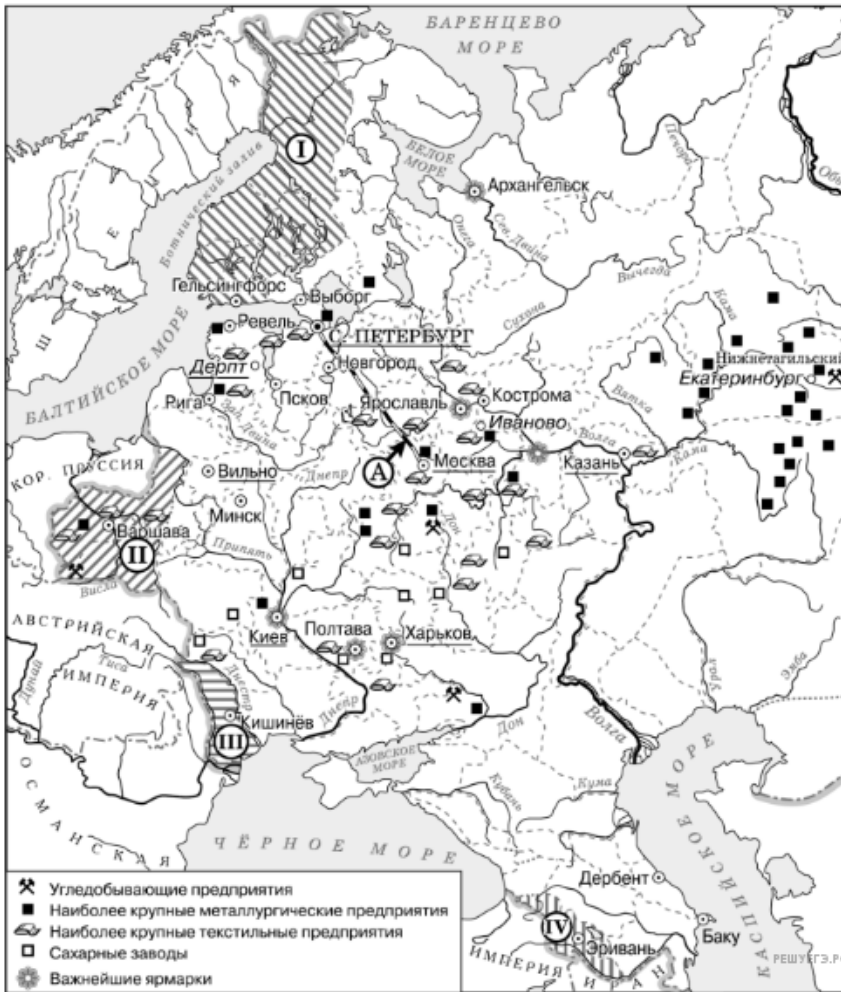
Напишите название географического района, в котором согласно карте отмечается наибольшая концентрация металлургических предприятий.

30. Рассмотрите схему и выполните задания



Назовите императора, в годы правления которого в состав Российской империи вошли территории, обозначенные цифрами «I», «II» и «III».

31. Рассмотрите схему и выполните задания

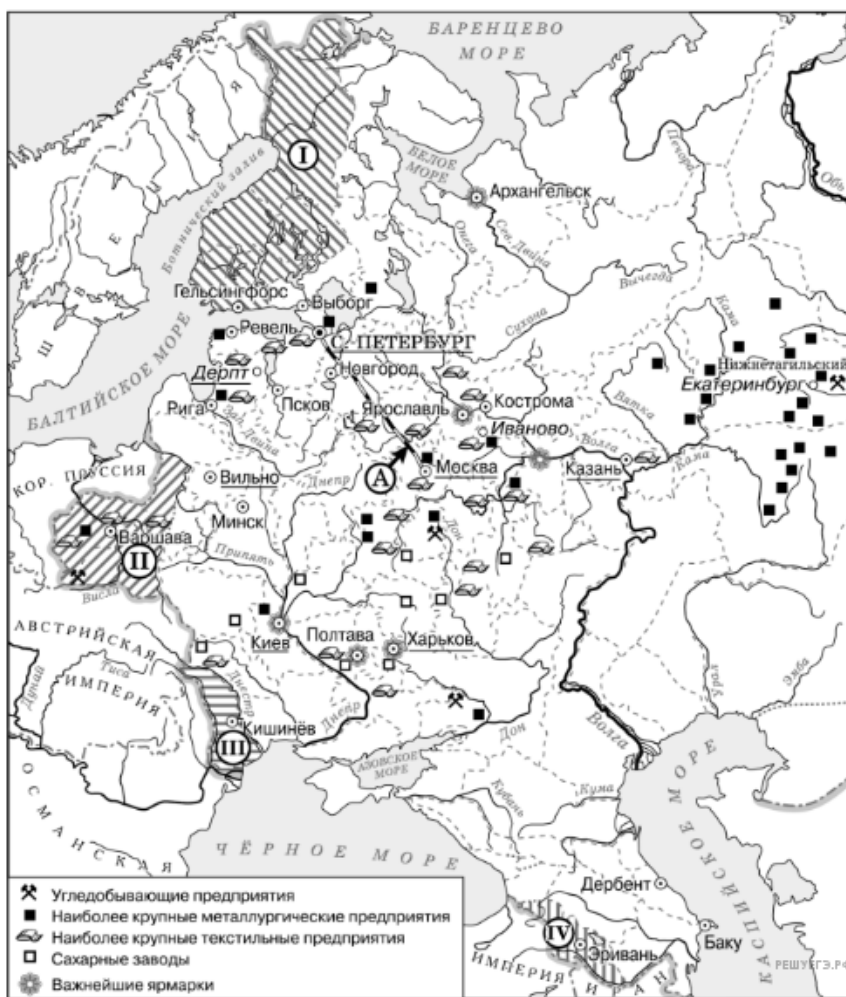


Напишите название европейского конгресса, по итогам которого в состав Российского государства вошла территория, обозначенная цифрой «II».

32. Рассмотрите схему и выполните задание.

Какие суждения, относящиеся к данной схеме, являются верными? Выберите несколько суждений из шести предложенных. Запишите в таблицу цифры, под которыми они указаны.

1. Объект, обозначенный буквой А, был построен в годы правления Николая I.
2. Большинство текстильных предприятий в изображаемый на схеме период находились на юге страны.
3. На схеме подчёркнуты названия городов, в которых в изображаемый на схеме период действовали университеты.
4. Территория, обозначенная на схеме цифрой I, была присоединена к России мирным путём.
5. Территория, обозначенная на карте цифрой I, вошла в состав Российской империи при сохранении ею автономии.
6. Промышленное освоение района, где согласно схеме находится большинство металлургических предприятий, началось только во второй половине XVIII в.



33. Рассмотрите изображение и выполните задание




Какие суждения о данной карикатуре являются верными? Выберите два суждения из пяти предложенных. Запишите в таблицу цифры, под которыми они указаны.

- 1) Данная карикатура создана в первой половине 1930-х гг.
- 2) В момент, когда произошло событие, которому посвящена карикатура, СССР вёл войну с Финляндией.
- 3) Карикатура была создана в СССР и опубликована в печати в тот же год, когда произошло событие, которому она посвящена.
- 4) Карикатура посвящена нарушению международного договора одной из стран.
- 5) Событие, которому посвящена карикатура, означало начало Великой Отечественной войны.

34.



Какой из перечисленных объектов строился в годы руководства СССР политического деятеля, изображённого на карикатуре.
 В ответе запишите цифру, под которой этот объект указан.



РЕШУ ЕГЭ.РФ

35. Прочтите отрывок из информации Генерального прокурора СССР Н. Трубина.

«Накануне событий по Центральному радио и в печати было объявлено о повышении в стране с 1 июня (...) розничных цен на мясо-молочные продукты. Оно совпало с мероприятиями администрации электровозостроительного завода имени Будённого по снижению расценок за оплату труда рабочих. Всё это послужило поводом к стихийной забастовке 1 июня (...) рабочих завода, которая вылилась в многочисленный митинг.

Утром 2 июня многотысячная масса людей, в том числе женщины и дети, колонной направились в город... чтобы выразить свои требования и освободить содержащихся в городском отделении милиции лиц, задержанных накануне в районе завода. С целью воспрепятствовать движению колонны по указанию Плиева командир танковой части ...полковник Михеев к утру 2 июня сконцентрировал на мосту через реку Тузлов подчинённый личный состав с 9-10 танками и несколькими бронетранспортёрами. Прибывшие к мосту люди проигнорировали требование командования части прекратить шествие и двинулись дальше в город...

Одновременно у горотделов милиции и КГБ также собралась агрессивно настроенная толпа. Она оттеснила охранявших здания военнослужащих 505-го полка внутренних войск и предприняла активную попытку ворваться в отдел милиции через выбитые окна и двери с целью освободить задержанных граждан. Из толпы раздавались призывы захватить оружие. Одному из погромщиков удалось вырвать из рук рядового Репкина автомат, и из захваченного оружия он пытался открыть огонь по военнослужащим. Опередив его, военнослужащий Азизов произвёл несколько выстрелов и убил его. При этом были убиты ещё четыре лица из числа нападавших, другие погромщики получили ранения. Более 30 погромщиков, ворвавшихся в коридоры и во двор горотдела милиции, были задержаны и водворены в изолятор. Солдатами и офицерами внутренних войск были изгнаны погромщики из здания Госбанка, куда они сумели проникнуть на непродолжительное время».

Назовите место, где состоялись описанные в тексте события. Укажите год, когда произошли описанные события. Укажите фамилию руководителя СССР в период, когда состоялись описанные события.

36. Прочтите отрывок из информации Генерального прокурора СССР Н. Трубина.

«Накануне событий по Центральному радио и в печати было объявлено о повышении в стране с 1 июня (...) розничных цен на мясо-молочные продукты. Оно совпало с мероприятиями администрации электровозостроительного завода имени Будённого по снижению расценок за оплату труда рабочих. Всё это послужило поводом к стихийной забастовке 1 июня (...) рабочих завода, которая вылилась в многочисленный митинг.

Утром 2 июня многотысячная масса людей, в том числе женщины и дети, колонной направились в город... чтобы выразить свои требования и освободить содержащихся в городском отделении милиции лиц, задержанных накануне в районе завода. С целью воспрепятствовать движению колонны по указанию Плиева командир танковой части ...полковник Михеев к утру 2 июня сконцентрировал на мосту через реку Тузлов подчинённый личный состав с 9-10 танками и несколькими бронетранспортёрами. Прибывшие к мосту люди проигнорировали требование командования части прекратить шествие и двинулись дальше в город...

Одновременно у горотделов милиции и КГБ также собралась агрессивно настроенная толпа. Она оттеснила охранявших здания военнослужащих 505-го полка внутренних войск и предприняла активную попытку ворваться в отдел милиции через выбитые окна и двери с целью освободить задержанных граждан. Из толпы раздавались призывы захватить оружие. Одному из погромщиков удалось вырвать из рук рядового Репкина автомат, и из захваченного оружия он пытался открыть огонь по военнослужащим. Опередив его, военнослужащий Азизов произвёл несколько выстрелов и убил его. При этом были убиты ещё четыре лица из числа нападавших, другие погромщики получили ранения. Более 30 погромщиков, ворвавшихся в коридоры и во двор горотдела милиции, были задержаны и водворены в изолятор. Солдатами и офицерами внутренних войск были изгнаны погромщики из здания Госбанка, куда они сумели проникнуть на непродолжительное время».

Используя текст, укажите три причины описанных в тексте массовых выступлений.

37. Прочтите отрывок из информации Генерального прокурора СССР Н. Трубина.

«Накануне событий по Центральному радио и в печати было объявлено о повышении в стране с 1 июня (...) розничных цен на мясо-молочные продукты. Оно совпало с мероприятиями администрации электровозостроительного завода имени Будённого по снижению расценок за оплату труда рабочих. Всё это послужило поводом к стихийной забастовке 1 июня (...) рабочих завода, которая вылилась в многочисленный митинг.

Утром 2 июня многотысячная масса людей, в том числе женщины и дети, колонной направились в город... чтобы выразить свои требования и освободить содержащихся в городском отделении милиции лиц, задержанных накануне в районе завода. С целью воспрепятствовать движению колонны по указанию Плиева командир танковой части ...полковник Михеев к утру 2 июня сконцентрировал на мосту через реку Тузлов подчинённый личный состав с 9-10 танками и несколькими бронетранспортёрами. Прибывшие к мосту люди проигнорировали требование командования части прекратить шествие и двинулись дальше в город...

Одновременно у горотделов милиции и КГБ также собралась агрессивно настроенная толпа. Она отгеснила охранявших здания военнослужащих 505-го полка внутренних войск и предприняла активную попытку ворваться в отдел милиции через выбитые окна и двери с целью освободить задержанных граждан. Из толпы раздавались призывы захватить оружие. Одному из погромщиков удалось вырвать из рук рядового Репкина автомат, и из захваченного оружия он пытался открыть огонь по военнослужащим. Опередив его, военнослужащий Азизов произвёл несколько выстрелов и убил его. При этом были убиты ещё четыре лица из числа нападавших, другие погромщики получили ранения. Более 30 погромщиков, ворвавшихся в коридоры и во двор горотдела милиции, были задержаны и водворены в изолятор. Солдатами и офицерами внутренних войск были изгнаны погромщики из здания Госбанка, куда они сумели проникнуть на непродолжительное время».

Укажите не менее трёх причин кризиса сельского хозяйства, последствием которого стала ситуация, описанная в первом предложении отрывка.

38. В XVI в. в России утвердилось крепостное право. Укажите название документа, на основании которого крепостное право в России было оформлено окончательно. Укажите не менее двух обычных (типичных) условий договора между землевладельцем и пришедшим к нему крестьянином, которые определяли их сотрудничество до конца XVI в.

39. В исторической науке существуют дискуссионные проблемы, по которым высказываются различные, часто противоречивые точки зрения. Ниже приведена одна из спорных точек зрения, существующих в исторической науке.

«Николай II был неспособным монархом, и его царствование было крайне неудачным».

Используя исторические знания, приведите два аргумента, которыми можно подтвердить данную точку зрения, и два аргумента, которыми можно опровергнуть её.

Ответ запишите в следующем виде.

Аргументы в подтверждение:

- 1)...
- 2)...

Аргументы в опровержение:

- 1)...
- 2)...

40. Ниже названы четыре исторических деятеля различных эпох. Выберите из них **ОДНОГО** и выполните задания.

- 1) Дмитрий Донской;
- 2) Александр I;
- 3) Н. И. Бухарин;
- 4) Махатма Ганди.

Укажите время жизни исторического деятеля (с точностью до десятилетия или части века). Назовите не менее двух направлений его деятельности и дайте их краткую характеристику. Укажите результаты его деятельности по каждому из названных направлений.