

**ЕГЭ по истории 30.05.2013. Основная волна. Центр. Вариант 6.**

При выполнении заданий с кратким ответом впишите в поле для ответа цифру, которая соответствует номеру правильного ответа, или число, слово, последовательность букв (слов) или цифр. Ответ следует записывать без пробелов и каких-либо дополнительных символов. Имена правителей в заданиях с кратким ответом необходимо указывать словами: Пётр Первый или Пётр Великий, но не Пётр I или Пётр I.

Если вариант задан учителем, вы можете вписать или загрузить в систему ответы к заданиям с развернутым ответом. Учитель увидит результаты выполнения заданий с кратким ответом и сможет оценить загруженные ответы к заданиям с развернутым ответом. Выставленные учителем баллы отобразятся в вашей статистике.

1. Кто из московских князей первым получил право сбора дани в пользу Орды со всех русских земель?

- 1) Иван Калита
- 2) Андрей Боголюбский
- 3) Юрий Долгорукий
- 4) Василий II Тёмный

2. Против кого сражалась русская рать в Невской битве в 1240 г.?

1. Половцев
2. Хазар
3. Монголов
4. Шведов

3. Что из перечисленного было следствием набегов половцев во второй половине XI в.?

1. Установление военного союза Руси с Великим княжеством Литовским
2. Полное прекращение княжеских междоусобиц
3. Установление военного союза Руси с Хазарским каганатом
4. Миграция населения из Среднего Поднепровья в Волжско-Окский район

4. Важнейшим явлением российской культуры XVI в. стало начало

- 1) иконописи
- 2) деревянного зодчества
- 3) книгопечатания
- 4) каменного зодчества

5. Прочтите отрывок из сочинения историка С. Ф. Платонова и назовите царя, о котором идёт речь.

«Царь последовательно включал в опричнину одну за другой внутренние области государства, производил в них пересмотр землевладения и учёт землевладельцев, удалял на окраины или попросту истреблял людей, ему неугодных, и взамен их поселял людей надёжных. Изгнанию подвергались не только знатные потомки удельных князей, но и простые служилые люди и вся вообще дворня и служня, окружавшая подозрительных для [царя] господ».

- 1) В асиль Шуйский
- 2) Борис Годунов
- 3) Иван III
- 4) Иван IV

6. Какое из названных морских сражений произошло в ходе Северной войны?

- 1) Наваринское
- 2) Гангутское
- 3) Чесменское
- 4) Синопское

7. Как называлась военная операция, в результате которой в сентябре 1812 г. русская армия после оставления Москвы смогла оторваться от преследования французов и заняла позиции в укрепленном лагере?

1. Сражение под селом Красным
2. Сражение у реки Березины
3. Тарутинский марш-манёвр
4. Параллельное преследование французских войск

8. Вследствие катастрофической нехватки денег Екатерина II была вынуждена

- 1) учредить купеческие гильдии
- 2) ввести подушное налогообложение
- 3) впервые прибегнуть к внешним займам
- 4) создать Вольное экономическое общество

9. Прочтите отрывок из сочинения военного историка и назовите военачальника, о котором идёт речь.

«Из-за ...близорукости австрийского кабинета ему пришлось оставить дело в Италии недоконченным, с боями — вновь победоносными и беспримерными -совершить переход через неприступные Альпы, пробиваться через Сен-Готард и Чёртов мост в Швейцарию, спасая честь России, увековечивая славу русского оружия и бессмертное своё имя. За подвиги в Итальянском и Швейцарском походах [он] был отмечен достоинством князя Российской империи, получил звание генералиссимуса российских войск. Но тут же в очередной раз оказался в немилости у Павла I, что приблизило кончину полководца».

- 1) А. Г. Орлов
- 2) А. В. Суворов
- 3) А. П. Ермолов
- 4) А. Д. Меншиков

10. Какое из перечисленных явлений свидетельствовало о существовании пережитков крепостного права в России в 1860–1870-х гг.?

1. Введение месячины
2. Временнообязанное положение крестьян
3. Перевод крестьян в дворовые
4. Участие крестьян в работе земств

11. Что из перечисленного явилось следствием поражения России в Крымской войне?

1. Установление нейтрального режима Чёрного моря
2. Создание «Союза трёх императоров»
3. Создание Священного союза
4. Потеря Россией Севастополя

12. Прочтите отрывок из законодательного акта и назовите императора, в правление которого он был обнародован.

«Ст. 1. Власть судебная принадлежит: мировым судьям, съездам мировых судей, судебным палатам и Правительствующему Сенату в качестве верховного кассационного суда.

Ст. 2. Судебная власть означенных в 1-й статье установлений распространяется на лица всех сословий и на все дела, как гражданские, так и уголовные.

Ст. 3. Мировой судья есть власть единоличная, съезды мировых судей, окружные суды, судебные палаты и Сенат суть установления коллегиальные...

Ст. 4. Для производства следствий по делам о преступлениях и проступках состоят судебные следователи.

Ст. 5. Для определения в уголовных делах вины или невинности подсудимых к составу судебных мест в случаях, означенных в уставе уголовного судопроизводства, присоединяются присяжные заседатели».

- 1) Александр II
- 2) Николай I
- 3) Александр III
- 4) Александр I

13. Из перечисленных лиц художником-портретистом был

- 1) М. И. Глинка
- 2) О. А. Кипренский
- 3) А. Н. Воронихин
- 4) В. А. Жуковский

14. Что из перечисленного относится к периоду, известному под названием «полоса признания СССР»?

1. Исключение СССР из Лиги Наций
2. Подписание советско-германского договора о ненападении и секретного протокола к нему
3. Установление дипломатических отношений с Великобританией и Францией
4. Создание Коминтерна

15. Следствием массовых крестьянских восстаний 1920–1921 гг. стало

- 1) введение продразвёрстки
- 2) начало проведения массовой коллективизации
- 3) создание комбедов
- 4) введение продналога

16. Кто из названных лиц были выдающимися советскими военачальниками в годы Великой Отечественной войны?

- 1) И. С. Конев, К. К. Рокоссовский
- 2) В. М. Молотов, А. А. Громыко
- 3) Л. Д. Троцкий, Н. И. Бухарин
- 4) С. С. Каменев, М. И. Калинин

17. Прочтите отрывок из воспоминаний современника и укажите город, в котором произошло описанное сражение Великой Отечественной войны.

«Город был в огне. Пламя пожаров поднималось на несколько сот метров. Фашистские самолёты пролетали над головой. Не только земля, но и небо дрожало от разрывов. Тучи дыма и пыли резали глаза. Здания рушились, падали стены, коробилось железо. Казалось, что всё живое здесь погибает, но люди шли в бой... Жарко приходилось и на Мамаевом кургане. Здесь противник стянул несколько батальонов пехоты и свыше 20 танков. Шесть раз в течение дня фашисты пытались сбить наши подразделения с высоты и каждый раз откатывались, на склонах кургана оставались сотни трупов. Гвардейцы отбили все атаки врага».

- 1) Сталинград
- 2) Ленинград
- 3) Киев
- 4) Одесса

18. Какое событие произошло раньше остальных?

1. Принятие Закона «Об индивидуальной трудовой деятельности»
2. Начало массового освоения целины
3. Принятие конституции развитого социализма
4. Вынесение приговора по «ленинградскому делу»

19. Что стало одним из результатов политики государства в сфере сельского хозяйства, проводимой в 1950-е — начале 1960-х гг.?

1. Массовое создание фермерских хозяйств
2. Значительное сокращение площади распаханых земель
3. Возникновение необходимости закупки зерна за рубежом
4. Снижение цен на мясо-молочные продукты

20. Появление популярных публицистических и информационных программ «Взгляд», «До и после полуночи», «Пятое колесо», «600 секунд» относится к периоду

- 1) 1960-х гг.
- 2) 1970-х гг.
- 3) 1980-х гг.
- 4) 1990-х гг.

21. Кто из перечисленных лиц занимал должность Председателя Правительства РФ в период президентства Б. Н. Ельцина?

- 1) В. А. Зубков
- 2) С. В. Кириенко
- 3) Д. А. Медведев
- 4) Н. И. Рыжков

22. Расположите в хронологической последовательности исторические события. Запишите цифры, которыми обозначены исторические события, в правильной последовательности в таблицу.

1. Введение урочных лет
2. Заключение первого русско-византийского договора
3. Окончание Смуты в России
4. Издание манифеста о трёхдневной барщине
5. Присоединение Новгорода к Москве

23. Что из перечисленного относится к итогам Первой российской революции 1905–1907 гг.? Выберите три верных ответа и запишите в таблицу цифры, под которыми они указаны.

1. Свержение монархии, установление республики
2. Создание Государственной думы
3. Разрешение создавать политические партии
4. Национализация всех помещичьих земель
5. Ликвидация сословий и гражданских чинов
6. Отмена выкупных платежей

24. Установите соответствие между определениями и понятиями. В ответ запишите последовательность цифр.

ОПРЕДЕЛЕНИЯ

- А) земледельцы, заключившие с хозяином земли договор на выполнение работ
- Б) свободные или зависимые земледельцы, основная масса населения Древней Руси
- В) люди, находившиеся в полной зависимости от хозяина земли
- Г) земледельцы, взявшие ссуду

ПОНЯТИЯ

- 1) смерды
- 2) холопы
- 3) закупы
- 4) тиуны
- 5) рядовичи

Запишите в ответ цифры, расположив их в порядке, соответствующем буквам:

А	Б	В	Г

25. Ниже приведён перечень терминов. Все они, за исключением одного, относятся к эпохе правления Ивана IV.

1. Стрельцы.
2. Опричники.
3. Полки «нового строя»;
4. Избранная рада;
5. Стоглавый собор;
6. Уложение о службе.

Найдите и запишите порядковый номер термина, относящегося к другому историческому периоду.

26. Напишите пропущенное слово.

Арест Временного правительства, II Всероссийский съезд Советов явились событиями, результатом которых стал приход к власти партии \_\_\_\_\_.

27. Заполните пустые ячейки таблицы, используя представленные в приведённом ниже списке данные. Для каждой ячейки, обозначенной буквами, выберите номер нужного элемента.

Правитель	Социально-экономическое преобразование	Результат
_____ (А)	Введение системы интендантов	Создание благоприятных условий для сбора налогов
Пётр III	Запрет покупки крестьян к заводам	_____ (Б)
_____ (В)	_____ (Г)	Дробление дворянских имений
Пётр I	_____ (Д)	_____ (Е)

Пропущенные элементы:

- 1) Екатерина II
- 2) увеличение численности налогоплательщиков
- 3) отмена указа о единонаследии
- 4) издание указа о секуляризации церковных земель
- 5) расширение использования наёмного труда в промышленности
- 6) Людовик XIII
- 7) облегчение распределения государственных заказов на изготовление военной продукции
- 8) введение подушной подати
- 9) Анна Иоанновна

Запишите в ответ цифры, расположив их в порядке, соответствующем буквам:

А	Б	В	Г	Д	Е

28. Прочтите отрывок из заявления политического деятеля.

«Секретариат, Политбюро ЦК КПСС не выступили против государственного переворота. Центральный Комитет не сумел занять решительную позицию осуждения и противодействия, не поднял коммунистов на борьбу против попрания конституционной законности. Среди заговорщиков оказались члены партийного руководства, ряд партийных комитетов и средств массовой информации поддержал действия государственных преступников. Это поставило коммунистов в ложное положение.

Многие члены партии отказались сотрудничать с заговорщиками, осудили переворот и включились в борьбу против него. Никто не имеет морального права огульно обвинять всех коммунистов, и я как Президент считаю себя обязанным защитить их как граждан от необоснованных обвинений.

В этой обстановке ЦК КПСС должен принять трудное, но честное решение о самороспуске. Судьбу республиканских компартий и местных партийных организаций определяют они сами.

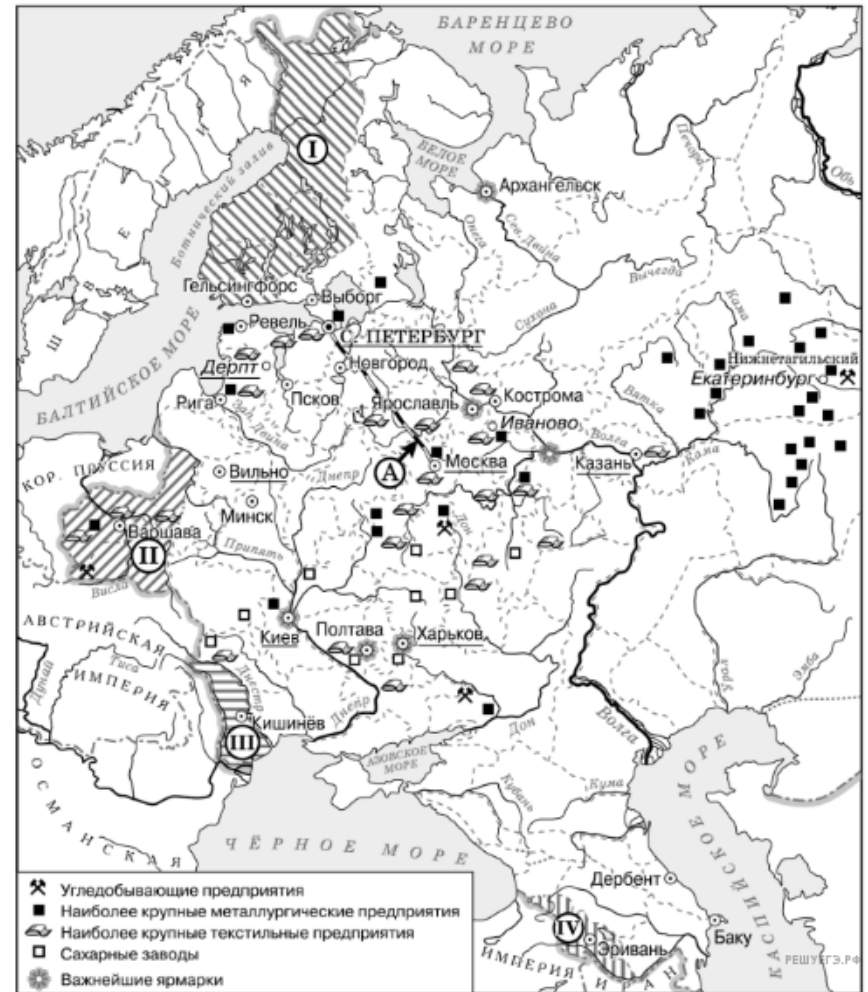
Не считаю для себя возможным дальнейшее выполнение функций Генерального секретаря ЦК КПСС и слагаю соответствующие полномочия».

Используя отрывок и знания по истории, выберите в приведённом списке верные суждения.

Запишите в таблицу цифры, под которыми они указаны.

- 1) Автор заявления занимал одновременно с постом Генерального секретаря важный государственный пост.
- 2) Одним из тех, кого автор заявления называет заговорщиками, был Г. И. Янаев.
- 3) Заговорщики, о которых идёт речь в данном отрывке, были в сговоре с Президентом РФ.
- 4) Автор заявляет, что все члены партии поддержали заговорщиков.
- 5) Заявление сделано в 1993 г.
- 6) В течение того же года, когда было сделано данное заявление, деятельность названной в отрывке партии была прекращена на территории России.

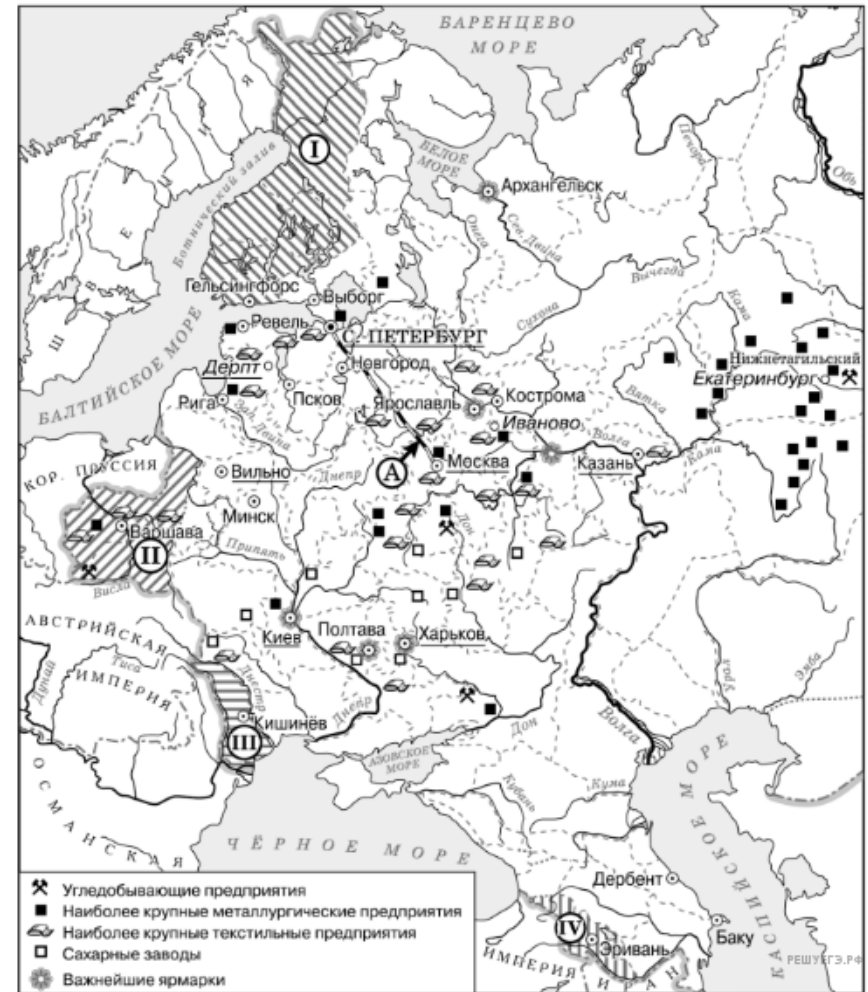
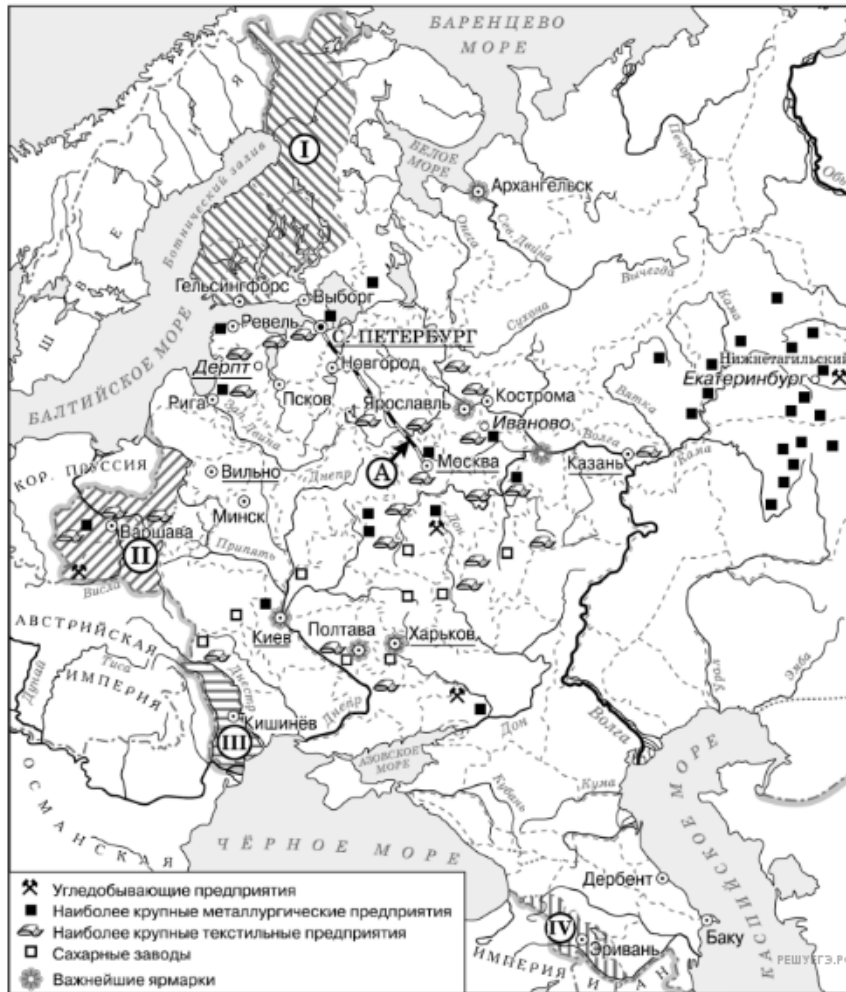
29. Рассмотрите схему и выполните задания



Напишите название географического района, в котором согласно карте отмечается наибольшая концентрация металлургических предприятий.

30. Рассмотрите схему и выполните задания

31. Рассмотрите схему и выполните задания



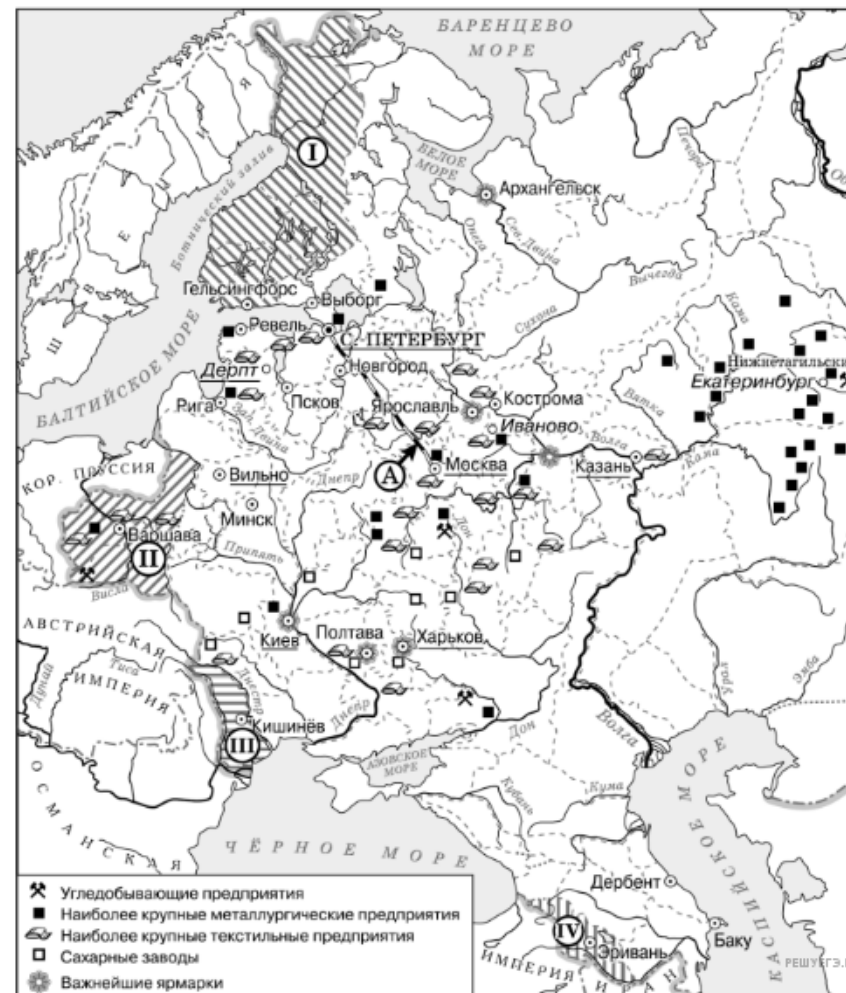
Назовите императора, в годы правления которого в состав Российской империи вошли территории, обозначенные цифрами «I», «II» и «III».

Напишите название европейского конгресса, по итогам которого в состав Российского государства вошла территория, обозначенная цифрой «II».

32. Рассмотрите схему и выполните задание.

Какие суждения, относящиеся к данной схеме, являются верными? Выберите несколько суждений из шести предложенных. Запишите в таблицу цифры, под которыми они указаны.

1. Объект, обозначенный буквой А, был построен в годы правления Николая I.
2. Большинство текстильных предприятий в изображаемый на схеме период находились на юге страны.
3. На схеме подчёркнуты названия городов, в которых в изображаемый на схеме период действовали университеты.
4. Территория, обозначенная на схеме цифрой I, была присоединена к России мирным путём.
5. Территория, обозначенная на карте цифрой I, вошла в состав Российской империи при сохранении ею автономии.
6. Промышленное освоение района, где согласно схеме находится большинство металлургических предприятий, началось только во второй половине XVIII в.



33. Рассмотрите изображение и выполните задание

34.




Какие суждения о данной карикатуре являются верными? Выберите два суждения из пяти предложенных. Запишите в таблицу цифры, под которыми они указаны.

Какой из перечисленных объектов строился в годы руководства СССР политического деятеля, изображённого на карикатуре.

В ответе запишите цифру, под которой этот объект указан.

- 1) Данная карикатура создана в первой половине 1930-х гг.
- 2) В момент, когда произошло событие, которому посвящена карикатура, СССР вёл войну с Финляндией.
- 3) Карикатура была создана в СССР и опубликована в печати в тот же год, когда произошло событие, которому она посвящена.
- 4) Карикатура посвящена нарушению международного договора одной из стран.
- 5) Событие, которому посвящена карикатура, означало начало Великой Отечественной войны.



РЕШУ ЕГЭ.РФ

35. Прочтите отрывок из информации Генерального прокурора СССР Н. Трубина.

«Накануне событий по Центральному радио и в печати было объявлено о повышении в стране с 1 июня (...) розничных цен на мясо-молочные продукты. Оно совпало с мероприятиями администрации электровозостроительного завода имени Будённого по снижению расценок за оплату труда рабочих. Всё это послужило поводом к стихийной забастовке 1 июня (...) рабочих завода, которая вылилась в многочисленный митинг.

Утром 2 июня многотысячная масса людей, в том числе женщины и дети, колонной направились в город... чтобы выразить свои требования и освободить содержащихся в городском отделении милиции лиц, задержанных накануне в районе завода. С целью воспрепятствовать движению колонны по указанию Плиева командир танковой части ...полковник Михеев к утру 2 июня сконцентрировал на мосту через реку Тузлов подчинённый личный состав с 9-10 танками и несколькими бронетранспортёрами. Прибывшие к мосту люди проигнорировали требование командования части прекратить шествие и двинулись дальше в город...

Одновременно у горотделов милиции и КГБ также собралась агрессивно настроенная толпа. Она оттеснила охранявших здания военнослужащих 505-го полка внутренних войск и предприняла активную попытку ворваться в отдел милиции через выбитые окна и двери с целью освободить задержанных граждан. Из толпы раздавались призывы захватить оружие. Одному из погромщиков удалось вырвать из рук рядового Репкина автомат, и из захваченного оружия он пытался открыть огонь по военнослужащим. Опередив его, военнослужащий Азизов произвёл несколько выстрелов и убил его. При этом были убиты ещё четыре лица из числа нападавших, другие погромщики получили ранения. Более 30 погромщиков, ворвавшихся в коридоры и во двор горотдела милиции, были задержаны и водворены в изолятор. Солдатами и офицерами внутренних войск были изгнаны погромщики из здания Госбанка, куда они сумели проникнуть на непродолжительное время».

Назовите место, где состоялись описанные в тексте события. Укажите год, когда произошли описанные события. Укажите фамилию руководителя СССР в период, когда состоялись описанные события.

**36.** Прочтите отрывок из информации Генерального прокурора СССР Н. Трубина.

«Накануне событий по Центральному радио и в печати было объявлено о повышении в стране с 1 июня (...) розничных цен на мясо-молочные продукты. Оно совпало с мероприятиями администрации электровозостроительного завода имени Будённого по снижению расценок за оплату труда рабочих. Всё это послужило поводом к стихийной забастовке 1 июня (...) рабочих завода, которая вылилась в многочисленный митинг.

Утром 2 июня многотысячная масса людей, в том числе женщины и дети, колонной направились в город... чтобы выразить свои требования и освободить содержащихся в городском отделении милиции лиц, задержанных накануне в районе завода. С целью воспрепятствовать движению колонны по указанию Плиева командир танковой части ...полковник Михеев к утру 2 июня сконцентрировал на мосту через реку Тузлов подчинённый личный состав с 9-10 танками и несколькими бронетранспортёрами. Прибывшие к мосту люди проигнорировали требование командования части прекратить шествие и двинулись дальше в город...

Одновременно у горотделов милиции и КГБ также собралась агрессивно настроенная толпа. Она оттеснила охранявших здания военнослужащих 505-го полка внутренних войск и предприняла активную попытку ворваться в отдел милиции через выбитые окна и двери с целью освободить задержанных граждан. Из толпы раздавались призывы захватить оружие. Одному из погромщиков удалось вырвать из рук рядового Репкина автомат, и из захваченного оружия он пытался открыть огонь по военнослужащим. опередив его, военнослужащий Азизов произвёл несколько выстрелов и убил его. При этом были убиты ещё четыре лица из числа нападавших, другие погромщики получили ранения. Более 30 погромщиков, ворвавшихся в коридоры и во двор горотдела милиции, были задержаны и водворены в изолятор. Солдатами и офицерами внутренних войск были изгнаны погромщики из здания Госбанка, куда они сумели проникнуть на непродолжительное время».

Используя текст, укажите три причины описанных в тексте массовых выступлений.

**37.** Прочтите отрывок из информации Генерального прокурора СССР Н. Трубина.

«Накануне событий по Центральному радио и в печати было объявлено о повышении в стране с 1 июня (...) розничных цен на мясо-молочные продукты. Оно совпало с мероприятиями администрации электровозостроительного завода имени Будённого по снижению расценок за оплату труда рабочих. Всё это послужило поводом к стихийной забастовке 1 июня (...) рабочих завода, которая вылилась в многочисленный митинг.

Утром 2 июня многотысячная масса людей, в том числе женщины и дети, колонной направились в город... чтобы выразить свои требования и освободить содержащихся в городском отделении милиции лиц, задержанных накануне в районе завода. С целью воспрепятствовать движению колонны по указанию Плиева командир танковой части ...полковник Михеев к утру 2 июня сконцентрировал на мосту через реку Тузлов подчинённый личный состав с 9-10 танками и несколькими бронетранспортёрами. Прибывшие к мосту люди проигнорировали требование командования части прекратить шествие и двинулись дальше в город...

Одновременно у горотделов милиции и КГБ также собралась агрессивно настроенная толпа. Она оттеснила охранявших здания военнослужащих 505-го полка внутренних войск и предприняла активную попытку ворваться в отдел милиции через выбитые окна и двери с целью освободить задержанных граждан. Из толпы раздавались призывы захватить оружие. Одному из погромщиков удалось вырвать из рук рядового Репкина автомат, и из захваченного оружия он пытался открыть огонь по военнослужащим. опередив его, военнослужащий Азизов произвёл несколько выстрелов и убил его. При этом были убиты ещё четыре лица из числа нападавших, другие погромщики получили ранения. Более 30 погромщиков, ворвавшихся в коридоры и во двор горотдела милиции, были задержаны и водворены в изолятор. Солдатами и офицерами внутренних войск были изгнаны погромщики из здания Госбанка, куда они сумели проникнуть на непродолжительное время».

Укажите не менее трёх причин кризиса сельского хозяйства, последствием которого стала ситуация, описанная в первом предложении отрывка.

**38.** В XVI в. в России утвердилось крепостное право. Укажите название документа, на основании которого крепостное право в России было оформлено окончательно. Укажите не менее двух обычных (типичных) условий договора между землевладельцем и пришедшим к нему крестьянином, которые определяли их сотрудничество до конца XVI в.

**39.** В исторической науке существуют дискуссионные проблемы, по которым высказываются различные, часто противоречивые точки зрения. Ниже приведена одна из спорных точек зрения, существующих в исторической науке.

«Николай II был неспособным монархом, и его царствование было крайне неудачным».

Используя исторические знания, приведите два аргумента, которыми можно подтвердить данную точку зрения, и два аргумента, которыми можно опровергнуть её.

Ответ запишите в следующем виде.

Аргументы в подтверждение:

- 1)...
- 2)...

Аргументы в опровержение:

- 1)...
- 2)...

**40.** Ниже названы четыре исторических деятеля различных эпох. Выберите из них **ОДНОГО** и выполните задания.

- 1) Дмитрий Донской;
- 2) Александр I;
- 3) Н. И. Бухарин;
- 4) Махатма Ганди.

Укажите время жизни исторического деятеля (с точностью до десятилетия или части века). Назовите не менее двух направлений его деятельности и дайте их краткую характеристику. Укажите результаты его деятельности по каждому из названных направлений.