

Демонстрационная версия ЕГЭ—2015 по истории.

При выполнении заданий с кратким ответом впишите в поле для ответа цифру, которая соответствует номеру правильного ответа, или число, слово, последовательность букв (слов) или цифр. Ответ следует записывать без пробелов и каких-либо дополнительных символов. Имена правителей в заданиях с кратким ответом необходимо указывать словами: Пётр Первый или Пётр Великий, но не Пётр I или Пётр I.

Если вариант задан учителем, вы можете вписать или загрузить в систему ответы к заданиям с развернутым ответом. Учитель увидит результаты выполнения заданий с кратким ответом и сможет оценить загруженные ответы к заданиям с развернутым ответом. Выставленные учителем баллы отобразятся в вашей статистике.

1. Какое из перечисленных событий произошло в XIII в.?

1. Разгром Хазарского каганата
2. Крещение Руси
3. Невская битва
4. Разгром печенегов под Киевом

2. Что из перечисленного явилось одной из причин Смуты в Российском государстве в начале XVII в.?

1. Пресечение правящей династии Рюриковичей
2. Распад государства на удельные княжества
3. Начало созыва Земских соборов
4. Приход к власти боярского правительства — «Семибоярщины»

3. В росписях какого храма принимал участие мастер Дионисий?

- 1) Троице-Сергиева монастыря
- 2) Ферапонтова монастыря под Вологдой
- 3) Андроникова монастыря в Москве
- 4) Кирилло-Белозёрского монастыря

4. Прочтите отрывок из исторического источника и укажите событие, о котором идёт речь.

«И начал тогда князь великий наступать. Гремят мечи булатные о шлемы хиновские. Поганые прикрыли головы свои руками своими. И вот поганые бросились вспять. Ветер рвёт в стягах великого князя Дмитрия Ивановича, поганые спасаются бегством, а русские сыновья широкие поля кликом огородили и золочёными доспехами осветили. Уже встал тур на бой! Тогда князь великий Дмитрий Иванович и брат его, князь Владимир Андреевич, полки поганых вспять повернули и начали их бить и сечь беспощадно, тоску на них навоя...»

- 1) Ледовое побоище
- 2) Куликовская битва
- 3) «стояние» на реке Угре
- 4) битва на реке Калке

5. Проведение реформы государственной деревни, строительство первой в России железной дороги относятся к царствованию

- 1) Николая I
- 2) Александра I
- 3) Николая II
- 4) Александра II

6. Что из перечисленного относится к результатам победы России в Северной войне?

1. Вхождение в состав России Царства Польского
2. Присоединение к России Крыма
3. Обеспечение выхода России к Балтийскому морю
4. Присоединение к России Белоруссии с Минском и Правобережной Украины

7. Прочтите отрывок из донесения М. И. Кутузова и укажите сражение, о котором идёт речь.

«Генерал от инфантерии Дохтуров взял... в командование левый фланг после князя Багратиона, получившего, к крайнему сожалению всей армии, тяжкую рану и вынужденного через то оставить место сражения. Сей несчастный случай весьма расстроил удачное действие левого нашего крыла, доселе имевшего поверхность над неприятелем, и, конечно бы, имел самые пагубные последствия, если бы до прибытия генерала от инфантерии Дохтурова не вступил в командование генерал-лейтенант Коновницын».

1. Под Смоленском
2. На реке Березине
3. У с. Бородино
4. Под Малоярославцем

8. Завершение промышленного переворота в России означало

- 1) переход к машинному производству в ведущих отраслях промышленности
- 2) национализацию крупной промышленности
- 3) появление мануфактур
- 4) преобладание промышленного сектора экономики над аграрным

9. Что из перечисленного стало одной из причин неудач России в Первой мировой войне?

1. Отсутствие союзников в войне
2. Кризис в снабжении армии
3. Договор о взаимопомощи с Сербией на случай военных действий
4. Создание Тройственного союза

10. Прочтите отрывок из дневника и укажите десятилетие, к которому относятся упоминаемые события.

«3 марта. Вышли на улицу и слушали в народе весть о соглашении двух комитетов и новые приказы новых министров. День чудесный — солнечно-морозный. Март. И возрастающая радость народа. На Невском огромное движение, снимаются иллюминационные императорские гербы, складываются в кучи, зажигают...»

- 1) 1810-е гг.
- 2) 1840-е гг.
- 3) 1890-е гг.
- 4) 1910-е гг.

11. К какому из перечисленных художественных объединений принадлежал И. Е. Репин?

- 1) Товарищество передвижных художественных выставок
- 2) «Бубновый валет»
- 3) «Серапионовы братья»
- 4) Ассоциация художников революционной России

12. Кто из перечисленных лиц возглавил Совет Народных Комиссаров, созданный на II Всероссийском съезде Советов рабочих и солдатских депутатов?

- 1) Л. Д. Троцкий
- 2) А. И. Рыков
- 3) В. И. Ленин
- 4) И. В. Сталин

13. Что из перечисленного можно отнести к итогам индустриализации в СССР в довоенный период?

1. Создание комплекса предприятий тяжёлой промышленности
2. Сокращение военных расходов
3. Интенсивное развитие лёгкой промышленности
4. Формирование многоукладной экономики

14. Военная операция советских войск под Сталинградом завершилась

- 1) выходом советских войск к Государственной границе СССР
- 2) стабилизацией фронта и переходом к позиционной войне
- 3) сражением под Прохоровкой
- 4) окружением и уничтожением немецкой армии под командованием Ф. Паулюса

15. Кто из перечисленных советских лётчиков впервые произвёл таран в ночном воздушном бою, сбив на подступах к Москве вражеский бомбардировщик?

- 1) В. В. Талалихин
- 2) Н. Ф. Гастелло
- 3) И. Н. Кожедуб
- 4) А. П. Маресьев

16. Прочтите отрывок из воспоминаний советского композитора и укажите его фамилию.

«Мне хотелось создать произведение о наших днях, о нашей жизни, о наших людях, которые становятся героями, которые борются во имя торжества нашего над врагом... Работая над симфонией, я думал о величии нашего народа, о его героизме, о лучших идеалах человечества, о прекрасных качествах человека, о нашей прекрасной природе, о гуманизме, о красоте... Нашей борьбе с фашизмом, нашей грядущей победе над врагом, моему родному городу – Ленинграду – я посвящаю свою 7-ю симфонию».

- 1) С. С. Прокофьев
- 2) А. В. Александров
- 3) А. И. Хачатурян
- 4) Д. Д. Шостакович

17. Что из перечисленного относится к характерным чертам политической жизни СССР в 1970-е – середине 1980-х гг.?

1. Начало процесса реабилитации жертв политических репрессий
2. Смягчение критики культа личности И. В. Сталина руководителями государства
3. Сокращение численности партийного аппарата
4. Отход от признания руководящей роли КПСС

18. Что из перечисленного явилось последствием Второй мировой войны, проявившимся в первое послевоенное десятилетие?

1. Расширение политического влияния СССР в мире
2. Объединение ГДР и ФРГ
3. Укрепление связей СССР с союзниками по антигитлеровской коалиции
4. Свёртывание гонки вооружений

19. Прочтите отрывок из воспоминаний современника событий и укажите фамилию космонавта, пропущенную в тексте.

«Главный конструктор с большой сердечностью пожелал Юрию Гагарину успешного полёта. Вечером прошло торжественное заседание Государственной комиссии. Стрекотали киноаппараты, все выступления записывались на магнитофонную ленту. Сергей Павлович Королёв доложил о готовности корабля к пуску. Фиксируется решение комиссии: «Утвердить предложение... о производстве первого в мире полёта космического корабля "Восток" с космонавтом на борту 12 апреля 1961 года». По докладу Каманина принимается второе решение: утвердить первым космонавтом Ю. А. Гагарина, запасным – _____...»

- 1) А. Г. Николаев
- 2) Г. С. Титов
- 3) А. А. Леонов
- 4) В. М. Комаров

20. Какие из перечисленных журналов подверглись критике в постановлении Оргбюро ЦК ВКП(б) в 1946 г. за предоставление литературной трибуны А. А. Ахматовой и М. М. Зощенко?

- 1) «Новый мир» и «Юность»
- 2) «Дружба народов» и «Иностранная литература»
- 3) «Звезда» и «Ленинград»
- 4) «Москва» и «Октябрь»

21. Первые годы проведения рыночных реформ в России (1992–1993 гг.) были отмечены

- 1) насыщением потребительского рынка продовольственными и промышленными товарами
- 2) макроэкономической стабилизацией
- 3) развитием военно-промышленного комплекса
- 4) увеличением доходов большинства населения

22. Расположите в хронологической последовательности исторические события. Запишите цифры, которыми обозначены исторические события, в правильной последовательности в таблицу.

1. Битва на реке Воже
2. Реформа патриарха Никона
3. Свержение ордынского владычества
4. Учреждение Правительствующего сената
5. Крымская война

23. Что из перечисленного относится к новой экономической политике (1921– 1929 гг.)? Выберите три ответа и запишите в таблицу цифры, под которыми они указаны.

1. Утверждение частной собственности на землю
2. Введение хозрасчёта на государственных предприятиях
3. Денационализация тяжёлой промышленности
4. Появление кредитно-банковской системы и бирж
5. Отмена государственной монополии внешней торговли
6. Введение концессий

24. Установите соответствие между государственными деятелями и историческими событиями: к каждой позиции первого столбца подберите соответствующую позицию из второго столбца.

ГОСУДАРСТВЕННЫЕ
ДЕЯТЕЛИ

- А) П. А. Столыпин
- Б) А. А. Аракчеев
- В) А. Х. Бенкендорф
- Г) С. Ю. Витте

ИСТОРИЧЕСКИЕ СОБЫТИЯ

- 1) создание военных поселений
- 2) введение «золотого стандарта»
- 3) разрешение свободного выхода крестьян из общины
- 4) создание корпуса жандармов
- 5) роспуск Учредительного собрания

Запишите в таблицу выбранные цифры под соответствующими буквами.

| А | Б | В | Г |
|---|---|---|---|
| | | | |

26. Напишите пропущенное слово.

Важный в истории России процесс, характеризуемый понятиями «заповедные годы», «урочные лета», «бессрочный сыск беглых крестьян», называется _____ крестьян.

27. Заполните пустые ячейки таблицы, используя приведённый ниже список пропущенных элементов: для каждого пропуска, обозначенного буквами, выберите номер нужного элемента.

| Событие | Дата | Участник(-и) |
|----------------------|--------------------------|--|
| Операция «Багратион» | _____ (А) | И. Х. Баграмян, И. Д. Черняховский |
| Сталинградская битва | _____ (Б) | _____ (В) |
| _____ (Г) | Август – декабрь 1943 г. | Г. К. Жуков, К. К. Рокоссовский, И. С. Конев |
| Битва за Москву | _____ (Д) | _____ (Е) |

Пропущенные элементы:

- 1) М. А. Егоров, М. В. Кантария
- 2) сентябрь 1941 г. — апрель 1942 г.
- 3) Я. Ф. Павлов
- 4) битва на Курской дуге
- 5) битва за Днепр
- 6) июнь — август 1944 г.
- 7) июль 1942 г. — февраль 1943 г.
- 8) И. В. Панфилов
- 9) май 1942 г.

Запишите в таблицу выбранные цифры под соответствующими буквами.

| А | Б | В | Г | Д | Е |
|---|---|---|---|---|---|
| | | | | | |

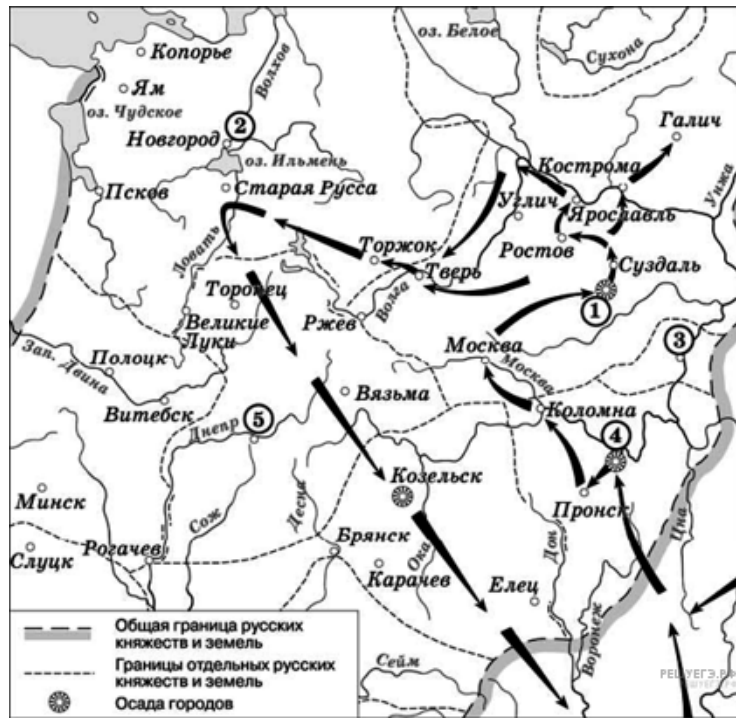
28. Прочтите отрывок из телеграммы военачальника.

«Все отлично сознавали, что при создавшейся обстановке и при фактическом руководстве и направлении внутренней политики безответственными общественными организациями, а также громадного разлагающего влияния этих организаций на массу армии, последнюю воссоздать не удастся, а наоборот, армия как таковая должна развалиться через два-три месяца. И тогда Россия должна будет заключить позорный сепаратный мир, последствия которого были бы для России ужасны. Правительство принимало полумеры, которые, ничего не поправляя, лишь затягивали агонию, и, спасая революцию, не спасало Россию. Между тем завоевания революции можно было спасти лишь путём спасения России, а для этого прежде всего, необходимо создать действительную сильную власть и оздоровить тыл. Генерал Корнилов предъявил ряд требований, проведение коих в жизнь затягивалось. При таких условиях генерал Корнилов, не преследуя никаких личных честолюбивых замыслов и опираясь на ясно выраженное сознание всей здоровой части общества и армии, требовавшее скорейшего создания крепкой власти для спасения Родины, а с ней и завоеваний революции, считал необходимыми более решительные меры, кои обеспечили бы водворение порядка в стране...»

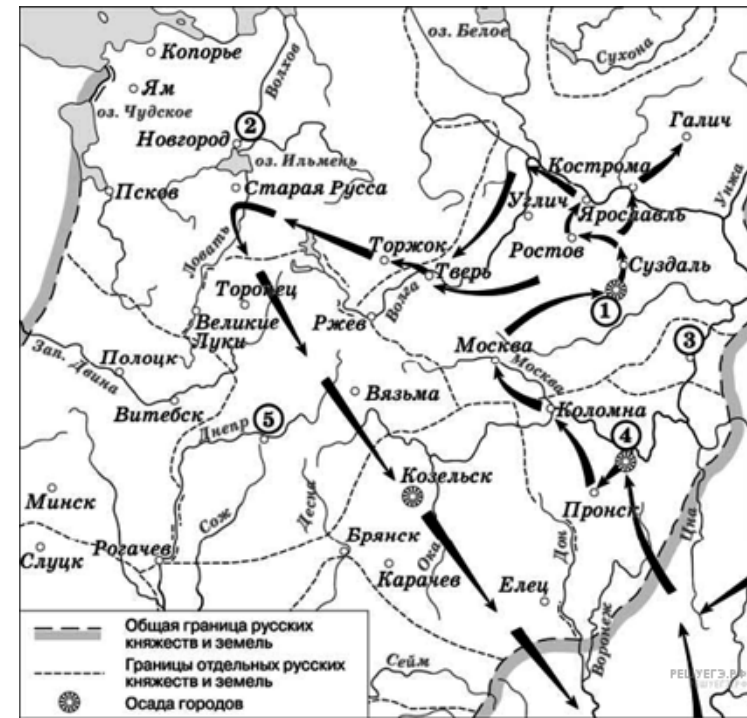
Используя отрывок и знания по истории, выберите в приведённом списке верные суждения. Запишите в ответ цифры, под которыми они указаны.

- 1) Описанные в телеграмме события произошли в 1916 г.
- 2) Правительство, о котором идёт речь в телеграмме, называлось СНК.
- 3) Автор телеграммы – сторонник продолжения войны с Германией.
- 4) Автор телеграммы поддерживает действия генерала Корнилова.
- 5) Большевики поддерживали действия генерала Корнилова.
- 6) «Решительные меры» генерала Корнилова, которые указаны в телеграмме, не были осуществлены.

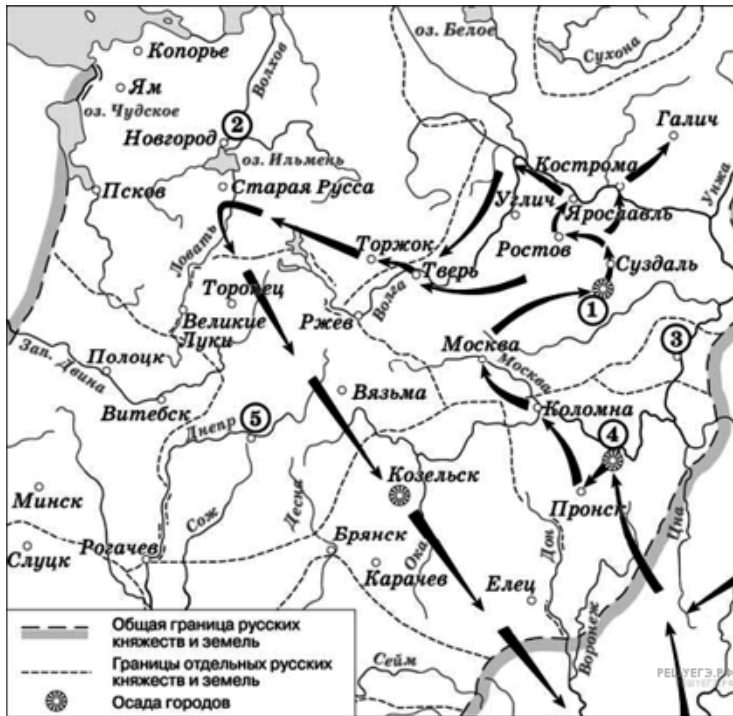
29. Напишите имя полководца, осуществившего поход, обозначенный на схеме стрелками.



30. Напишите название города, обозначенного на схеме цифрой «1».

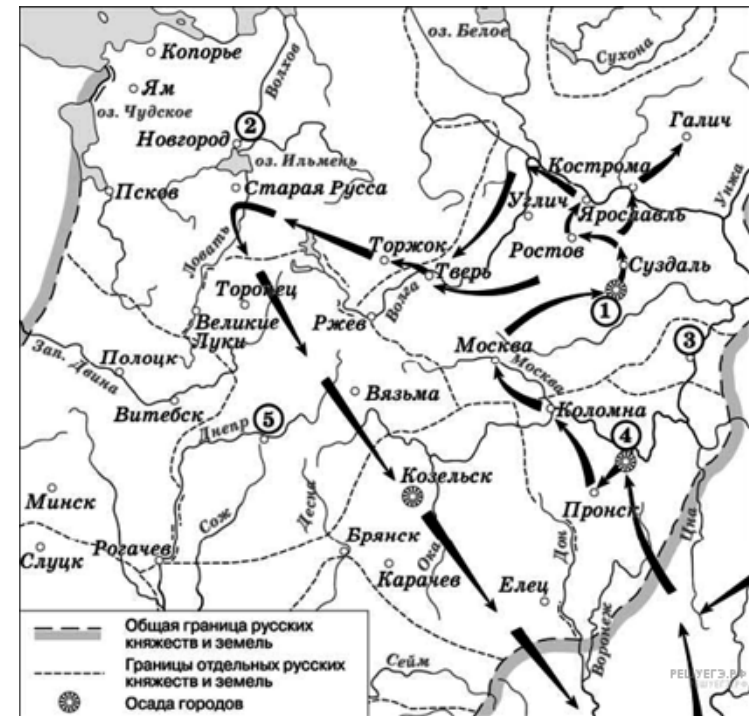


31. Укажите название города, обозначенного на схеме цифрой, где в период данного похода существовала республиканская форма правления.



32. Какие суждения, относящиеся к событиям, обозначенным на схеме, являются верными? Выберите несколько суждений из шести предложенных. Запишите в таблицу цифры, которыми они обозначены.

- 1) Завоеватели вторглись в пределы Руси в зимний период.
- 2) Ни один из городов, захваченных завоевателями, не выдержал осады более одной недели.
- 3) Поход, обозначенный на схеме стрелками, длился около трёх лет.
- 4) Одним из последствий событий, обозначенных на схеме, было начало раздробленности Древнерусского государства.
- 5) В результате событий, обозначенных на схеме, русские земли попали в зависимость.
- 6) Полководец, поход которого обозначен на схеме, является основателем государства.



33. Какие суждения о скульптуре, изображённой на фотографии, являются верными? Выберите два суждения из пяти предложенных. Запишите в таблицу цифры, которыми они обозначены.

- 1) Скульптура была создана в период после Великой Отечественной войны.
- 2) В настоящее время скульптура находится в Санкт-Петербурге.
- 3) На скульптуре показаны орудия труда, изображавшиеся на гербе СССР.
- 4) Автором скульптуры является П. К. Клодт.
- 5) Скульптура символизировала единство рабочего класса и крестьянства.



34. Какое из зданий, представленных ниже, было построено в годы руководства страной того же государственного деятеля, при котором была создана данная скульптура? В ответе запишите цифру, которой обозначено это здание.

1)



2)



3)



4)



Прочтите отрывок из исторического источника и кратко ответьте на вопрос(-ы). Ответы предполагают использование информации из источника, а также применение исторических знаний по курсу истории соответствующего периода.

Из резолюции XIX Всесоюзной партийной конференции:

«XIX Всесоюзная партийная конференция... констатирует: выработанный партией на апрельском Пленуме ЦК и XXVII съезде партии стратегический курс на всестороннее и революционное обновление советского общества и ускорение его социально-экономического развития неуклонно претворяется в жизнь. Приостановлено сползание страны к экономическому и социально-политическому кризису...

Начался процесс оздоровления экономики страны, её поворот к удовлетворению насущных потребностей людей. Набирают силу новые методы хозяйствования. В соответствии с Законом о государственном предприятии (объединении) идёт перевод объединений и предприятий на хозяйственный и самоокупаемость. Разработан, широко обсуждён и принят Закон о кооперации. Входят в жизнь новые, прогрессивные формы внутрипроизводственных трудовых отношений на основе подряда и аренды, а также индивидуальная трудовая деятельность. Идёт перестройка организационных структур управления, направленная на создание благоприятных условий для эффективного хозяйствования первичных звеньев экономики.

Развёрнутая по инициативе партии работа позволила возобновить рост реальных доходов трудящихся. Реализуются практические меры по увеличению производства продуктов питания и предметов потребления, расширению жилищного строительства. Осуществляются реформы образования и здравоохранения. Духовная жизнь становится мощным фактором прогресса страны. Значительная работа проведена по переосмыслению современных реальностей мирового развития, обновлению и приданию динамизма внешней политике. Таким образом, перестройка всё глубже входит в жизнь советского общества, оказывает на него всё возрастающее преобразующее воздействие».

35. Укажите десятилетие, в рамках которого происходили события, упомянутые в резолюции. Укажите фамилию политического деятеля, являвшегося руководителем страны в период, когда происходили эти события. Укажите название периода истории СССР, когда этот политический деятель был руководителем страны.

36. Какие направления внутренней политики КПСС и государства названы в резолюции? Укажите любые три направления.

37. Каков итог реализации рассматриваемого стратегического курса партии? Привлекая исторические знания, укажите не менее двух причин, приведших к такому итогу.

38. Многие города Древней Руси возникали на берегах рек. Объясните, в чём состояли преимущества такого расположения города (приведите три объяснения).

39. В исторической науке существуют дискуссионные проблемы, по которым высказываются различные, часто противоречивые точки зрения. Ниже приведена одна из спорных точек зрения, существующих в исторической науке.

«Внутренняя политика Александра III способствовала прогрессивному развитию социальной и экономической сфер общественной жизни».

Используя исторические знания, приведите два аргумента, которыми можно подтвердить данную точку зрения, и два аргумента, которыми можно опровергнуть её. При изложении аргументов обязательно используйте исторические факты.

Ответ запишите в следующем виде.

Аргументы в подтверждение:

1) ...

2) ...

Аргументы в опровержение:

1) ...

2) ...

40. Ниже названы четыре исторических деятеля различных эпох. Выберите из них **ОДНОГО** и выполните задание.

1) Дмитрий Донской; 2) М. М. Сперанский; 3) Уинстон Черчилль; 4) Н. С. Хрущёв.

Укажите время жизни исторического деятеля (с точностью до десятилетия или части века).

Укажите не менее двух направлений его деятельности и дайте их характеристику. Характеристика каждого из направлений деятельности должна содержать основные факты, относящиеся к этим направлениям.

Приведите результаты его деятельности по каждому из указанных Вами направлений.