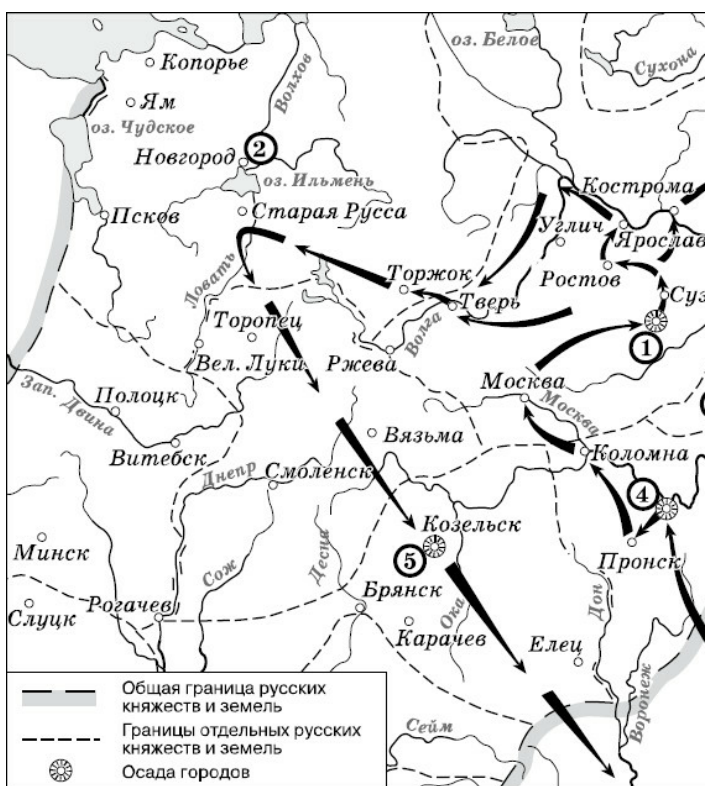


Рассмотрите схему и выполните задание.



1. Рассмотрите схему и выполните задание

Напишите имя полководца, осуществившего поход, обозначенный на схеме стрелками.

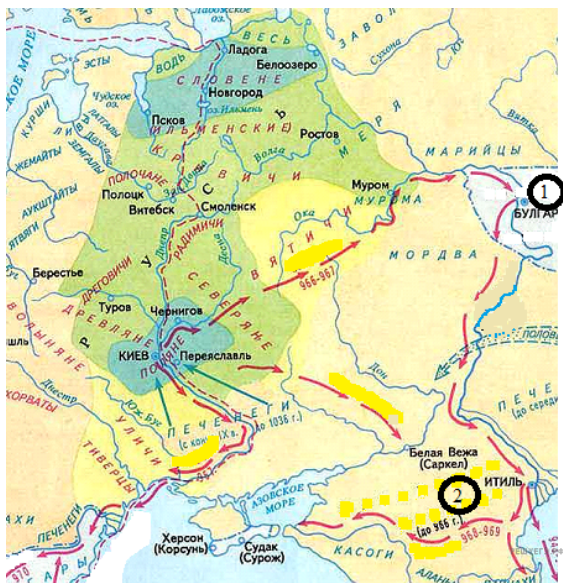
Рассмотрите схему и выполните задание.



2. Рассмотрите схему и выполните задание.

Как называл летописец Нестор древний речной путь, обозначенный на схеме цифрой 1?

Рассмотрите схему и выполните задание.



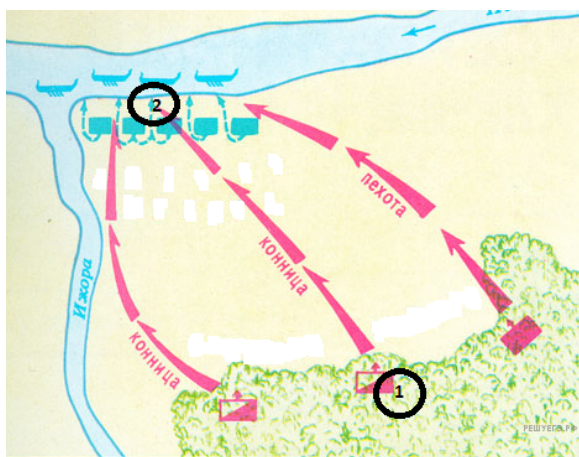
3. Рассмотрите схему и выполните задание.
 Назовите имя великого Киевского князя, чьи завоевательные походы указаны стрелками.

Рассмотрите схему и выполните задание.



4. Рассмотрите схему и выполните задание.
 Напишите имя и прозвание русского полководца XIII в., одержавшего победы над неприятелем в сражениях, отмеченных на карте цифрами 3 и 4.

Рассмотрите схему и выполните задание.



5. Рассмотрите схему и выполните задание.
Напишите название битвы, представленной на схеме.

Рассмотрите схему и выполните задание.



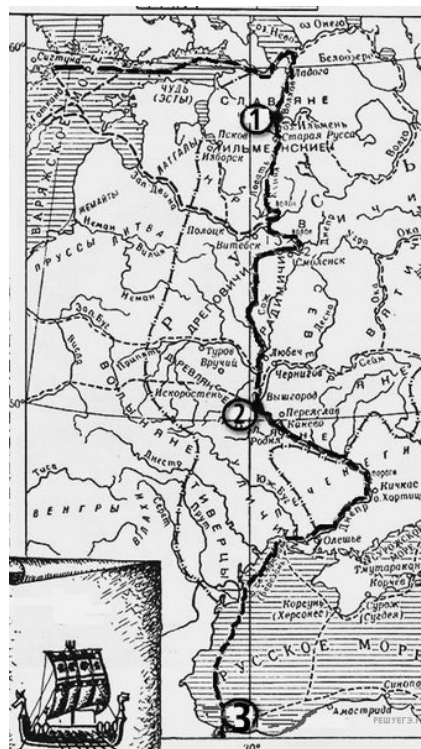
6. Рассмотрите схему и выполните задание.
Напишите название битвы, представленной на схеме.

Рассмотрите схему и выполните задание.



7. Рассмотрите схему и выполните задание.
Напишите название войны, события которой отражены на карте.

Рассмотрите схему и выполните задание.



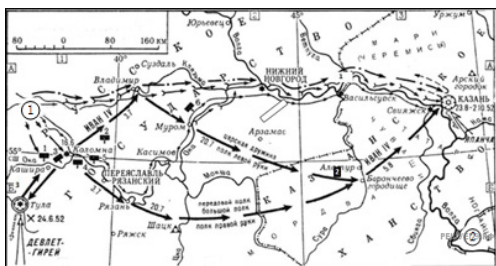
8. Рассмотрите схему и выполните задание.
Напишите название отмеченного на карте пути.

Рассмотрите схему и выполните задание.



9. Рассмотрите схему и выполните задание.
Напишите имя князя, осуществившего походы, обозначенные на схеме стрелками.

Рассмотрите схему и выполните задание.



10. Рассмотрите схему и выполните задание.
Напишите имя правителя, осуществившего поход, обозначенный на схеме стрелками. Имя указывается с порядковым номером правителя (например, Александр Первый) или с официальн

ым прозвищем (например, Александр Благословенный).

Рассмотрите схему и выполните задание.



11. Рассмотрите схему и выполните задания.
Напишите имя и отчество правителя России, при котором заштрихованная территория вошла в состав России.

Рассмотрите схему и выполните задание.



12. Рассмотрите схему и выполните задания.
 Назовите русского полководца, участвовавшего в походах, обозначенных карте.

Рассмотрите схему и выполните задание.



13. Рассмотрите схему и выполните задания.
 Впишите недостающее слово. Название периода отечественной истории, события которого изображены на карте, — _____ раздробленность.

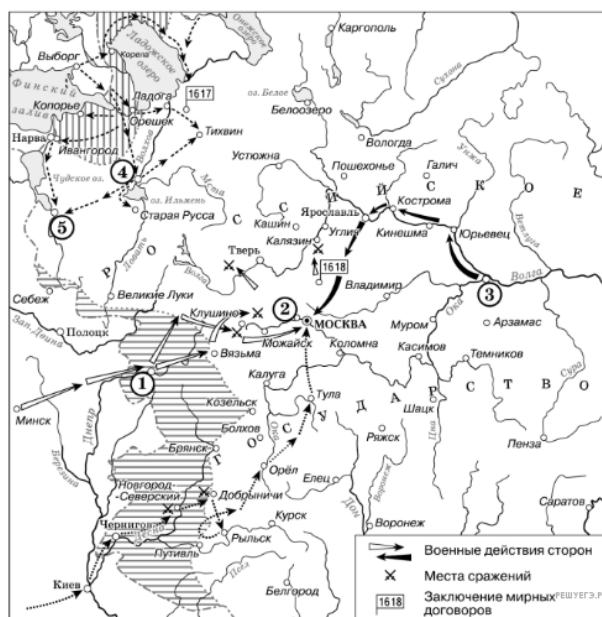
Рассмотрите схему и выполните задание.



14. Рассмотрите схему и выполните задания.

Назовите князя, в годы правления которого в состав единого Русского государства вошли города, обозначенные на схеме цифрами 1 и 2. Имя указывается с порядковым номером правителя (например, Александр Первый) или с официальным прозвищем (например, Александр Благословенный).

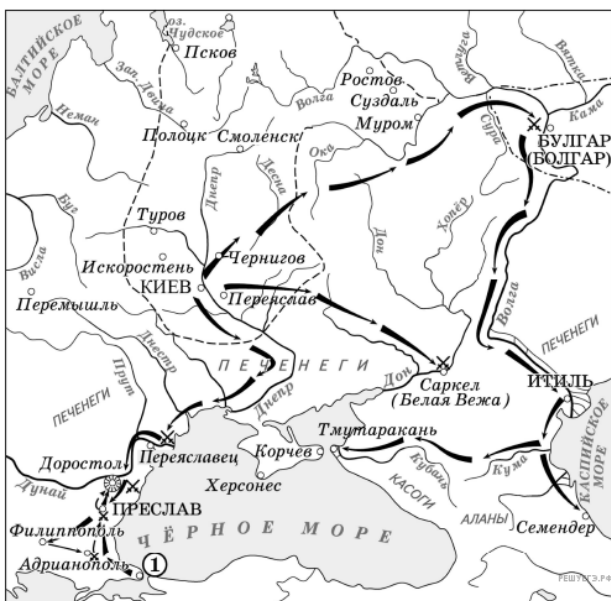
Рассмотрите схему и выполните задание.



15. Рассмотрите схему и выполните задания

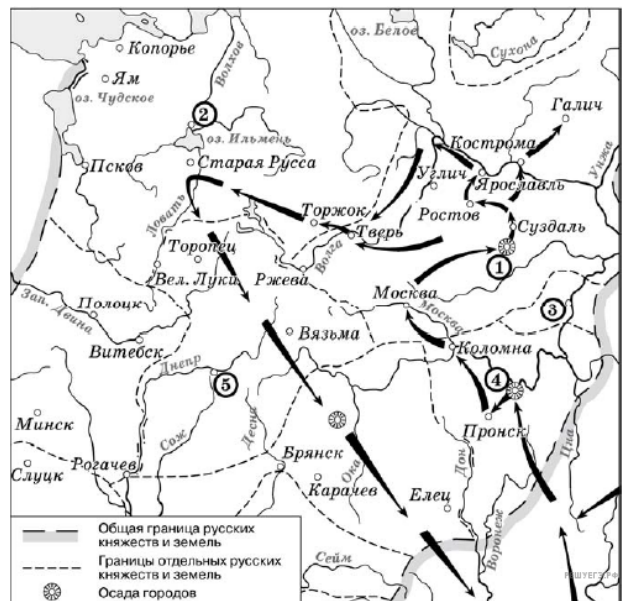
Напишите название периода русской истории, события которого изображены на схеме.

Рассмотрите схему и выполните задание.



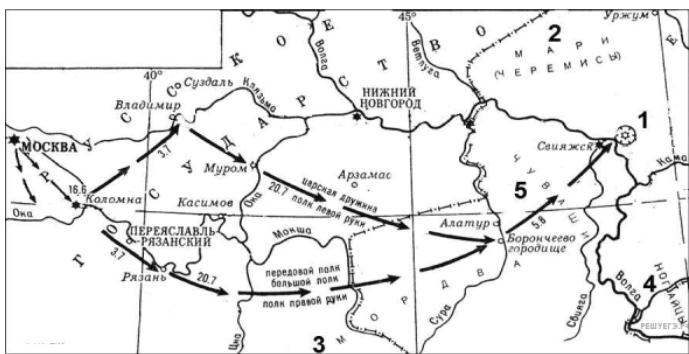
16. Рассмотрите схему и выполните задание.
В каком веке происходили события, обозначенные на схеме? Ответ запишите словом.

Рассмотрите схему и выполните задание.



17. Рассмотрите схему и выполните задание.
Напишите имя полководца, осуществившего поход, обозначенный на схеме стрелками.

Рассмотрите схему и выполните задание.



18. Рассмотрите схему и выполните задание.

Напишите имя русского правителя, к годам правления которого относятся события, указанные на схеме. Имя указывается с порядковым номером правителя (например, Александр Первый) или с официальным прозвищем (например, Александр Благословенный).

Рассмотрите схему и выполните задание.



19. Рассмотрите схему и выполните задание.

Назовите монарха, в период правления которого в состав Российского государства вошёл город, обозначенный на схеме цифрой 3.

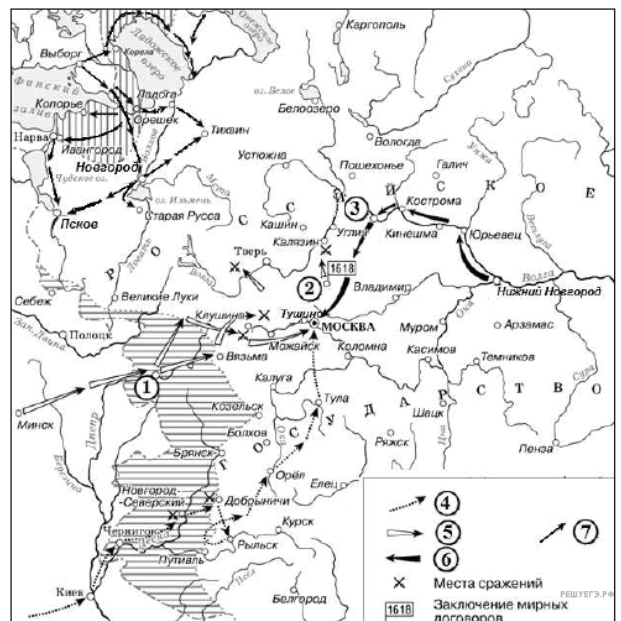
Рассмотрите схему и выполните задание.



20. Рассмотрите схему и выполните задание.

Укажите век, в котором происходили события, обозначенные на схеме. Ответ запишите словом.

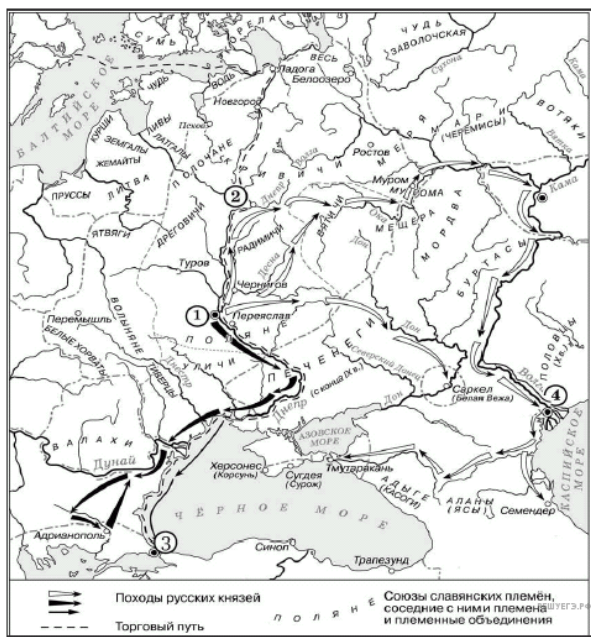
Рассмотрите схему и выполните задание.





21. Рассмотрите схему и выполните задание.

Укажите название периода истории России, когда происходили события, обозначенные на схеме стрелками.

Рассмотрите схему и выполните задание.



22. Рассмотрите схему и выполните задание.

Назовите киевского князя, к деятельности которого относятся походы, обозначенные на схеме закрашенными чёрными фигурными стрелками  и контурными фигурными стрелками .

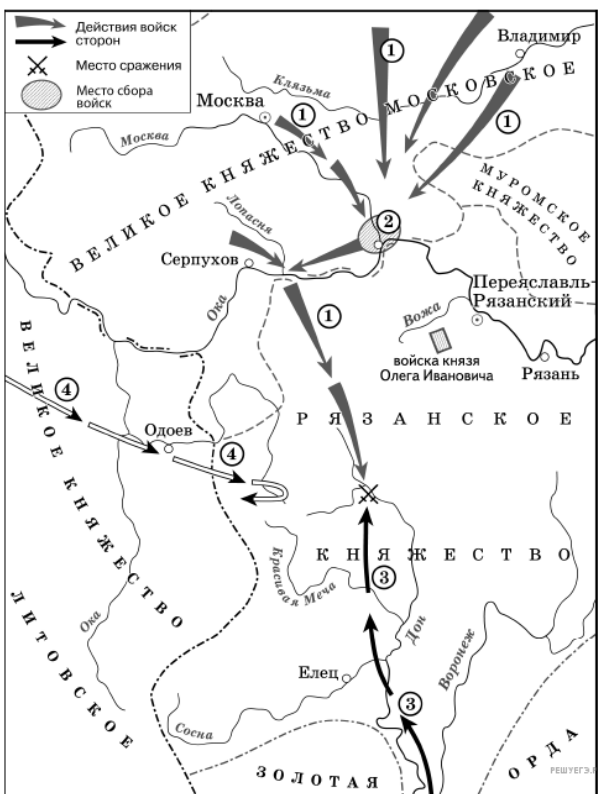
Рассмотрите схему и выполните задание.



23. Рассмотрите схему и выполните задание.

Заполните пропуск в следующей фразе: «Изображённое на схеме под цифрой 1 государство — это Великое княжество _____».

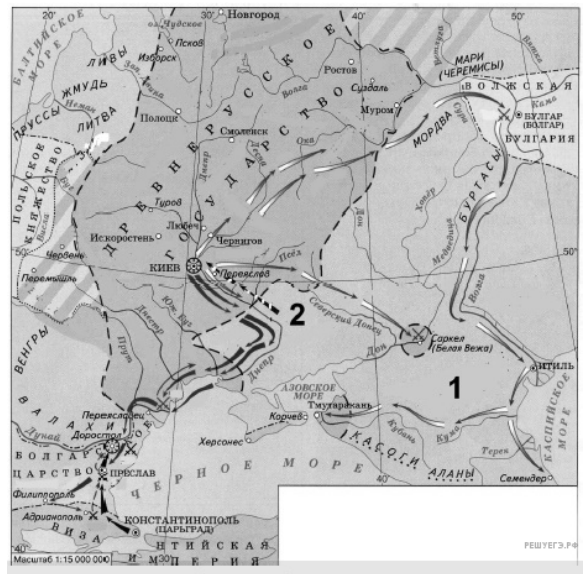
Рассмотрите схему и выполните задание.



24. Рассмотрите схему и выполните задание.

Укажите век, к которому относятся события, обозначенные на схеме. Ответ напишите словом.

Рассмотрите схему и выполните задание.



25. Рассмотрите схему и выполните задание.

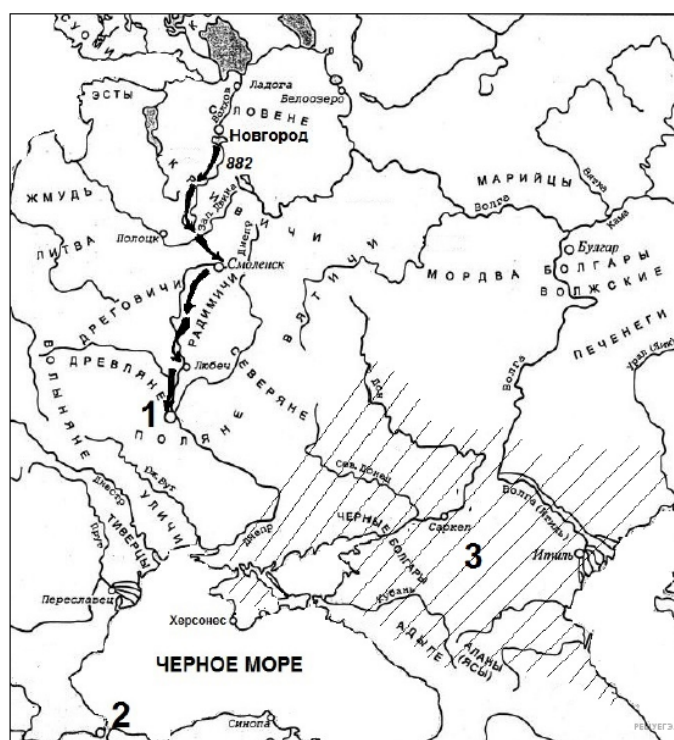
Назовите древнерусского князя, походы которого отображены на схеме.

Рассмотрите схему и выполните задание.



26. Рассмотрите схему и выполните задание.
Напишите название русского города, обозначенного на схеме под цифрой 1.

Рассмотрите схему и выполните задание.



27. Рассмотрите схему и выполните задание.
Напишите имя князя, предпринявшего поход, изображенный на схеме.

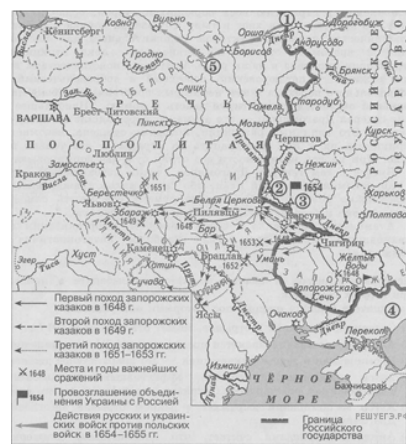
Рассмотрите схему и выполните задание.



28. Рассмотрите схему и выполните задание.

Укажите век, когда произошли события, обозначенные на схеме стрелками. Ответ запишите словом.

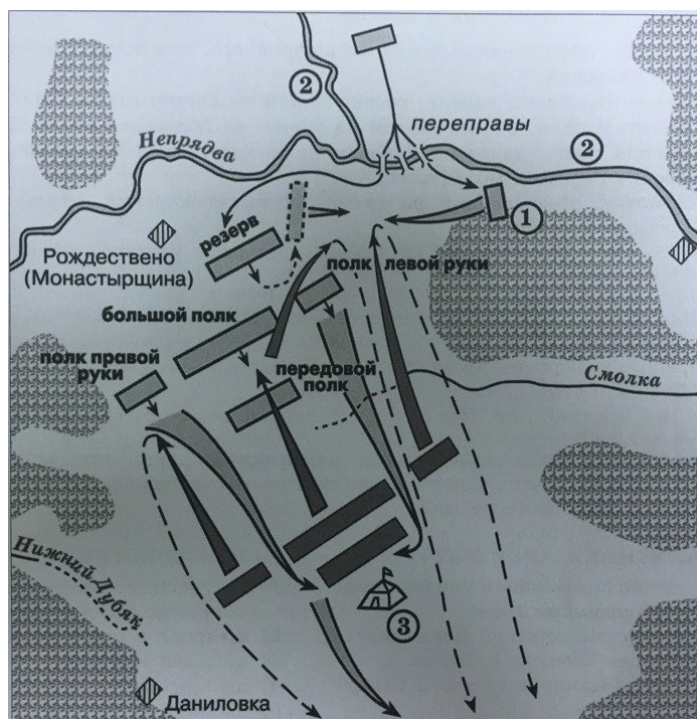
Рассмотрите схему и выполните задание.



29. Рассмотрите схему и выполните задание.

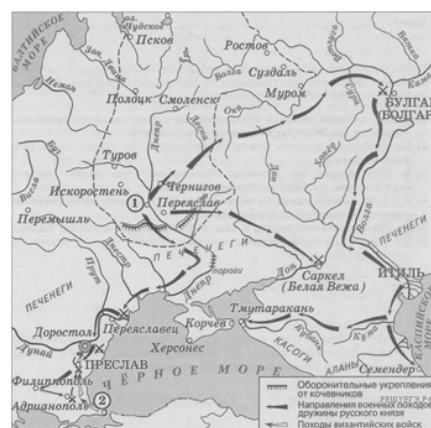
Заполните пропуск в предложении: «Перемирие, по которому России передавался сроком на два года город, обозначенный на схеме цифрой 2, было подписано в тысяча шестьсот _____ году». Ответ запишите словом (словосочетанием).

Рассмотрите схему и выполните задание.



30. Рассмотрите схему и выполните задание.
Заполните пропуск в предложении: «Битва, представленная на схеме, состоялась в _____ веке». Ответ запишите в виде слова.

Рассмотрите схему и выполните задание.

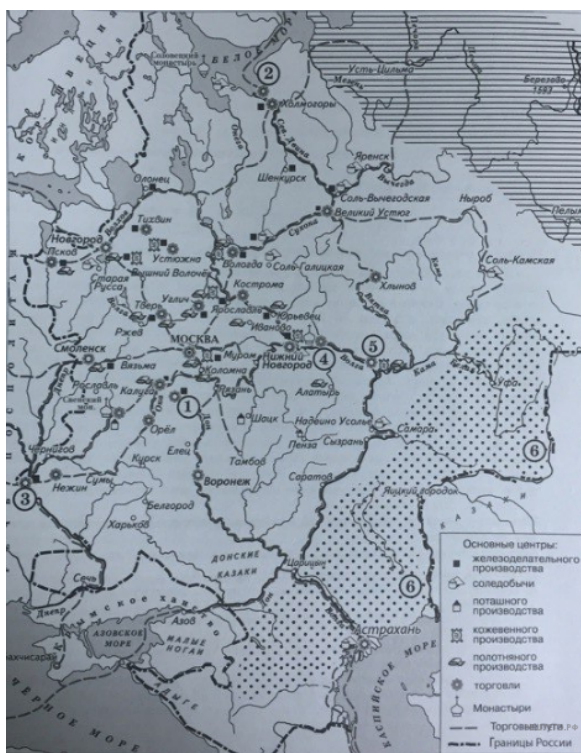


31.

Рассмотрите схему и выполните задание.

Укажите название города, обозначенного цифрой 2, в период, когда произошли события, которым посвящена схема.

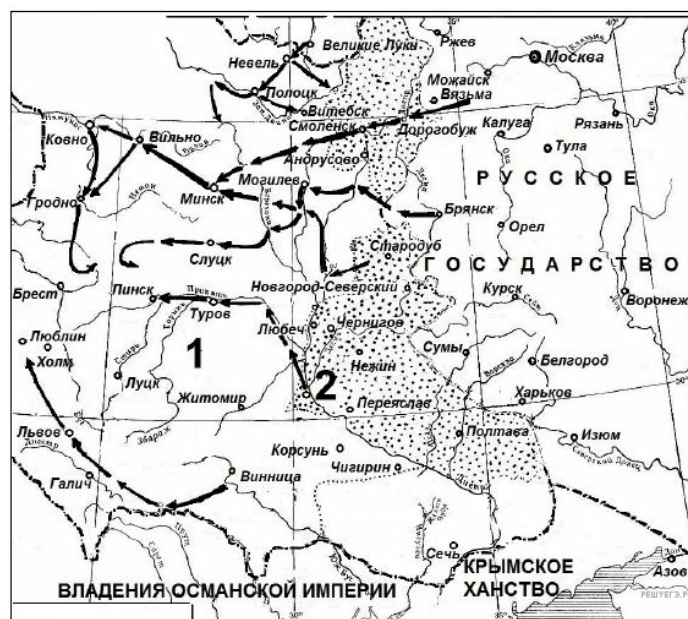
Рассмотрите схему и выполните задание.



32. Рассмотрите схему и выполните задание.

Укажите век, когда в состав российского государства вошёл город, обозначенный на схеме цифрой 5. Ответ запишите в виде слова.

Рассмотрите схему и выполните задание.



33. Рассмотрите схему и выполните задание.

Напишите название государства, обозначенного на схеме цифрой 1.

Рассмотрите схему и выполните задание.



34. Рассмотрите схему и выполните задание.

Напишите название периода в российской истории, в окончании которого Русское государство утратило территории, обозначенные на схеме цифрами 1 и 2.

Рассмотрите схему и выполните задание.



35. Рассмотрите схему и выполните задание.

Назовите русского князя, осуществившего походы, обозначенные на схеме белыми стрелками.

Рассмотрите схему и выполните задание.



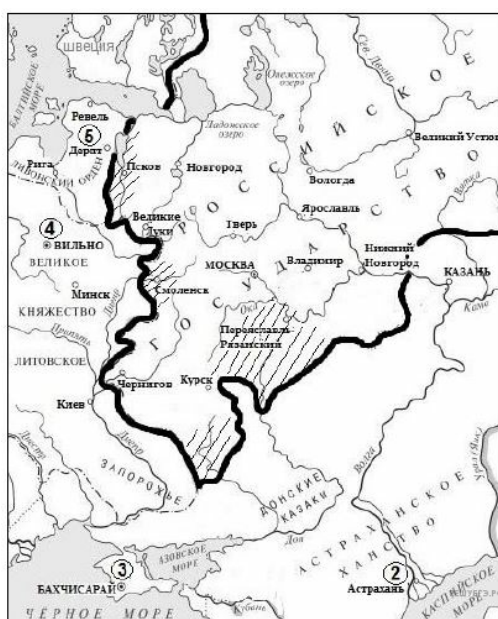
36. Рассмотрите схему и выполните задание.
Напишите название города, обозначенного на схеме цифрой 1.

Рассмотрите схему и выполните задание.



37. Рассмотрите схему и выполните задание.
Напишите название города, обозначенного на схеме цифрой 2.

Рассмотрите схему и выполните задание.



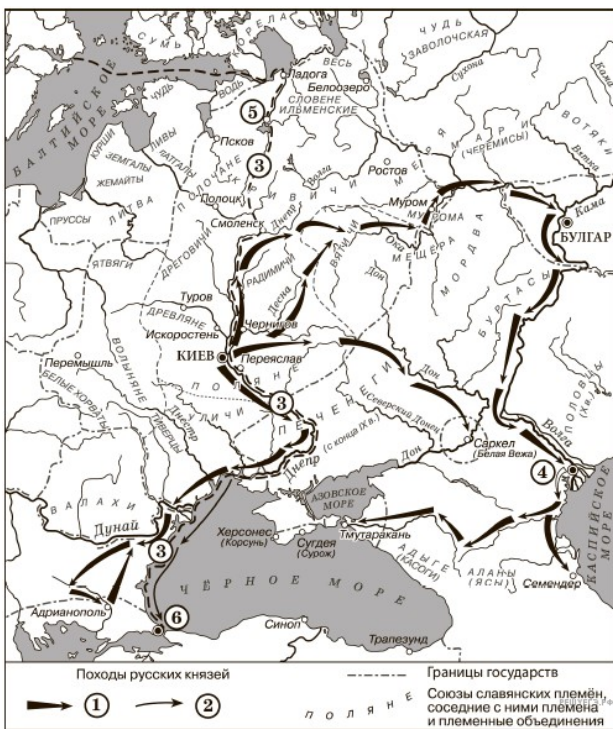
38. Рассмотрите схему и выполните задание.
 Назовите государя, к концу правления которого сложились отображённые на схеме границы Российского государства, при котором были присоединены заштрихованные на схеме территории.

Рассмотрите схему и выполните задание.



39. Рассмотрите схему и выполните задание.
 Назовите период отечественной истории, в результате событий которого Российское государство утратило заштрихованные на схеме территории.

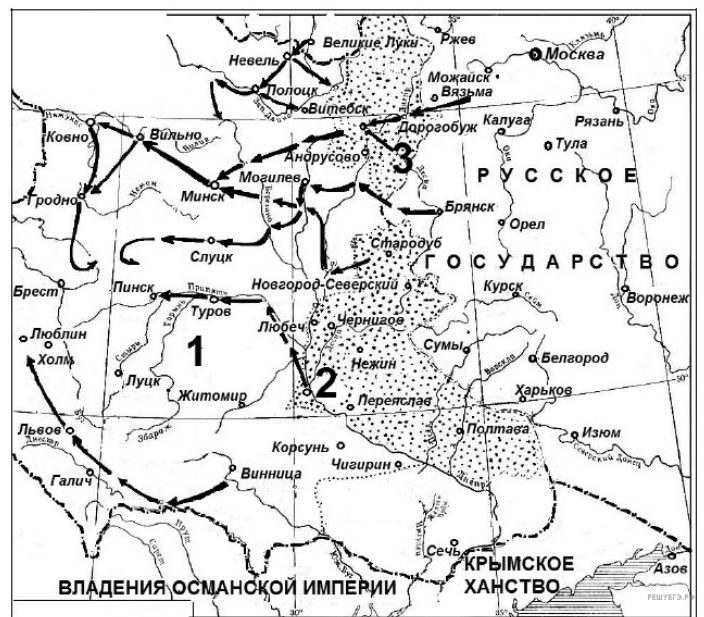
Рассмотрите схему и выполните задание.



40. Рассмотрите схему и выполните задание.

Укажите век, когда произошли события, обозначенные на схеме стрелками. Ответ запишите словом.

Рассмотрите схему и выполните задание.



41. Рассмотрите схему и выполните задание.

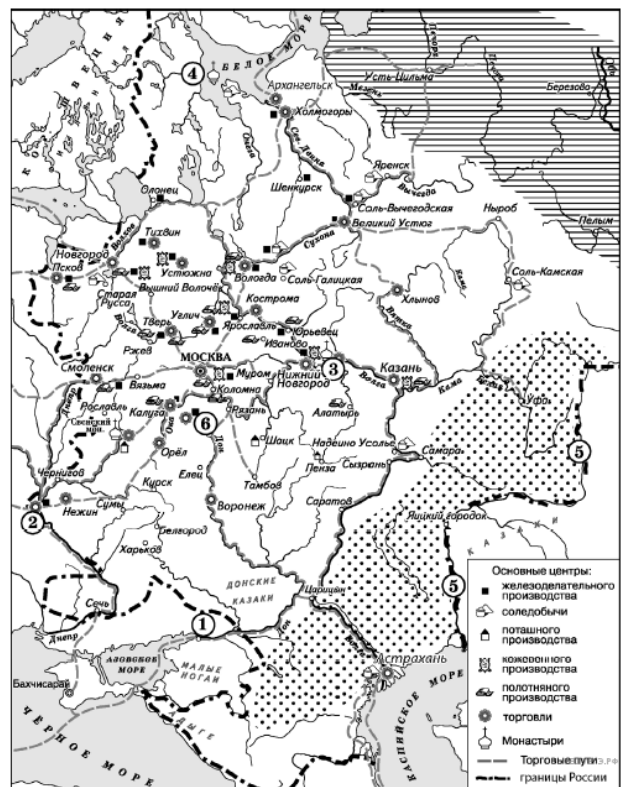
Назовите российского государя, при котором происходила война, события которой обозначены на схеме.

Рассмотрите схему и выполните задание.



42. Рассмотрите схему и выполните задание.
Напишите название войны, события которой обозначены на схеме.

Рассмотрите схему и выполните задание.



43. Рассмотрите схему и выполните задание.
Заполните пропуск в предложении: «Город, обозначенный на схеме цифрой 2, вошёл в состав Российского государства в _____ веке». Ответ запишите словом.

Рассмотрите схему и выполните задание.



44. Напишите название периода отечественной истории, к которому относятся обозначенные на схеме события.

Рассмотрите схему и выполните задание.



45. Назовите древнерусского князя, совершившего поход, обозначенный на схеме стрелками.

Рассмотрите схему и выполните задание.



46. Укажите век, в котором происходили события, обозначенные на схеме стрелками. Ответ запишите словом.

Рассмотрите схему и выполните задание.



47. Напишите название города, обозначенного на схеме цифрой 2.

Рассмотрите схему и выполните задание.

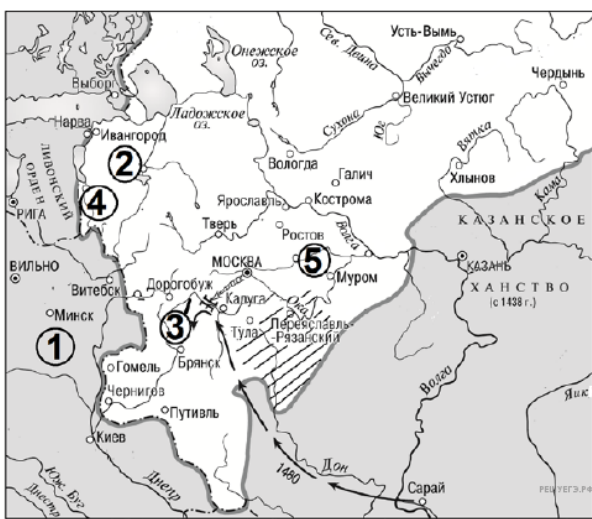
Рассмотрите схему и выполните задание.



48. Напишите название периода в истории отечества, событиям и последствиям которого посвящена данная схема.

49. Назовите российского монарха в период событий, обозначенных на схеме стрелками.

Рассмотрите схему и выполните задание.



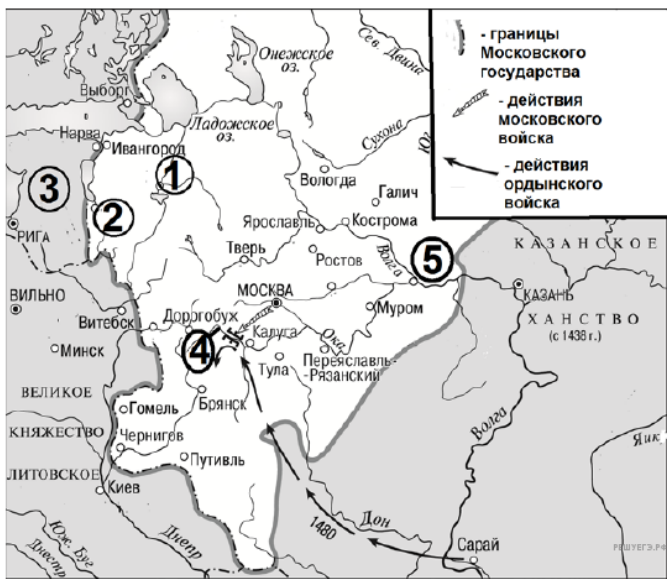
50. Назовите московского князя, в правление которого происходили события, обозначенные на схеме. В ответе укажите его имя и порядковый номер (например, Александр Первый).

Рассмотрите схему и выполните задание.



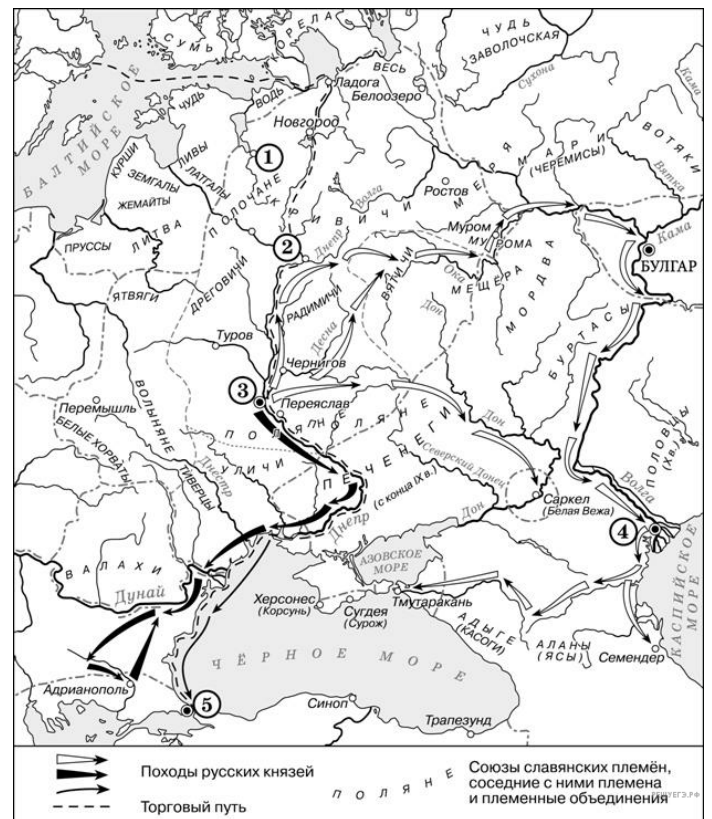
51. Назовите русского царя, в правление которого сложились обозначенные на схеме границы Русского государства и происходили военные действия, обозначенные на схеме стрелками. В ответ запишите имя и порядковый номер царя или имя и его прозвание (например, Александр Первый или Александр Благословенный).

Рассмотрите схему и выполните задание.



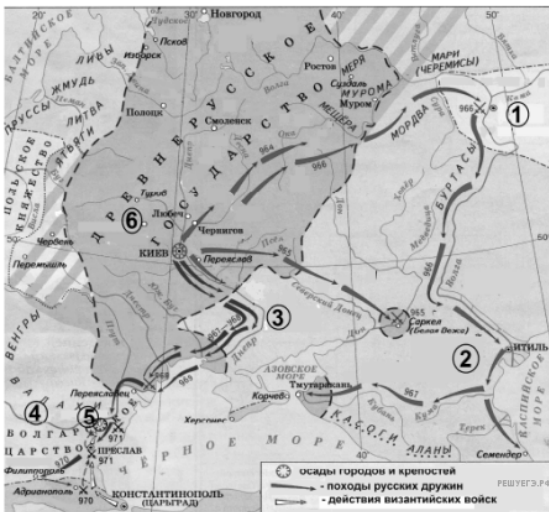
52. Назовите московского князя, в правление которого происходили обозначенные на схеме военные действия. В ответе укажите его имя и порядковый номер (например, Александр Первый).

Рассмотрите схему и выполните задание.



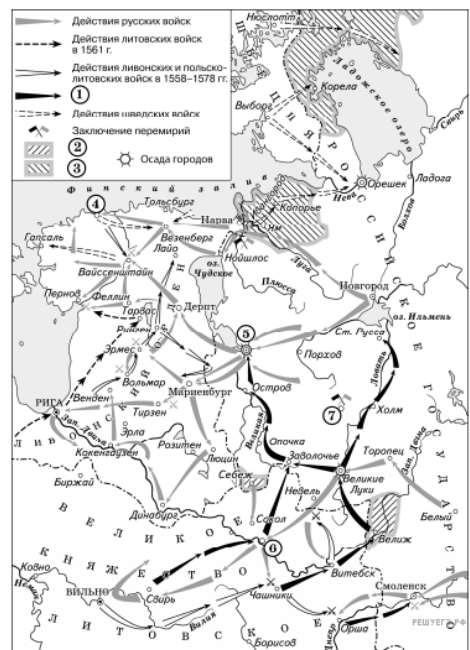
53. Напишите имя предводителя военного похода, в результате которого в 882 году был захвачен город, обозначенный на схеме цифрой 3.

Рассмотрите схему и выполните задание.



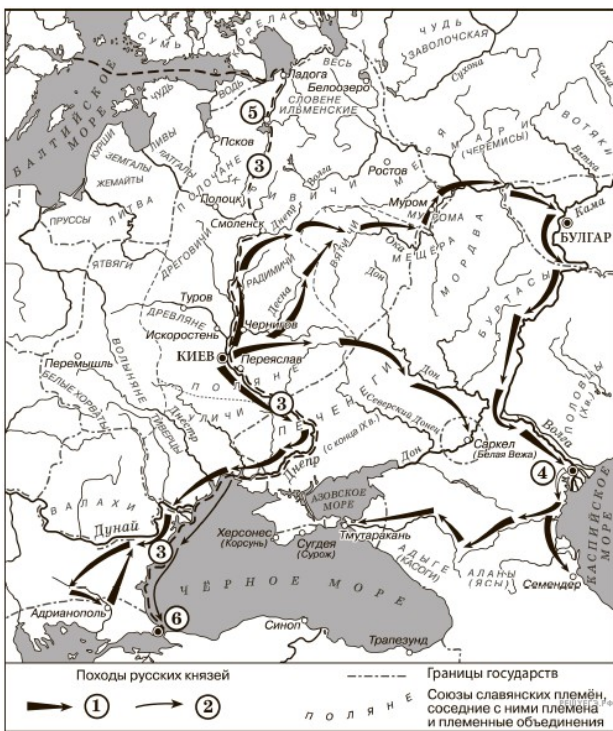
54. Назовите князя, который возглавлял походы русских дружин, обозначенные на схеме. В ответе укажите его имя и отчество (например, Александр Павлович).

Рассмотрите схему и выполните задание.



55. Назовите российского монарха, в период правления которого произошли события, обозначенные на схеме стрелками.

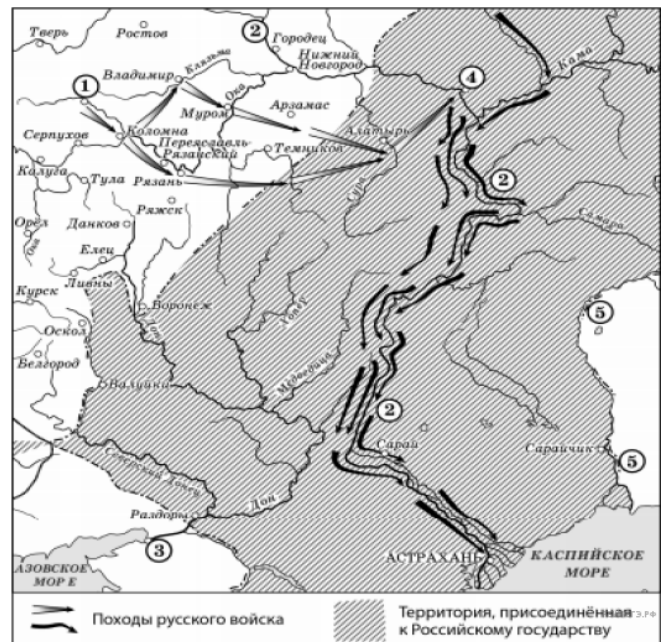
Рассмотрите схему и выполните задание.



56. Рассмотрите схему и выполните задание.

Укажите век, когда произошли события, обозначенные на схеме стрелками. Ответ запишите словом.

Рассмотрите схему и выполните задание.



57. Укажите век, когда произошли события, обозначенные на схеме стрелками. Ответ запишите словом.

Рассмотрите схему и выполните задание.



58. Назовите российского государя, в правление которого к Российскому государству были присоединены территории 2 и 3.

Рассмотрите схему и выполните задание.



59. Назовите российского государя, к концу правления которого сложились границы Российского государства, обозначенные на схеме.

Рассмотрите схему и выполните задание.



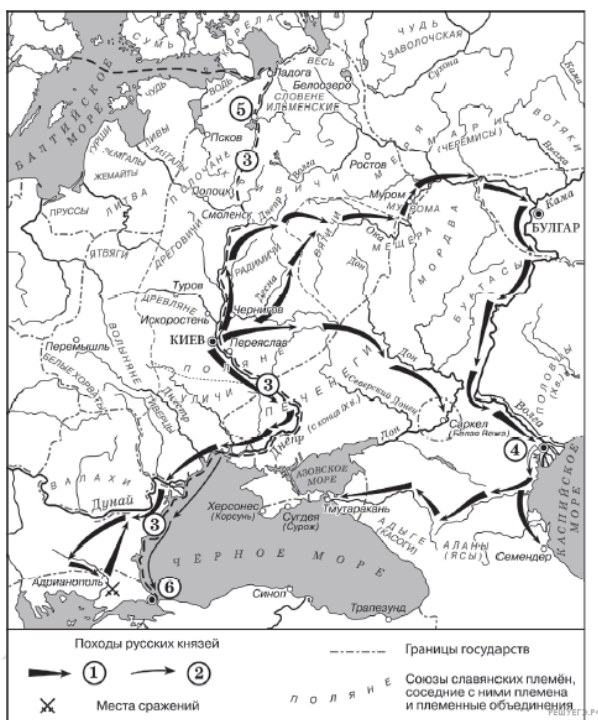
60. Укажите век, когда произошёл раздел территории Древнерусского государства, обозначенный на схеме. Ответ запишите словом.

Рассмотрите схему и выполните задание.



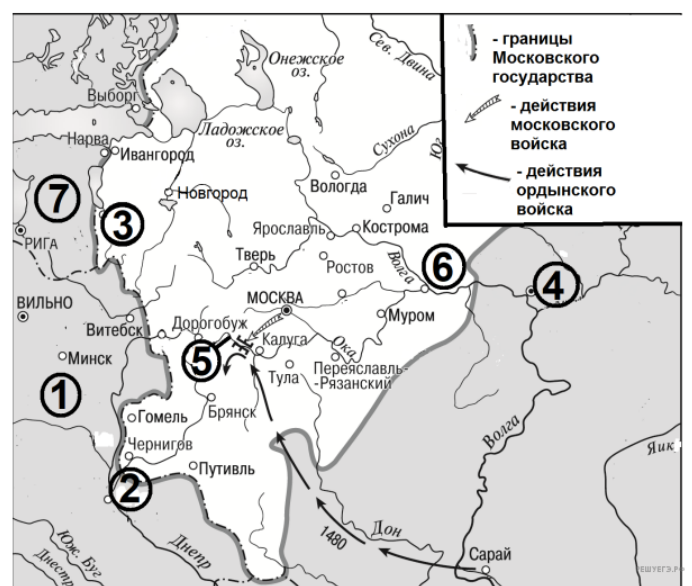
61. Укажите век, в который происходили обозначенные на схеме события. Ответ запишите словом.

Рассмотрите схему и выполните задание.



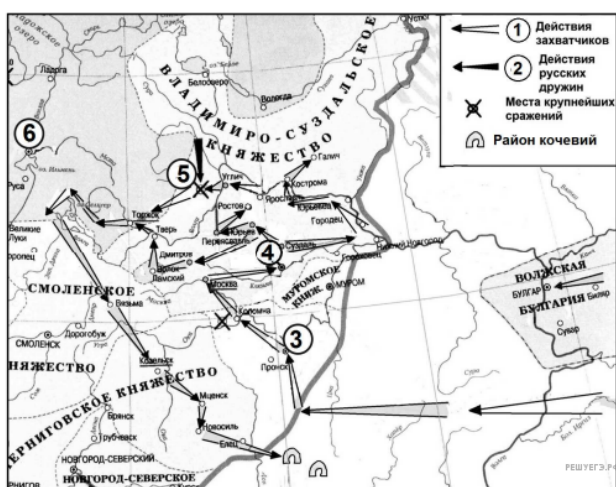
62. Укажите век, когда произошли события, обозначенные на схеме стрелками. Ответ запишите словом.

Рассмотрите схему и выполните задание.



63. Укажите век, в начале которого сложились границы Русского государства, показанные на схеме. Ответ запишите словом.

Рассмотрите схему и выполните задание.



66. Укажите имя иноземного правителя, возглавлявшего действия, обозначенные в легенде схемы цифрой 1.

Рассмотрите схему и выполните задание.



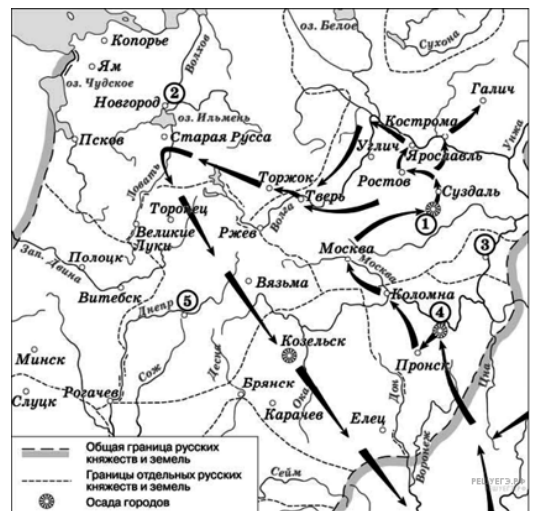
67. Укажите век, в котором происходили события, обозначенные на схеме стрелками. Ответ запишите словом.

Рассмотрите схему и выполните задание.



68. Укажите век, в котором происходили события, обозначенные на схеме стрелками. Ответ запишите словом.

Рассмотрите схему и выполните задание.



69. Рассмотрите схему и выполните задание. Напишите имя полководца, осуществившего поход, обозначенный на схеме стрелками.

Рассмотрите схему и выполните задание.



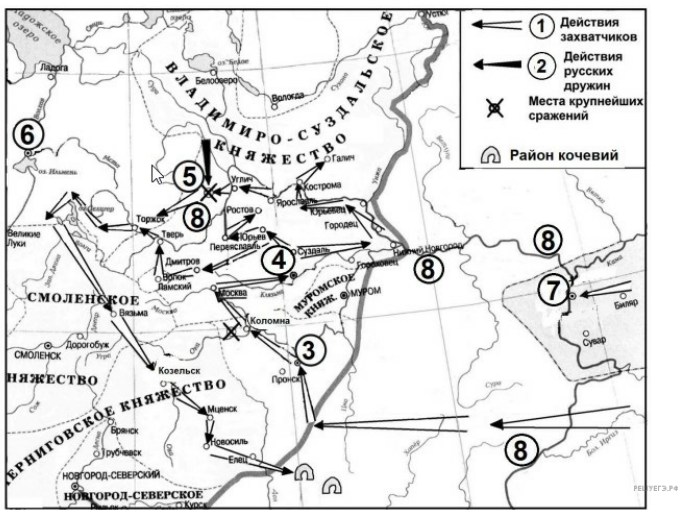
70. Назовите российского государя, в царствование которого происходили обозначенные на схеме стрелками военные действия.

Рассмотрите схему и выполните задание.



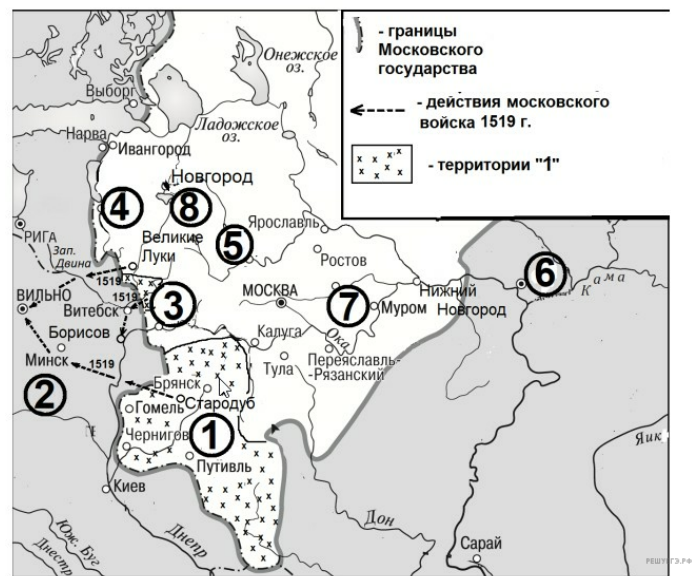
71. Назовите российского государя, к царствованию которого относятся события, обозначенные на схеме.

Рассмотрите схему и выполните задание.



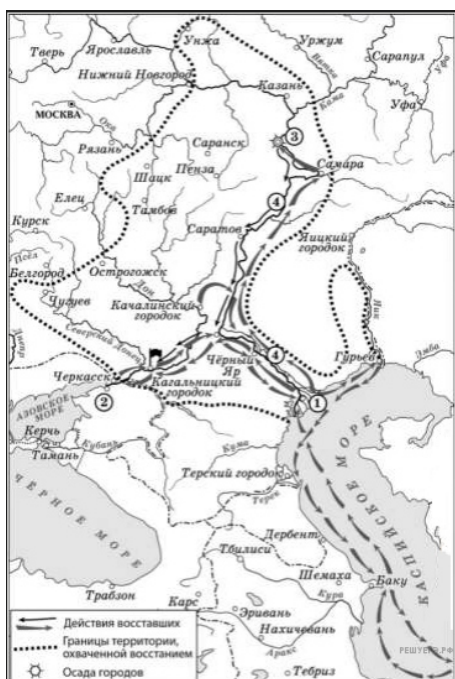
72. Укажите название реки, обозначенной на схеме цифрой 8.

Рассмотрите схему и выполните задание.



73. Укажите российского государя, при котором к Московскому государству были присоединены территории, обозначенные на схеме цифрой 1.

Рассмотрите схему и выполните задание.



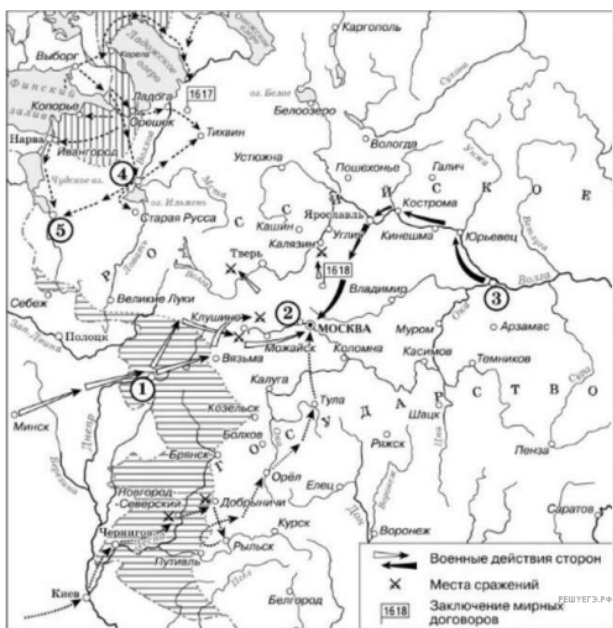
76. Укажите век, когда произошли события, обозначенные на схеме стрелками. Ответ запишите словом.

Рассмотрите схему и выполните задание.



77. Укажите век, когда произошли события, обозначенные на схеме. Ответ запишите словом.

Рассмотрите схему и выполните задание.



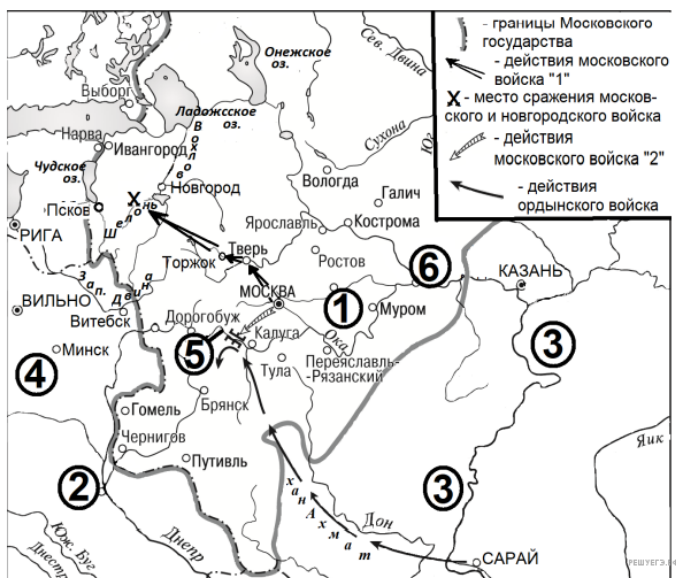
78. Заполните пропуск: «Мирный договоры, указанные на карте, были подписаны при царе _____».

Рассмотрите схему и выполните задание.



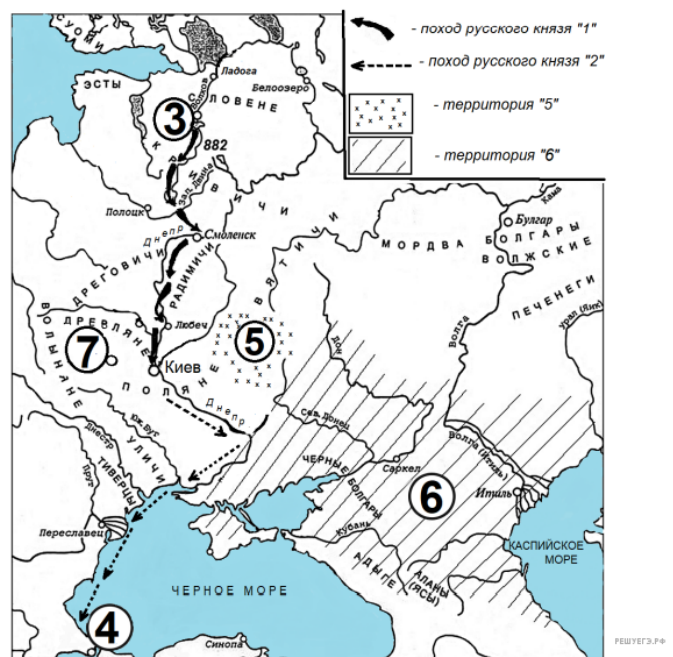
79. Укажите век, когда произошли события, отражённые на схеме. Ответ запишите словом.

Рассмотрите схему и выполните задание.



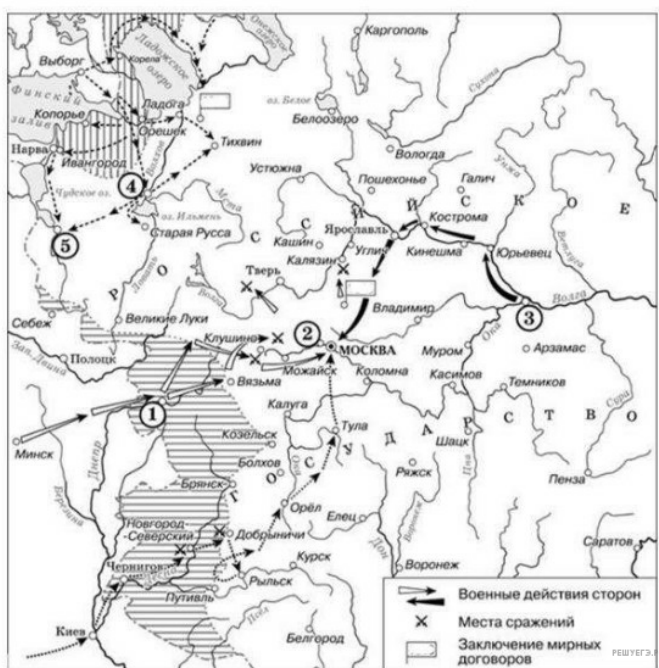
80. Назовите московского государя, в правление которого происходили обозначенные на схеме события.

Рассмотрите схему и выполните задание.



81. Напишите имя русского князя, совершившего обозначенные на схеме походы.

Рассмотрите схему и выполните задание.



82. Укажите век, в который происходили события. Ответ запишите словом.

Рассмотрите схему и выполните задание.



83. Укажите российского государя, в правление которого начался поход, обозначенный в легенде схемы цифрой «1». (В ответе укажите имя и фамилию)

Рассмотрите изображение и выполните задание.



84. Укажите фамилию руководителя восстания, район которого обозначен на схеме.

Рассмотрите схему и выполните задание.



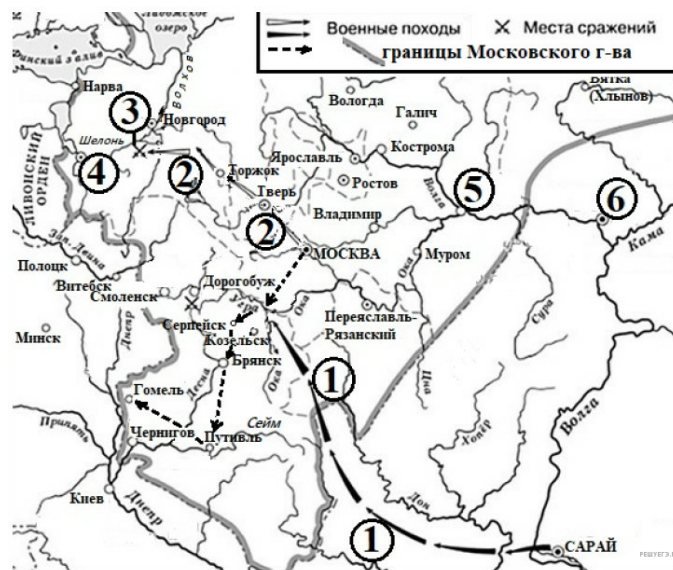
85. Назовите российского государя, при котором были присоединены территории, обозначенные на схеме цифрой «1». (В ответе запишите имя и порядковый номер (словом) или имя и прозвание).

Рассмотрите схему и выполните задания 9–12.



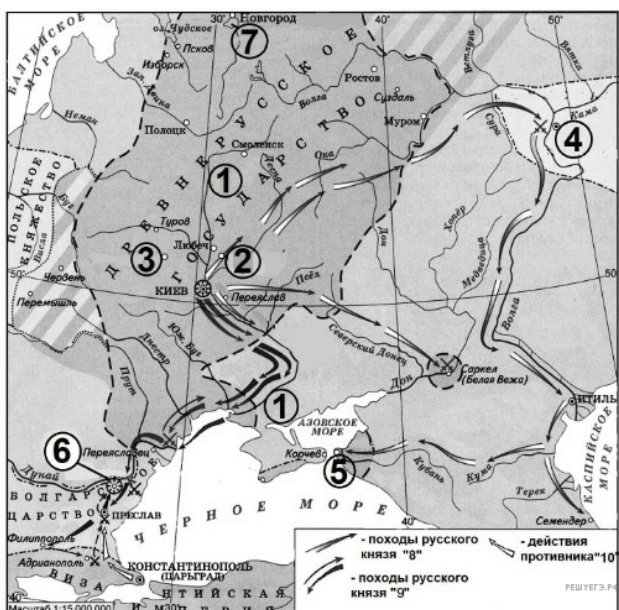
86. Назовите русского государя, к концу правления которого сложились обозначенные на схеме границы. (В ответе укажите имя и порядковый номер прописью).

Рассмотрите схему и выполните задание.



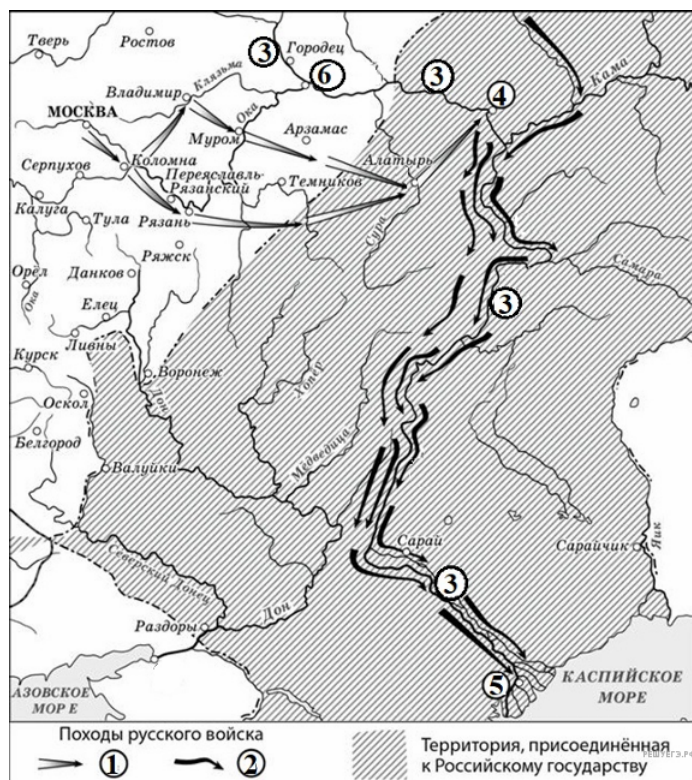
87. Укажите московского государя, в правление которого были совершены обозначенные на схеме стрелками походы.

Рассмотрите схему и выполните задания 9–12.



90. Укажите век, к которому относятся отображённые на схеме стрелками боевые действия. Ответ запишите словом.

Рассмотрите схему и выполните задания 9–12.



91. Укажите век, в который произошли обозначенные на схеме походы. Ответ запишите словом.

Рассмотрите схему и выполните задания 9–12.



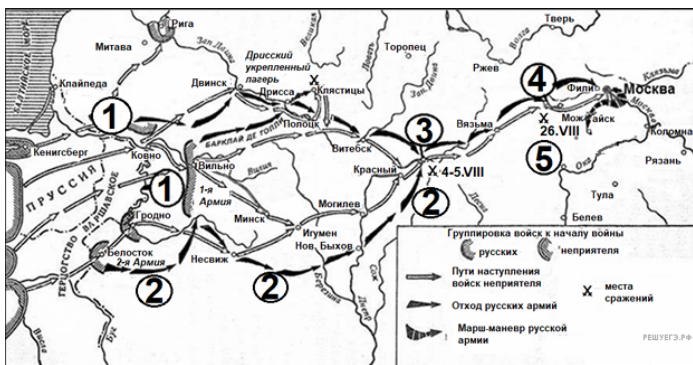
92. Укажите московского государя, при котором сложились границы Русского государства, обозначенные на схеме.

Рассмотрите схему и выполните задания 9–12.



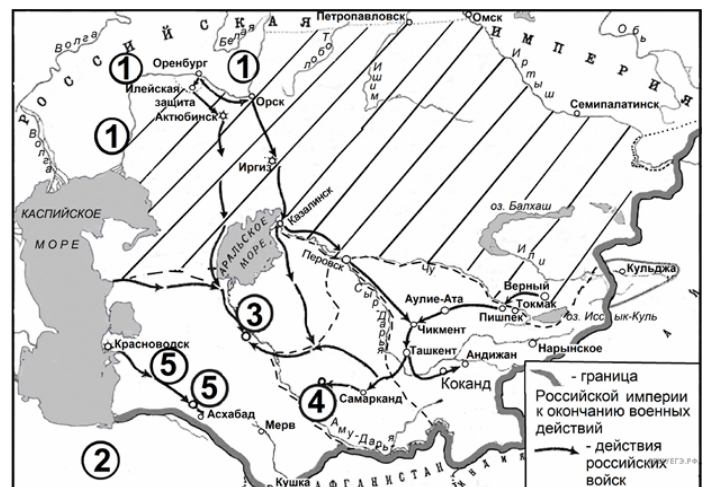
93. Укажите словом десятилетие XVIII века, когда началась война, события которой представлены на схеме. Ответ запишите словом.

Рассмотрите схему и выполните задания 9–12.



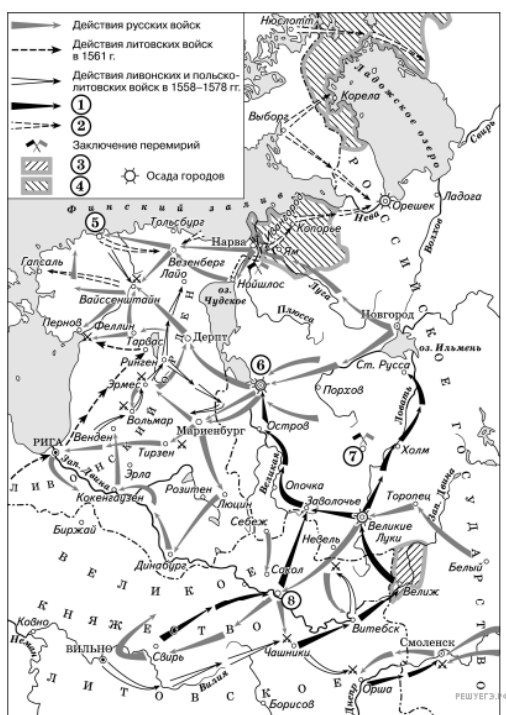
94. Заполните пропуск в предложении: «Военные действия, обозначенные на схеме, происходили в тысяча восемьсот _____ году». Ответ запишите словом (словосочетанием).

Рассмотрите схему и выполните задания 9–12.



95. Назовите российского государя, в царствование которого сложились обозначенные в легенде схемы границы Российской империи.

Рассмотрите схему и выполните задания 9–12.



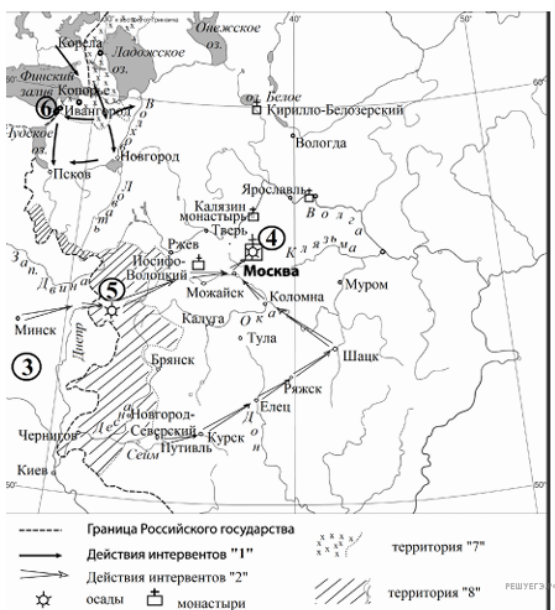
96. Укажите правителя российского государства в период, когда произошла война, события которой отражены на схеме.

Рассмотрите схему и выполните задания 9–12.



97. Укажите правителя России в период, когда произошли события, обозначенные на схеме стрелками.

Рассмотрите схему и выполните задания 9–12.



98. Напишите название периода отечественной истории, к которому относятся обозначенные на схеме события.

Рассмотрите схему и выполните задания 9–12.



99. Напишите название государства, территория которого обозначена в легенде схемы цифрой «1».

Рассмотрите схему и выполните задания 9–12.



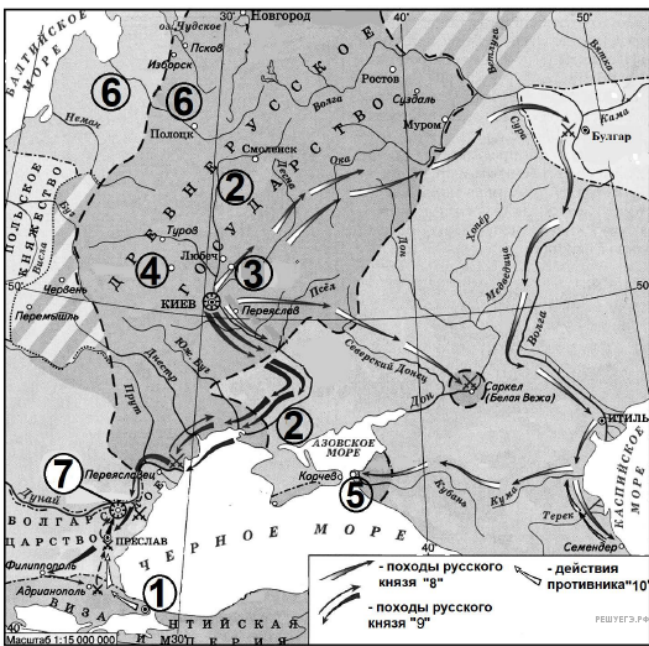
100. Укажите век, к которому относятся военные действия, обозначенные на схеме. Ответ запишите словом.

Рассмотрите схему и выполните задания 9–12.



101. Назовите российского государя, правившего во время событий, обозначенных на схеме.

Рассмотрите схему и выполните задания 9–12.

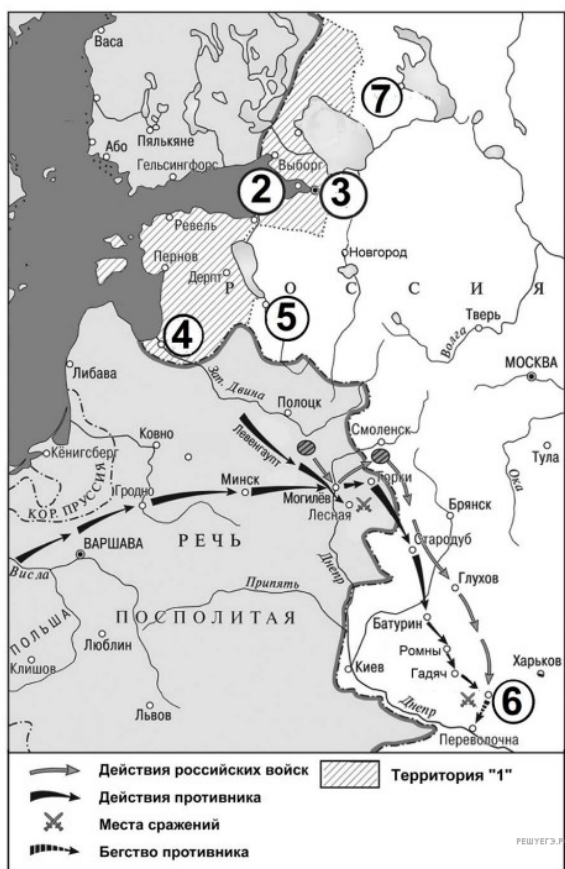


102. Укажите название города, обозначенного на схеме цифрой «1», в период, к которому относятся отражённые на схеме события.

Рассмотрите схему и выполните задания 9–12.



103. Назовите князя, завоевательный поход которого обозначен на схеме стрелками.



105. Укажите название войны, события которой обозначены на схеме.