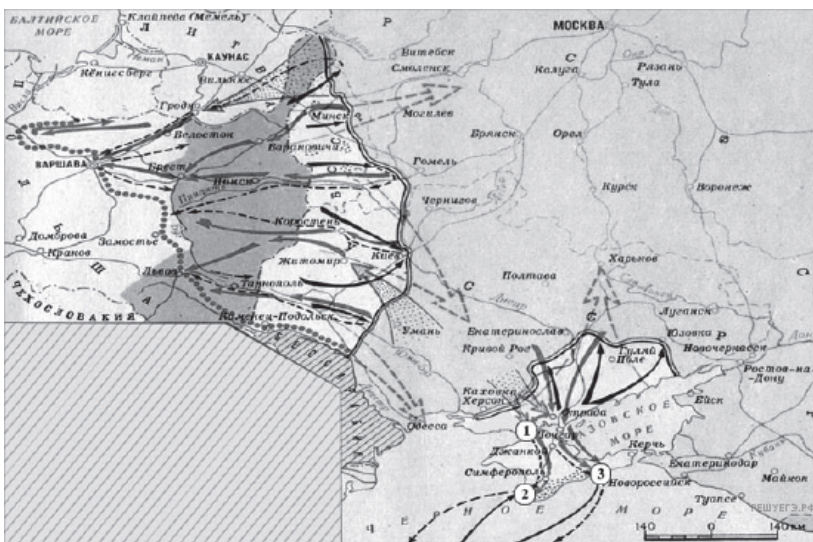


Рассмотрите схему и выполните задание.



1. Напишите название военного плана, изображённого на карте.

Рассмотрите схему и выполните задание.



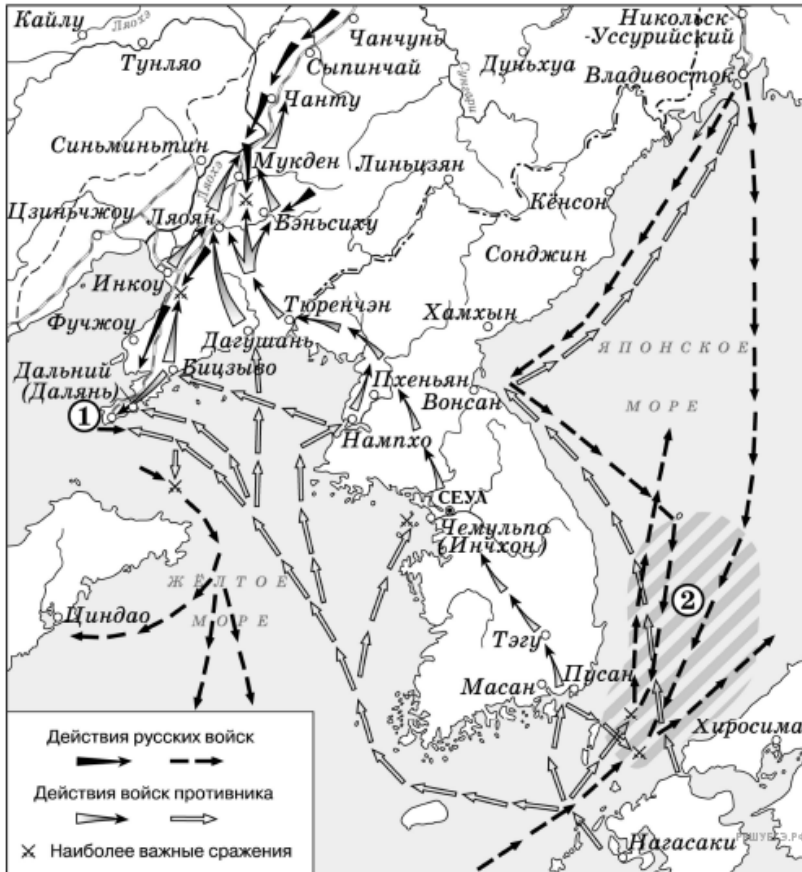
2. Напишите название периода отечественной истории, события которого изображены на карте.

Рассмотрите схему и выполните задание.



3. Укажите название военно-политического блока, в который в середине 1960-х гг. входили страны, заштрихованные на схеме.

Рассмотрите схему и выполните задание.



4. Назовите имя российского императора, в годы правления которого произошли события, обозначенные на схеме.

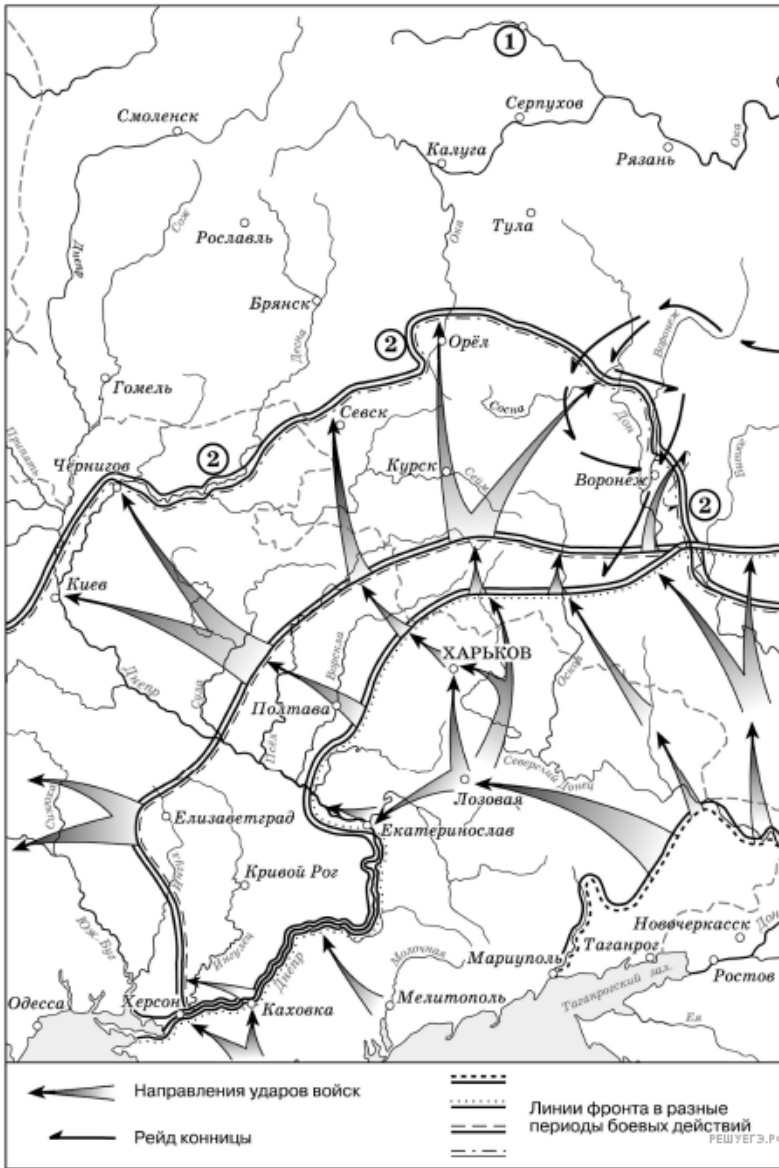
Рассмотрите схему и выполните задание.



5. Рассмотрите схему событий одного из периодов Великой Отечественной войны и выполните задание

Укажите название города, обозначенного на схеме цифрой 1.

Рассмотрите схему и выполните задание.



6. Рассмотрите схему действий белогвардейцев в ходе одного из периодов Гражданской войны в России и выполните задание.

Укажите фамилию главнокомандующего белогвардейскими войсками, достигшими линии, обозначенной на схеме цифрой 2.

Рассмотрите схему и выполните задание.



7. Рассмотрите схему событий одного из периодов Великой Отечественной войны и выполните задание

Продолжите фразу: «События, обозначенные на схеме стрелками, начались в тысяча девятьсот _____ году».

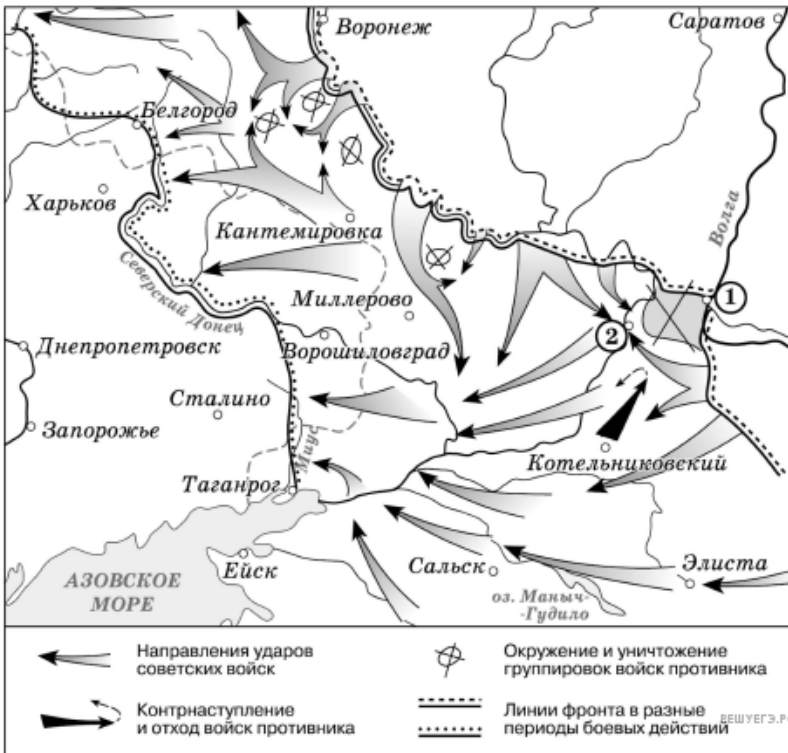
Рассмотрите схему и выполните задание.



8. Рассмотрите схему событий одного из периодов Великой Отечественной войны и выполните задание.

Продолжите фразу: «События, обозначенные на схеме стрелками, начались в тысяча девятьсот _____ году».

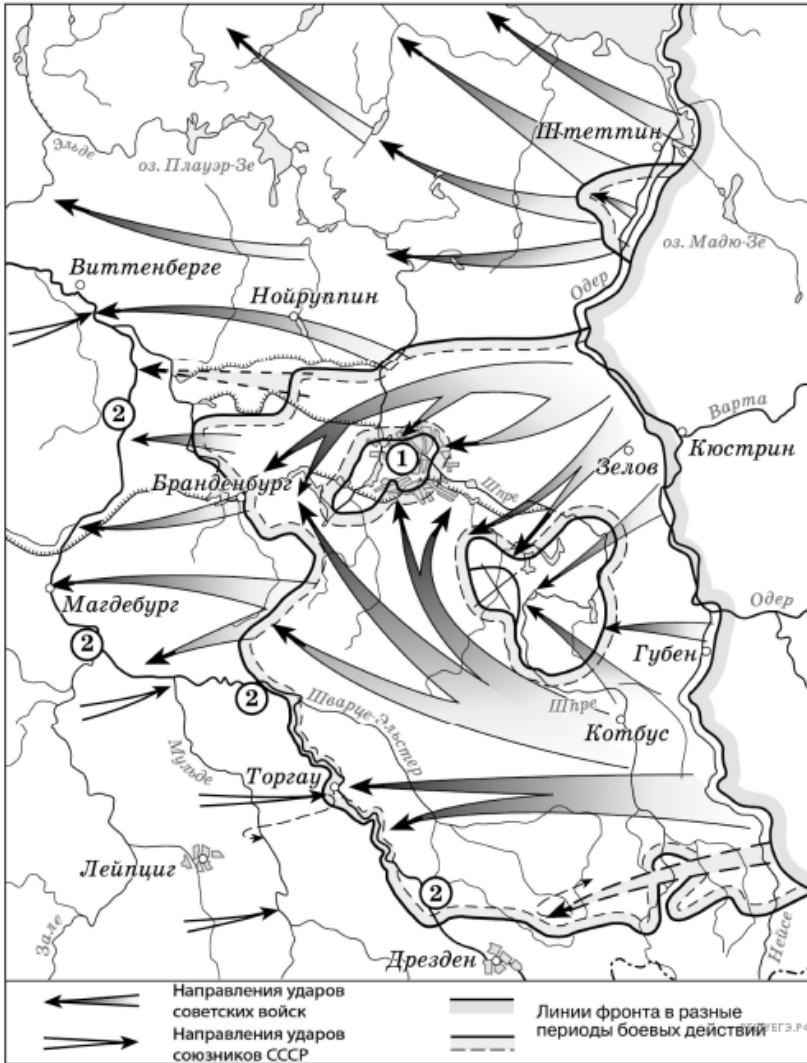
Рассмотрите схему и выполните задание.



9. Рассмотрите схему событий одного из периодов Великой Отечественной войны и выполните задание.

Укажите название города на момент изображенных на схеме событий, который обозначен на схеме цифрой 1.

Рассмотрите схему и выполните задание.



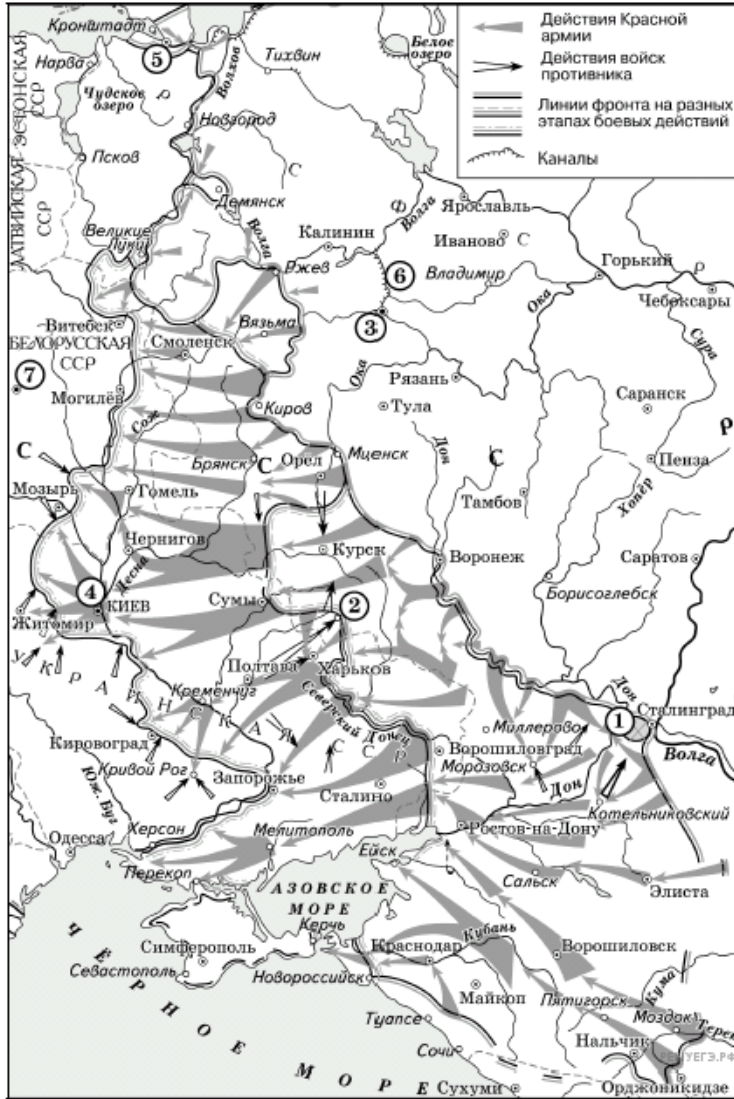
10. Назовите месяц 1945 г., когда начались боевые действия, обозначенные на карте стрелками.

Рассмотрите схему и выполните задание.



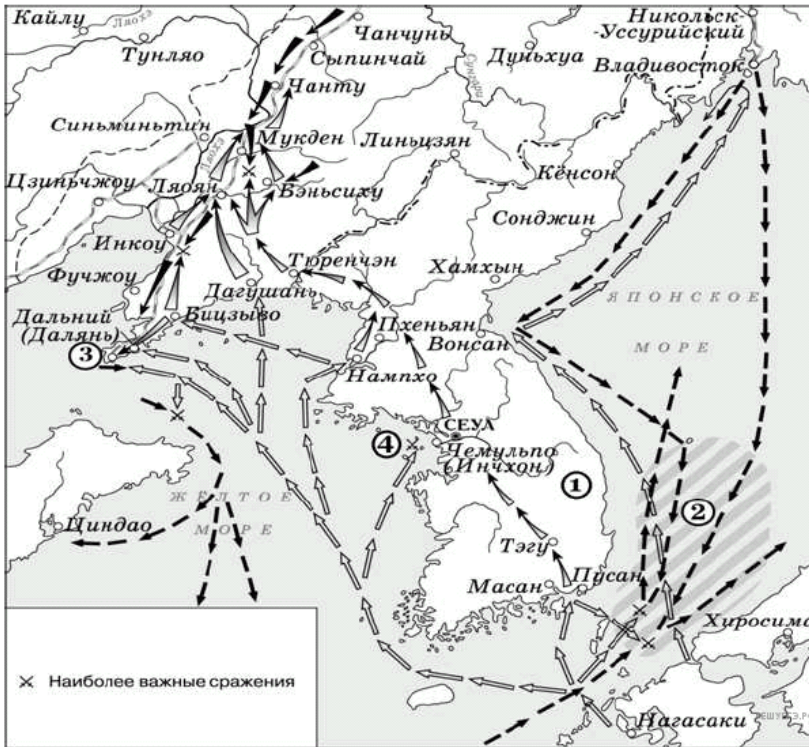
11. Укажите аббревиатуру, обозначающую название военной организации (военного блока), противостоявшей военно-политическому блоку, включавшему страны, заштрихованные на схеме.

Рассмотрите схему и выполните задание.



12. Заполните пропуск в предложении: «Город, обозначенный на схеме цифрой 7, был освобождён от фашистов в тысяча девятьсот _____ г.». Ответ запишите словом (словосочетанием).

Рассмотрите схему и выполните задание.



13. Назовите российского императора, в период правления которого произошли события, обозначенные на схеме.

Рассмотрите схему и выполните задание.



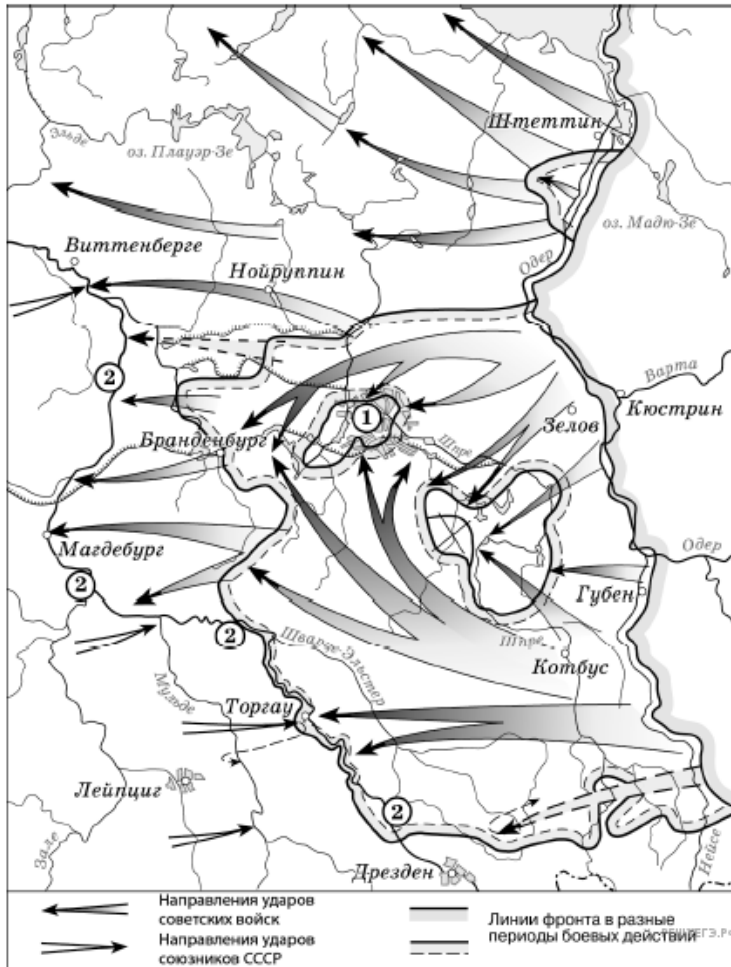
14. Напишите название города, обозначенного на схеме цифрой 1.

Рассмотрите схему и выполните задание.



15. Заполните пропуск. «На карте изображены события _____ битвы». Ответ укажите одним словом.

Рассмотрите схему и выполните задание.



16. Заполните пропуск в предложении: «События, обозначенные на схеме, произошли в тысяча девятьсот _____ году». Ответ запишите словом (словами).

Рассмотрите схему и выполните задание.



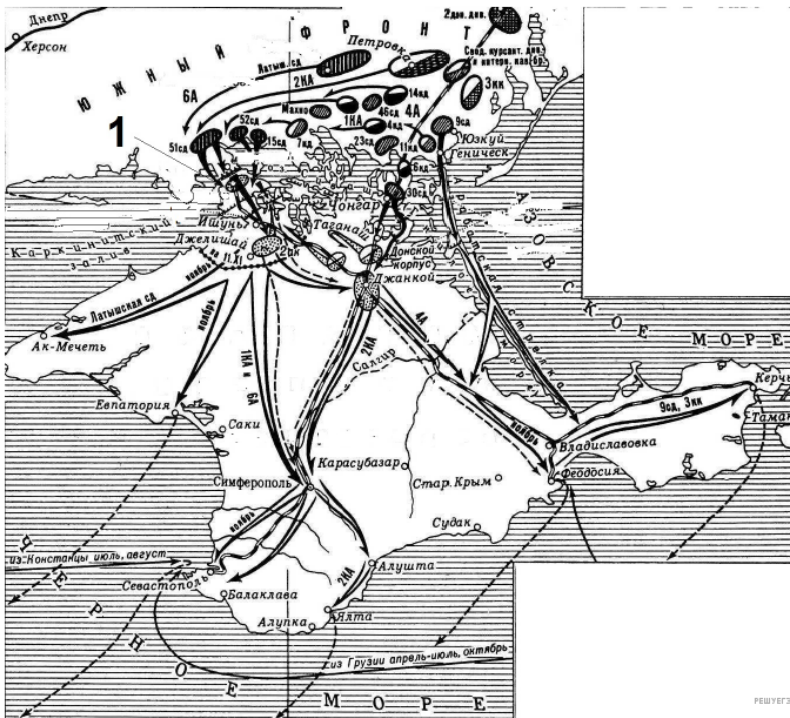
17. Укажите месяц, когда начались события, обозначенные на схеме стрелками.

Рассмотрите схему и выполните задание.



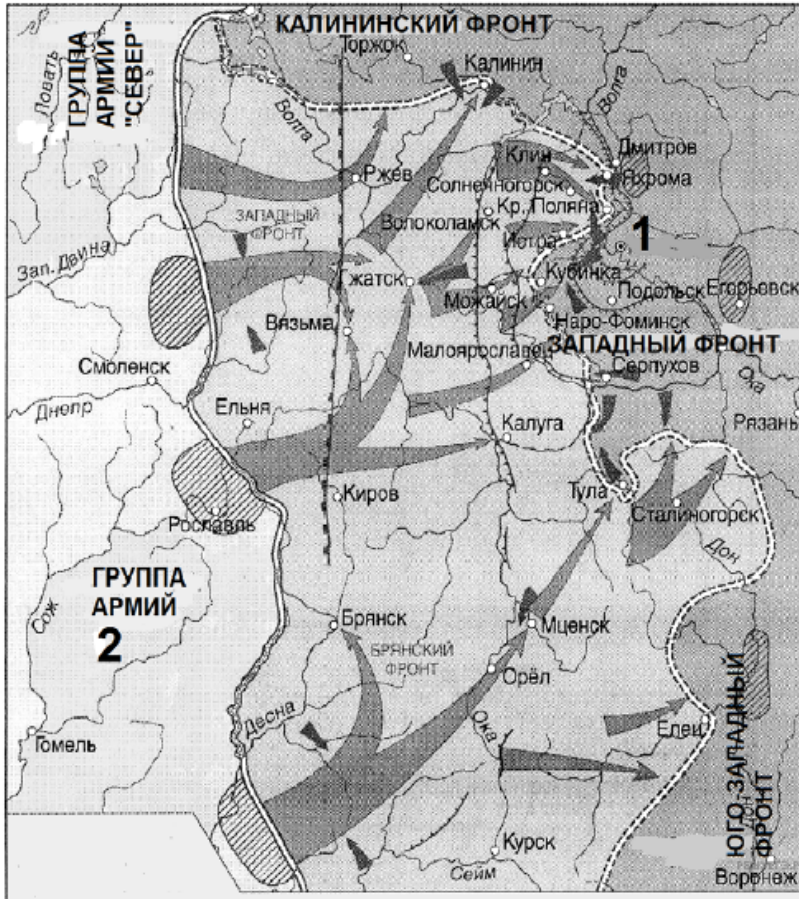
18. Напишите название города, обозначенного на схеме цифрой 1.

Рассмотрите схему и выполните задание.



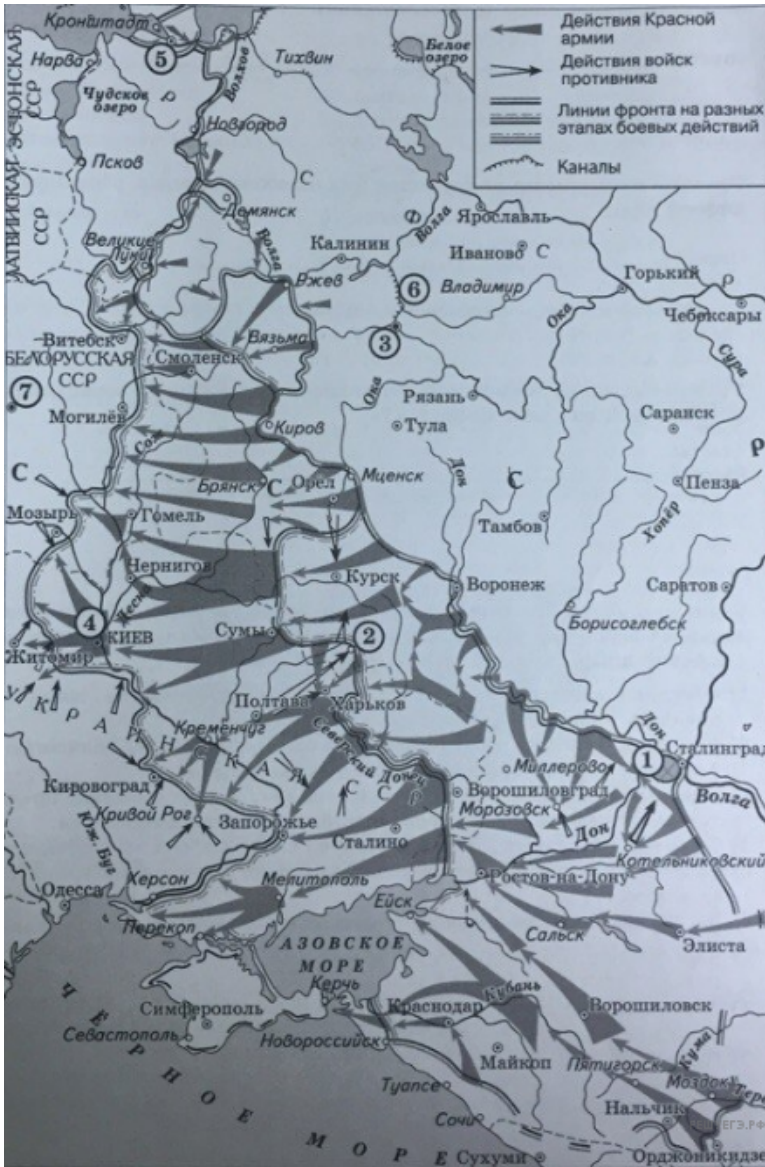
19. Напишите фамилию командующего Южным фронтом РККА в этом сражении Гражданской войны.

Рассмотрите схему и выполните задание.



20. Напишите название города, обозначенного на схеме цифрой 1.

Рассмотрите схему и выполните задание.



21.

Заполните пропуск в предложении: «Город, обозначенный на схеме цифрой 7, был освобождён от фашистов в тысяча девятьсот ____ году». Ответ запишите в виде слова (словосочетания).

Рассмотрите схему и выполните задание.



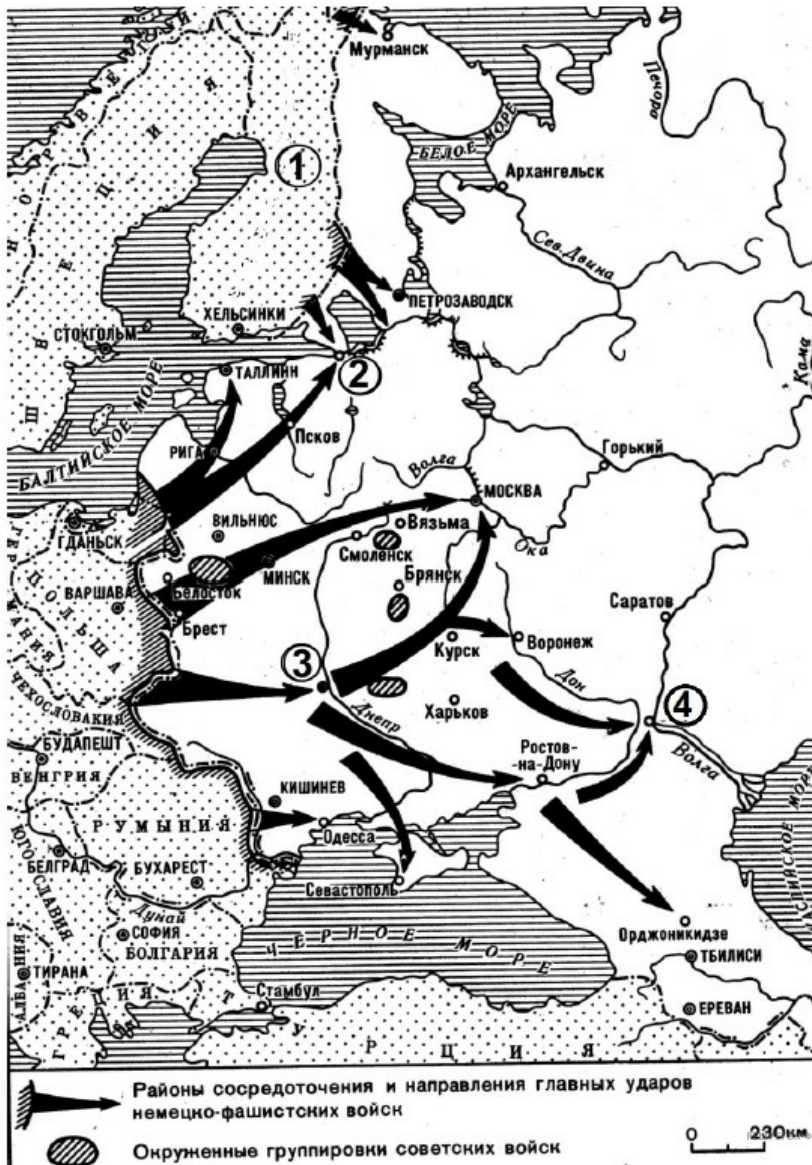
22. Заполните пропуск в предложении: «События, обозначенные на схеме, произошли в тысяча девятьсот _____ году». Ответ запишите словом (сочетанием слов).

Рассмотрите схему и выполните задание.



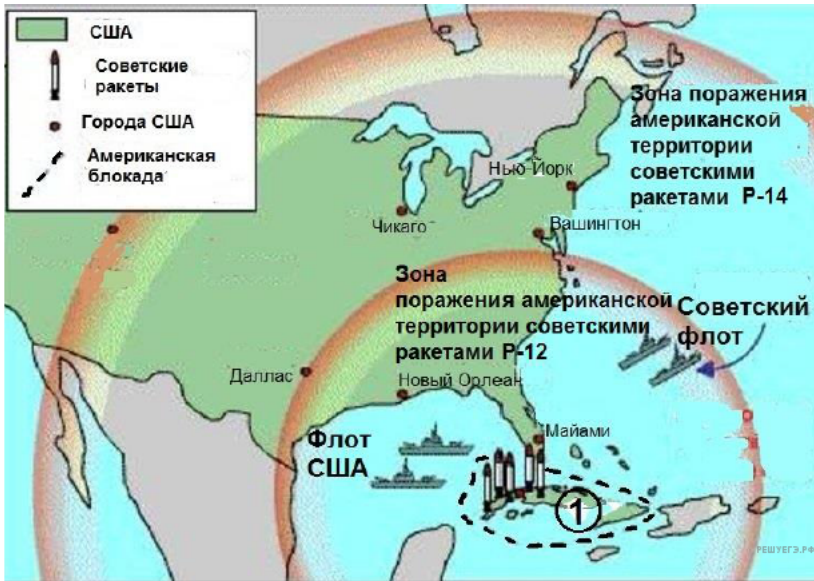
23. Напишите название битвы, события которой обозначены на схеме.

Рассмотрите схему и выполните задание.



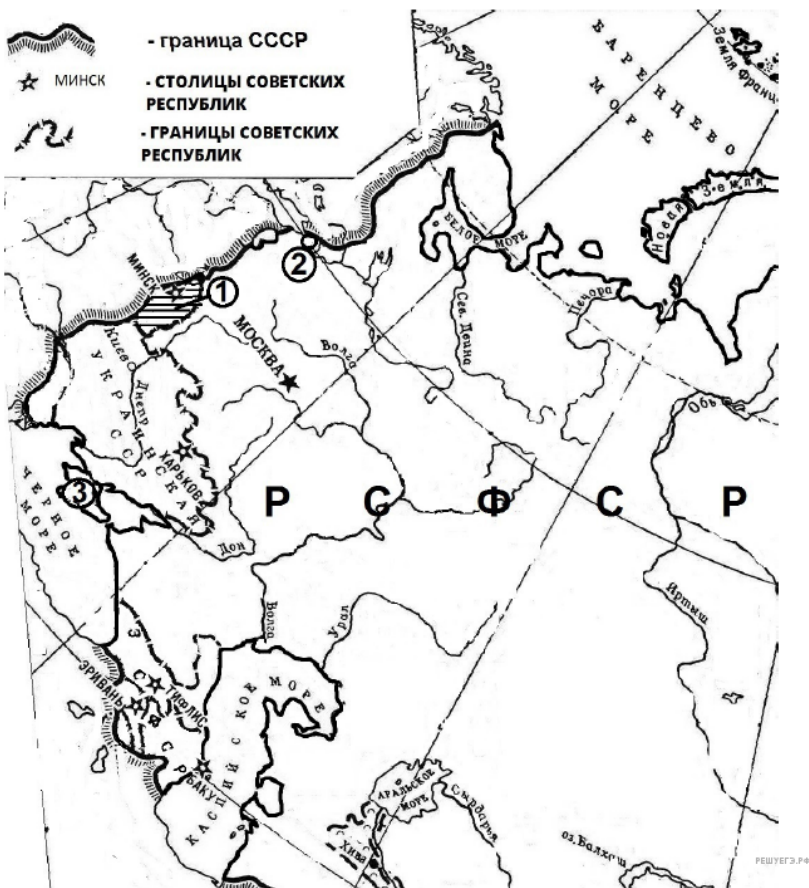
24. Укажите название плана нападения на СССР, события, связанные с реализацией которого, обозначены на схеме.

Рассмотрите схему и выполните задание.



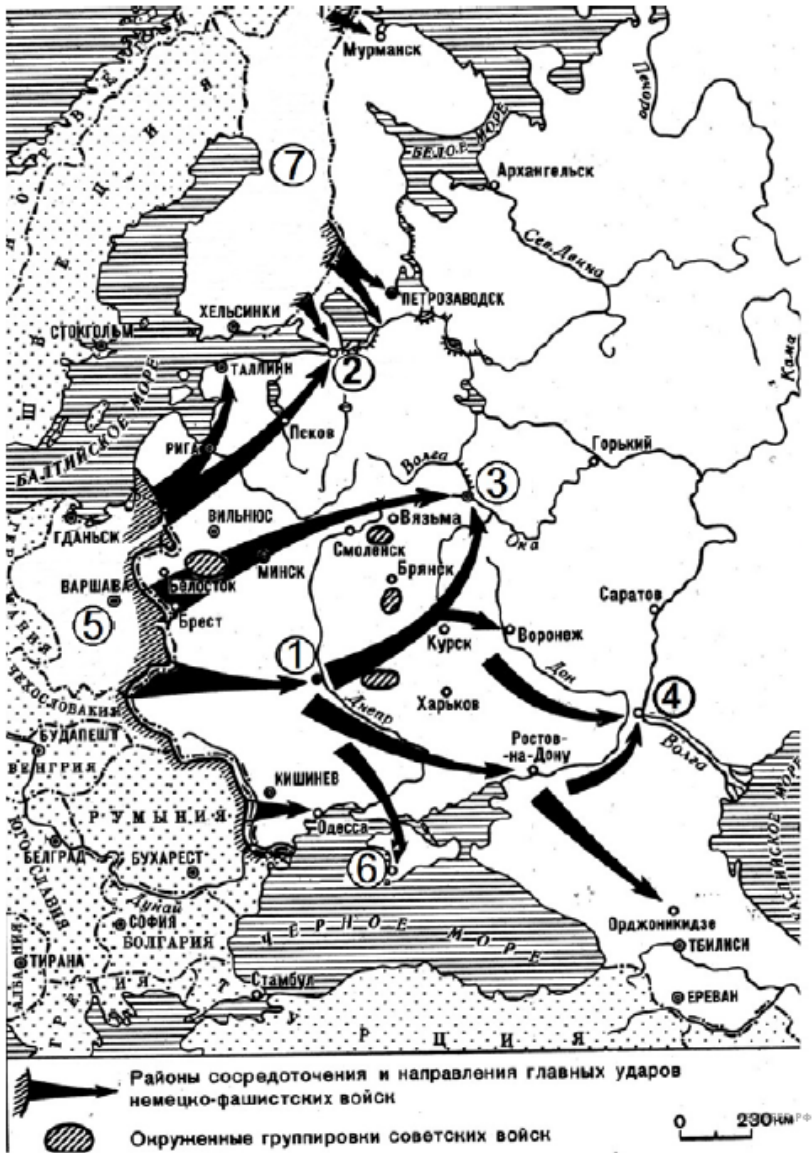
25. Укажите десятилетие XX века, к которому относятся указанные на карте события. Ответ запишите словом.

Рассмотрите схему и выполните задание.



26. Напишите фамилию первого председателя правительства союзного государства, границы и состав которого обозначены на схеме.

Рассмотрите схему и выполните задание.



27. Название плана, который был разработан для начала наступления, события которого обозначены на схеме.

Рассмотрите схему и выполните задание.

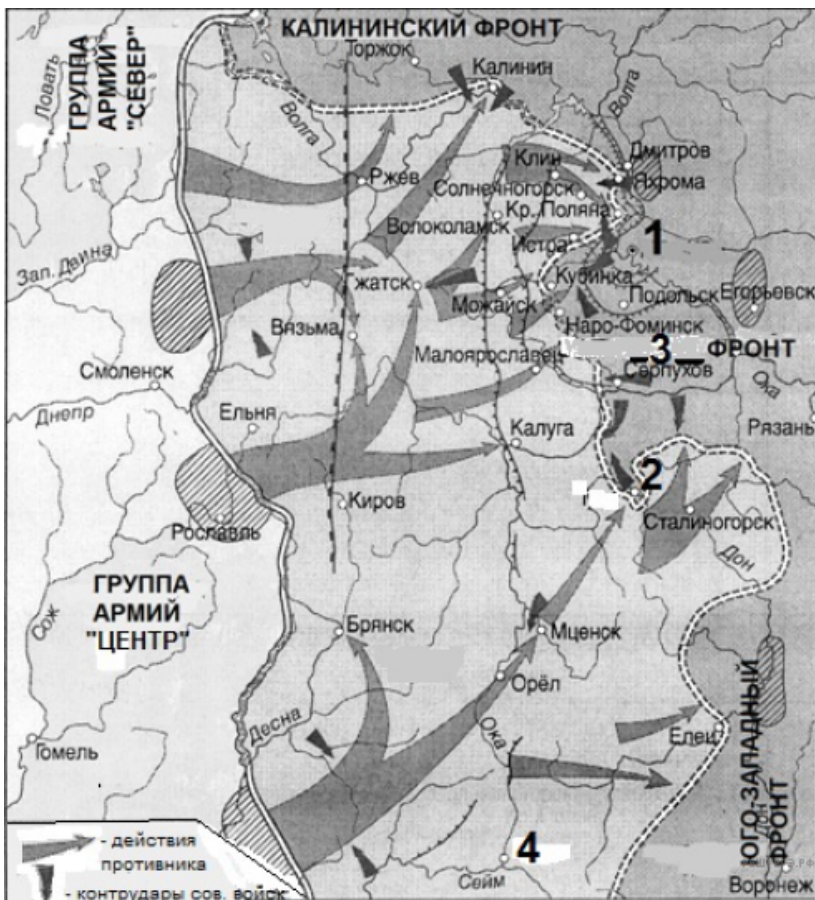


➔➔➔ Направления ударов советских войск

РЕШУ ЕГЭ.РФ

28. Напишите фамилию исторического деятеля, к периоду руководства которого Советским государством относятся события, обозначенные на схеме.

Рассмотрите схему и выполните задание.



29. Напишите название советского фронта, заменённое на схеме цифрой 3.

Рассмотрите схему и выполните задание.



30. Назовите страну, против которой были направлены указанные на схеме военные действия СССР.

Рассмотрите схему и выполните задание.



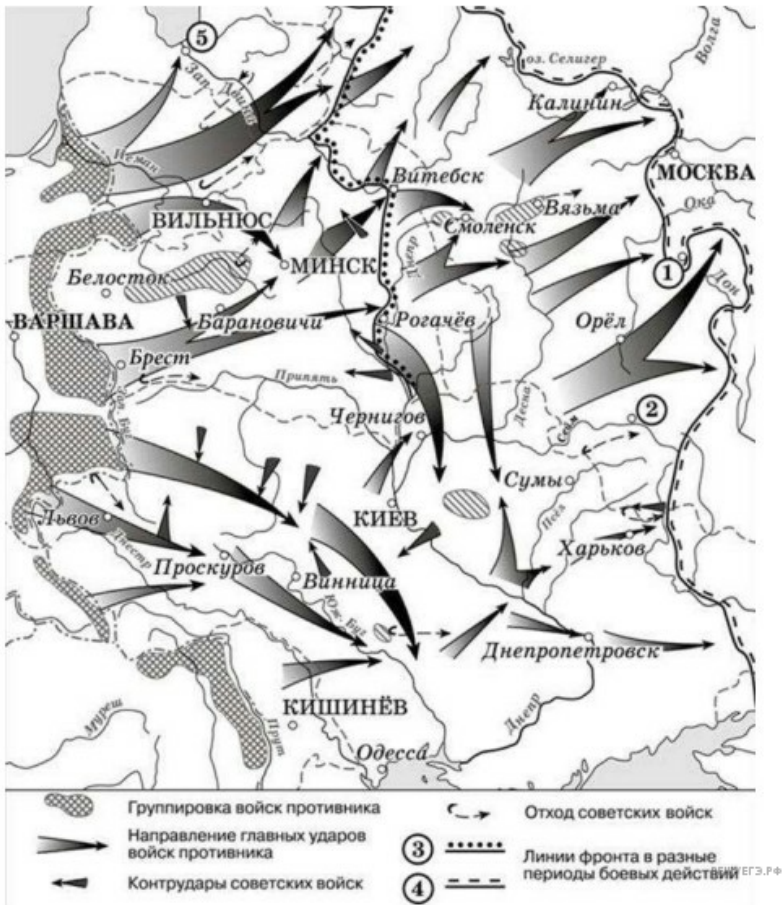
31. Укажите месяц, в который началось контрнаступление Красной армии от линии фронта, обозначенной в легенде схемы цифрой 2.

Рассмотрите схему и выполните задание.



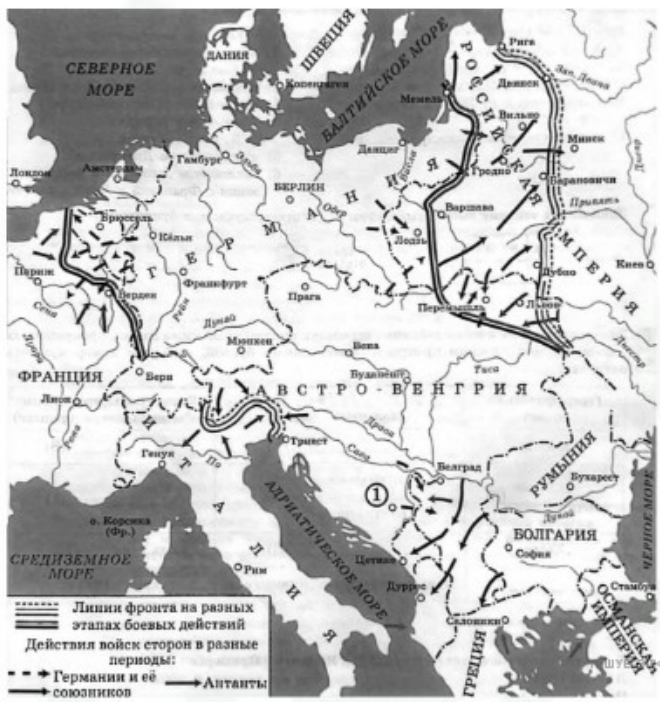
32. Укажите название города, отмеченного под цифрой «6».

Рассмотрите схему и выполните задание.



33. Заполните пропуск в предложении: «События, которым посвящена схема, происходили в тысяча девятьсот _____ году».

Рассмотрите схему и выполните задание.



34. Назовите город, где произошло событие, ставшее поводом к этой войне.

Рассмотрите схему и выполните задания 9–12.



35. Заполните пропуск в предложении: «События, обозначенные на схеме стрелками, произошли в тысяча девятьсот _____ году». Ответ запишите словом (сочетанием слов).

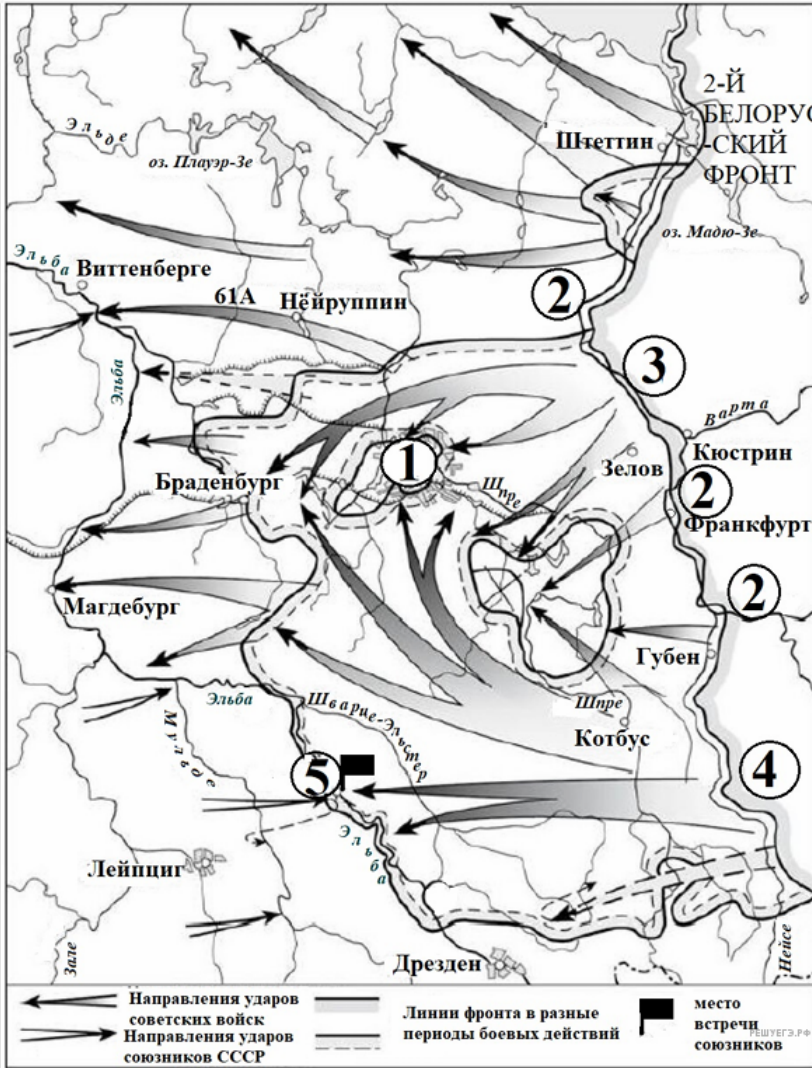
Рассмотрите схему и выполните задания 9–12



..... Расположение фронтов. КМГ – конно-механизированная группа
 ☒ Десантные операции советских войск

36. Заполните пропуск в предложении: «Военные действия, обозначенные на схеме, происходили в тысяча девятьсот _____ году».

Рассмотрите схему и выполните задания 9–12



37. Укажите месяц начала битвы, события которой обозначены на схеме.