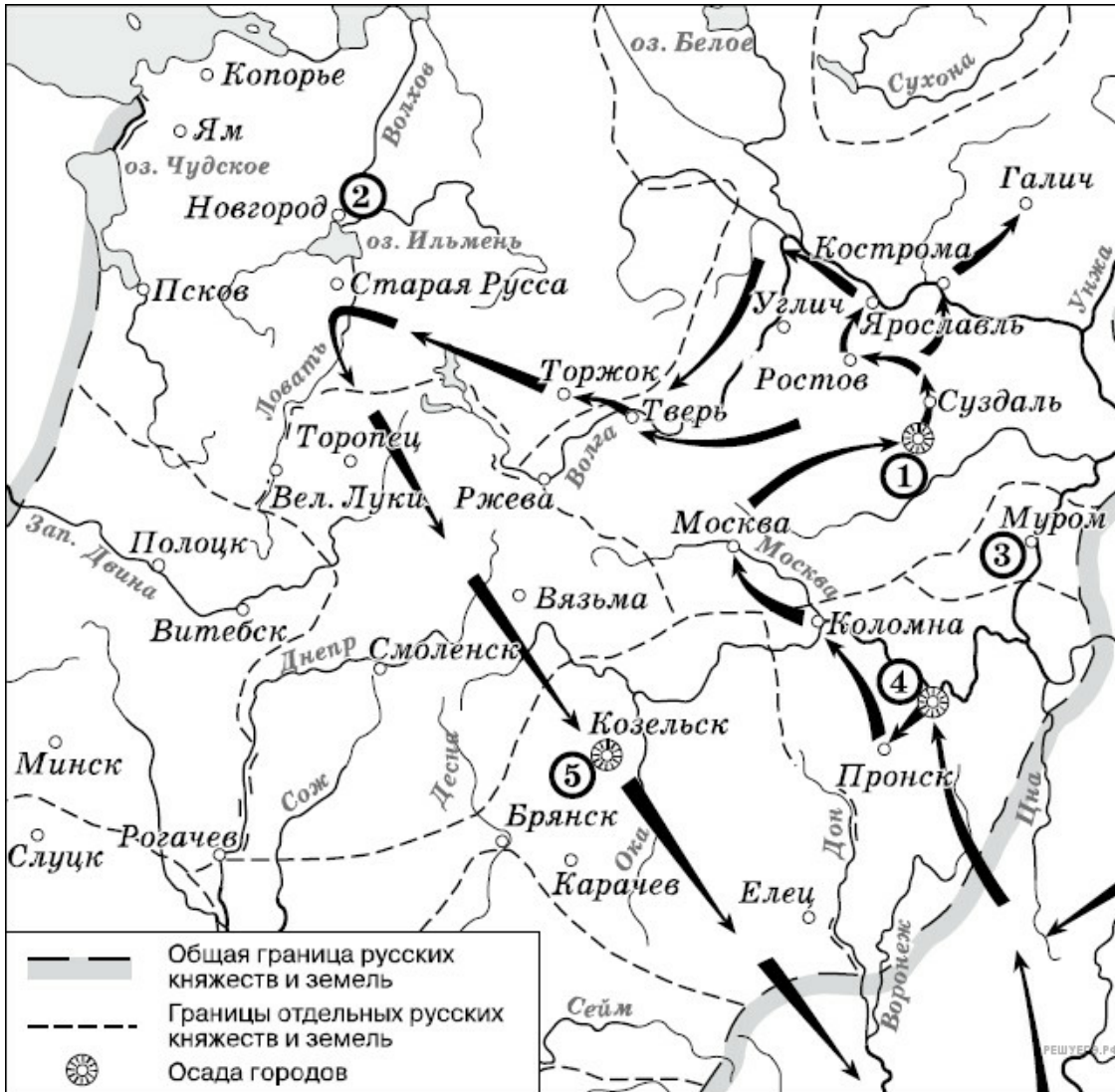
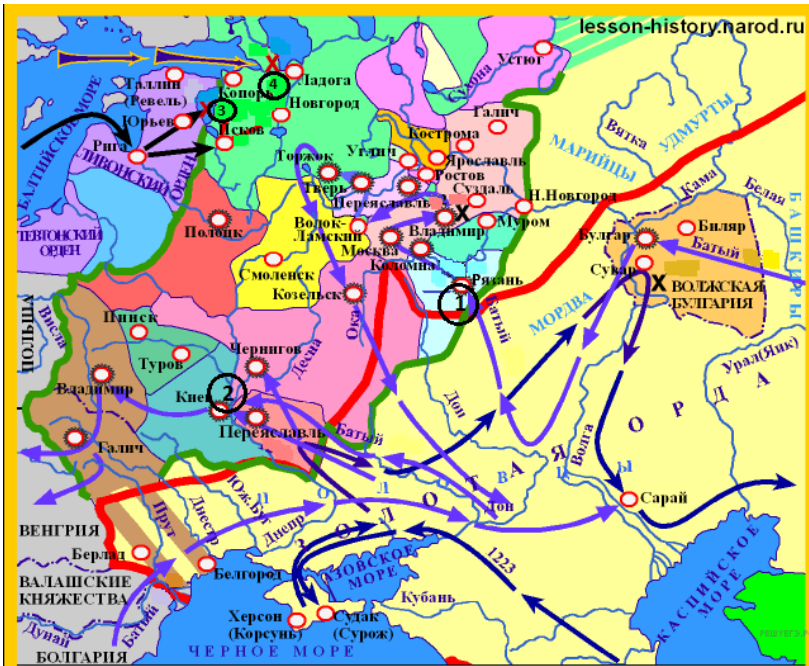


1. Рассмотрите схему и выполните задание



Напишите цифру, которой обозначена столица земли, где в период данного похода существовала республиканская форма правления.

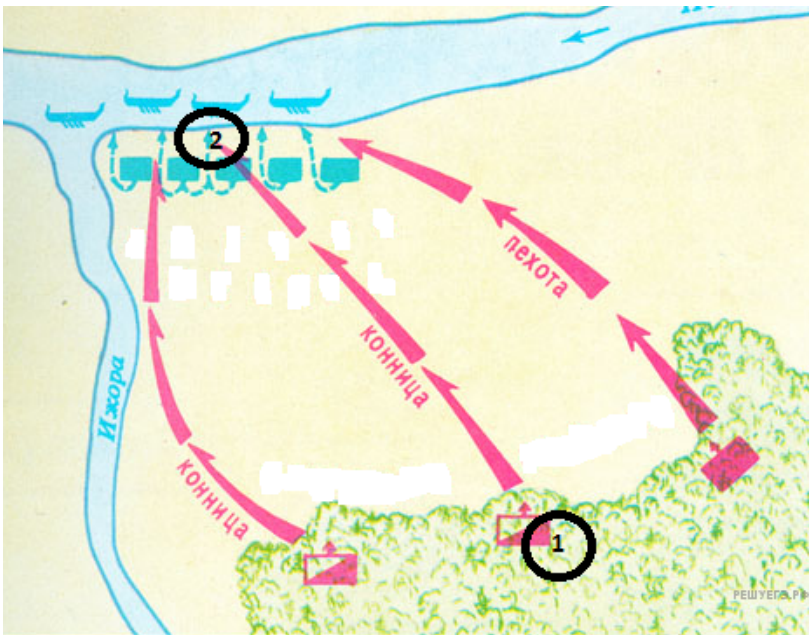
Рассмотрите схему и выполните задание.



2. Рассмотрите схему и выполните задание.

Напишите название реки, на которой в 1223 г. произошла первая встреча русских войск с отрядами монголо-татар.

Рассмотрите схему и выполните задание.



3. Рассмотрите схему и выполните задание.

Назовите имя полководца, командовавшего войском, отмеченном на схеме цифрой «2».

Рассмотрите схему и выполните задание.



4. Рассмотрите схему и выполните задание.

Назовите имя князя командовавшего действиями Засадного полка во время битвы. В ответе укажите только имя.

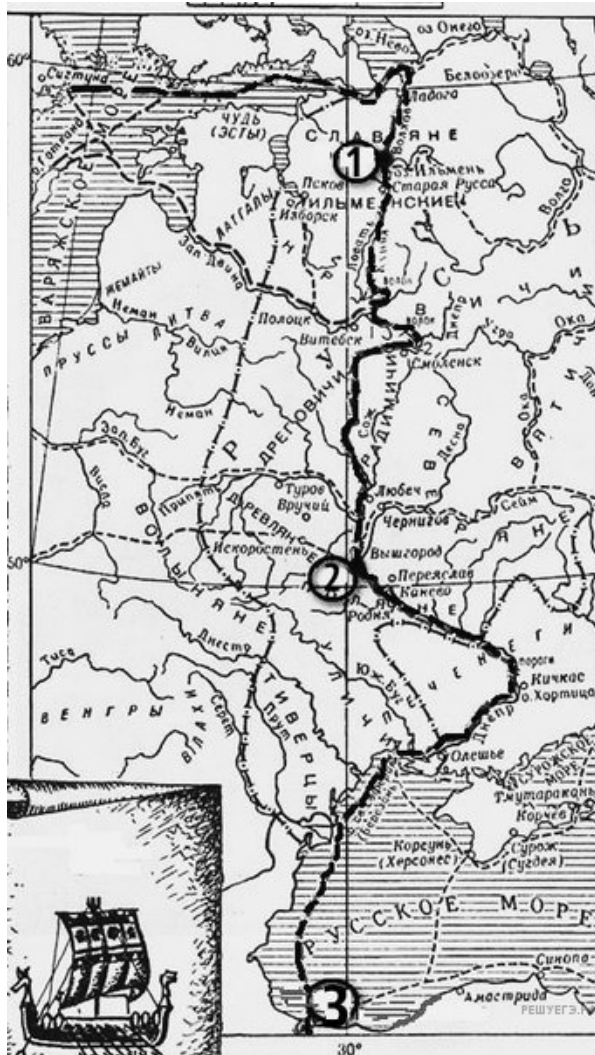
Рассмотрите схему и выполните задание.



5. Рассмотрите схему и выполните задание.

Напишите цифру, которая обозначает «неофициальную столицу» государства после отъезда царя из Москвы.

Рассмотрите схему и выполните задание.



6. Рассмотрите схему и выполните задание.

Напиши цифру, обозначающую город, который на Руси называли Царьград.

Рассмотрите схему и выполните задание.



7. Рассмотрите схему и выполните задание.

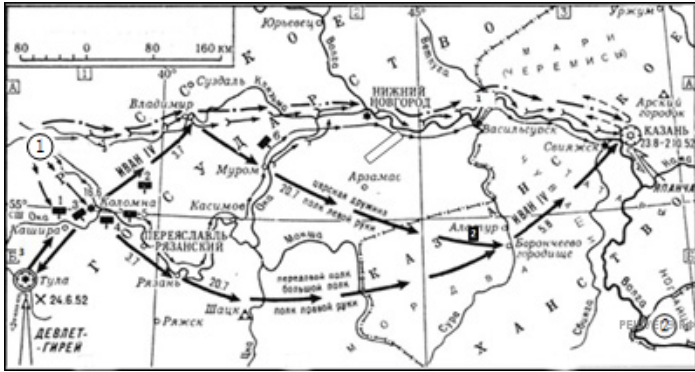
Напишите цифру, которой обозначено государство, созданное кочевым народом, в политической зависимости от которого находилась часть восточнославянских племенных союзов, но в ходе предпринятых киевским князем походов был нанесен сокрушительный удар: он захватил и разорил главные его города Итиль, Семендер, Самкерц (русс. Тмутаракань) и Саркел, основав на месте последнего крепость Белая Вежа.

8. Рассмотрите схему и выполните задание



Напишите цифру, которая обозначает «неофициальную столицу» государства после отъезда царя из Москвы.

Рассмотрите схему и выполните задание.



9. Рассмотрите схему и выполните задание.

Укажите название обозначенной цифрой 2 земли, где в период данного похода существовало кочевое государство, образовавшееся в результате распада Золотой Орды, фактически с 1557 г. добровольно вошедшего в сферу политического и экономического влияния Русского централизованного государства.

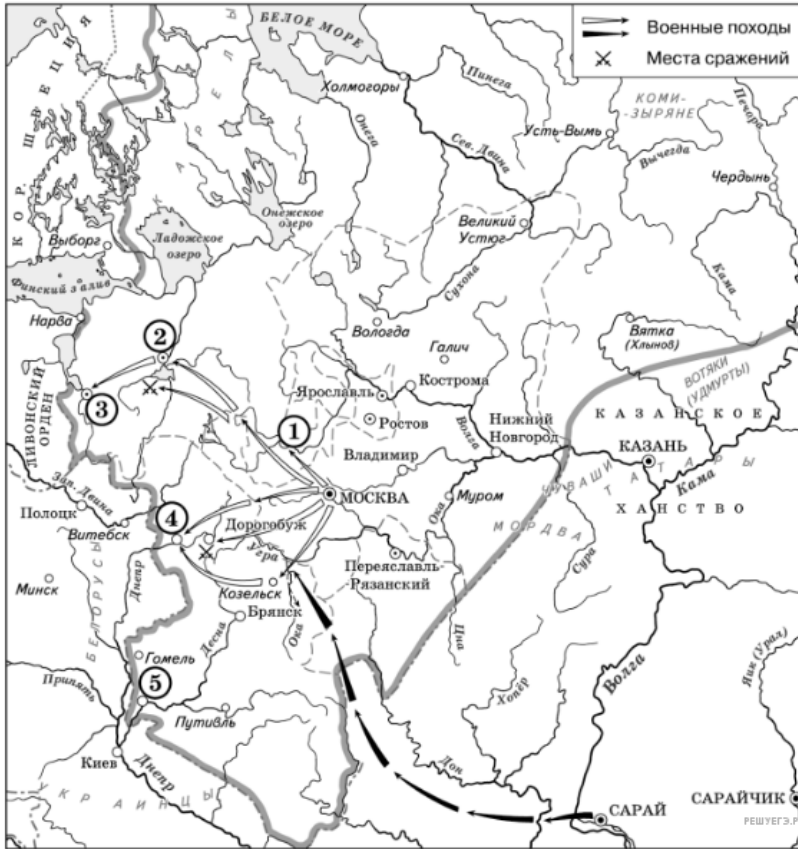
Рассмотрите схему и выполните задание.



10. Рассмотрите схему и выполните задания.

Напишите цифру, обозначающую княжество, в котором была сильная княжеская власть.

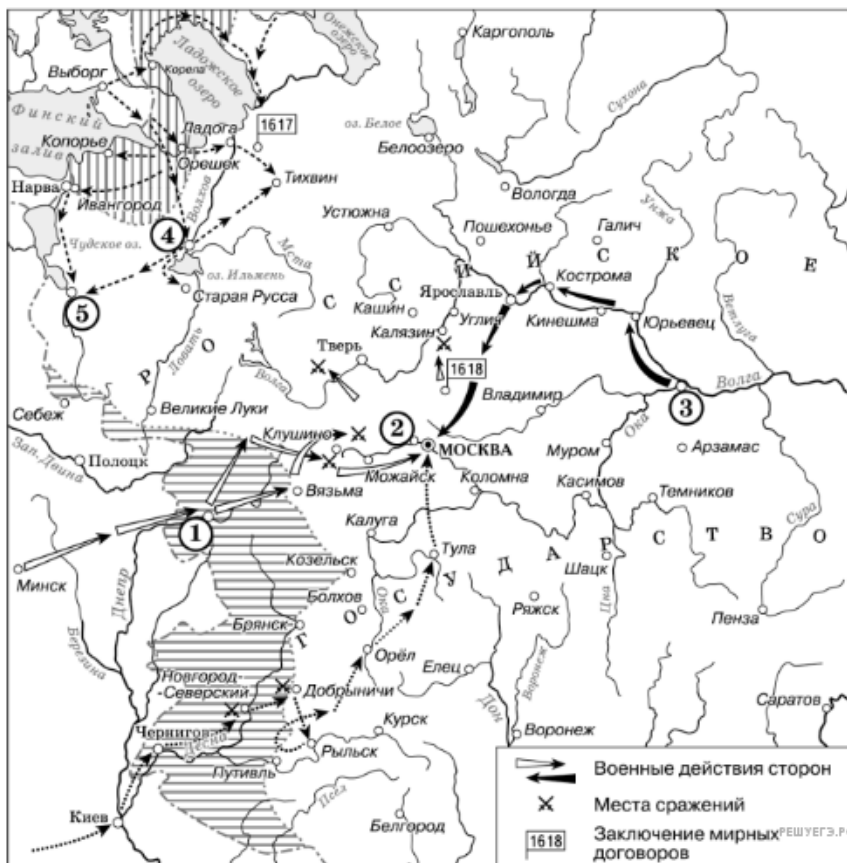
Рассмотрите схему и выполните задание.



11. Рассмотрите схему и выполните задания.

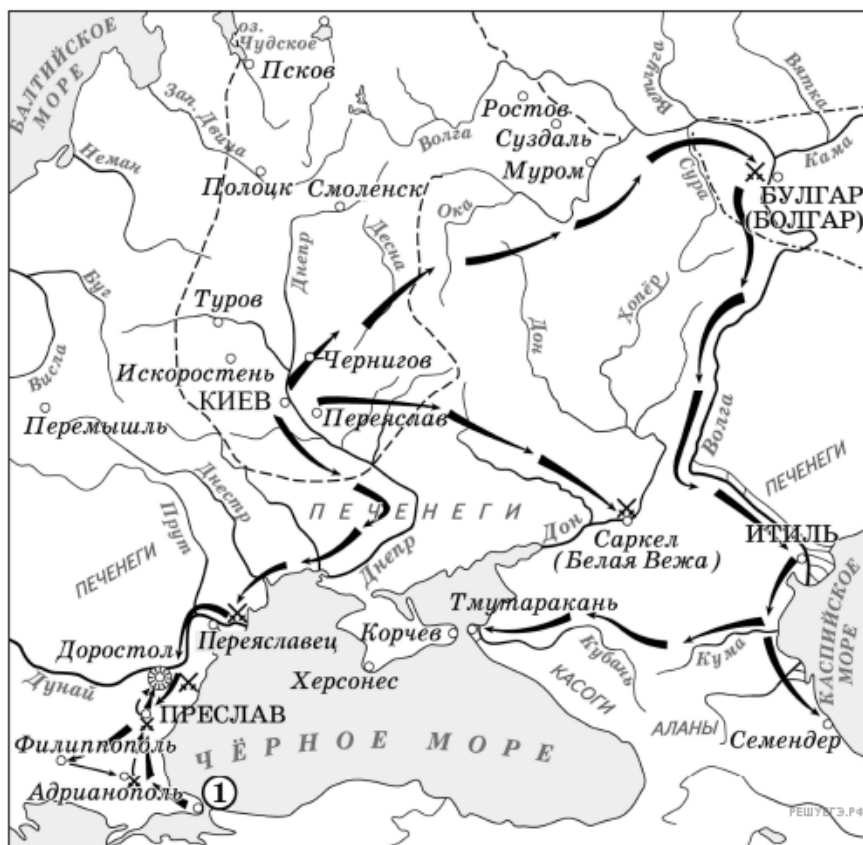
Назовите князя, при котором Русское государство достигло границ, обозначенных на схеме жирной чертой.

12. Рассмотрите схему и выполните задания



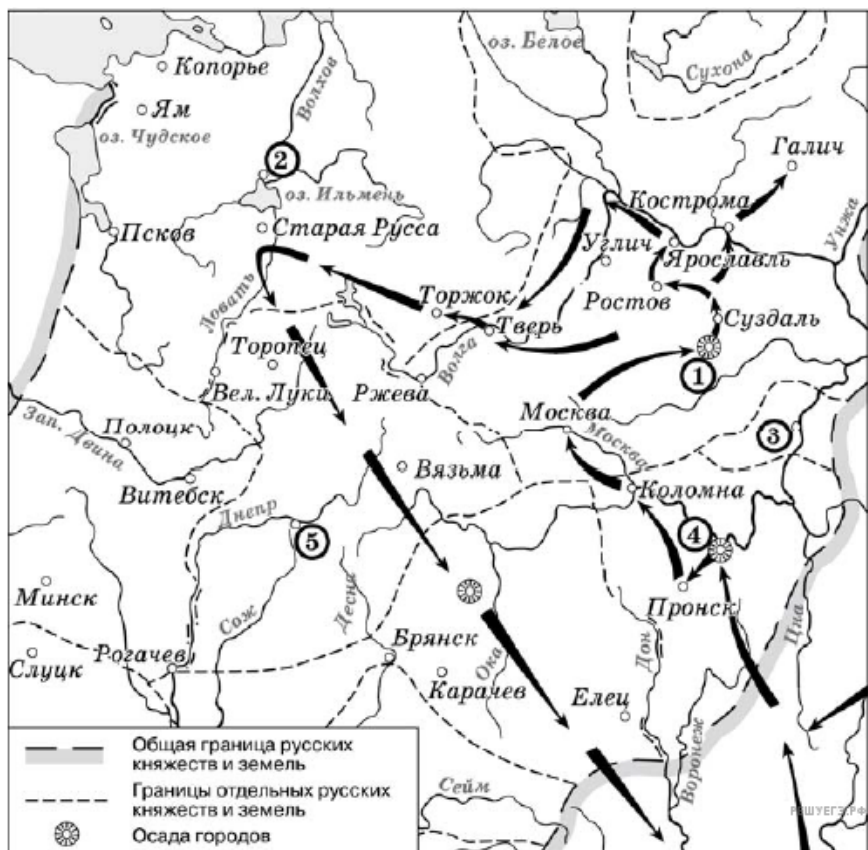
Напишите прозвище самозванца, которое он получил из-за того, что расположил свой лагерь в подмосковном селе, обозначенном цифрой «2».

13. Рассмотрите схему и выполните задание.



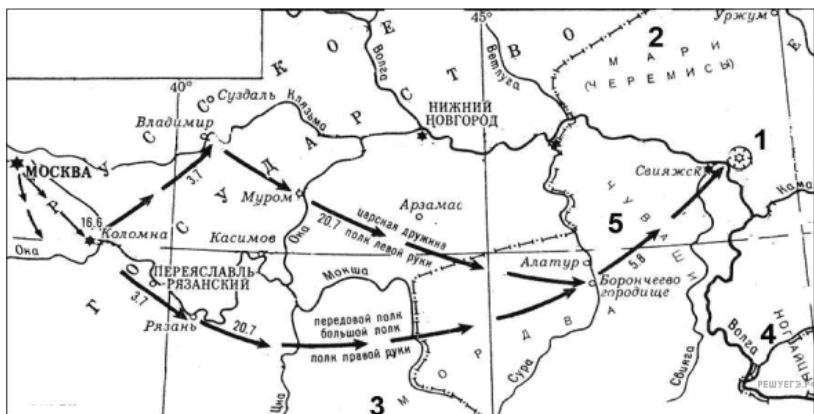
Укажите название столицы государства, обозначенной на схеме цифрой «1».

14. Рассмотрите схему и выполните задание



Укажите название города, обозначенного на карте цифрой, где в период данного похода существовала республиканская форма правления.

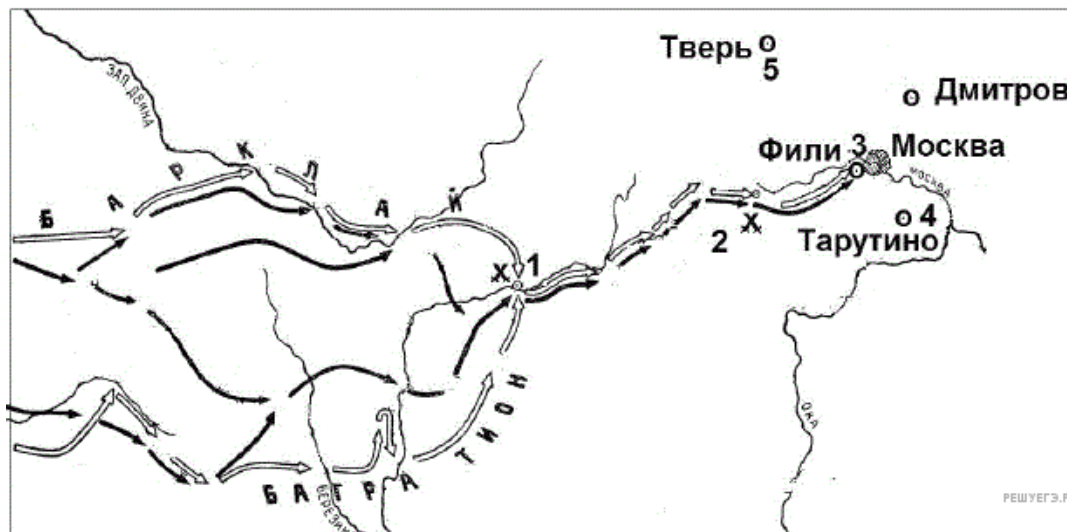
Рассмотрите схему и выполните задание.



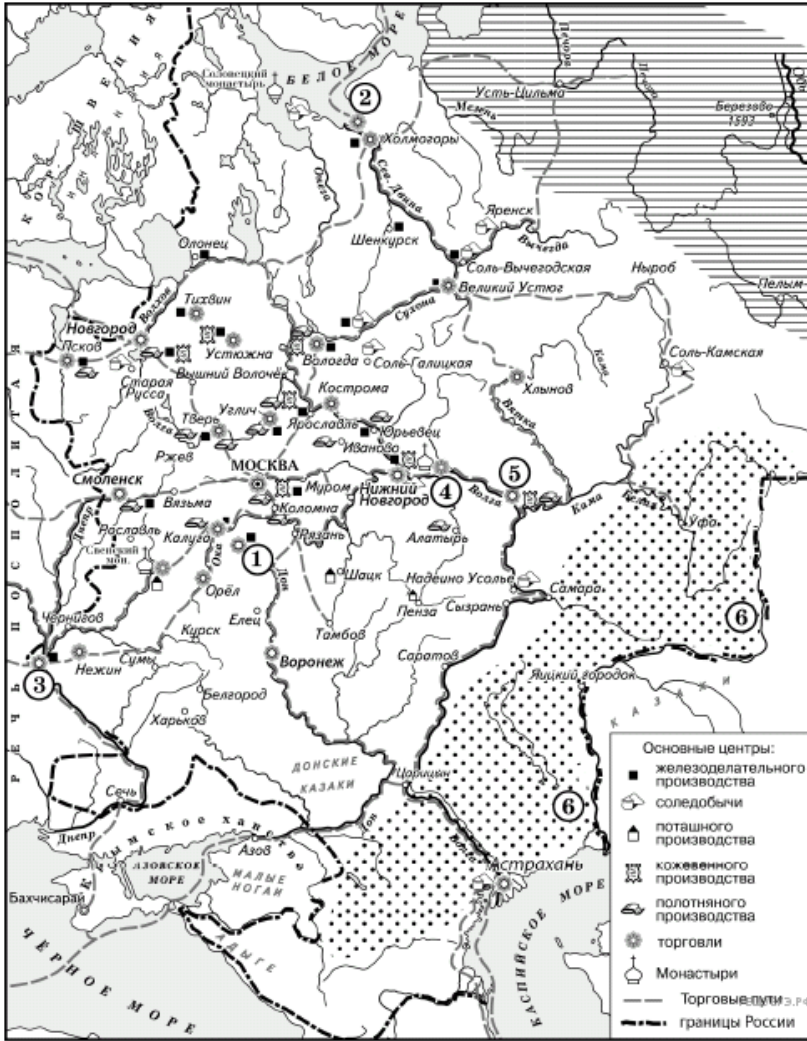
15. Рассмотрите схему и выполните задание.

Напишите название средневекового государства, в результате распада которого образовалось ханство, завоеванное в ходе событий, обозначенных на схеме.

16. Напишите название местности, где произошло сражение, обозначенное на схеме цифрой «2».



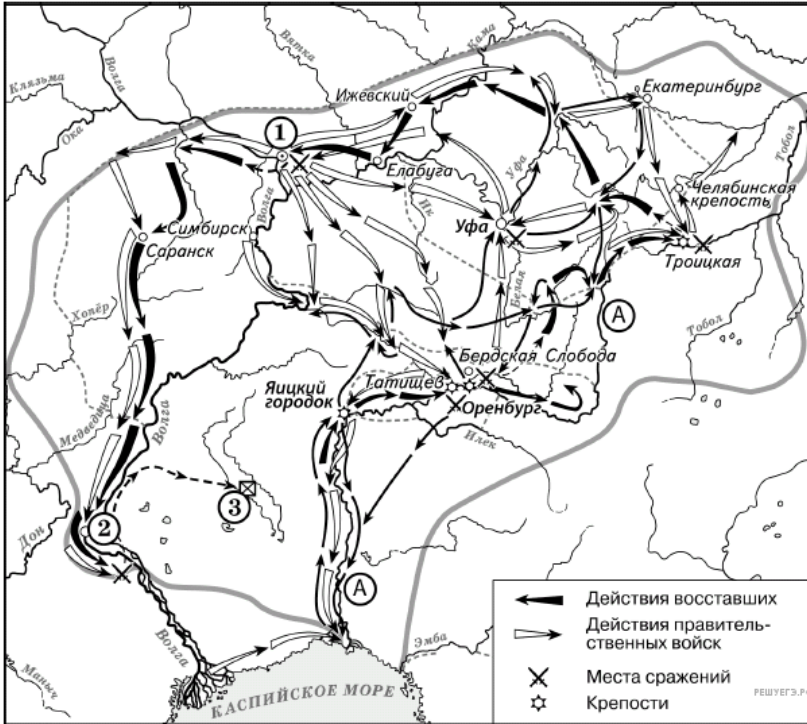
Рассмотрите схему и выполните задание.



17. Рассмотрите схему и выполните задание.

Заполните пропуск в предложении: «Цифрой „1“ на схеме обозначен город _____, в непосредственной близости от которого были построены первые в России железодельные заводы».

Рассмотрите схему и выполните задание.



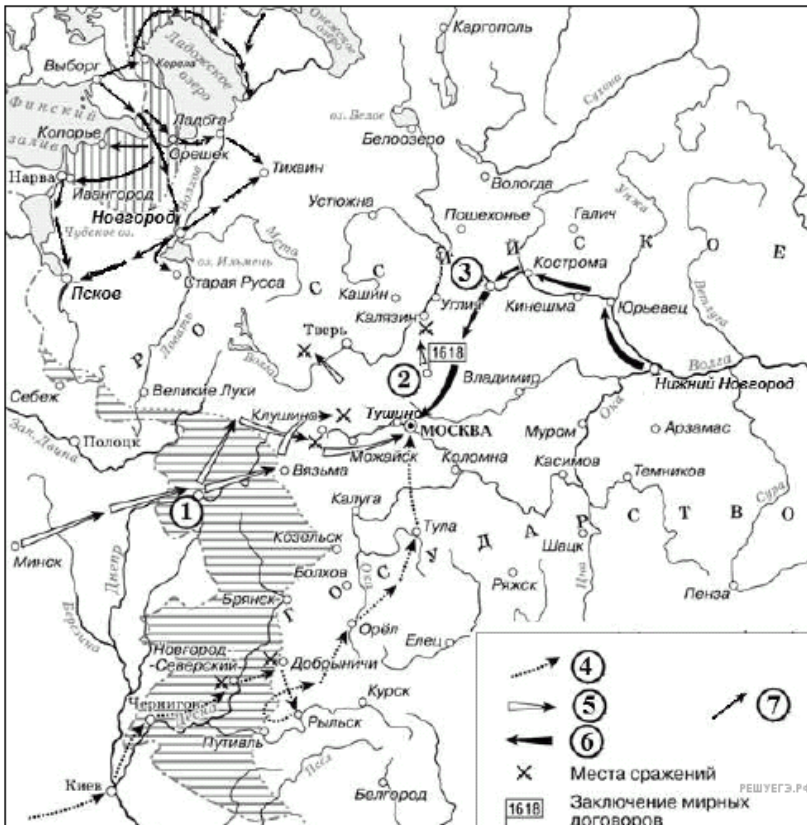
18. Напишите название города, обозначенного на схеме цифрой «1», у которого войска, чьи действия обозначены белыми стрелками, одержали победу.

Рассмотрите схему и выполните задание.



19. Рассмотрите схему и выполните задание.
Напишите название города, обозначенного на схеме цифрой «1».

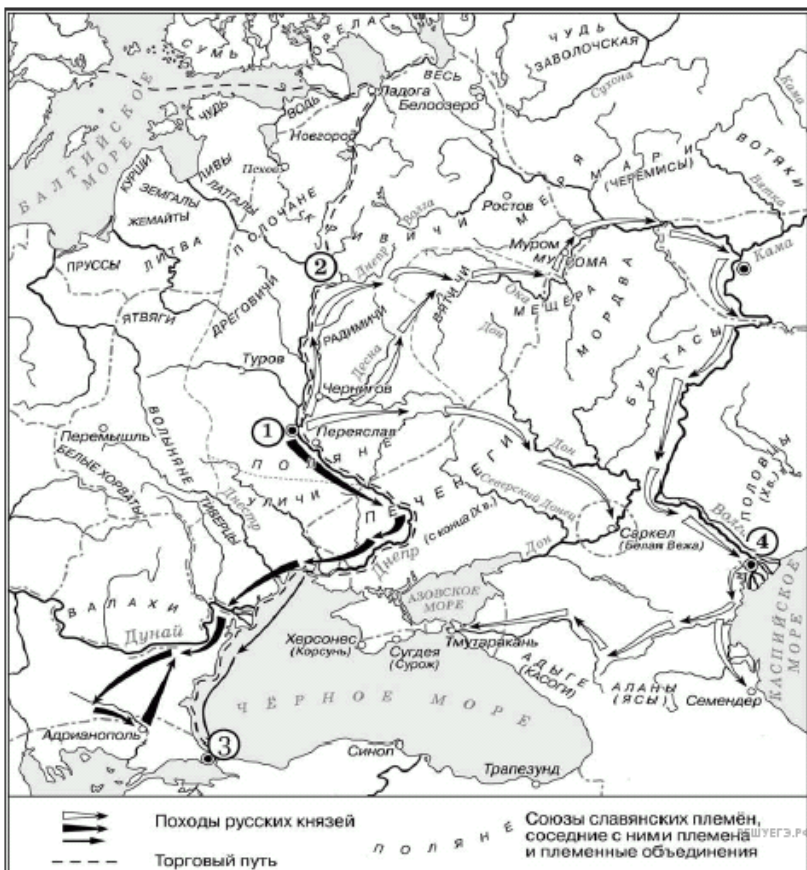
Рассмотрите схему и выполните задание.



20. Рассмотрите схему и выполните задание.

Назовите короля иностранного государства, действия войск которого обозначены стрелками, подписанными в легенде схемы цифрой «5».

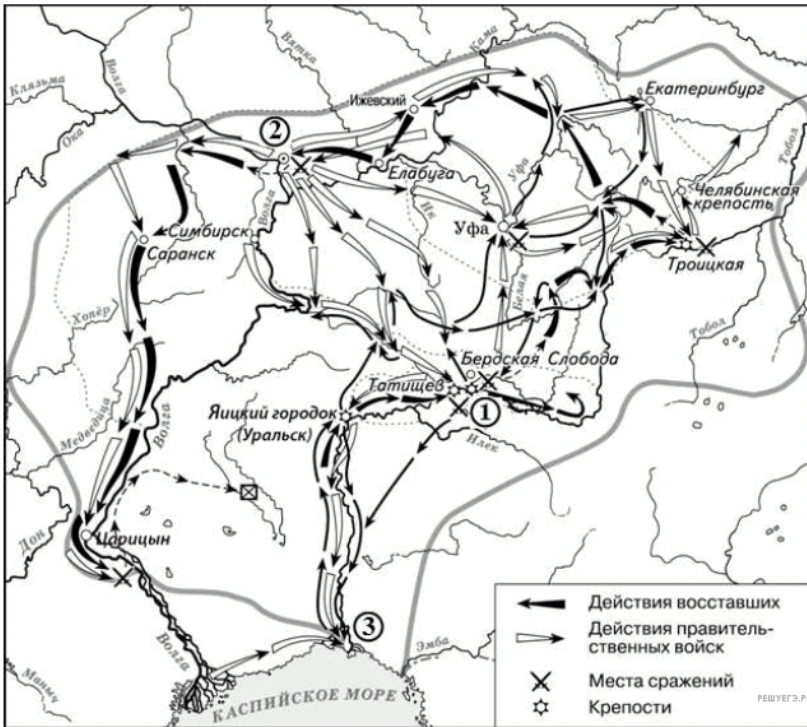
Рассмотрите схему и выполните задание.



21. Рассмотрите схему и выполните задание.

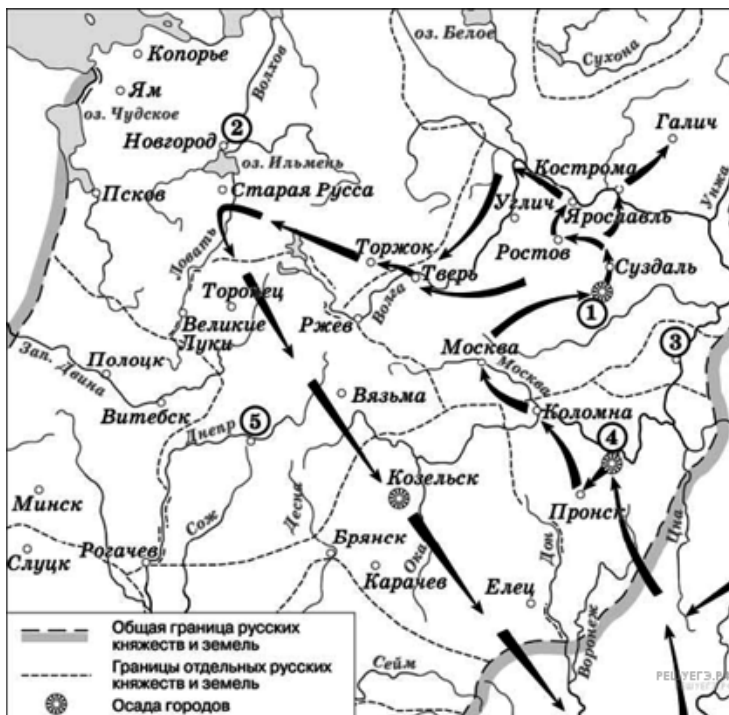
Назовите киевского князя, в период правления которого произошло подписание первого письменного договора Руси с государством, столица которого обозначена на схеме цифрой «3». В ответе укажите только его имя.

Рассмотрите схему и выполните задание.



22. Укажите страну, с которой Россия вела войну в период, когда происходили события, обозначенные на схеме.

Рассмотрите схему и выполните задание.



23. Рассмотрите схему и выполните задание.

Укажите название города, обозначенного на схеме цифрой, где в период данного похода существовала республиканская форма правления.

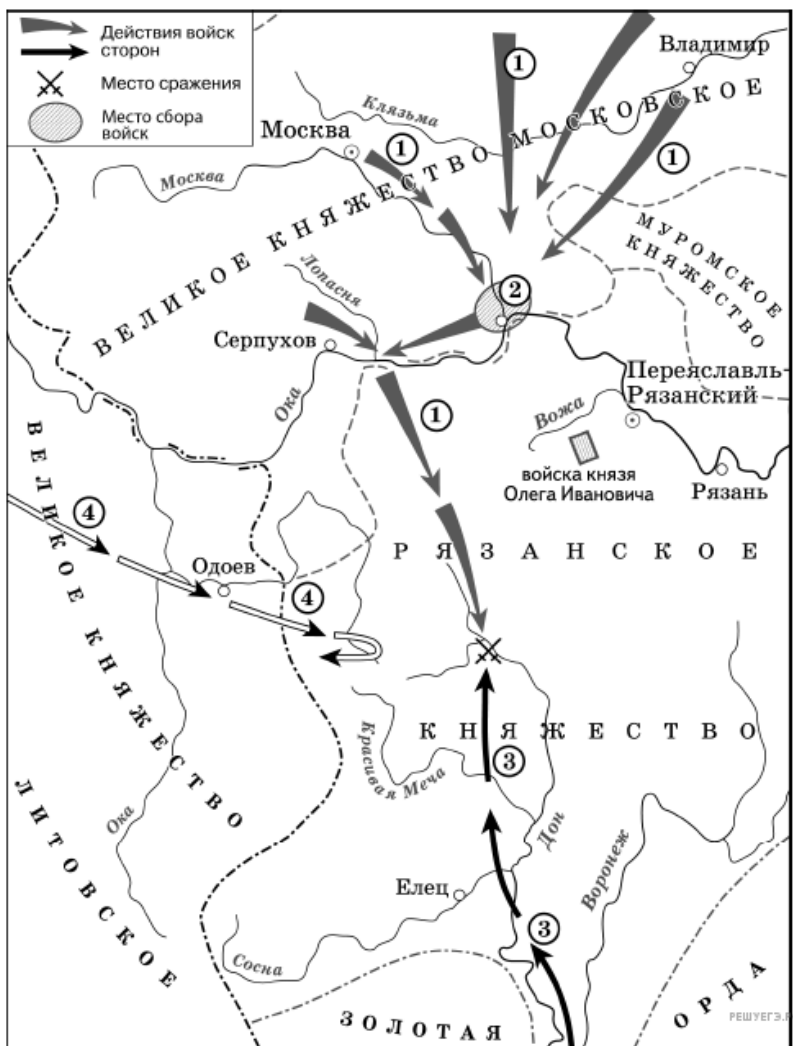
Рассмотрите схему и выполните задание.



24. Рассмотрите схему и выполните задание.

Напишите (словом) век, к концу которого сложились границы Великого княжества Московского, отображённые на схеме.

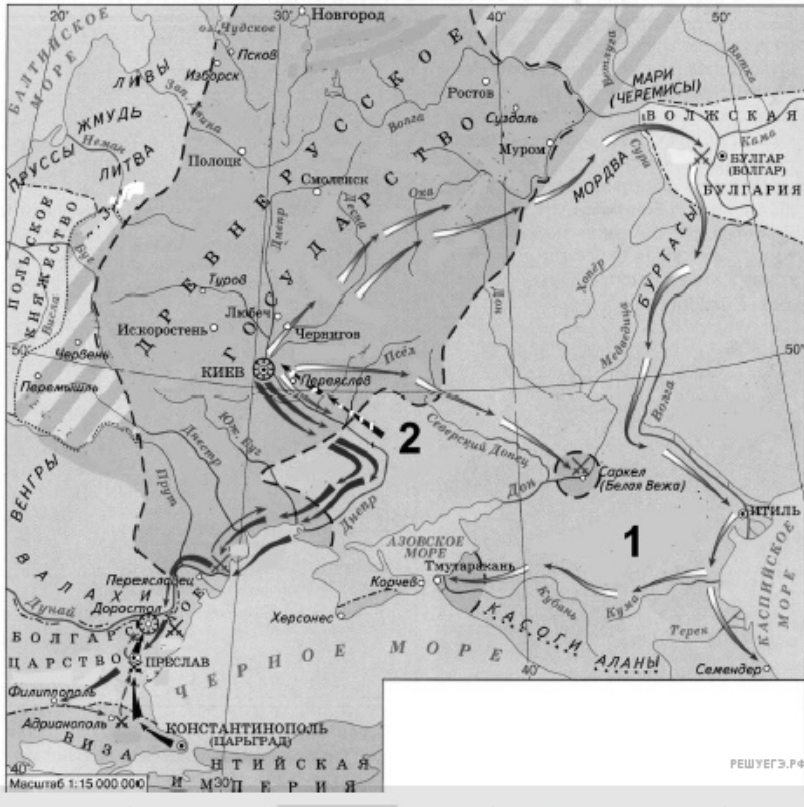
Рассмотрите схему и выполните задание.



25. Рассмотрите схему и выполните задание.

Укажите полководца, возглавившего поход, направление которого обозначено на схеме цифрой «3».

Рассмотрите схему и выполните задание.



26. Рассмотрите схему и выполните задание.

Напишите название кочевых племен, место проживания которых обозначено на схеме цифрой «2» и которые совершили отображённый на схеме поход на Киев.

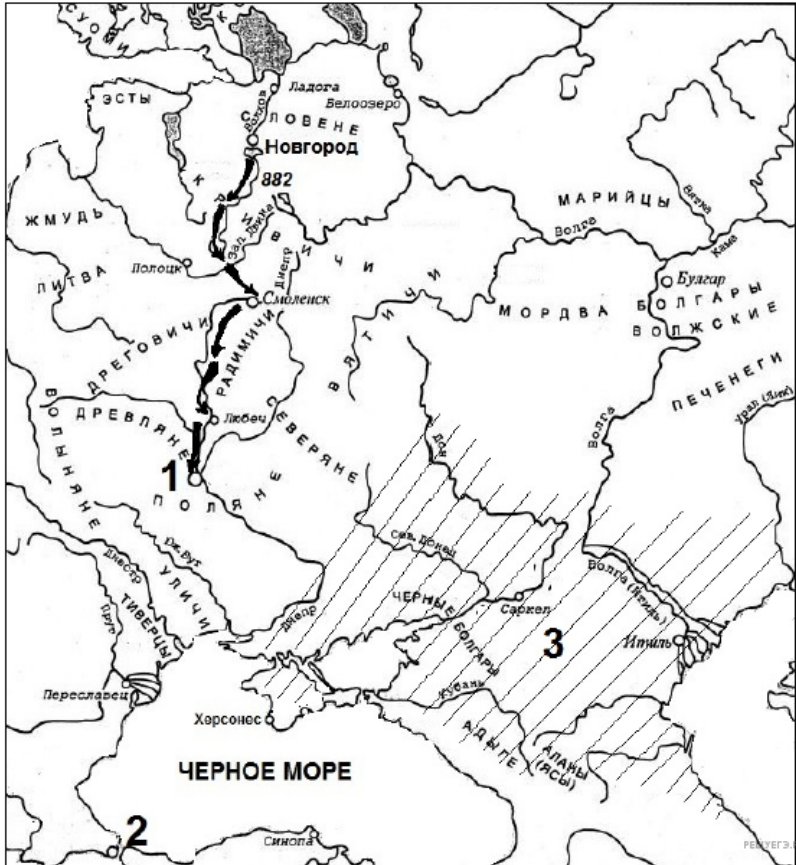
Рассмотрите схему и выполните задание.



27. Рассмотрите схему и выполните задание.

Напишите образное название битвы, обозначенной на схеме цифрой «2».

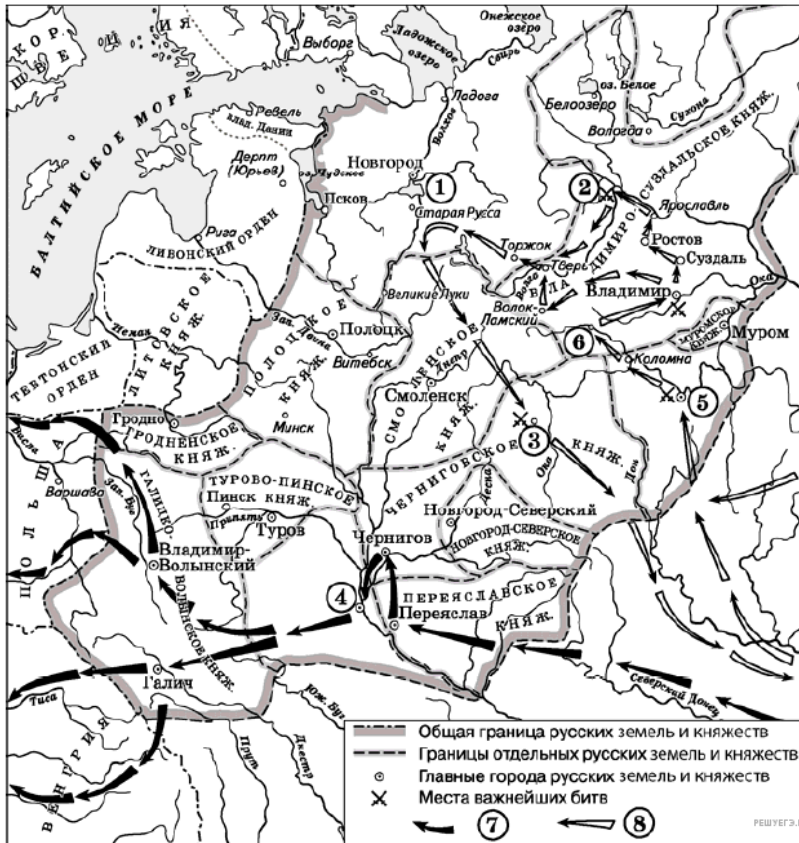
Рассмотрите схему и выполните задание.



28. Рассмотрите схему и выполните задание.

Напишите название существовавшего в период изображённого похода государства, территория которого заштрихована на схеме и обозначена под цифрой «3».

Рассмотрите схему и выполните задание.



29. Рассмотрите схему и выполните задание.

Назовите главнокомандующего, руководившего походом по направлению, обозначенному в легенде схемы цифрой «7».

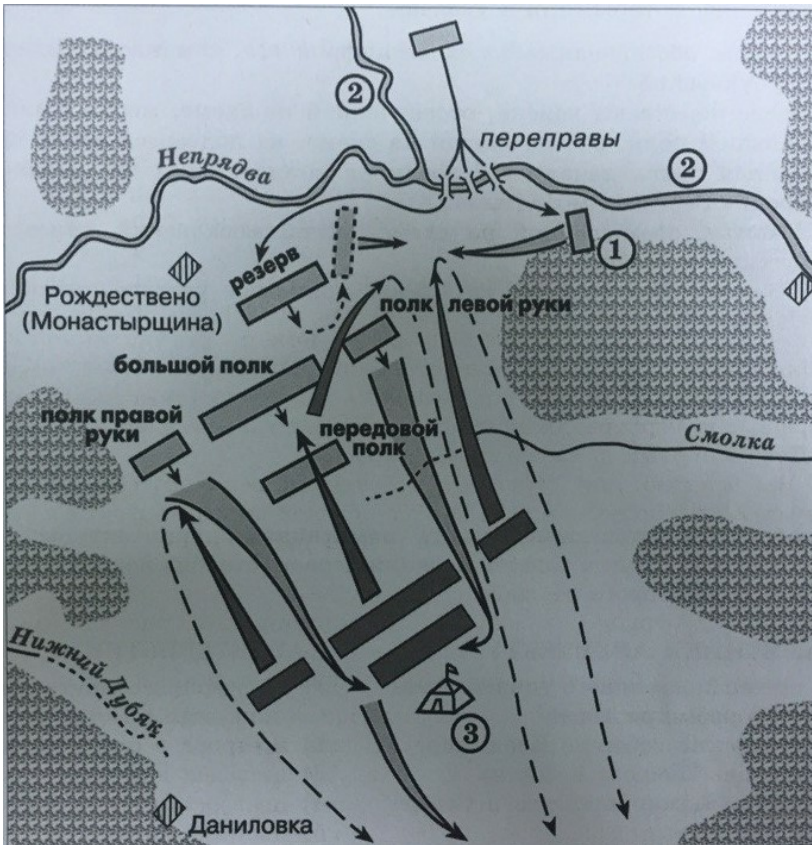
Рассмотрите схему и выполните задание.



30. Рассмотрите схему и выполните задание.

Назовите фамилию украинского гетмана, с именем которого непосредственно связано событие, отмеченное на схеме флажком.

Рассмотрите схему и выполните задание.

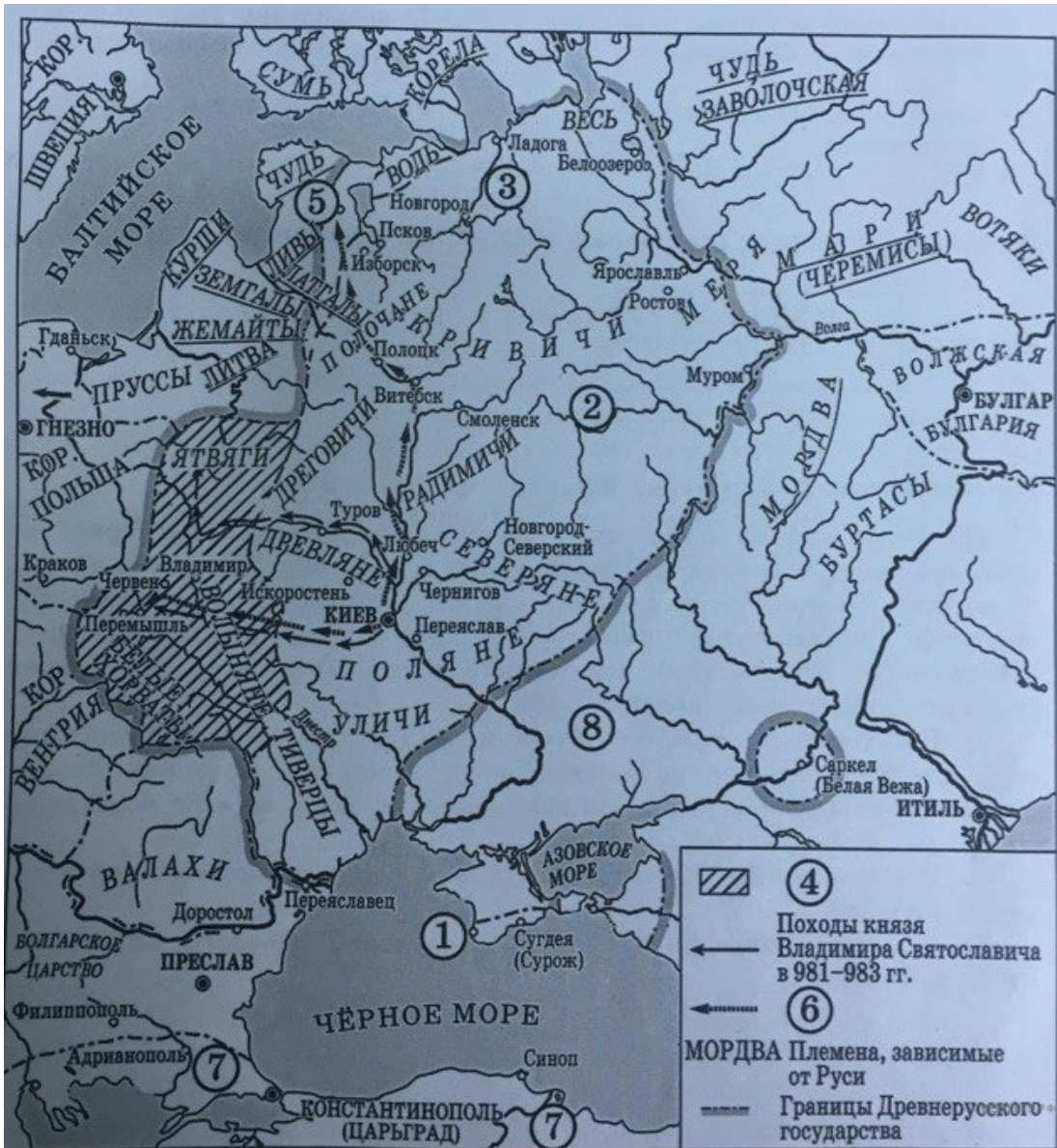


31. Рассмотрите схему и выполните задание.
Укажите название реки, обозначенной на схеме цифрой «2».

Рассмотрите схему и выполните задание.

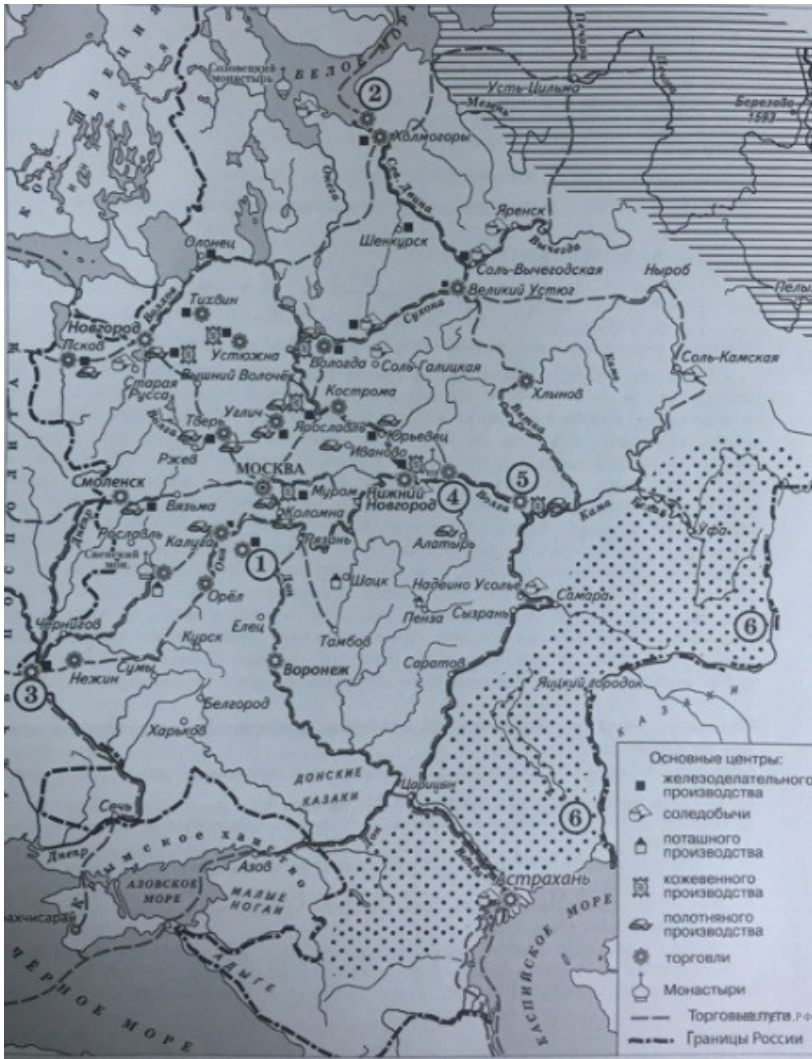


32. Рассмотрите схему и выполните задание.
Укажите название восточнославянского племенного союза, административным центром которого был город, обозначенный на схеме цифрой «1».



Укажите название восточнославянского союза племён, территория которого обозначена на схеме цифрой «3».

Рассмотрите схему и выполните задание.



34. Рассмотрите схему и выполните задание.

Заполните пропуск в предложении: «Одна из крупнейших ярмарок в России в XVII-XVIII вв. — _____ — обозначена на схеме цифрой «4».

Рассмотрите схему и выполните задание.



35. Рассмотрите схему и выполните задание.

Назовите правителя Русского государства, при котором произошла война, события которой отображены на схеме.

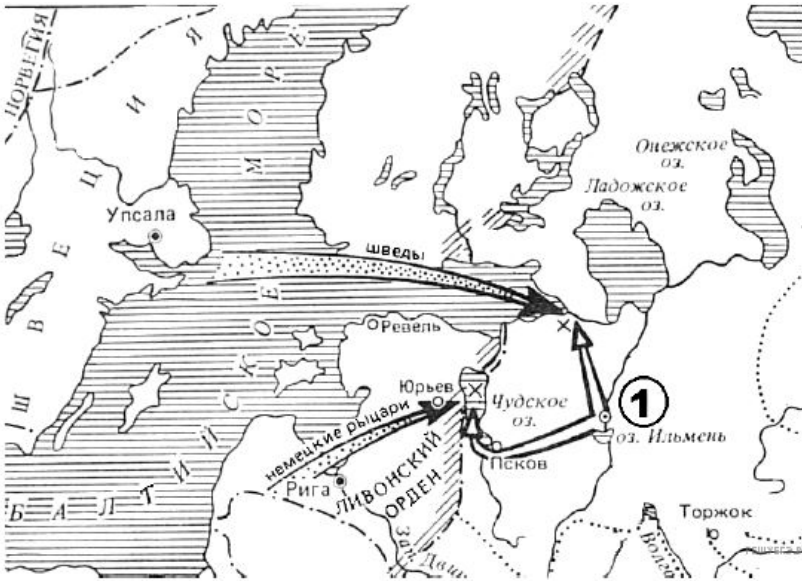
Рассмотрите схему и выполните задание.



36. Рассмотрите схему и выполните задание.

Назовите русского государя, при котором с соседними государствами были подписаны соглашения об уступке им территорий, обозначенных на схеме цифрами «1» и «2». В ответе укажите его имя и отчество.

Рассмотрите схему и выполните задание.



37. Рассмотрите схему и выполните задание.

Укажите век, когда произошли сражения, обозначенные на схеме. Ответ запишите словом.

Рассмотрите схему и выполните задание.



38. Рассмотрите схему и выполните задание.

Напишите название союза восточнославянских племен, территория расселения которого на схеме обозначена цифрой «3».

Рассмотрите схему и выполните задание.



39. Рассмотрите схему и выполните задание.

Напишите название союза восточнославянских племён, территория проживания которого заштрихована на схеме и обозначена цифрой «4».

Рассмотрите схему и выполните задание.



40. Рассмотрите схему и выполните задание.
 Напишите название государства, обозначенного на схеме цифрой «3».

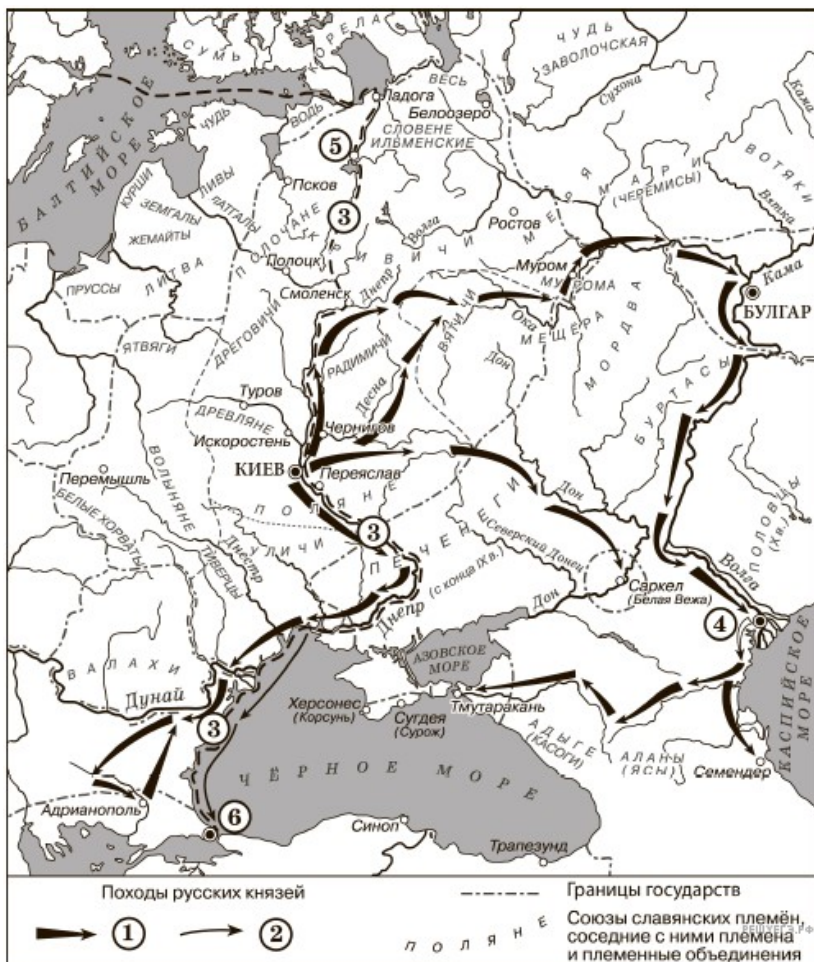
Рассмотрите схему и выполните задание.



41. Рассмотрите схему и выполните задание.

Назовите российского государя, в правление которого были заключены договоры об уступке заштрихованных на схеме территорий. В ответе укажите имя и отчество.

Рассмотрите схему и выполните задание.



42. Рассмотрите схему и выполните задание.

Укажите название торгового пути, обозначенного на схеме цифрой «3».

Рассмотрите схему и выполните задание.



43. Рассмотрите схему и выполните задание.

Напишите название периода в отечественной истории, когда Российское государство утратило обозначенный на схеме цифрой «3» город и прилегающие территории, возвращённые в результате войны, событиям которой посвящена схема.

Рассмотрите схему и выполните задание.



44. Рассмотрите схему и выполните задание.

Напишите название города, обозначенного на схеме цифрой «3».

Рассмотрите схему и выполните задание.



45. Заполните пропуск в предложении: «Указом императрицы Екатерины II река, обозначенная на схеме цифрой "5", была переименована в _____».

Рассмотрите схему и выполните задание.



46. Напишите название города-крепости, обозначенного на схеме цифрой «3», под которым произошло одно из первых крупных сражений войны, события которой обозначены на схеме.

Рассмотрите схему и выполните задание.



47. Напишите фамилию полководца, возглавлявшего российские войска в сражении, обозначенном на схеме цифрой «4».

Рассмотрите схему и выполните задание.



48. Напишите название государства, территория которого обозначена на схеме цифрой «1».

Рассмотрите схему и выполните задание.



49. Укажите век, когда произошли события, обозначенные на схеме стрелками.

Рассмотрите схему и выполните задание.



50. Напишите название союза племён, территория проживания которого обозначена на схеме цифрой «3».

Рассмотрите схему и выполните задание.



51. Запишите пропущенное на схеме и обозначенное на ней цифрой «3» название княжества.

Рассмотрите схему и выполните задание.



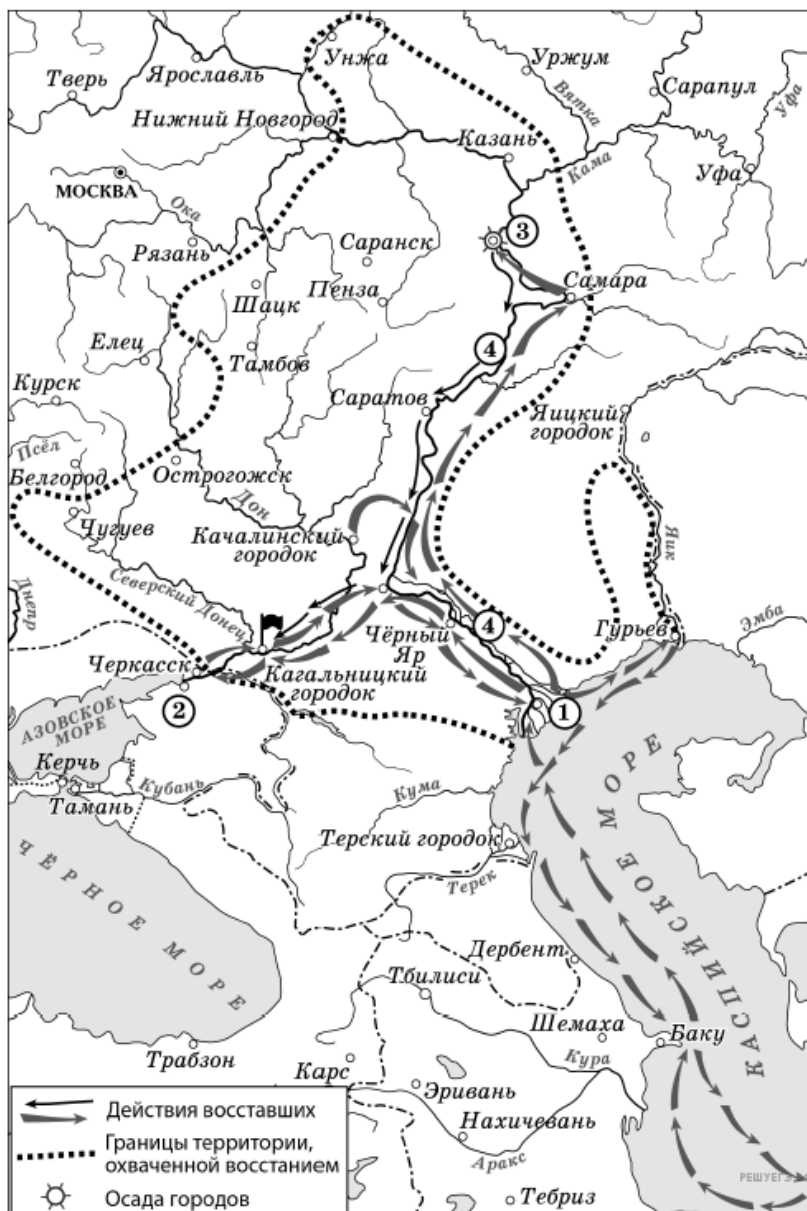
52. Напишите название торгового пути, который проходил через города, обозначенные на схеме цифрами «1» и «2», и по реке, обозначенной цифрой «3».

Рассмотрите схему и выполните задание.



53. Напишите название государства, территория которого обозначена на схеме цифрой «3».

Рассмотрите схему и выполните задание.



54. Укажите фамилию предводителя восстания, район которого обозначен на схеме пунктиром.

Рассмотрите схему и выполните задание.



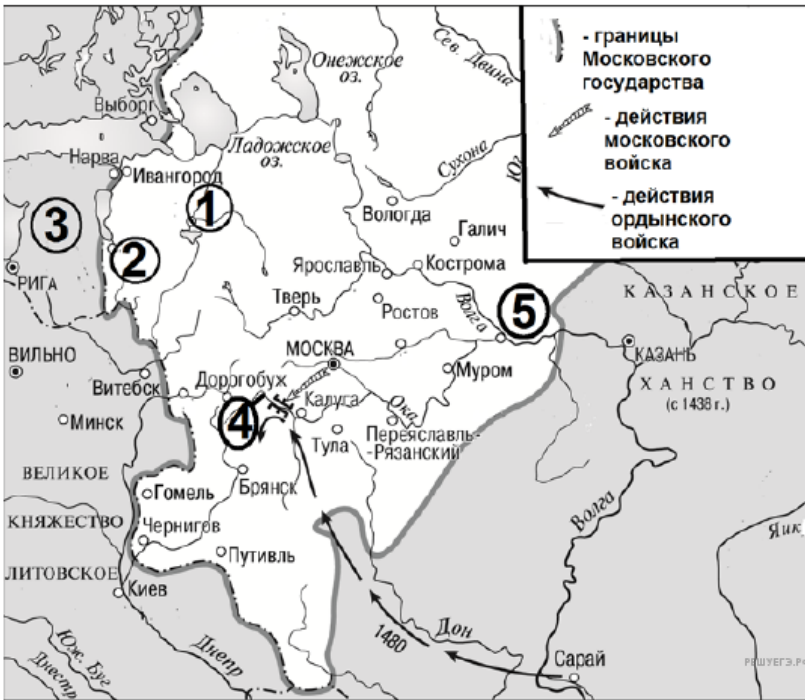
55. Напишите название города, обозначенного на схеме цифрой «2».

Рассмотрите схему и выполните задание.



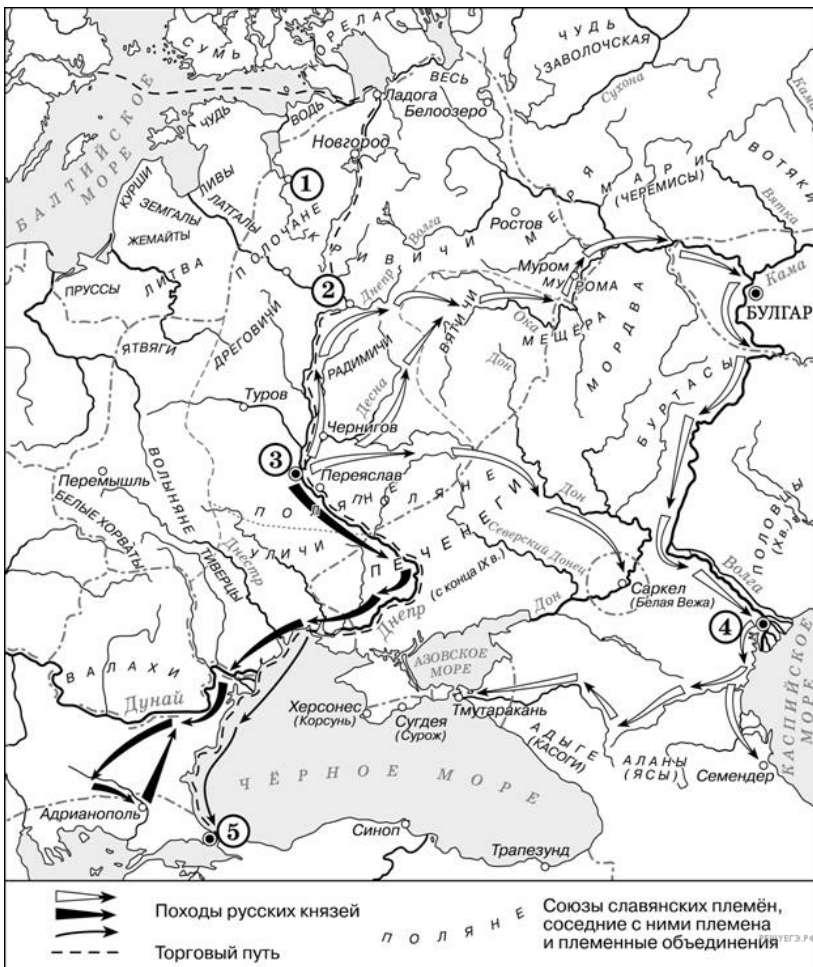
56. Напишите название государства, которому принадлежала территория, обозначенная на схеме цифрой «5».

Рассмотрите схему и выполните задание.



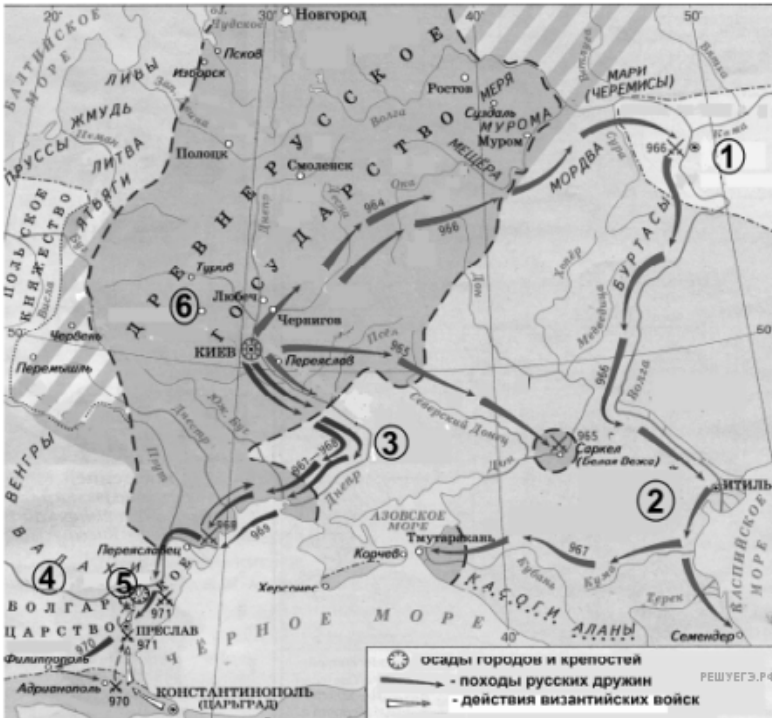
57. Напишите название реки, обозначенной на схеме цифрой «4».

Рассмотрите схему и выполните задание.



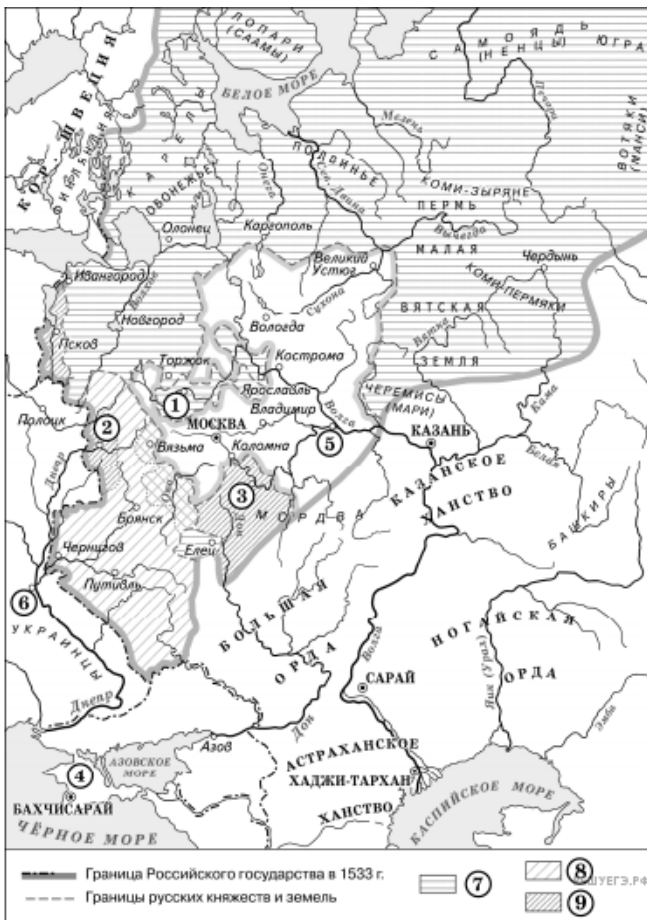
58. Напишите название народа, который преимущественно населял государство, чья столица обозначена на схеме цифрой «4».

Рассмотрите схему и выполните задание.



59. Напишите название реки, обозначенной на схеме цифрой «4».

Рассмотрите схему и выполните задание.



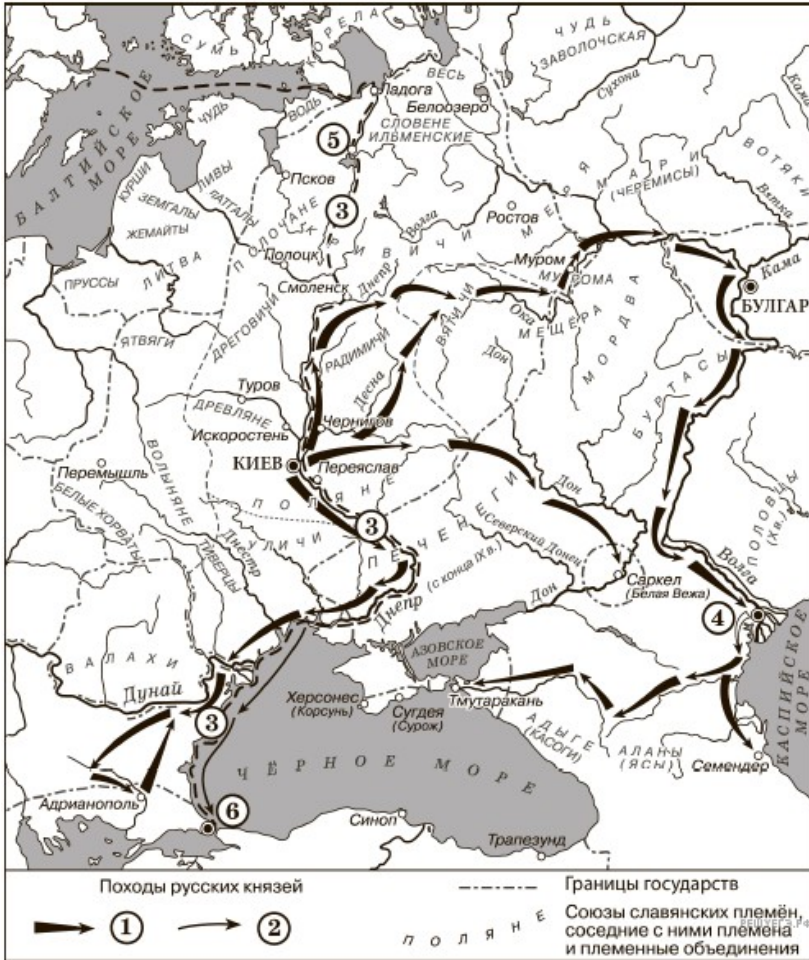
60. Назовите имя короля Речи Посполитой, под командованием которого в период Смуты в России после долгой осады был взят город, обозначенный на схеме цифрой «2».

Рассмотрите схему и выполните задание.



61. Назовите российского монарха, в период правления которого в состав России вошёл город, обозначенный на схеме цифрой «4».

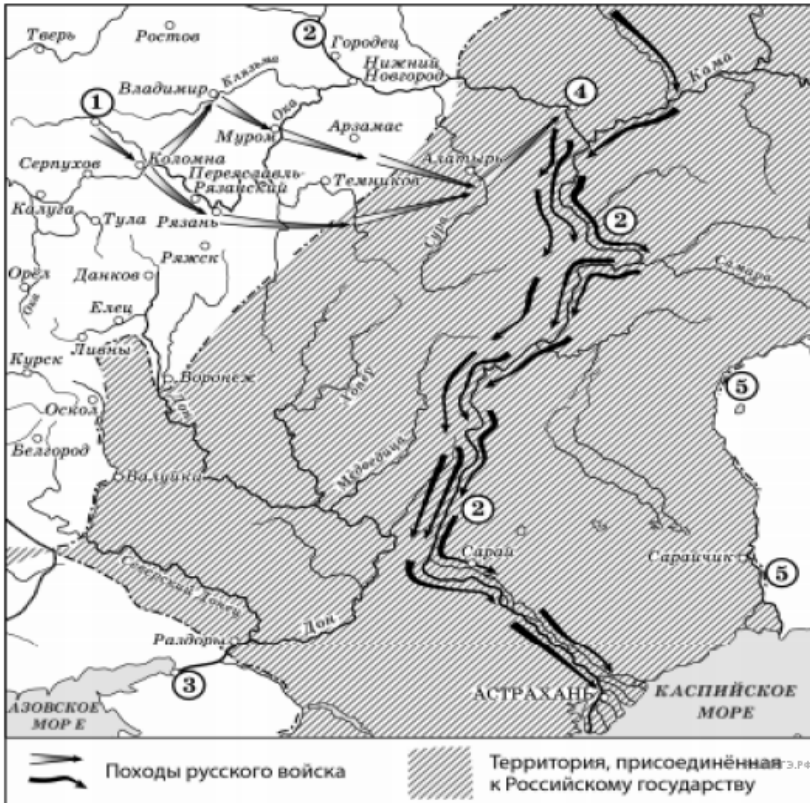
Рассмотрите схему и выполните задание.



62. Рассмотрите схему и выполните задание.

Укажите название торгового пути, обозначенного на схеме цифрой «3».

Рассмотрите схему и выполните задание.



63. Укажите фамилию предводителя народного восстания второй половины XVIII в., одним из последствий которого было переименование реки, дважды обозначенной на схеме цифрой «5».

Рассмотрите схему и выполните задание.



64. Напишите фамилию руководителя восстания, район которого обозначен цифрой «4».

Рассмотрите схему и выполните задание.



65. Напишите название войны, в результате которой Российское государство утратило территории, обозначенные на схеме цифрой «1».

Рассмотрите схему и выполните задание.



66. Напишите название города, обозначенного на схеме цифрой «3».

Рассмотрите схему и выполните задание.



67. Назовите город, обозначенный на схеме цифрой «5».