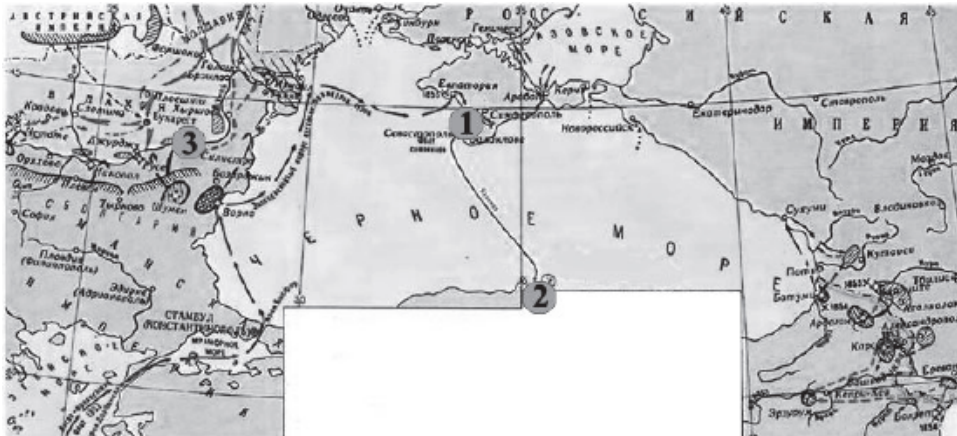


Рассмотрите схему и выполните задание.



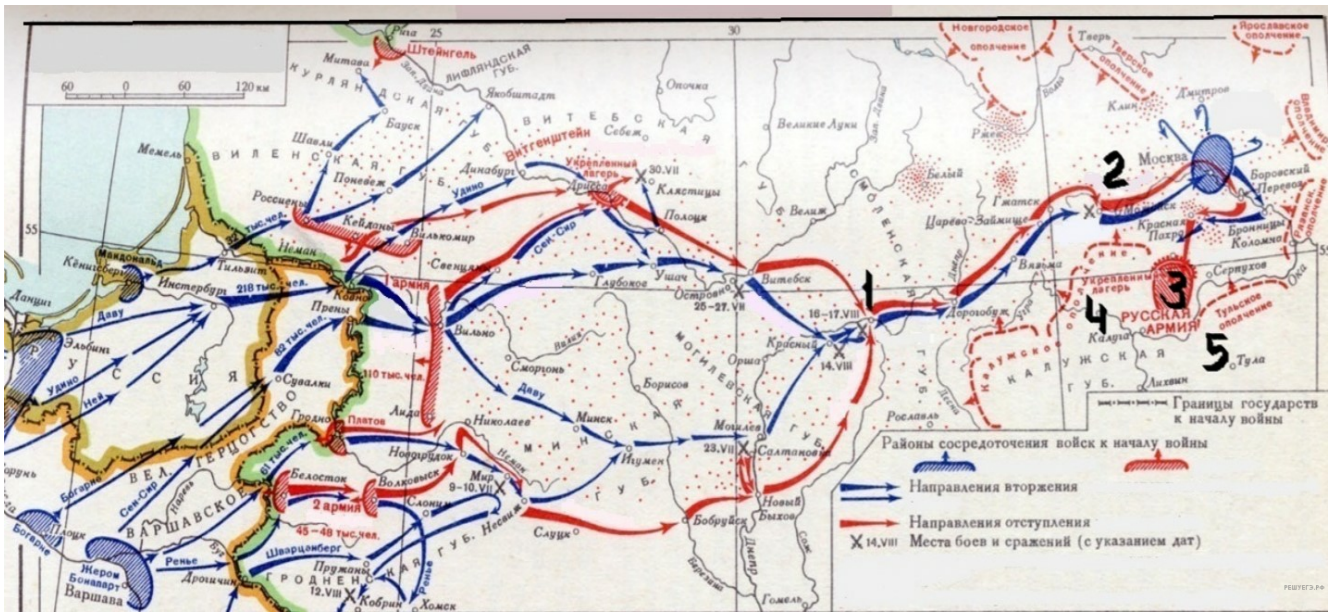
1. Рассмотрите схему и выполните задание.
Напишите название войны, изображённой на схеме.

Рассмотрите схему и выполните задание.



2. Рассмотрите схему и выполните задание.
Напишите имя императора, правившего в той стране, которая была основным противником России в военных действиях, обозначенных на карте.

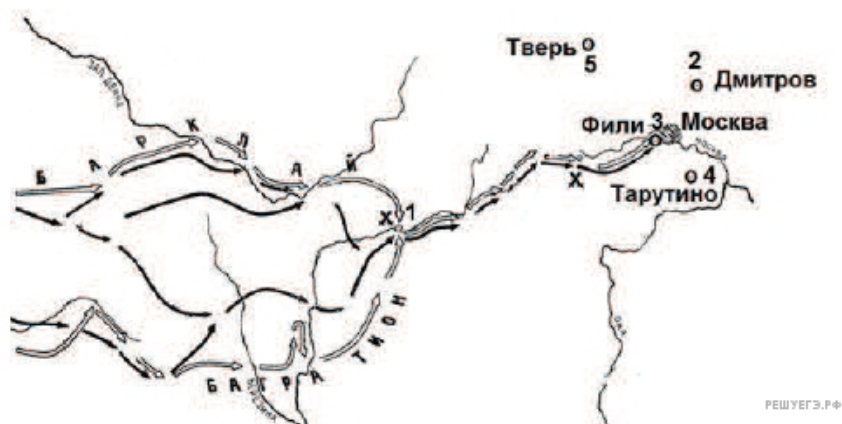
Рассмотрите схему и выполните задание.



3. Рассмотрите схему и выполните задание.

Напишите имя полководца, осуществившего вторжение войск на территорию России, обозначенное на схеме стрелками.

Рассмотрите схему и выполните задание.



4. Рассмотрите схему и выполните задание.

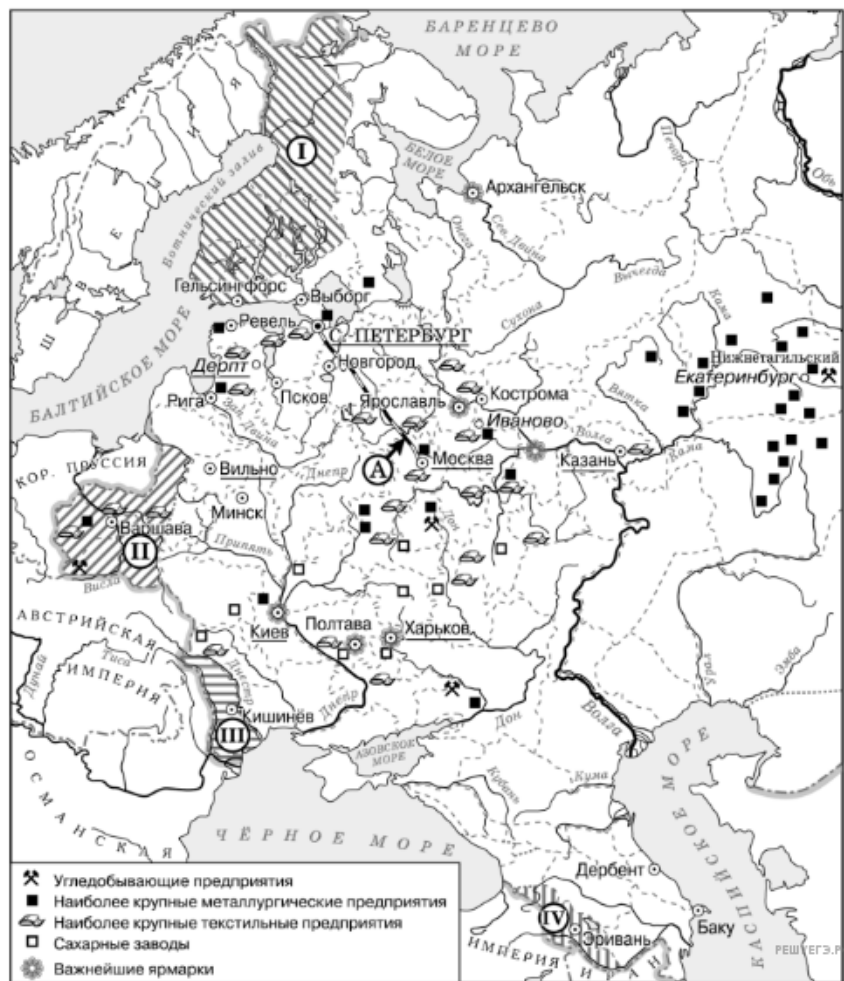
Напишите имя полководца, вторжение войск которого в Россию показано на схеме.

Рассмотрите схему и выполните задание.



5. Напишите имя и порядковый номер или официальное прозвание монарха, в чье правление шла война, события которой обозначены на данной схеме.

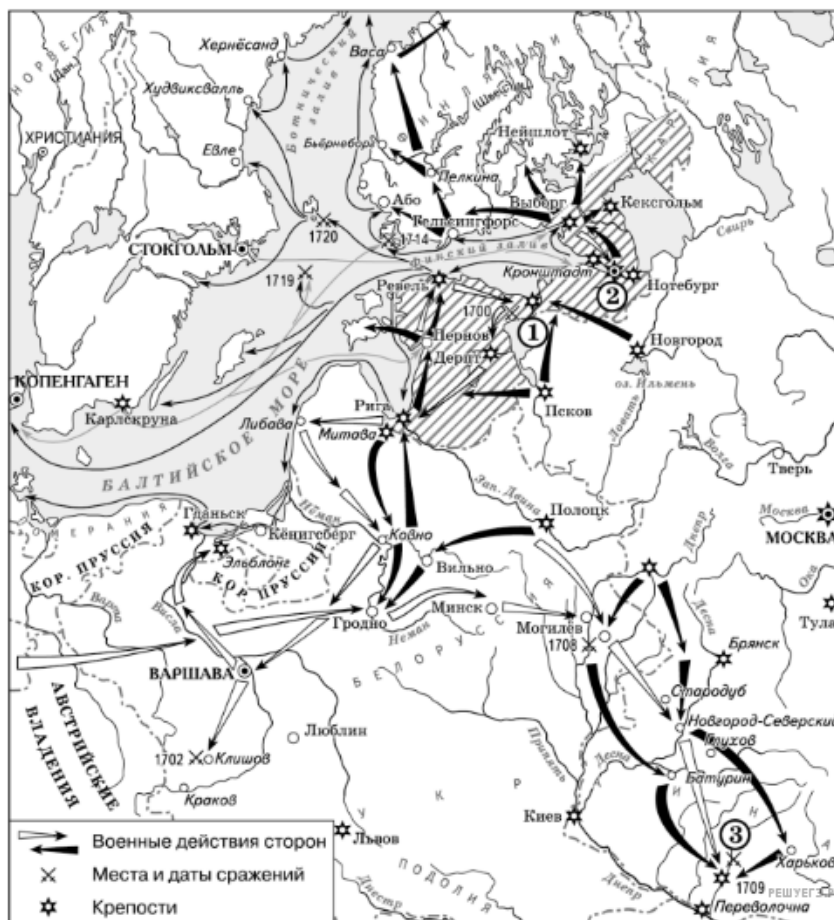
Рассмотрите схему и выполните задание.



6. Напишите название города, где состоялся конгресс, по решению которого в состав Российской империи вошла территория, обозначенная цифрой II.

7. Напишите название географического района, в котором, согласно карте, отмечается наибольшая концентрация металлургических предприятий.

Рассмотрите схему и выполните задание.



8. Рассмотрите схему и выполните задания

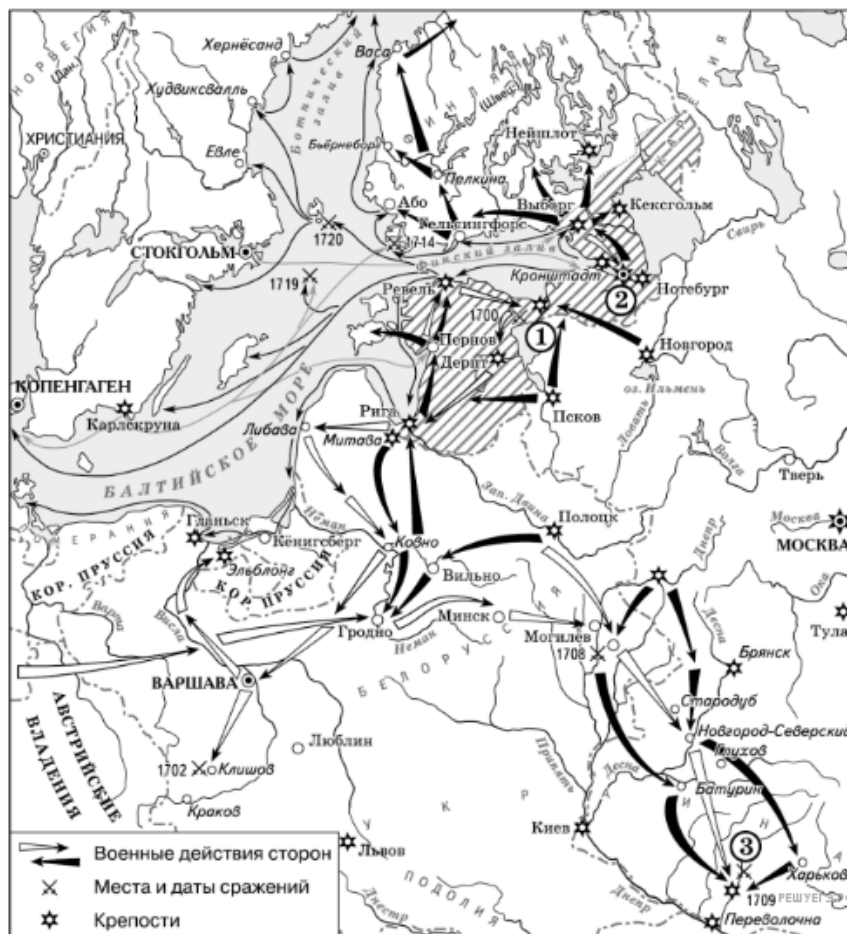
Напишите название войны, события которой обозначены на данной схеме.

Рассмотрите схему и выполните задание.



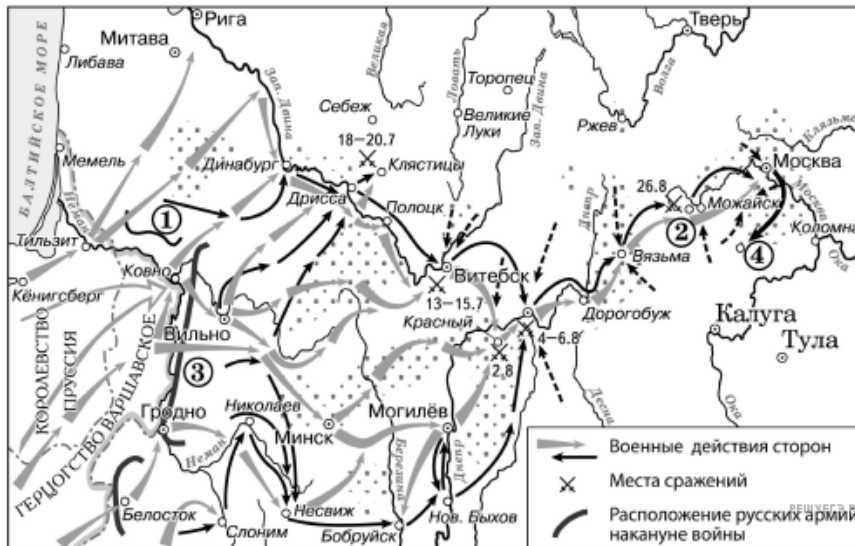
9. Назовите монарха (имя и порядковый номер словами, например Иван Третий), в чье правление шла война, события которой обозначены на данной схеме.

Рассмотрите схему и выполните задание.



10. Напишите название войны, события которой обозначены на данной схеме.

Рассмотрите схему и выполните задание.



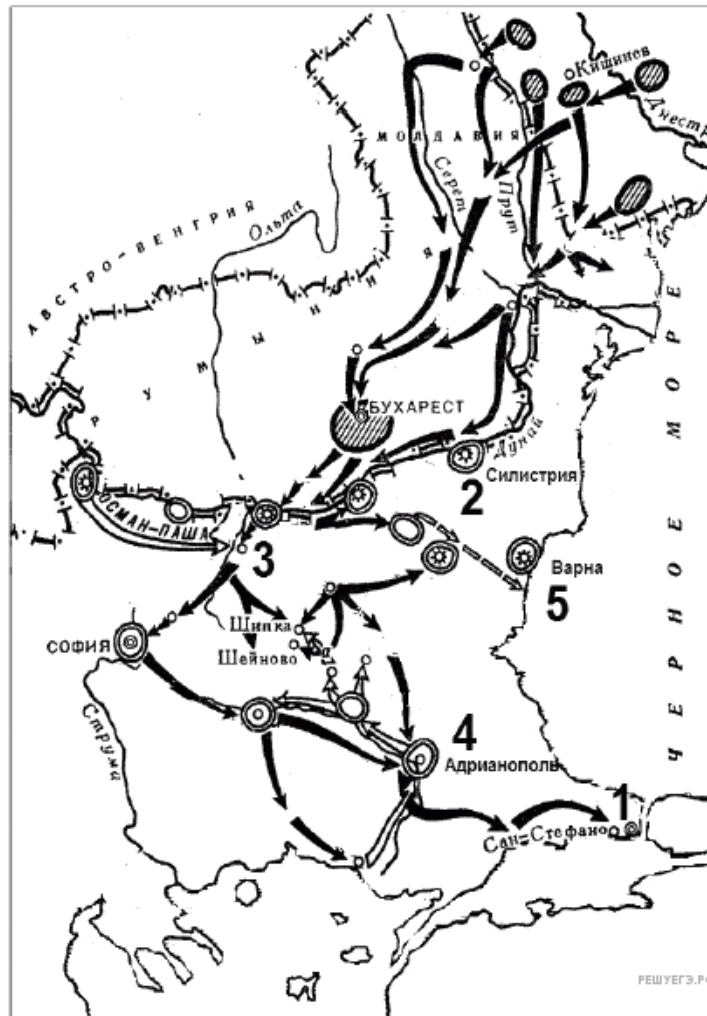
11. Напишите название населённого пункта, обозначенного на схеме цифрой 2.

Рассмотрите схему и выполните задание.



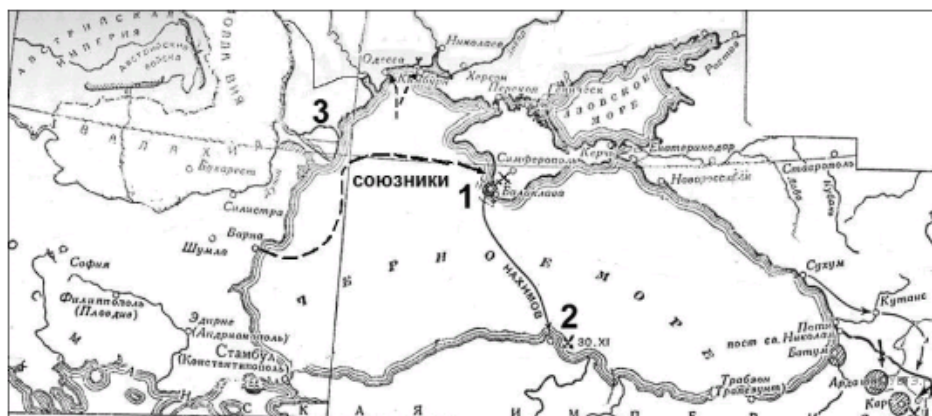
12. Напишите фамилию полководца, который руководил российскими войсками в сражениях, обозначенных на схеме.

Рассмотрите схему и выполните задание.



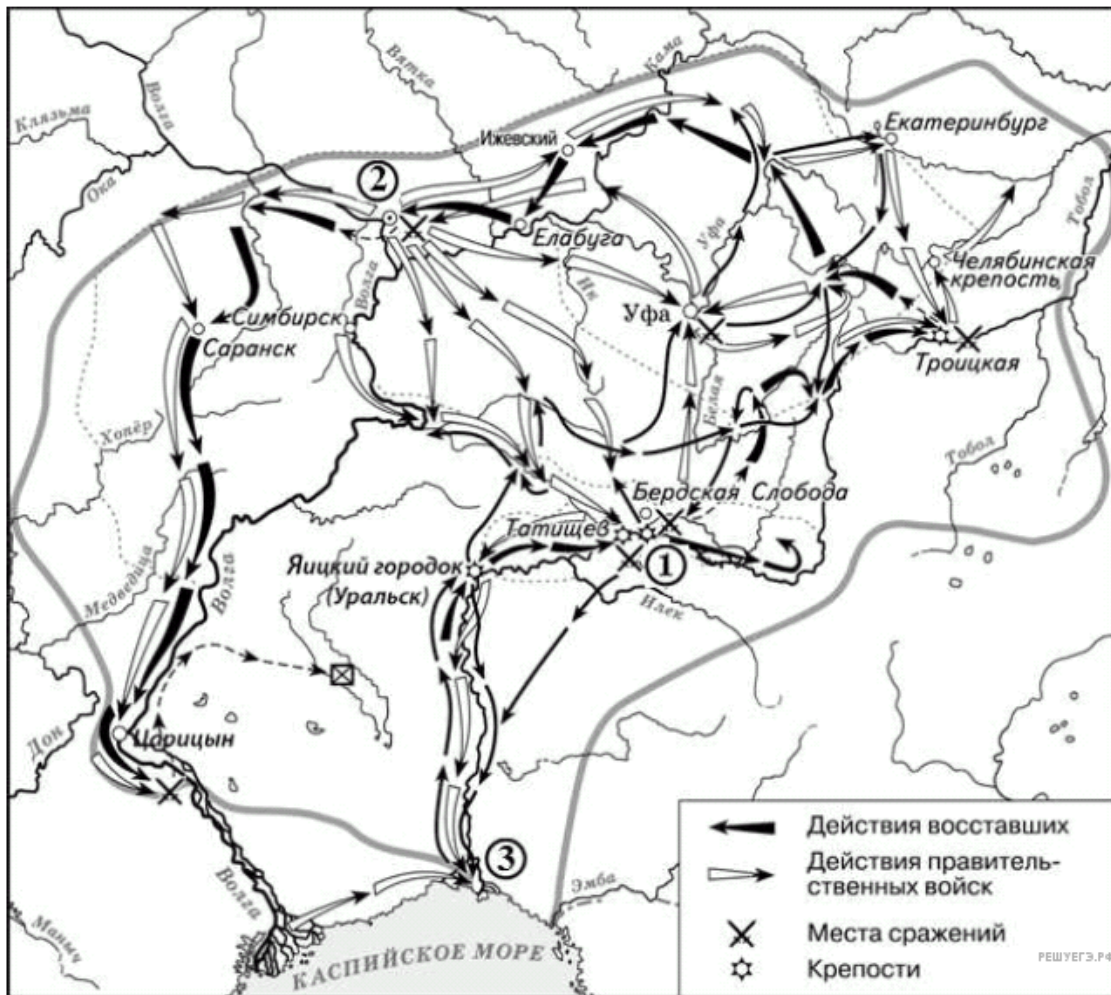
13. Напишите имя русского императора, к годам правления которого относится данная война. Имя указывается с порядковым номером правителя (например, Александр Первый), или с официальным прозвищем (например, Александр Благословенный).

Рассмотрите схему и выполните задание.



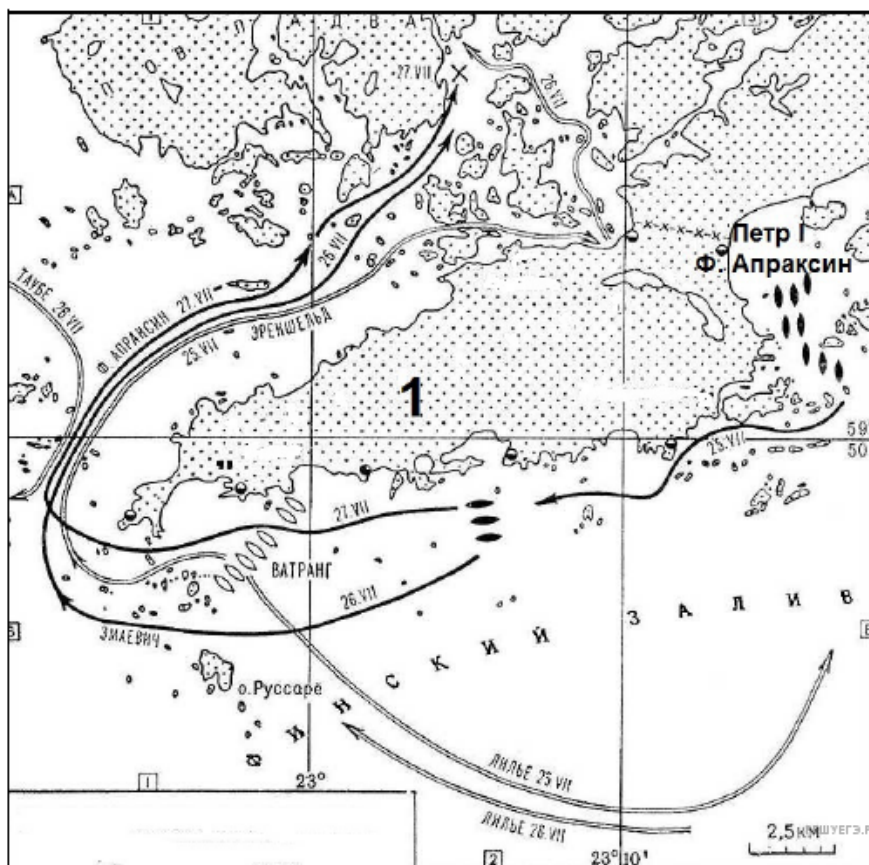
14. Напишите название войны, события которой изображены на схеме.

Рассмотрите схему и выполните задание.



16. Назовите императора (императрицу), в чье правление происходили события, обозначенные на схеме стрелками.

Рассмотрите схему и выполните задание.



21. Напишите название войны, одно из сражений которой изображено на схеме.

Рассмотрите схему и выполните задание.



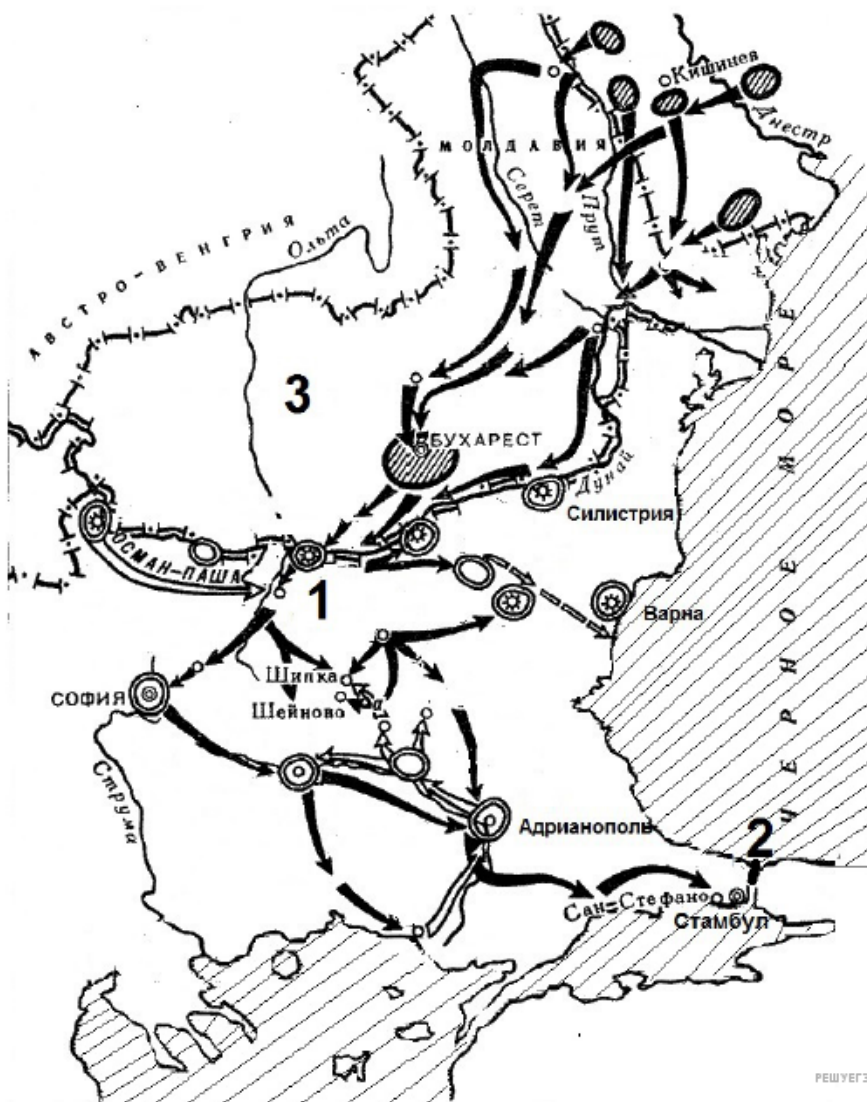
22. Кто был правителем России в период войны, события которой обозначены на схеме? Имя указывается с порядковым номером правителя (например, Александр Первый), или с официальным прозвищем (например, Александр Благословенный).

Рассмотрите схему и выполните задание.



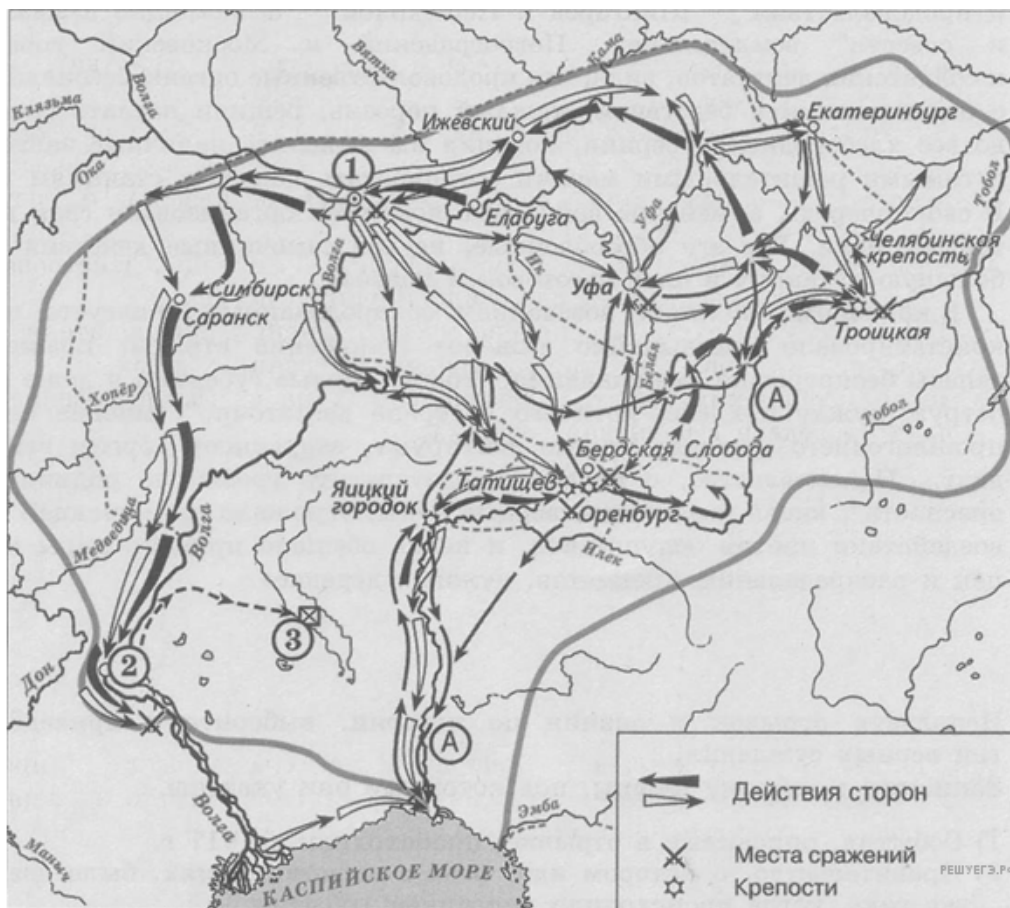
23. Напишите название войны, события которой обозначены на схеме.

Рассмотрите схему и выполните задание.



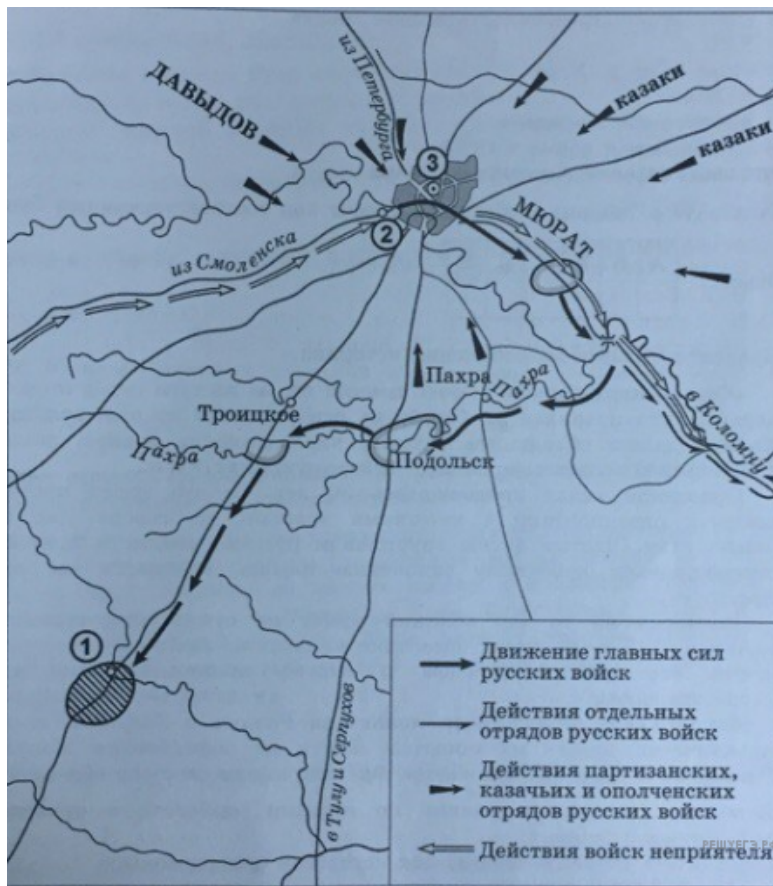
24. Напишите название страны, военные действия с которой России обозначены на схеме.

Рассмотрите схему и выполните задание.



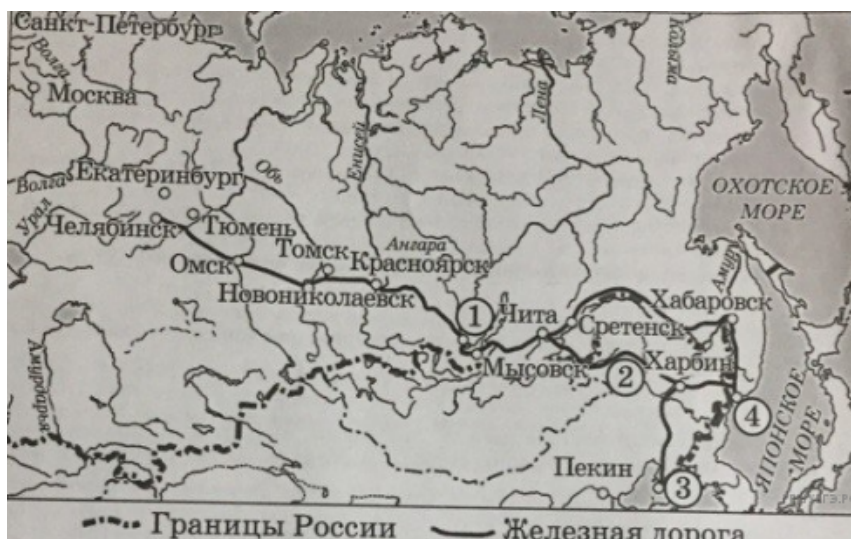
25. Заполните пропуск в предложении: «События, обозначенные на схеме стрелками, произошли в тысяча семьсот _____ годах». Ответ запишите словом.

Рассмотрите схему и выполните задание.



26. Назовите имя главнокомандующего войсками неприятеля в период боевых действий, изображённых на схеме.

Рассмотрите схему и выполните задание.



27.

Заполните пропуск в предложении: «Строительство железной дороги, обозначенной на схеме, началось в тысяча восемьсот _____ годах».

Рассмотрите схему и выполните задание.



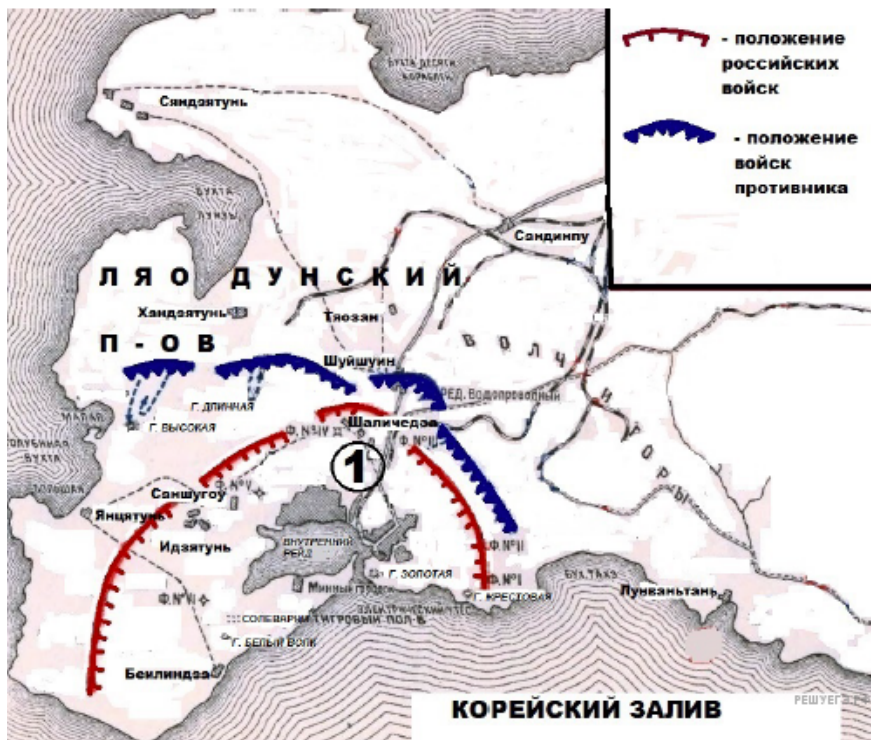
28. Напишите название города, обозначенного на схеме цифрой 1.

Рассмотрите схему и выполните задание.



29. Напишите название обозначенной цифрой 1 крепости, осаде которой российскими войсками посвящена схема.

Рассмотрите схему и выполните задание.



30. Напишите название обозначенной на схеме цифрой 1 крепости, обороне которой российскими войсками посвящена схема.

Рассмотрите схему и выполните задание.



31. Напишите название войны, основные сражения и итоги которой обозначены на схеме.

Рассмотрите схему и выполните задание.



32. Напишите название страны — противника России в войне, событиям которой посвящена схема.

Рассмотрите схему и выполните задание.



33. Кто правил в России во время военных событий, обозначенных на схеме? Укажите его (её) имя и официальное прозвание или имя и порядковый номер. Например, Александр Первый или Александр Благословенный.

Рассмотрите схему и выполните задание.



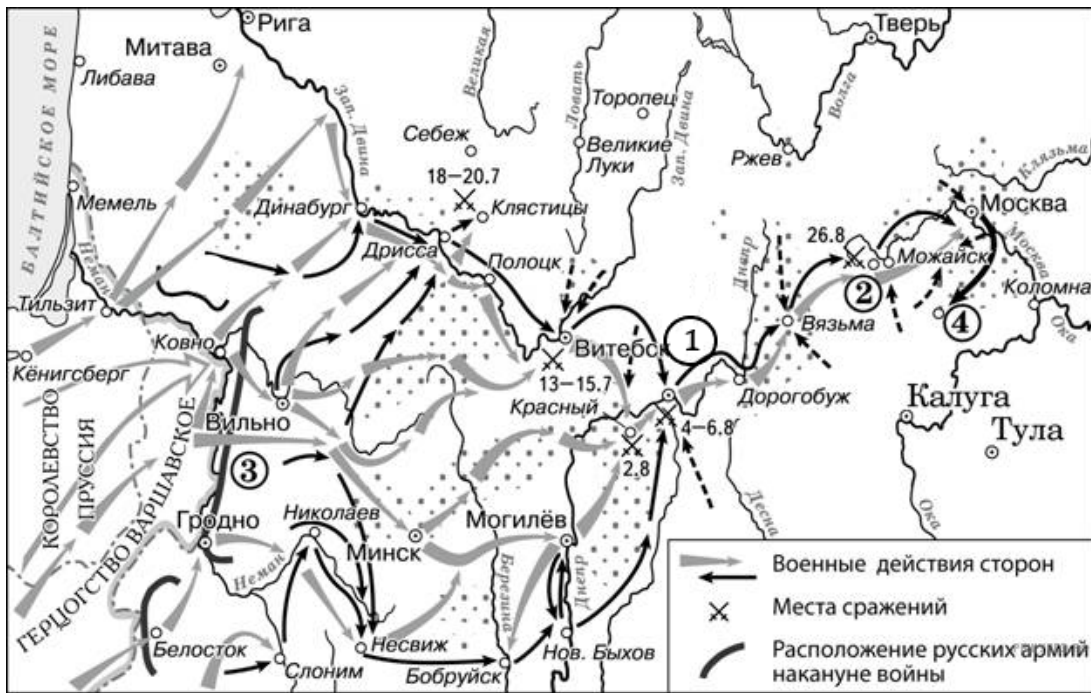
34. Кто занимал российский престол во время войны, событиям которой посвящена схема? В ответ запишите имя и отчество правителя.

Рассмотрите схему и выполните задание.



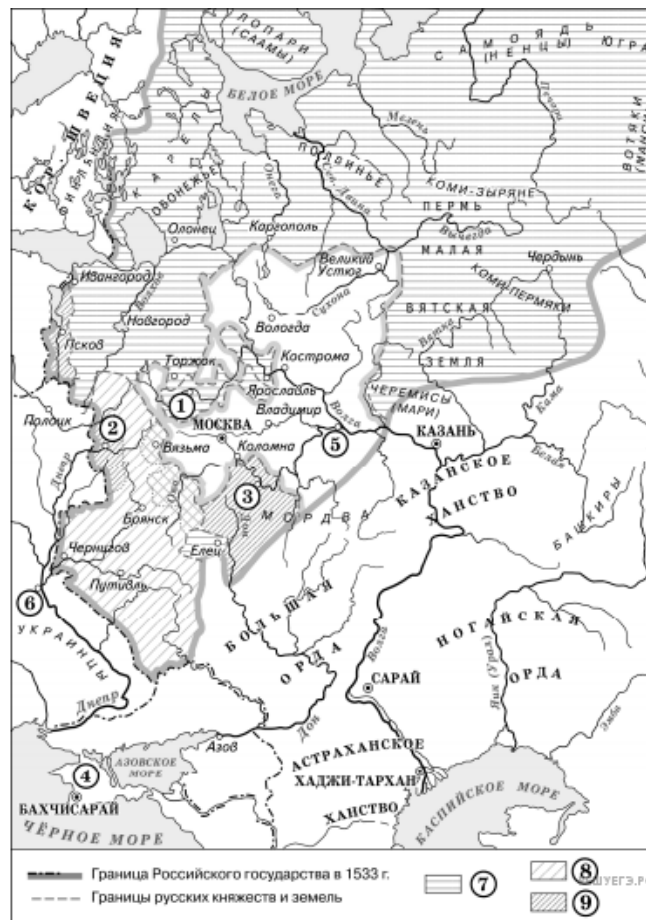
35. Назовите российского императора, в правление которого началась война, события которой обозначены на схеме. В ответе укажите его имя и порядковый номер (например, Александр Первый).

Рассмотрите схему и выполните задание.



36. Назовите российского императора, в царствование которого происходили военные события, обозначенные на схеме (например, Александр Третий).

Рассмотрите схему и выполните задание.



37. Укажите век, когда к Российской империи впервые была присоединена территория, обозначенная на схеме цифрой 4. Ответ запишите словом.

Рассмотрите схему и выполните задание.



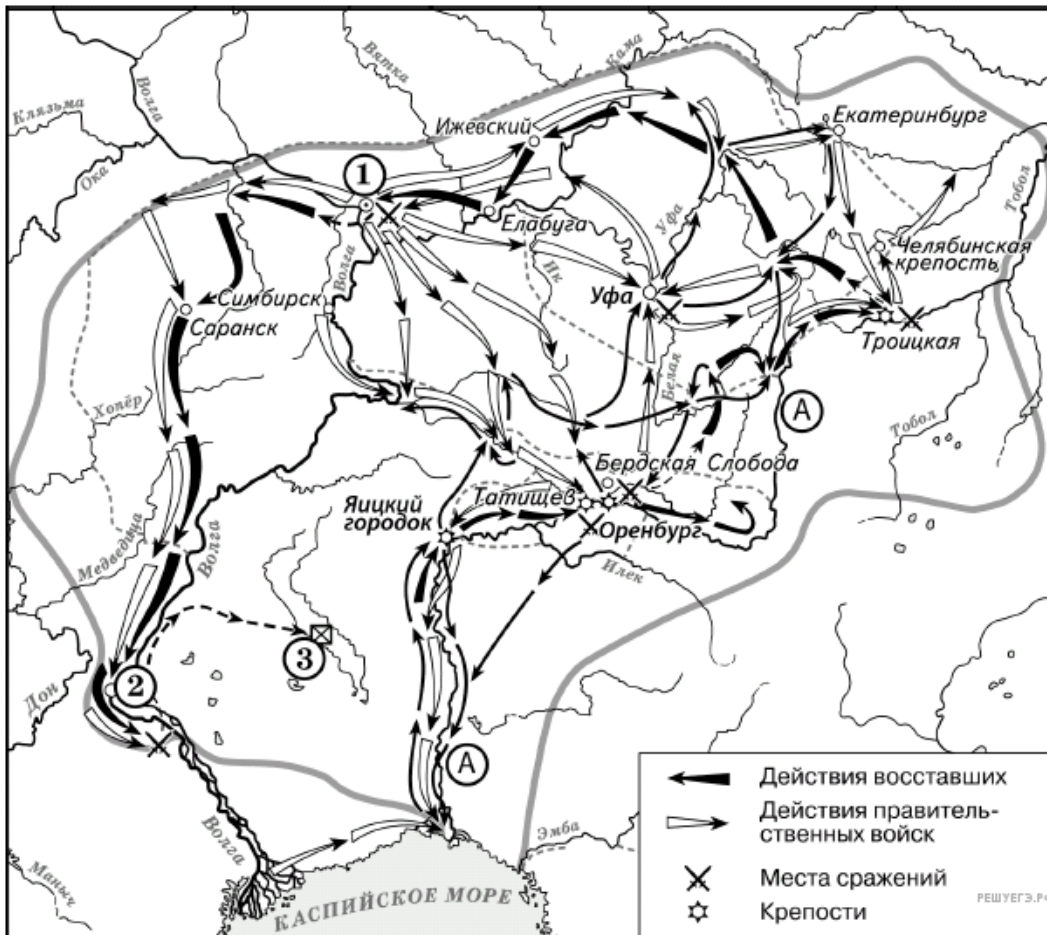
38. Укажите монарха, в правление которого в состав Российского государства вошли территории, обозначенные на схеме цифрой 1.

Рассмотрите схему и выполните задание.



39. Укажите монарха, в правление которого (которой) в состав Российского государства вошли территории, обозначенные на схеме цифрой 1. В ответе запишите его имя и порядковый номер или его имя и прозвание (например, Александр Первый или Александр Благословенный).

Рассмотрите схему и выполните задание.



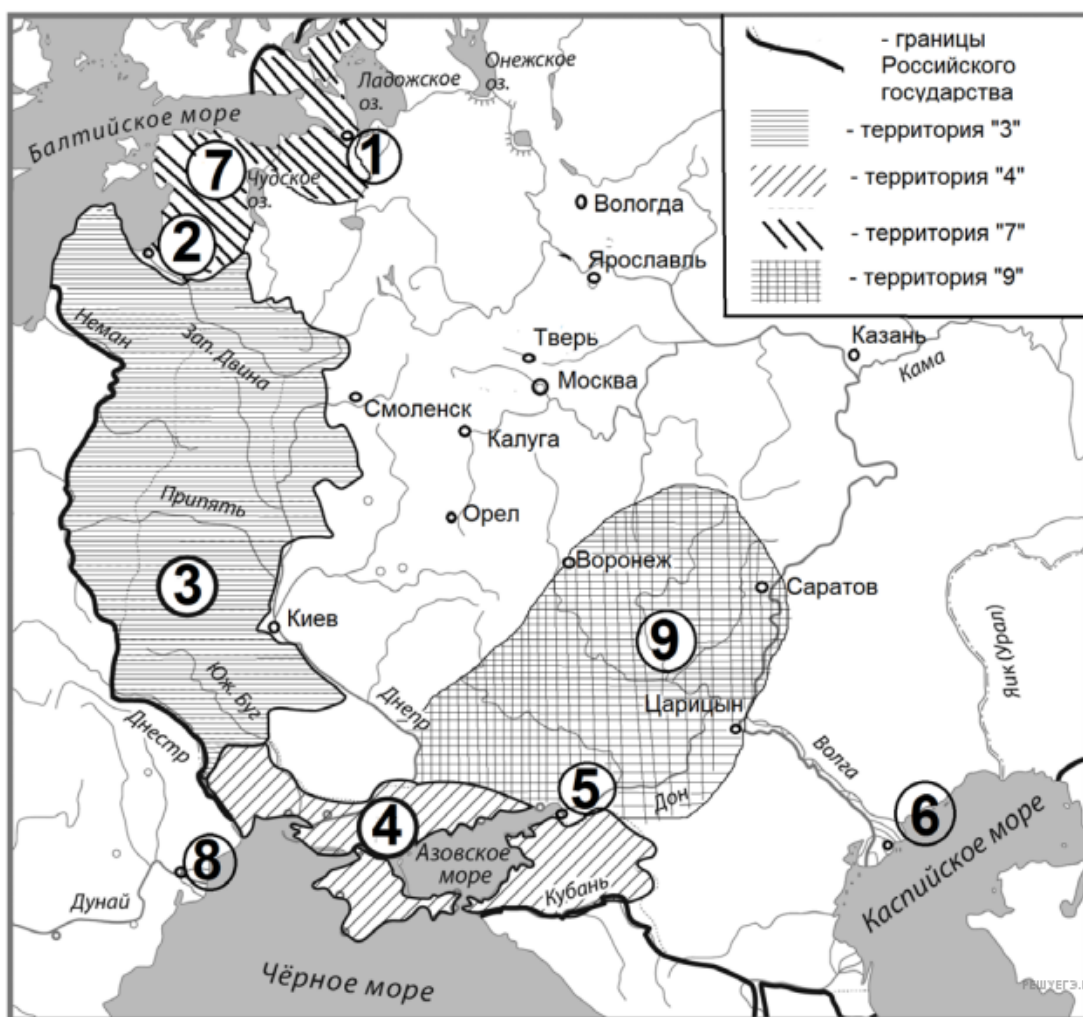
40. Укажите век, в котором происходили события, обозначенные на схеме. Ответ запишите словом.

Рассмотрите схему и выполните задание.



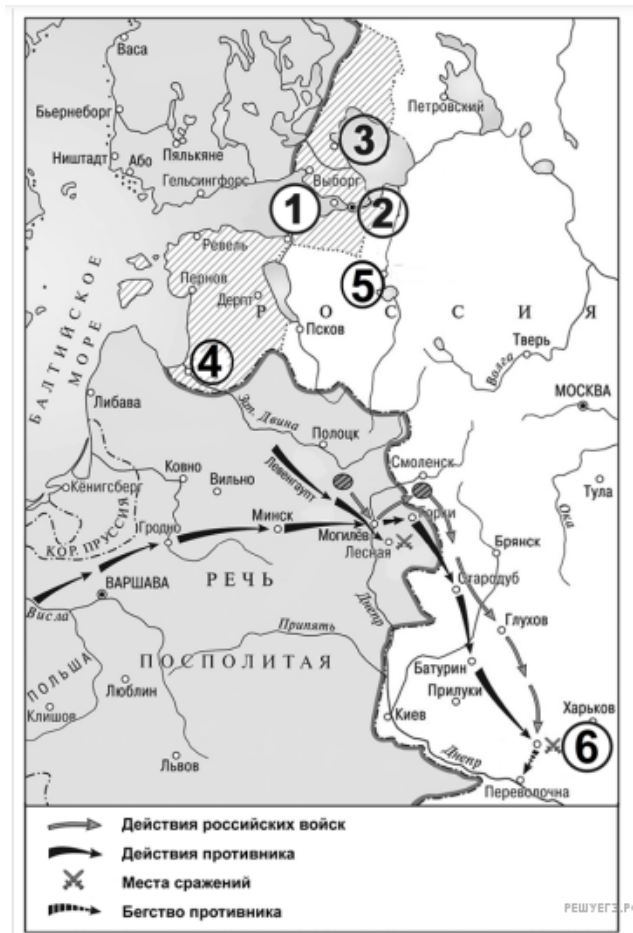
41. Напишите словом век, к началу которого сложились указанные на схеме границы Российского государства.

Рассмотрите схему и выполните задание.



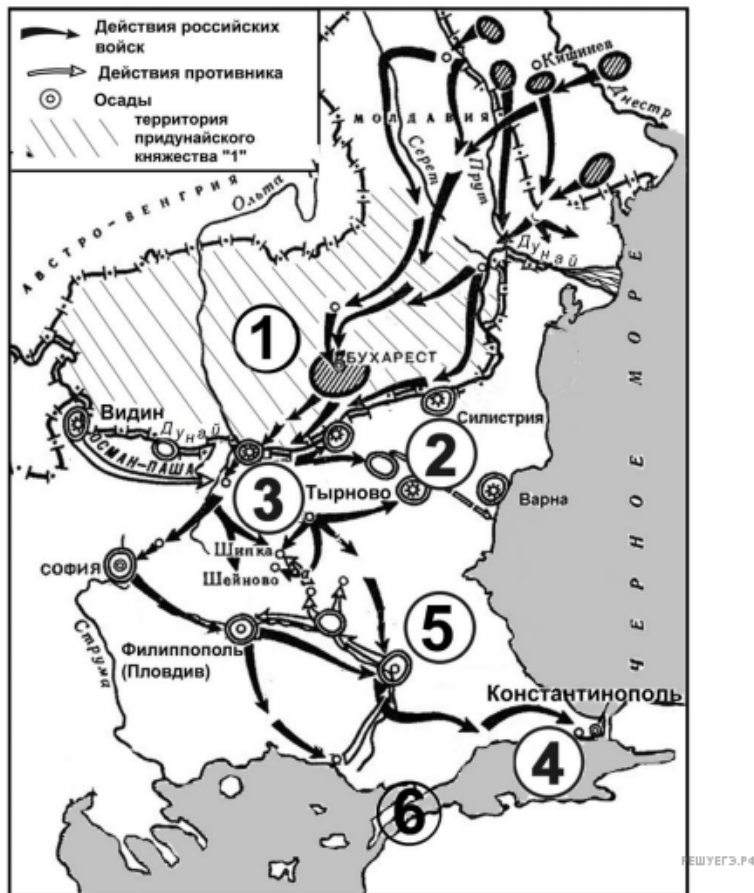
42. Назовите российского государя, в царствование которого к России была присоединена территория, обозначенная на схеме цифрой 7.

Рассмотрите схему и выполните задание.



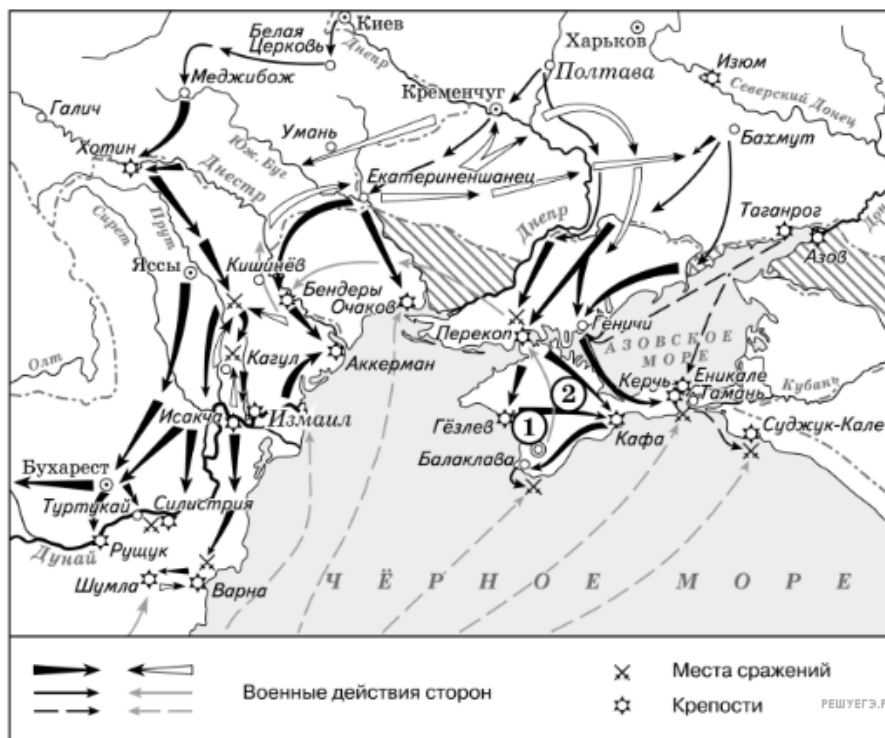
43. Назовите войну, события которой обозначены на схеме.

Рассмотрите схему и выполните задание.



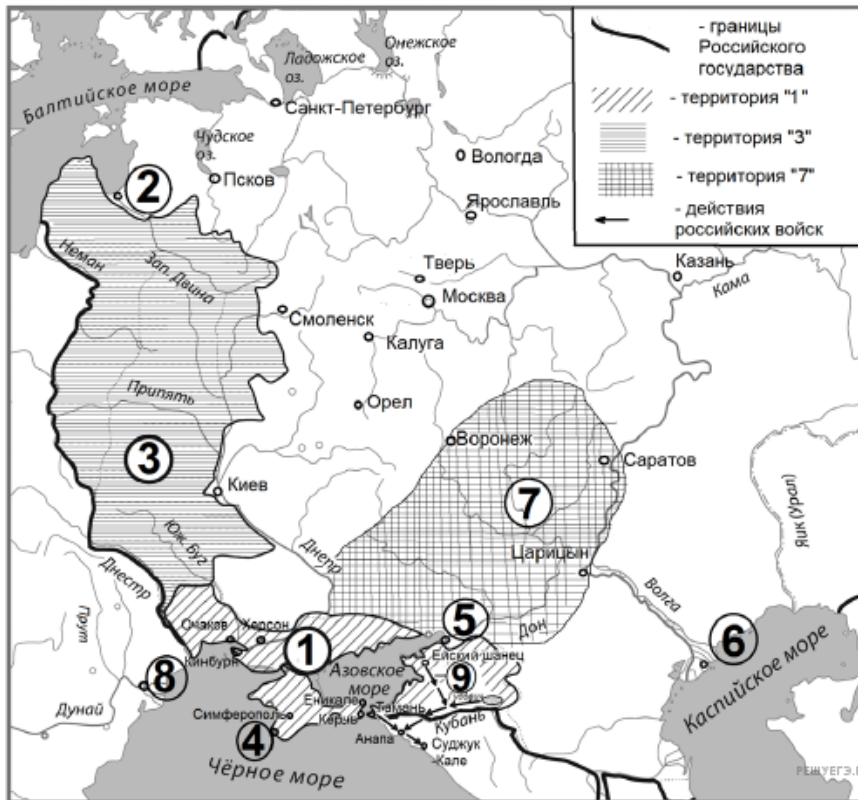
44. Назовите российского государя, к царствованию которого относятся обозначенные на схеме военные события.

Рассмотрите схему и выполните задание.



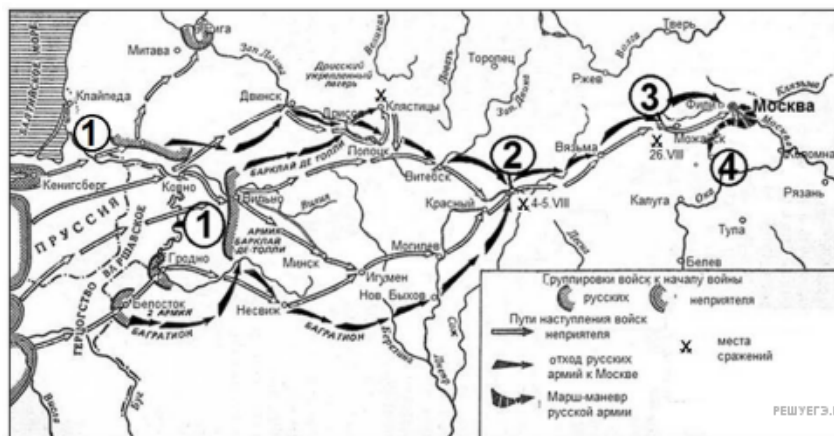
45. Назовите монарха, в чье правление шла война, события которой обозначены на данной схеме.

Рассмотрите схему и выполните задание.



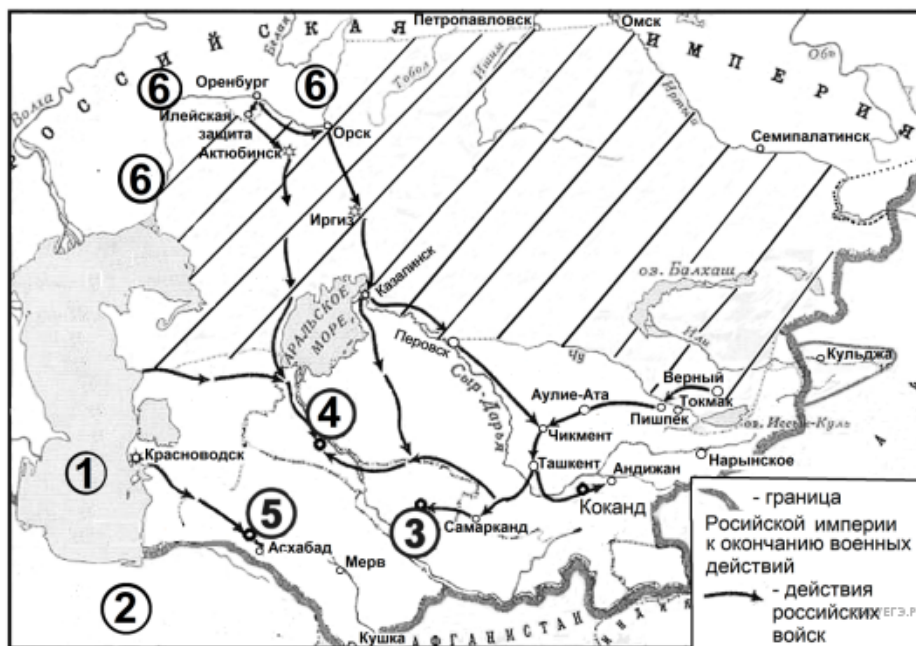
46. Назовите российского/российскую правителя/правительницу, в чье царствование к Российской империи была присоединена территория, обозначенная в легенде схемы цифрой 1.

Рассмотрите схему и выполните задание.



47. Назовите предводителя неприятельского войска, действия которого обозначены на схеме.

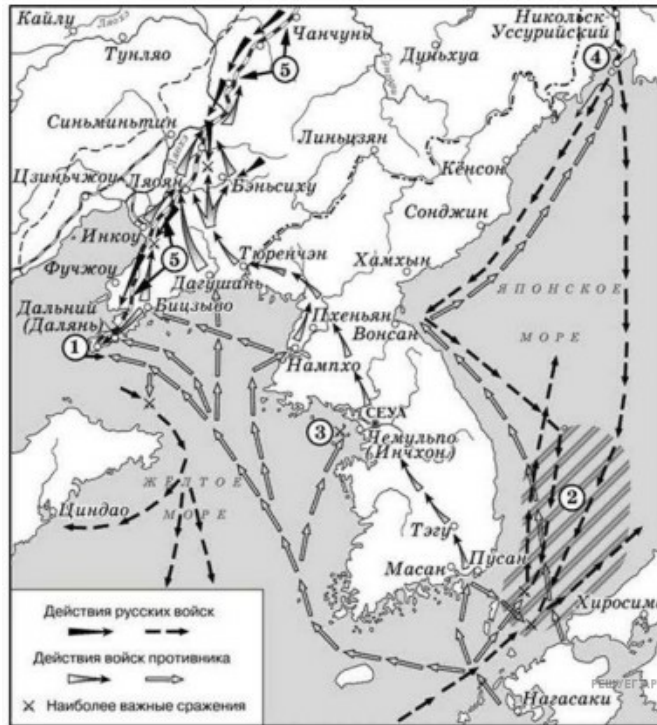
Рассмотрите схему и выполните задание.



Карта составлена по состоянию на 01.01.2023

48. Напишите название моря, обозначенного на схеме цифрой 1.

Рассмотрите схему и выполните задание.



50. Запишите пропущенное слово: «События, обозначенные на схеме, начали происходить в тысяча девятьсот _____ году».

Рассмотрите схему и выполните задания 9–12.



51. Укажите императора (императрицу), занимавшего(-ую) российский престол в период войны, события которой отражены на схеме.

Рассмотрите схему и выполните задания 9–12.



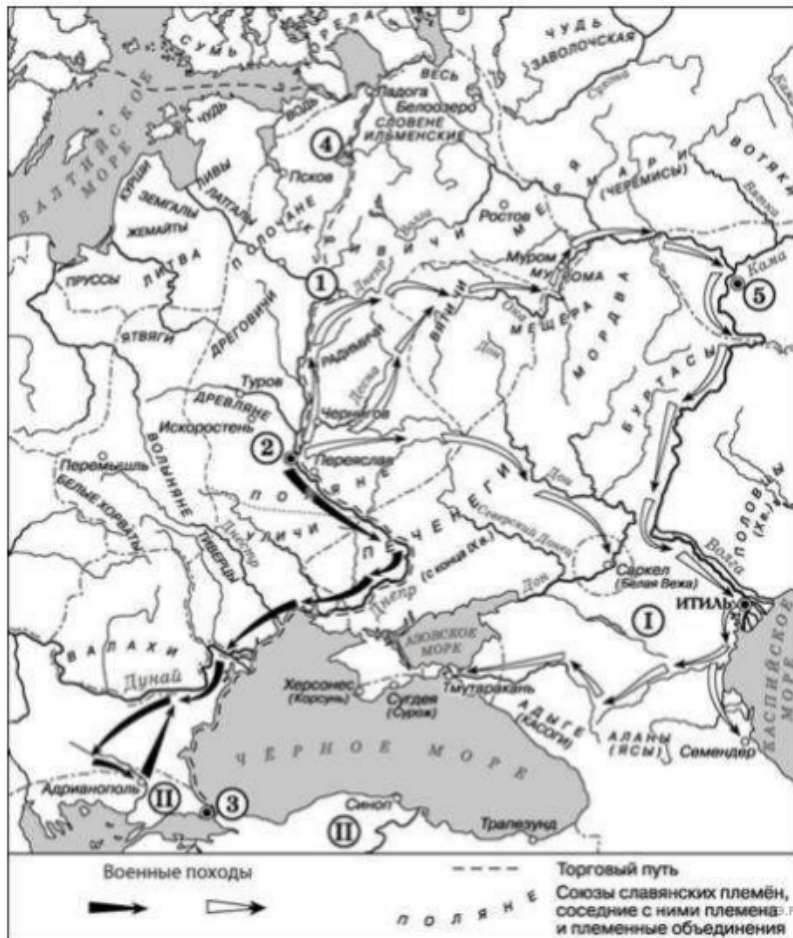
52. Укажите императора (императрицу), занимавшего (-ую) российский престол в период войны, события которой отражены на схеме.

Рассмотрите схему и выполните задания 9–12.



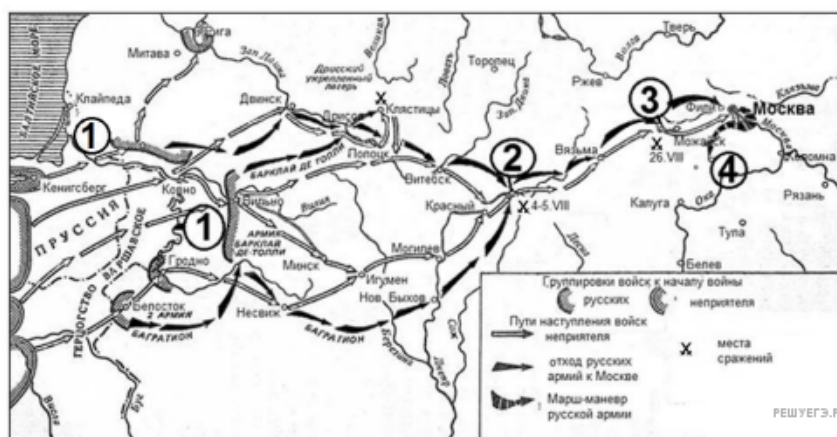
53. Заполните пропуск в предложении (укажите десятилетие): «Война, события которой отражены на схеме, окончилась в тысяча семьсот _____ годах». Ответ запишите словом.

Рассмотрите схему и выполните задания 9–12.



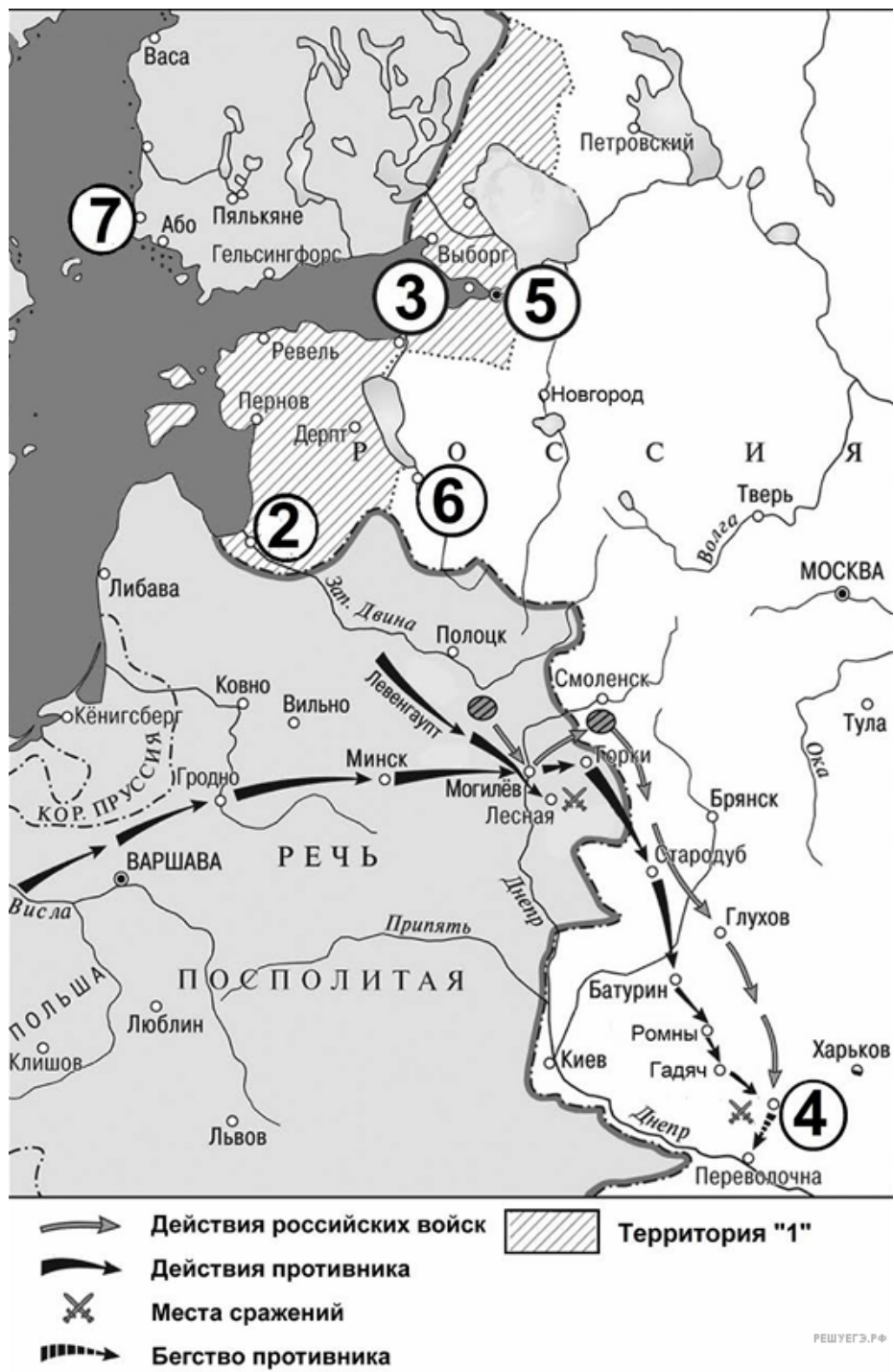
54. Укажите век, когда происходили события, показанные на схеме. Ответ запишите словом.

Рассмотрите схему и выполните задание.



55. Назовите российского государя, в правление которого происходили обозначенные на схеме события.

Рассмотрите схему и выполните задания 9–12



56. Назовите российского государя, к царствованию которого относятся обозначенные на схеме события.

Рассмотрите схему и выполните задания 9–12.



57. Укажите словом десятилетие XVIII века, к которому относятся военные события, обозначенные на схеме.