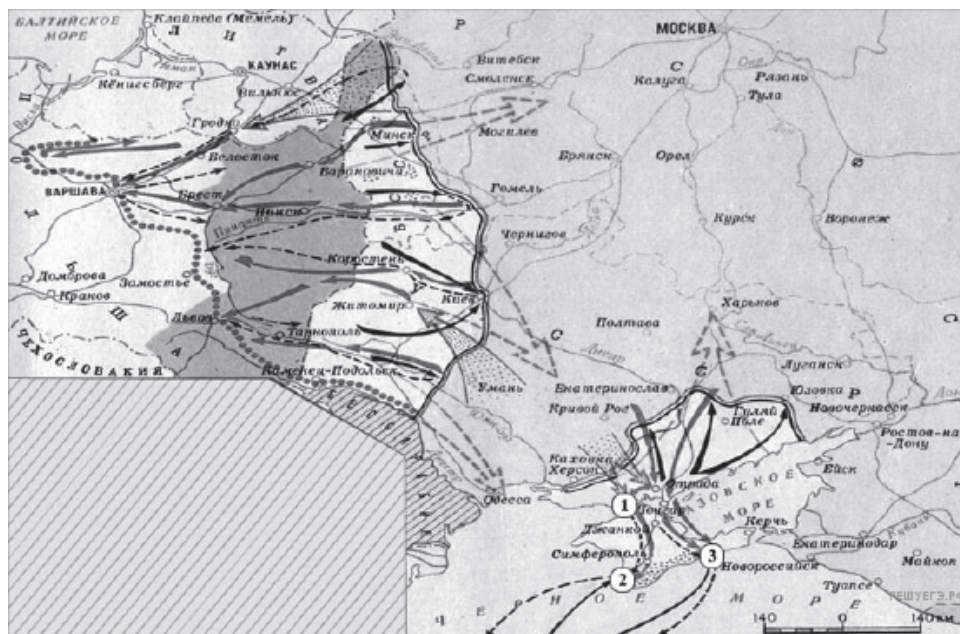


Рассмотрите схему и выполните задание.



1. Напишите название города (на момент событий, показанных на схеме), обозначенного на схеме цифрой «4».

Рассмотрите схему и выполните задание.



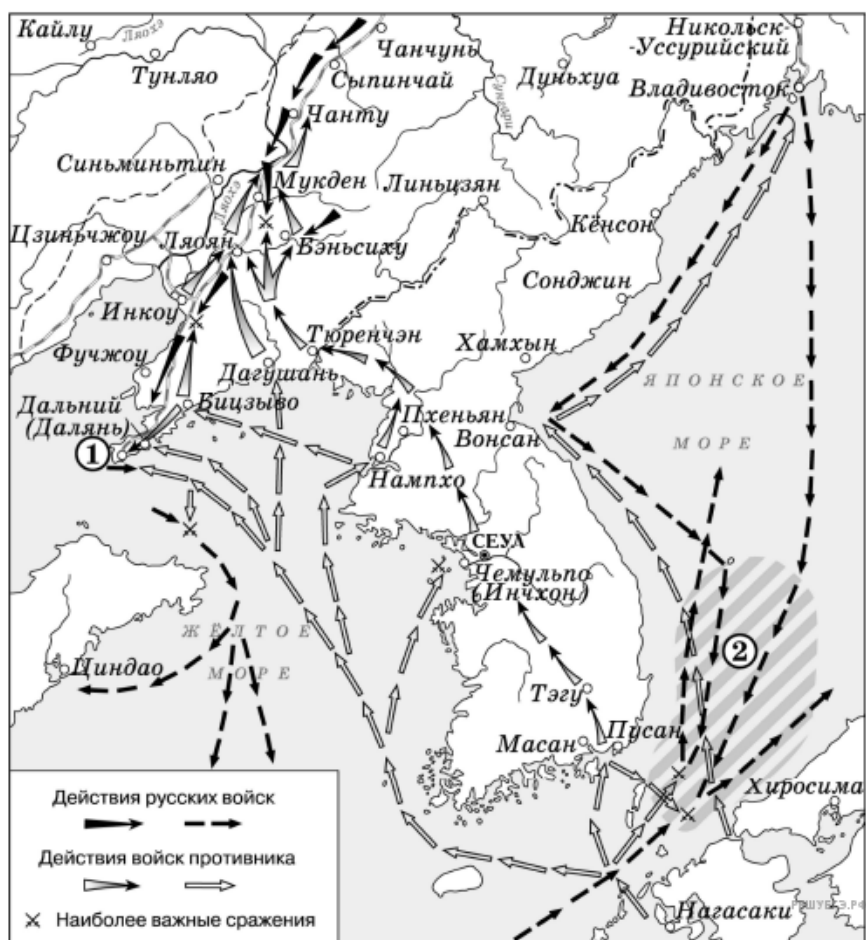
2. Напишите фамилию генерала, который руководил боевыми действиями на юге против Советской России.

Рассмотрите схему и выполните задание.



3. Одной из цифр на схеме обозначена страна, никогда не входившая в военную организацию (военный блок), в которую в середине 1960-х гг. входили все остальные страны, обозначенные цифрами. Укажите название этой страны.

Рассмотрите схему и выполните задание.



4. Укажите название города, обозначенного на схеме цифрой 1.

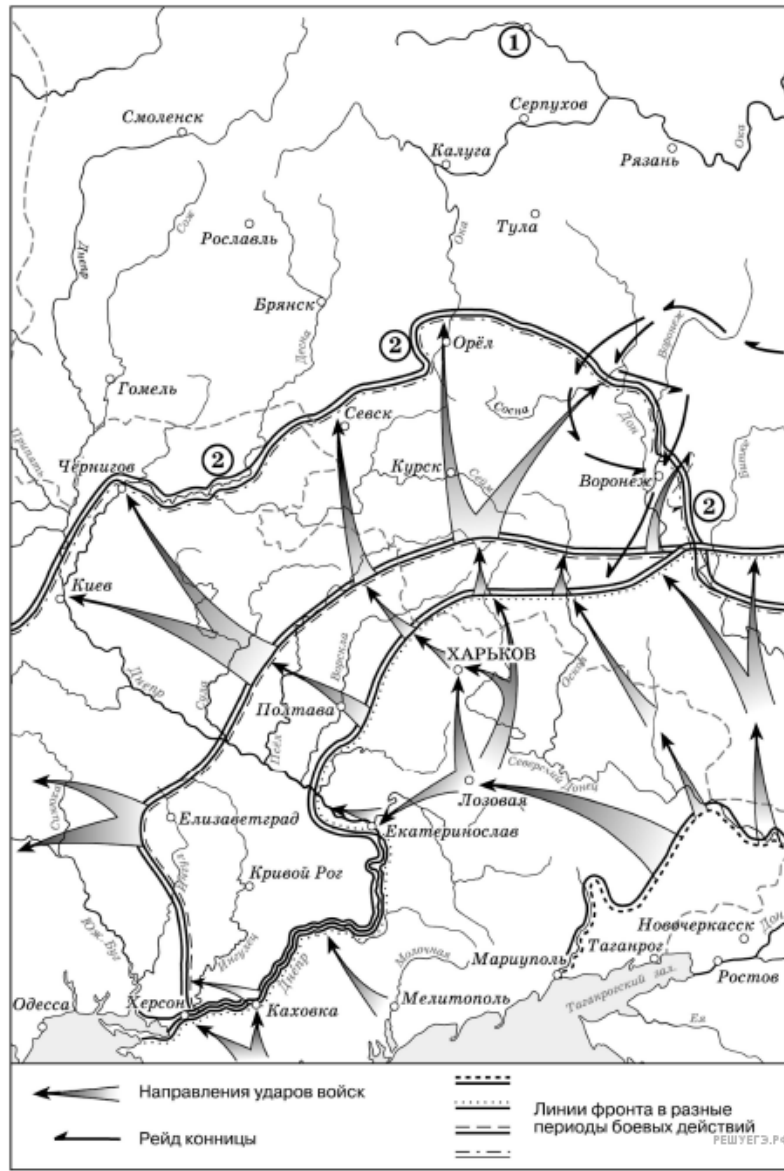
Рассмотрите схему и выполните задание.



5. Рассмотрите схему событий одного из периодов Великой Отечественной войны и выполните задание

Укажите название населённого пункта, обозначенного на схеме цифрой 2, в районе которого произошло соединение войск двух фронтов Красной армии.

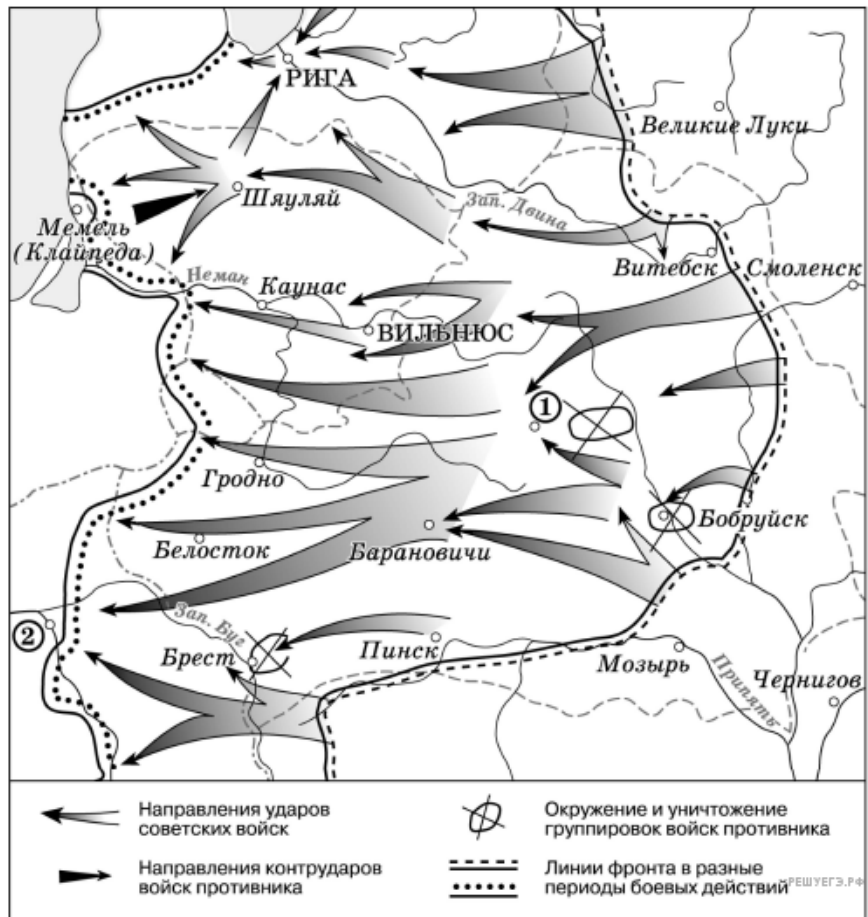
Рассмотрите схему и выполните задание.



6. Рассмотрите схему действий белогвардейцев в ходе одного из периодов Гражданской войны в России и выполните задание.

Напишите пропущенное слово: «События, обозначенные на схеме, происходили в тысяча девятьсот _____ году».

Рассмотрите схему и выполните задание.



7. Рассмотрите схему событий одного из периодов Великой Отечественной войны и выполните задание.

Укажите название города, обозначенного на схеме цифрой 1.

Рассмотрите схему и выполните задание.



8. Укажите название города, обозначенного на схеме цифрой 1.

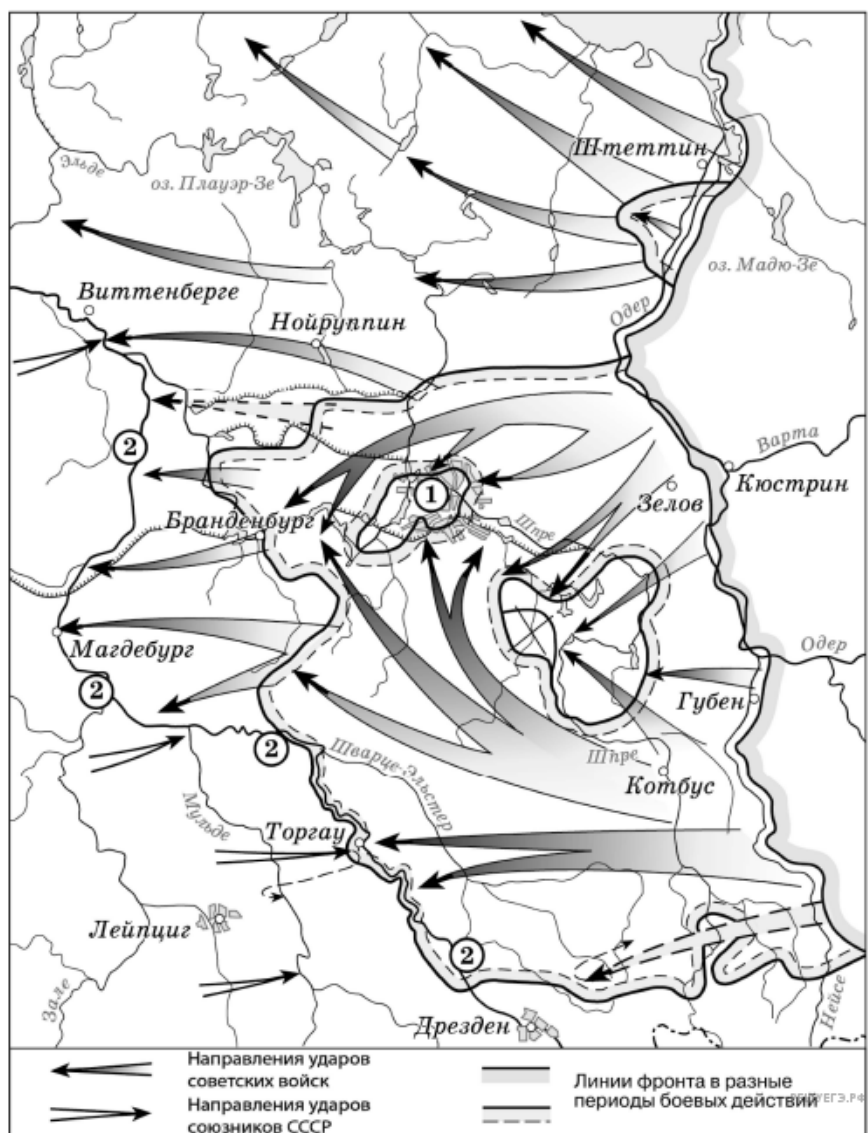
Рассмотрите схему и выполните задание.



9. Рассмотрите схему событий одного из периодов Великой Отечественной войны и выполните задание.

Укажите название города, обозначенного на схеме цифрой 2, в районе которого произошло соединение войск двух фронтов Красной армии.

Рассмотрите схему и выполните задание.



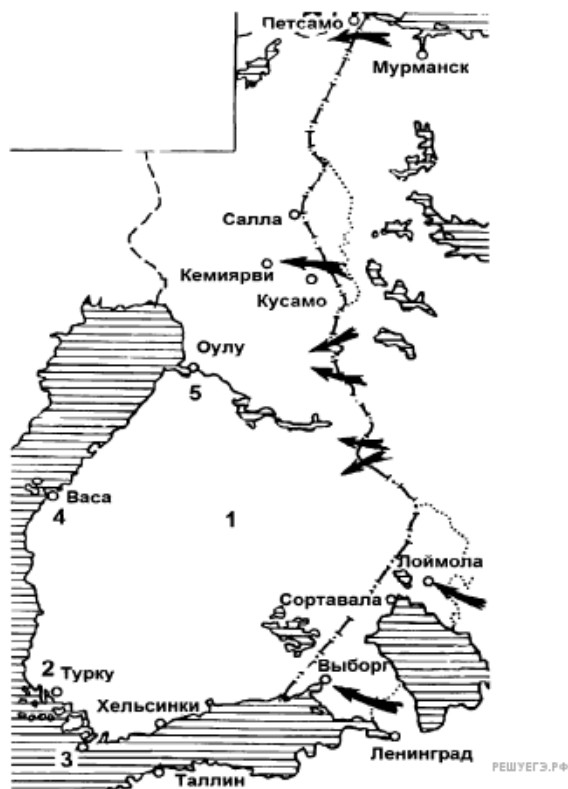
10. Укажите название города, обозначенного на схеме цифрой 1.

Рассмотрите схему и выполните задание.



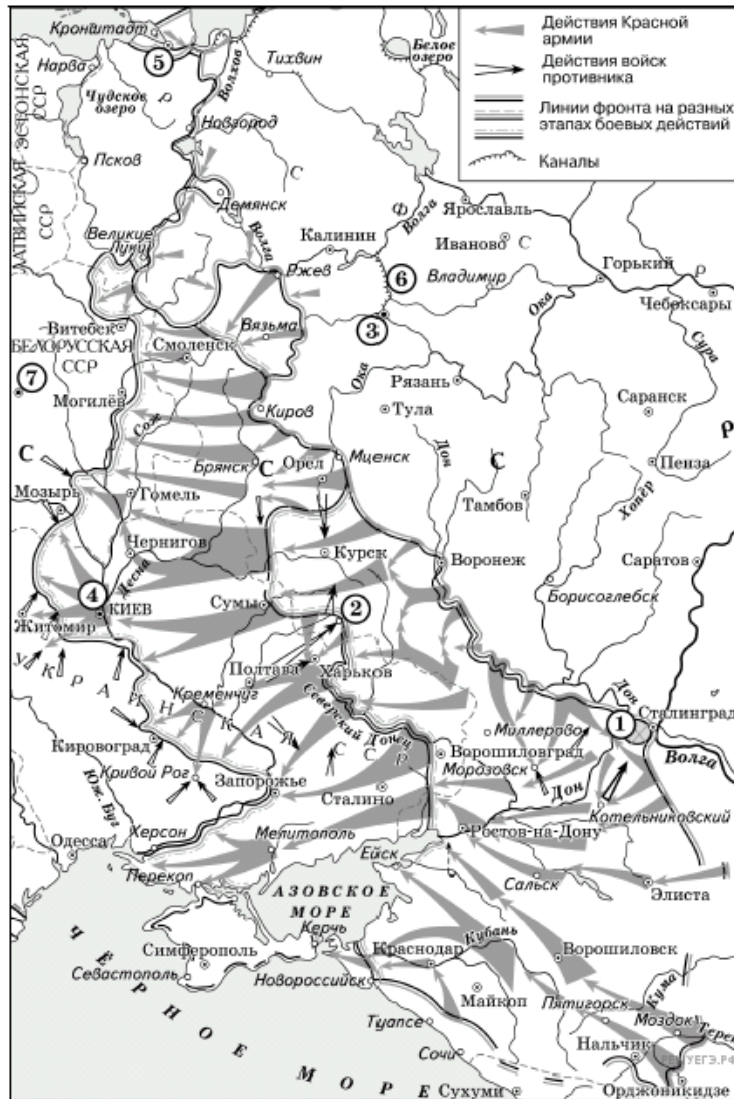
11. Какая из стран, обозначенных на схеме цифрами, никогда не входила в военную организацию (военный блок), противостоявшую военно-политическому блоку, страны-участницы которого заштрихованы на схеме? В ответе напишите название этой страны.

Рассмотрите схему и выполните задание.



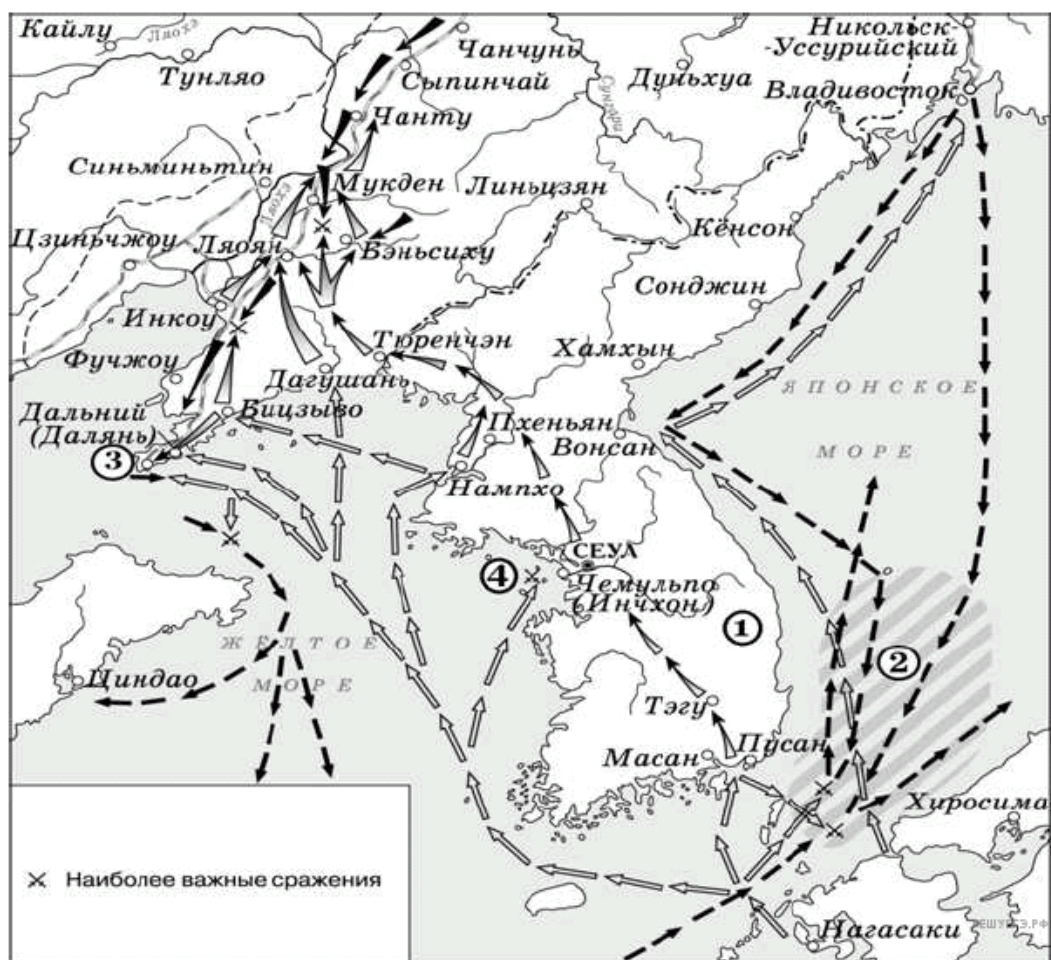
12. Напишите фамилию (псевдоним) руководителя СССР, под которой он вошел в историю, в период событий, указанных на схеме.

Рассмотрите схему и выполните задание.



13. Укажите месяц, когда от фашистов был освобождён город, обозначенный на схеме цифрой 2.

Рассмотрите схему и выполните задание.



14. Укажите название полуострова, обозначенного на схеме цифрой 1.

Рассмотрите схему и выполните задание.



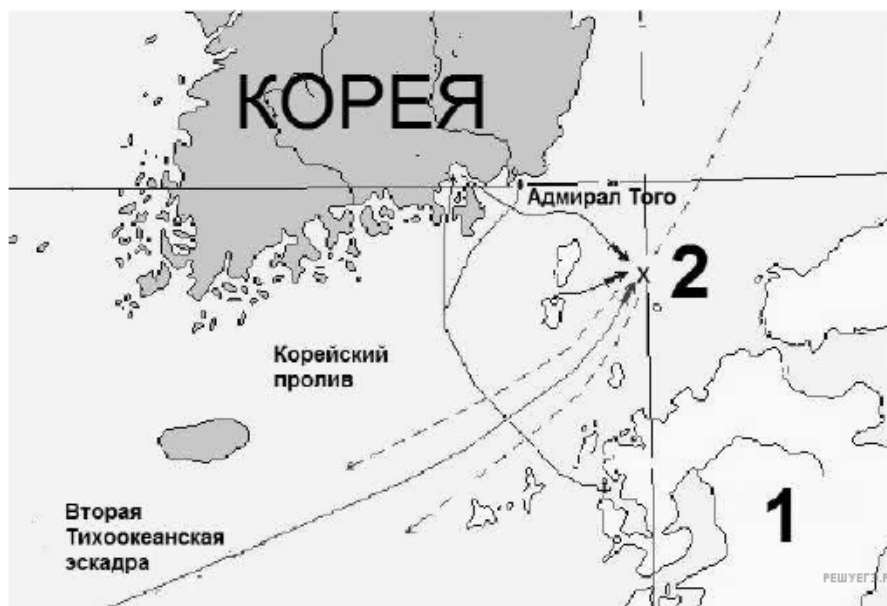
15. Заполните пропуск в следующей фразе: «Изображённое на схеме сражение произошло в тысяча девятьсот сорок _____ году».

Рассмотрите схему и выполните задание.



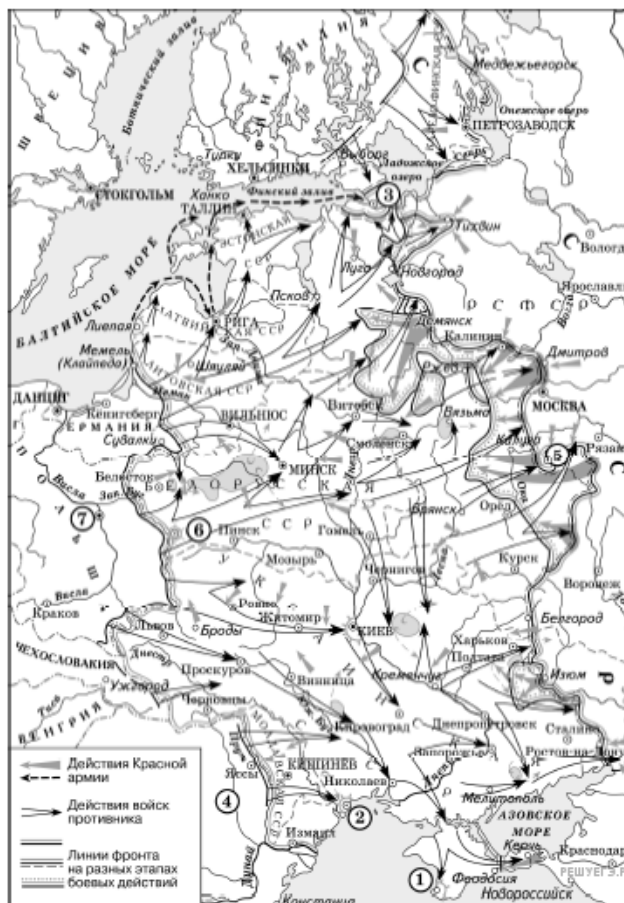
16. Запишите словом пропущенный во фразе год: «Изображённая на схеме битва началась в тысяча девятьсот сорок _____ году».

Рассмотрите схему и выполните задание.



17. Назовите императора России, царствовавшего в это время. Имя правителя указывается с порядковым номером (например, Александр Первый).

Рассмотрите схему и выполните задание.



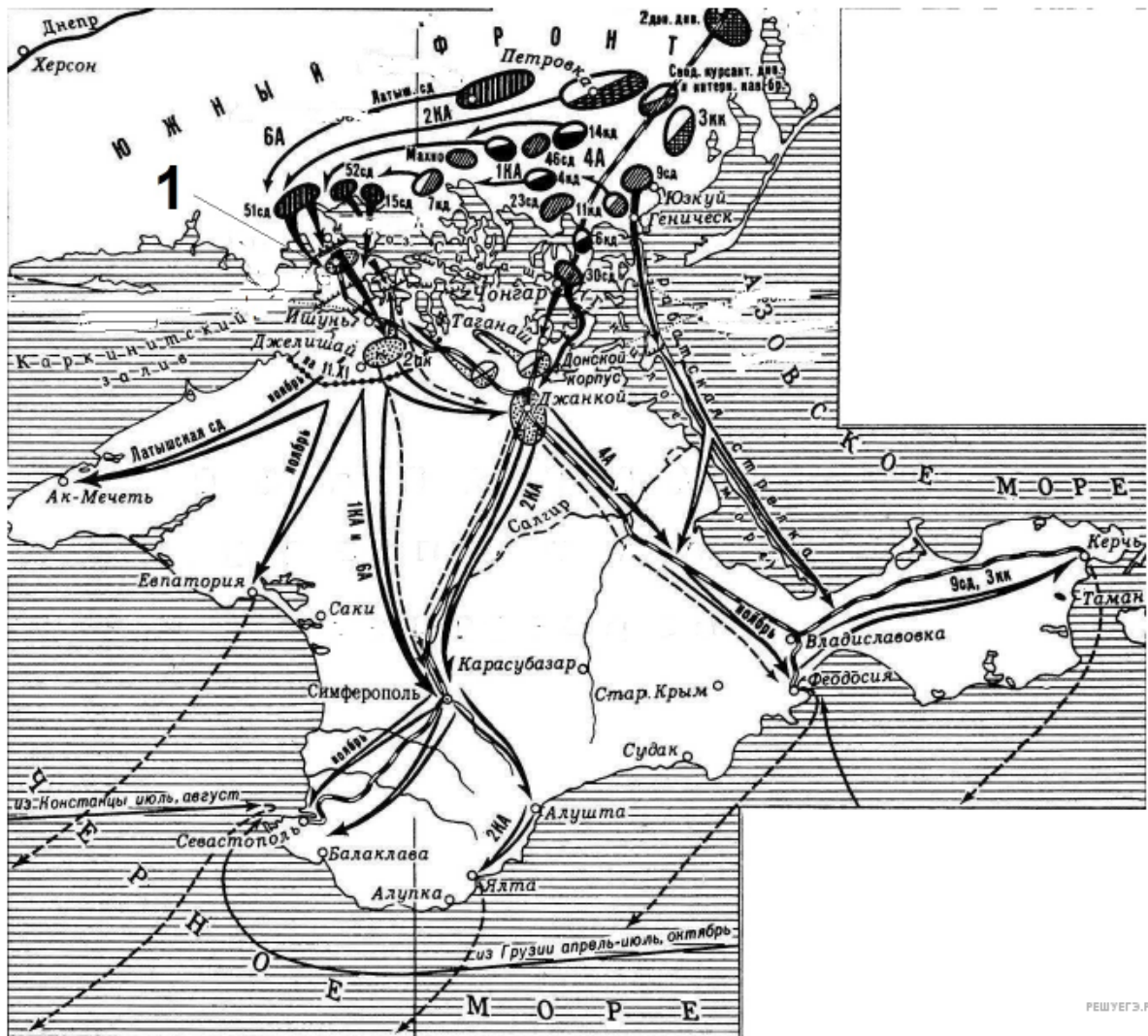
18. Укажите название города, обозначенного на схеме цифрой 5.

Рассмотрите схему и выполните задание.



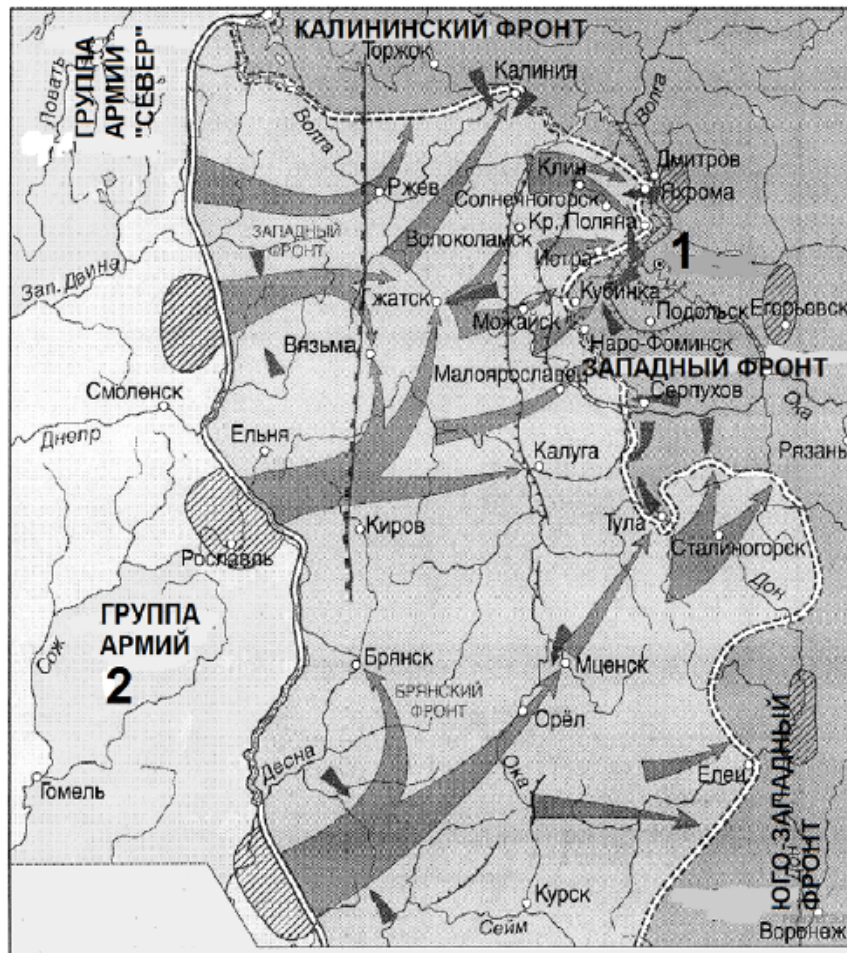
19. Заполните пропуск в следующей фразе: «Изображённое на схеме сражение произошло в тысяча девятьсот сорок _____ году».

Рассмотрите схему и выполните задание.



20. Напишите название укреплений, обозначенных на схеме под цифрой 1.

Рассмотрите схему и выполните задание.

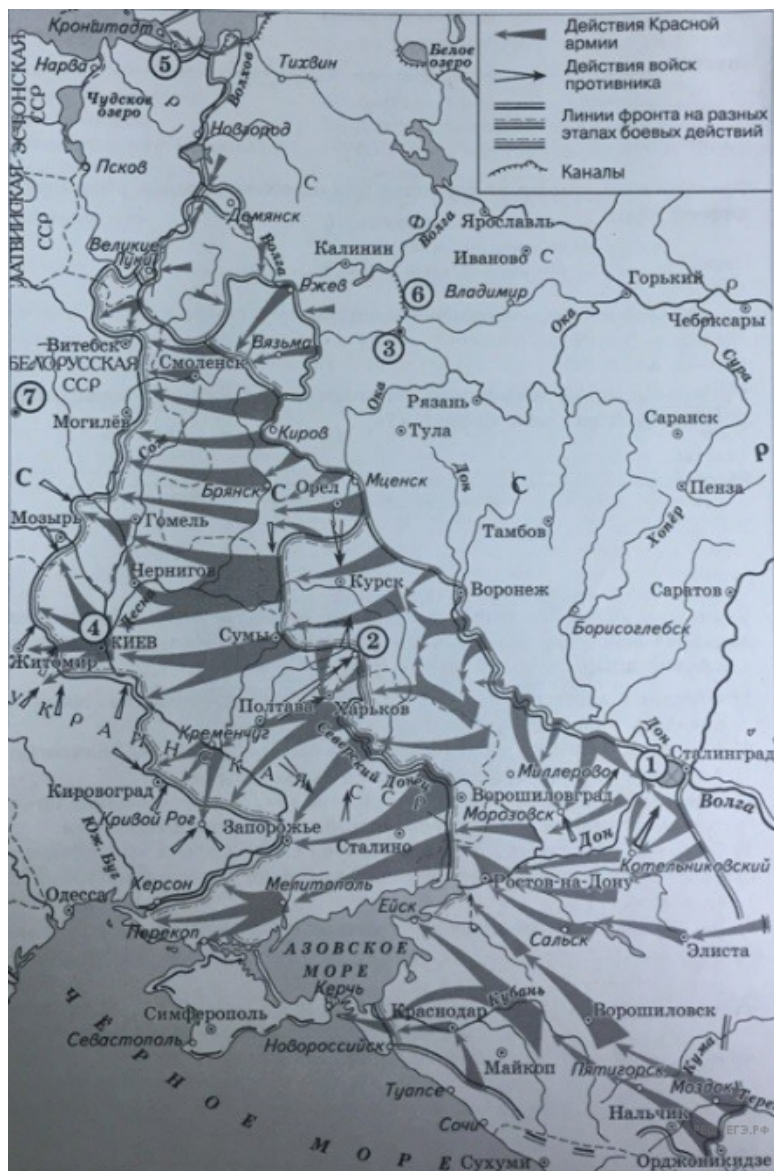


21. Напишите название немецкой группы войск, обозначенной на схеме цифрой 2.

22. Закончите предложение: «Боевые действия, обозначенные на схеме стрелками, проходили в тысяча девятьсот ____ году». Ответ запишите в виде слова (словосочетания).



Рассмотрите схему и выполните задание.



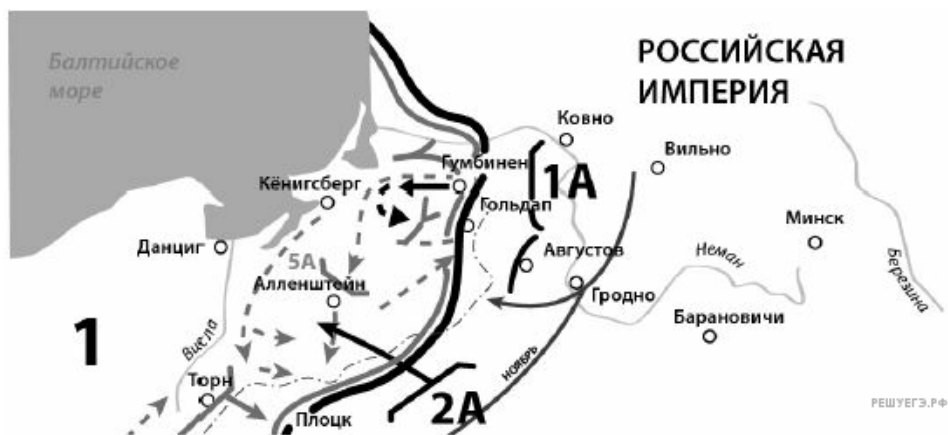
23. Укажите месяц, когда от фашистов был освобождён город, обозначенный на схеме цифрой 2.

Рассмотрите схему и выполните задание.



24. Укажите название города, обозначенного на схеме цифрой 4, в период, когда произошли события, отражённые на схеме.

25. Напишите название страны, обозначенной на схеме цифрой 1.

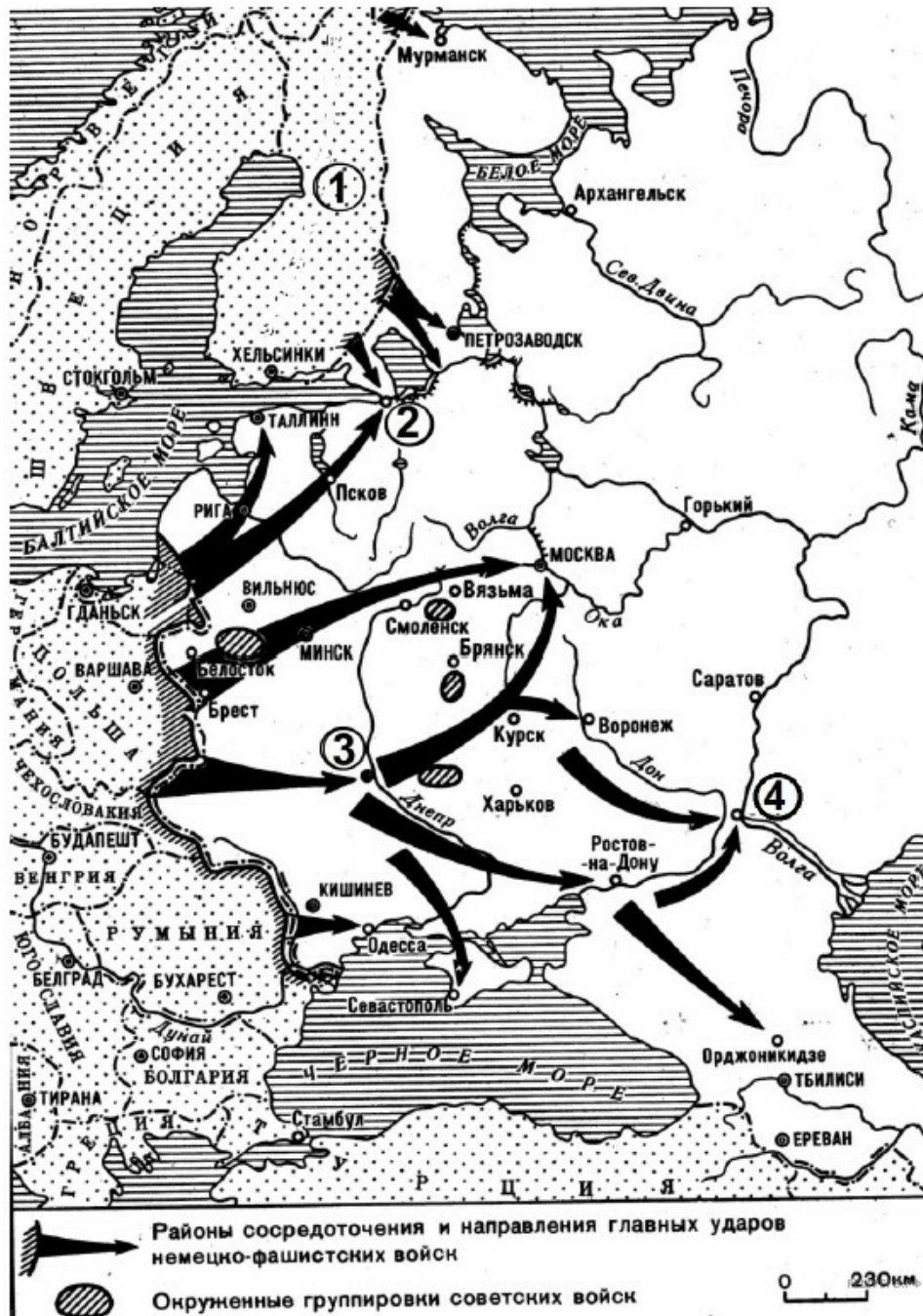


Рассмотрите схему и выполните задание.



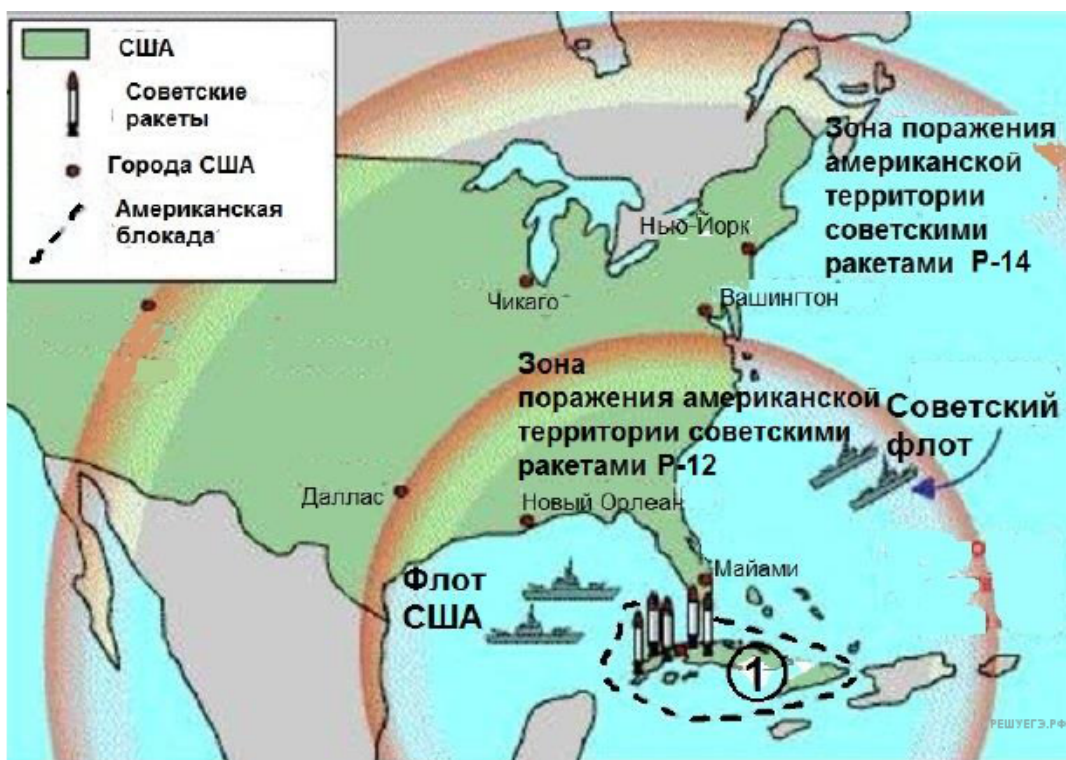
26. Напишите название реки, обозначенной на схеме цифрой 1.

Рассмотрите схему и выполните задание.



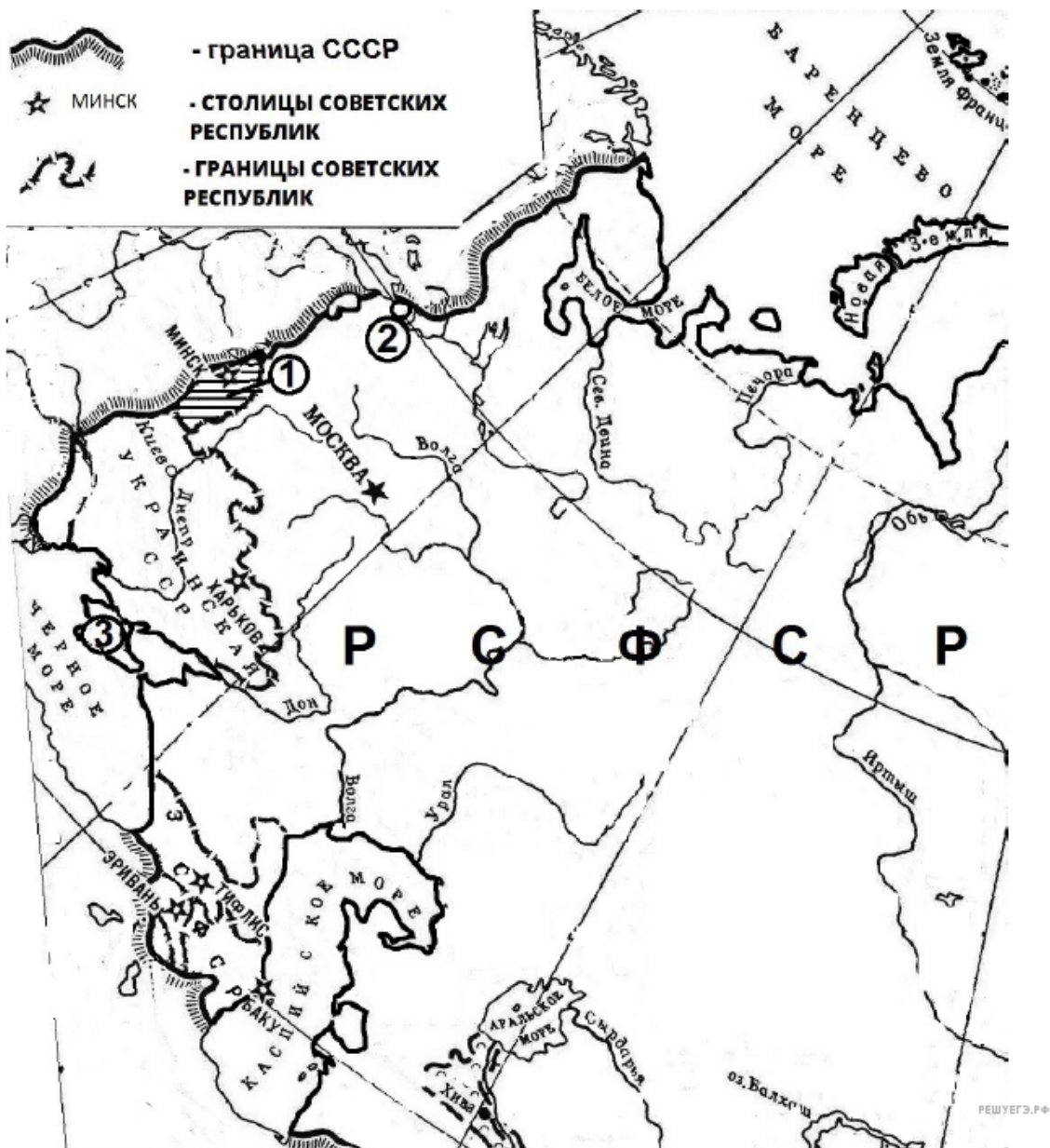
27. Напишите название страны, участвовавшей в нападении на СССР и обозначенной на схеме цифрой 1.

Рассмотрите схему и выполните задание.



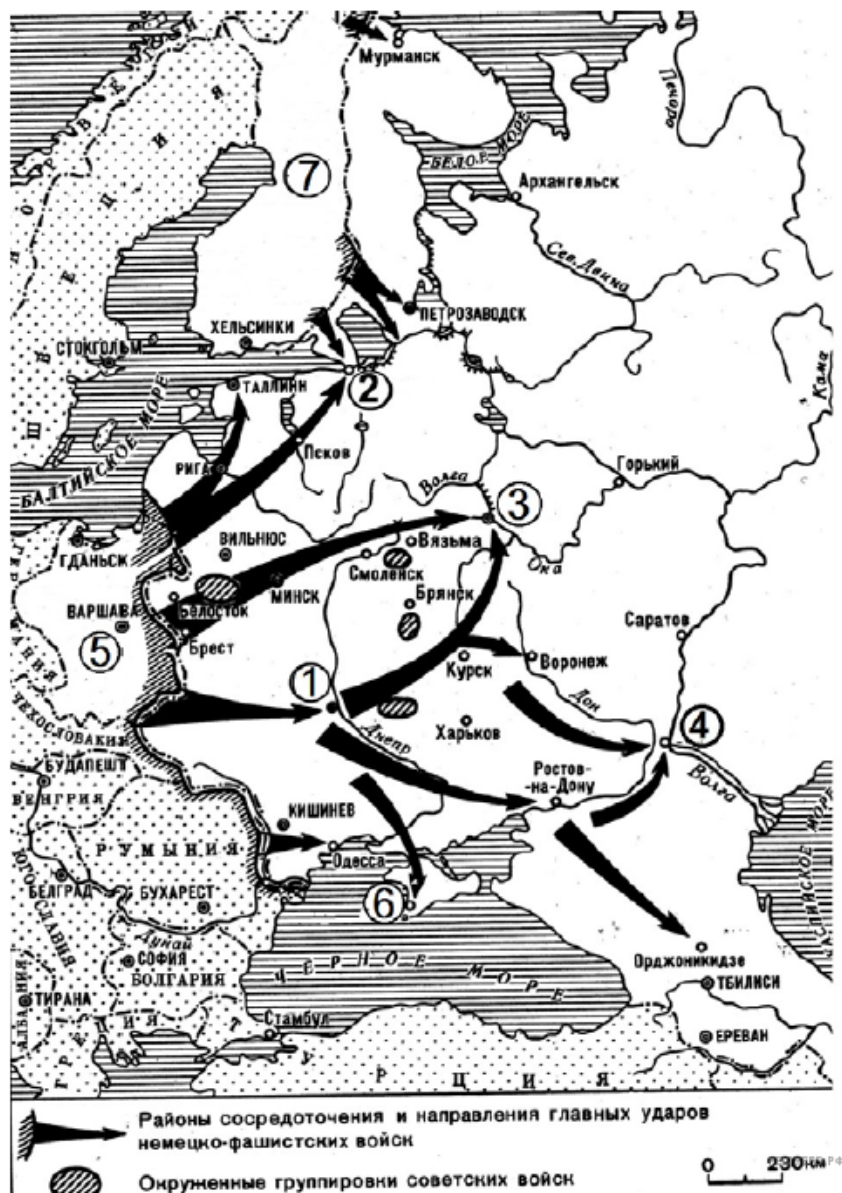
28. Напишите название страны, территория которой обозначена на схеме цифрой 1.

Рассмотрите схему и выполните задание.



29. Напишите аббревиатуру названия советской республики, обозначенной на схеме цифрой 1.

Рассмотрите схему и выполните задание.



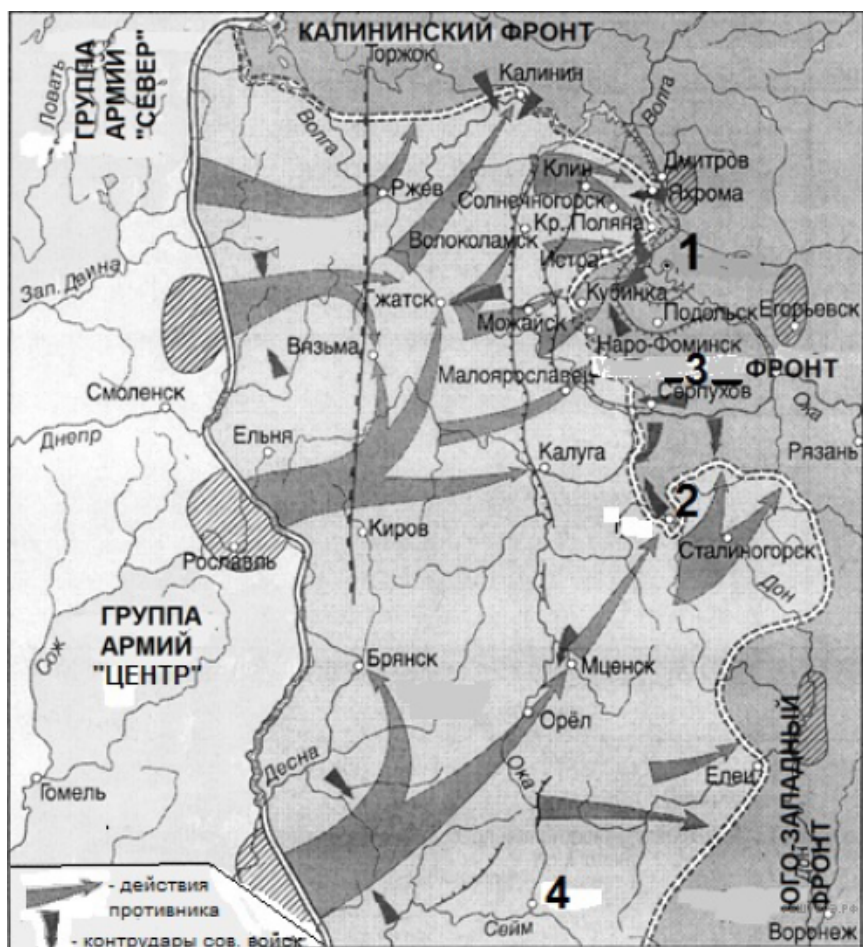
30. Напишите название обозначенной на схеме цифрой 7 страны, участвовавшей в нападении, события которого обозначены на схеме.

Рассмотрите схему и выполните задание.



31. Напишите название страны, обозначенной на схеме цифрой 1.

Рассмотрите схему и выполните задание.



32. Напишите фамилию советского генерала, который командовал обозначенным на схеме цифрой 3 фронтом к моменту окончания военных действий, которым посвящена схема.

Рассмотрите схему и выполните задание.



33. Укажите название города, обозначенного на схеме цифрой 4, в период, к которому относятся отражённые на схеме события.

Рассмотрите схему и выполните задание.



34. Укажите название государства-союзника России, обозначенного на схеме цифрой «3».

Рассмотрите схему и выполните задания 9–12.



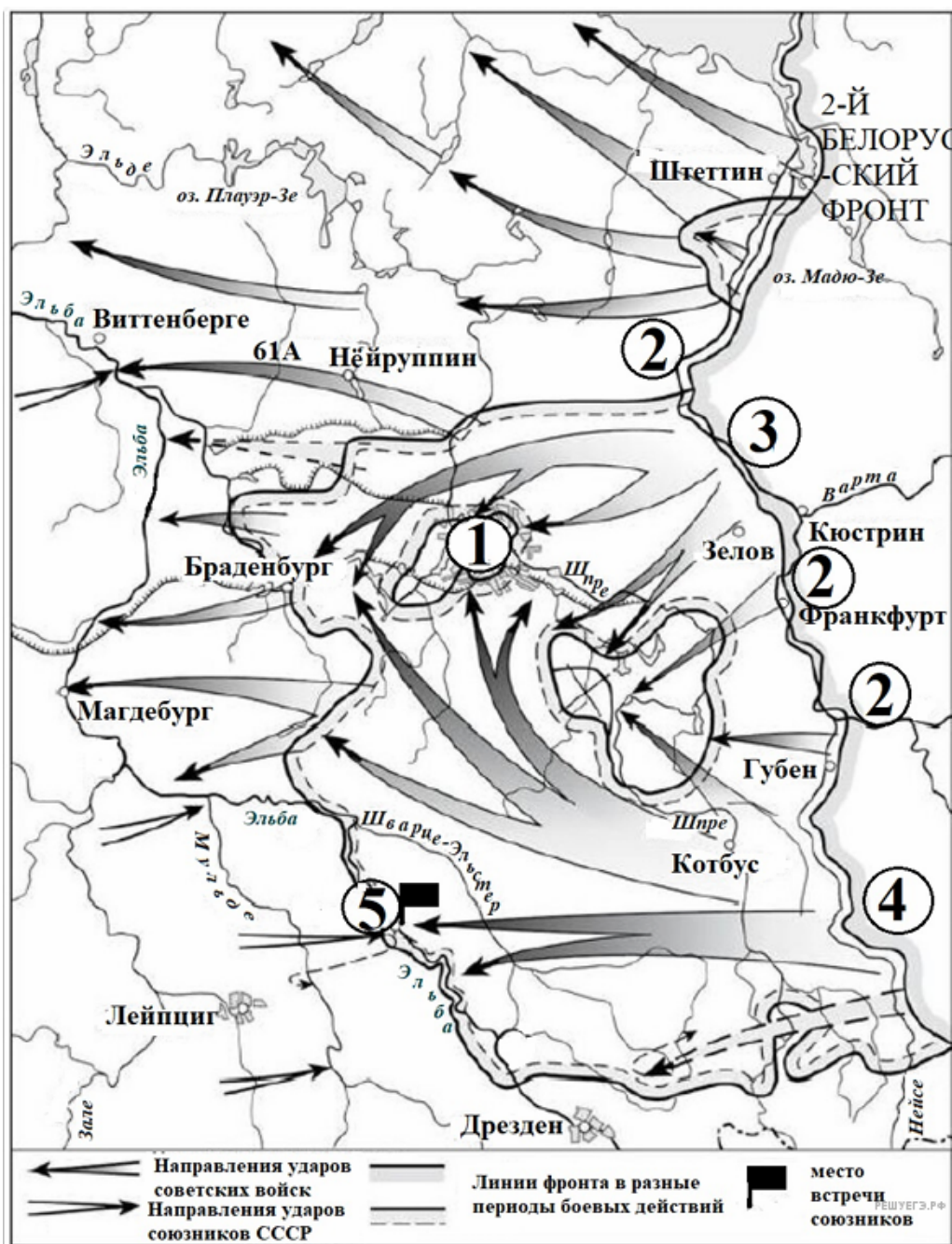
37. Укажите фамилию российского военачальника, в честь которого была названа военная операция советских войск, проводившаяся в районе, обозначенном на схеме цифрой «1».

Рассмотрите схему и выполните задания 9–12



38. Напишите фамилию главнокомандующего советскими войсками в операции, действия которой обозначены на схеме.

Рассмотрите схему и выполните задания 9–12



39. Напишите название города, обозначенного на схеме цифрой «1».