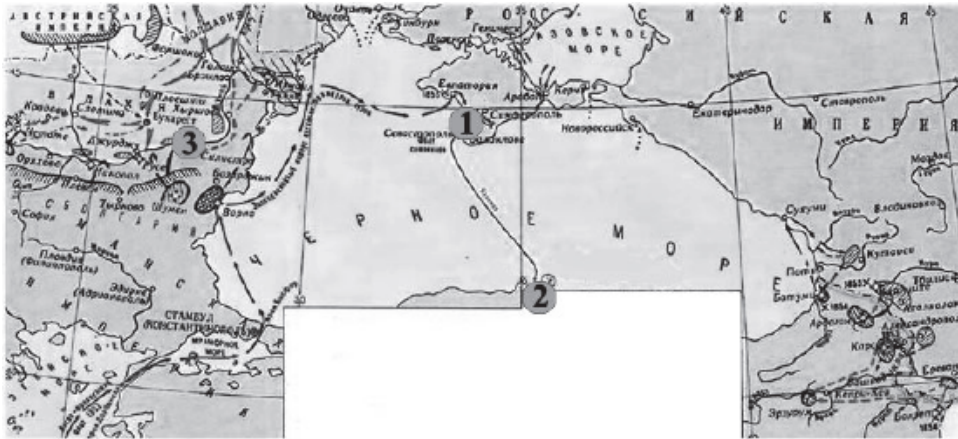


Рассмотрите схему и выполните задание.



1. Рассмотрите схему и выполните задание.

Напишите цифру, которой обозначено место последнего сражения парусных флотов.

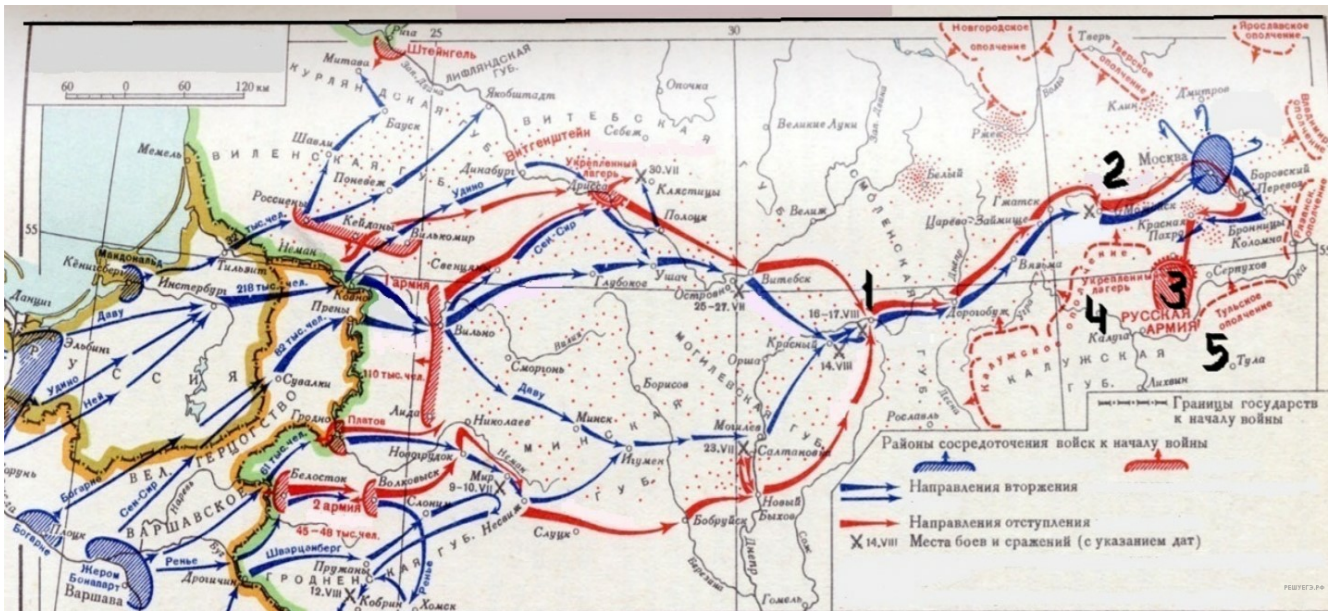
Рассмотрите схему и выполните задание.



2. Рассмотрите схему и выполните задание.

Напишите название сражения, которое обозначено под цифрой «1».

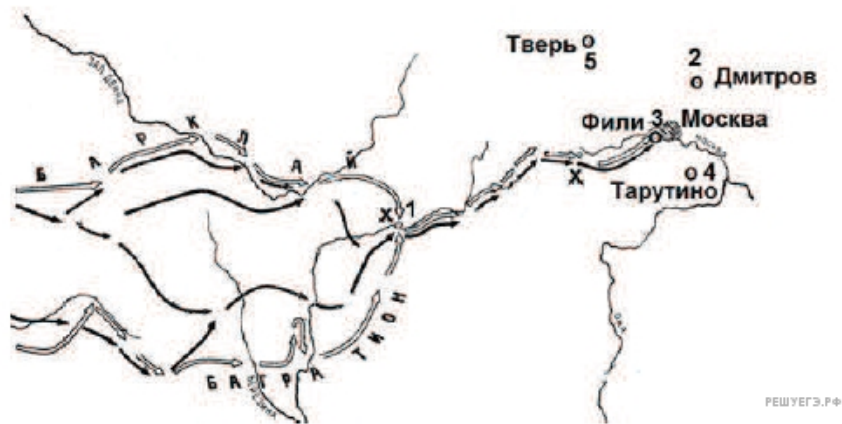
Рассмотрите схему и выполните задание.



3. Рассмотрите схему и выполните задание.

Напишите цифру, которой обозначено место, где в период данного вторжения русская армия расположилась в укрепленном лагере, получив отдых и возможность пополнить материальную часть и живую силу.

Рассмотрите схему и выполните задание.



4. Рассмотрите схему и выполните задание.

Напишите цифру, обозначающую населённый пункт, в котором русские войска встали лагерем после оставления Москвы.

Рассмотрите схему и выполните задание.



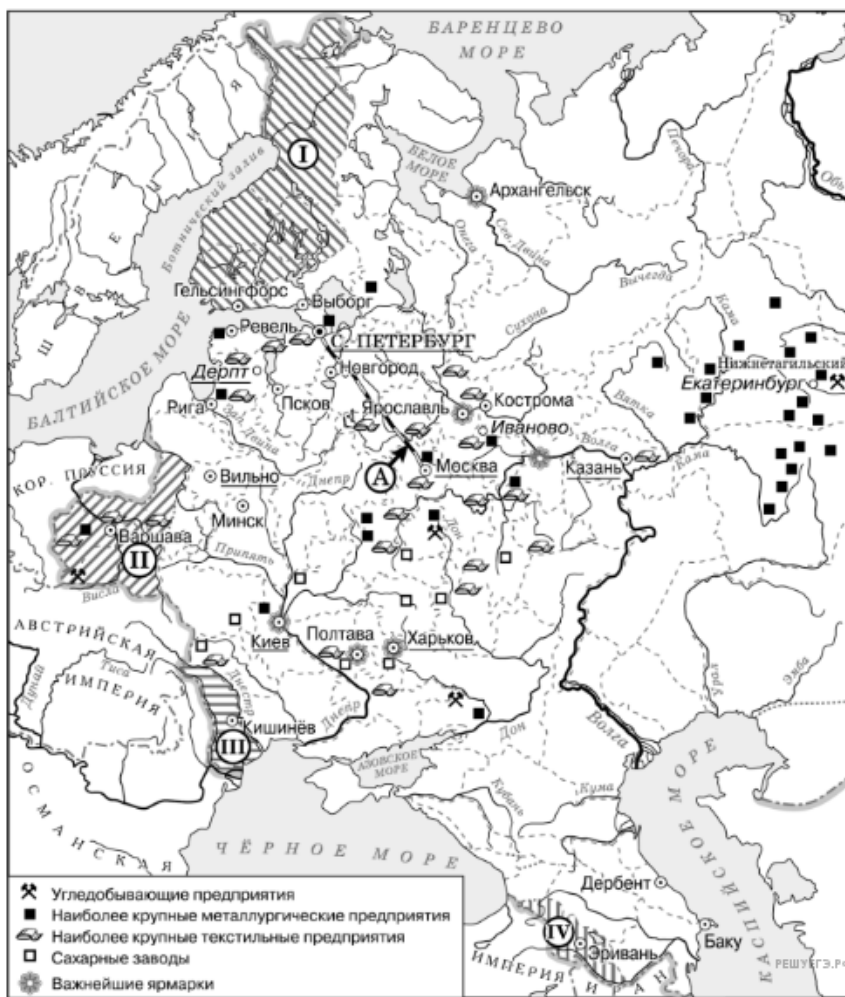
5. Напишите название государства, которое было основным противником России в войне, события которой изображены на данной схеме.

Рассмотрите схему и выполните задание.



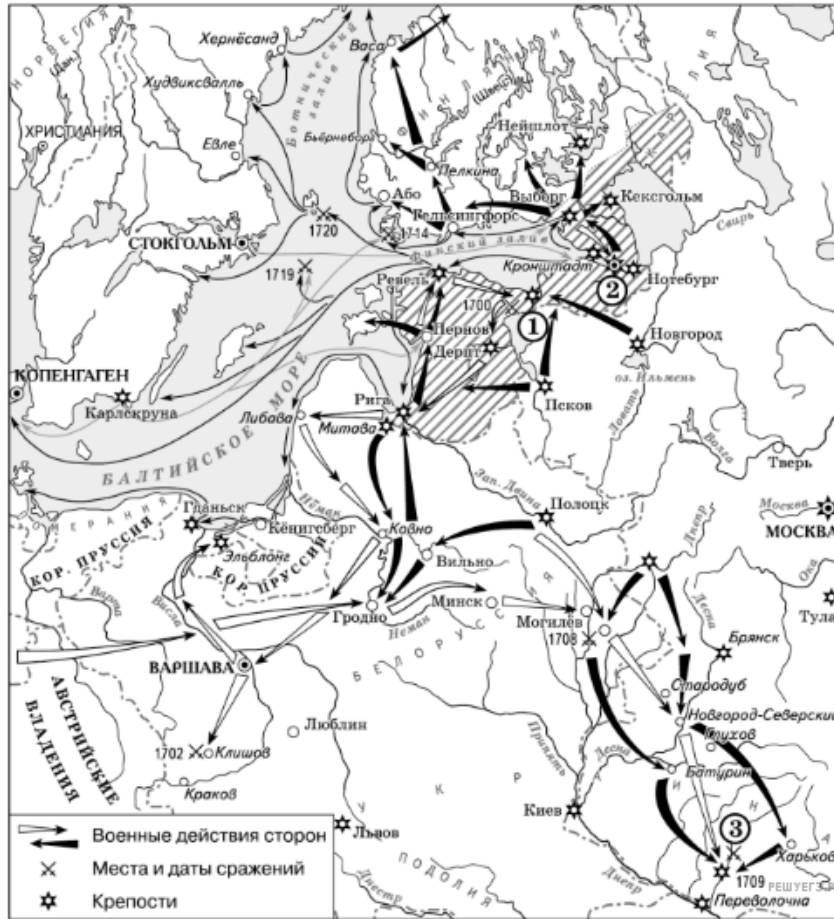
6. Назовите императора, в годы правления которого был построен объект, обозначенный на схеме буквой «А». Имя указывается либо с отчеством, либо с порядковым номером (например, Петр Алексеевич ИЛИ Петр Первый)

7. Рассмотрите схему и выполните задания



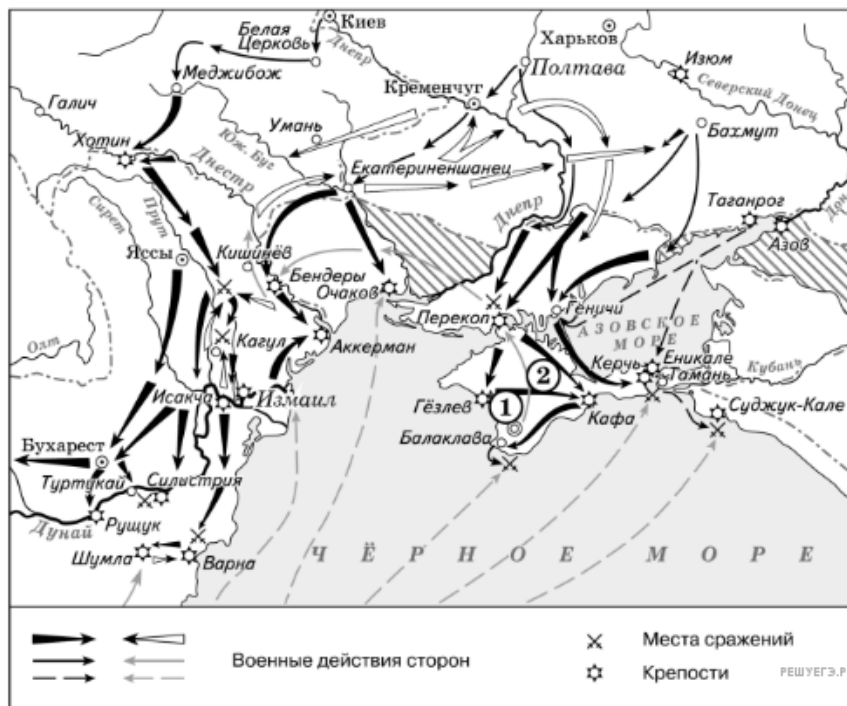
Напишите название европейского конгресса, по итогам которого в состав Российского государства вошла территория, обозначенная цифрой «II».

8. Рассмотрите схему и выполните задания



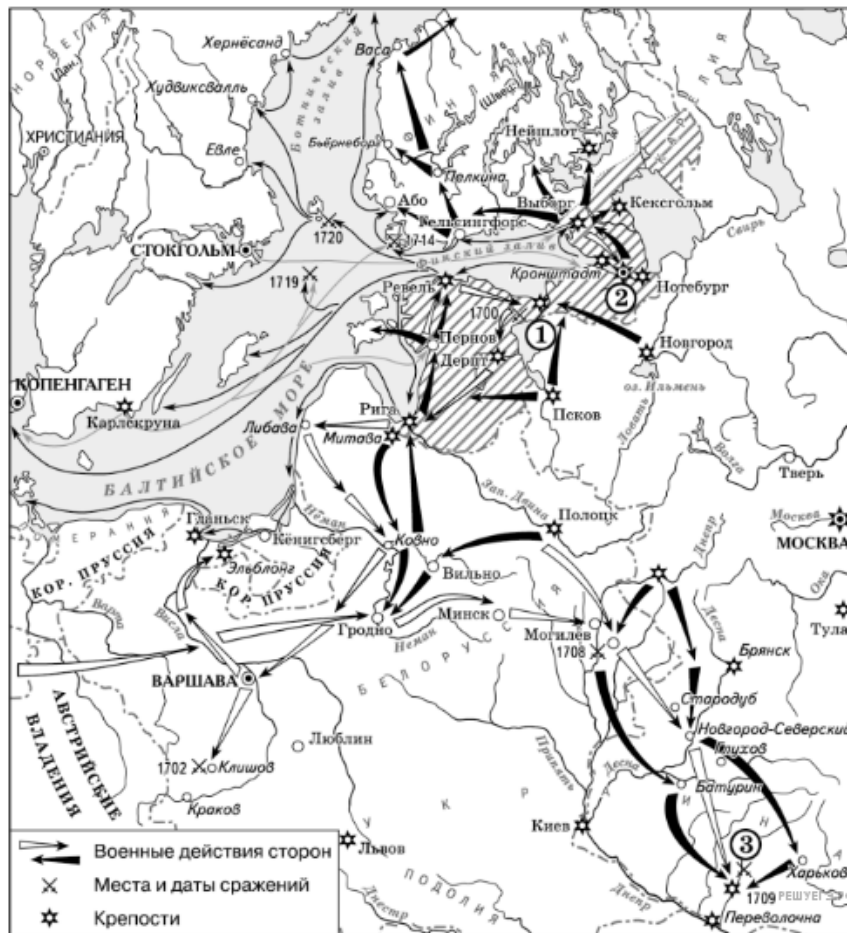
Напишите название города, у стен которого произошло сражение, обозначенное на схеме цифрой «1».

Рассмотрите схему и выполните задание.



9. Напишите название государства, которое было основным противником России в войне, события которой изображены на данной схеме.

Рассмотрите схему и выполните задание.



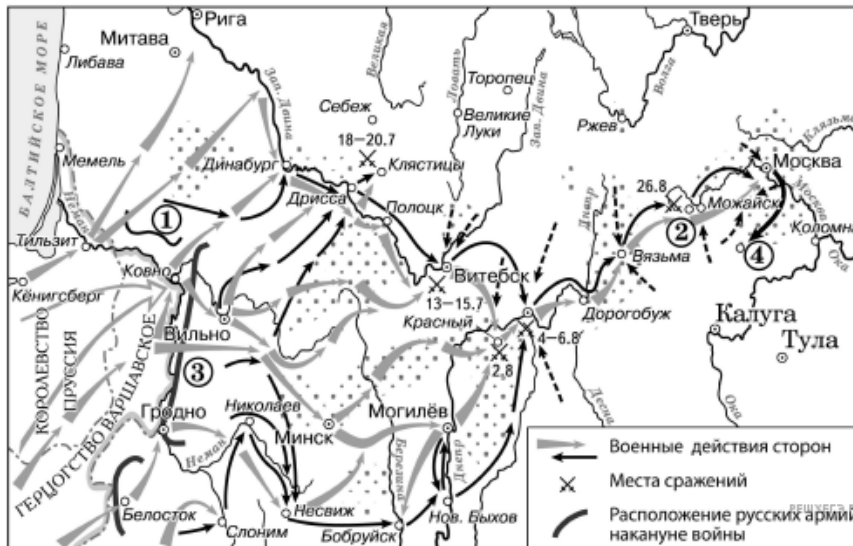
10. Напишите название города, у стен которого произошло сражение, обозначенное на схеме цифрой «1».

Рассмотрите схему и выполните задание.



11. Напишите название государства, которое было основным противником России в войне, события которой изображены на данной схеме.

Рассмотрите схему и выполните задание.



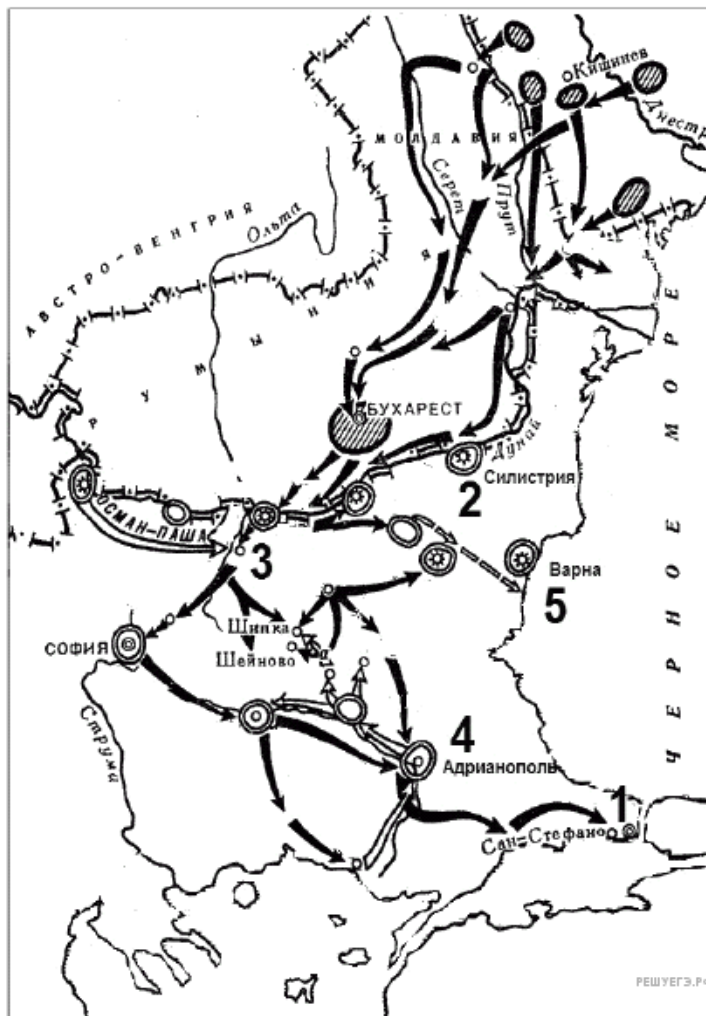
12. Напишите название города, где соединились армии, обозначенные цифрами «1» и «3».

Рассмотрите схему и выполните задание.



13. Укажите название крепости, указанной на схеме цифрой «2», взятие которой русскими войсками стало важным событием этой войны.

Рассмотрите схему и выполните задание.



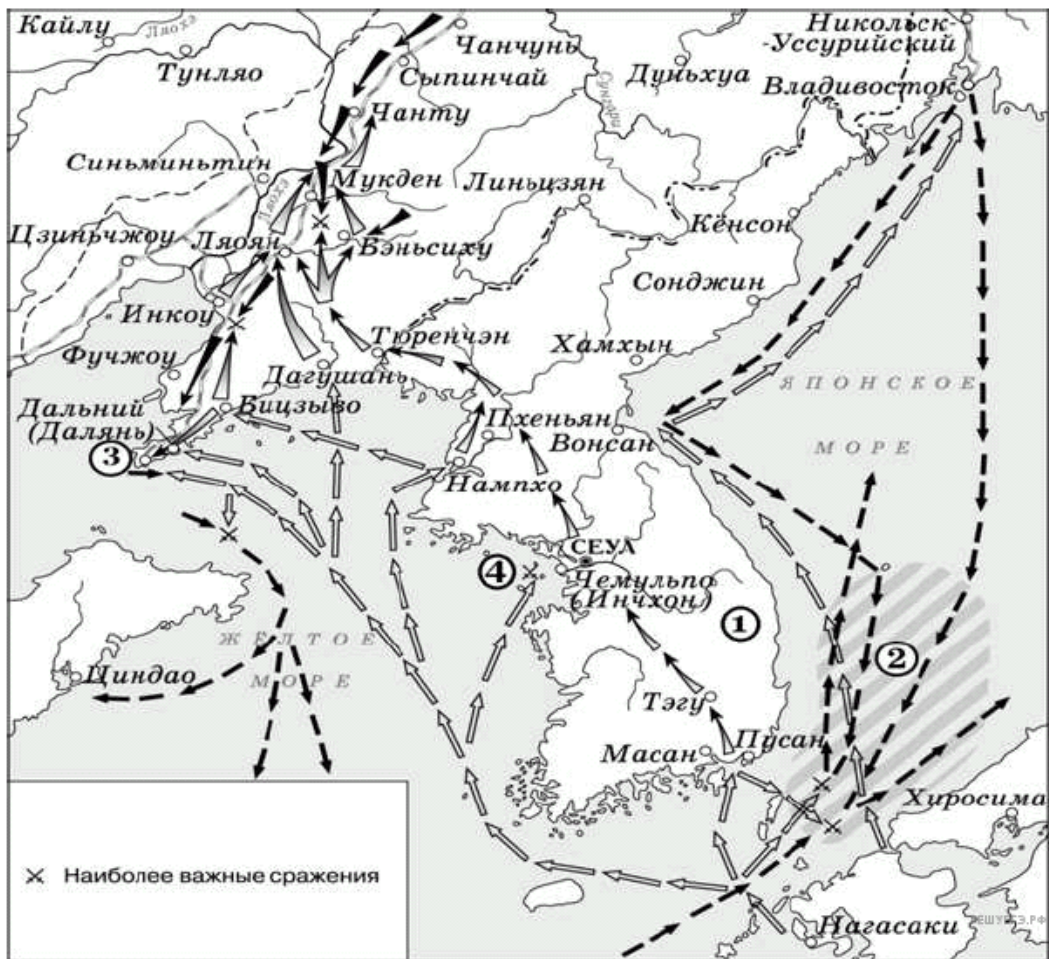
14. Напишите название обозначенной на карте цифрой «3» крепости, которая в ходе войны длительный период осаждалась основными силами русской армии.

Рассмотрите схему и выполните задание.



15. Напишите название бухты, где произошло одно из сражений данной войны, обозначенной на схеме цифрой «2».

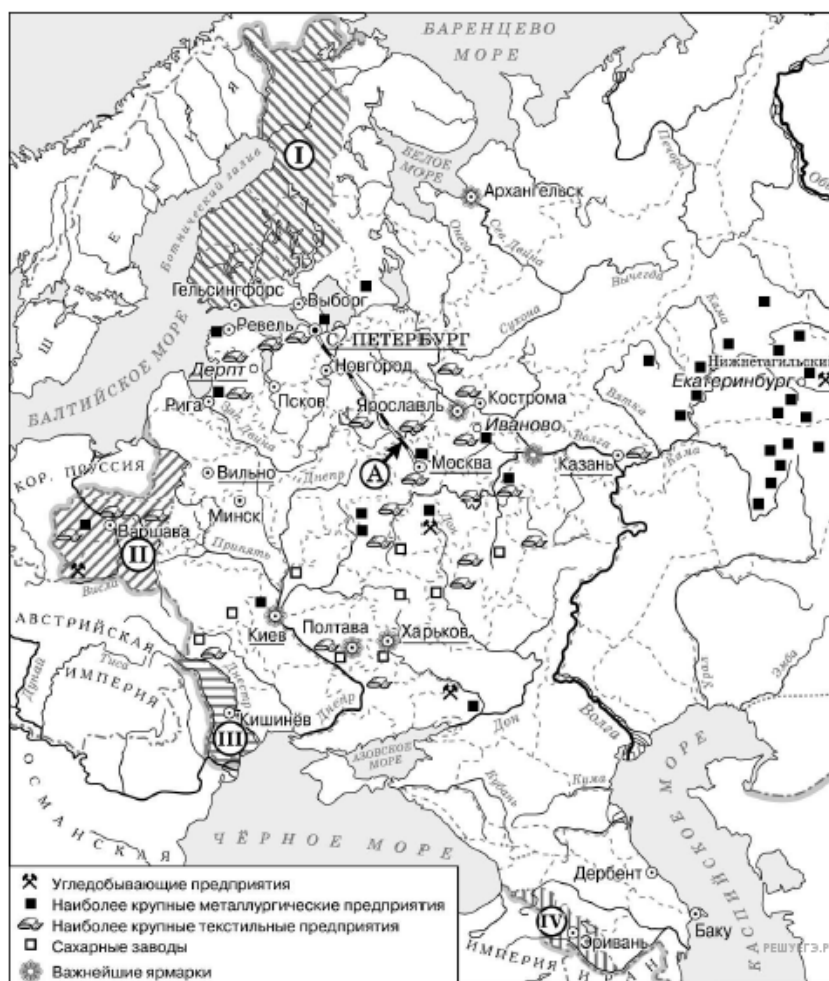
Рассмотрите схему и выполните задание.



16. Укажите название города, в котором был заключён мирный договор по итогам войны, события которой обозначены на схеме стрелками.

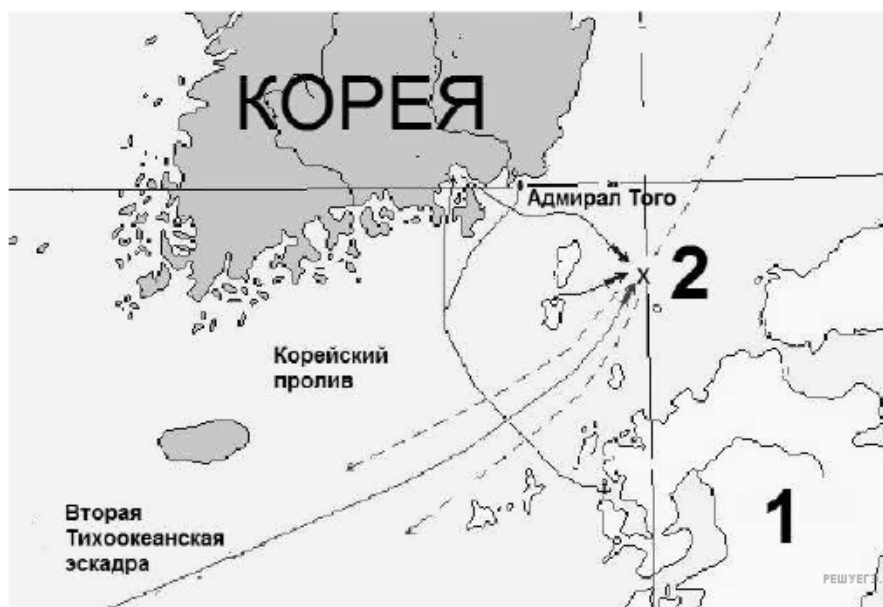


Рассмотрите схему и выполните задание.



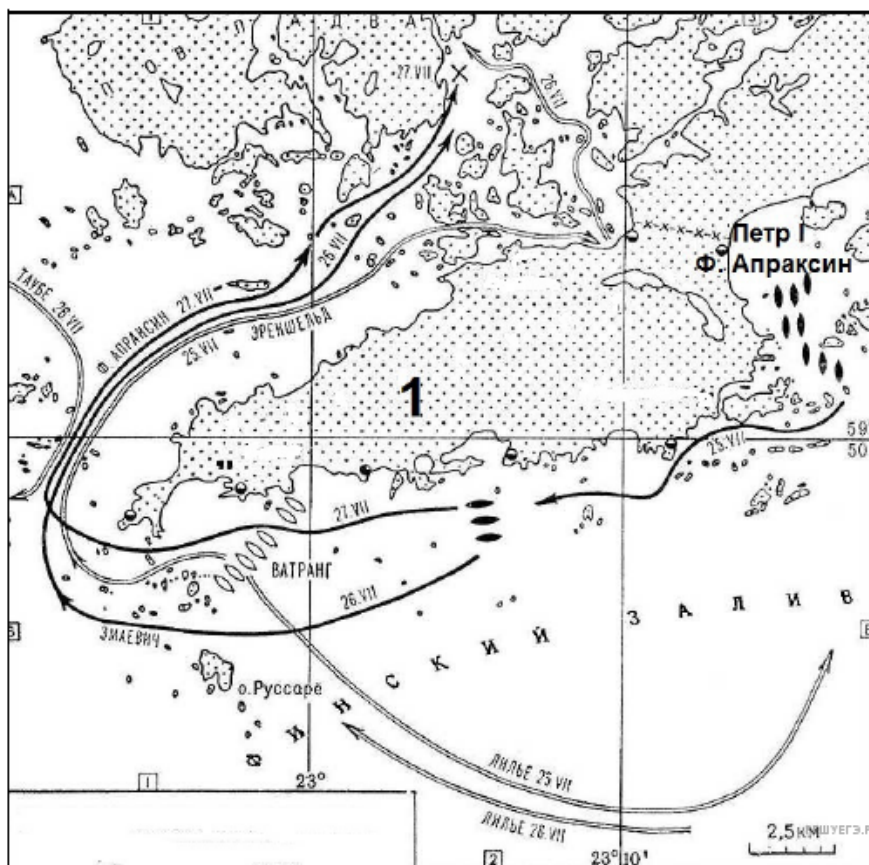
19. Укажите название географического региона России, где было сконцентрировано большинство крупных металлургических предприятий.

Рассмотрите схему и выполните задание.



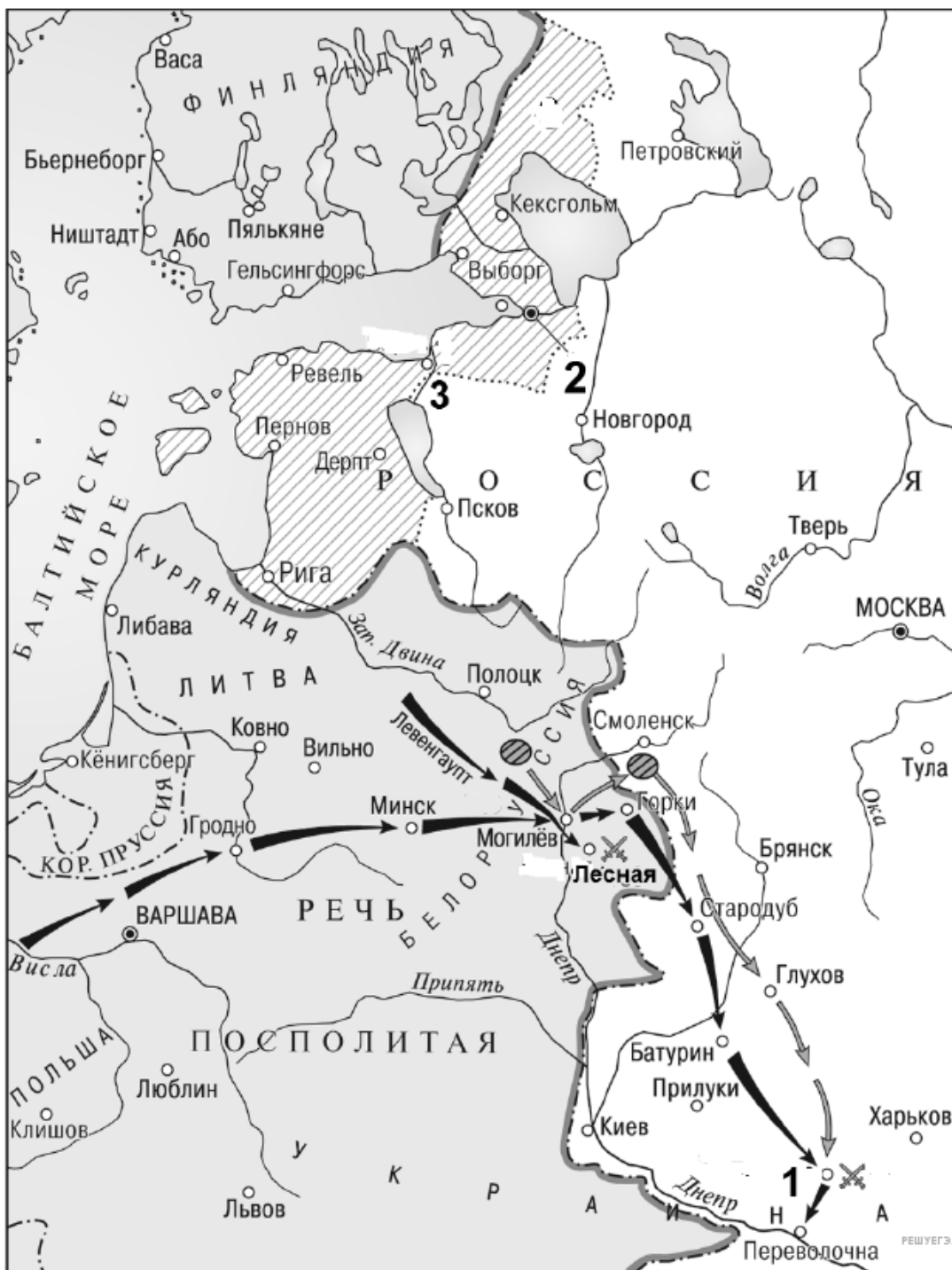
20. Какое название получило сражение, отраженное на схеме цифрой «2»?

Рассмотрите схему и выполните задание.



21. Напишите название места обозначенного на схеме сражения.

22. Напишите название города, обозначенного на схеме цифрой «2» и построенного в период войны, события которой отображены на схеме.

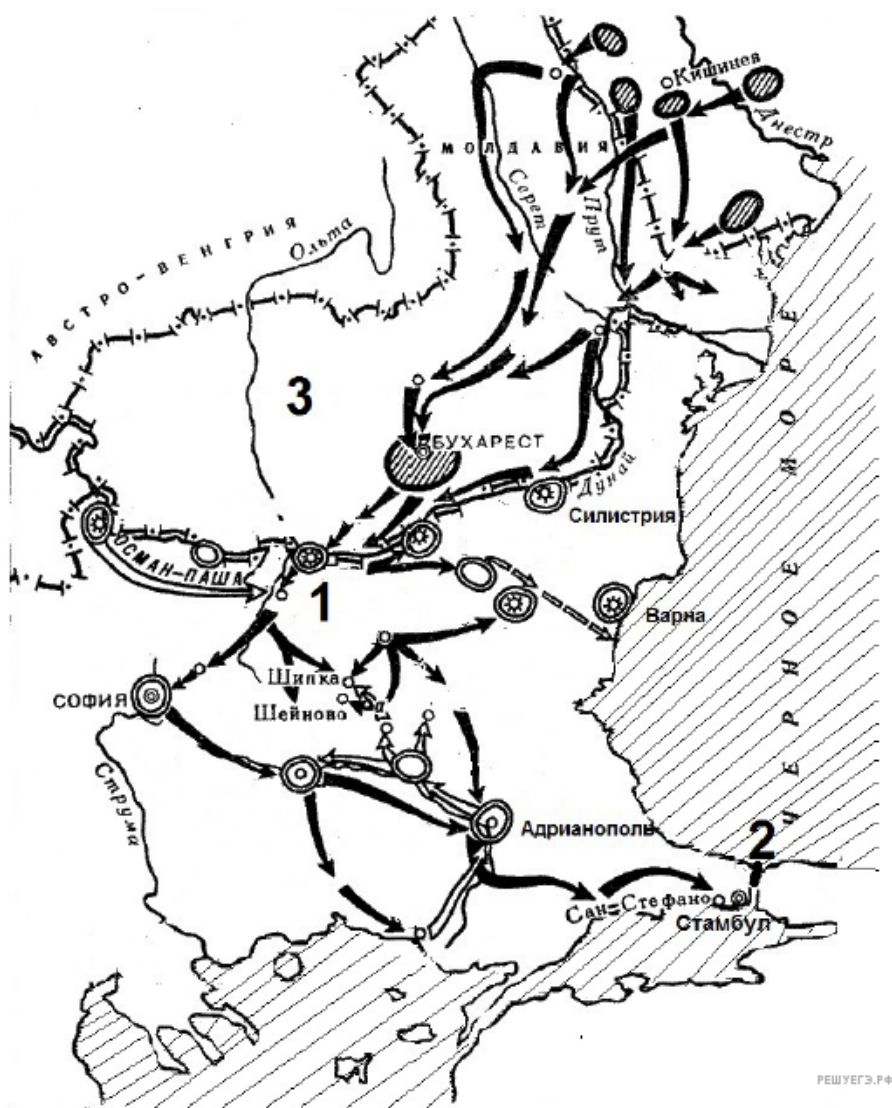


Рассмотрите схему и выполните задание.



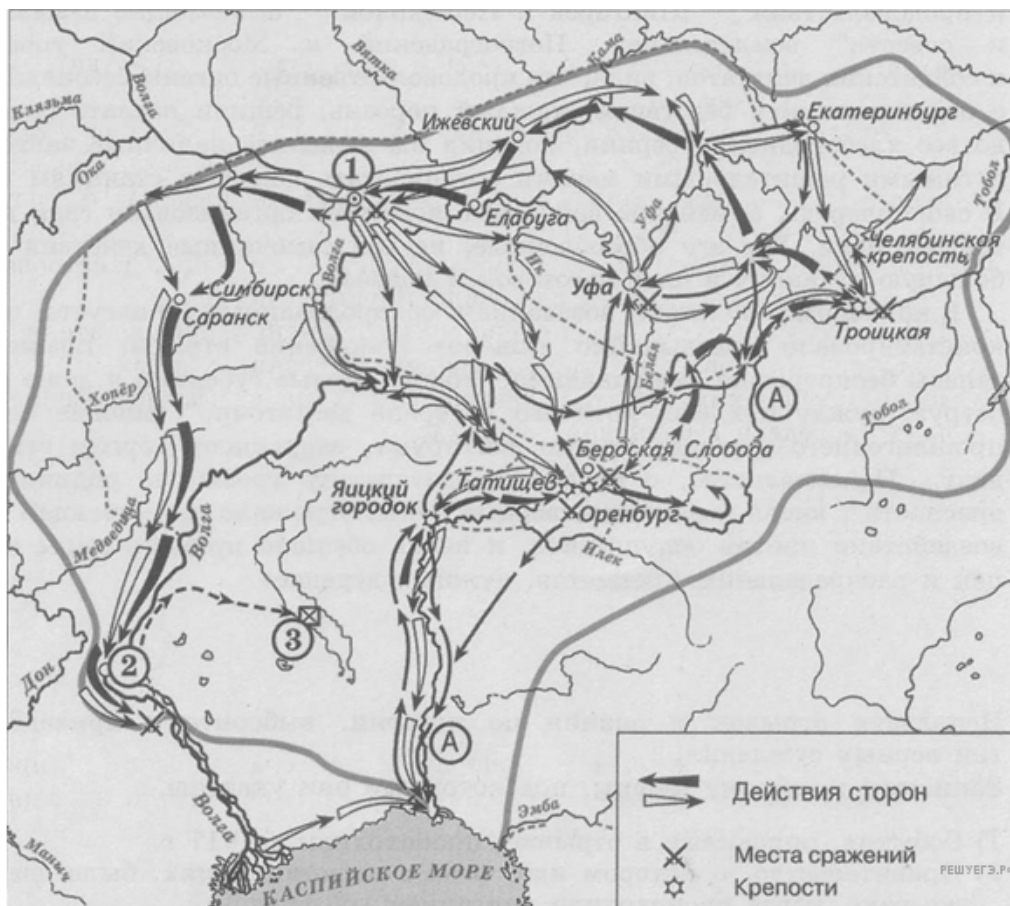
23. Назовите российского императора в период начала войны, события которой обозначены на схеме. В ответе необходимо указать его имя и порядковый номер (например, Петр Первый).

Рассмотрите схему и выполните задание.



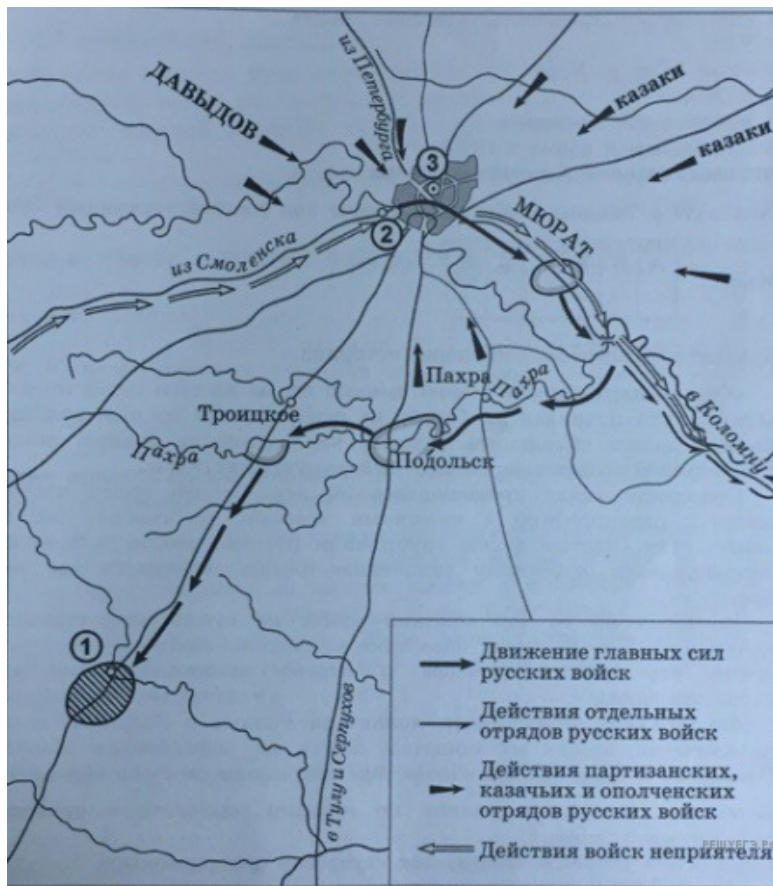
24. Напишите название крепости, обозначенной на схеме цифрой «1».

Рассмотрите схему и выполните задание.



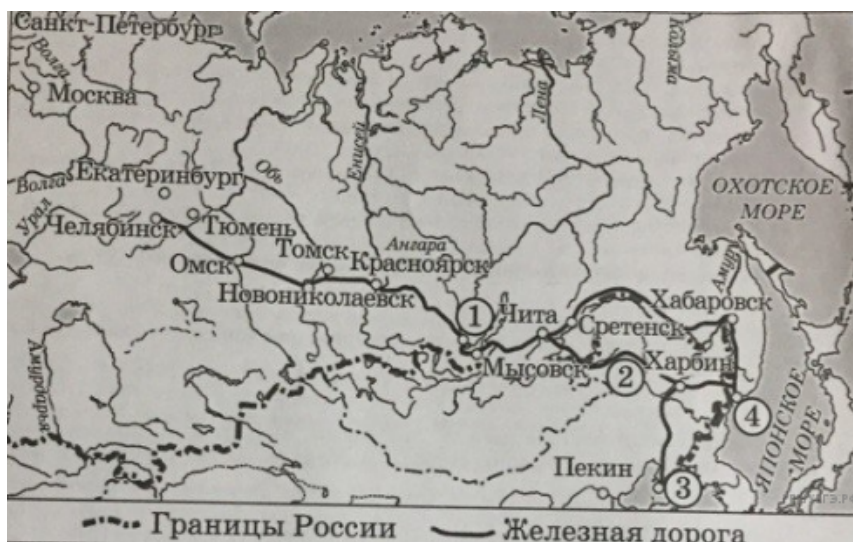
25. Напишите название реки, обозначенной буквой «А», в период событий, изображённых на схеме.

Рассмотрите схему и выполните задание.



26. Напишите название населённого пункта, обозначенного на схеме цифрой «2» где состоялся военный совет, решение которого определило ход дальнейших военных действий.

Рассмотрите схему и выполните задание.



27. Укажите название города — конечной точки магистрали, обозначенного на схеме цифрой «4».

Рассмотрите схему и выполните задание.



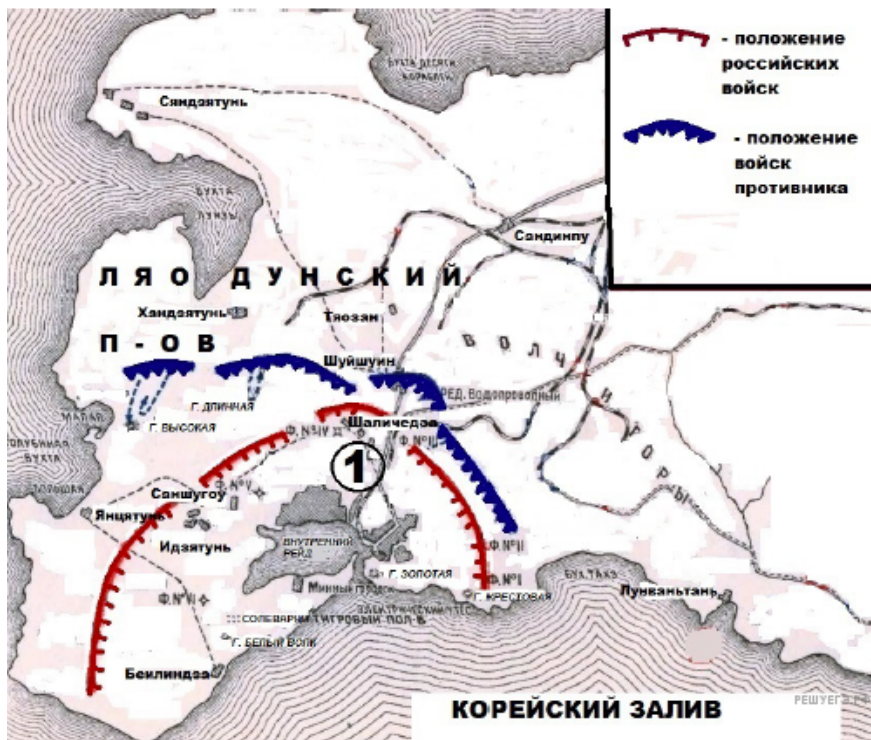
28. Какое название в отечественной истории получила война, события которой изображены на схеме?

Рассмотрите схему и выполните задание.



29. Назовите российского императора, в период правления которого произошли события, обозначенные на схеме. В ответе укажите его имя и порядковый номер. (Например, Петр Первый).

Рассмотрите схему и выполните задание.



30. Назовите российского императора, ко времени правления которого относится война, событиям которой посвящена схема. В ответе укажите имя и порядковый номер. (Например, Петр Первый).

Рассмотрите схему и выполните задание.



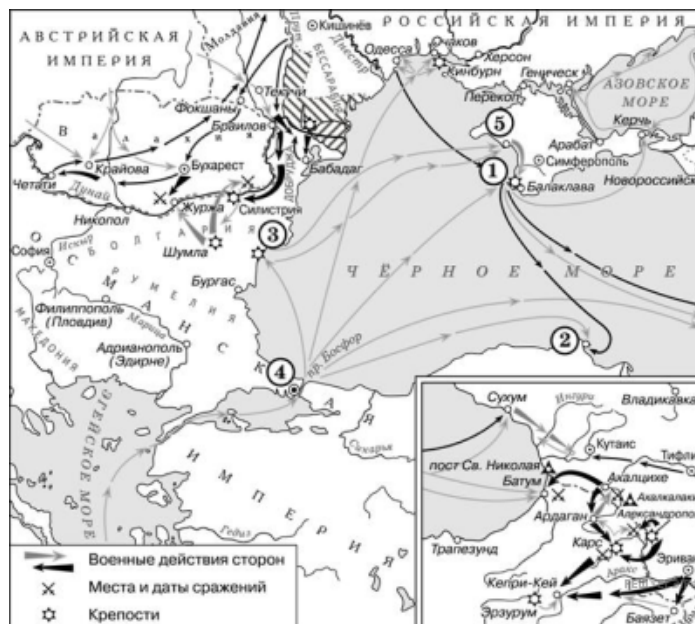
31. Напишите название турецкой крепости, обозначенной на схеме цифрой «3».

Рассмотрите схему и выполните задание.



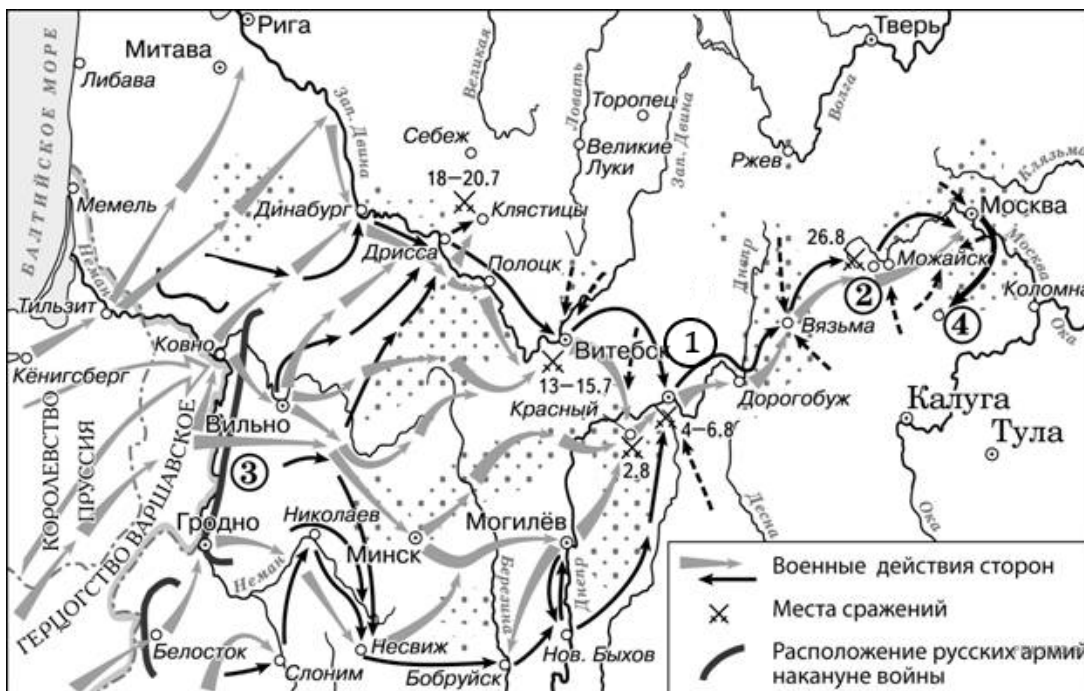
32. Напишите название крепости, обозначенной на схеме цифрой «2».

Рассмотрите схему и выполните задание.



33. Напишите название бухты, обозначенной на схеме цифрой «2».

Рассмотрите схему и выполните задание.



34. Напишите название города, обозначенного на схеме цифрой «1».

Рассмотрите схему и выполните задание.



35. Напишите название государства, обозначенного на схеме цифрой «7», в период, когда к России отошли территории, обозначенные на схеме цифрой «1».

Рассмотрите схему и выполните задание.



36. Напишите название государства, обозначенного на схеме цифрой «2».

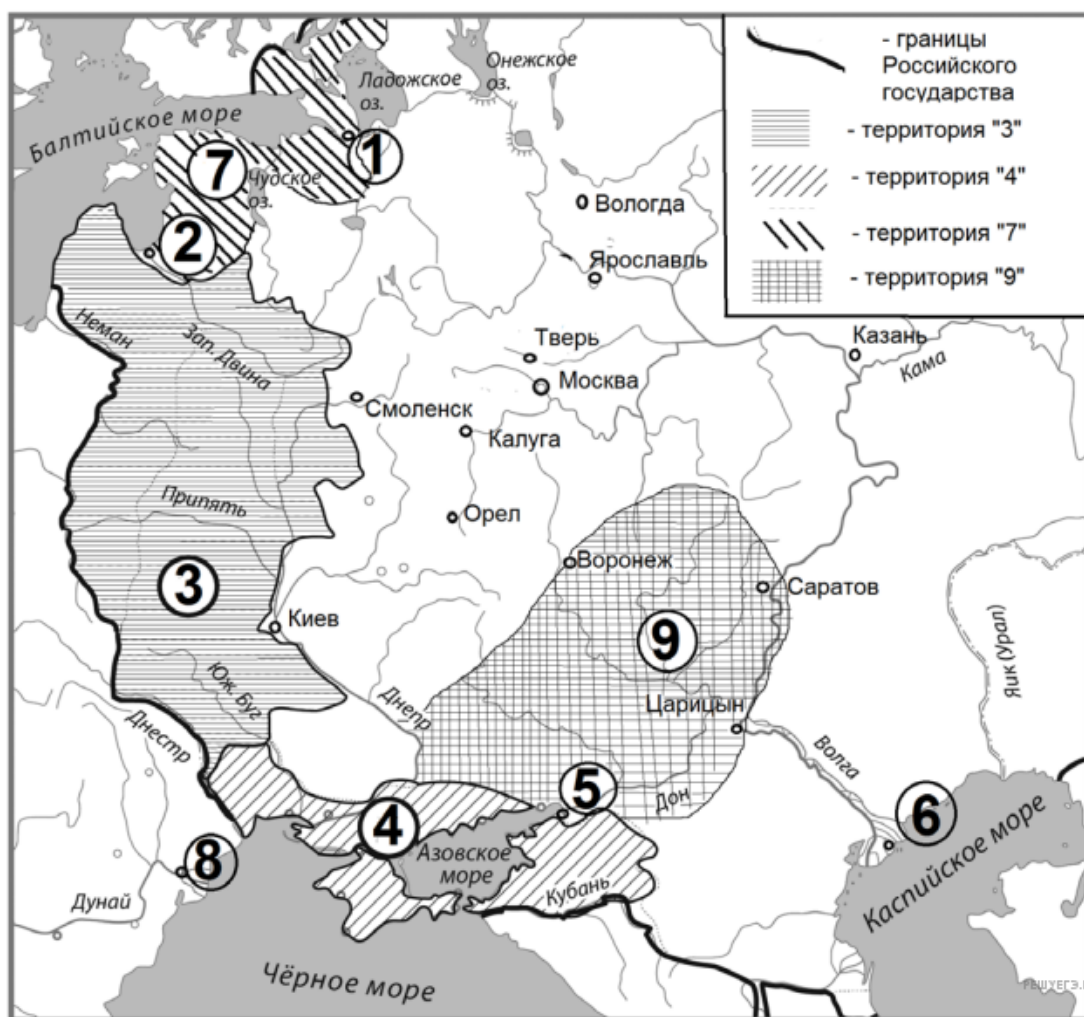


Рассмотрите схему и выполните задание.



38. Напишите название города, обозначенного на схеме цифрой «2».

Рассмотрите схему и выполните задание.



39. Напишите словом век, в который в состав Российского государства вошёл город, обозначенный на схеме цифрой «6».