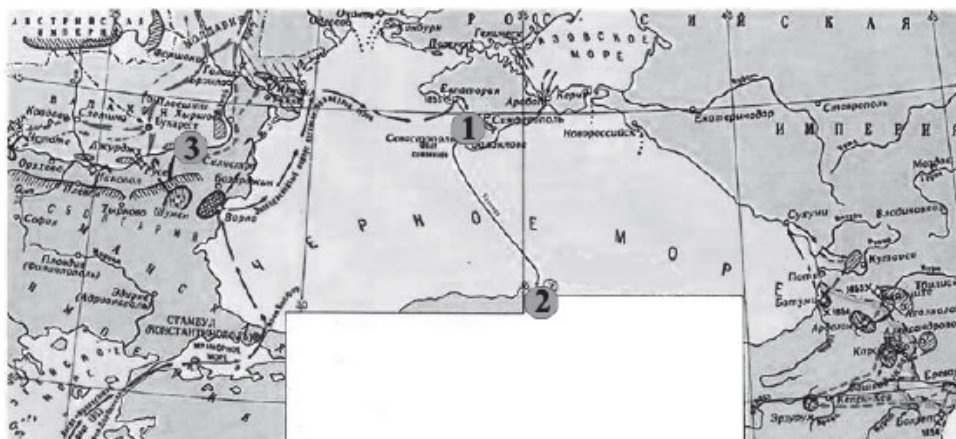


Рассмотрите схему и выполните задание.



1. Рассмотрите схему и выполните задание.

Какие суждения, относящиеся к событиям, обозначенным на схеме, являются верными? Выберите несколько суждений из шести предложенных. Запишите в таблицу цифры, под которыми они указаны.

1. Участником войны был адмирал Ф. Ф. Ушаков.
2. Война завершилась подписанием Парижского мирного договора.
3. Соперниками России в войне были Франция и Австрия.
4. После войны в России наступила эпоха реформ.
5. Россия получила право контроля над проливом Босфор.
6. Во время войны в России произошла смена императоров.

Рассмотрите схему и выполните задание.

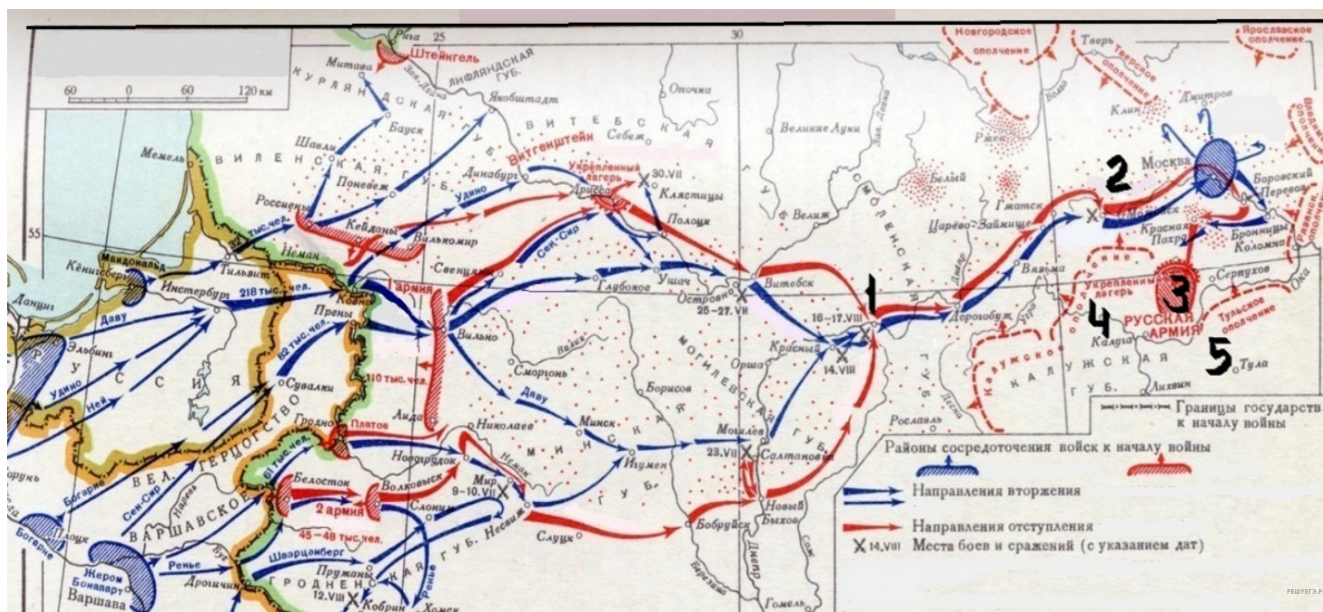


2. Рассмотрите схему и выполните задание.

Какие суждения, относящиеся к событиям, обозначенным на карте, являются верными? Выберите несколько суждений из шести предложенных. Запишите в таблицу цифры, под которыми они указаны.

1. Изображённые на карте события происходили в первой четверти XIX в.
2. В это время в России правил император Николай I.
3. Россия победоносно завершила войну, события которой обозначены на карте.
4. По окончании военных действий в Вене собрался конгресс европейских монархов.
5. В честь победы в этой войне в Петербурге был возведён Исаакиевский собор.
6. События обозначенных на карте военных действий отражены в романе М. Ю. Лермонтова «Герой нашего времени».

Рассмотрите схему и выполните задание.

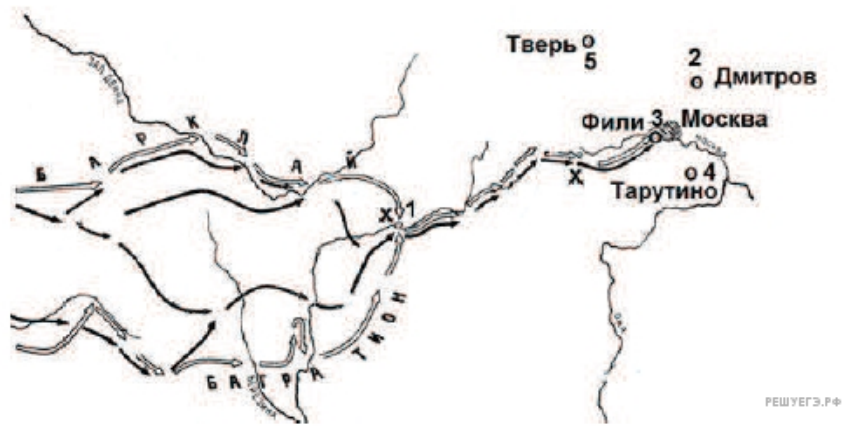


3. Рассмотрите схему и выполните задание.

Какие суждения, относящиеся к событиям, обозначенным на схеме, являются верными? Выберите несколько суждений из шести предложенных. Запишите в таблицу цифры, под которыми они указаны.

- 1) 4 августа сразу же после вручения ноты с объявлением войны начались боевые действия против России.
- 2) Вторжение Великой армии в пределы Российской империи началось с переправы по наведённым мостам через пограничный Неман.
- 3) План неприятеля разгромить рассредоточенные русские войска поодиночке был успешно осуществлен.
- 4) Одним из главных событий, обозначенных на схеме, было генеральное сражение, исход которого и та, и другая сторона сразу же объявили как свою победу и празднуют до сих пор, имея на то основания.
- 5) Военные действия, обозначенные на схеме стрелками, продолжались около двух лет.
- 6) В результате событий, обозначенных на схеме, армия вторжения заняла Москву без боя.

Рассмотрите схему и выполните задание.



4. Рассмотрите схему и выполните задание.

Какие суждения, относящиеся к событиям, связанным со схемой, являются верными? Выберите несколько суждений из шести предложенных. Запишите в таблицу цифры, под которыми они указаны.

1. С начала изображённых на карте военных действий русские войска преследовали вторгшегося неприятеля.
2. В ходе данной войны русские войска возглавил М. И. Кутузов.
3. Самое кровопролитное сражение этой войны произошло под Вязьмой.
4. В ходе событий, указанных на схеме, в России развернулась народная война против неприятеля.
5. Указанные на схеме военные действия длились больше года.
6. Вторгшаяся в Россию неприятельская армия получила в истории название «Великая армия».

Рассмотрите схему и выполните задание.



5. Какие суждения, относящиеся к событиям, обозначенным на схеме, являются верными? Выберите несколько суждений из шести предложенных. Запишите в таблицу цифры, под которыми они указаны.

1. Город, обозначенный на схеме цифрой 3, стал базой русского Черноморского флота.
2. Следствием данной войны стала потеря Россией территорий, обозначенных на схеме вертикальной штриховкой.
3. Участниками войны, события которой изображены на данной схеме, были В. А. Корнилов и П. С. Нахимов.
4. Мирный договор, завершивший войну, события которой обозначены на данной схеме, был подписан в городе, отмеченном цифрой 4.
5. Одним из главных событий войны, ход которой изображён на данной схеме, было Чесменское морское сражение.
6. Русским флотом в сражении, которое произошло у мыса, обозначенного на схеме цифрой 1, командовал Ф. Ф. Ушаков.

Рассмотрите схему и выполните задание.



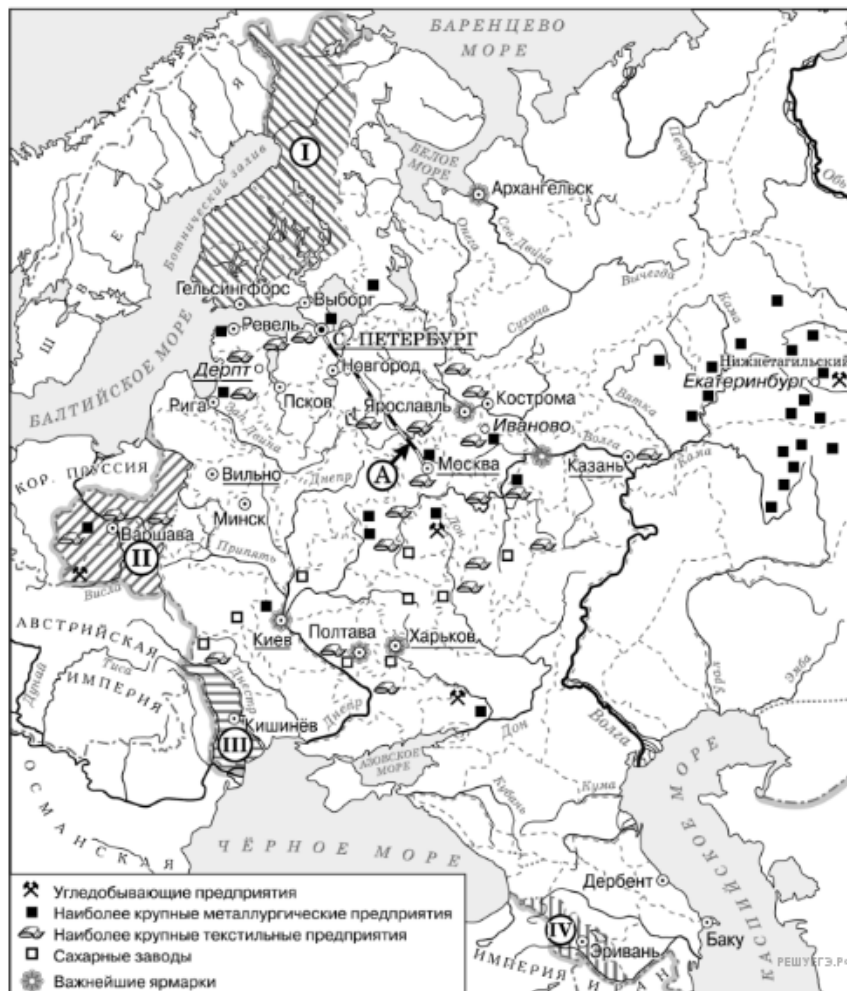
6. Какие суждения, относящиеся к данной схеме, являются верными? Выберите несколько суждений из шести предложенных. Запишите в таблицу цифры, под которыми они указаны.

1. В подготовке и подписании мирного договора, по которому в состав Российской империи вошла территория, обозначенная на схеме цифрой IV, участвовал А. С. Грибоедов.
2. Территория, обозначенная на схеме цифрой I, была присоединена к России в результате русско-шведской войны.
3. Присоединение территории, обозначенной на схеме цифрой III, произошло в 1829 г.
4. Большинство текстильных предприятий, согласно схеме, находилось в центральном районе страны.
5. Объект, обозначенный на схеме буквой А, был первым подобным объектом, построенным в России.
6. Промышленное освоение района, в котором, согласно схеме, отмечается наибольшая концентрация металлургических предприятий, началось только в первой половине XIX в.

7. Рассмотрите схему и выполните задание.

Какие суждения, относящиеся к данной схеме, являются верными? Выберите несколько суждений из шести предложенных. Запишите в таблицу цифры, под которыми они указаны.

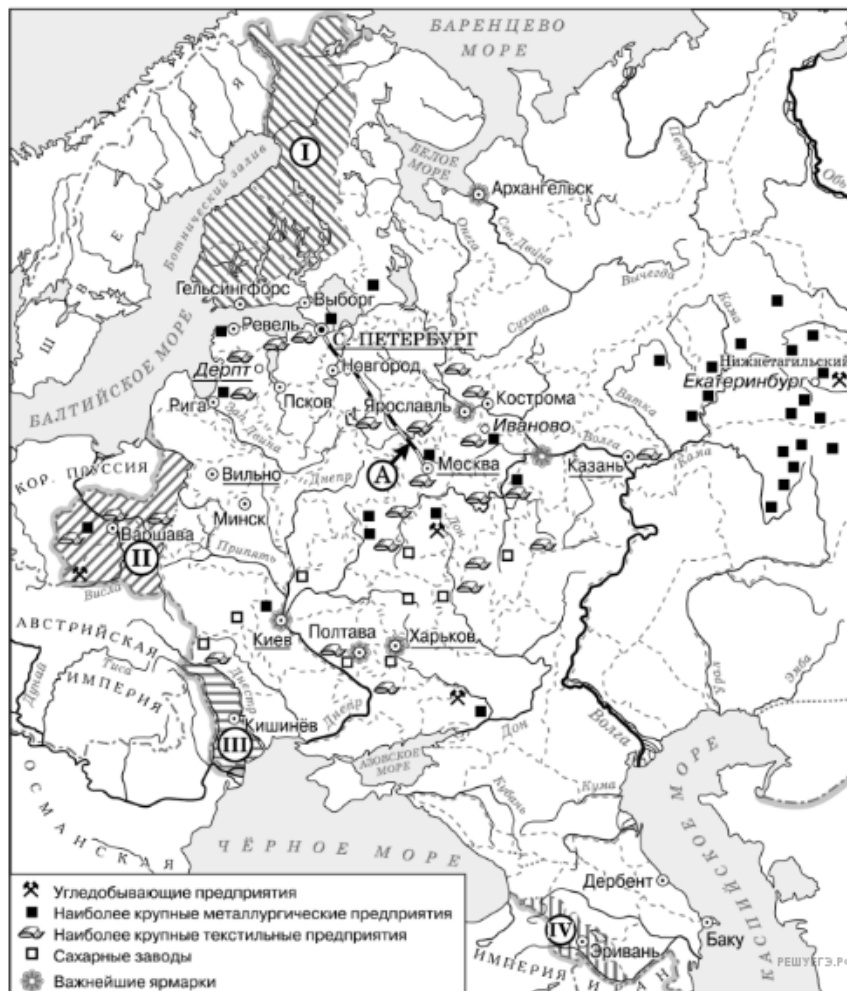
1. Большинство текстильных предприятий в изображаемый на схеме период находились на юге страны.
2. Территория, обозначенная на карте цифрой I, вошла в состав Российской империи при сохранении ею автономии.
3. Объект, обозначенный буквой A, был построен в годы правления Николая I.
4. На схеме подчёркнуты названия городов, в которых в изображаемый на схеме период действовали университеты.
5. Промышленное освоение района, где согласно схеме находится большинство металлургических предприятий, началось только во второй половине XVIII в.
6. Территория, обозначенная на схеме цифрой I, была присоединена к России мирным путём.



8. Рассмотрите схему и выполните задание.

Какие суждения, относящиеся к данной схеме, являются верными? Выберите несколько суждений из шести предложенных. Запишите в таблицу цифры, под которыми они указаны.

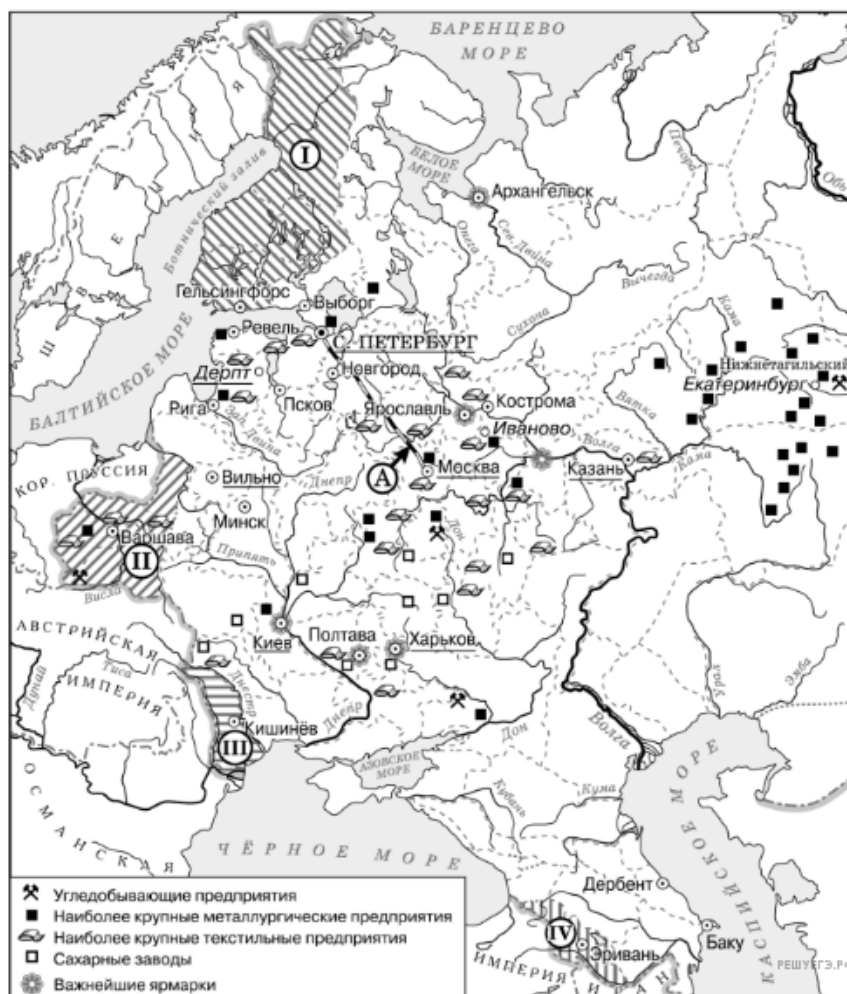
1. Объект, обозначенный буквой А, был построен в годы правления Николая I.
2. Большинство текстильных предприятий в изображаемый на схеме период находились на юге страны.
3. На схеме подчёркнуты названия городов, в которых в изображаемый на схеме период действовали университеты.
4. Территория, обозначенная на схеме цифрой I, была присоединена к России мирным путём.
5. Территория, обозначенная на карте цифрой I, вошла в состав Российской империи при сохранении ею автономии.
6. Промышленное освоение района, где согласно схеме находится большинство металлургических предприятий, началось только во второй половине XVIII в.



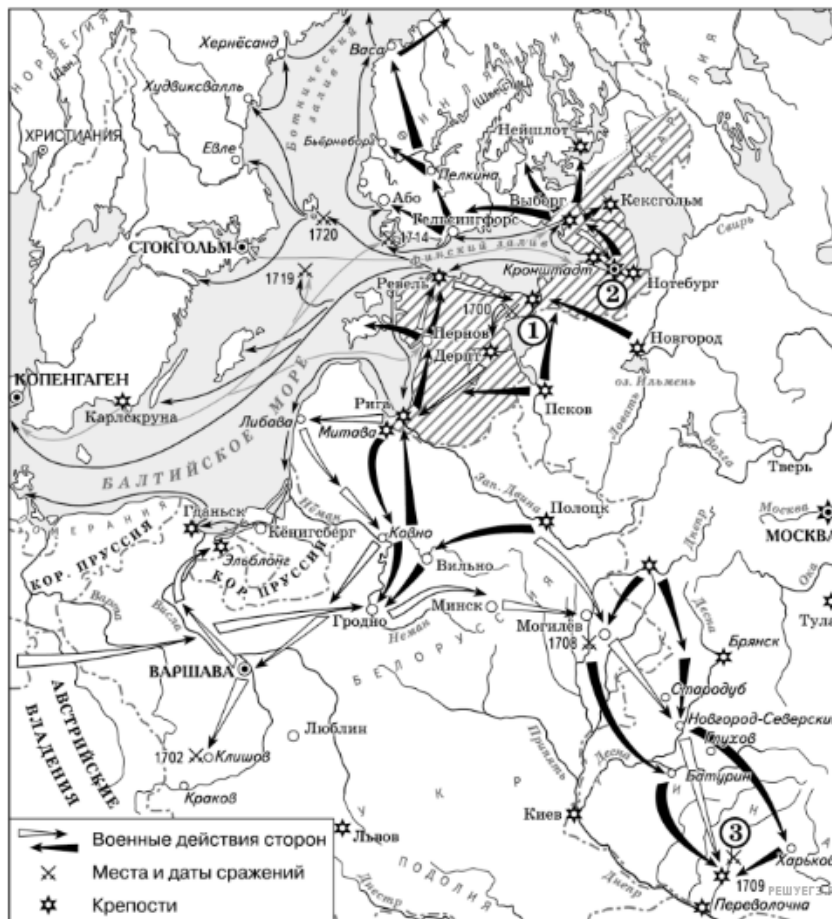
9. Рассмотрите схему и выполните задание.

Какие суждения, относящиеся к данной схеме, являются верными? Выберите несколько суждений из шести предложенных. Запишите в таблицу цифры, под которыми они указаны.

1. Объект, обозначенный буквой А, был построен в годы правления Николая I.
2. Большинство текстильных предприятий в изображаемый на схеме период находились на юге страны.
3. На схеме подчёркнуты названия городов, в которых в изображаемый на схеме период действовали университеты.
4. Территория, обозначенная на схеме цифрой I, была присоединена к России мирным путём.
5. Территория, обозначенная на карте цифрой I, вошла в состав Российской империи при сохранении ею автономии.
6. Промышленное освоение района, где согласно схеме находится большинство металлургических предприятий, началось только во второй половине XVIII в.



Рассмотрите схему и выполните задание.

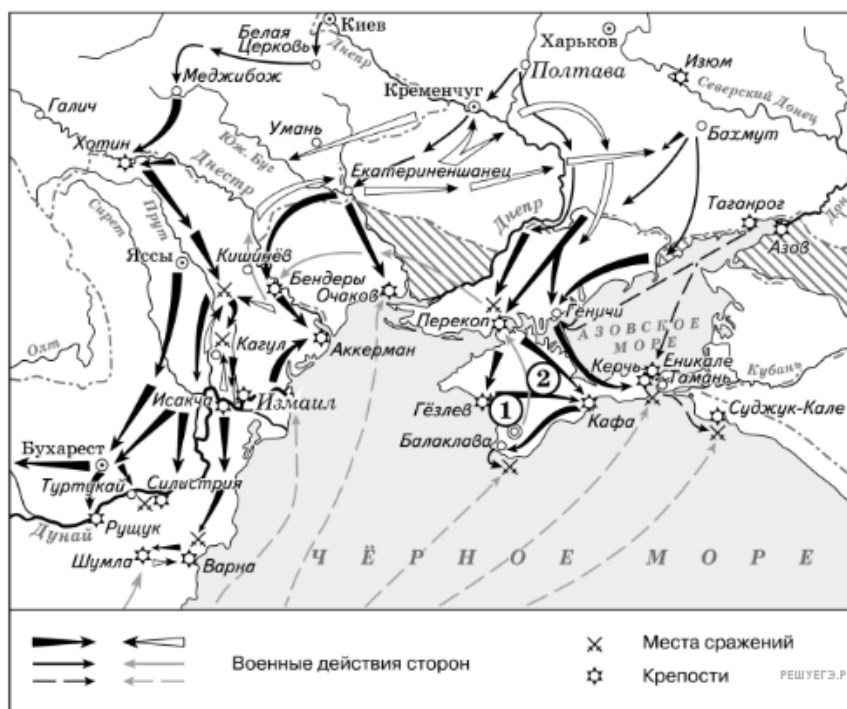


10. Рассмотрите схему и выполните задания

Какие суждения, относящиеся к событиям, обозначенным на схеме, являются верными? Выберите несколько суждений из шести предложенных. Запишите в таблицу цифры, под которыми они указаны.

1. В ходе войны, события которой обозначены на данной схеме, проводились рекрутские наборы.
2. Мирный договор, завершивший войну, события которой изображены на данной схеме, был подписан в городе, обозначенном цифрой 2.
3. Одну из решающих побед в данной войне русская армия одержала в сражении, обозначенном цифрой 3.
4. Следствием войны, события которой изображены на данной схеме, стала утрата Россией статуса морской державы.
5. После завершения войны, события которой обозначены на данной схеме, Россия стала империей.
6. В результате этой войны Россия утратила заштрихованные на схеме территории.

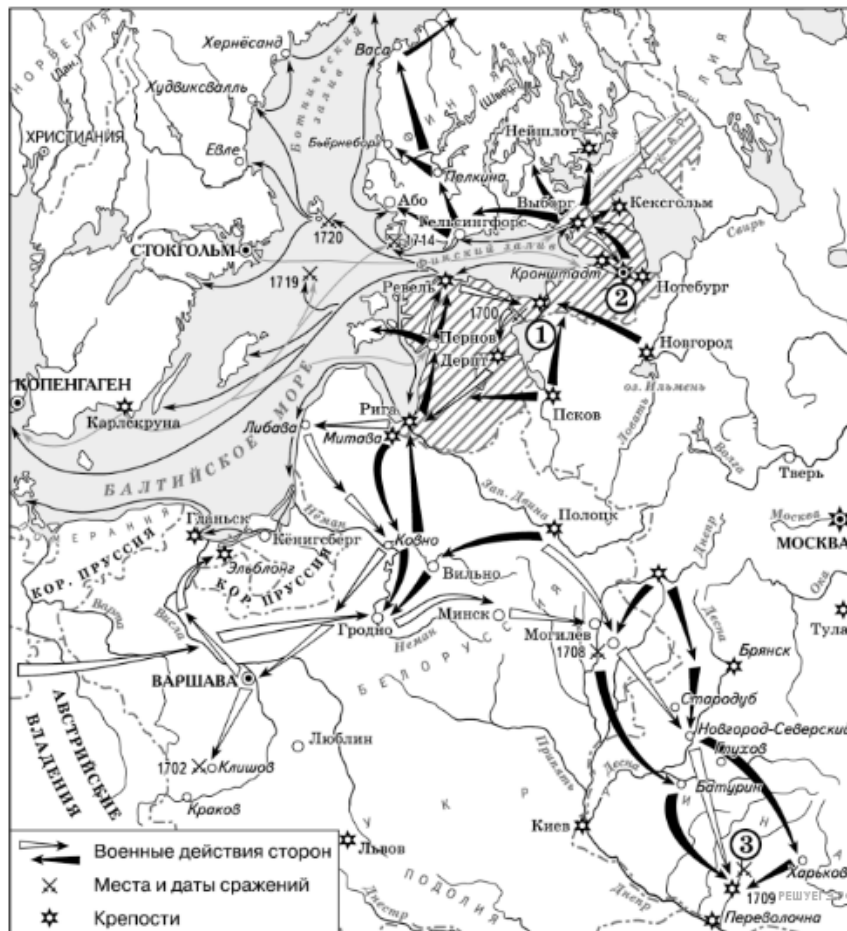
Рассмотрите схему и выполните задание.



11. Какие суждения, относящиеся к событиям, обозначенным на схеме, являются верными? Выберите несколько суждений из шести предложенных. Запишите в таблицу цифры, под которыми они указаны.

1. В результате этой войны Россия утратила заштрихованные на схеме территории.
2. Начало войны, события которой изображены на данной схеме, стало предлогом для прекращения деятельности Уложенной комиссии.
3. После завершения войны, события которой обозначены на данной схеме, Россия стала империей.
4. Мирный договор, завершивший войну, события которой обозначены на данной схеме, был подписан в городе, отмеченном цифрой 1.
5. Следствием войны, события которой изображены на данной схеме, стало получение Россией выхода к Чёрному морю.
6. Участниками событий данной войны были А. Орлов и П. Румянцев.

Рассмотрите схему и выполните задание.



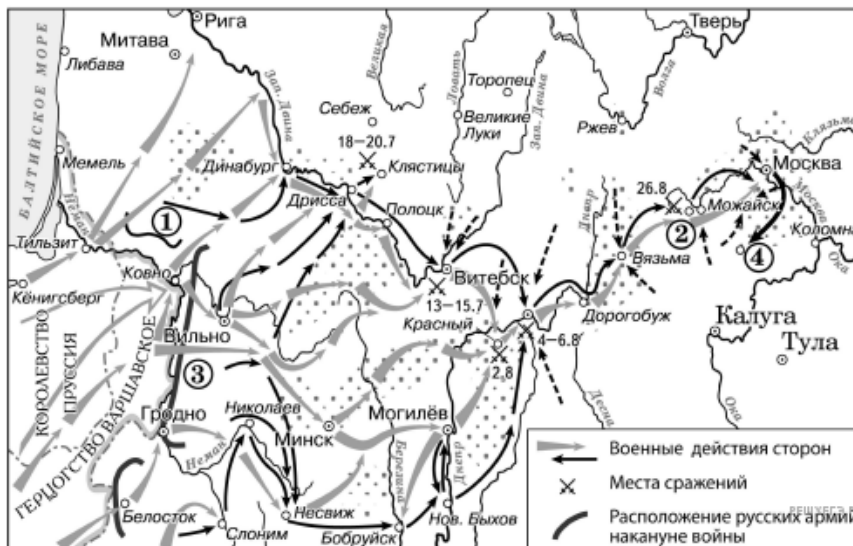
12. Какие суждения, относящиеся к событиям, обозначенным на схеме, являются верными? Выберите несколько суждений из шести предложенных. Запишите в таблицу цифры, под которыми они указаны.

1. После завершения войны, события которой обозначены на данной схеме, Россия стала империей.
2. Одну из решающих побед в данной войне русская армия одержала в сражении, обозначенном цифрой 3.
3. Следствием войны, события которой изображены на данной схеме, стала утрата Россией статуса морской державы.
4. Мирный договор, завершивший войну, события которой изображены на данной схеме, был подписан в городе, обозначенном цифрой 2.
5. В ходе войны, события которой обозначены на данной схеме, проводились рекрутские наборы.
6. В результате этой войны Россия утратила заштрихованные на схеме территории.

Рассмотрите схему и выполните задание.



Рассмотрите схему и выполните задание.



14. Какие суждения, относящиеся к событиям, обозначенным на схеме, являются верными? Выберите несколько суждений из шести предложенных. Запишите в таблицу цифры, под которыми они указаны.

1. Участниками войны, события которой изображены на данной схеме, были А. В. Суворов и П. А. Румянцев.
2. В начале военных действий, изображённых на схеме, неприятель обладал большим численным превосходством.
3. Общее командование войсками, действия которых обозначены чёрными стрелками, осуществлял Н. Н. Раевский.
4. Перемещение войск в пункт, обозначенный цифрой 4, получило название «Тарутинский манёвр».
5. Участниками движения, районы действия которого обозначены точками, были Д. В. Давыдов и А. Н. Сеславин.
6. Войсками, действия которых обозначены серыми стрелками, командовал король Карл XII.

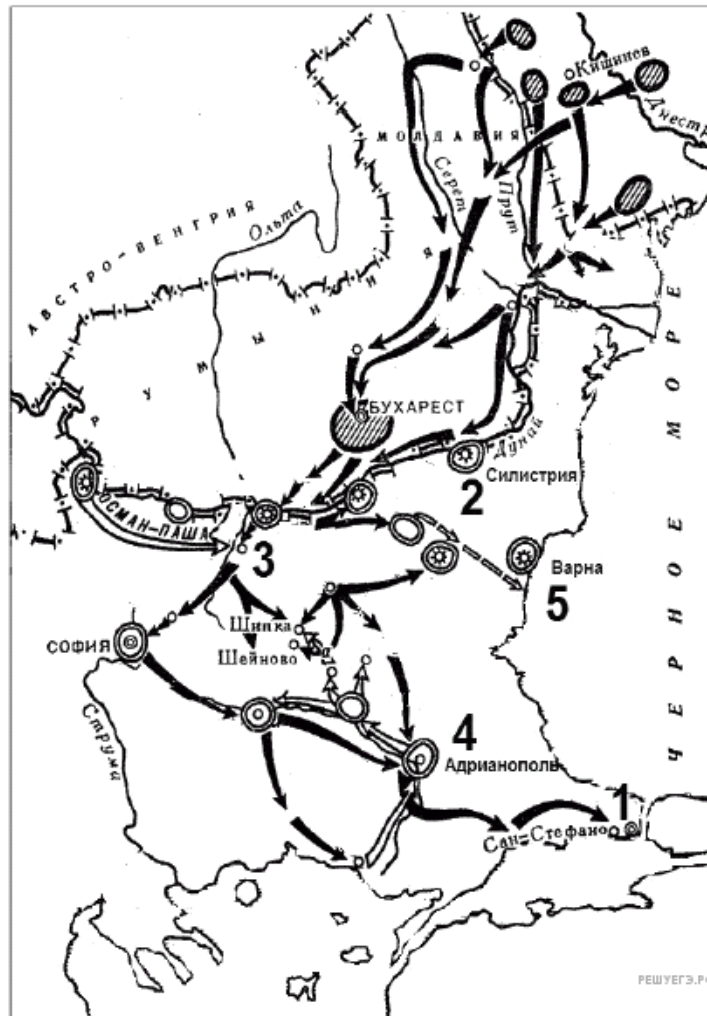
Рассмотрите схему и выполните задание.



15. Какие суждения, относящиеся к войне, которой посвящена схема, являются верными? Выберите несколько суждений из шести предложенных. Запишите в таблицу цифры, под которыми они указаны.

1. Война велась с Османской (Турецкой) империей.
2. Правительницей России в года войны была Елизавета Петровна.
3. Закончивший войну мир был заключен в городе, обозначенном на карте под цифрой 4.
4. В ходе войны русские войска прославились штурмом турецкой крепости, считавшейся в Европе неприступной.
5. В результате этой войны Северное Причерноморье окончательно вошло в состав Российской империи.
6. Во время данной войны произошло последнее крупное сражение парусного флота — Синопский бой.

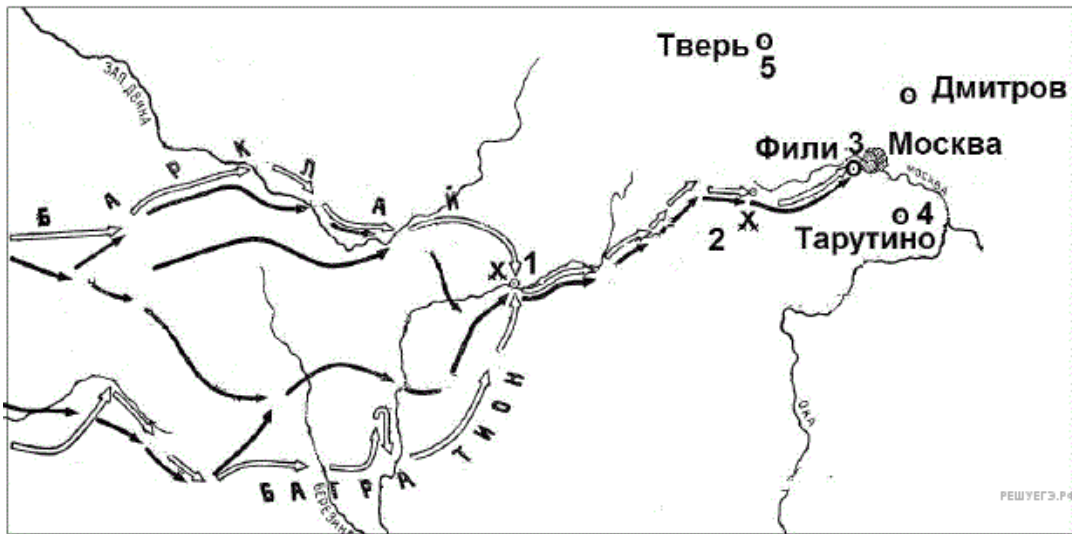
Рассмотрите схему и выполните задание.



16. Какие суждения, относящиеся к схеме, являются верными? Выберите несколько суждений из шести предложенных.

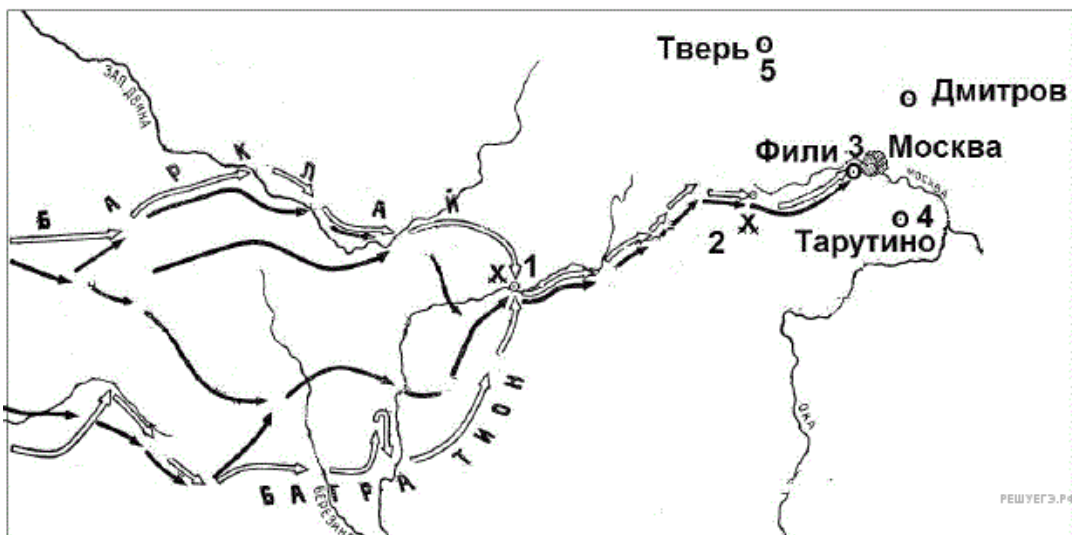
1. Результатом войны стало приобретение независимости Грецией.
2. Во время войны особо отличился русский полководец М. Д. Скобелев.
3. Война получила название Крымской.
4. Союзником России в этой войне была Великобритания.
5. Противником России в этой войне была Османская империя.
6. По условиям мирного договора, заключённого по итогам этой войны, Сербия получила независимость.

17. Напишите название войны, события которой изображены на схеме.

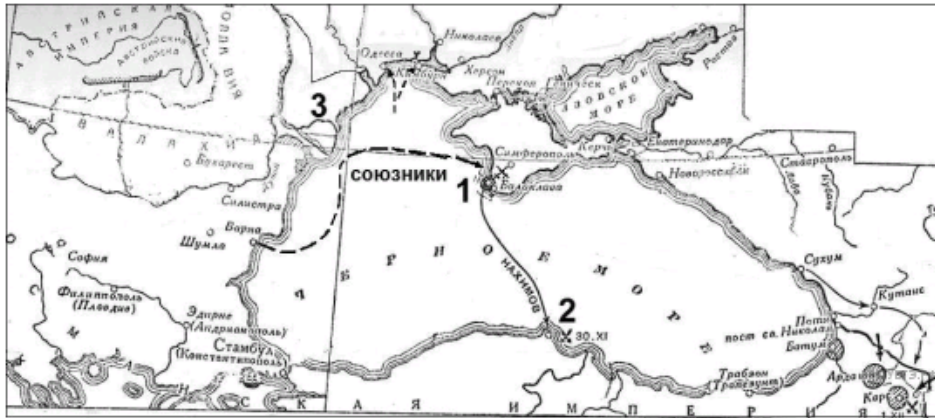


18. Какие суждения, относящиеся к событиям, связанным со схемой, являются верными? Выберите несколько суждений из шести предложенных. Запишите в ответ цифры, под которыми они указаны.

1. Указанные на схеме военные действия длились больше года.
2. С начала войны русские войска преследовали вторгшегося неприятеля.
3. Самое кровопролитное сражение этой войны произошло под Вязьмой.
4. После оставления Москвы русские войска отошли в пункт, обозначенный на схеме цифрой 4.
5. Императором России в период этой войны был Александр I.
6. Вторгшаяся в Россию неприятельская армия получила в истории название «Великая армия».



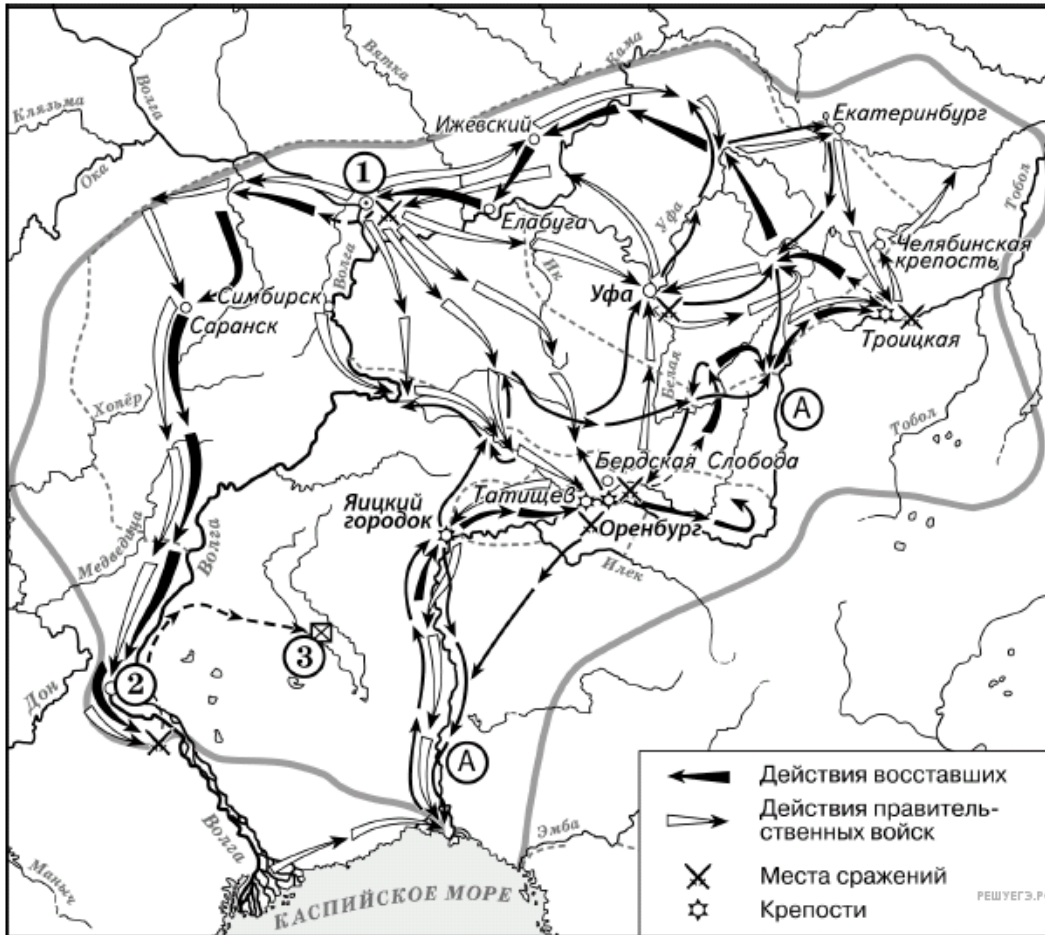
Рассмотрите схему и выполните задание.



19. Какие суждения, относящиеся к событиям, связанным со схемой, являются верными? Выберите несколько суждений из шести предложенных. Запишите в таблицу цифры, под которыми они указаны.

1. Союзником России в этой войне была Австрийская империя.
2. Одним из соперников России в этой войне была Франция.
3. В ходе войны сменился правитель России.
4. Обозначенная на схеме цифрой 3 территория была присоединена к России по итогам войны.
5. Сражение в бухте, обозначенной на схеме цифрой 2, стало последним крупным сражением парусного флота.
6. Русские войска в период этой войны возглавлял А. В. Суворов.

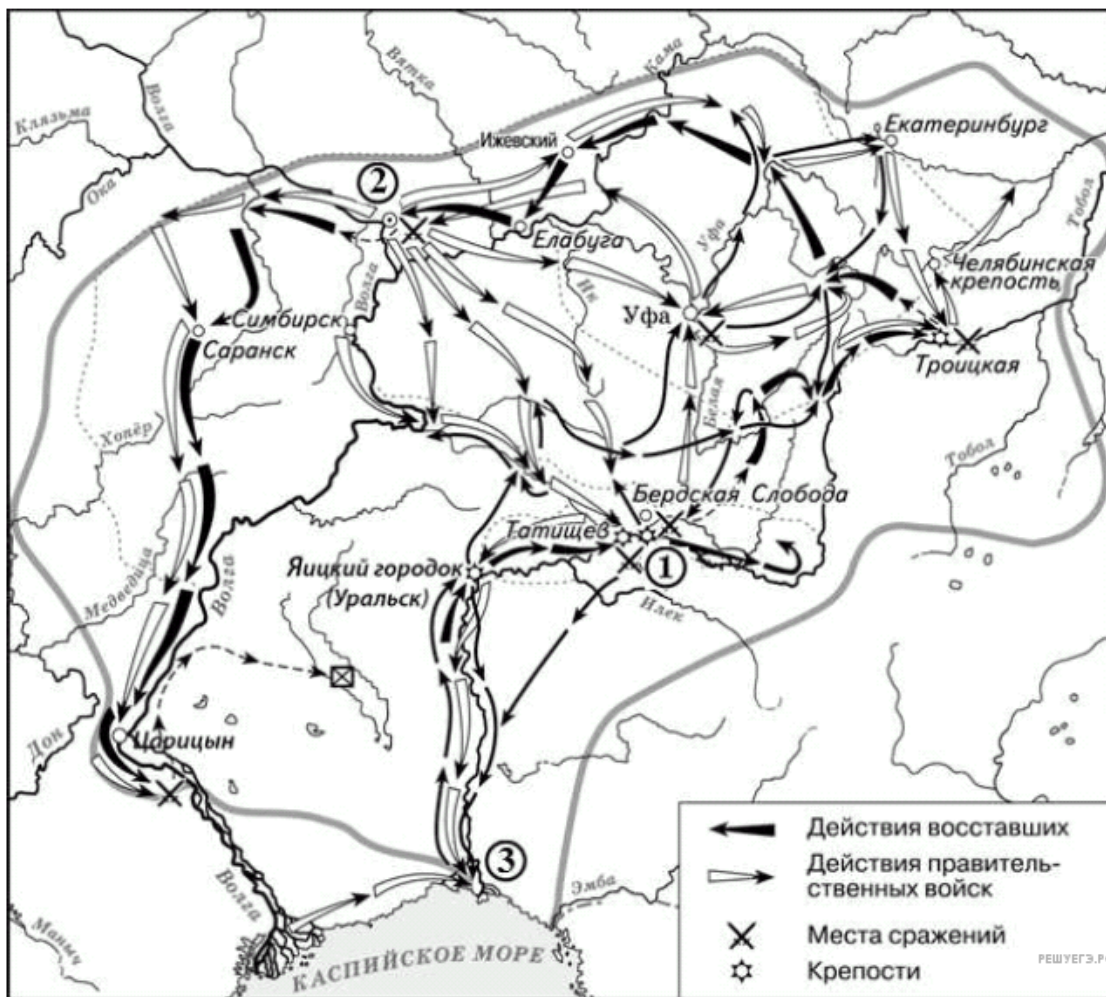
Рассмотрите схему и выполните задание.



20. Какие суждения, относящиеся к данной схеме, являются верными? Выберите несколько суждений из шести предложенных. Запишите в таблицу цифры, под которыми они указаны.

1. На схеме изображён ход крупнейшего народного восстания.
2. Участником событий, изображённых на схеме, был казачий атаман Василий Ус.
3. Вооружённые отряды, действия которых обозначены чёрными стрелками, состояли только из казаков и государственных крестьян.
4. У города, обозначенного на схеме цифрой 2, войска, действия которых обозначены чёрными стрелками, одержали крупную победу.
5. Цифрой 3 на схеме обозначено место пленения предводителя вооружённых отрядов, действия которых обозначены чёрными стрелками.
6. После завершения событий, обозначенных на схеме, в Российской империи была проведена губернская реформа.

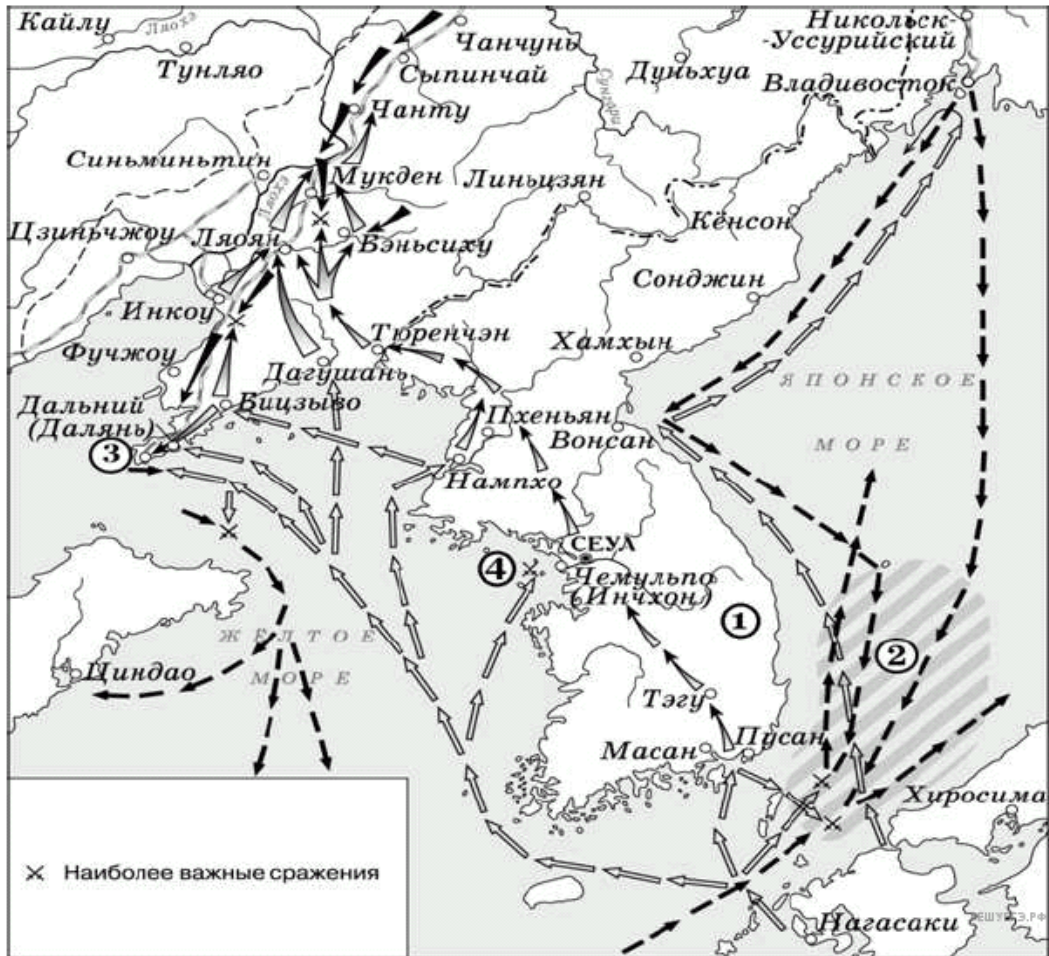
Рассмотрите схему и выполните задание.



21. Какие суждения, относящиеся к исторической ситуации, обозначенной на схеме, являются верными? Выберите несколько суждений из шести предложенных. Запишите в ответ цифры, под которыми они указаны.

1. Восставшим удалось взять город, обозначенный на схеме цифрой 1.
2. Руководитель восстания выдавал себя за императора Ивана VI.
3. В сражении, произошедшем в районе города, обозначенного на схеме цифрой 2, восставшие потерпели поражение.
4. Находясь в районе города, обозначенного на схеме цифрой 1, руководитель восстания огласил указ, даровавший вольность крестьянам.
5. На схеме обозначено особым знаком место пленения руководителя восстания.
6. Восстание, которому посвящена схема, началось в среде казаков.

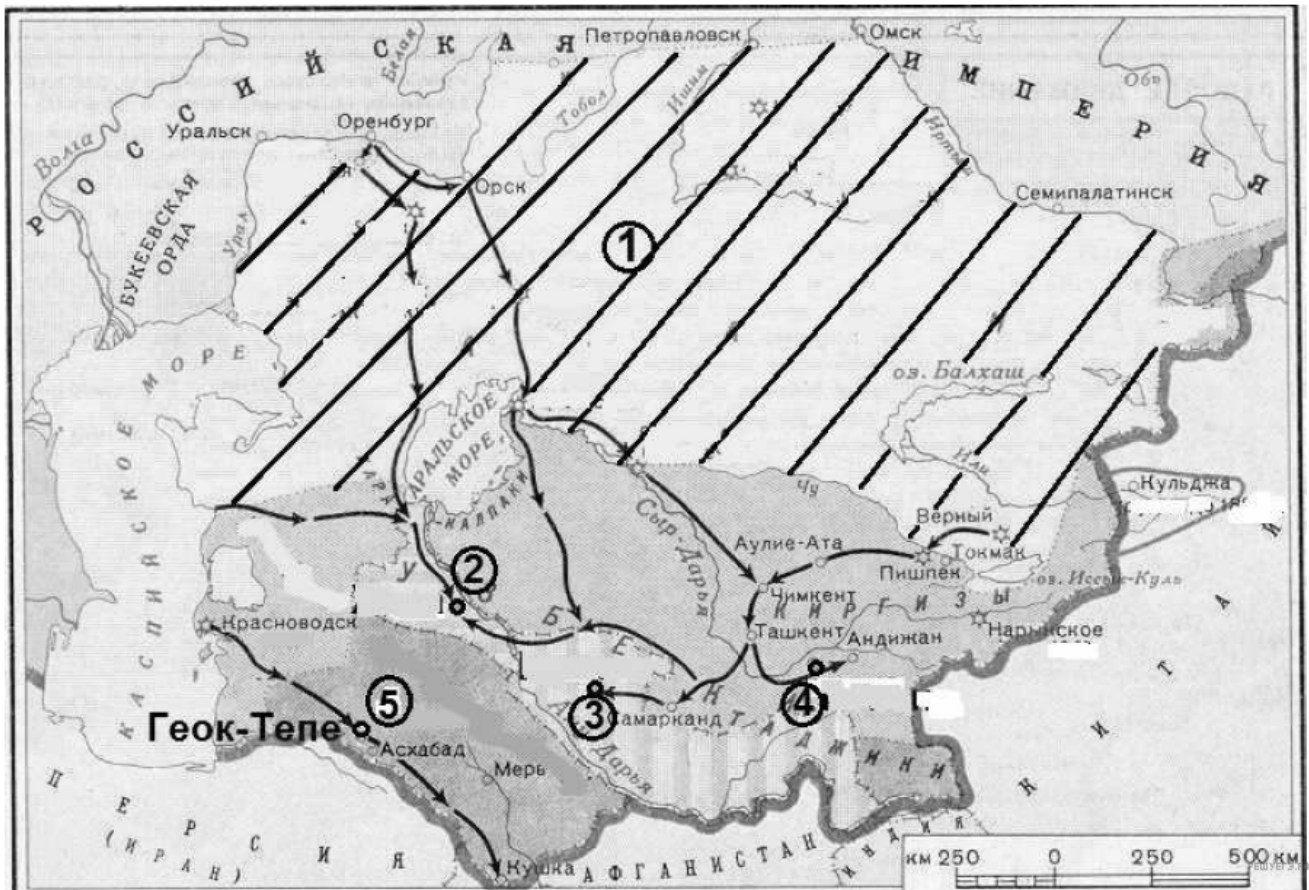
Рассмотрите схему и выполните задание.



22. Какие суждения, относящиеся к исторической ситуации, обозначенной на схеме, являются верными? Выберите несколько суждений из шести предложенных. Запишите в ответ цифры, под которыми они указаны.

1. Данная схема посвящена войне с государством, столица которого обозначена на схеме.
2. Стрелками чёрного цвета \blackrightarrow \dashrightarrow на схеме обозначены военные действия русских войск.
3. Цифрой 4 на схеме обозначен город Порт-Артур.
4. Героический подвиг экипажей крейсера «Варяг» и канонерской лодки «Кореец» был совершён в ходе сражения, обозначенного на схеме цифрой 3.
5. Цифрой 2 на схеме обозначен район крупного морского сражения, в ходе которого русский флот потерпел поражение.
6. На схеме обозначен участок железной дороги, построенной Российской империей, движение по которой было открыто в том же десятилетии, когда произошли обозначенные на схеме события.

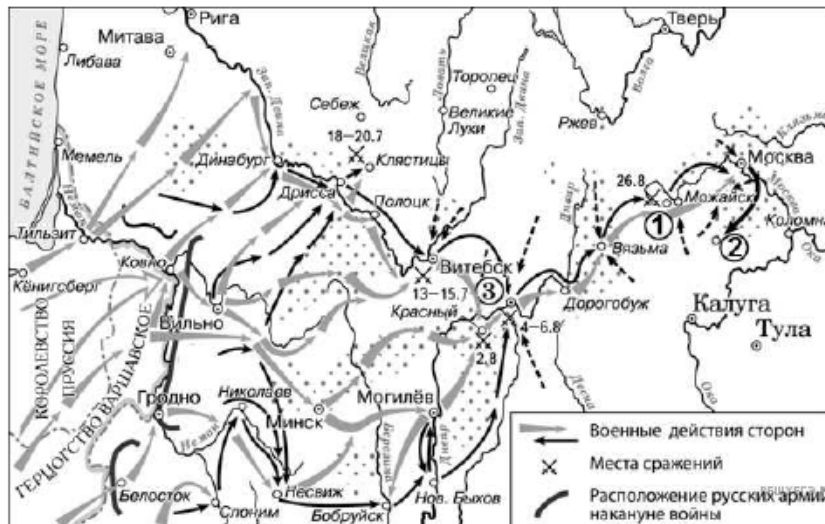
Рассмотрите схему и выполните задание.



23. Какие суждения, относящиеся к событиям, обозначенным на схеме, являются верными? Выберите несколько суждений из шести предложенных. Запишите в таблицу цифры, под которыми они указаны.

1. Заштрихованная территория, обозначенная цифрой 1, была в основном присоединена к России к 1850-м гг.
2. Одним из русских военачальников, участвовавших в завоевании территорий, центры которых обозначены на схеме цифрами 2, 3 и 4, был П. И. Багратион.
3. Одной из территорий, центры которых обозначены на схеме цифрами 2, 3 и 4, был Бухарский эмират.
4. Одной из сложностей, с которыми столкнулись русские войска при завоевании данных территорий, было хорошее техническое оснащение войск противника.
5. Одним из преобразований, проведённых русскими властями на территориях, центры которых обозначены на схеме цифрами 2, 3 и 4, была отмена рабства.
6. Главным европейским соперником России в контроле над данным регионом была Франция.

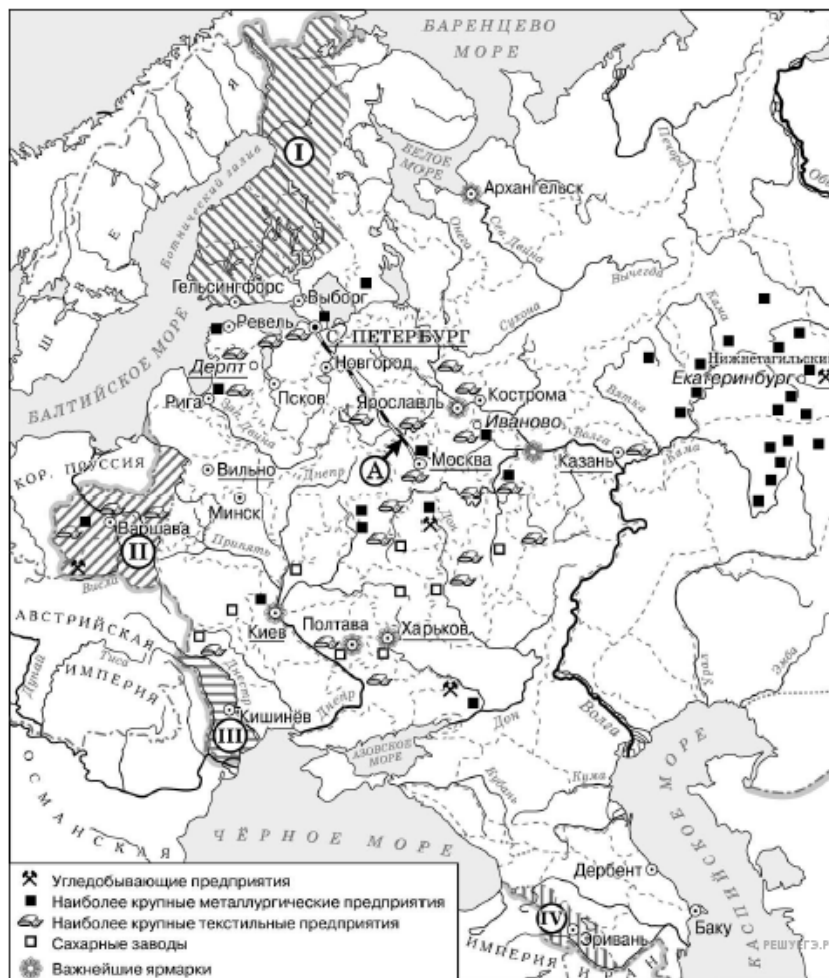
Рассмотрите схему и выполните задание.



24. Какие суждения, относящиеся к схеме, являются верными? Выберите несколько суждений из шести предложенных. Запишите в таблицу цифры, под которыми они указаны.

1. Цифрой 3 на схеме обозначен Смоленск.
2. Русской армией, располагавшейся в начале событий, обозначенных на схеме стрелками, в районе Вильно, командовал П. И. Багратион.
3. Город Полоцк был захвачен армией противника в период боевых действий, обозначенных на схеме стрелками.
4. На схеме обозначена столица Российской империи в период, когда произошли события, которым посвящена схема.
5. На схеме обозначена только часть событий данной войны.
6. События, обозначенные на схеме стрелками, произошли весной.

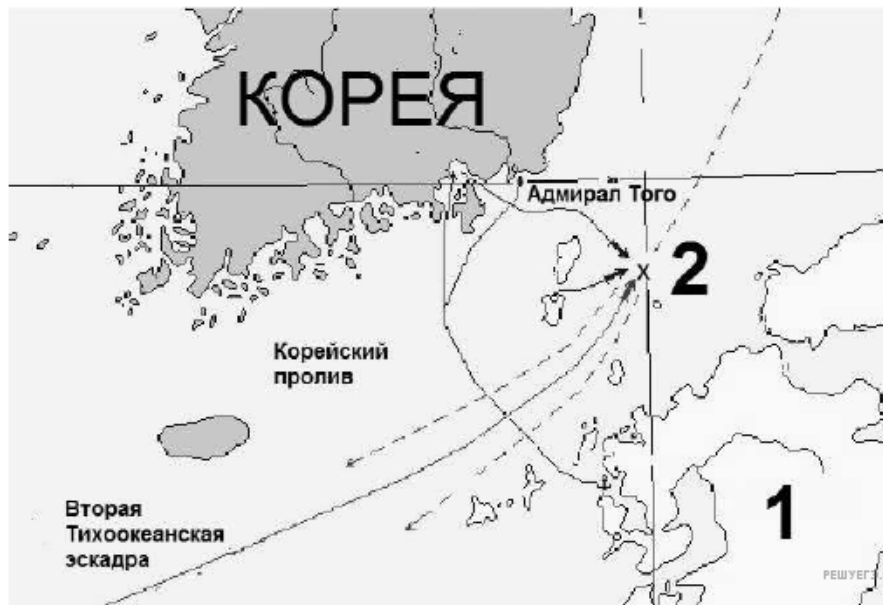
Рассмотрите схему и выполните задание.



25. Какие суждения, относящиеся к схеме, являются верными? Выберите несколько суждений из шести предложенных. Запишите в таблицу цифры, под которыми они указаны.

1. Железная дорога, обозначенная на схеме буквой А, была построена в 1830-х гг.
2. Территории, обозначенные на схеме цифрами I и II, были присоединены к Российской империи в период правления одного и того же императора.
3. Территория, обозначенная на схеме цифрой III, была присоединена к России в результате войны с Австрийской империей.
4. В Полтаве находилась одна из важнейших российских ярмарок.
5. Все города, обозначенные на схеме, сохранили свои названия до наших дней.
6. На территории, обозначенной на схеме цифрой II, в XIX в. произошли два крупных восстания.

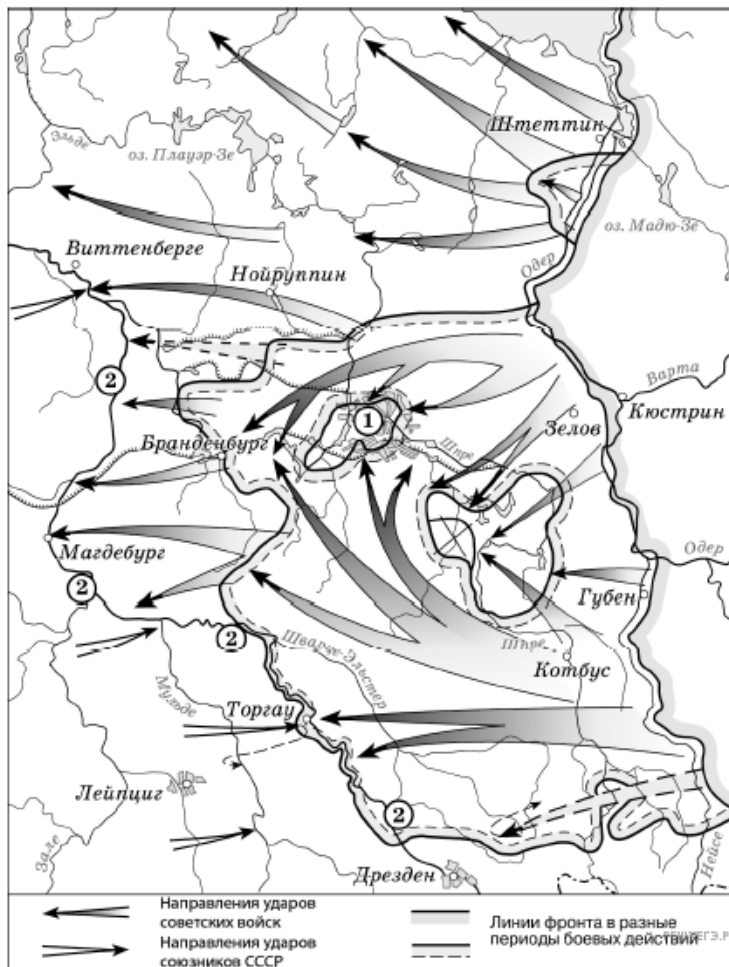
Рассмотрите схему и выполните задание.



26. Какие суждения, относящиеся к схеме, являются верными? Выберите несколько суждений из шести предложенных. Запишите в таблицу цифры, под которыми они указаны.

1. Война, одно из сражений которой отображено на схеме, происходила в 1877–1878 гг.
2. Русской эскадрой в этом сражении командовал адмирал З. П. Рожественский.
3. Сражения данной войны происходили исключительно на море.
4. Сражение, отображённое на схеме, закончилось победой русского флота.
5. Название изображённого сражения стало нарицательным в русском языке.
6. Во время данной войны в России началась революция.

Рассмотрите схему и выполните задание.



27. Какие суждения, относящиеся к исторической ситуации, обозначенной на схеме, являются верными? Выберите несколько суждений из шести предложенных. Запишите в таблицу цифры, под которыми они указаны.

1. Одним из фронтов, участвовавших в операции советских войск, которой посвящена схема, командовал Г. К. Жуков.
2. В ходе событий, которым посвящена схема, войска союзников СССР взяли г. Штеттин.
3. В ходе событий, которым посвящена схема, советские войска взяли г. Лейпциг.
4. В ходе событий, обозначенных на схеме, советские войска вели бои на Зееловских высотах.
5. В период событий, обозначенных на схеме, СССР участвовал в войне против Японии.
6. В период событий, обозначенных на схеме, советские войска уже взяли г. Кёнигсберг.

Рассмотрите схему и выполните задание.



28. Какие суждения, относящиеся к схеме, являются верными? Выберите несколько суждений из шести предложенных. Запишите в таблицу цифры, под которыми они указаны.

1. Город, обозначенный на схеме цифрой 1, советские войска обороняли в течение более чем 200 дней.
2. Город, обозначенный на схеме цифрой 2, не был сдан врагу.
3. Государство, территория которого обозначена на схеме цифрой 4, в период боевых действий, обозначенных на схеме стрелками, участвовало на стороне противника СССР.
4. Город, обозначенный на схеме цифрой 6, вошёл в состав СССР в 1939 г.
5. На схеме обозначены события Коренного перелома в ходе Великой Отечественной войны.
6. Город, обозначенный на схеме цифрой 7, никогда не входил в состав Российского государства.

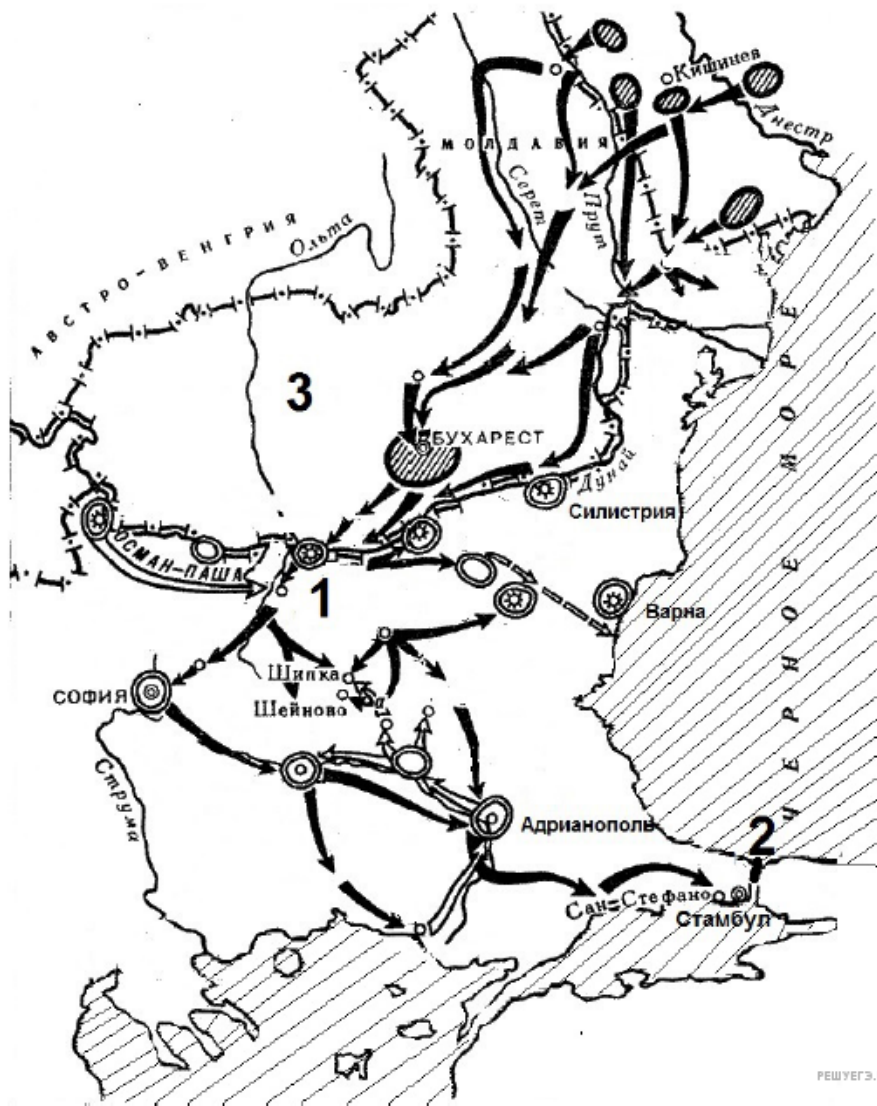
Рассмотрите схему и выполните задание.



29. Какие суждения, относящиеся к событиям, обозначенным на схеме, являются верными? Выберите несколько суждений из шести предложенных. Запишите в таблицу цифры, под которыми они указаны.

1. Война, события которой изображены на схеме, относится к 1820-м гг.
2. Среди союзников Турции, действия которых изображены на схеме, была Великобритания.
3. В бухте, обозначенной на схеме цифрой 2, в ходе войны был уничтожен турецкий флот.
4. Командующим русской эскадрой, действия которой изображены на схеме, был С. О. Макаров.
5. Город, обозначенный на схеме цифрой 1, до конца войны не был сдан неприятелю.
6. Мирный договор, завершивший войну, события которой изображены на схеме, был заключён в Париже.

Рассмотрите схему и выполните задание.

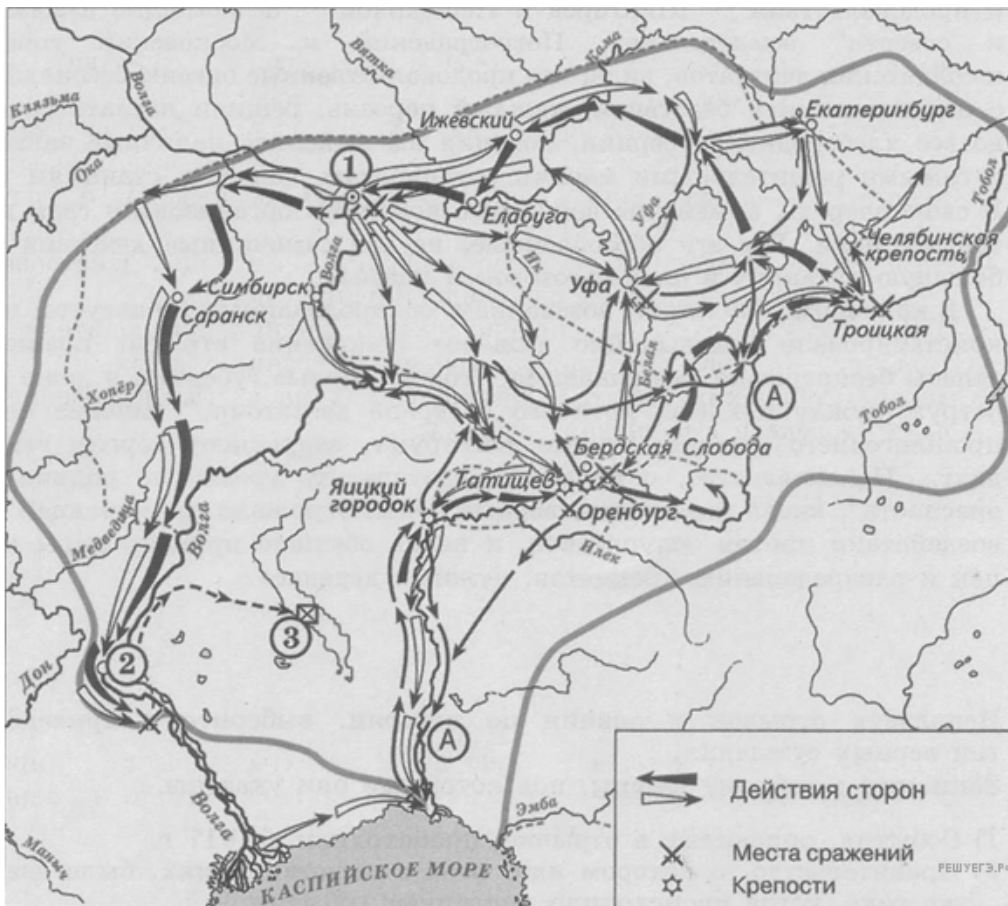


РЕШУ ЕГЭ.РФ

30. Какие суждения, относящиеся к событиям, обозначенным на схеме, являются верными? Выберите несколько суждений из шести предложенных. Запишите в таблицу цифры, под которыми они указаны.

1. Пролив, обозначенный на схеме цифрой 2, — Босфор.
2. В войне, событиям которой посвящена схема, обозначенное цифрой 3 княжество было союзником России.
3. В ходе войны, события которой обозначены на схеме, русские войска заняли столицу противника.
4. По результатам войны, события которой обозначены на схеме, Россия получила Южную Бессарабию.
5. Итогом войны, события которой обозначены на схеме, стало установление на длительный период контроля России над проливом, обозначенным цифрой 2.
6. При том же российском императоре, к царствованию которого относится война, событиям которой посвящена схема, Россия воевала с Японией.

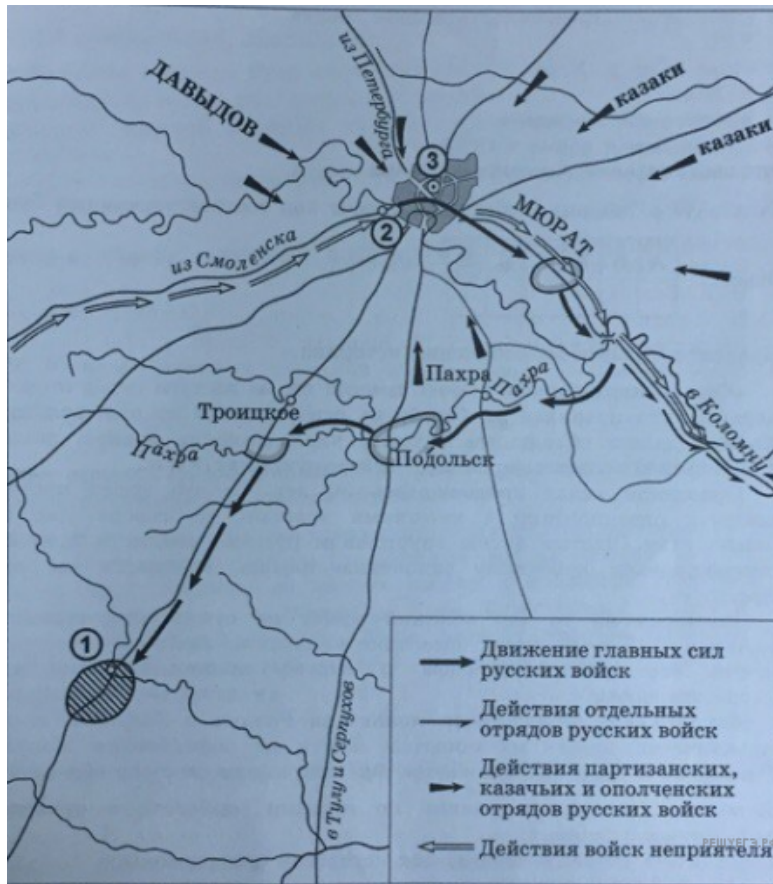
Рассмотрите схему и выполните задание.



31. Какие суждения, относящиеся к событиям, обозначенным на схеме, являются верными? Выберите несколько суждений из шести предложенных. Запишите в таблицу цифры, под которыми они указаны.

1. Белыми стрелками на схеме обозначены действия противников правительственных войск.
2. Участником событий, изображённых на схеме, был Салават Юлаев.
3. Отряды, действовавшие в ходе обозначенных событий против правительственных войск, состояли только из казаков и государственных крестьян.
4. У города, обозначенного на схеме цифрой 1, отряды, действовавшие против правительственных войск, одержали крупную победу.
5. Цифрой 3 на схеме обозначено место пленения предводителя вооружённых отрядов, действовавших против правительственных войск.
6. После завершения событий, обозначенных на схеме, в Российской империи была проведена губернская реформа.

Рассмотрите схему и выполните задание.



32. Какие суждения, относящиеся к событиям, обозначенным на схеме, являются верными? Выберите несколько суждений из шести предложенных. Запишите в таблицу цифры, под которыми они указаны.

1. В ходе манёвра, обозначенного на схеме, главные силы русских войск переправились через р. Москву.
2. Среди участников военных действий, обозначенных на схеме стрелками, был П. И. Багратион.
3. В ходе обозначенных на схеме событий главнокомандующим русскими войсками был М. Б. Барклай-де-Толли.
4. Современниками обозначенных на схеме событий были М. М. Сперанский и А. А. Аракчеев.
5. Главные силы русских войск находились в районе населённого пункта, обозначенного на схеме цифрой 1, более трёх месяцев.
6. Во время данных событий город, обозначенный на схеме цифрой 3, сильно пострадал от пожара.

Рассмотрите схему и выполните задание.



33. Какие суждения, относящиеся к событиям, обозначенным на схеме, являются верными? Выберите несколько суждений из шести предложенных. Цифры укажите в порядке возрастания.

1. В событиях, обозначенных на схеме, принимал участие П. С. Нахимов.
2. Город, обозначенный на схеме цифрой 2, — Балаклава.
3. В этой войне союзником России выступала Франция.
4. Война завершилась Парижским мирным договором.
5. Россия победила в войне, события которой обозначены на схеме.
6. Одним из условий подписанного мира стало присоединение России к Континентальной блокаде Англии.

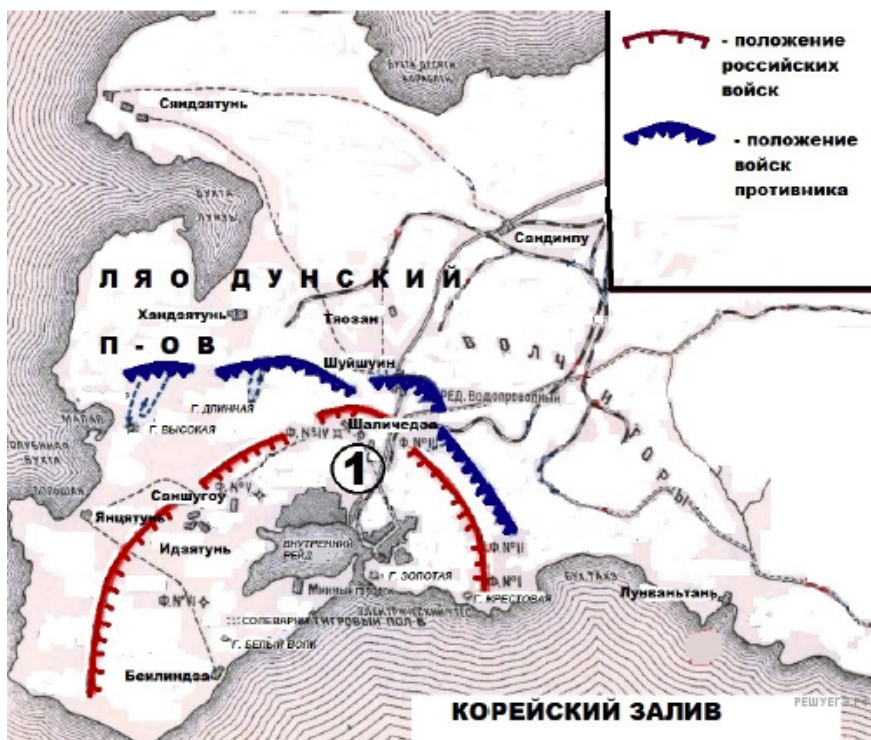
Рассмотрите схему и выполните задание.



34. Какие суждения, относящиеся к событиям, обозначенным на схеме, являются верными? Выберите несколько суждений из шести предложенных. Запишите в таблицу цифры, под которыми они указаны.

1. В войне, события которой обозначены на схеме, союзником России была Румыния.
2. Итогом войны, события которой обозначены на схеме, стала независимость Сербии и Черногории.
3. Осада крепости, обозначенной на схеме цифрой 1, продолжалась меньше двух недель.
4. Одним из участков осады, обозначенной на схеме, руководил генерал, прославившийся завоевательными походами в Средней Азии и получивший прозвище Белый генерал.
5. Мир, завершивший войну, события которой обозначены на схеме, был заключён в Париже.
6. Одним из условий мира, заключённого по итогам войны, события которой обозначены на схеме, стала нейтрализация Чёрного моря.

Рассмотрите схему и выполните задание.



35. Какие суждения, относящиеся к событиям, обозначенным на схеме, являются верными? Выберите несколько суждений из шести предложенных. Запишите в таблицу цифры, под которыми они указаны.

1. События, обозначенные на схеме, происходили в 1877 г.
2. Самые крупные сухопутные сражения войны, событиям которой посвящена схема, происходили на территории Китая.
3. Итогом для России войны, событиям которой посвящена схема, стала потеря Южного Сахалина.
4. В период войны, событиям которой посвящена схема, в России началась революция.
5. При императоре, ко времени правления которого относятся обозначенные на схеме события, в России было отменено крепостное право.
6. Одним из сражений войны, событиям которой посвящена схема, была оборона Шипки.

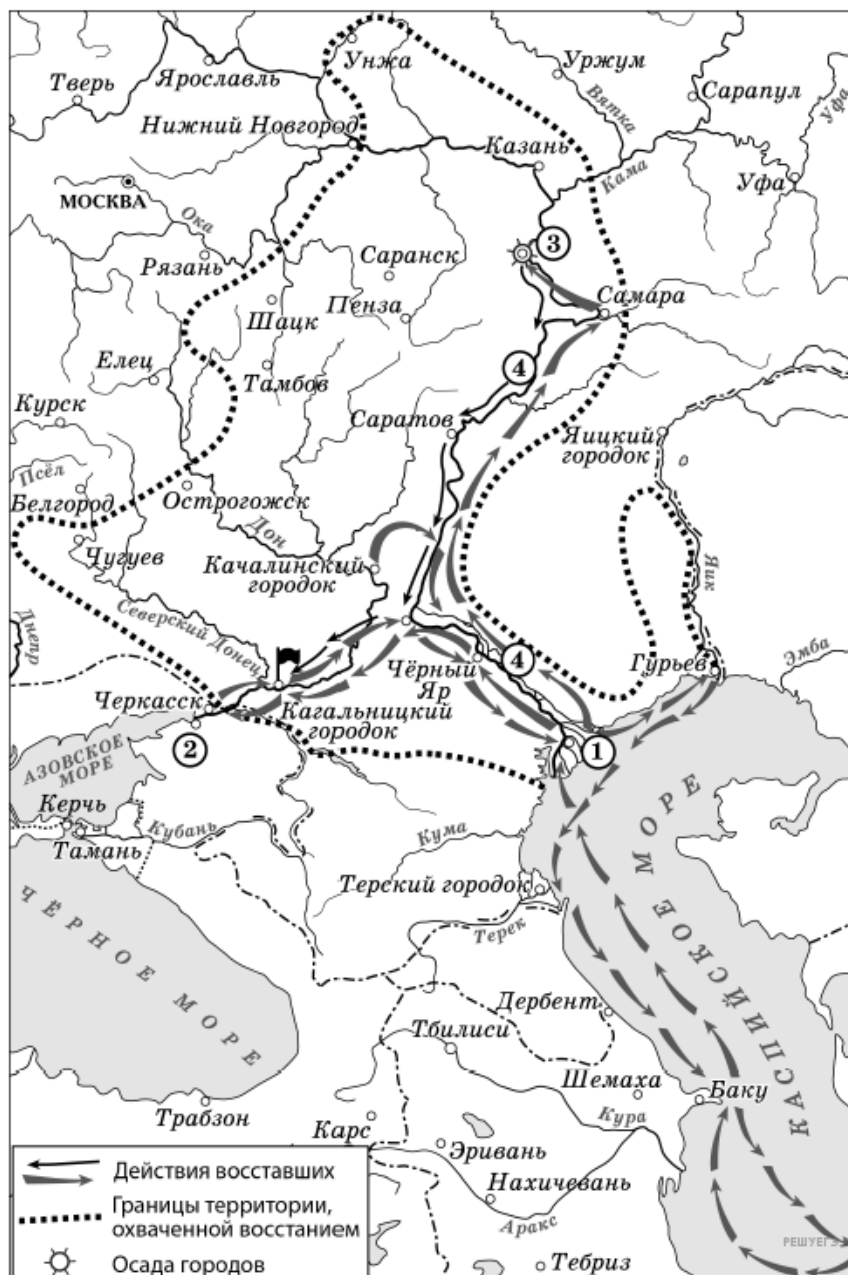
Рассмотрите схему и выполните задание.



36. Какие суждения, относящиеся к событиям, обозначенным на схеме, являются верными? Выберите несколько суждений из шести предложенных. Запишите в таблицу цифры, под которыми они указаны.

1. Война, основные сражения которой обозначены на схеме, продлилась дольше 20 лет.
2. Мирный договор, завершивший войну, события которой обозначены на схеме, был подписан в Москве.
3. В царствование государя, при котором происходили обозначенные на схеме события, в России начался церковный раскол.
4. Все сражения войны, события которой обозначены на схеме, происходили исключительно на суше.
5. Город, обозначенный на схеме цифрой 2, был основан в ходе войны, основные сражения которой обозначены на схеме.
6. Решающее, переломное сражение в войне, события которой обозначены на схеме, произошло в районе города, обозначенного на схеме цифрой 1.

Рассмотрите схему и выполните задание.



38. Какие суждения, относящиеся к схеме, являются верными? Выберите несколько суждений из шести предложенных. Запишите в таблицу цифры, под которыми они указаны.

1. Одним из результатов восстания, район которого обозначен на схеме, явилось прекращение выпуска медных денег.
2. Восставшие, действия которых обозначены на схеме, захватили Уфу.
3. Цифрой 3 на схеме обозначен город Симбирск.
4. Цифрой 1 на схеме обозначен город Архангельск.
5. Чёрным флагом на схеме обозначено место пленения предводителя восстания, район которого обозначен на схеме.
6. Цифрой 2 на схеме обозначен город, который впервые вошёл в состав Российского государства в том же веке, когда произошли обозначенные на схеме события.

Рассмотрите схему и выполните задание.



39. Какие суждения, относящиеся к событиям, обозначенным на схеме, являются верными? Выберите несколько суждений из шести предложенных. Запишите в таблицу цифры, под которыми они указаны.

1. В ходе войны, событиям которой посвящена схема, военные действия велись, в том числе, на территории государства, обозначенного на схеме цифрой 3.

2. В ходе войны, событиям которой посвящена схема, российские войска не смогли овладеть крепостью, обозначенной на схеме цифрой 2.

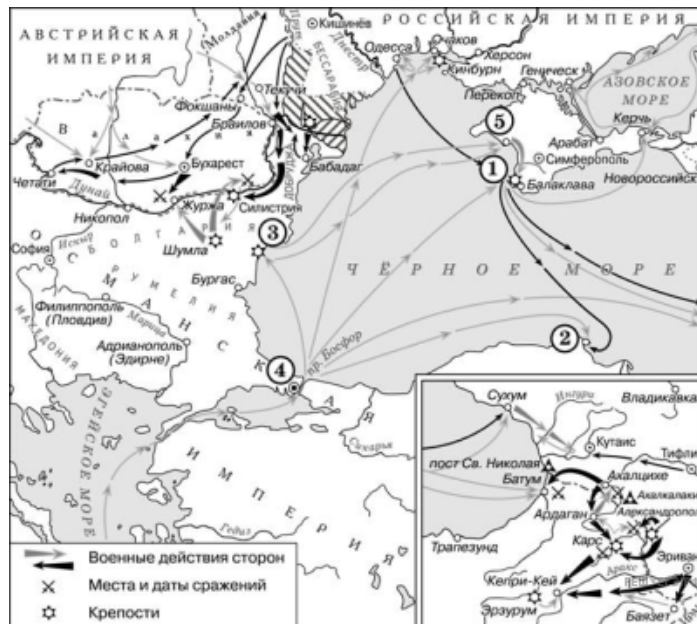
3. Командующим российскими войсками в войне, событиям которой посвящена схема, был А. В. Суворов.

4. По итогам войны, событиям которой посвящена схема, обозначенная на схеме цифрой 4 крепость перешла России.

5. В период войны, событиям которой посвящена схема, в России произошло восстание под предводительством Е. И. Пугачёва.

6. Во время войны, событиям которой посвящена схема, военные действия происходили как на суше, так и на море.

Рассмотрите схему и выполните задание.



40. Какие суждения, относящиеся к событиям, обозначенным на схеме, являются верными? Выберите несколько суждений из шести предложенных. Запишите в таблицу цифры, под которыми они указаны.

1. Во время войны, события которой обозначены на схеме, единственным противником России было государство, чья столица обозначена под цифрой 4.
2. Российский флот, действия которого в ходе войны обозначены в легенде схемы темными стрелками, возглавлял Ф. Ф. Ушаков.
3. В ходе войны, событиям которой посвящена схема, город, обозначенный на схеме цифрой 1, был сдан неприятелю.
4. Заштрихованная территория была утрачена Россией по итогам войны, событиям которой посвящена схема.
5. Базой для десантных операций противника в войне, событиям которой посвящена схема, служил город, обозначенный на карте цифрой 3.
6. На схеме показаны действия неприятельского флота по бомбардировке Новороссийска.

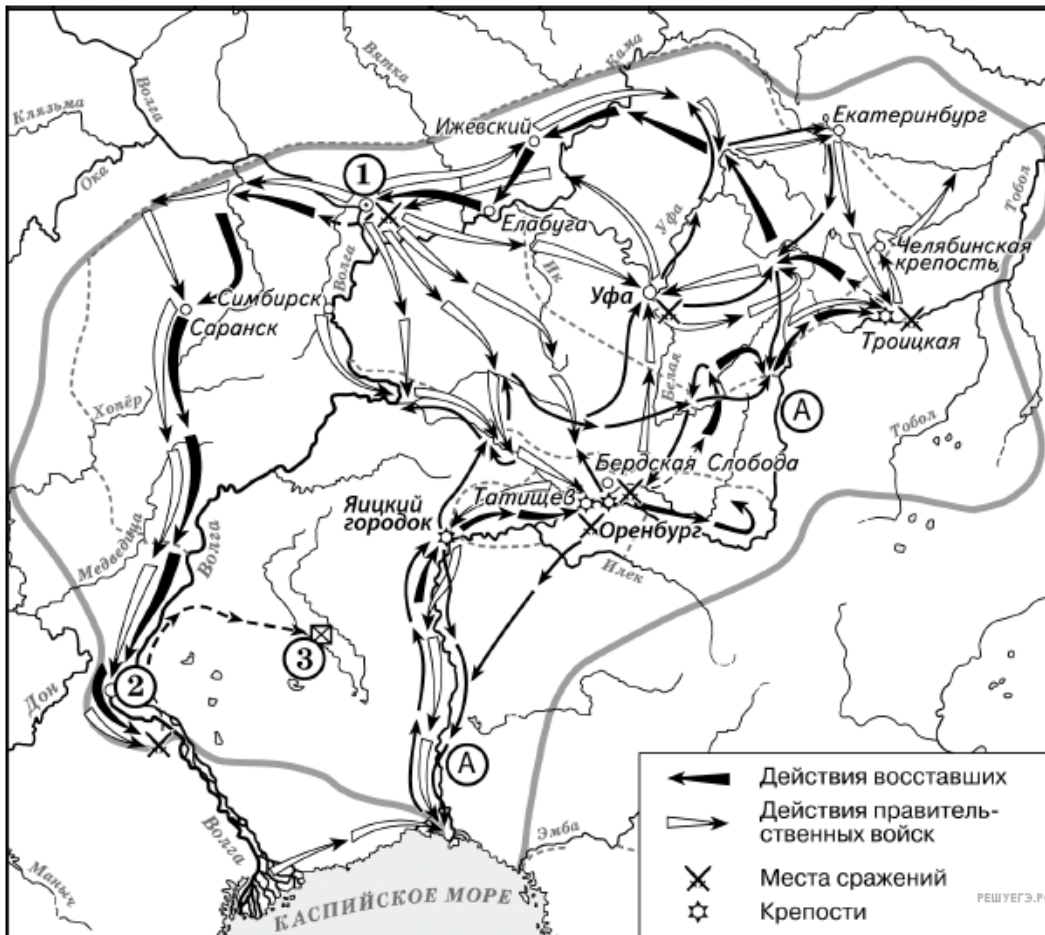
Рассмотрите схему и выполните задание.



42. Какие суждения, относящиеся к событиям, обозначенным на схеме, являются верными? Выберите несколько суждений из шести предложенных. Запишите в таблицу цифры, под которыми они указаны.

1. Цифрой 2 на схеме обозначен район восстания под предводительством Е. И. Пугачёва.
2. Территория, обозначенная на схеме цифрой 1, была завоёвана Россией в результате войны с государством, обозначенном на схеме цифрой 7.
3. Город, обозначенный на схеме цифрой 4, впервые вошёл в состав России в период правления монарха, при котором были присоединены территории, обозначенные на схеме цифрой 1.
4. Близ обозначенного на схеме цифрой 6 города произошло крупнейшее сухопутное сражение войны, по итогам которой к России отошла территория, обозначенная на схеме цифрой 1.
5. Восстание, район которого обозначен на схеме цифрой 2, охватило в том числе Казань.
6. Город, обозначенный на схеме цифрой 5, дважды переименовывался в XX в.

Рассмотрите схему и выполните задание.



44. Какие суждения, относящиеся к данной схеме, являются верными? Выберите несколько суждений из шести предложенных. Запишите в таблицу цифры, под которыми они указаны.

1. Восстание, изображенное на схеме, связано с таким явлением как самозванство.
2. Участником событий, изображённых на схеме, был казачий атаман Василий Ус.
3. Вооружённые отряды, действия которых обозначены чёрными стрелками, включали в свой состав рабочих мануфактур и работных людей горнорудных заводов.
4. Город, обозначенный на схеме цифрой 2, это Киев.
5. Нерусские народы региона, изображенного на схеме, принимали активное участие в восстании.
6. Сразу после завершения событий, обозначенных на схеме, началась русско-турецкая война.

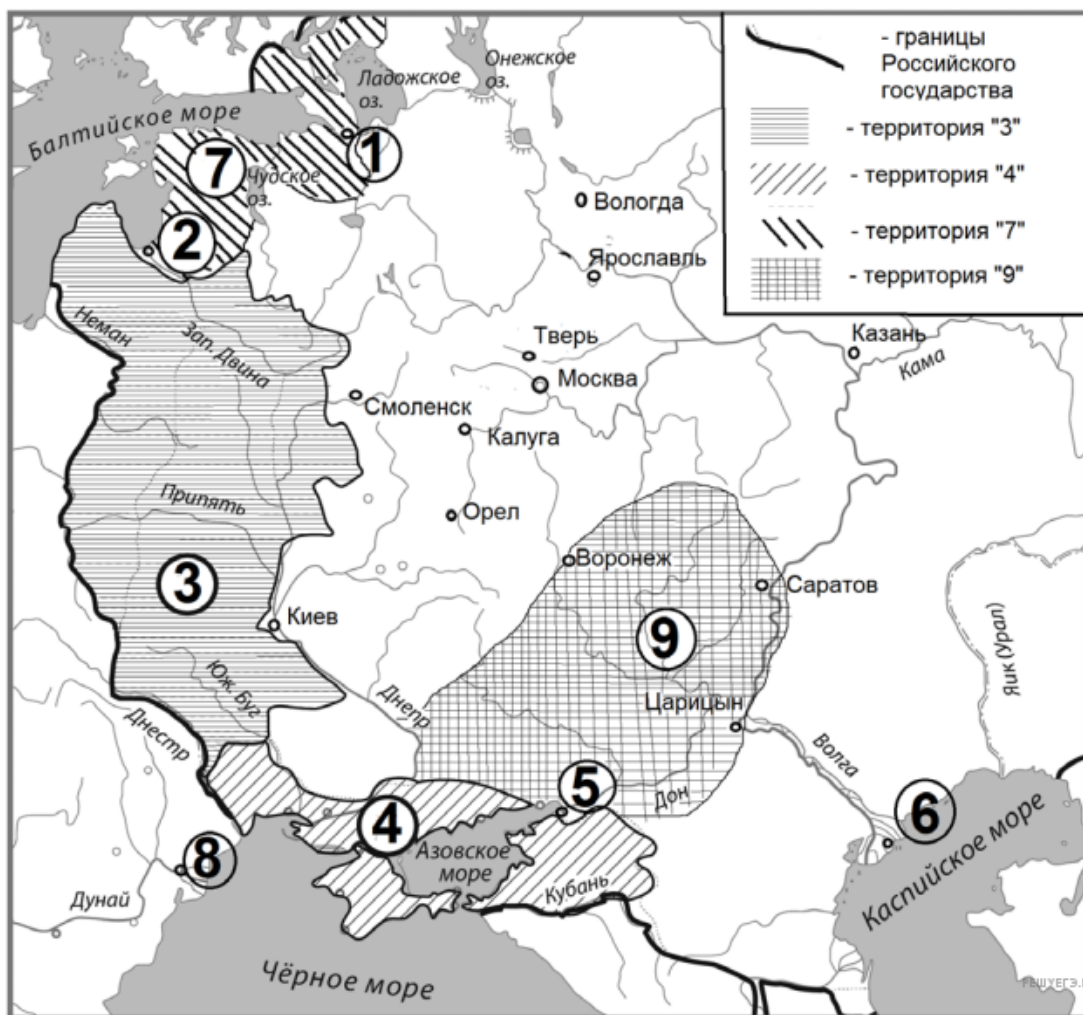
Рассмотрите схему и выполните задание.



45. Какие суждения, относящиеся к схеме, являются верными? Выберите несколько суждений из шести предложенных. Запишите в таблицу цифры, под которыми они указаны.

1. Поход неприятельских войск, обозначенный на схеме цифрой 9, возглавлял шведский король Карл XII.
2. Среди сражений, места которых обозначены на схеме, — сражение на реке Рымник.
3. В городе, обозначенном на схеме цифрой 7, был заключён мирный договор, по условиям которого Россия присоединилась к Континентальной блокаде Англии.
4. В период событий, отражённых на схеме, город, обозначенный цифрой 1 был столицей Российского государства.
5. Обозначенная на схеме цифрой 8 крепость — Плевна.
6. Обозначенная на схеме цифрой 4 территория вошла в состав России в результате войн с Османской империей.

Рассмотрите схему и выполните задание.



46. Какие суждения, относящиеся к схеме, являются верными? Выберите несколько суждений из шести предложенных. Запишите таблицу цифры, под которыми они указаны.

1. Обозначенный на схеме цифрой 1 город был основан государём, в царствование которого в состав Российского государства вошла территория, обозначенная на схеме цифрой 7.
2. Территория, обозначенная на схеме цифрой 3, до присоединения к Российскому государству входила в состав Речи Посполитой.
3. Обозначенный на схеме цифрой 2 город был основан русскими.
4. Обозначенная на схеме цифрой 4 территория вошла в состав Российского государства по условиям Бухарестского мира.
5. Цифрой 9 на схеме обозначен район восстания К. Булавина.
6. Обозначенная на схеме цифрой 8 крепость была взята русскими войсками во время Прутского похода.

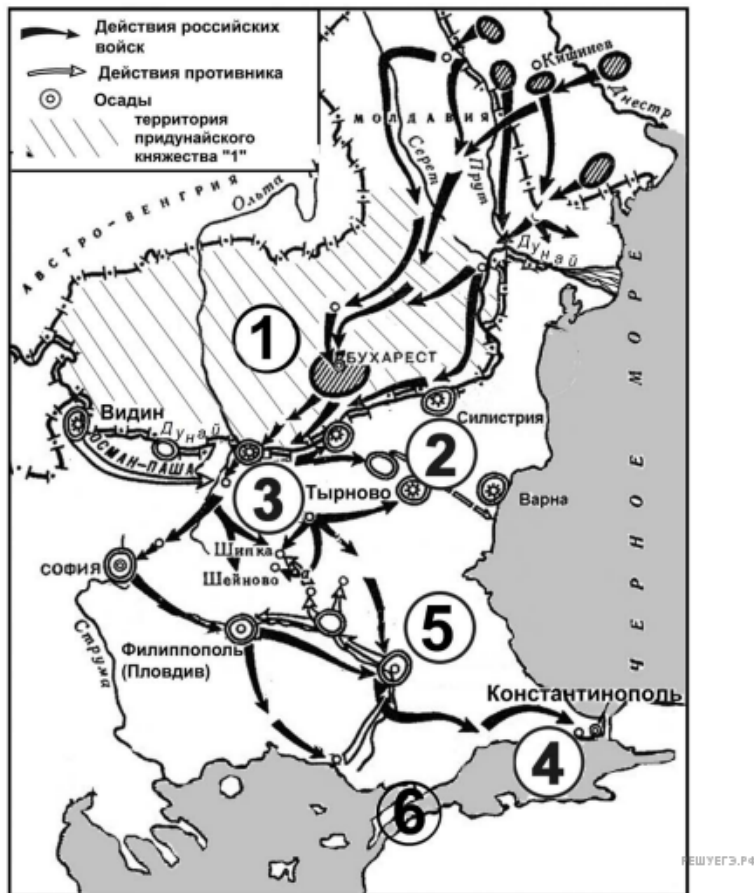
Рассмотрите схему и выполните задание.



48. Какие суждения, относящиеся к схеме, являются верными? Запишите цифры, под которыми они указаны.

1. Обозначенная на схеме цифрой 3 крепость входила в состав Русского государства в середине XVI века, а затем была утрачена в результате событий Смутного времени.
2. В ходе войны, события которой обозначены на схеме стрелками, обозначенный цифрой 5 город подвергся длительной осаде неприятеля.
3. Под обозначенным на схеме цифрой 1 городом в начале войны российское войско потерпело поражение.
4. Обозначенный на схеме цифрой 2 город возник после войны, события которой обозначены на схеме стрелками.
5. Обозначенная на схеме цифрой 6 битва завершилась победой российского войска.
6. Одна из заштрихованных на схеме территорий во время обозначенных на схеме событий носила название «Эстляндия».

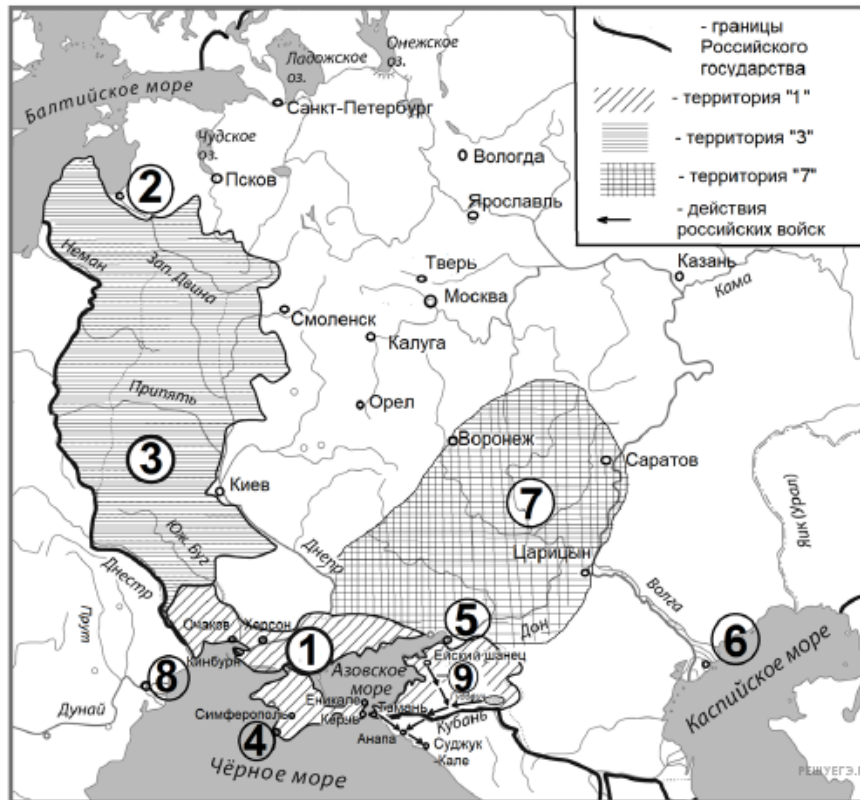
Рассмотрите схему и выполните задание.



49. Какие суждения, относящиеся к схеме, являются верными? Запишите цифры, под которыми они указаны.

1. Обозначенная на схеме цифрой 2 крепость — Измаил.
2. В ходе войны, события которой обозначены на схеме, российские войска действовали среди прочего с территории Австро-Венгрии.
3. В штурмах крепости, обозначенной на схеме цифрой 3, принимал участие генерал М. Д. Скобелев.
4. Придунайское княжество, территория которого обозначена на схеме цифрой 1, было союзником России в событиях, обозначенных на схеме.
5. В обозначенном на схеме цифрой 5 городе был подписан мирный договор, завершивший войну, событиям которой посвящена схема.
6. Обозначенный на схеме цифрой 6 пролив по условиям мира, завершившего войну, событиям которой посвящена схема, был поставлен под непосредственный и исключительный контроль России.

Рассмотрите схему и выполните задание.



50. Какие суждения, относящиеся к схеме, являются верными? Запишите цифры, под которыми они указаны.

1. Обозначенный на схеме цифрой 2 город был основан в том же столетии, в котором велись военные действия, обозначенные на схеме стрелками.
2. Территория, обозначенная цифрой 3, была присоединена к Российской империи в результате разделов Речи Посполитой.
3. Обозначенный на схеме цифрой 4 город был основан как база Черноморского флота России.
4. Обозначенный на схеме цифрой 5 город был впервые присоединён к России при Алексее Михайловиче.
5. Город, обозначенный цифрой 6, был до середины XVI в. столицей одного из «осколков» Золотой Орды.
6. Территория, обозначенная цифрой 7, — это район восстания Кондратия Булавина.

Рассмотрите схему и выполните задание.



51. Какие суждения, относящиеся к схеме, являются верными? Запишите цифры, под которыми они указаны.

1. На схеме обозначено название государства, образованного менее чем за пять лет до начала войны, которой посвящена схема.

2. Обозначенная на схеме цифрой 1 река была местом первой встречи российского государя и государя, возглавлявшего неприятельское войско в обозначенных на схеме событиях.

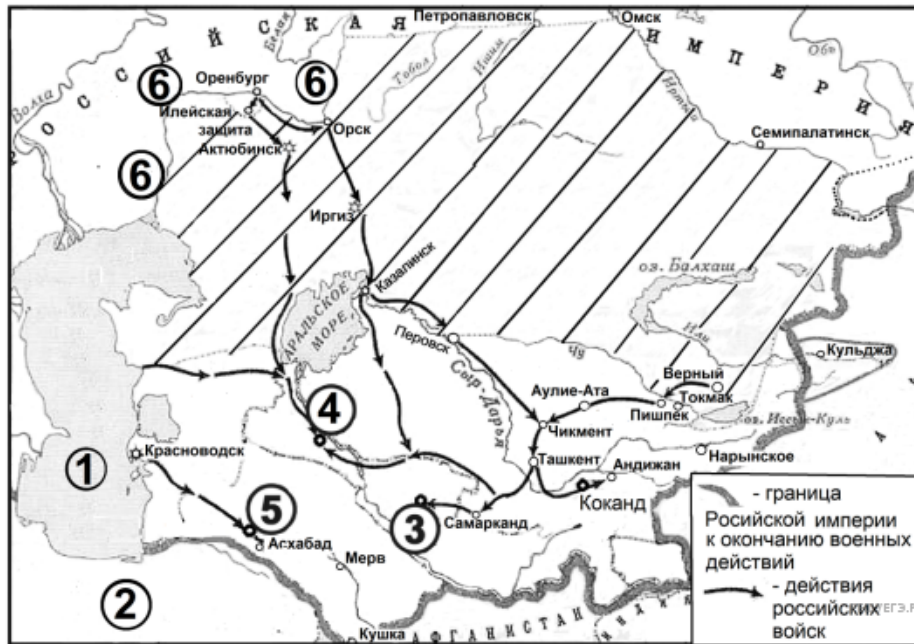
3. Сражение, произошедшее под населённым пунктом, обозначенном на схеме цифрой 2, стало местом гибели П. И. Багратиона.

4. Обозначенный на схеме поход неприятельского войска проходил через город Торопец.

5. В сражении, обозначенном на схеме цифрой 3, российскими войсками командовал П. А. Румянцеv.

6. Обозначенный на схеме марш-маневр российской армии имел целью преследование отступающего неприятеля.

Рассмотрите схему и выполните задание.



Карта составлена по состоянию на 01.01.2023

52. Какие суждения, относящиеся к схеме, являются верными? Запишите цифры, под которыми они указаны.

1. В царствование российского государя, при котором происходили обозначенные на схеме военные действия, Россия воевала с государством, обозначенным на схеме цифрой 2.
2. Обозначенный на схеме цифрой 3 город — Тегеран.
3. Среднеазиатское ханство, столица которого обозначена на схеме цифрой 4, в результате военных действий, которым посвящена схема, приняло над собой протекторат Российской империи.
4. Заштрихованная на карте территория вошла в состав России при Петре I.
5. Обозначенная на схеме цифрой 5 крепость была взята российскими войсками под командованием М. Д. Скобелева.
6. Территории вдоль реки, течение которой обозначено на схеме цифрой «6», были центром восстания Е. И. Пугачёва.

Рассмотрите схему и выполните задание.

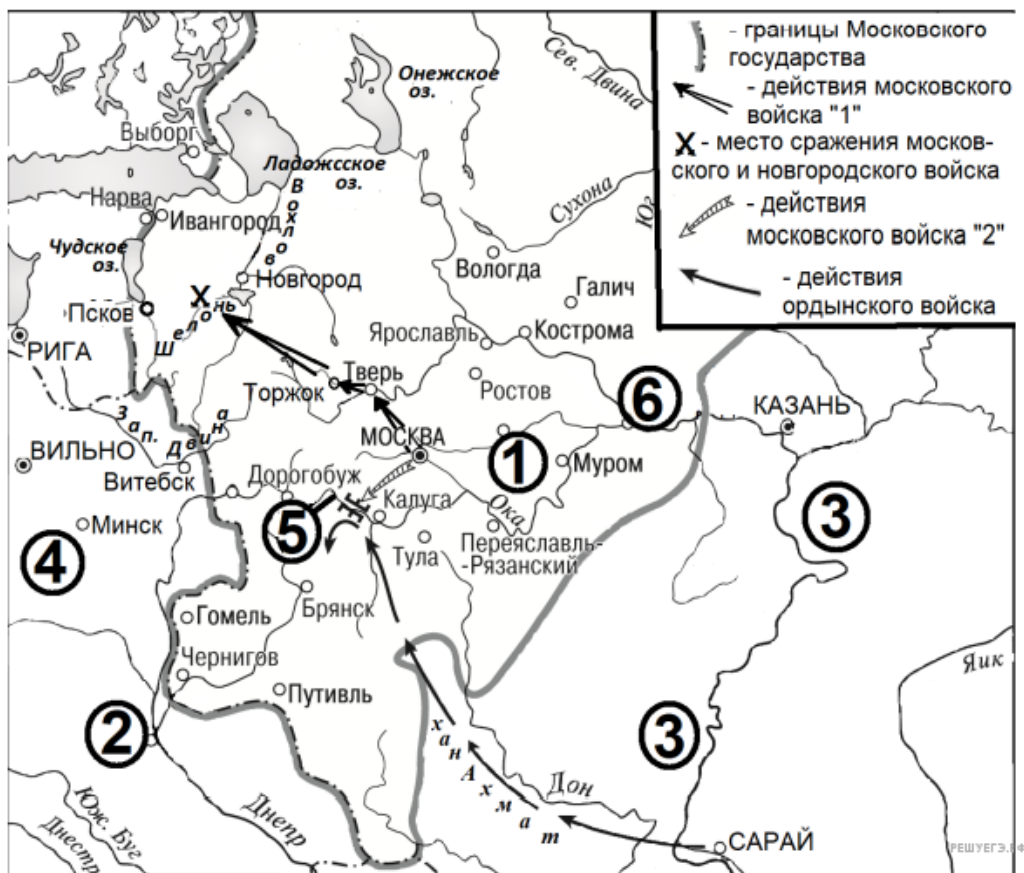


Карта составлена по состоянию на 01.01.2023

53. Какие суждения, относящиеся к схеме, являются верными? Запишите цифры, под которыми они указаны.

1. У обозначенного на схеме цифрой 2 города российские войска в начале войны наголову разгромили войско противника.
2. В обозначенном на схеме цифрой 3 городе был подписан мир, завершивший войну, военные действия в ходе которой обозначены на схеме.
3. Обозначенный на схеме цифрой 4 город был основан при Иване Грозном.
4. Поход неприятельских войск, обозначенный на схеме, проходил через город Брянск.
5. Обозначенный на схеме цифрой 5 город был основан немецкими рыцарями-крестоносцами.
6. Обозначенный на схеме цифрой 6 город вошёл в состав Российского государства при отце государя, к царствованию которого относятся военные действия, обозначенные на схеме.

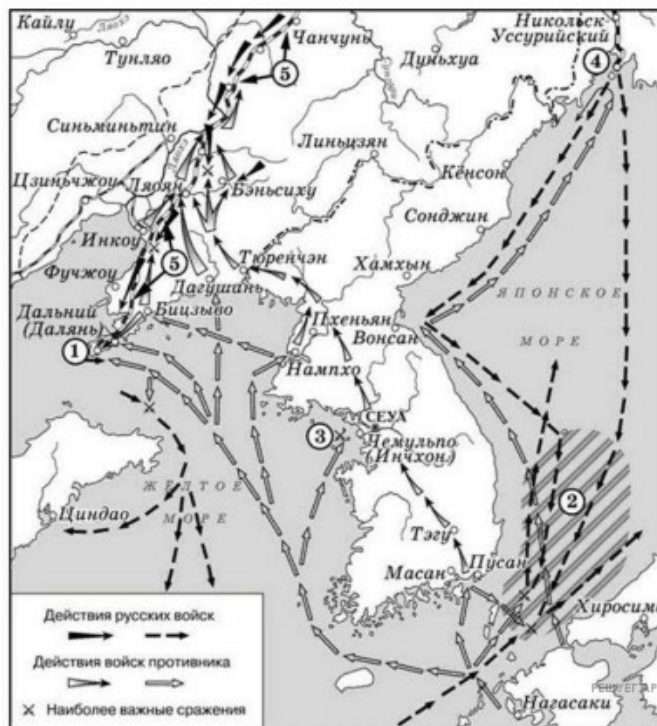
Рассмотрите схему и выполните задание.



54. Какие суждения, относящиеся к схеме, являются верными? Запишите цифры, под которыми они указаны.

1. Обозначенный на схеме цифрой 2 город в IX–XII вв. был столицей Древнерусского государства.
2. Река, течение которой на схеме обозначено цифрой 3, — Волга.
3. Поход ордынского войска, обозначенный на схеме, проходил через Путивль.
4. Государство, территория которого обозначена на схеме цифрой 4, было союзником Москвы в период обозначенного на схеме похода ордынского войска.
5. Цифрой 5 на схеме обозначена река Клязьма.
6. Обозначенный на схеме цифрой 6 город вошёл в состав Московского государства при сыне московского государя, ко времени правления которого относятся обозначенные на схеме события.

Рассмотрите схему и выполните задание.



55. Какие суждения, относящиеся к схеме, являются верными? Запишите цифры, под которыми они указаны.

- 1) В результате военных действий, обозначенных на схеме стрелками, в состав Российского государства вошла Камчатка.
- 2) Все военные действия, обозначенные на схеме стрелками, происходили на территории России.
- 3) В событиях, отражённых на схеме, принимал участие художник–баталист В. В. Верещагин.
- 4) Цифрой «2» на схеме обозначено место гибели эскадры российского флота.
- 5) На схеме обозначены два города, которые подверглись атомной бомбардировке в ходе Второй мировой войны.
- 6) В войне, событиям которой посвящена схема, в союзе с российскими войсками воевали французские войска.

Рассмотрите схему и выполните задания 9–12.



56. Какие суждения, относящиеся к схеме, являются верными? Запишите цифры, под которыми они указаны.

- 1) Походы русской армии, обозначенные на схеме стрелками с цифрой «2», возглавлял Б. Х. Миних.
- 2) Обозначенная на схеме цифрой «3» крепость — Измаил.
- 3) Крепость, обозначенная на схеме цифрой «4», была передана России по условиям мира, завершившего данную войну.
- 4) Река, течение которой обозначено на схеме цифрой «5», по условиям мира, завершившего данную войну, стала границей Российской империи.
- 5) Крепость, обозначенная на схеме цифрой «6», — Очаков.
- 6) Мир, завершивший войну, событиям которой посвящена схема, был заключён в городе, обозначенном на схеме цифрой «7».

Рассмотрите схему и выполните задания 9–12.



57. Какие суждения, относящиеся к схеме, являются верными? Запишите цифры, под которыми они указаны.

- 1) На схеме цифрой «2» обозначена столица Крымского ханства.
- 2) Обозначенная на схеме цифрой «3» средневековая крепость была возобновлена в годы Гражданской войны и стала важнейшим укреплением белых в Крыму.
- 3) Обозначенная на схеме цифрой «4» крепость — Плевна.
- 4) Цифрой «5» на карте обозначена крепость Хотин.
- 5) В сражении, обозначенном на схеме цифрой «6», русские войска возглавлял П. А. Румянцев.
- 6) Обозначенные в легенде схемы цифрой «8» территории были присоединены к России по условиям мирного договора, заключённого в городе, обозначенном цифрой «7».

Рассмотрите схему и выполните задания 9–12.



58. Какие суждения, относящиеся к схеме, являются верными? Запишите цифры, под которыми они указаны.

- 1) В период событий, отражённых на схеме, Кременчуг входил в состав Российского государства.
- 2) В военных действиях, отражённых на схеме, принимали участие только сухопутные войска.
- 3) По итогам войны, события которой отражены на схеме, Россия утратила заштрихованные территории.
- 4) Цифрой «1» на схеме обозначен населённый пункт Кючук-Кайнарджа.
- 5) Государство, дважды обозначенное цифрой «3», было союзником России в период отражённых на схеме событий.
- 6) На схеме отмечены границы Речи Посполитой.

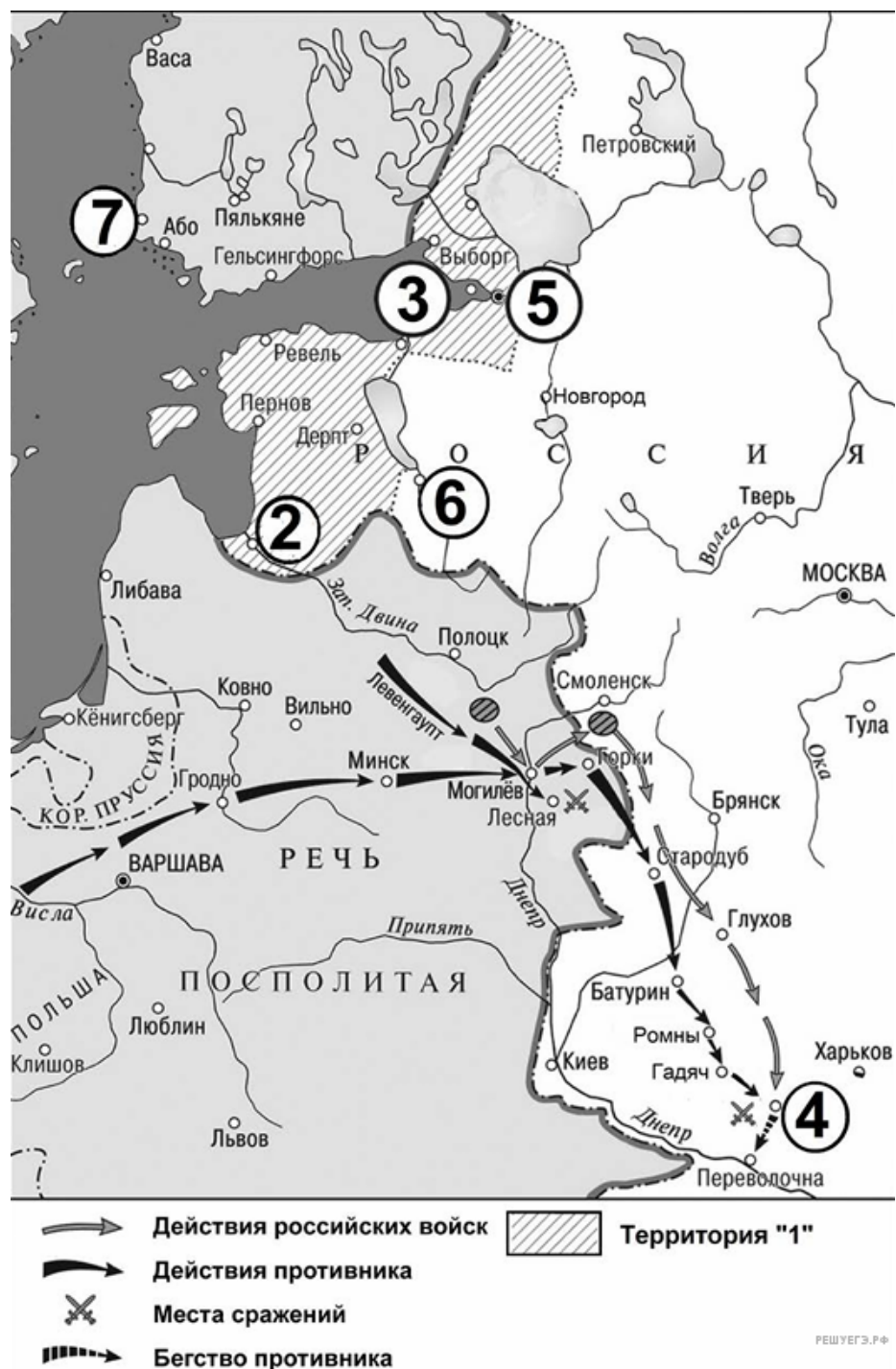
Рассмотрите схему и выполните задание.



60. Какие суждения, относящиеся к схеме, являются верными? Запишите цифры, под которыми они указаны.

- 1) Цифрой «1» на схеме обозначена территория Австрийской империи.
- 2) На реке, обозначенной на схеме цифрой «2», за несколько лет до обозначенного белыми стрелками неприятельского похода произошла встреча его предводителя и российского императора.
- 3) Обозначенный на схеме цифрой «3» город был столицей Великого княжества Литовского.
- 4) Неприятельский поход, обозначенный на схеме белыми стрелками, проходил через город Торрепец.
- 5) В сражении, место которого обозначено на схеме цифрой «3», принимал участие генерал Н. Н. Раевский.
- 6) Обозначенный на схеме цифрой «4» населённый пункт — село Тарутино.

Рассмотрите схему и выполните задания 9–12



61. Какие суждения, относящиеся к схеме, являются верными? Запишите цифры, под которыми они указаны.

1) Близ обозначенного на схеме цифрой «3» города в начале войны, к которой относятся обозначенные на схеме стрелками военные действия, российские войска потерпели крупное поражение.

2) В битве, произошедшей вблизи обозначенного на схеме цифрой «4» города, неприятельские войска возглавлял король Стефан Баторий.

3) Во время событий, обозначенных на схеме, неприятельские войска проходили через город Брянск.

4) Обозначенный на схеме цифрой «5» город был основан в период войны, события которой обозначены на схеме.

5) Обозначенный на схеме цифрой «6» город вошёл в состав России по итогам войны, события которой обозначены на схеме.

6) Мир, завершивший войну, события которой обозначены на схеме, был заключён в обозначенном цифрой «7» городе.

Рассмотрите схему и выполните задания 9–12.



62. Какие суждения, относящиеся к схеме, являются верными? Запишите цифры, под которыми они указаны.

- 1) Обозначенная на схеме цифрой «2» крепость — Перекоп.
- 2) Обозначенный на схеме цифрой «3» город был столицей Крымского ханства.
- 3) Крепость, обозначенная на схеме цифрой «4», — Измаил.
- 4) Река, течение которой обозначено на схеме цифрой «5», — Днестр.
- 5) В ходе военных действий, обозначенных на схеме, русские войска переходили реку, течение которой обозначено на схеме цифрой «6».
- 6) Крепость, обозначенная на схеме цифрой «7», впервые вошла в состав России при царе Алексее Михайловиче.