

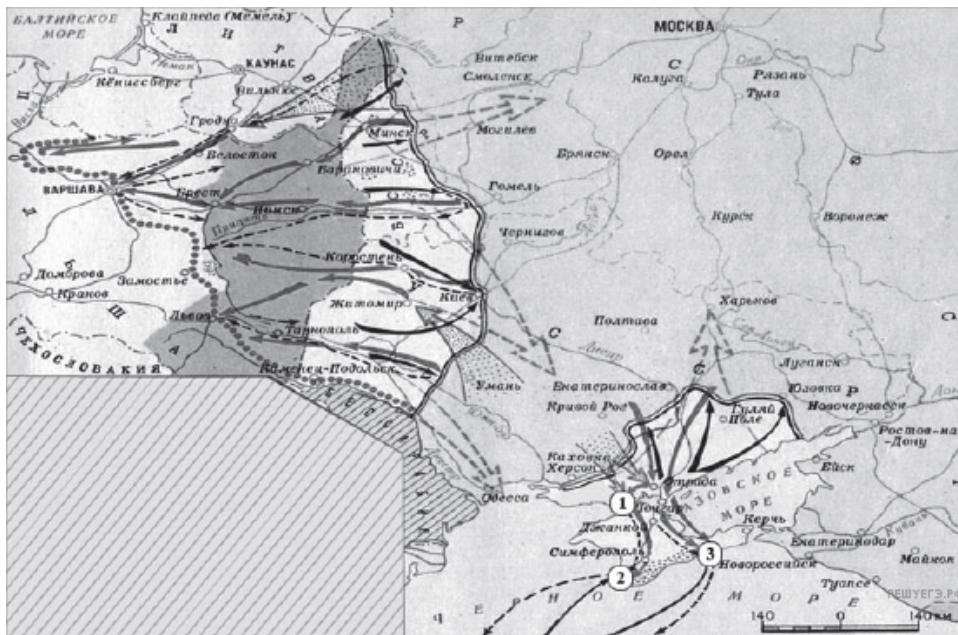
Рассмотрите схему и выполните задание.



1. Какие суждения, относящиеся к событиям, обозначенным на карте, являются верными? Выберите несколько суждений из шести предложенных. Запишите в таблицу цифры, под которыми они указаны.

1. Карта относится к начальному этапу войны.
2. Германия планировала завершить войну к концу лета 1942 г.
3. Для отражения агрессии, обозначенной на карте, был создан Совет труда и обороны.
4. Руководителем страны в это время был И. В. Сталин.
5. Сражение под Смоленском стало важным этапом в срыве фашистской стратегии «блицкрига».
6. Наступление немецких войск было остановлено по всей линии фронта зимой 1941 г.

**Рассмотрите схему и выполните задание.**



2. Какие суждения, относящиеся к событиям, обозначенным на карте, являются верными? Выберите несколько суждений из шести предложенных. Запишите в таблицу цифры, под которыми они указаны.

1. На карте изображены события завершающего этапа войны.
2. Красной армии оказывали помощь союзники по Первой мировой войне.
3. К периоду войны, обозначенному на карте, относится переход через залив Сиваш.
4. На западе Красная армия воюет против войск генерала Н. Юденича.
5. Война завершилась подписанием Брестского мира.
6. Войсками Красной армии на юге командовал М. В. Фрунзе.

Рассмотрите схему и выполните задание.



3. Какие суждения, относящиеся к событиям, обозначенным на схеме, являются верными? Выберите несколько суждений из шести предложенных. Запишите в таблицу цифры, под которыми они указаны.

1. Испания в середине 1960-х гг. входила в один из противостоящих друг другу военных блоков.
2. На данной схеме отражён раскол Германии на два государства.
3. На схеме обозначены все страны, избравшие социалистический путь развития на период середины 1960-х гг.
4. Все страны, обозначенные на схеме цифрами, в годы Великой Отечественной войны были освобождены Красной армией или при её активном участии.
5. В настоящее время существуют оба военно-политических блока, противостоявших друг другу в период, показанный на схеме.
6. Данная схема характеризует международное положение, сложившееся в период холодной войны.

Рассмотрите схему и выполните задание.



4. Какие суждения, относящиеся к событиям, обозначенным на схеме, являются верными? Выберите несколько суждений из шести предложенных. Запишите в таблицу цифры, под которыми они указаны.

1. Одним из участников событий, изображённых на схеме, был адмирал С. О. Макаров.
2. В событиях, обозначенных на схеме, участвовали корабли Балтийского флота России.
3. Мирный договор по итогам войны, события которой обозначены на схеме, был подписан в Ништадте.
4. Боеприпасы и пополнение для русской армии в ходе войны, события которой обозначены на схеме, поставлялись по железной дороге.
5. В результате войны, события которой обозначены на схеме, Россия получила новые территории.
6. В ходе войны, события которой обозначены на схеме, союзницей России была Англия.

Рассмотрите схему и выполните задание.

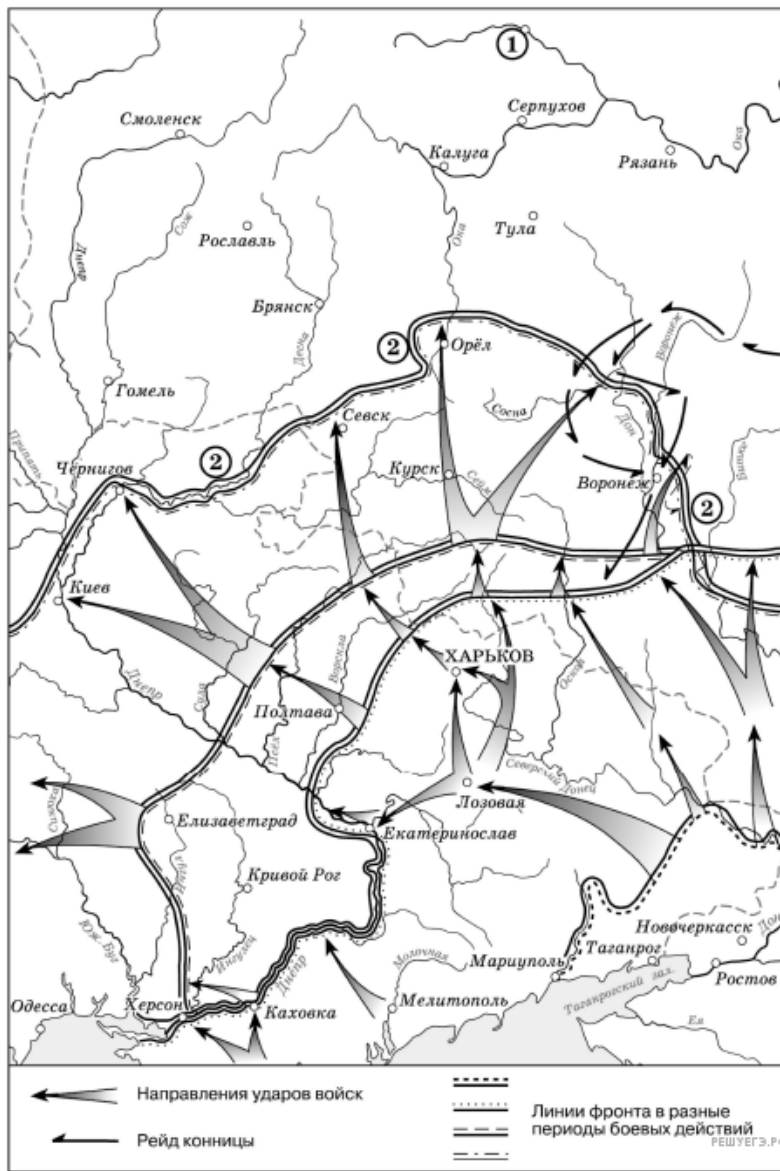


5. Рассмотрите схему событий одного из периодов Великой Отечественной войны и выполните задание

Какие суждения, относящиеся к событиям, обозначенным на схеме, являются верными? Выберите несколько суждений из шести предложенных. Запишите в таблицу цифры, под которыми они указаны.

1. На схеме обозначены боевые действия до конца 1943 г.
2. События, обозначенные на схеме, явились первым наступлением Красной армии в ходе Великой Отечественной войны.
3. На схеме обозначены боевые действия Красной армии в ходе операции «Уран».
4. Участником событий, обозначенных на схеме, являлся К. К. Рокоссовский.
5. В кольце окружения, обозначенном на схеме, оказалось более 2 млн немецких солдат.
6. События, обозначенные на схеме стрелками, начались в ноябре 1942 г.

**Рассмотрите схему и выполните задание.**

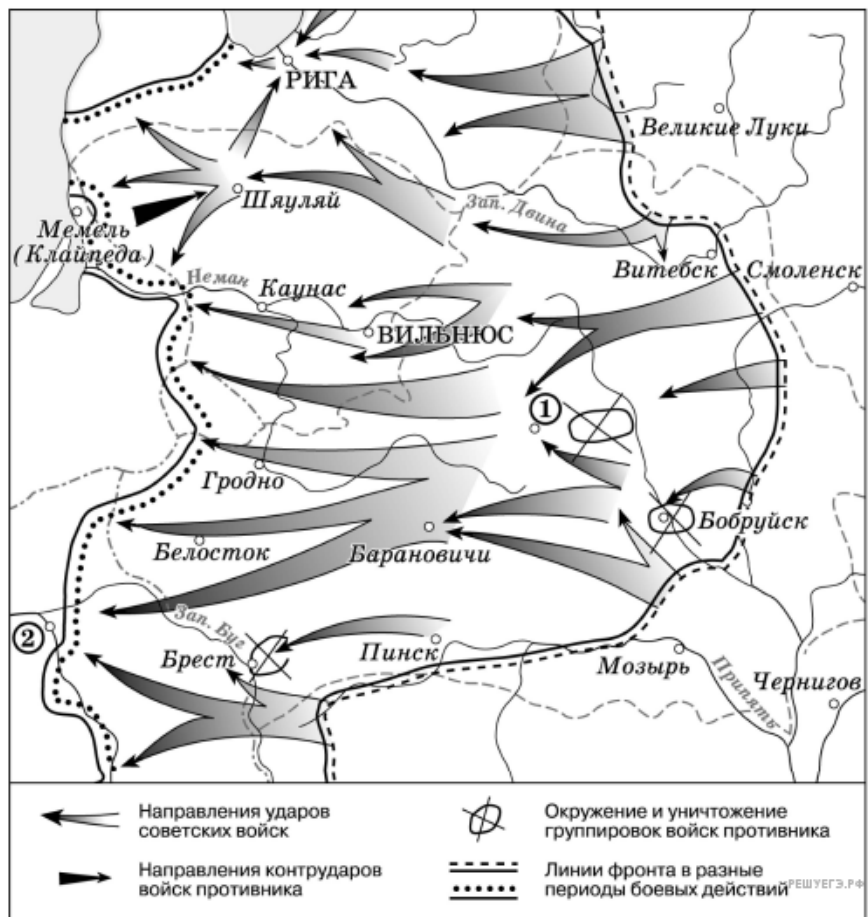


6. Рассмотрите схему действий белогвардейцев в ходе одного из периодов Гражданской войны в России и выполните задание.

Какие суждения, относящиеся к событиям, обозначенным на схеме, являются верными? Выберите несколько суждений из шести предложенных. Запишите в таблицу цифры, под которыми они указаны.

1. Значительный урон тылам белогвардейских войск, действия которых обозначены на схеме, нанесла армия Н. И. Махно.
2. После разгрома белогвардейских войск, действия которых обозначены на схеме, их командующий эмигрировал из России.
3. В период событий, обозначенных на схеме, большевики проводили новую экономическую политику.
4. Главнокомандующий Белой армией, действия которой обозначены на схеме, имел титул Верховного правителя России.
5. Белогвардейская армия, действия которой обозначены на схеме, получала оружие и боеприпасы от стран Антанты.
6. В ходе последующих событий, произошедших сразу после обозначенных на схеме, белым удалось захватить г. Тулу.

Рассмотрите схему и выполните задание.



7. Рассмотрите схему событий одного из периодов Великой Отечественной войны и выполните задание

Какие суждения, относящиеся к событиям, обозначенным на схеме, являются верными? Выберите несколько суждений из шести предложенных. Запишите в таблицу цифры, под которыми они указаны.

1. События, обозначенные на схеме, являются частью коренного перелома в ходе Великой Отечественной войны.
2. События, обозначенные на схеме, произошли после открытия союзниками Второго фронта в Европе
3. На схеме обозначены действия Красной армии в ходе проведения операции «Уран».
4. Город Кенигсберг был взят Красной армией в ходе событий, обозначенных на данной схеме.
5. На схеме обозначены действия Красной армии в ходе проведения операции «Багратион».
6. В ходе событий, обозначенных на схеме, территория Белорусской ССР была полностью освобождена от немецко-фашистских захватчиков.

Рассмотрите схему и выполните задание.



8. Какие суждения, относящиеся к событиям, обозначенным на схеме, являются верными? Выберите несколько суждений из шести предложенных. Запишите в таблицу цифры, под которыми они указаны.

1. События, обозначенные на схеме, являются частью коренного перелома в ходе Великой Отечественной войны.
2. События, обозначенные на схеме, произошли после открытия союзниками Второго фронта в Европе
3. На схеме обозначены действия Красной армии в ходе проведения операции «Уран».
4. Город Кенигсберг был взят Красной армией в ходе событий, обозначенных на данной схеме.
5. На схеме обозначены действия Красной армии в ходе проведения операции «Багратион».
6. В ходе событий, обозначенных на схеме, территория Белорусской ССР была полностью освобождена от немецко-фашистских захватчиков.

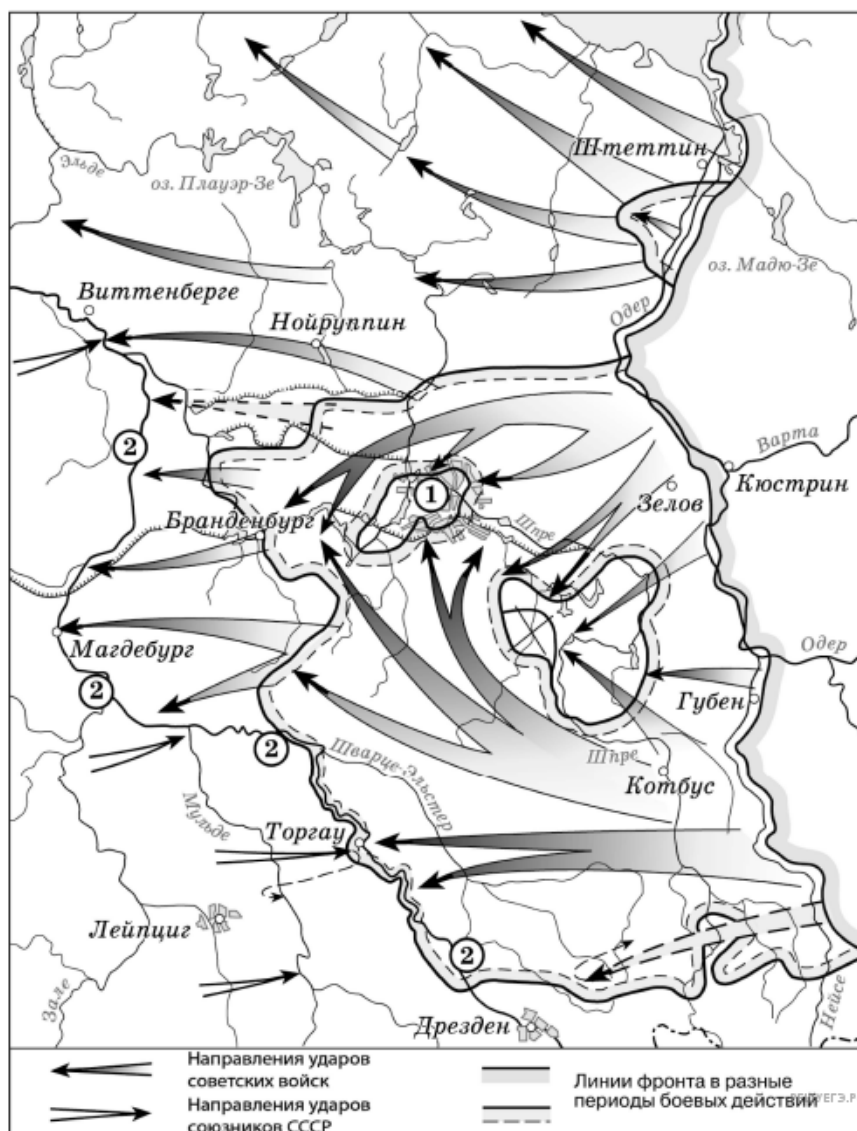
Рассмотрите схему и выполните задание.



9. Какие суждения, относящиеся к событиям, обозначенным на схеме, являются верными? Выберите несколько суждений из шести предложенных. Запишите в таблицу цифры, под которыми они указаны.

1. На схеме обозначены боевые действия до конца 1943 г.
2. События, обозначенные на схеме, явились первым наступлением Красной армии в ходе Великой Отечественной войны.
3. На схеме обозначены боевые действия Красной армии в ходе операции «Уран».
4. Участником событий, обозначенных на схеме, являлся К. К. Рокоссовский.
5. В кольце окружения, обозначенном на схеме, оказалось более 2 млн немецких солдат.
6. События, обозначенные на схеме стрелками, начались в ноябре 1942 г.

Рассмотрите схему и выполните задание.



10. Какие суждения, относящиеся к событиям, обозначенным на схеме, являются верными? Выберите несколько суждений из шести предложенных. Запишите в таблицу цифры, под которыми они указаны.

1. На схеме обозначены действия Красной армии в ходе проведения операции «Багратион».
2. События, обозначенные на схеме, происходили позже встречи руководителей держав «Большой тройки» в Крыму.
3. События, обозначенные на схеме, являются частью коренного перелома в ходе Великой Отечественной войны.
4. События, обозначенные на данной схеме стрелками, длились около полугода.
5. С окончанием военных действий, обозначенных на схеме, Вторая мировая война ещё не была закончена.
6. Одним из фронтов Красной армии, участвовавших в событиях, обозначенных на схеме, командовал Г. К. Жуков.

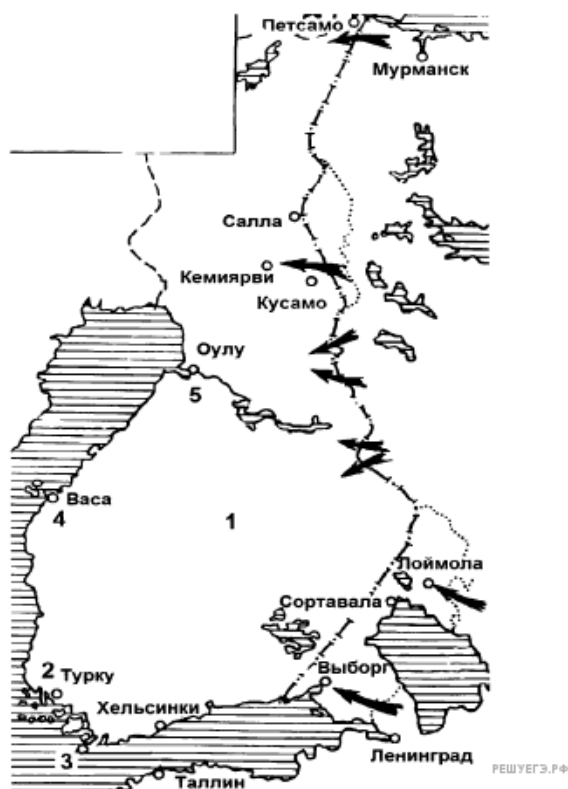
Рассмотрите схему и выполните задание.



11. Какие суждения, относящиеся к событиям, обозначенным на схеме, являются верными? Выберите несколько суждений из шести предложенных. Запишите в таблицу цифры, под которыми они указаны.

1. В страну, обозначенную на схеме цифрой 7, в 1950-х гг. были введены советские войска.
2. Турция в середине 1960-х гг. входила в один из противостоящих друг другу военных блоков.
3. США в период, к которому относится схема, входили в военно-политический блок, включающий страны, заштрихованные на схеме.
4. В настоящее время существуют оба военно-политических блока, противостоявших друг другу в период, к которому относится схема.
5. Страна, обозначенная на схеме цифрой 4, в годы Великой Отечественной войны была освобождена от фашистов советскими войсками.
6. На схеме обозначены все страны, избравшие социалистический путь развития на период середины 1960-х гг.

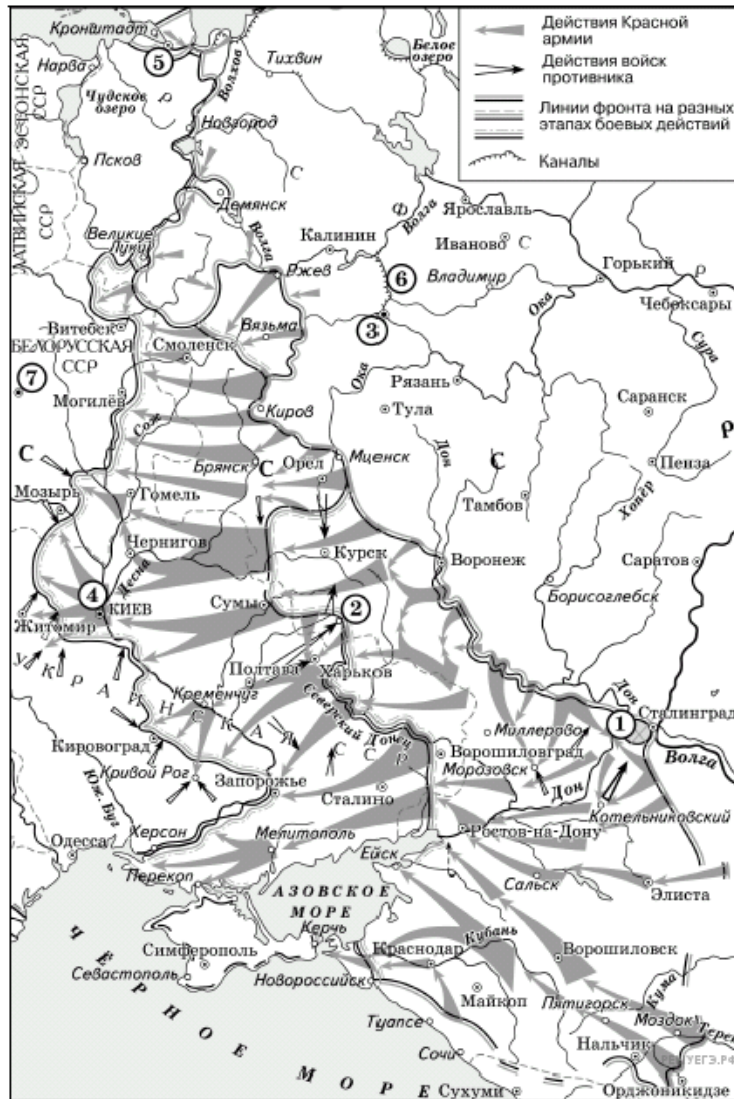
Рассмотрите схему и выполните задание.



12. Какие суждения, относящиеся к войне, которой посвящена схема, являются верными? Выберите несколько суждений из шести предложенных. Запишите в таблицу цифры, под которыми они указаны.

1. Начало войны относится к 1939 г.
2. Союзниками СССР в этой войне были США и Великобритания.
3. Результатом войны стало присоединение к СССР территории с городом Выборгом.
4. Основные военные действия в этой войне пришлось на зимний период.
5. СССР не получил в результате войны территориальных приобретений.
6. В ходе войны противник не оказал советским войскам серьезного сопротивления.

Рассмотрите схему и выполните задание.



13. Какие суждения, относящиеся к данной схеме, являются верными? Выберите несколько суждений из шести предложенных. Запишите в таблицу цифры, под которыми они указаны.

1. Операция советских войск в районе, обозначенном на схеме цифрой 4, началась в осенний период.
2. В период событий, обозначенных на схеме стрелками, полностью была снята блокада с города, обозначенного на схеме цифрой 5.
3. Город, обозначенный на схеме цифрой 3, в ходе событий, предшествующих обозначенным на схеме стрелками, был захвачен фашистами.
4. Строительство канала, обозначенного на схеме цифрой 6, началось в 1930-е гг.
5. Более двух городов, обозначенных на схеме, в настоящее время имеют другие названия.
6. На данной схеме обозначена территория Польши.

Рассмотрите схему и выполните задание.



14. Какие суждения, относящиеся к событиям, обозначенным на схеме, являются верными? Выберите несколько суждений из шести предложенных. Запишите в таблицу цифры, под которыми они указаны.

1. В период боевых действий, обозначенных на схеме, в тылу противника проводилась партизанская операция «Рельсовая война».
2. В течение всей битвы осуществлялось наступление Красной Армии.
3. В результате битвы были освобождены города, обозначенные цифрами 2 и 4.
4. Близ населённого пункта, обозначенного цифрой 3, произошло крупнейшее танковое сражение Великой Отечественной войны.
5. Немецкими войсками в этом сражении командовал генерал-фельдмаршал Ф. Паулюс.
6. Битва, события которой обозначены на схеме, проходила на берегах реки Волги.

Рассмотрите схему и выполните задание.



15. Какие суждения, относящиеся к событиям, обозначенным на схеме, являются верными? Выберите несколько суждений из шести предложенных. Запишите в таблицу цифры, под которыми они указаны.

1. Изображённая на схеме битва происходила в летний период.
2. Изображённым на схеме событиям предшествовало осуществление немецкими войсками операции «Тайфун».
3. В ходе данной битвы советские войска имели подавляющее преимущество в военной технике над противником.
4. Операция советских войск, ход которой отображён на схеме, получила кодовое обозначение «Кольцо».
5. Значимую роль в победе советских войск в этой битве сыграл разведчик Р. Зорге, благодаря сведениям которого СССР смог перебросить к месту битвы несколько дивизий с Дальнего Востока.
6. Значение данной битвы состоит в том, что она стала первым крупным поражением вермахта во Второй мировой войне.

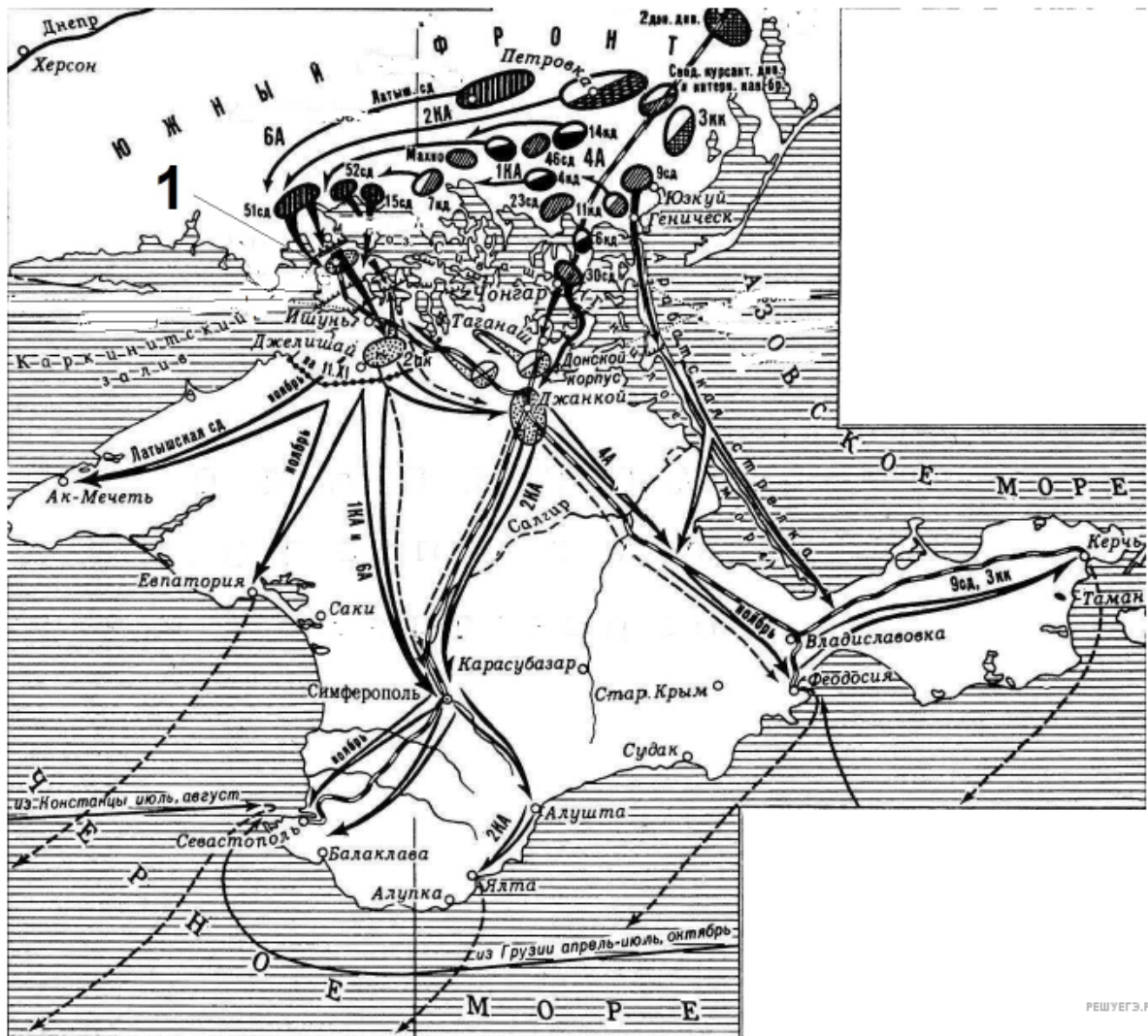
Рассмотрите схему и выполните задание.



16. Какие суждения, относящиеся к событиям, обозначенным на схеме, являются верными? Выберите несколько суждений из шести предложенных. Запишите в таблицу цифры, под которыми они указаны.

1. В период боевых действий, обозначенных на схеме, в тылу противника проводилась партизанская операция «Рельсовая война».
2. В течение всей битвы осуществлялось наступление Красной Армии.
3. В результате битвы были освобождены города, обозначенные цифрами 2 и 4.
4. Близ населённого пункта, обозначенного цифрой 3, произошло крупнейшее танковое сражение Великой Отечественной войны.
5. Немецкими войсками в этом сражении командовал генерал-фельдмаршал Ф. Паулюс.
6. Битва, события которой обозначены на схеме, проходила на берегах реки Волги.

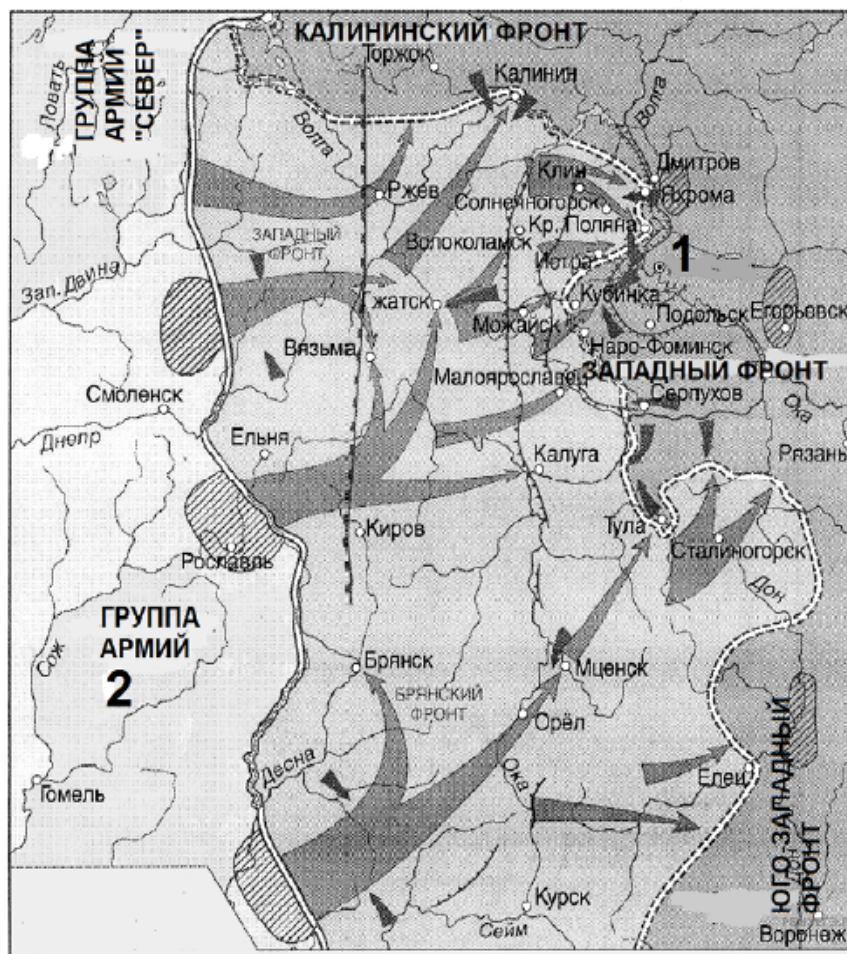
Рассмотрите схему и выполните задание.



17. Какие суждения, относящиеся к событиям, обозначенным на схеме, являются верными? Выберите несколько суждений из шести предложенных. Запишите в таблицу цифры, под которыми они указаны.

1. Обозначенное на схеме сражение происходило в 1919 г.
2. В том же году, в котором происходили отображённые на схеме события, шла Советско-польская война.
3. Это сражение было последним крупным сражением Гражданской войны в Европейской части России.
4. Результатом сражения стала эвакуация остатков белых войск в Константинополь и другие иностранные порты Чёрного моря.
5. В ходе этих событий командующий силами белых был взят в плен и казнён.
6. В том же году, в котором происходили отображённые на схеме события, советские республики объединились в союзное государство.

Рассмотрите схему и выполните задание.



18. Какие суждения, относящиеся к событиям, обозначенным на схеме, являются верными? Выберите несколько суждений из шести предложенных. Запишите в таблицу цифры, под которыми они указаны.

1. События, отоброаженные на схеме, относятся к 1942 г.
2. Во время изображенных на схеме событий, в столице СССР прошёл парад на Красной площади, вдохновивший советскую армию и советский народ на борьбу с врагом.
3. В результате военной операции, отобразенной на схеме, противнику удалось овладеть городом Рязанью.
4. В ходе битвы, события которой отражены в схеме, особое мужество проявили солдаты и офицеры дивизии генерала И. В. Панфилова.
5. События, отраженные на схеме, происходили в осенне-зимний период.
6. В данной битве на стороне советских войск было преимущество в авиации.

19. Укажите название реки, обозначенной на схеме цифрой 2.

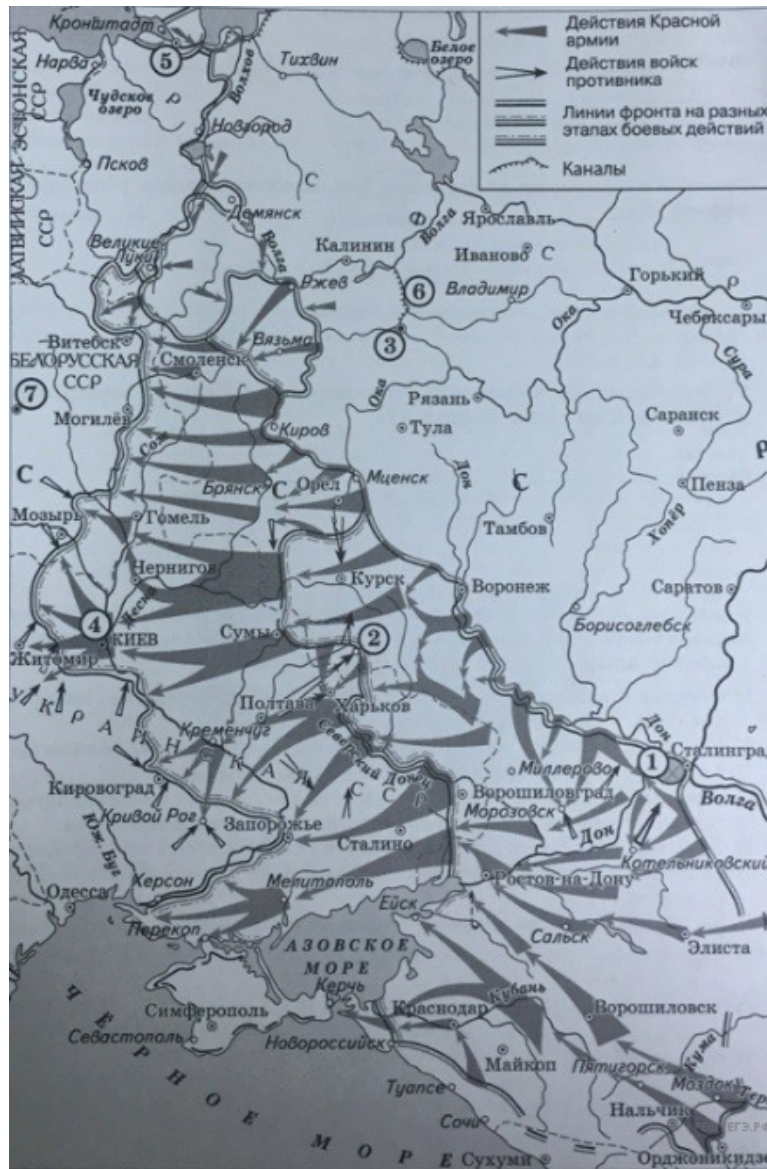


20. Какие суждения, относящиеся к исторической ситуации, обозначенной на схеме, являются верными? Выберите несколько суждений из шести предложенных. Запишите в таблицу цифры, под которыми они указаны.

1. Цифрой 3 на схеме обозначена территория Германии.
2. Военная операция, обозначенная на схеме стрелками, длилась более трёх месяцев.
3. Одним из советских фронтов, действия которого обозначены на схеме стрелками, в данный период командовал Г. К. Жуков.
4. В период, когда происходили события, обозначенные на схеме стрелками, государственная граница СССР уже была восстановлена на всём её протяжении.
5. В период, когда проходили боевые действия, обозначенные на схеме, ещё не был открыт Второй фронт во Франции.
6. В ходе операции, обозначенной на схеме, советскими войсками была освобождена территория Чехословакии.



Рассмотрите схему и выполните задание.



21. Какие суждения, относящиеся к исторической ситуации, обозначенной на схеме, являются верными? Выберите несколько суждений из шести предложенных. Запишите в таблицу цифры, под которыми они указаны.

1. Операция советских войск в районе, обозначенном на схеме цифрой 4, началась в осенний период.
2. В период событий, обозначенных на схеме стрелками, полностью была снята блокада с города, обозначенного на схеме цифрой 5.
3. Город, обозначенный на схеме цифрой 3, в ходе событий, предшествующих обозначенным на схеме стрелками, был захвачен фашистами.
4. Строительство канала, обозначенного на схеме цифрой 6, началось в 1930-е гг.
5. Более двух городов, обозначенных на схеме, в настоящее время имеют другие названия.
6. На данной схеме обозначена территория Польши.

Рассмотрите схему и выполните задание.

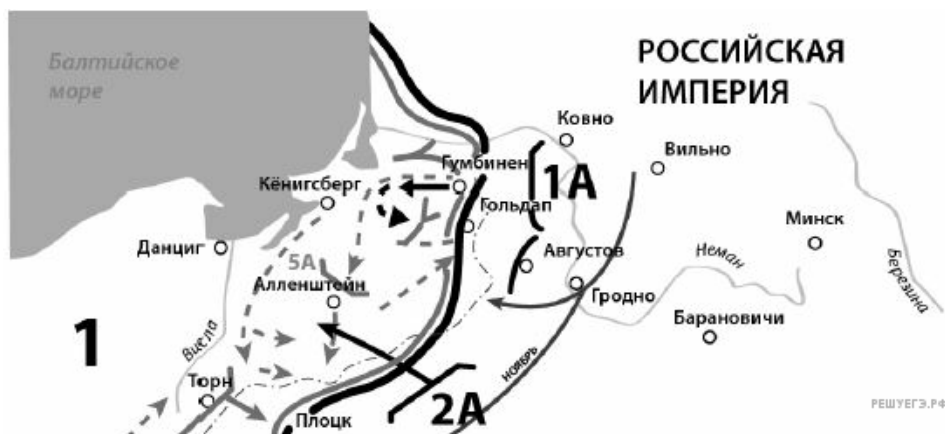


22. Какие суждения, относящиеся к данной схеме, являются верными? Выберите несколько суждений из шести предложенных. Запишите в таблицу цифры, под которыми они указаны. Цифры укажите в порядке возрастания.

1. Город, обозначенный на схеме цифрой 3, в настоящее время входит в состав России.
2. Город, обозначенный на схеме цифрой 5, был освобождён от фашистов осенью.
3. В ходе боевых действий, обозначенных на схеме стрелками, Красная армия полностью освободила Чехословакию.
4. На схеме обозначены действия Красной армии в ходе операции «Багратион».
5. На схеме обозначены действия Красной армии в ходе Восточно-Прусской операции.
6. Город, обозначенный на схеме цифрой 1, был освобождён от фашистов в октябре.

23. Какие суждения, относящиеся к событиям, обозначенным на схеме, являются верными? Выберите несколько суждений из шести предложенных. *Цифры укажите в порядке возрастания.*

1. Одной из причин войны, события которой обозначены на схеме, был конфликт между православным и католическим духовенством из-за контроля над святынями Палестины («спор о ключах»).
2. Участником войны, события которой обозначены на схеме, был генерал М. Д. Скобелев.
3. Военные действия, обозначенные на схеме, завершились крупной победой русского оружия.
4. В войне, события которой обозначены на схеме, одним из противников России была Австро-Венгрия.
5. События, обозначенные на схеме, относятся к 1914 г.
6. Одним из последствий войны, события которой обозначены на схеме, стал распад Российской империи.



Рассмотрите схему и выполните задание.

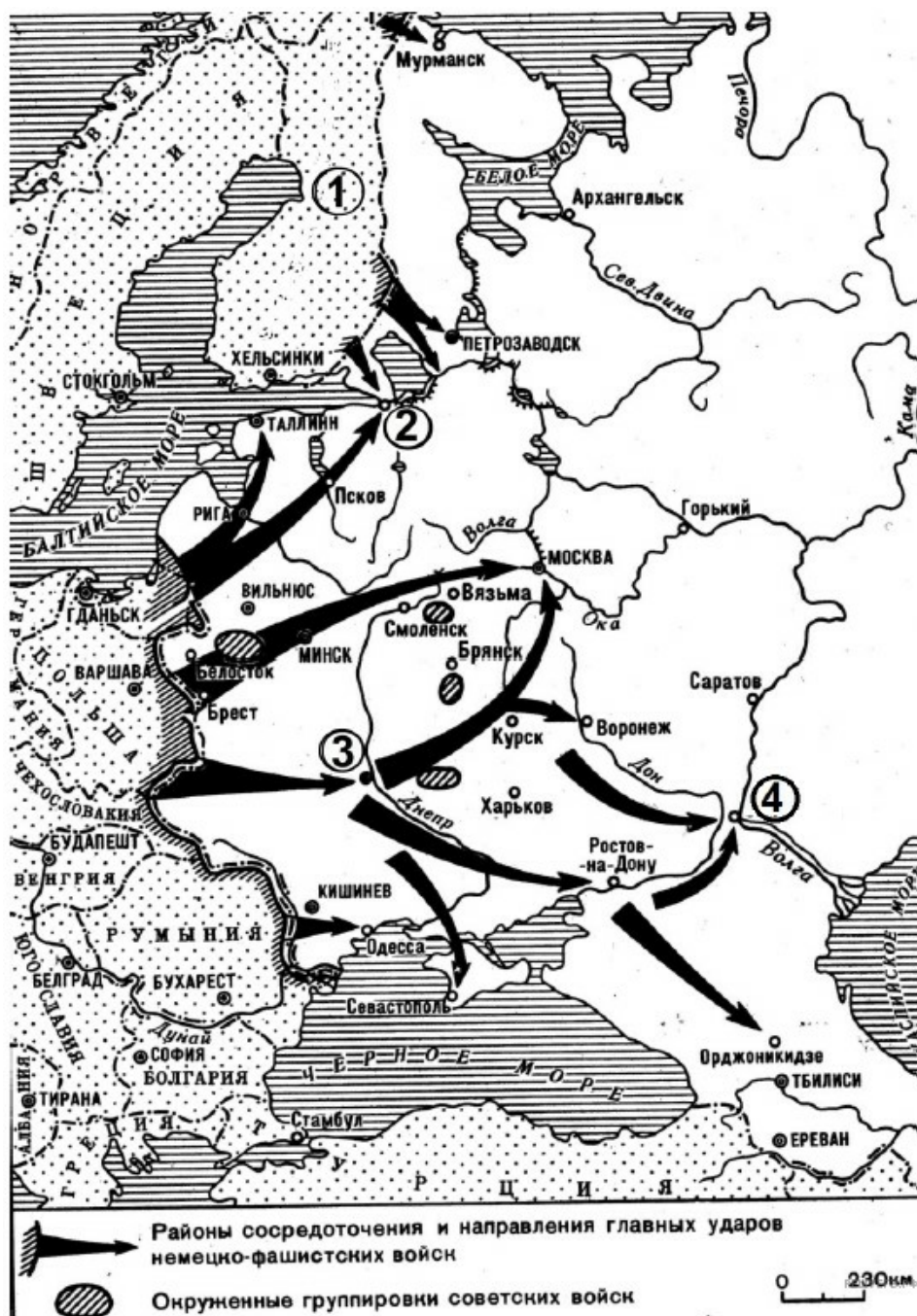


24. Какие суждения, относящиеся к событиям, обозначенным на схеме, являются верными? Выберите несколько суждений из шести предложенных. *Цифры укажите в порядке возрастания.*

1. События, обозначенные на схеме, относятся к 1944 г.
2. Командующим одним из советских фронтов, действия которых обозначены на схеме, был К. К. Рокоссовский.
3. В ходе военных действий, предшествовавших обозначенным на схеме, противник смог полностью захватить город, обозначенный на схеме цифрой 2.

4. Одним из результатов военной операции, события которой обозначены на схеме, стало окружение крупной группировки противника.
5. В том же году, к которому относятся обозначенные на схеме события, Красная армия провела операцию «Багратион».
6. Советская военная операция, ход которой обозначен на схеме, началась в ноябре.

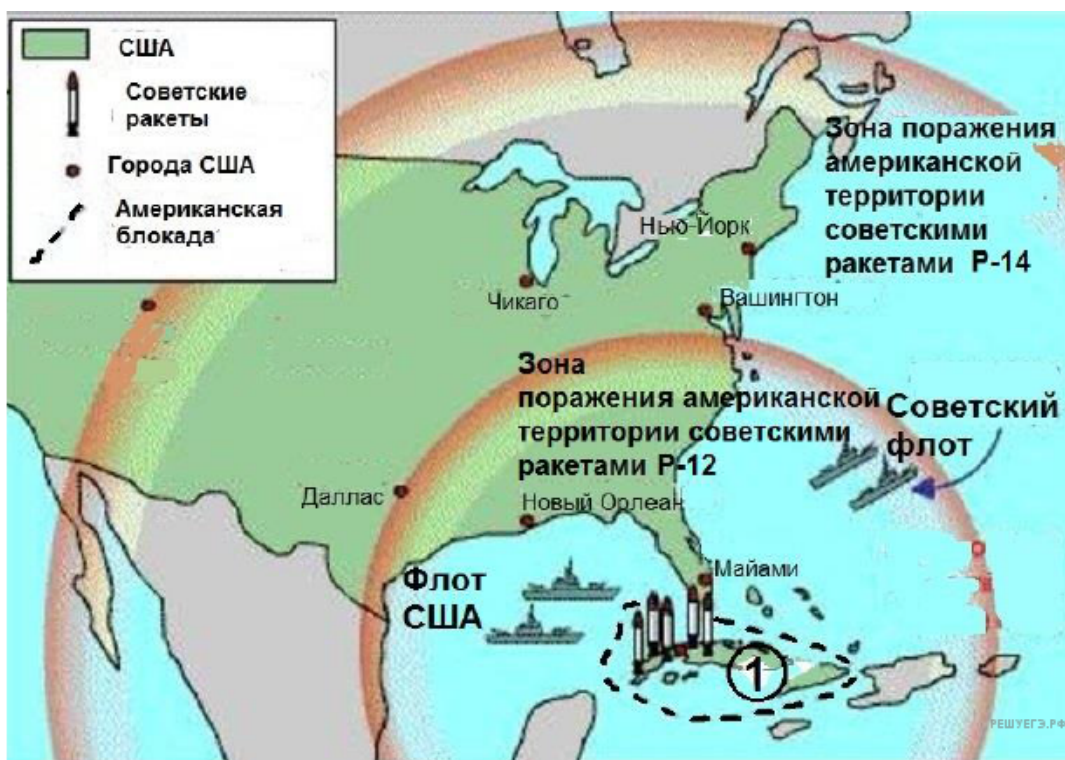
Рассмотрите схему и выполните задание.



25. Какие суждения, относящиеся к событиям, обозначенным на схеме, являются верными? Выберите несколько суждений из шести предложенных. Запишите в таблицу цифры, под которыми они указаны. Цифры укажите в порядке возрастания.

1. Со страной, обозначенной на схеме цифрой 1, СССР воевал менее чем за два года до начала событий обозначенных на схеме.
2. Город, обозначенный на схеме цифрой 2, подвергся в период войны длительной блокаде.
3. События, обозначенные на схеме, относятся к 1943 г.
4. В районе города, обозначенного на схеме цифрой 3, противнику удалось окружить крупную группировку советских войск.
5. В ходе войны, событиям которой посвящена схема, противнику удалось захватить город, обозначенный на схеме цифрой 4.
6. Союзником СССР в войне, события которой обозначены на схеме, была Япония.

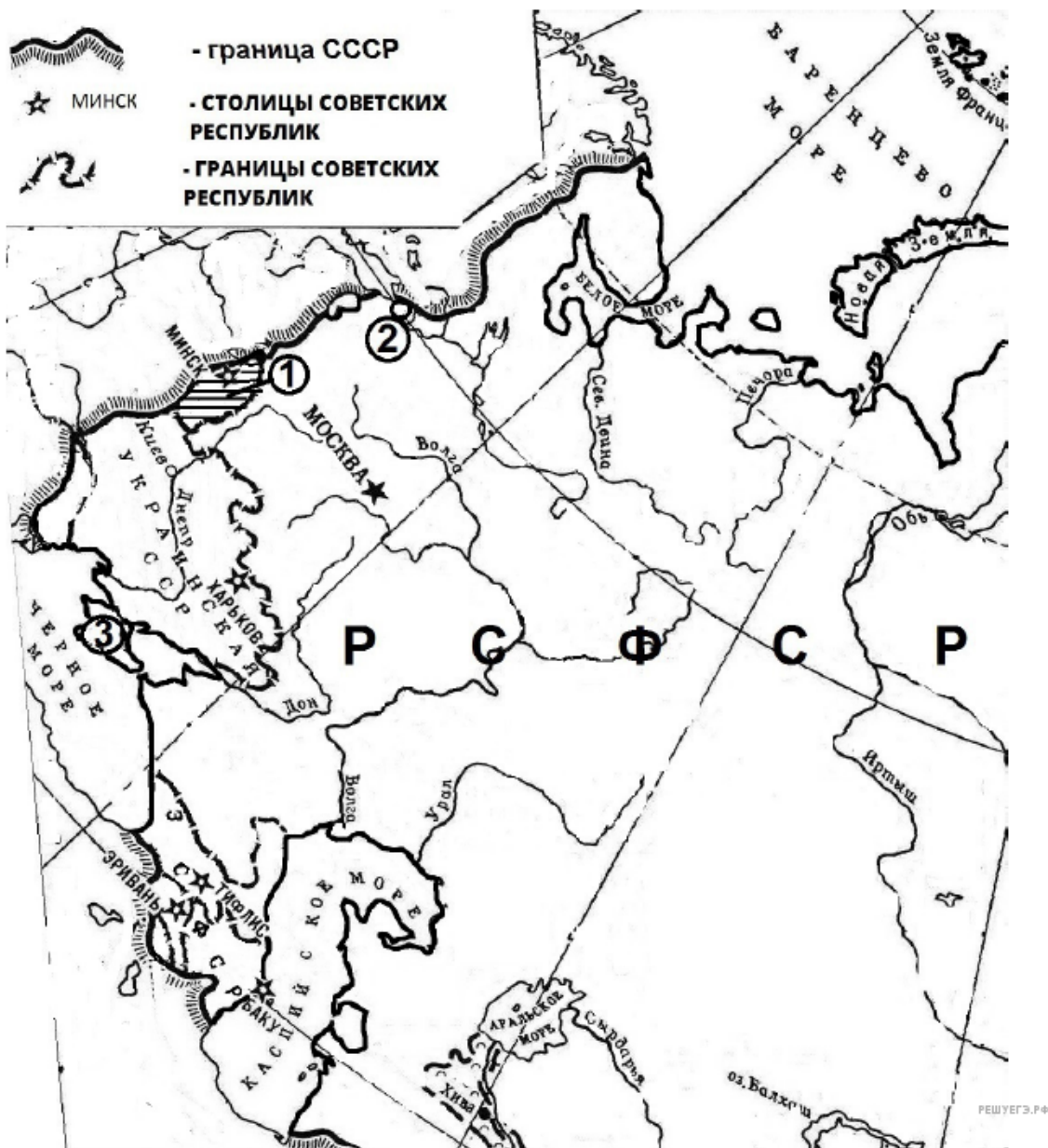
Рассмотрите схему и выполните задание.



26. Какие суждения, относящиеся к событиям, обозначенным на схеме, являются верными? Выберите несколько суждений из шести предложенных. Запишите в таблицу цифры, под которыми они указаны.

1. Руководителем страны, обозначенной на схеме цифрой 1, во время международного кризиса, которому схема посвящена, был Мао Цзэдун.
2. Международный кризис, которому посвящена схема, вошёл в историю под названием «Карибский».
3. Президентом США во время международного кризиса, которому посвящена схема, был Р. Никсон.
4. В период руководства того же советского лидера, при котором произошёл международный кризис, которому посвящена схема, состоялся первый запуск советского космического спутника.
5. В зоне поражения советских ракет Р-14 во время международного кризиса, которому посвящена схема, оказалась столица США.
6. Международный кризис, которому посвящена схема, завершился тем, что страна, обозначенная на схеме цифрой 1, была оккупирована США.

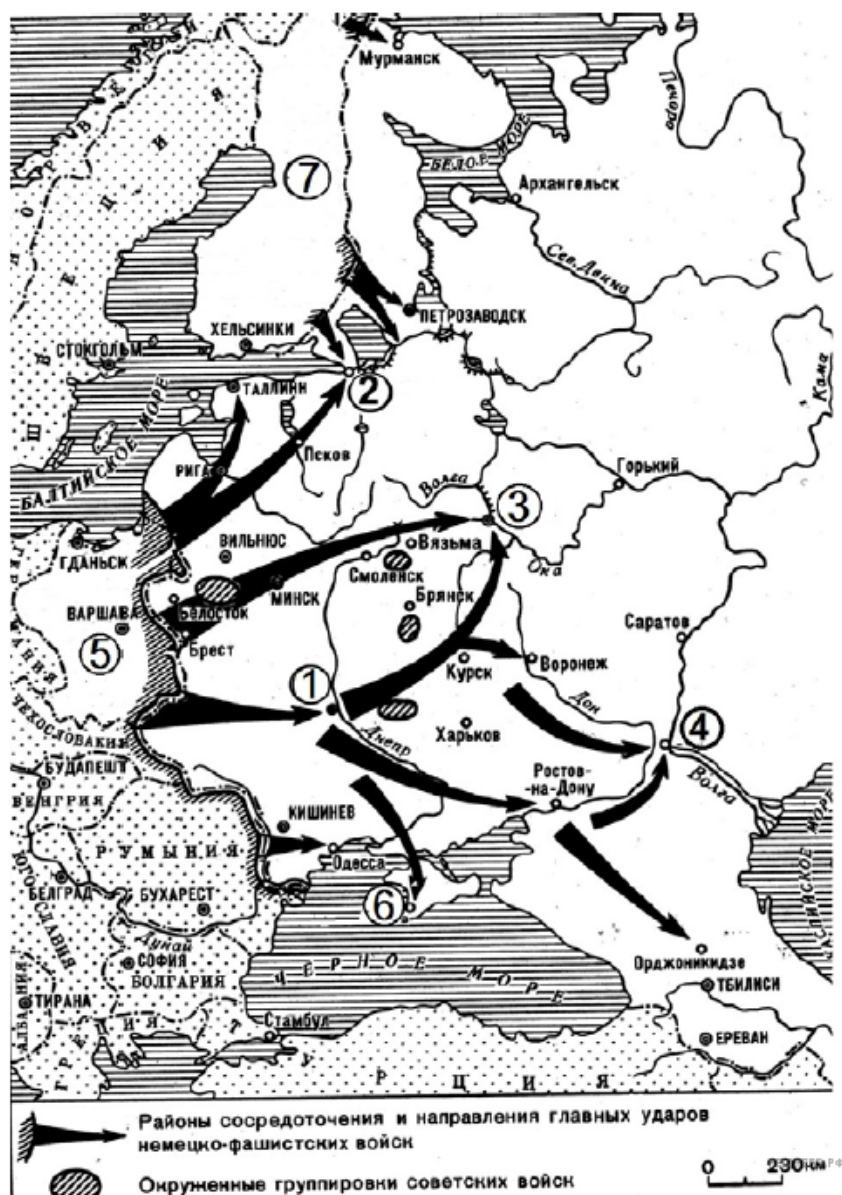
Рассмотрите схему и выполните задание.



27. Какие суждения, относящиеся к событиям, обозначенным на схеме, являются верными? Выберите несколько суждений из шести предложенных. Запишите в таблицу цифры, под которыми они указаны.

1. Образование государства, границам и составу которого посвящена схема, произошло в 1917 г.
2. Одной из советских республик, участвовавших в образовании государства, границам и составу которого посвящена схема, была Литовская Республика.
3. Обозначенный на схеме состав союзного государства соответствует ситуации 1941 г.
4. Через два года после образования государства, границам и составу которого посвящена схема, обозначенный цифрой 2 город был переименован в честь первого председателя правительства союзного государства.
5. Территория республики, обозначенной на схеме цифрой 1, расширилась в течение ближайших двадцати лет после образования союзного государства.
6. Обозначенная на схеме цифрой 3 территория на момент создания союзного государства принадлежала РСФСР.

Рассмотрите схему и выполните задание.



28. Какие суждения, относящиеся к событиям, обозначенным на схеме, являются верными? Выберите несколько суждений из шести предложенных. Запишите в таблицу цифры, под которыми они указаны.

1. Обозначенная на схеме цифрой 5 территория была захвачена страной, подготовившей план нападения, обозначенного на схеме стрелками, менее чем за два года до этого нападения.

2. Обозначенный на схеме цифрой 6 город был захвачен в течение полугода после нападения, обозначенного на схеме стрелками.

3. Город, обозначенный на схеме цифрой 2, носил имя одного из советских вождей.

4. Город, обозначенный на схеме цифрой 3, был захвачен противником в ходе военных событий, обозначенных на схеме.

5. В сражении за город, обозначенный на схеме цифрой 4, наметился перелом в войне, начало которой обозначено стрелками на схеме.

6. В результате войны, начало которой обозначено на схеме стрелками, территория, обозначенная на схеме цифрой 5, вошла в состав СССР в качестве новой союзной республики.

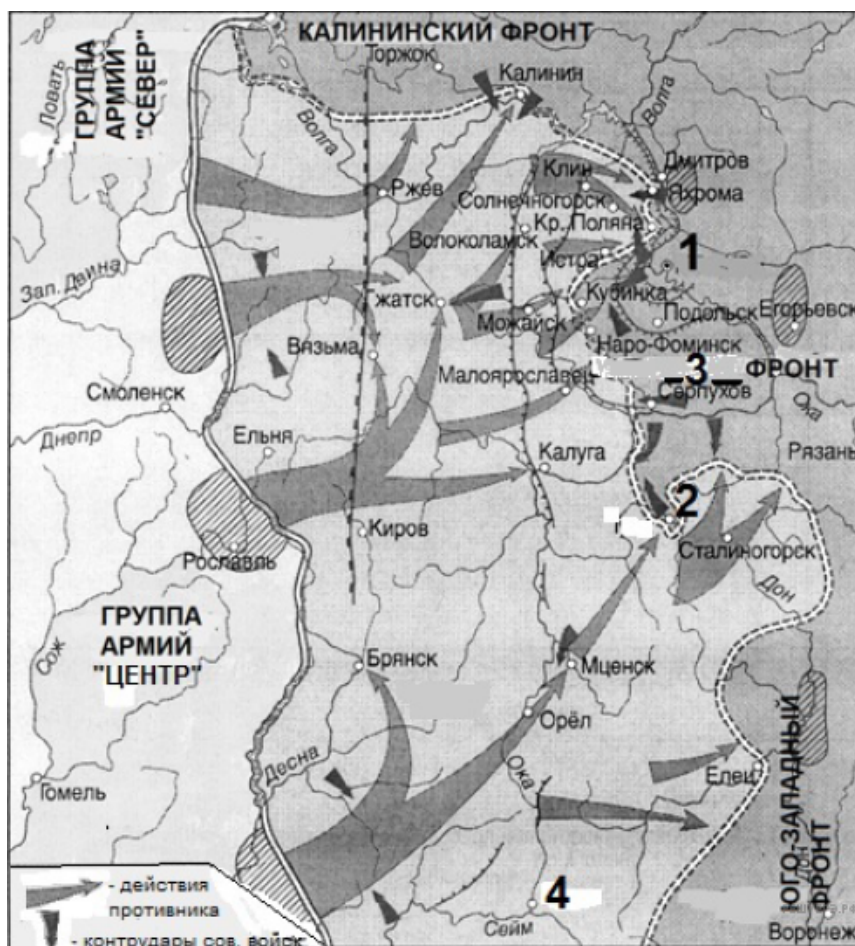
Рассмотрите схему и выполните задание.



29. Какие суждения, относящиеся к событиям, обозначенным на схеме, являются верными? Выберите несколько суждений из шести предложенных. Запишите в таблицу цифры, под которыми они указаны.

1. В период военных действий, обозначенных на схеме, противником СССР и союзником обозначенной цифрой 1 страны были США.
2. Главнокомандующим советскими войсками в военных операциях, обозначенных на схеме, был Г. К. Жуков.
3. По итогам войны, события которой обозначены на схеме, СССР получил южную часть острова, обозначенного цифрой 3.
4. За несколько лет до событий, которым посвящена схема, СССР защитил от вторжения войск страны, обозначенной цифрой 1, территорию страны, обозначенной на схеме цифрой 2.
5. Наступление советских войск, показанное на схеме, осуществлялось исключительно с территории СССР.
6. Обозначенный на схеме цифрой 4 порт в самом начале XX в. служил базой Тихоокеанской эскадры Российской империи.

Рассмотрите схему и выполните задание.



30. Какие суждения, относящиеся к событиям, обозначенным на схеме, являются верными? Выберите несколько суждений из шести предложенных. Запишите в таблицу цифры, под которыми они указаны.

1. Обозначенные на схеме военные действия происходили в 1943 г.
2. Обозначенные на схеме военные действия происходили летом.
3. В ходе обозначенных на схеме военных действий противнику удалось занять город, обозначенный на схеме цифрой 1.
4. Удар противника по направлению на город, обозначенный на схеме цифрой 2, возглавлял генерал Гудериан.
5. В ходе обозначенных на схеме военных действий противнику удалось занять Вязьму.
6. По названию города, обозначенного на схеме цифрой 4, получила название одна из крупнейших битв периода коренного перелома в Великой Отечественной войне.

Рассмотрите схему и выполните задание.



31. Какие суждения, относящиеся к схеме, являются верными? Запишите цифры, под которыми они указаны.

1. Город, обозначенный на схеме цифрой 5, дал название одной из крупнейших битв Великой Отечественной войны.
2. В период событий отражённых на схеме, Воронеж был занят противником.
3. Линия фронта, обозначенная в легенде схемы цифрой 1, относится к 1942 г.
4. В ходе контрнаступления, события которого отражены на схеме, Красная армия освободила Брянск.
5. Город, обозначенный на схеме цифрой 3, был захвачен фашистами в 1942 г.
6. Город, обозначенный на схеме цифрой 6, выдержал оборону в течение 250 дней.

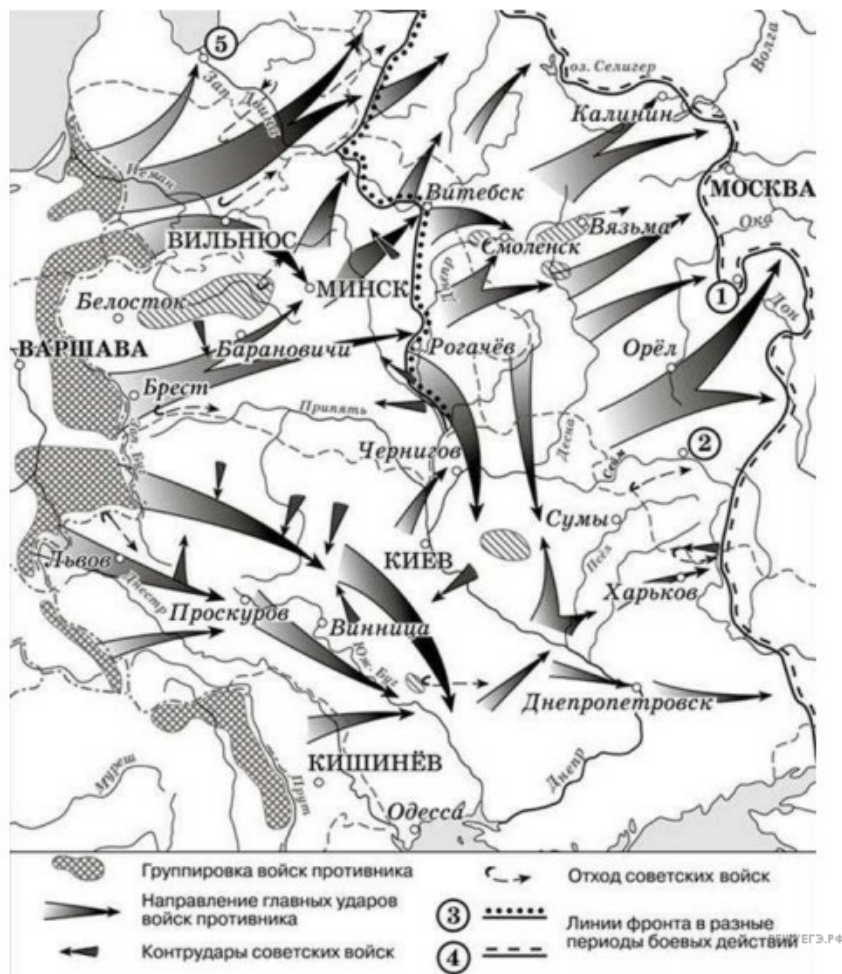
Рассмотрите схему и выполните задание.



32. Какие суждения, относящиеся к исторической ситуации, обозначенной на схеме, являются верными?

- 1) Действия войск противника Российской империи, обозначенные на схеме, стали причиной событий, вошедших в историю как «Великое отступление» русской армии.
- 2) После окончания данной войны город, обозначенный на схеме цифрой «1», стал столицей независимого государства.
- 3) Государство, территория которого обозначена на схеме цифрой «4», вступило в данную войну на стороне Германии.
- 4) Государство, территория которого обозначена на схеме цифрой «5», вступило в данную войну в год её начала.
- 5) В год, к которому относятся события, обозначенные на схеме, противник России занял г. Бердичев.
- 6) Участником событий, обозначенных на схеме стрелками, был генерал М. Д. Скобелев.

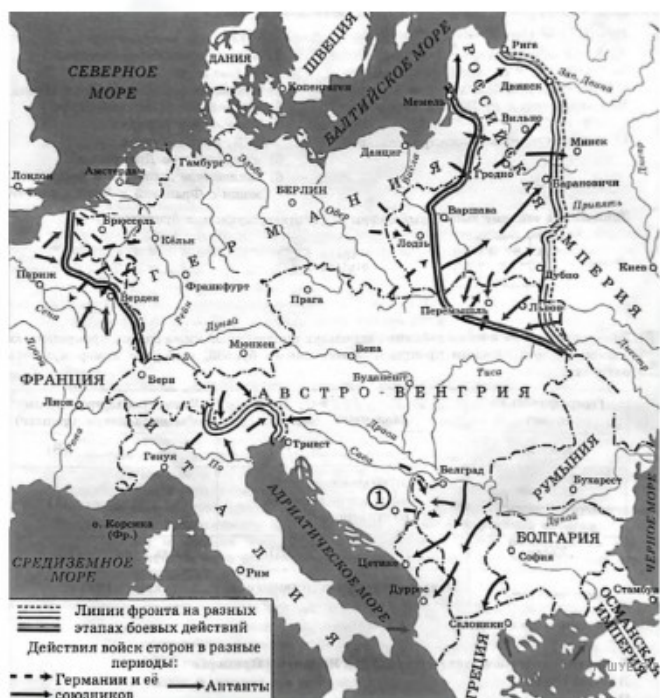
Рассмотрите схему и выполните задание.



33. Ниже приведены суждения, относящиеся к схеме. Укажите те из них, которые являются верными.

- 1) Линия фронта, обозначенная на схеме цифрой «3», образовалась к концу сентября.
- 2) Город, обозначенный на схеме, цифрой «5», — столица Украинской ССР.
- 3) В период боевых действий, обозначенных на схеме, войскам вермахта удалось взять Воронеж.
- 4) На схеме обозначена и подписана столица Литовской ССР.
- 5) На схеме обозначены котлы — окружения, в которые попадали части Красной армии.
- 6) Современником событий, обозначенных на схеме, был М. Н. Тухачевский.

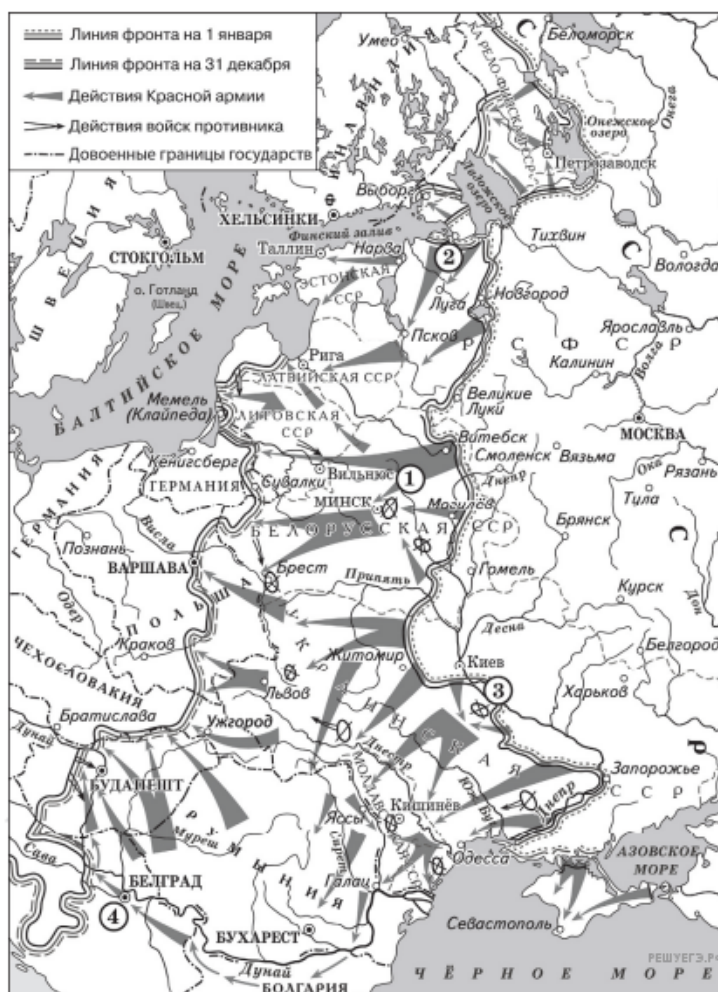
Рассмотрите схему и выполните задание.



34. Какие суждения, относящиеся к схеме, являются верными? Запишите цифры, под которыми они указаны.

- 1) В этом же году, что и события показанные на схеме, Россия начала широкомасштабное наступление на Юго-Западном фронте.
- 2) В этом же году, что и события показанные на схеме, в эту войну вступила Болгария.
- 3) На схеме подписаны все государства-противники России в этой войне.
- 4) На этой схеме — все театры военных действий, в которых Россия принимала участие в этой войне.
- 5) В начале этой войны российские войска заняли Львов.
- 6) Годом позже этих событий в эту войну вступила Румыния.

Рассмотрите схему и выполните задания 9–12.



35. Какие суждения, относящиеся к схеме, являются верными? Запишите цифры, под которыми они указаны.

- 1) В ходе боевых действий, обозначенных на схеме стрелками, советскими войсками была освобождена Братислава.
- 2) В период боевых действий, обозначенных на схеме стрелками, союзники СССР открыли Второй фронт во Франции.
- 3) В ходе боевых действий, обозначенных на схеме стрелками, советскими войсками был освобождён Крым.
- 4) Война, часть событий которой отражена на схеме, началась с нападения Германии на страну, обозначенную на схеме цифрой «4».
- 5) Цифрой «3» на схеме обозначен район Корсунь-Шевченковской операции советских войск.
- 6) В период боевых действий, обозначенных на схеме стрелками, была полностью снята блокада с города, обозначенного цифрой «2».

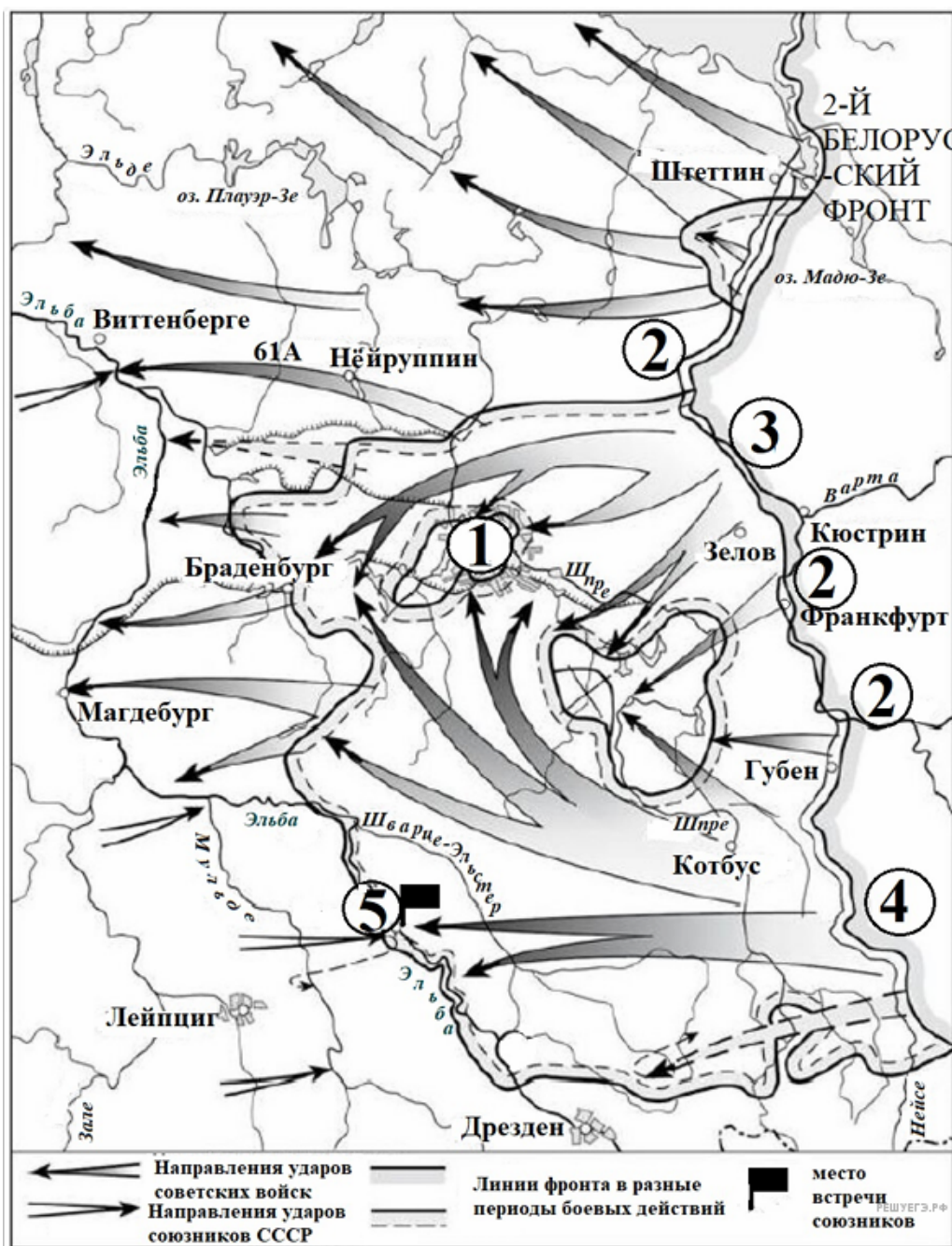
Рассмотрите схему и выполните задания 9–12



36. Какие суждения, относящиеся к схеме, являются верными? Запишите цифры, под которыми они указаны.

- 1) Противником советских войск в данной военной операции выступала страна, территория которой на схеме обозначена цифрой «1».
- 2) Река, течение которой обозначено на схеме цифрой «2», — Лена.
- 3) После окончания войны, событиям которой посвящена схема, обозначенные на схеме цифрой «3» острова вошли в состав СССР.
- 4) В ходе военных действий, обозначенных на схеме, советские войска заняли порт Циндао.
- 5) Обозначенная на схеме цифрой «4» заштрихованная территория входила в состав России до 1905 года.
- 6) Обозначенный на схеме цифрой «5» порт был в самом начале XX века базой Тихоокеанского флота России.

Рассмотрите схему и выполните задания 9–12



37. Какие суждения, относящиеся к схеме, являются верными? Запишите цифры, под которыми они указаны.

- 1) На схеме цифрой «2» обозначено течение реки Висла.
- 2) Фронтом, изначальные позиции которого обозначены на схеме цифрой «3», командовал А. М. Василевский.
- 3) Цифрой «4» на схеме обозначены изначальные позиции в битве 1-го Украинского фронта.
- 4) Войска 2-го Белорусского фронта во время битвы, события которой обозначены на схеме, продвигались вдоль побережья Балтийского моря.
- 5) Обозначенный на схеме цифрой «5» город — Потсдам.
- 6) В ходе битвы, события которой обозначены на схеме, советские войска заняли Лейпциг.