


1. Рассмотрите изображение и выполните задание



Какие суждения о скульптуре, изображённой на фотографии, являются верными? Выберите два суждения из пяти предложенных.

1. Скульптура была создана в период после Великой Отечественной войны
2. В настоящее время скульптура находится в г. Санкт-Петербурге
3. На скульптуре показаны орудия труда, изображавшиеся на гербе СССР
4. Автором скульптуры является П. К. Клодт
5. Скульптура символизировала единство рабочего класса и крестьянства

2. Рассмотрите изображение и выполните задание



Какие суждения о картине, изображённой на фотографии, являются верными? Выберите два суждения из пяти предложенных. Запишите в таблицу цифры, под которыми они указаны.

- 1) Фотография была сделана в первые годы советской власти (1917–1920 гг.).
- 2) Экономическая политика, проводившаяся в это время, — нэп.
- 3) Для изъятия хлеба у крестьян создавались продотряды.
- 4) Крестьяне добровольно сдают хлеб.
- 5) Продотряды являлись частями Красной армии.

### 3. Рассмотрите изображение и выполните задания



Какие суждения о данном монументе являются верными? Выберите два суждения из пяти предложенных. Запишите в таблицу цифры, под которыми они указаны.

- 1) Название монумента — «Победа».
- 2) Этот монумент стоит в Севастополе.
- 3) Название кургана, на котором стоит монумент, — Малахов курган.
- 4) Этот монумент посвящен событиям Великой Отечественной войны.
- 5) Автор монумента — скульптор Е. В. Вучетич.

### 4. Рассмотрите изображение и выполните задание



Какие суждения о событиях, процессах отечественной истории, которым посвящена данная почтовая марка, являются верными? Выберите два суждения из пяти предложенных. Запишите в таблицу цифры, под которыми они указаны.

- 1) Марка посвящена событиям времен новой экономической политики.
- 2) Главной целью развития экономики в конце 1920-х гг. было создание парка сельскохозяйственных тракторов.
- 3) Обозначенный на марке призыв относится к первой пятилетке.
- 4) Руководителем страны в это время был И. В. Сталин.
- 5) В результате осуществления экономической политики СССР стал самой мощной индустриальной державой мира.

5. Рассмотрите изображение и выполните задание



Какие суждения о плакате являются верными? Выберите два суждения из пяти предложенных. Запишите в таблицу цифры, под которыми они указаны.

- 1) Плакат появился в годы восстановительной пятилетки.
- 2) Руководителем страны в период появления плаката был Н. С. Хрущёв.
- 3) Период, когда появился данный плакат, вошёл в историю как «оттепель».
- 4) При освоении целины зерновая культура, которой посвящён плакат, была преобладающей.
- 5) Результатом кукурузной компании было решение проблемы снабжения страны продовольствием.

6. Рассмотрите изображение и выполните задание



Какие суждения, связанные с данным изображением, являются верными?

Выберите два суждения из пяти предложенных. Запишите в таблицу цифры, под которыми они указаны.

- 1) В период проведения Олимпиады, символика которой представлена на изображении, Советским Союзом руководил Н. С. Хрущёв.
- 2) Олимпиада, символика которой представлена на изображении, стала второй Олимпиадой, проведённой на территории СССР.
- 3) На данном изображении представлена символика Зимних Олимпийских игр, проходивших в Москве.
- 4) В Олимпиаде, символика которой представлена на изображении, не принимала участия команда США.
- 5) СССР бойкотировал следующие Олимпийские игры, которые проходили в США после Олимпиады в Москве.

7. Рассмотрите изображение и выполните задание



Какие суждения о данной карикатуре являются верными? Выберите два суждения из пяти предложенных. Запишите в таблицу цифры, под которыми они указаны.

- 1) Данная карикатура создана в первой половине 1930-х гг.
- 2) В момент, когда произошло событие, которому посвящена карикатура, СССР вёл войну с Финляндией.
- 3) Карикатура была создана в СССР и опубликована в печати в тот же год, когда произошло событие, которому она посвящена.
- 4) Карикатура посвящена нарушению международного договора одной из стран.
- 5) Событие, которому посвящена карикатура, означало начало Великой Отечественной войны.

8. Рассмотрите изображение и выполните задание



Какие суждения о данном изображении являются верными? Выберите два суждения из пяти предложенных. Запишите в таблицу цифры, под которыми они указаны.

- 1) В ходе перелёта, которому посвящена марка, его участники преодолели более 2 тыс. километров.
- 2) Событие, которому посвящена почтовая марка, связано с одним из достижений советского морского флота.
- 3) Событие, которому посвящена почтовая марка, произошло в 1930-х гг.
- 4) Руководитель перелёта, которому посвящена марка, прославился в годы Великой Отечественной войны.
- 5) Участники перелёта, которому посвящена марка, провели несколько дней на Северном полюсе.

9. Рассмотрите изображение и выполните задание



Какие суждения о данном изображении являются верными? Выберите два суждения из пяти предложенных. Запишите в таблицу цифры, под которыми они указаны.

- 1) На почтовом блоке представлены только флаги республик, вошедших в состав СССР в момент его образования.
- 2) Герб, изображённый на почтовом блоке, существовал в неизменном виде с момента образования СССР.
- 3) Человек, изображённый на почтовом блоке, являлся Председателем СНК.
- 4) Человек, изображённый на почтовом блоке, является автором «плана автономизации», который был осуществлён при образовании СССР.
- 5) Политический деятель, изображённый на почтовом блоке, умер менее чем через два года после события, годовщине которого посвящён почтовый блок.

10. Рассмотрите изображение и выполните задание



Какие суждения о данном изображении являются верными? Выберите два суждения из пяти предложенных. Запишите в таблицу цифры, под которыми они указаны.

- 1) Непосредственным участником события, которому посвящена карикатура, являлся Ф. Рузвельт.
- 2) Данная карикатура создана в 1935 г.
- 3) Событие, которому посвящена карикатура, оказало значительное влияние на смену внешнеполитического курса СССР.
- 4) Событие, которому посвящена карикатура, произошло в Берлине.
- 5) На данной карикатуре изображены представители Англии и Франции.

11. Рассмотрите изображение и выполните задание



Какие суждения о данном изображении являются верными? Выберите два суждения из пяти предложенных. Запишите в таблицу цифры, под которыми они указаны.

- 1) Руководитель перелёта, которому посвящена марка, прославился в годы Великой Отечественной войны.
- 2) Событие, которому посвящена почтовая марка, связано с одним из достижений советского морского флота.
- 3) Участники перелёта, которому посвящена марка, провели несколько дней на Северном полюсе.
- 4) Событие, которому посвящена почтовая марка, произошло в 1930-х гг.
- 5) В ходе перелёта, которому посвящена марка, его участники преодолели более 2 тыс. километров.

12. Рассмотрите изображение и выполните задание



Какие суждения о данном изображении являются верными? Выберите два суждения из пяти предложенных. Запишите в таблицу цифры, под которыми они указаны.

- 1) Человек, изображённый на почтовом блоке, является автором «плана автономизации», который был осуществлён при образовании СССР.
- 2) Политический деятель, изображённый на почтовом блоке, умер менее чем через два года после события, годовщине которого посвящён почтовый блок.
- 3) Человек, изображённый на почтовом блоке, являлся Председателем СНК.
- 4) Герб, изображённый на почтовом блоке, существовал в неизменном виде с момента образования СССР.
- 5) На почтовом блоке представлены только флаги республик, вошедших в состав СССР в момент его образования.

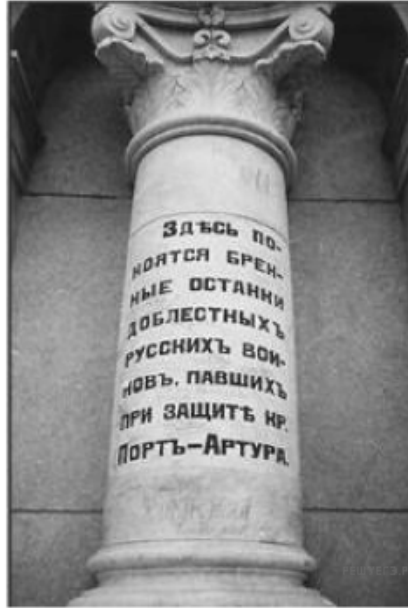
13. Рассмотрите изображение и выполните задание



Какие суждения о данной картине являются верными? Выберите два суждения из пяти предложенных. Запишите в таблицу цифры, под которыми они указаны.

- 1) Одним из руководителей обороны города, которой посвящена картина, являлся Г. К. Жуков.
- 2) На картине показана оборона Москвы.
- 3) Картина написана в рамках социалистического реализма.
- 4) События, изображённые на картине, происходят в годы Великой Отечественной войны.
- 5) Город, оборона которого изображена на картине, не был сдан врагу.

14. Рассмотрите изображение и выполните задание.



Какие суждения, связанные с изображением, которое Вы видите, являются верными? Выберите два суждения из пяти предложенных. Запишите в таблицу цифры, под которыми они указаны.

- 1) Война, в память о которой установлен изображённый обелиск, способствовала стабилизации внутривнутриполитической обстановки в России.
- 2) Следствием войны, в память о которой установлен изображённый обелиск, была утрата Россией всего острова Сахалин.
- 3) Сторонником развязывания данной войны был С. Ю. Витте.
- 4) В начале войны, в память о которой установлен изображённый обелиск, вражеские корабли попытались захватить русский крейсер и канонерскую лодку в корейском порту Чемульпо.
- 5) Участниками войны, в память о которой установлен изображённый обелиск, были Р. И. Кондратенко и С. О. Макаров.

15. Какие суждения о скульптуре, изображённой на фотографии, являются верными? Выберите два суждения из пяти предложенных. Запишите в ответ цифры, под которыми они указаны.

- 1) Скульптура была создана в период после Великой Отечественной войны.
- 2) В настоящее время скульптура находится в г. Санкт-Петербурге.
- 3) На скульптуре показаны орудия труда, изображавшиеся на гербе СССР.
- 4) Автором скульптуры является П. К. Клодт.
- 5) Скульптура символизировала единство рабочего класса и крестьянства.



16. Какие суждения о плакате являются верными? Выберите два суждения из пяти предложенных. Запишите в таблицу цифры, под которыми они указаны.



- 1) Руководителем страны в период создания данного плаката был Л. И. Брежнев.
- 2) Плакат носит сатирический характер.
- 3) Явление, которому посвящён плакат, связано с понятием «Великий перелом».
- 4) Плакат призван был пробуждать трудовой энтузиазм у советских людей.
- 5) Плакат относится к 1960-м гг.

17. Какие суждения о данном изображении являются верными? Выберите два суждения из пяти предложенных. Запишите в таблицу цифры, под которыми они указаны.




- 1) изображённое здание выстроено в стиле классицизма
- 2) архитектор здания — А. Н. Воронихин
- 3) история здания связана с историей Государственных дум, действовавших до революции 1917 года
- 4) здание было построено в XIX в.
- 5) здание находится в Москве

18. Какие суждения о данном изображении являются верными? Выберите два суждения из пяти предложенных. Запишите в таблицу цифры, под которыми они указаны.




- 1) это сооружение находится в Москве
- 2) памятник выстроен в русско-византийском стиле
- 3) данное здание имеет отношение к военно-морскому флоту
- 4) архитектор, построивший это здание, — А. Д. Захаров
- 5) создание этого памятника архитектуры относится ко времени правления Алексея Михайловича

19. Какие суждения о данном изображении являются верными? Выберите два суждения из пяти предложенных. Запишите в таблицу цифры, под которыми они указаны.



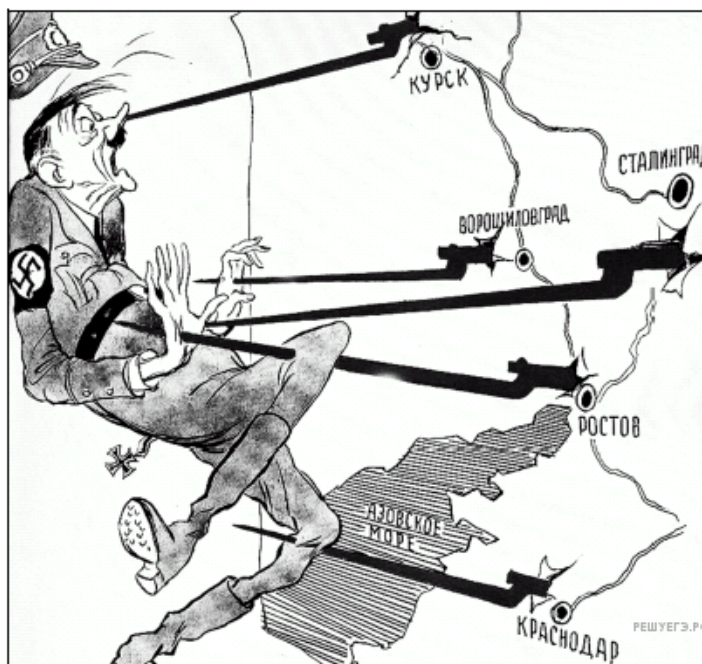
- 1) Карикатура посвящена событиям конца 1920–1930-х гг.
- 2) Карикатура посвящена событиям, происходившим в рамках борьбы И. В. Сталина с «троцкистской оппозицией».
- 3) Автор карикатуры поддерживает социально-экономическую модель советского общества, сложившуюся в период нэпа.
- 4) Политический деятель, изображённый на карикатуре, занимал пост Председателя Совета Народных Комиссаров СССР.
- 5) Политический деятель, изображённый на карикатуре, участвовал в отстранении от власти Н. С. Хрущёва в 1964 г.

20. Какие суждения о данном изображении являются верными? Выберите два суждения из пяти предложенных. Запишите в таблицу цифры, под которыми они указаны.



- 1) События, которым посвящена карикатура, произошли после Второй мировой войны.
- 2) Одну из стран на карикатуре символизирует богиня Афродита.
- 3) В военный блок, деятельности которого посвящена данная карикатура, в настоящее время входят некоторые страны, ранее бывшие союзными республиками в составе СССР.
- 4) Военный блок, деятельности которого посвящена данная карикатура, был создан в ответ на создание Организации Варшавского договора.
- 5) Европейская страна, символически изображённая на карикатуре, долгое время входила в состав Российской империи.

21. Какие суждения о данной карикатуре являются верными? Выберите два суждения из пяти предложенных. Запишите в таблицу цифры, под которыми они указаны.



- 1) На карикатуре изображён политический деятель, пришедший к власти в Германии в 1939 г.
- 2) На карикатуре отражены события, произошедшие в период коренного перелома в ходе Великой Отечественной войны.
- 3) Все удары Красной армии, образно показанные на карикатуре, были нанесены в зимний период.
- 4) В период, когда произошли события, отражённые на карикатуре, уже был открыт Второй фронт во Франции.
- 5) В период, когда произошли события, отражённые на карикатуре, союзники СССР действовали против Германии и её союзников в Северной Африке.

22. Какие суждения о данной монете являются верными? Выберите два суждения из пяти предложенных. Запишите в таблицу цифры, под которыми они указаны.

- 1) Исторический деятель, изображенный на монете, погиб в походе, которому она посвящена.
- 2) Поход, которому посвящена монета, был начат при первом царе из династии Романовых.
- 3) Современником исторического деятеля, изображённого на монете, был русский первопечатник Иван Фёдоров.
- 4) В результате похода, которому посвящена монета, к России была присоединена Восточная Сибирь.
- 5) Поход, которому посвящена монета, описан в произведении Афанасия Никитина «Хождение за три моря».



23. Какие суждения о данной карикатуре являются верными? Выберите 2 суждения из пяти предложенных. Запишите в ответ цифры, под которыми они указаны.



- 1) Одним из последствий Первой мировой войны стал распад империи, которой посвящена данная карикатура.
- 2) Россия никогда не подписывала международных договоров с империей, которой посвящена карикатура.
- 3) Империя, которой посвящена карикатура, входила в Антанту.
- 4) Во время Первой мировой войны русской армии удалось временно захватить часть территории империи, которой посвящена карикатура.
- 5) В состав империи, которой посвящена карикатура, входила Пруссия.

24. Какие суждения о данной марке являются верными? Выберите два суждения из пяти предложенных. Запишите в ответ цифры, под которыми они указаны.




- 1) Событие, в честь юбилея которого выпущена данная марка, произошло в эпоху дворцовых переворотов.
- 2) Исторический деятель, имя которого указано на марке, принимал участие в создании учебного заведения, изображённого на марке.
- 3) Учебное заведение, юбилею которого посвящён выпуск данной марки, основано в городе, вошедшем в состав России в XVII в.
- 4) Здание, изображённое на почтовой марке, — памятник архитектуры эпохи классицизма.
- 5) Данная марка выпущена в годы «холодной войны».

25. Какие суждения о данной марке являются верными? Выберите два суждения из пяти предложенных. Запишите в ответ цифры, под которыми они указаны.

- 1) Марка выпущена в период президентства Б. Н. Ельцина.
- 2) Памятник, изображённый на марке, находится в городе, стоящем на реке Волхов.
- 3) Автор памятника, изображённого на марке — скульптор М. О. Микешин.
- 4) Правитель, имя которого написано на марке, объединил под своей властью Киев и Новгород.
- 5) Один из исторических деятелей, чьи изображения представлены на памятнике, — С. Т. Разин.



26. Какие суждения о данной иллюстрации являются верными? Выберите два суждения из пяти предложенных. Запишите в таблицу цифры, под которыми они указаны.



- 1) Историческая ситуация, представленная на иллюстрации, возникла в период Смуты.
- 2) Историческая ситуация, представленная на иллюстрации, разрешилась установлением единоличной власти одного из монархов, сидящих на троне.
- 3) В левой части иллюстрации помещено изображение матери монархов, представленных в центральной части иллюстрации.
- 4) Один из монархов, сидящих на троне, стал императором.
- 5) Один из исторических деятелей, чьи изображения представлены на иллюстрации, первым из правителей Российского государства венчался на царство.

27. Какие суждения о скульптуре, изображённой на фотографии, являются верными? Выберите два суждения из пяти предложенных. Запишите в таблицу цифры, которыми они обозначены.

- 1) Скульптура была создана в период после Великой Отечественной войны.
- 2) В настоящее время скульптура находится в Санкт-Петербурге.
- 3) На скульптуре показаны орудия труда, изображавшиеся на гербе СССР.
- 4) Автором скульптуры является П. К. Клодт.
- 5) Скульптура символизировала единство рабочего класса и крестьянства.



28. Рассмотрите изображение и выполните задание



Какие суждения о данном изображении являются верными? Выберите два суждения из пяти предложенных. Запишите в ответ цифры, под которыми они указаны.

- 1) Представленная на изображении монета была выпущена в 1965 г.
- 2) Изображённый на монете памятник находится в Москве.
- 3) Автор изображённого на монете памятника – М. М. Антокольский.
- 4) Одним из элементов изображённого на монете памятника является поверженная фашистская символика.
- 5) Изображённый на монете памятник посвящён выдающемуся советскому военачальнику.

29. Рассмотрите изображение и выполните задание



Какие суждения о данном изображении являются верными? Выберите два суждения из пяти предложенных. Запишите в таблицу цифры, под которыми они указаны.

- 1) Карикатура посвящена событиям начала XX в.
- 2) На карикатуре изображён император Александр II.
- 3) Изображённый на карикатуре император представлен как сильная, деспотическая личность с железной, непреклонной волей.
- 4) Карикатура посвящена явлению, получившему в отечественной истории название «распутинщина».
- 5) На время царствования изображённого императора пришлось участие России в Крымской войне.

30. Рассмотрите изображение и выполните задание



Какие суждения о данном изображении являются верными? Выберите два суждения из пяти предложенных. Запишите в таблицу цифры, под которыми они указаны.

- 1) Данная почтовая марка была выпущена в годы руководства И. В. Сталина.
- 2) Неприятельскими войсками в битве, которой посвящена марка, руководил Наполеон.
- 3) Данная почтовая марка посвящена событиям Северной войны.
- 4) На марке изображён момент признания победы русского войска в этой битве.
- 5) Менее чем через год после битвы, которой посвящена марка, Россия заключила с поверженным в этой битве неприятелем мирный договор.

31. Рассмотрите изображение и выполните задание



Какие суждения о данной карикатуре являются верными? Выберите два суждения из пяти предложенных. Запишите в таблицу цифры, под которыми они указаны.

- 1) Данная карикатура отражает взгляды большевиков на события Гражданской войны в России.
- 2) Карикатура высмеивает нейтралитет стран Запада по отношению к событиям в России.
- 3) Один из военачальников, чьи фамилии указаны на карикатуре, был провозглашён Верховным правителем России.
- 4) Россия никогда не входила в военный блок, название которого указано на карикатуре.
- 5) Все военачальники, фамилии, которых указаны погибли в годы Гражданской войны.

32. Рассмотрите изображение и выполните задание



Какие суждения о данном почтовом блоке являются верными? Выберите два суждения из пяти предложенных. Запишите в таблицу цифры, под которыми они указаны.

- 1) Данный почтовый блок выпущен в период «перестройки» в СССР.
- 2) Одной из армий, подписанных на карте, помещённой на почтовом блоке, командовал В. И. Чуйков.
- 3) Автором монумента, изображённого на почтовом блоке, является Е. В. Вучетич.
- 4) Участником битвы, которой посвящён почтовый блок, был В. Г. Клочков.
- 5) В битве, которой посвящён почтовый блок, принимала участие З. А. Космодемьянская.

33. Какие суждения о данном изображении являются верными? Выберите два суждения из пяти предложенных. Запишите в таблицу цифры, под которыми они указаны.

- 1) Данный номер журнала «Крокодил» вышел во второй четверти XX в.
- 2) В основу карикатуры положен эпизод из поэмы «Мёртвые души».
- 3) Писатель, годовщине со дня рождения которого посвящена обложка журнала, за одно из своих произведений был раскритикован В. Г. Белинским.
- 4) Карикатура на обложке журнала посвящена внешнеполитическим отношениям СССР.
- 5) Писатель, годовщине со дня рождения которого посвящена обложка журнала, был современником А. С. Пушкина.



34. Какие суждения о данном изображении являются верными? Выберите два суждения из пяти предложенных. Запишите в таблицу цифры, под которыми они указаны.

- 1) На почтовой марке изображено событие, произошедшее в 1914 г.
- 2) Изображённое на марке выступление В. И. Ленина произошло на II Всероссийском съезде Советов.
- 3) Марка была выпущена в период руководства И. В. Сталина.
- 4) Марка была выпущена в столетный юбилей со дня рождения В. И. Ленина.
- 5) Одним из результатов события, изображённого на марке, было создание Совета Народных Комиссаров.



35. Какие суждения о данном изображении являются верными? Выберите два суждения из пяти предложенных. Запишите в таблицу цифры, под которыми они указаны.

- 1) Марка посвящена мореплавателю, открывшему Антарктиду.
- 2) В честь данного мореплавателя названо одно из морей, омывающее территорию России.
- 3) Марка была выпущена в период руководства Л. И. Брежнева.
- 4) В год выпуска марки был совершен первый пилотируемый космический полёт.
- 5) Мореплавателю, которому посвящена марка, погиб в ходе путешествия, маршрут которого на ней изображён



36. Какие суждения о данном изображении являются верными? Выберите два суждения из пяти предложенных. Запишите в таблицу цифры, под которыми они указаны.

- 1) Данная купюра выпущена после начала денежной реформы, проведённой под руководством С. Ю. Витте.
- 2) Герб, изображённый на купюре, являлся гербом России ещё в течение более чем 20 лет после выпуска данной купюры.
- 3) В период правления императора, изображённого на купюре, в России началось железнодорожное строительство.
- 4) Император, в годы правления которого была выпущена данная купюра, был внуком императора, изображённого на купюре.
- 5) В год выпуска данной купюры произошла трагедия на Ходынском поле.



37. Какие суждения о данном изображении являются верными? Выберите два суждения из пяти предложенных. Запишите в таблицу цифры, под которыми они указаны.

- 1) Монета выпущена в период, когда правитель, изображённый на ней, уже был провозглашён императором.
- 2) Отец правителя, изображённого на монете — царь Фёдор Алексеевич.
- 3) Данная монета выпущена до Гренгамского сражения.
- 4) В период правления монарха, изображённого на монете, был основан Московский университет.
- 5) После смерти правителя, изображённого на монете, на российский престол взошла его жена.



38. Какие суждения о данном изображении являются верными? Выберите два суждения из пяти предложенных. Запишите в таблицу цифры, под которыми они указаны.

- 1) Данная почтовая марка была выпущена в 1980-х гг.
- 2) Руководителем СССР во время выпуска данной марки был Л. И. Брежнев.
- 3) К тому же десятилетию, к которому относится создание данной марки, относится начало Косыгинской реформы.
- 4) Лозунги, помещённые на марке, призывают к переходу к рыночной экономике.
- 5) Один из лозунгов на марке подчёркивает связь периода, к которому относится марка, с событиями 1917 года.



39. Какие суждения о данном изображении являются верными? Выберите два суждения из пяти предложенных. Запишите в таблицу цифры, под которыми они указаны.

- 1) К событию, которому посвящён данный плакат, был причастен конструктор С. П. Королёв.
- 2) Данный плакат относится к времени руководства страной И. В. Сталина.
- 3) Плакат подчёркивает, что событие, которому он посвящён, является триумфом советского строя.
- 4) Событие, которому посвящен данный плакат, относится к 1940-м гг.
- 5) На плакате изображён А. И. Покрышкин.



40. Какие суждения о данном изображении являются верными? Выберите два суждения из пяти предложенных. Запишите в таблицу цифры, под которыми они указаны.

- 1) Данная карикатура посвящена событиям русско-японской войны.
- 2) Карикатура относится к 1880-м гг.
- 3) Война, событиям которой посвящена карикатура, происходила при императоре Александре Втором.
- 4) Война, которой посвящена данная карикатура, закончилась победой России.
- 5) Карикатура подчёркивает силу российской армии на суше в сравнении с противником.



41. Какие суждения о данном изображении являются верными? Выберите два суждения из пяти предложенных. Запишите в таблицу цифры, под которыми они указаны.

- 1) Данная карикатура относится к периоду Первой российской революции.
- 2) Изображённый на карикатуре император — Александр I.
- 3) Карикатура подчёркивает, что совершаемое императором на ней действие совершается им по принуждению, без желания.
- 4) Изображённый рядом с императором государственный деятель — М. М. Сперанский.
- 5) В период правления императора, изображённого на карикатуре, Россия проиграла Крымскую войну.



42. Какие суждения о данном изображении являются верными? Выберите два суждения из пяти предложенных. Запишите в таблицу цифры, под которыми они указаны.

- 1) На марке изображён советский военачальник, прославившийся в период Гражданской войны.
- 2) Марка выпущена в честь 100-летнего юбилея со дня рождения изображённого на ней военачальника.
- 3) Марка была выпущена в период руководства страной Л. И. Брежнева.
- 4) Изображённый на марке военачальник пал жертвой сталинских репрессий.
- 5) В 1940–1941 гг. изображённый на марке военачальник занимал пост наркома обороны.



43. Какие суждения о данном изображении являются верными? Выберите два суждения из пяти предложенных. Запишите в таблицу цифры, под которыми они указаны.

- 1) Данная монета была выпущена в период перестройки.
- 2) Современником события, которому посвящена монета, был П. А. Столыпин.
- 3) Изображение на монете подчёркивает мирный, ненасильственный характер события.
- 4) Изображение на монете подчёркивает важную роль в событии матросов.
- 5) В год выпуска монеты в СССР была принята «Конституция развитого социализма».



44. Какие суждения о данном изображении являются верными? Выберите два суждения из пяти предложенных. Запишите в таблицу цифры, под которыми они указаны.

- 1) Данная марка посвящена государю, правившему в XIII в.
- 2) Данная марка была выпущена в период президентства Б. Н. Ельцина.
- 3) На марке проиллюстрировано одно из событий правления изображённого государя, связанное с заключением династического брака.
- 4) При государе, изображённом на марке, в русском государстве была введена опричнина.
- 5) Марка выпущена в честь 500-летия восшествия изображённого государя на престол.



45. Какие суждения о данном изображении являются верными? Выберите два суждения из пяти предложенных. Запишите в таблицу цифры, под которыми они указаны.

- 1) Изображённый на монете император взошёл на престол в результате дворцового переворота.
- 2) Место установки памятника, изображённого на монете, находится рядом с городом Полтавой.
- 3) Монета была выпущена в царствование Николая Второго.
- 4) Изображённый на монете памятник посвящён одной из крупнейших битв в истории Российской империи.
- 5) Изображённый на монете император отменил в России крепостное право.



46. Какие суждения о данной памятной медали являются верными? Выберите два суждения из пяти предложенных. Запишите в таблицу цифры, под которыми они указаны.

- 1) В ходе событий, которым посвящена данная памятная медаль, интересы Российской империи сталкивались прежде всего с интересами Франции.
- 2) Следствием событий, которым посвящена данная памятная медаль, стало вхождение в состав Российской империи территорий Узбекистана, Туркмении, Киргизии, Таджикистана.
- 3) Один из императоров, вензеля которых изображены на данной медали, отменил крепостное право в России.
- 4) Среди императоров, вензеля которых изображены на данной медали, было два брата.
- 5) Современниками событий, в память о которых была учреждена данная медаль, были А. С. Грибоедов и А. С. Пушкин.



47. Какие суждения о данном изображении являются верными? Выберите два суждения из пяти предложенных. Запишите в таблицу цифры, под которыми они указаны.

- 1) В год, когда была выпущена данная марка, состоялся XX съезд КПСС
- 2) Данный исторический деятель был первым русским митрополитом.
- 3) Данный исторический деятель был одним из основателей славянской письменности.
- 4) В своем творении поддерживает деятельность князя Александра Невского.
- 5) Летописец является автором Повести временных лет



48. Какие суждения о данной марке являются верными? Выберите два суждения из пяти предложенных. Запишите в таблицу цифры, под которыми они указаны.

- 1) Военный деятель, изображённый на марке, подвергся репрессиям.
- 2) Военный деятель, изображённый на марке, родился в период правления в России Николая II.
- 3) События, изображённые на марке стрелками, произошли в ходе Первой мировой войны.
- 4) Военный деятель, изображённый на марке, был участником Великой Отечественной войны.
- 5) Данная марка была выпущена в период руководства СССР Н. С. Хрущёва.



49. Какие суждения о данной карикатуре являются верными? Выберите два суждения из пяти предложенных. Запишите в таблицу цифры, под которыми они указаны.

1) Событие, которому посвящена карикатура, произошло в 1962 г.

2) Карикатура высмеивает господство США в военной организации, о создании которой идёт речь.

3) В военную организацию, созданию которой посвящена карикатура, первоначально входило около 50 государств.

4) Одним из государств, участвовавших в событии, которому посвящена карикатура, была Польша.

5) Военный блок, в котором главную роль играл СССР, был создан позже события, которому посвящена данная карикатура.



Торжественное подписание Атлантического пакта

50. Какие суждения о данной почтовой марке являются верными? Выберите два суждения из пяти предложенных. Запишите в таблицу цифры, под которыми они указаны.

1) Действие картины, изображённой на марке, происходит на X съезде РКП(б).

2) Марка выпущена в период «оттепели» в СССР.


3) Политический деятель, выступление которого изображено на картине, был первым Председателем Совета Народных Комиссаров.

4) На съезде, события которого изображены на картине, был принят Декрет о земле.

5) События, изображённые на картине, произошли в Москве.



51.



гп. Полотов: - Пождуйте фиться! ваша очередь...

Какие суждения о данной карикатуре являются верными? Выберите два суждения из пяти предложенных. Запишите в таблицу цифры, под которыми они указаны.

1) Карикатура посвящена событиям конца 1920–1930-х гг.

2) Карикатура посвящена событиям, происходившим в рамках борьбы И. В. Сталина с троцкистской оппозицией.

- 3) Автор карикатуры поддерживает социально-экономическую модель советского общества, сложившуюся в период нэпа.
- 4) Политический деятель, изображённый на карикатуре, занимал пост Председателя Совета Народных Комиссаров СССР.
- 5) Политический деятель, изображённый на карикатуре, участвовал в отстранении от власти Н. С. Хрущёва в 1964 г.

52. Какие суждения о данной карикатуре являются верными? Выберите два суждения из пяти предложенных. Запишите в таблицу цифры, под которыми они указаны.

- 1) Ситуация, изображённая на карикатуре, характеризует научные дискуссии во второй половине 1940-х гг.
- 2) В образе профессора, к которому обращается молодой человек, изображён Т. Д. Лысенко.
- 3) Руководитель страны в период, когда велись научные дискуссии, которым посвящена карикатура, не принимал в этих дискуссиях чью-либо сторону.
- 4) Мичуринское направление, приверженцем которого является молодой человек, изображённый на карикатуре, было разгромлено в результате вмешательства в научные дискуссии Н. И. Вавилова.
- 5) Наука, название которой указано справа на карикатуре, была объявлена в СССР лженаукой.



53. Какие суждения о данной монете являются верными? Выберите два суждения из пяти предложенных. Запишите в таблицу цифры, под которыми они указаны.

- 1) Все конференции, которым посвящена монета, состоялись в ходе Великой Отечественной войны.
- 2) Состав лидеров стран "Большой тройки" на Потсдамской конференции изменился по сравнению с Тегеранской и Крымской конференциями.
- 3) Все руководители стран, изображенные на монете, дожили до конца Второй мировой войны.
- 4) В ходе Второй мировой войны проходили конференции с участием всех лидеров стран «Большой тройки», не представленные на данной медали.
- 5) На медали изображены флаги Великобритании, США и СССР.



54. Какие суждения о данной карикатуре являются верными? Выберите два суждения из пяти предложенных. Запишите в таблицу цифры, под которыми они указаны.

1) Фраза начальника, обращённая к конструктору, свидетельствует о приоритетном применении в сельскохозяйственном производстве интенсивных технологий.

2) Ситуация, связанная с предстоящей поездкой конструктора, являлась типичной для десятилетия, когда вышел номер журнала, на обложке которого размещена карикатура.

3) Изображение свидетельствует, что конструктор использует в работе электронно-вычислительную машину.

4) Номер журнала, обложка которого представлена на рисунке, вышел в свет в период «оттепели».

5) В период, когда вышел номер журнала, обложка которого представлена, в СССР официально отсутствовала безработица.



55. Какие суждения о данной карикатуре являются верными? Выберите два суждения из пяти предложенных. Запишите в таблицу цифры, под которыми они указаны.

1) На карикатуре изображён политический деятель, пришедший к власти в Германии в 1939 г.

2) На карикатуре отражены события, произошедшие в период коренного перелома в ходе Великой Отечественной войны.

3) Все удары Красной армии, образно показанные на карикатуре, были нанесены в зимний период.

4) В период, когда произошли события, отражённые на карикатуре, уже был открыт Второй фронт во Франции.

5) В период, когда произошли события, отражённые на карикатуре, союзники СССР действовали против Германии и её союзников в Северной Африке.



56. Какие суждения о данной памятной монете являются верными? Выберите два суждения из пяти предложенных. Запишите в таблицу цифры, под которыми они указаны.

- 1) Событие, которому посвящена данная монета, произошло менее чем за год до отмены крепостного права в России.
- 2) На монете упоминается государственный орган, учреждённый Петром I.
- 3) Изображённый на монете российский император получил прозвище Тишайший.
- 4) Данная монета выпущена в год, когда Президентом России был Д. А. Медведев.
- 5) Высокие государственные посты в период правления императора, изображённого на монете, занимали А. Х. Бенкендорф и С. С. Уваров.



57. Какие суждения о данном изображении являются верными? Выберите два суждения из пяти предложенных.

Цифры укажите в порядке возрастания.



- 1) Среди изображённых на данной марке художников есть представители товарищества передвижников.
- 2) Учреждение, юбилею которого посвящена данная марка, было создано при императрице Елизавете Петровне.
- 3) Данная марка была выпущена в период руководства страной И. В. Сталина.
- 4) В год издания марки произошёл первый полёт человека в космос.
- 5) Одному из изображённых на марке художников принадлежит авторство картины «Грачи прилетели».

58. Какие суждения о данном изображении являются верными? Выберите два суждения из пяти предложенных.

Цифры укажите в порядке возрастания.



- 1) В год издания данной марки в СССР была принята новая Конституция.
- 2) Данная марка была выпущена в период перестройки.
- 3) Итогом деятельности конференции, которой посвящена марка, стало решение об альтернативных выборах.
- 4) Современником события, которому посвящена марка, был Ю. В. Андропов.
- 5) В десятилетие, к которому относится выпуск данной марки, произошёл распад СССР.

59. Какие суждения о данном изображении являются верными? Выберите два суждения из пяти предложенных.

Цифры укажите в порядке возрастания.



- 1) Полководец, изображённый на марке, был современником императора Павла Первого.
- 2) Данная марка была выпущена в период президентства Б. Н. Ельцина.
- 3) Данная марка была выпущена в честь 300-летия со дня рождения изображённого на ней полководца.
- 4) Полководец, изображённый на марке, один из немногих русских военных деятелей, удостоенных чина генералиссимуса.
- 5) Полководец, изображённый на марке, был участником Северной войны.

60. Какие суждения о данном изображении являются верными? Выберите два суждения из пяти предложенных.

Цифры укажите в порядке возрастания.



- 1) Событие, к юбилею которого была выпущена монета, летопись связывает с именем князя Владимира.
- 2) Создание монумента, изображённого на монете, относится к периоду царствования Александра Второго.
- 3) Монумент, изображённый на монете, находится в Петербурге.
- 4) В монументе, изображённом на монете, подчеркнута важная роль в развитии русской государственности и православной веры.
- 5) В год выпуска данной монеты в России отмечался 150-летний юбилей отмены крепостного права.

61. Какие суждения о данном изображении являются верными? Выберите два суждения из пяти предложенных.

Цифры укажите в порядке возрастания.



- 1) Изображённый на марке исторический деятель был современником императора Павла I.
- 2) Изображённый на марке исторический деятель занимал пост военного министра.
- 3) Изображённое на марке здание находится в Санкт-Петербурге.
- 4) Изображённый на марке исторический деятель участвовал в войнах с Наполеоном.
- 5) Марка была выпущена к 150-летию со дня рождения изображённого на ней исторического деятеля.

62. Какие суждения о данном изображении являются верными? Выберите два суждения из пяти предложенных.

Цифры укажите в порядке возрастания.



- 1) На монете изображено здание, в котором на момент событий, которым посвящена монета, находился Верховный Совет РСФСР.
- 2) После событий, которым посвящена монета, состоялся I Съезд народных депутатов РСФСР и была принята Декларация о государственном суверенитете России.
- 3) В событиях, которым посвящена монета, участвовал Б. Н. Ельцин.
- 4) События, которым посвящена монета, начались с издания указа Президента России о роспуске Верховного Совета.
- 5) В том же году, в честь событий которого была выпущена монета, в России была принята новая Конституция.

63. Какие суждения о данном изображении являются верными? Выберите два суждения из пяти предложенных.

*Цифры укажите в порядке возрастания.*



- 1) Полководец, изображённый на марке, был современником Екатерины Второй.
- 2) Полководец, изображённый на марке, участвовал в Отечественной войне 1812 г.
- 3) Данная марка была выпущена в период руководства СССР И. В. Сталина.
- 4) Событие, которому посвящена марка, произошло во время Крымской войны.
- 5) В год издания данной марки в СССР была принята новая конституция.

64. Какие суждения о данном изображении являются верными? Выберите два суждения из пяти предложенных.

*Цифры укажите в порядке возрастания.*



- 1) Изображённый на монете памятник получил образное название «Медный всадник».
- 2) Памятник, изображённый на монете, был создан скульптором А. М. Опекушиным.
- 3) Монета была выпущена в период хрущёвской «оттепели».
- 4) Памятник, изображённый на монете, был установлен в период правления Анны Иоанновны.
- 5) Через несколько лет после выпуска монеты город, в котором установлен изображённый на монете памятник, был переименован.

65. Какие суждения о данном изображении являются верными? Выберите два суждения из пяти предложенных.

Цифры укажите в порядке возрастания.



- 1) Данная монета была выпущена в период руководства СССР Л. И. Брежнева.
- 2) Князь, памятник которому изображён на монете, был современником князя Олега Вещего.
- 3) Князь, памятник которому изображён на монете, в течение своего правления был вынужден вести упорную борьбу с печенегами.
- 4) Событие, юбилею которого посвящена монета, произошло в том же веке, что и основание Москвы.
- 5) К периоду руководства СССР государственного деятеля, при котором была выпущена монета, относится создание поста Президента СССР.

66. Какие суждения о данном изображении являются верными? Выберите два суждения из пяти предложенных.

Цифры укажите в порядке возрастания.



- 1) В год выпуска данной монеты в СССР была принята «Конституция развитого социализма».
- 2) Изображённая на монете печать впоследствии легла в основу герба города Москвы.
- 3) Данная монета была выпущена в период руководства СССР Н. С. Хрущёва.
- 4) В период правления государя, чья печать изображена на монете, был принят Судебник.
- 5) К периоду правления государя, чья печать изображена на монете, относится деятельность Избранной рады.



69. Какие суждения о данном изображении являются верными? Выберите два суждения из пяти предложенных. Запишите в таблицу цифры, под которыми они указаны.

- 1) Событие, юбилею которого посвящена монета, произошло в период руководства СССР И. В. Сталина.
- 2) К событию, юбилею которого посвящена монета, был причастен С. П. Королёв.
- 3) В том же десятилетии, в котором произошло юбилейное событие, в СССР была принята Конституция «развитого социализма».
- 4) В год выпуска данной юбилейной монеты в СССР был созван I Съезд народных депутатов.
- 5) Монета была выпущена в период руководства СССР Л. И. Брежнева.



70. Какие суждения о данном изображении являются верными? Выберите два суждения из пяти предложенных. Запишите в таблицу цифры, под которыми они указаны.

- 1) Событие, которому посвящена монета, произошло в период руководства СССР Л. И. Брежнева.
- 2) В том же десятилетии, к которому относится событие, которому посвящена монета, прошёл XX съезд КПСС.
- 3) За год до события, которому посвящена монета, ограниченный контингент советских войск был введён в Афганистан.
- 4) Руководитель СССР, при котором произошло событие, которому посвящена монета, был отправлен в отставку со всех своих постов.
- 5) В год события, которому посвящена монета, в СССР была принята новая Конституция.



71. Какие суждения о данном изображении являются верными? Выберите два суждения из пяти предложенных. Запишите в таблицу цифры, под которыми они указаны.

- 1) Итогом битвы, которой посвящена монета, стало падение власти Орды над Русью.
- 2) Изображённый на монете исторический деятель – Иван III.
- 3) Войска противника в битве, которой посвящена монета, возглавлял Мамай.
- 4) Монета выпущена в период руководства страной Л. И. Брежнева.
- 5) В том же веке, в котором произошла битва, которой посвящена монета, к Московскому государству была присоединена Тверь.



72. Какие суждения о данном изображении являются верными? Выберите два суждения из пяти предложенных. Запишите в таблицу цифры, под которыми они указаны.

- 1) Данная марка была выпущена в период перестройки.
- 2) В битве, которой посвящена марка, противниками русской дружины были рыцари Ливонского ордена.
- 3) Битва, которой посвящена марка, относится к периоду монгольского нашествия на Русь.
- 4) Князь, под руководством которого была одержана победа в битве, которой посвящена марка, был первым в истории московским князем.
- 5) В том же десятилетии, к которому относится выпуск данной марки, произошёл ввод советских войск в Афганистан.



73. Какие суждения о данном изображении являются верными? Выберите два суждения из пяти предложенных. Запишите в таблицу цифры, под которыми они указаны.

- 1) Данный конверт выпущен в период руководства страной М. С. Горбачёва.
- 2) Собор, изображённый на конверте, является усыпальницей династии московских князей и царей.
- 3) Участником события, которому посвящено изображение на конверте, был Борис Годунов.
- 4) При строительстве собора, изображённого на конверте, были заимствованы черты владимирской архитектуры.
- 5) Собор, изображённый на конверте, был построен в XVI в.



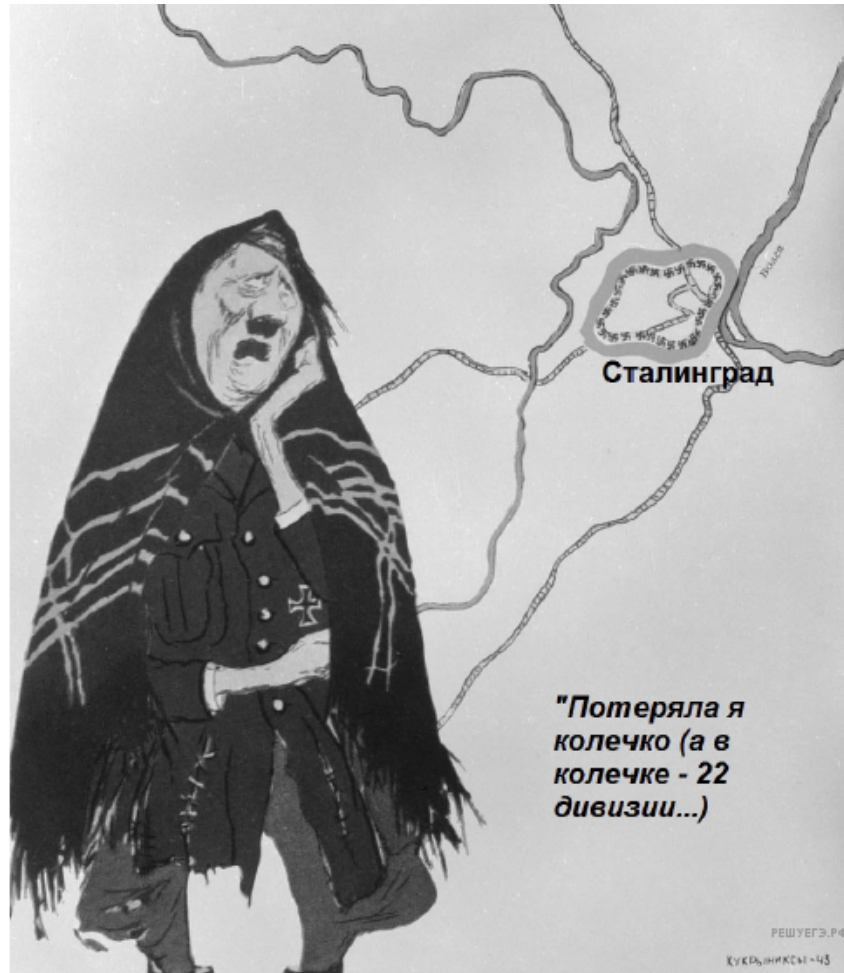
74. Какие суждения о данном изображении являются верными? Выберите два суждения из пяти предложенных. Запишите в таблицу цифры, под которыми они указаны.

- 1) Данная монета была выпущена в период перестройки.
- 2) Событие, которому посвящена монета, произошло в 1945 г.
- 3) Событие, которому посвящена монета, произошло в том же году, что и Курская битва.
- 4) Одним из участников события, которому посвящена монета, был Н. Ф. Ватутин.
- 5) В год выпуска данной юбилейной монеты была принята Декларация о государственном суверенитете России.



75. Какие суждения о данном изображении являются верными? Выберите два суждения из пяти предложенных. Запишите в таблицу цифры, под которыми они указаны.

- 1) Битва, результату которой посвящена карикатура, произошла в 1944 г.
- 2) Битва, результату которой посвящена карикатура, происходила в весенний период.
- 3) Ситуация, которой посвящена карикатура, сложилась после реализации советской военной операции «Багратион».
- 4) Карикатура подчёркивает уныние немецкого руководства, вызванное результатами битвы.
- 5) Одним из результатов событий, которым посвящена карикатура, стало пленение немецкого генерал-фельдмаршала Ф. Паулюса.



76. Какие суждения о данном изображении являются верными? Выберите два суждения из пяти предложенных. Запишите в таблицу цифры, под которыми они указаны.

- 1) Карикатура посвящена событиям Гражданской войны в России.
- 2) Один из карикатурно изображённых в виде псов исторических деятелей был председателем Учредительного собрания.
- 3) Карикатура подчёркивает участие западных стран в событиях, ко времени которых относится её создание.
- 4) В союз, название которого присутствует на карикатуре, входила Германия.
- 5) Карикатура подчёркивает поддержку западными странами российских большевиков.



77. Какие суждения о данном изображении являются верными? Выберите два суждения из пяти предложенных. Запишите в таблицу цифры, под которыми они указаны.

- 1) Карикатура посвящена ситуации 1914 г.
- 2) Изображённый на карикатуре исторический деятель принадлежал к партии большевиков.
- 3) Среди правительственных постов, которые занимал изображённый на карикатуре исторический деятель, был пост военного министра.
- 4) Автор карикатуры намекает на наполеоновские замашки исторического деятеля, изображённого на ней.
- 5) Автор карикатуры подчёркивает независимый, самостоятельный характер политики, проводимой изображённым на ней историческим деятелем.



78. Какие суждения о данном значке являются верными? Выберите два суждения из пяти предложенных. Запишите в таблицу цифры, под которыми они указаны.

- 1) Значок посвящён событиям 1942 г.
- 2) В сражении, юбилею которого посвящён значок, впервые в войне немцы были вынуждены перейти к обороне.
- 3) Значок был выпущен в период руководства СССР Н. С. Хрущёва.
- 4) В том же году, в котором был выпущен значок, состоялся первый полёт человека в космос.
- 5) В том же году, в котором произошло сражение, которому посвящён значок, был создан Государственный комитет обороны.



79. Какие суждения о данной марке являются верными? Выберите два суждения из пяти предложенных. Запишите в таблицу цифры, под которыми они указаны.

- 1) Марка посвящена юбилею создания СССР.
- 2) Марка выпущена в период руководства СССР Л. И. Брежнева.
- 3) Автор изображения на марке подчёркивает, что юбилей пришёлся на время серьёзных испытаний для советского народа.
- 4) Участником события, юбилею которого посвящена марка, был Л. Д. Троцкий.
- 5) В год выпуска марки произошла Курская битва.



80. Какие суждения о данном значке являются верными? Выберите два суждения из пяти предложенных. Запишите в таблицу цифры, под которыми они указаны.

- 1) Плакат относится к периоду в отечественной истории, начавшемуся в 1980-х гг.
- 2) Руководителем СССР во время создания данного плаката был Л. И. Брежнев.
- 3) В том же десятилетии, к которому относится создание плаката, в СССР была начата косыгинская экономическая реформа.
- 4) В том же десятилетии, к которому относится создание плаката, в СССР был провозглашён курс на построение коммунизма за 20 лет.
- 5) На плакате изображены символы, являющиеся частью герба и знамени СССР.



81. Какие суждения о данной монете являются верными? Выберите два суждения из пяти предложенных. Запишите в таблицу цифры, под которыми они указаны.

- 1) Монета посвящена событию, которое относится к периоду руководства СССР И. В. Сталина.
- 2) Монета посвящена успехам СССР в освоении космического пространства.
- 3) Событие, которому посвящена монета, произошло в 1950-х гг.
- 4) В том же десятилетии, к которому относится событие, которому посвящена монета, в СССР впервые было испытано атомное оружие.
- 5) В разработке изображённого на монете объекта принимал непосредственное участие Н. Е. Жуковский.



82. Какие суждения о данном изображении являются верными? Выберите два суждения из пяти предложенных. Запишите в таблицу цифры, под которыми они указаны.

- 1) Создание плаката относится к периоду руководства страной И. В. Сталина.
- 2) Во время создания плаката в стране проводилась политика военного коммунизма.
- 3) В надписях к плакату указана социальная группа, признанная врагом советской власти.
- 4) Плакат призывает к развитию индивидуальных крестьянских хозяйств.
- 5) Во время создания плаката в стране проводилась кампания по массовому посеву кукурузы.



**83.** Какие суждения о данном изображении являются верными? Выберите два суждения из пяти предложенных. Запишите в таблицу цифры, под которыми они указаны.

- 1) Монета посвящена юбилею И. В. Сталина.
- 2) В год рождения исторического деятеля, изображённого на монете, в России было отменено крепостное право.
- 3) Монета была выпущена в период руководства СССР Л. И. Брежнева.
- 4) Изображённый на монете исторический деятель родился в период царствования Александра II.
- 5) В год выпуска монеты в СССР была принята «Конституция развитого социализма».



**84.** Какие суждения о данном изображении являются верными? Выберите два суждения из пяти предложенных. Запишите в таблицу цифры, под которыми они указаны.

- 1) Монета была выпущена в царствование Александра III.
- 2) Один из изображённых на монете исторических деятелей стал последним представителем династии, венчанным на царствие.
- 3) В год празднования юбилея, которому посвящена монета, началась Первая мировая война.
- 4) При императоре, в правление которого была выпущена монета, в России были учреждены земства.
- 5) На голове одного из изображённых на монете исторических деятелей один из символов царской власти — шапка Мономаха.



85. Какие суждения о данном почтовом блоке являются верными? Выберите два суждения из пяти предложенных. Запишите в таблицу цифры, под которыми они указаны.

- 1) Участником события, юбилею которого посвящён почтовый блок, был К. К. Рокоссовский.
- 2) Данный почтовый блок выпущен в период, когда Президентом России был Б. Н. Ельцин.
- 3) Событие, юбилею которого посвящён почтовый блок, произошло после окончания Второй мировой войны.
- 4) В год, когда произошло событие, юбилею которого посвящён почтовый блок, в СССР уже была создана и испытана атомная бомба.
- 5) Событие, юбилею которого посвящён почтовый блок, произошло в Ленинграде.



86. Какие суждения о данной памятной медали являются верными? Выберите два суждения из пяти предложенных. Запишите в таблицу цифры, под которыми они указаны.

- 1) Юбилей, которому посвящена медаль, произошёл в период руководства СССР М. С. Горбачёва.
- 2) В правление исторического деятеля, который изображён на медали, в Новгороде был возведён храм Св. Софии.
- 3) В изображении на медали исторического деятеля присутствуют как религиозные, так и военные символы и атрибуты.
- 4) В том же веке, в каком произошло событие, юбилею которого посвящена медаль, произошло призвание варягов.
- 5) В год празднования юбилея, которому посвящена медаль, в СССР была принята «Конституция развитого социализма».



87. Какие суждения о данном изображении являются верными? Выберите два суждения из пяти предложенных. Запишите в таблицу цифры, под которыми они указаны.

- 1) Изображённый на монете исторический деятель — Александр Невский.
- 2) Событие, которому посвящена монета, при историческом деятеле, на ней изображённом, привело к окончательному освобождению Руси от власти Орды.
- 3) В год выпуска данной монеты в СССР происходили XXII летние Олимпийские игры.
- 4) Данная монета была выпущена в период руководства СССР М. С. Горбачёва.
- 5) Авторы изображения на монете подчёркивают роль Москвы в событии, которому она посвящена.



88. Какие суждения о данном изображении являются верными? Выберите два суждения из пяти предложенных. Запишите в таблицу цифры, под которыми они указаны.

- 1) Данная марка была выпущена в период руководства СССР М. С. Горбачёва.
- 2) В год выпуска данной марки в СССР прошёл XX съезд КПСС.
- 3) Исторический деятель, которому посвящена марка, родился во время Первой российской революции.
- 4) Изображение на марке подчеркивает заслуги изображённого на ней исторического деятеля в освоении космического пространства.
- 5) В период жизни исторического деятеля, которому посвящена марка, в СССР была принята Конституция «развитого социализма».



89. Какие суждения о данном изображении являются верными? Выберите два суждения из пяти предложенных. Запишите в таблицу цифры, под которыми они указаны.

- 1) Данная марка была выпущена в период руководства СССР Л. И. Брежнева.
- 2) Один из изображённых на марке исторических деятелей — В. И. Ленин.
- 3) Заседание, изображённое на марке, произошло в Москве.
- 4) Создатели марки подчеркивают, что событие, в рамках которого происходило изображённое на марке заседание, несло мир человечеству.
- 5) В год выпуска марки в СССР произошло осуждение культа личности.



90. Какие суждения о данном изображении являются верными? Выберите два суждения из пяти предложенных. Запишите в таблицу цифры, под которыми они указаны.

- 1) Марка была выпущена в период руководства СССР Л. И. Брежнева.
- 2) В год события, юбилею которого посвящена марка, была принята первая советская конституция.
- 3) На марке изображено событие Великой Отечественной войны.
- 4) В год выпуска марки произошёл Карибский кризис.
- 5) В событии, которое изображено на марке, принимал участие М. Н. Тухачевский.



91. Какие суждения о данном изображении являются верными? Выберите два суждения из пяти предложенных. Запишите в таблицу цифры, под которыми они указаны.

- 1) Конституция, юбилею которой посвящена марка, была принята в 1936 г.
- 2) В том же десятилетии, к которому относится выпуск марки, реализация статьи, текст которой приведён на изображении, выразилась в отмене платы за обучение в старших классах и высших учебных заведениях.
- 3) Здание, изображённое на марке, было построено в том же десятилетии, в котором была принята конституция, которой посвящена марка.
- 4) В год выпуска марки руководителем СССР был Л. И. Брежнев.
- 5) Конституция, юбилею которой посвящена марка, предусматривала различия в избирательных правах рабочих и других категорий населения.





Какие суждения о данной почтовой марке являются верными? Выберите два суждения из пяти предложенных. Запишите в таблицу цифры, под которыми они указаны.

- 1) Данная марка была выпущена в период «оттепели».
- 2) Художник, картина которого изображена на марке, является автором нескольких полотен, написанных на сказочные и былинные сюжеты.
- 3) Современниками художника, картина которого изображена на данной марке, были И. П. Павлов и И. И. Мечников.
- 4) Живописец, картина которого изображена на данной марке, был членом Союза художников СССР.
- 5) Членами творческого объединения, к которому принадлежал художник, создавший изображённую на марке картину, были К. С. Малевич и М. З. Шагал.

**93.** Какие суждения о данной марке являются верными? Выберите два суждения из пяти предложенных. Запишите в таблицу цифры, под которыми они указаны.

- 1) Военный деятель, изображённый на марке, подвергся репрессиям.
- 2) Военный деятель, изображённый на марке, родился в период правления в России Николая II.
- 3) События, изображённые на марке стрелками, произошли в ходе Первой мировой войны.
- 4) Военный деятель, изображённый на марке, был участником Великой Отечественной войны.
- 5) Данная марка была выпущена в период руководства СССР Н. С. Хрущёва.



94.



Какие суждения о данном изображении являются верными? Выберите два суждения из пяти предложенных. Запишите в таблицу цифры, под которыми они указаны.

- 1) Декрет, название которого написано на почтовом блоке, был принят II съездом РСДРП.
- 2) Здание, изображённое на марке, построено в стиле классицизм.
- 3) Исторический деятель, изображённый на почтовом блоке, был председателем Временного правительства.
- 4) Данная марка выпущена в период, когда Генеральным секретарём ЦК КПСС был М. С. Горбачёв.
- 5) Современником события, юбилею которого посвящён почтовый блок, был П. А. Столыпин.

95.



Какие суждения о данном изображении являются верными? Выберите два суждения из пяти предложенных. Запишите в таблицу цифры, под которыми они указаны

- 1) Изображённый на марке исторический деятель был одним из ключевых участников процесса создания СССР.
- 2) Марка была выпущена в честь 50-летнего юбилея смерти исторического деятеля, на ней изображённого.
- 3) В год рождения исторического деятеля, изображённого на марке в России была образована организация «Народная воля».
- 4) В год выпуска марки в СССР началась перестройка.
- 5) Руководителем СССР в период выпуска марки был Л. И. Брежнев.