

1. Какие из памятников архитектуры, представленных ниже, были построены в том же веке, в котором был создан собор? В ответе запишите две цифры, под которыми они указаны.



2. Кто из императоров, представленных ниже, правили Россией в том же веке, когда был создан этот памятник? В ответе запишите две цифры, под которыми они указаны.



1)



2)




3)



4)



3.



Какие из изображённых на репродукциях событий относятся к царствованию того же императора, при котором происходили изображённые на картине события? В ответе запишите две цифры, под которыми они указаны.

1)



3)



2)




4)



4.




Какие из памятников, изображённых ниже, были созданы в то же царствование, что и изображённый памятник? В ответе запишите две цифры, под которыми они указаны.



5. Какие из представленных ниже картин относятся к тому же стилю (направлению) в живописи, что и предшествующая картина? В ответе запишите две цифры, под которыми они указаны.






6. Рассмотрите изображение и выполните задание



Какие из представленных ниже картин относятся к художественному направлению, возникшему в России в годы правления императора, при котором завершилась связанная с медалью война? В ответе запишите две цифры, под которыми они указаны.



7. Рассмотрите изображение и выполните задание



Какие из представленных ниже архитектурных сооружений строились по повелению царя, изображённого на картине? В ответе запишите две цифры, под которыми они указаны.



8. Рассмотрите изображение и выполните задание




Какие из представленных ниже архитектурных сооружений строились по повелению царя, изображённого на картине? В ответе запишите две цифры, под которыми они указаны.



9. Рассмотрите изображение и выполните задание.



Какие из представленных ниже памятников архитектуры находятся в городе, основанном по повелению императора, которому посвящен памятник? В ответе запишите две цифры, под которыми они указаны.





10. Какие из приведённых ниже архитектурных памятников были созданы в тот же период, что и указанный справа? В ответе запишите 2 цифры, под которыми они указаны.



1



2



3




4




11. Какие из приведенных памятников архитектуры построены в том же стиле и в ту же эпоху, что и приведенный на изображении, приведенном в задании В12. В ответе запишите две цифры, под которыми они указаны.



1



2



3



4

12. Рассмотрите схему и выполните задание



При каком из изображённых ниже государей был установлен памятник, изображённый выше? В ответе запишите цифру, под которой этот государь указан.

1)



2)



3)



4)



13. Рассмотрите схему и выполните задание



При каком из изображённых ниже государей был установлен памятник, изображённый выше? В ответе запишите цифру, под которой этот государь указан.

1)



2)



3)



4)



14. Укажите памятники архитектуры, построенные в период правления монарха, изображённого на почтовом блоке. В ответе запишите две цифры, под которыми указаны эти памятники архитектуры.




1)



2)



3)



4)




15. Какие из представленных марок посвящены государственным и военным деятелям — современникам государя, изображённого на монете? В ответе запишите две цифры, под которыми они указаны.



16. Какие из представленных ниже марок и монет посвящены историческим деятелям, жившим в том же столетии, в котором произошла битва, в честь юбилея которой была выпущена изображённая выше марка?

В ответе запишите две цифры, под которыми они указаны.




РЕШУ ЕГЭ.РФ



РЕШУ ЕГЭ.РФ

17. Какие из архитектурных сооружений, представленных ниже, были воздвигнуты в память событий, юбилею которых посвящена данная медаль? В ответе запишите две цифры, которыми обозначены эти архитектурные сооружения.



18. Какие из представленных монет посвящены событиям, произошедшим в то же царствование, в которое был установлен изображённый на марке памятник? В ответе запишите две цифры, под которыми они указаны.



19. Какие из представленных монет и медалей посвящены юбилеям событий того же царствования, в которое произошло событие, обозначенное на марке? В ответе запишите две цифры, под которыми они указаны.



