



Рассмотрите изображение и выполните задание.



1. Какой из представленных ниже памятников архитектуры был создан в честь рождения исторического деятеля, изображённого на марке? В ответе запишите цифру, которой обозначен этот памятник архитектуры. Назовите архитектора, по проекту которого создан данный памятник архитектуры.



**Рассмотрите изображение и выполните задание.**



**2.** Какой из представленных ниже культурных объектов был создан в период жизни исторического деятеля, изображённого на иллюстрации? В ответе запишите цифру, которой обозначен этот культурный объект. Назовите автора данного культурного объекта.



Рис. 1



Рис. 2



Рис. 3



Рис. 4

**Рассмотрите изображение и выполните задание.**



**3.** Какой из представленных ниже культурных объектов был создан в честь крупной победы правителя, в честь которого был заложен памятник архитектуры, изображенный на иллюстрации? В ответе запишите цифру, которой обозначен этот культурный объект. Назовите автора данного культурного объекта.



Рис. 1



Рис. 2



Рис. 3



Рис. 4

Рассмотрите изображение и выполните задание.



4. На какой из приведённых ниже монет изображён руководитель отряда казаков, который завоевал обширные территории? В ответе запишите цифру, которой обозначена эта монета. Назовите государство, которое он захватил, после чего оно было включено в состав России.



Рис. 1



Рис. 2



Рис. 3



Рис. 4

Рассмотрите изображение и выполните задание.



5. В каком из представленных ниже памятников архитектуры происходила сцена, изображённая на марке слева от изображения государя? В ответе запишите цифру, которой обозначен этот памятник архитектуры. Укажите зодчего, по проекту которого был создан этот памятник архитектуры.



Рис. 1



Рис. 2




Рис. 3



Рис. 4

Рассмотрите изображение и выполните задание.



6. Какой памятник архитектуры был создан в том же столетии, к которому относится смерть исторического деятеля, памятнику которому изображён на монете? В ответе запишите цифру, которой обозначен этот памятник архитектуры. Укажите город, в котором находится этот памятник архитектуры.




Рис. 1



Рис. 2



Рис. 3



Рис. 4

Рассмотрите изображение и выполните задание.



7. Какой из представленных ниже памятников архитектуры был создан в том же столетии, в котором правил государь, изображённый на марке? В ответе запишите цифру, которой обозначен этот памятник архитектуры. Укажите архитектурный стиль (архитектурный тип), в котором данный памятник выстроен.



Рис. 1




Рис. 2



Рис. 3



Рис. 4

Рассмотрите изображение и выполните задание.



8. Какой из представленных ниже памятников архитектуры был создан в том же столетии, в котором произошёл обозначенный на марке поход? В ответе запишите цифру, которой обозначен этот памятник архитектуры. Укажите архитектурный стиль, в котором данный памятник выстроен.



Рис. 1



Рис. 2




Рис. 3



Рис. 4

Рассмотрите изображение и выполните задание.



9. Какой из представленных ниже памятников архитектуры существовал на момент битвы, которой посвящена данная марка? В ответе запишите цифру, которой обозначен этот памятник архитектуры. Укажите город, в котором находится данный памятник архитектуры.



Рис. 1



Рис. 2



Рис. 3



Рис. 4

Рассмотрите изображение и выполните задание.



10. Какой из представленных ниже памятников архитектуры был сооружён позже события, которому посвящена монета? В ответе запишите цифру, которой обозначен этот памятник архитектуры. Укажите московского князя, при котором было закончено строительство этого памятника архитектуры.




Рис. 1




Рис. 2




Рис. 3




Рис. 4

Рассмотрите изображение и выполните задание.



11. Какой из представленных ниже памятников архитектуры был воздвигнут в том же столетии, когда произошло путешествие, которому посвящена марка? В ответе запишите цифру, которой обозначен этот памятник архитектуры. Назовите государя, при котором был построен данный памятник архитектуры.



Рис. 1



Рис. 2



Рис. 3



Рис. 4

Рассмотрите изображение и выполните задание.



12. Какой из представленных ниже скульптурных памятников был воздвигнут в том же десятилетии, в котором была выпущена данная памятная медаль? В ответе запишите цифру, которой обозначен этот памятник. Укажите его автора.



Рис. 1



Рис. 2



Рис. 3



Рис. 4

**Рассмотрите изображение и выполните задание.**



**13.** Какое из произведений живописи посвящено событию, произошедшему в том же десятилетии, когда был основан город, юбилею которого посвящена марка? В ответе запишите цифру, которой обозначено это произведение живописи. Укажите художника, создавшего данное произведение живописи.



Рис. 1



Рис. 2



Рис. 3



Рис. 4

Рассмотрите изображение и выполните задание.



14. Какой памятник архитектуры был создан в том же столетии, в котором совершено путешествие, юбилею которого посвящена марка? В ответе запишите цифру, которой обозначен этот памятник архитектуры. Укажите название данного памятника архитектуры.




1)



2)



3)



4)


Рассмотрите изображение и выполните задание.



15. Какой памятник культуры был создан в течение полувека после события, юбилею которого посвящена марка? В ответе запишите цифру, которой обозначен этот памятник культуры. Укажите автора данного памятника культуры.



1)



2)



3)



4)

Рассмотрите изображение и выполните задания 15, 16.



16. Какое художественное произведение было создано после события, юбилею которого посвящена марка? В ответе запишите цифру, которой обозначено это произведение. Укажите его автора.



1)



2)



3)




4)

Рассмотрите изображение и выполните задание.



17. Какой памятник архитектуры был воздвигнут в течение ста лет после события, которому посвящена данная медаль? В ответе запишите цифру, которой обозначен этот памятник архитектуры. Укажите город, в котором он построен.



1)



2)



3)



4)

Рассмотрите изображение и выполните задание.



18. Какой памятник архитектуры был воздвигнут до события, юбилею которого посвящена медаль? В ответе запишите цифру, которой обозначен этот памятник архитектуры. Укажите город, в котором этот памятник архитектуры находится.



1)



2)



3)



4)


Рассмотрите изображение и выполните задания 15, 16.




19. Какой из представленных ниже памятников архитектуры существовал на момент события, юбилею которого посвящена монета? В ответе запишите цифру, которой обозначен данный памятник архитектуры. Укажите город, в котором находится этот памятник.



1)



2)



3)



4)

Рассмотрите изображение и выполните задания 15, 16.



20. Какой из представленных ниже памятников архитектуры существовал на момент события, юбилею которого посвящена монета? В ответе запишите цифру, которой обозначен этот памятник архитектуры. Назовите князя, по распоряжению которого был создан данный памятник архитектуры.




1)



2)



3)



4)

Рассмотрите изображение и выполните задания 15, 16.




21. Какой из представленных ниже памятников архитектуры был создан в том же веке, когда был основан город, юбилею которого посвящена марка? В ответе запишите цифру, которой обозначен этот памятник архитектуры. Назовите город, где находится данный памятник архитектуры.



1



2



3



4




РЕШУЕГЭ.РФ

22. Какой памятник архитектуры был создан в том же веке, когда произошло событие, которому посвящена памятная медаль? В ответе запишите цифру, которой обозначен этот памятник архитектуры. Укажите стиль, в котором выстроен данный памятник архитектуры.


1)




2)



3)



4)




Рассмотрите изображение и выполните задания 15, 16.




23. Какой из представленных ниже памятников архитектуры был создан до событий, юбилею которых посвящён почтовый блок? В ответе запишите цифру, которой обозначен этот памятник архитектуры. Укажите московского государя, в правление которого был воздвигнут данный памятник архитектуры.

1)




2)



3)



4)




Рассмотрите изображение и выполните задания 15, 16.




24. Создание какого из приведённых ниже памятников архитектуры приходится на царствование государя, правившего в период основания города, юбилею которого посвящена марка? В ответе запишите цифру, которой обозначен этот памятник архитектуры. Укажите архитектурный стиль, в котором он выстроен.


1)



2)



3)



4)



Рассмотрите изображение и выполните задания 15, 16.



25. Какой из представленных ниже памятников архитектуры был уже создан к моменту, когда произошло событие, юбилею которого посвящена данная марка? В ответе запишите цифру, которой обозначен этот памятник архитектуры. Назовите город, где находится данный памятник архитектуры.

1)



2)



3)



4)



Рассмотрите изображение и выполните задания 15, 16.



26. Какой из представленных памятников архитектуры был возведён после событий, отображённых на медали? В ответе запишите цифру, которой обозначен этот памятник. Укажите название города, где находится этот памятник архитектуры.



1)



2)



3)



4)

Рассмотрите изображение и выполните задания 15, 16.



27. Какой из памятников архитектуры был создан в том же столетии, в котором был основан город, юбилею которого посвящена марка? В ответе запишите цифру, которой обозначен этот памятник архитектуры. В честь какого исторического события сооружён данный памятник архитектуры?



1)



2)



3)



4)

Рассмотрите изображение и выполните задания 15, 16.



28. Начало создания какого из памятников архитектуры относится к периоду того же царствования, что и основание города, юбилею которого посвящена марка? В ответе запишите цифру, которой обозначен этот памятник архитектуры. Назовите исторического деятеля, возглавлявшего Русскую православную церковь и бывшего инициатором строительства данного памятника архитектуры.



1)



2)



3)




4)

Рассмотрите изображение и выполните задания 15, 16.



29. Какой из представленных памятников архитектуры был построен в то же царствование, в которое был основан город, чьему юбилею посвящена марка? В ответе запишите цифру, которой обозначен этот памятник архитектуры. Укажите архитектора, по проекту которого был возведён данный памятник архитектуры.



1)



2)



3)



4)

Рассмотрите изображение и выполните задания 15, 16.



30. Какой из представленных памятников архитектуры был построен в том же столетии, когда был основан город, юбилею которого посвящена марка? В ответе запишите цифру, которой обозначен этот памятник архитектуры. Назовите архитектурный стиль, в котором выстроен данный памятник архитектуры.



1)



2)



3)



4)

Рассмотрите изображение и выполните задания 15, 16.



31. Какой из фильмов, афиши которых представлены ниже, вышел в свет в том же десятилетии, в котором была выпущена данная этикетка? В ответе запишите цифру, которой обозначена эта афиша. Укажите фамилию кинорежиссера, снявшего данный фильм.



1)



2)



3)



4)

Рассмотрите изображение и выполните задания 15, 16.



32. Какой из монументов был возведен в той же половине века, в которой был выпущен календарь, листок из которого приведён выше? В ответе запишите цифру, которой обозначен этот монумент. Укажите скульптора — его автора.



1)



2)



3)



4)

Рассмотрите изображение и выполните задания 15, 16.



33. Какой из монументов был возведён позже выпуска календаря, листок из которого приведён выше? В ответе запишите цифру, которой обозначен этот монумент. Укажите скульптора — его автора.



1)



2)



3)



4)

Рассмотрите изображение и выполните задания 15, 16.



34. Какой из представленных ниже скульптурных памятников был создан в той же половине века, когда произошло событие, юбилею которого посвящена данная памятная медаль? В ответе запишите цифру, которой обозначен этот скульптурный памятник. Укажите скульптора, создавшего данный скульптурный памятник.



1)



2)



3)



4)