

Рассмотрите изображение и выполните задание.



1. Какой из представленных ниже памятников архитектуры был создан в период жизни исторического деятеля, изображённого на марке? В ответе запишите цифру, которой обозначен этот памятник архитектуры. Укажите архитектора, по проекту которого создан данный памятник архитектуры.



1)



2)



3)



4)

Рассмотрите изображение и выполните задание.



2. Какой из представленных ниже памятников архитектуры был создан в период жизни исторического деятеля, изображённого на марке? В ответе запишите цифру, которой обозначен этот памятник архитектуры. Назовите архитектора, по проекту которого создан данный памятник архитектуры.



Рис. 1



Рис. 2



Рис. 3



Рис. 4

Рассмотрите изображение и выполните задание.



3. Какой из плакатов посвящен событию, которое произошло в то же десятилетие, когда была выпущена данная марка? В ответе запишите цифру, которой обозначен этот плакат. Кто возглавлял СССР в период события, которому посвящен данный плакат?



Рис. 1



Рис. 2



Рис. 3



Рис. 4

Рассмотрите изображение и выполните задание.



4. Какой из памятников был создан в то же десятилетие, когда завершилось событие (процесс), которому посвящена марка? В ответе запишите цифру, которой обозначен этот памятник. Назовите, кто возглавлял СССР в данный период.



Рис. 1



Рис. 2



Рис. 3



Рис. 4

Рассмотрите изображение и выполните задание.



5. Какой из приведённых ниже плакатов был посвящен событию, которое произошло через год после публикации первого плаката? В ответе запишите цифру, которой обозначен этот плакат. Назовите, кто возглавлял СССР в период выхода данного плаката.



Рис. 1



Рис. 2



Рис. 3



Рис. 4

Рассмотрите изображение и выполните задание.



6. Кто, из приведенных ниже деятелей культуры умер в один год с проведением события, для которого создавались данные символы? Назовите государственного деятеля, который возглавлял СССР в период проведения события, для которого создавались данные символы.



Рис. 1



Рис. 2



Рис. 3



Рис. 4

Рассмотрите изображение и выполните задание.



7. Какой из приведенных культурных объектов был возведен в то же десятилетие, когда был заключен договор, выпадающий из рук одного из исторических деятелей на карикатуре? Назовите автора данного культурного объекта.



Рис. 1



Рис. 2



Рис. 3



Рис. 4

Рассмотрите изображение и выполните задание.



8. Какой из приведенных культурных объектов был открыт в том же году, когда произошло событие, которому посвящена марка? В ответе запишите цифру, которой обозначен этот памятник культуры. Назовите политического деятеля, который руководил СССР в период события, которому посвящена, указанная вами марка.



Рис. 1



Рис. 2



Рис. 3



Рис. 4

Рассмотрите изображение и выполните задание.



9. Какой из приведенных культурных объектов был посвящен полководцу войны, к которой относится сражение, изображенное на картине? В ответе запишите цифру, которой обозначен этот памятник культуры. Назовите политического деятеля, который руководил СССР в период события, которому посвящена картина.



Рис. 1



Рис. 2



Рис. 3



Рис. 4

Рассмотрите изображение и выполните задание.



10. Какой из приведенных культурных объектов был построен в том же десятилетии, когда произошло событие, которому посвящена карикатура? В ответе запишите цифру, которой обозначен этот памятник культуры. Назовите политического деятеля, который руководил СССР в период события, которому посвящена карикатура.



Рис. 1



Рис. 2



Рис. 3



Рис. 4

Рассмотрите изображение и выполните задание.



11. Какой из представленных ниже памятников архитектуры был создан в том же десятилетии, в котором была выпущена марка? В ответе запишите цифру, которой обозначен этот памятник архитектуры. Укажите название архитектурного стиля, в котором он выстроен.



Рис. 1



Рис. 2



Рис. 3



Рис. 4

Рассмотрите изображение и выполните задание.



12. Создание какого из представленных скульптурных памятников завершилось в период, когда Генеральным секретарём был тот же политический деятель, что и в период, когда был выпущен данный календарь? В ответе запишите цифру, которой обозначен этот скульптурный памятник. Укажите современное название города, где установлен данный скульптурный памятник.



Рис. 1



Рис. 2



Рис. 3



Рис. 4

Рассмотрите изображение и выполните задание.



13. Какой из представленных ниже памятников архитектуры был создан в период жизни исторического деятеля, изображённого на марке? В ответе запишите цифру, которой обозначен этот памятник архитектуры. Укажите город, в котором находится данный памятник архитектуры.



Рис. 1



Рис. 2




Рис. 3



Рис. 4

Рассмотрите изображение и выполните задание.



14. Какой из представленных ниже скульптурных памятников ещё не был создан в период, когда произошло событие, которому посвящена данная марка? В ответе запишите цифру, которой обозначен этот памятник скульптуры. Назовите исторического деятеля, которому посвящён этот скульптурный памятник.



Рис. 1



Рис. 2



Рис. 3




Рис. 4

Рассмотрите изображение и выполните задание.



15. Какой из представленных ниже памятников архитектуры был создан в том же веке, когда была выпущена данная марка? В ответе запишите цифру, которой обозначен этот памятник архитектуры. Назовите стиль (направление) в архитектуре, в котором построено это здание.




1)



2)





3) 4)

Рассмотрите изображение и выполните задание.



16. Какое произведение живописи было создано в том же десятилетии, к которому относится данный плакат? В ответе запишите цифру, которой обозначено это произведение живописи. Укажите художника, создавшего это произведение.



Рис. 1



Рис. 2



Рис. 3



Рис. 4

Рассмотрите изображение и выполните задание.



17. Какой из памятников архитектуры был создан после событий, которым посвящён плакат? В ответе запишите цифру, которой обозначен этот памятник архитектуры. Укажите архитектурный стиль, в котором создан данный памятник.



Рис. 1



Рис. 2



Рис. 3



Рис. 4

Рассмотрите изображения и выполните задания 14, 15.



18. Какое из представленных произведений живописи было создано в период правления одного из государей, изображённых на лицевой стороне монеты? В ответе запишите цифру, которой обозначено это произведение. Укажите автора этого произведения.



Рис. 1




Рис. 2



Рис. 3



Рис. 4

Рассмотрите изображение и выполните задание.



19. Какой памятник архитектуры был создан в то же десятилетие, к которому относится выпуск данного лотерейного билета? В ответе запишите цифру, которой обозначен этот памятник архитектуры. Укажите архитектора — автора проекта данного памятника архитектуры.



Рис. 1




Рис. 2



Рис. 3



Рис. 4

Рассмотрите изображение и выполните задание.



20. Какой из представленных ниже памятников архитектуры который находится в том же городе, что на изображённой марке? Укажите фамилию архитектора.



1)



2)



3)



4)

Рассмотрите изображение и выполните задание.



21. Укажите цифру, которой обозначен деятель культуры, живший в то десятилетие, когда был запущен спутник из предыдущего задания?

Запишите цифру, которой обозначен данный деятель культуры, и назовите одно любое его произведение.



1)



2)



3)



4)

Рассмотрите изображение и выполните задание.



22. Укажите архитектурное сооружение, которое закончило строиться в десятилетие, когда была выпущена марка из предыдущего задания. Укажите, какой орган государственной власти размещен в нем, начиная с 1994 года. В ответ запишите цифру и название органа государственной власти.



1)



2)



3)



4)

Рассмотрите изображение и выполните задание.



23. Какой из представленных ниже памятников архитектуры был создан в том же веке, когда произошло событие, которому посвящена данная медаль? В ответе запишите цифру, которой обозначен этот памятник архитектуры. Укажите название города, где находится этот памятник архитектуры.



1



2



3



4

Рассмотрите изображение и выполните задание.



24. Какое из приведённых произведений скульптуры было создано в период между основанием города, юбилею которого посвящена марка, и годом её выпуска? В ответе запишите цифру, которой обозначена эта скульптура. Укажите автора данной скульптуры.



1)



2)



3)



4)

Рассмотрите изображение и выполните задания 15, 16.



25. Напишите фамилию высшего руководителя коммунистической партии и фактического руководителя СССР в год издания данной марки. Используя изображение, приведите одно любое обоснование Вашего ответа.

26. Какое из произведений живописи было создано после основания театра, которому посвящена марка? В ответе запишите цифру, которой обозначено произведение живописи. Укажите фамилию художника — автора данного произведения живописи.

- 1) 2)



- 3) 4)



Рассмотрите изображение и выполните задания 15, 16.



27. Какое произведение живописи было создано в том же веке, в котором произошло событие, годовщине которого посвящена данная марка? В ответе запишите цифру, которой обозначено это произведение живописи. Укажите фамилию художника — автора данного произведения живописи.

1)



2)



3)



4)



Рассмотрите изображение и выполните задания 15, 16.



28. Какой из памятников был создан в той же половине века, в которой была выпущена данная марка? В ответе запишите цифру, которой обозначен этот памятник. Укажите фамилию скульптора — автора проекта.

1)



2)



3)



4)





3)



4)