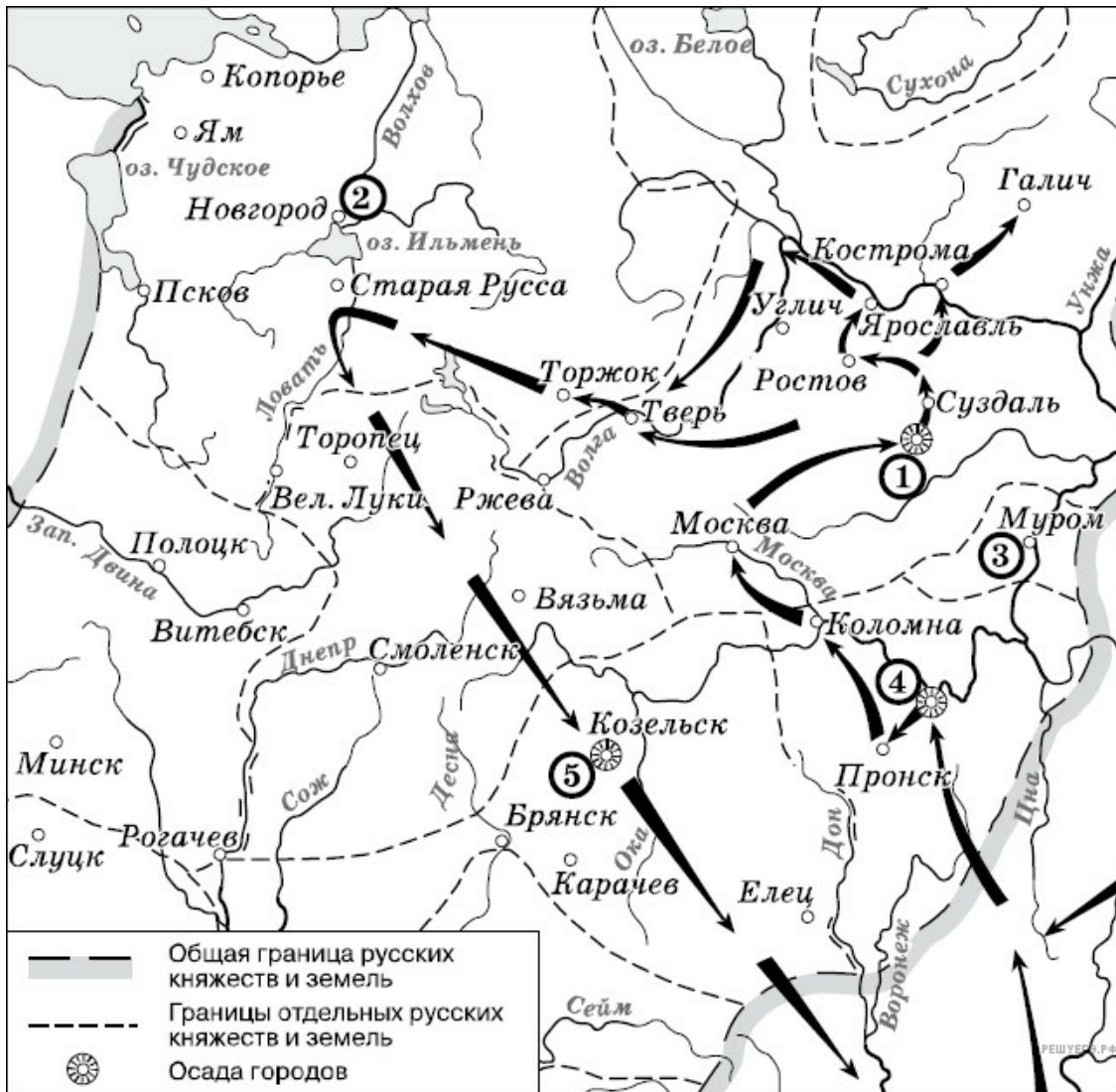


Рассмотрите схему и выполните задание.



1. Рассмотрите схему и выполните задание
Напишите название города, обозначенного на схеме цифрой 1.

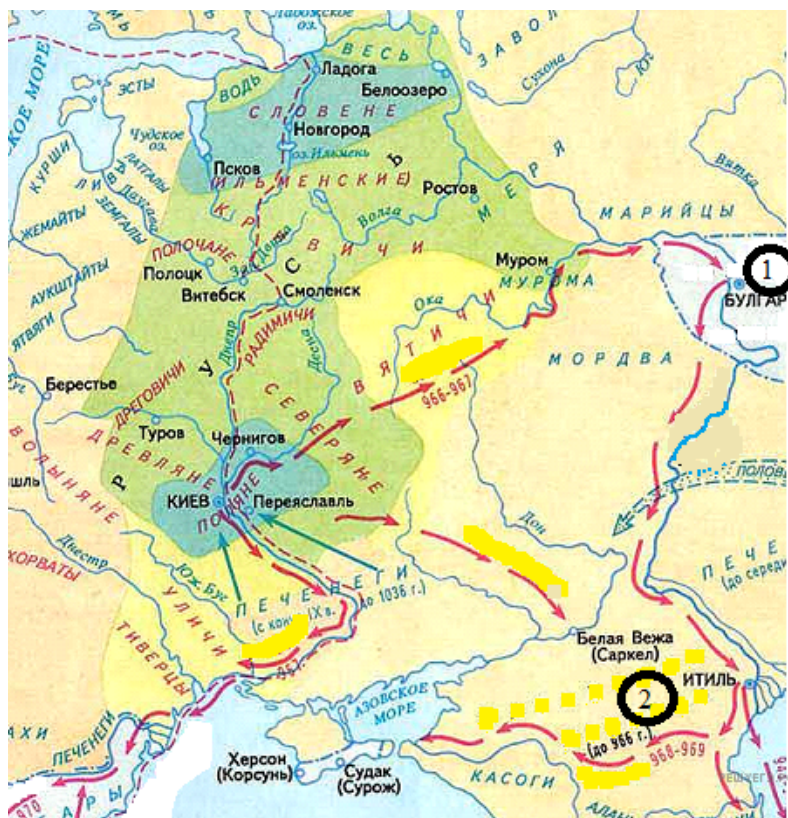
Рассмотрите схему и выполните задание.



2. Рассмотрите схему и выполните задание.

Напишите название древнего речного пути, обозначенного на схеме цифрой 2.

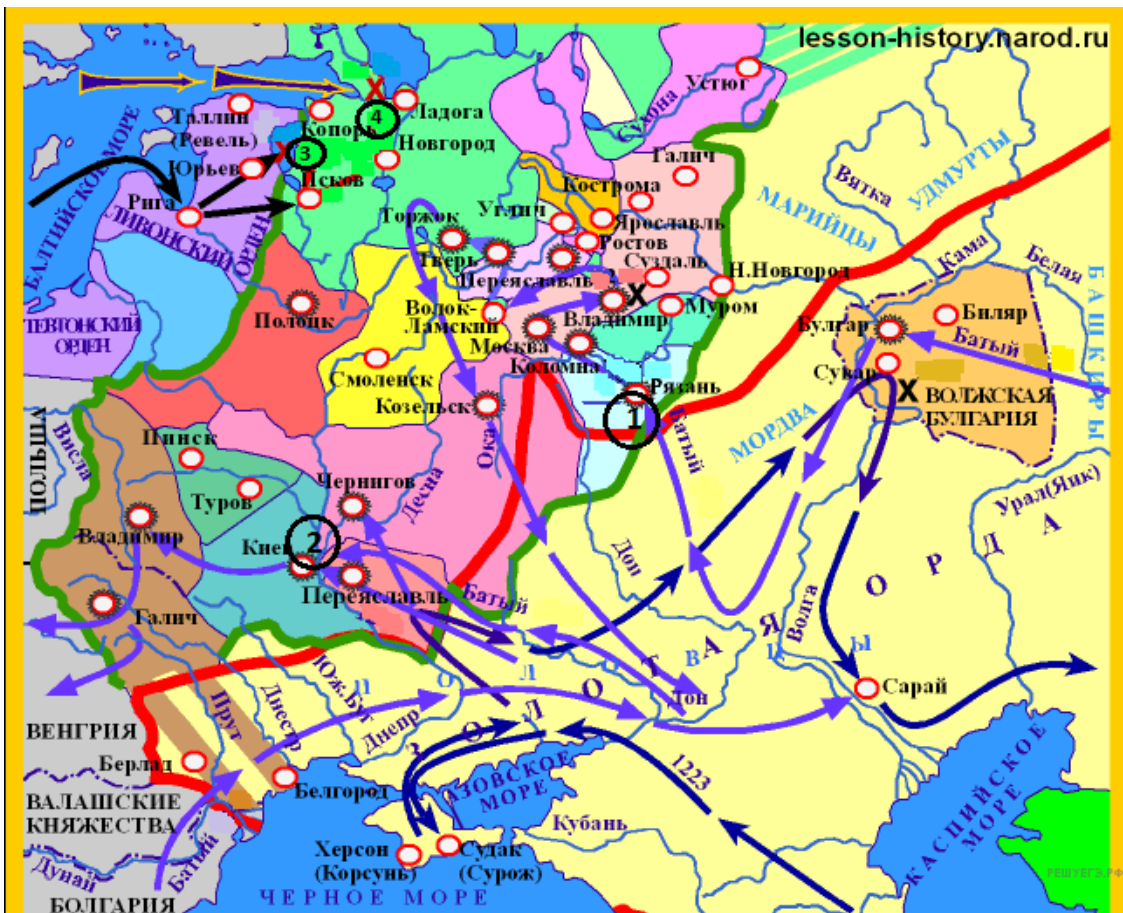
Рассмотрите схему и выполните задание.



3. Рассмотрите схему и выполните задание.

Напишите название государства, обозначенного на схеме цифрой 1.

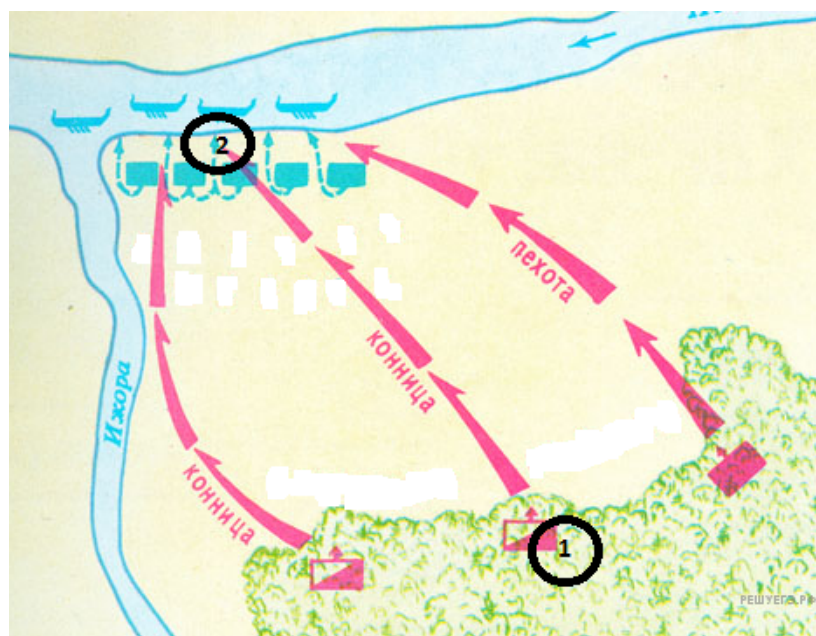
Рассмотрите схему и выполните задание.



4. Рассмотрите схему и выполните задание.

Напишите цифру, которой обозначен город, который в XIII в. героически оборонял от захватчиков воевода боярин Дмитр (Дмитрий).

Рассмотрите схему и выполните задание.



5. Рассмотрите схему и выполните задание.

Укажите полководца, который командовал войском, отмеченном на схеме цифрой 1.

Рассмотрите схему и выполните задание.



6. Рассмотрите схему и выполните задание.

Напишите название реки, обозначенной на схеме цифрой 1?

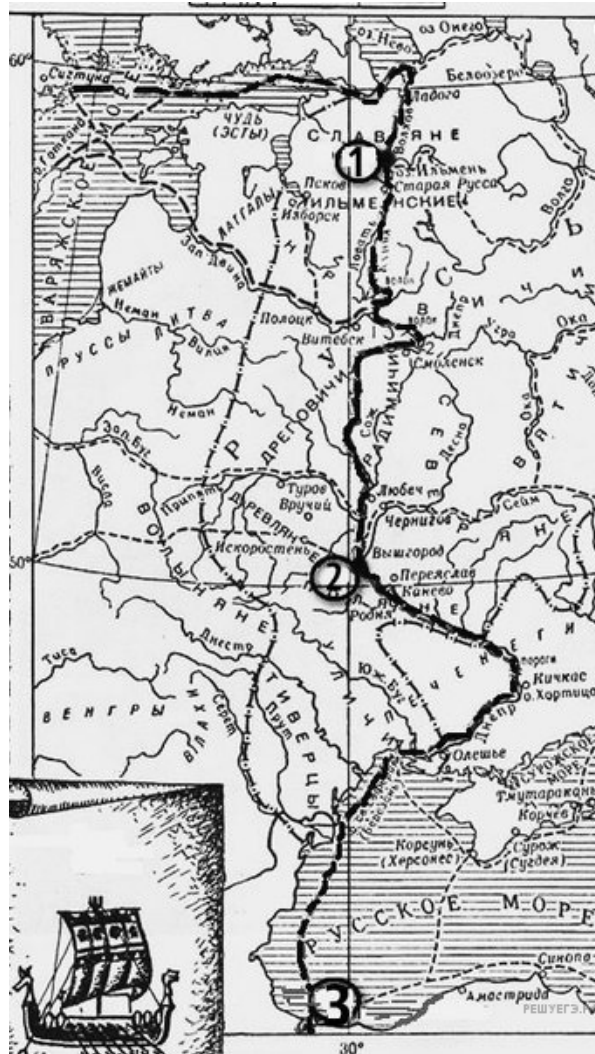
Рассмотрите схему и выполните задание.



7. Рассмотрите схему и выполните задание.

Напишите название города, обозначенного на схеме цифрой 3, в который был совершён карательный поход правительственных войск, сопровождавшийся массовыми убийствами.

Рассмотрите схему и выполните задание.



8. Рассмотрите схему и выполните задание.

Напиши имя князя, который установил контроль над этим торговым путем.

Рассмотрите схему и выполните задание.



9. Рассмотрите схему и выполните задание.

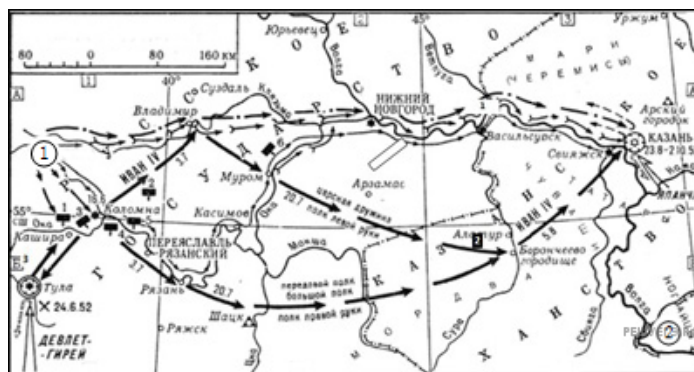
Напишите название города, обозначенного на схеме цифрой 1.

10. Рассмотрите схему и выполните задание.



Напишите название города, в который был совершён карательный поход правительственных войск, сопровождавшийся массовыми убийствами.

Рассмотрите схему и выполните задание.



11. Рассмотрите схему и выполните задание.

Напишите название города, обозначенного на схеме цифрой 1.

Рассмотрите схему и выполните задание.



12. Рассмотрите схему и выполните задания.

Напишите название города, обозначенного на схеме цифрой 1.

Рассмотрите схему и выполните задание.



13. Рассмотрите схему и выполните задания.

Напишите название города, обозначенного на карте цифрой 3.

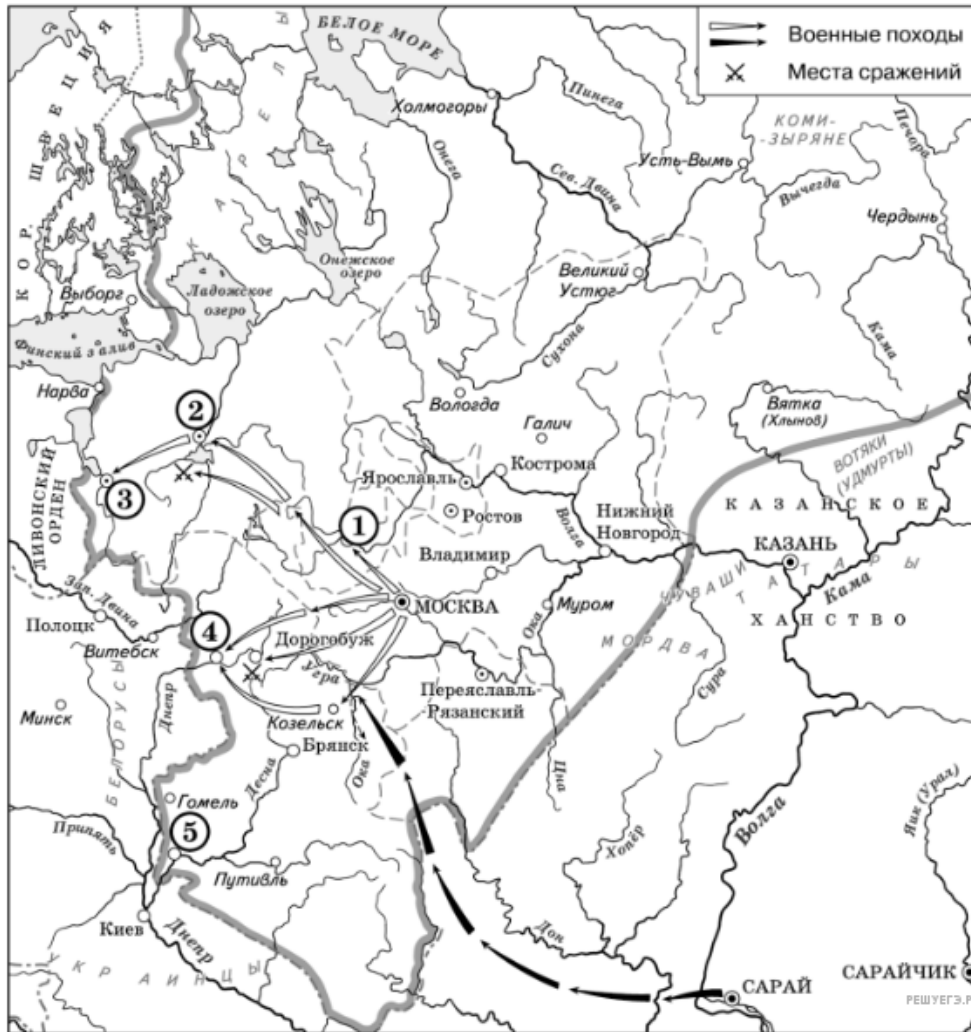
Рассмотрите схему и выполните задание.



14. Рассмотрите схему и выполните задания.

Напишите название племён, совершивших походы, обозначенные на карте.

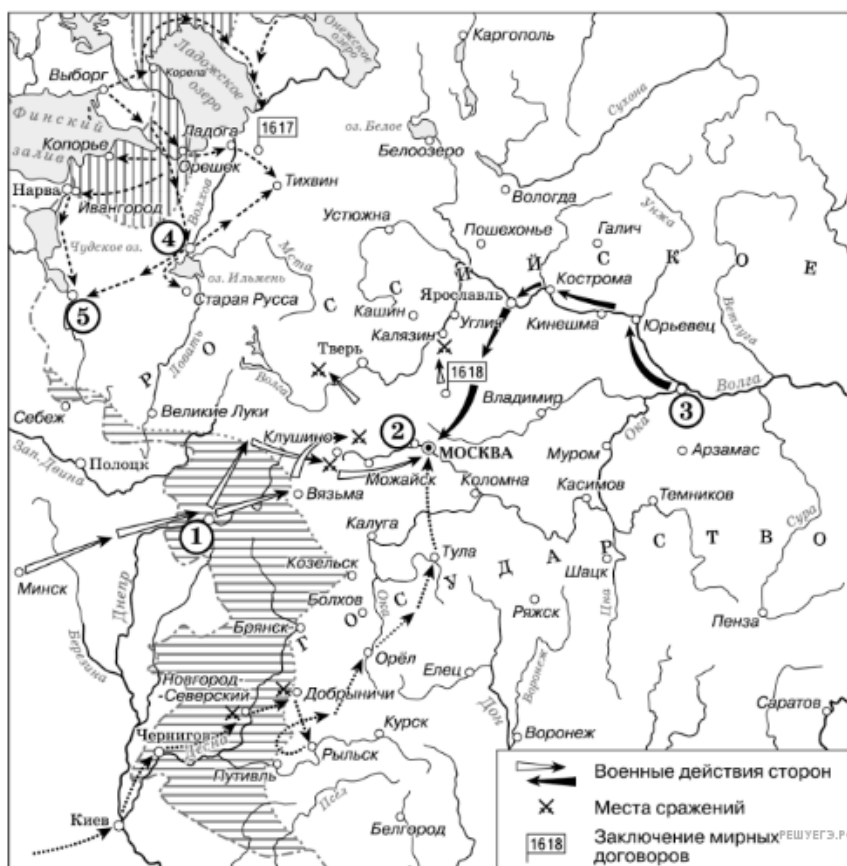
Рассмотрите схему и выполните задание.



15. Рассмотрите схему и выполните задания.

Укажите век, когда в состав единого Русского государства вошли города, обозначенные на схеме цифрами 3, 4 и 5 (ответ напишите словом).

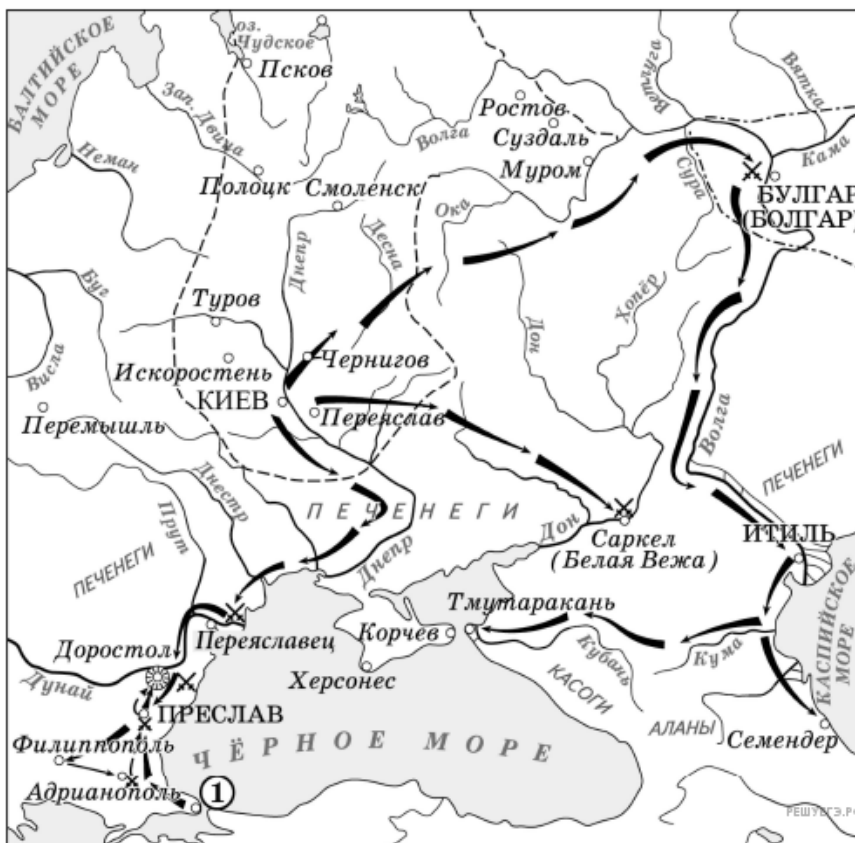
Рассмотрите схему и выполните задание.



16. Рассмотрите схему и выполните задания

Назовите русского царя, в правление которого разразился страшный голод, ставший одной из причин событий, изображённых на схеме.

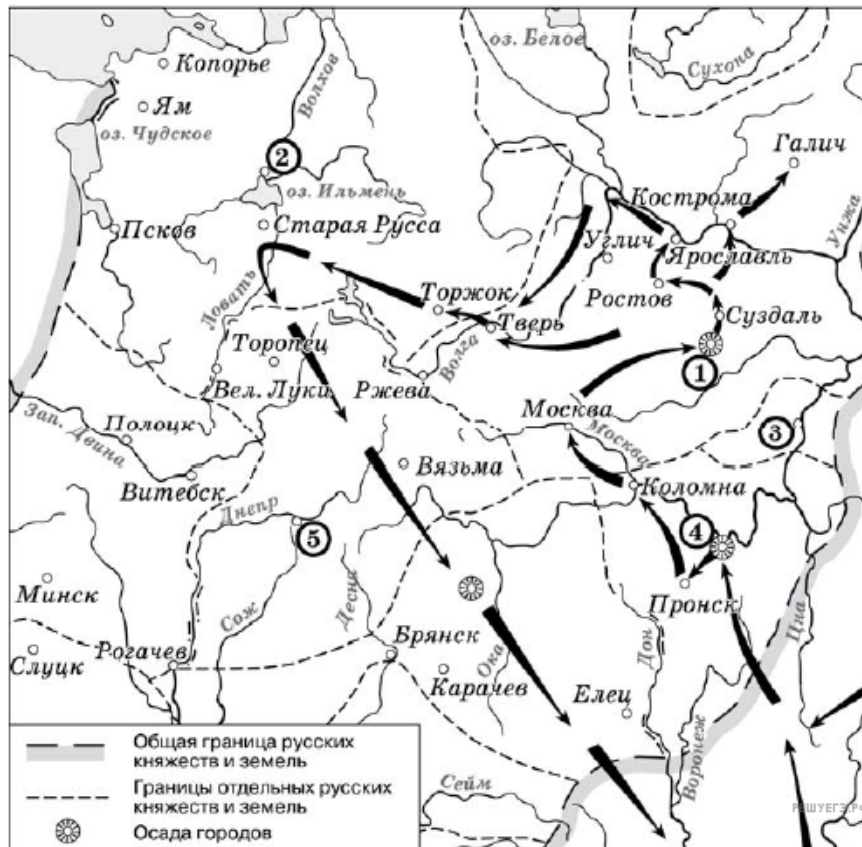
Рассмотрите схему и выполните задание.



17. Рассмотрите схему и выполните задание.

Назовите князя, совершившего походы, обозначенные на схеме стрелками.

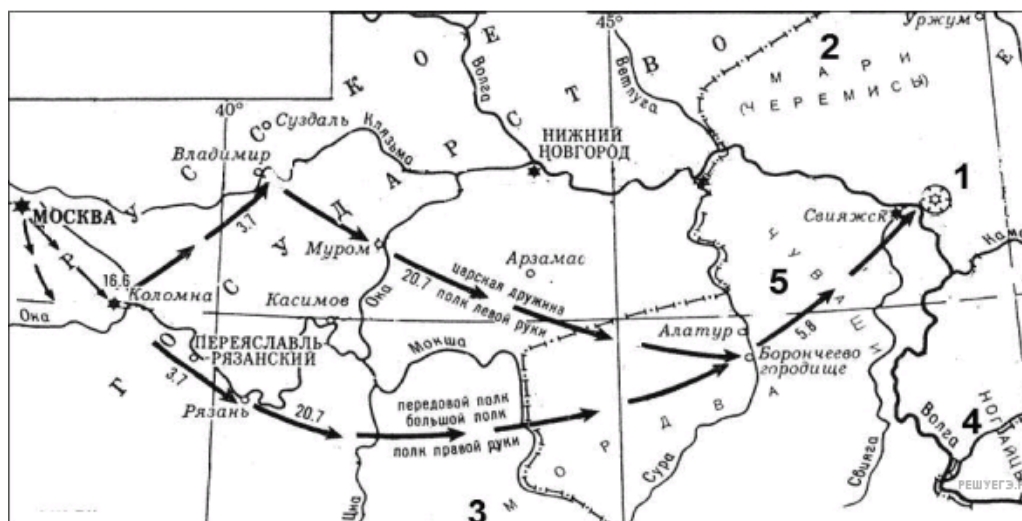
Рассмотрите схему и выполните задание.



18. Рассмотрите схему и выполните задание

Напишите название города, обозначенного на схеме цифрой 1.

Рассмотрите схему и выполните задание.



19. Рассмотрите схему и выполните задание.

Напишите название города, обозначенного на схеме цифрой 1.

Рассмотрите схему и выполните задание.



20. Рассмотрите схему и выполните задание.

Заполните пропуск в предложении: «Одна из крупнейших ярмарок России в XVII–XVIII вв. — _____ — обозначена на схеме цифрой 4».

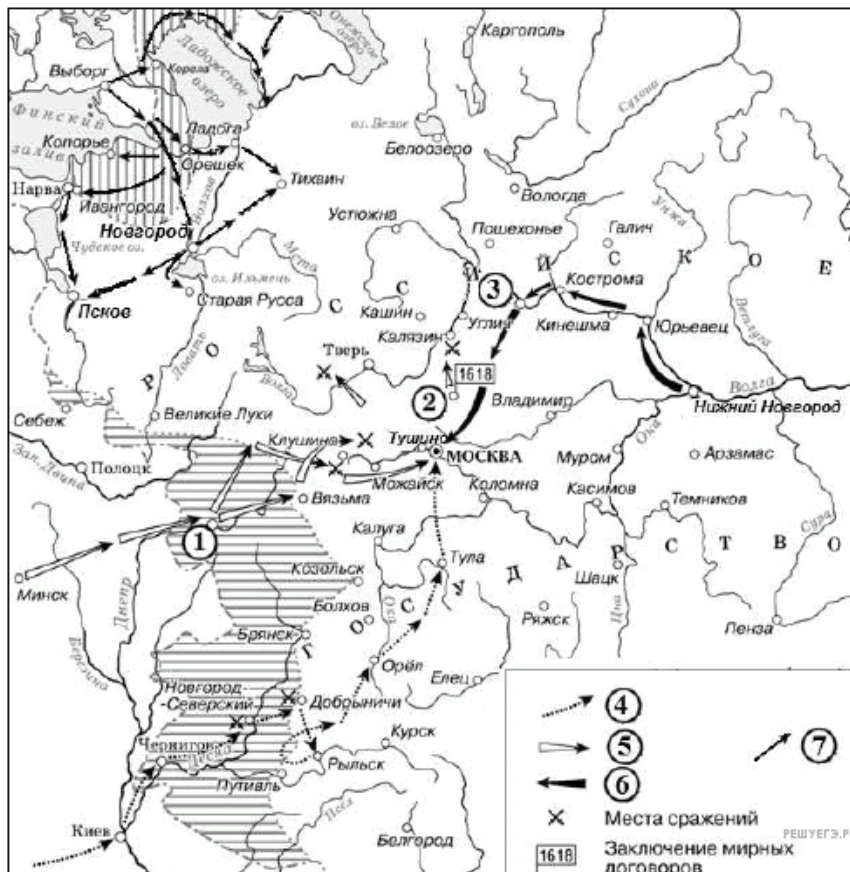
Рассмотрите схему и выполните задание.



21. Рассмотрите схему и выполните задание.

Напишите имя князя, погибшего в месте, обозначенном на схеме цифрой 3.

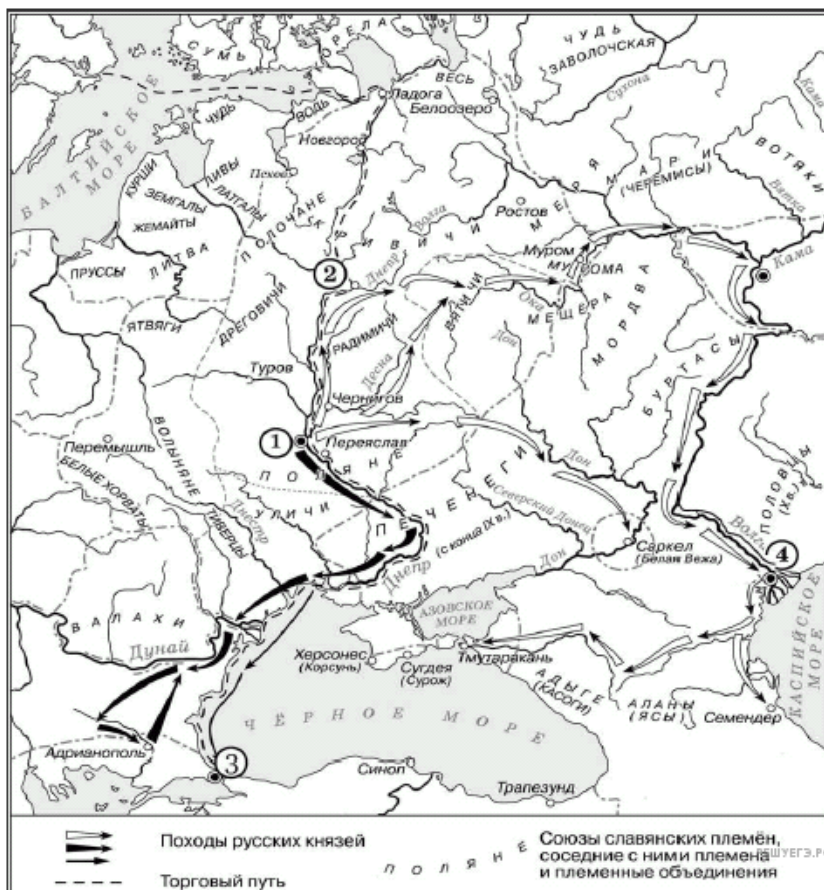
Рассмотрите схему и выполните задание.



22. Рассмотрите схему и выполните задание.

Укажите название города, обозначенного на схеме цифрой 3.

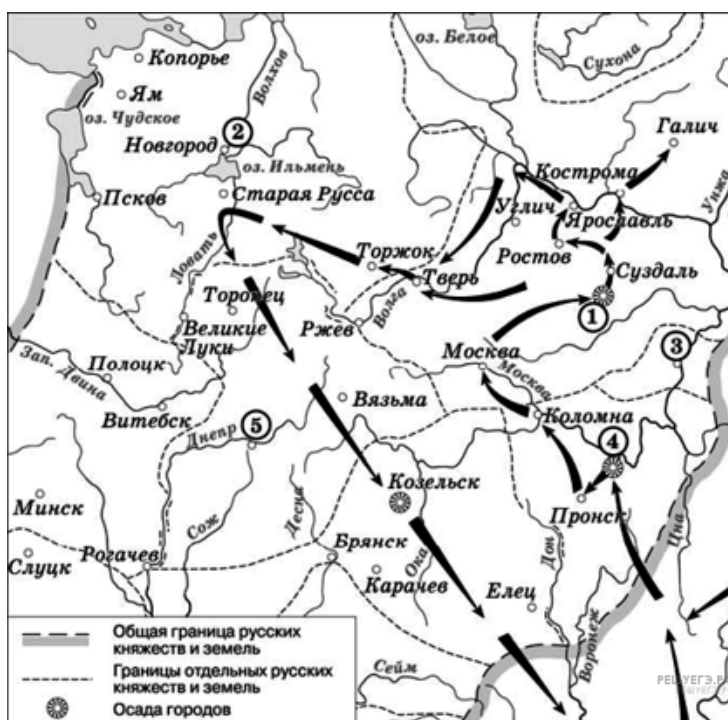
Рассмотрите схему и выполните задание.



23. Рассмотрите схему и выполните задание.

Напишите название города, обозначенного на схеме цифрой 1.

Рассмотрите схему и выполните задание.



24. Рассмотрите схему и выполните задание.

Напишите название города, обозначенного на схеме цифрой 1.

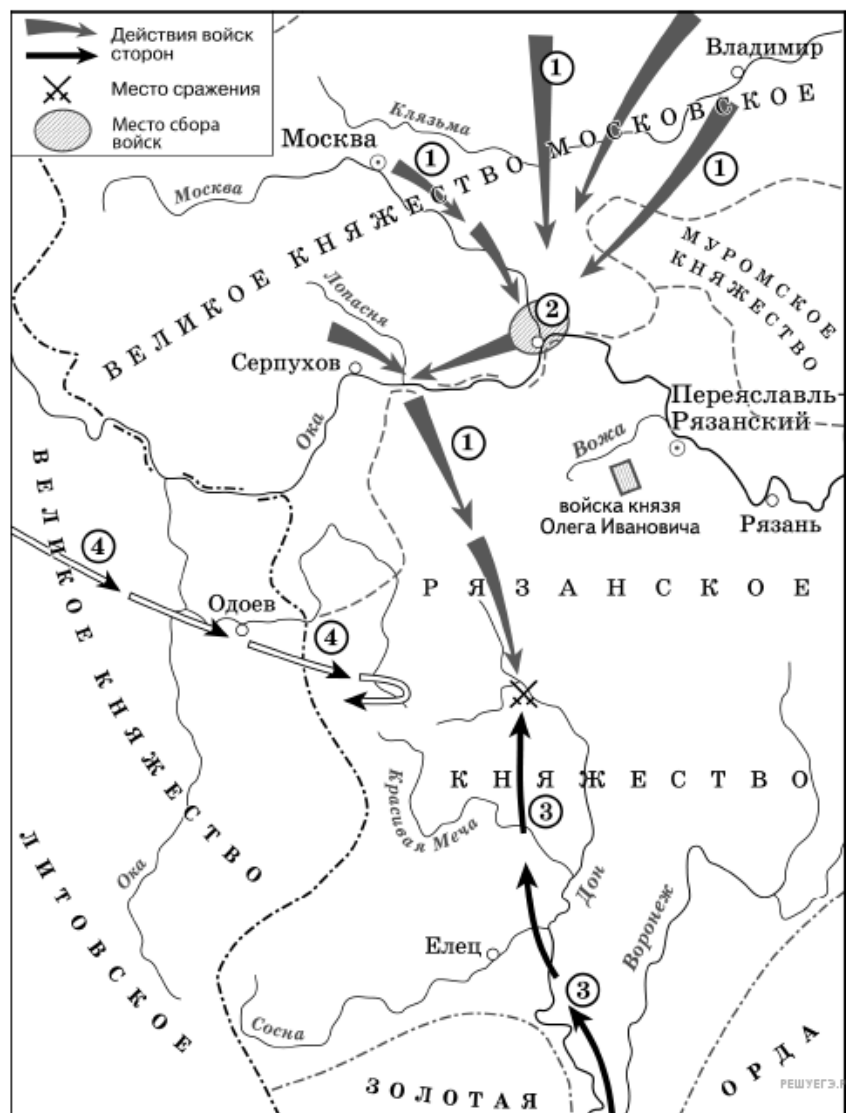
Рассмотрите схему и выполните задание.



25. Рассмотрите схему и выполните задание.

Напишите название города, который обозначен на схеме цифрой 3.

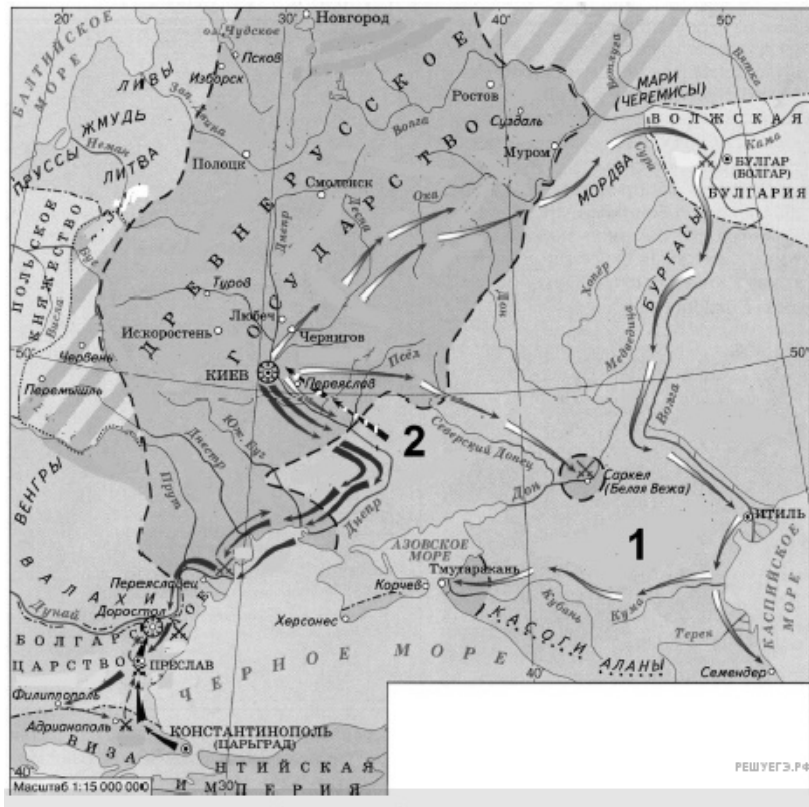
Рассмотрите схему и выполните задание.



26. Рассмотрите схему и выполните задание.

Укажите название города, обозначенного на схеме цифрой 2.

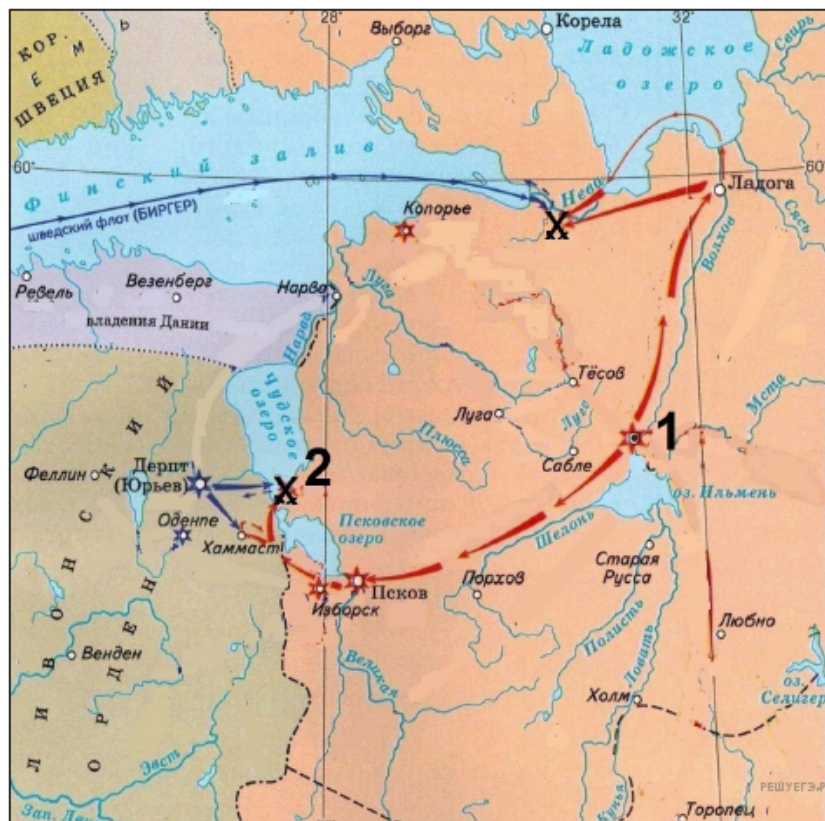
Рассмотрите схему и выполните задание.



27. Рассмотрите схему и выполните задание.

Напишите название государства, обозначенного на схеме под цифрой 1.

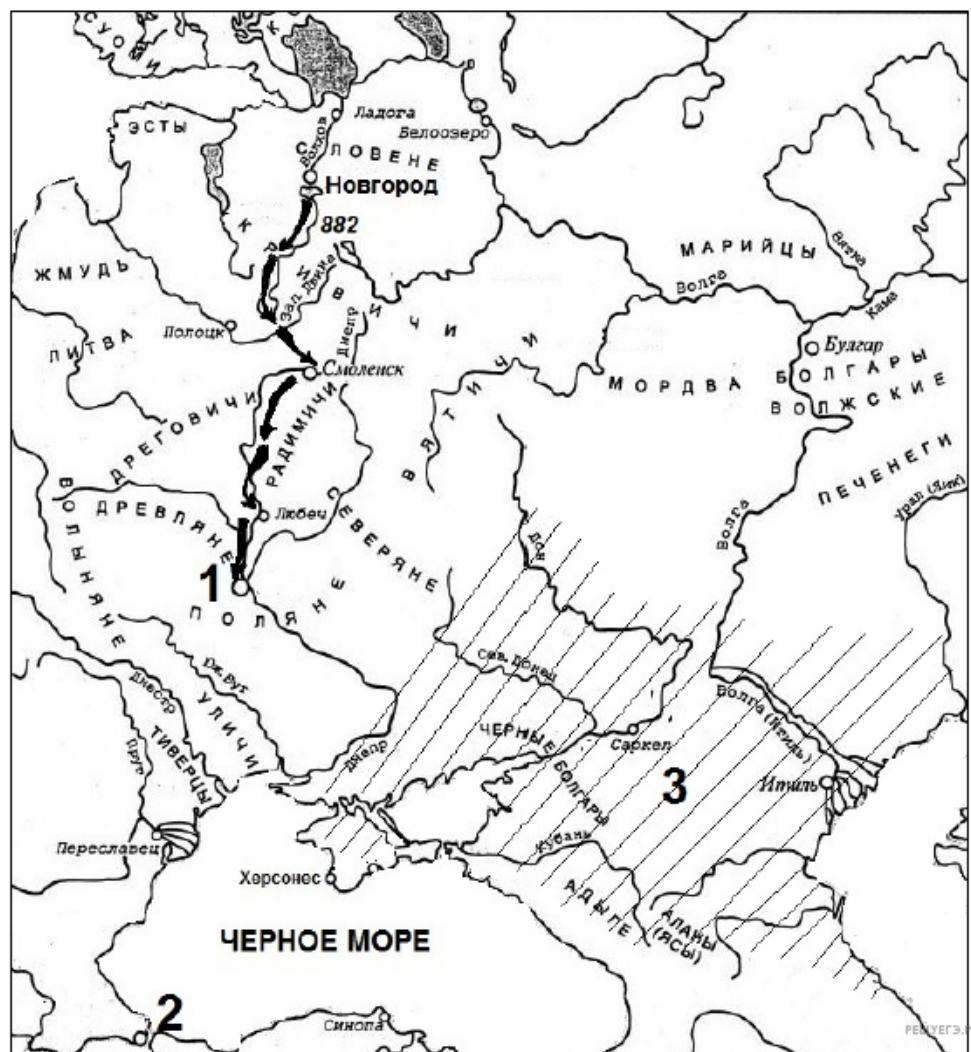
Рассмотрите схему и выполните задание.



28. Рассмотрите схему и выполните задание.

Напишите имя и прозвище древнерусского князя, руководившего войсками в битвах, изображенных на схеме.

Рассмотрите схему и выполните задание.



29. Рассмотрите схему и выполните задание.

Напишите название города, обозначенного на схеме под цифрой 1.

Рассмотрите схему и выполните задание.



30. Рассмотрите схему и выполните задание.

Укажите название города, обозначенного на схеме цифрой 3.

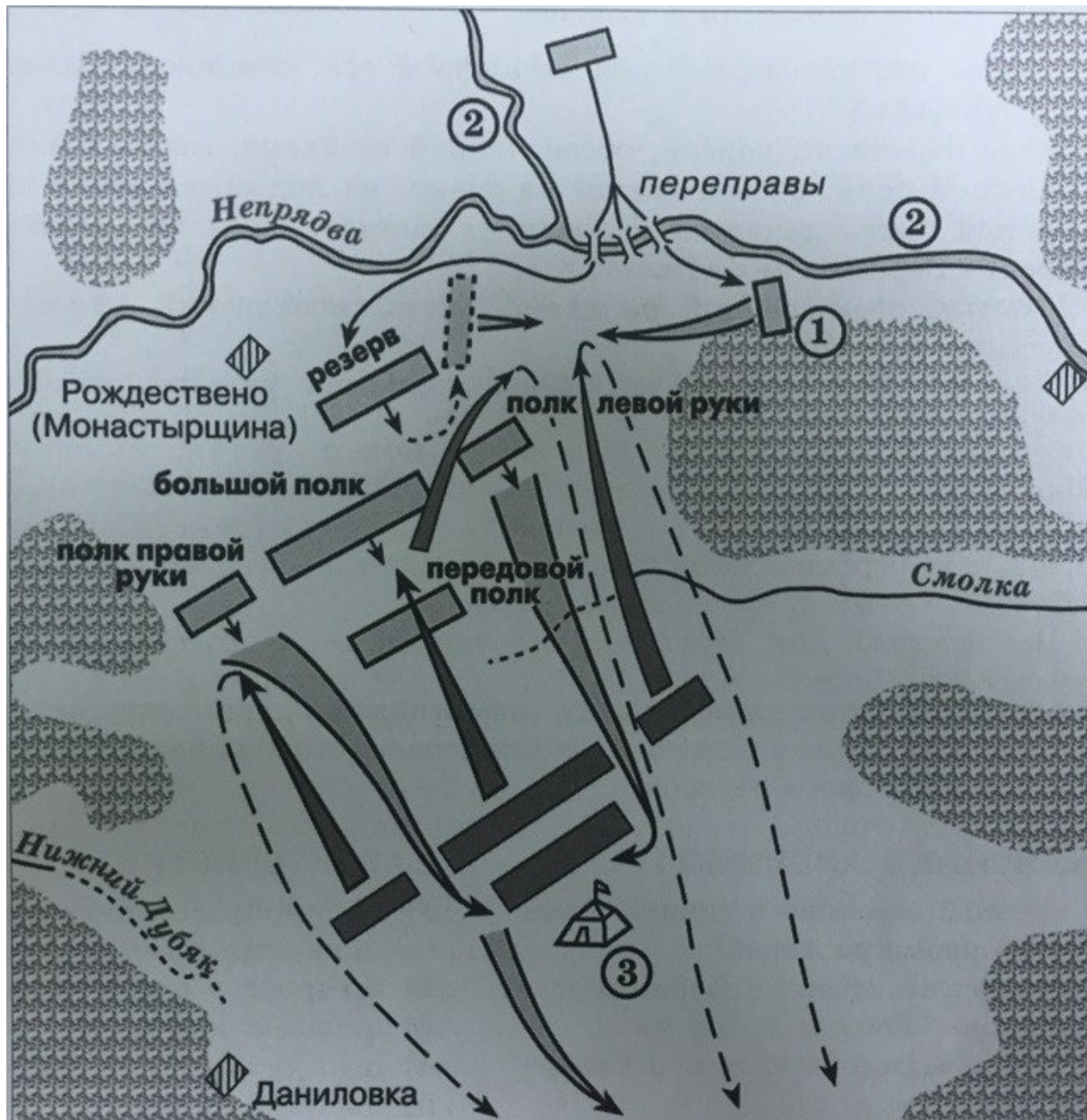
Рассмотрите схему и выполните задание.



31. Рассмотрите схему и выполните задание.

Укажите название государства, территория которого обозначена на схеме цифрой 4, в период, когда сложилась историческая ситуация, показанная на схеме.

Рассмотрите схему и выполните задание.

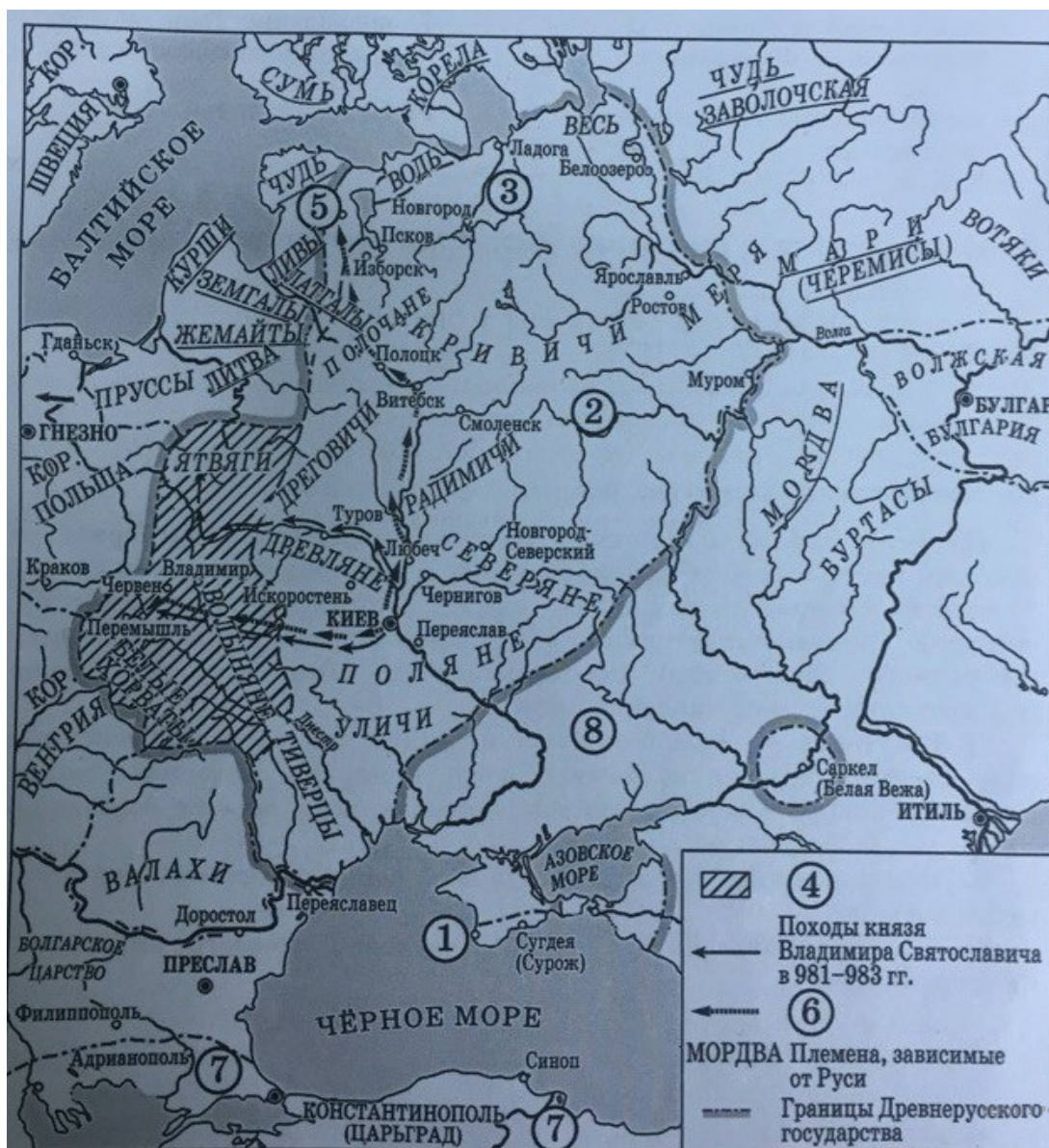


32. Рассмотрите схему и выполните задание.

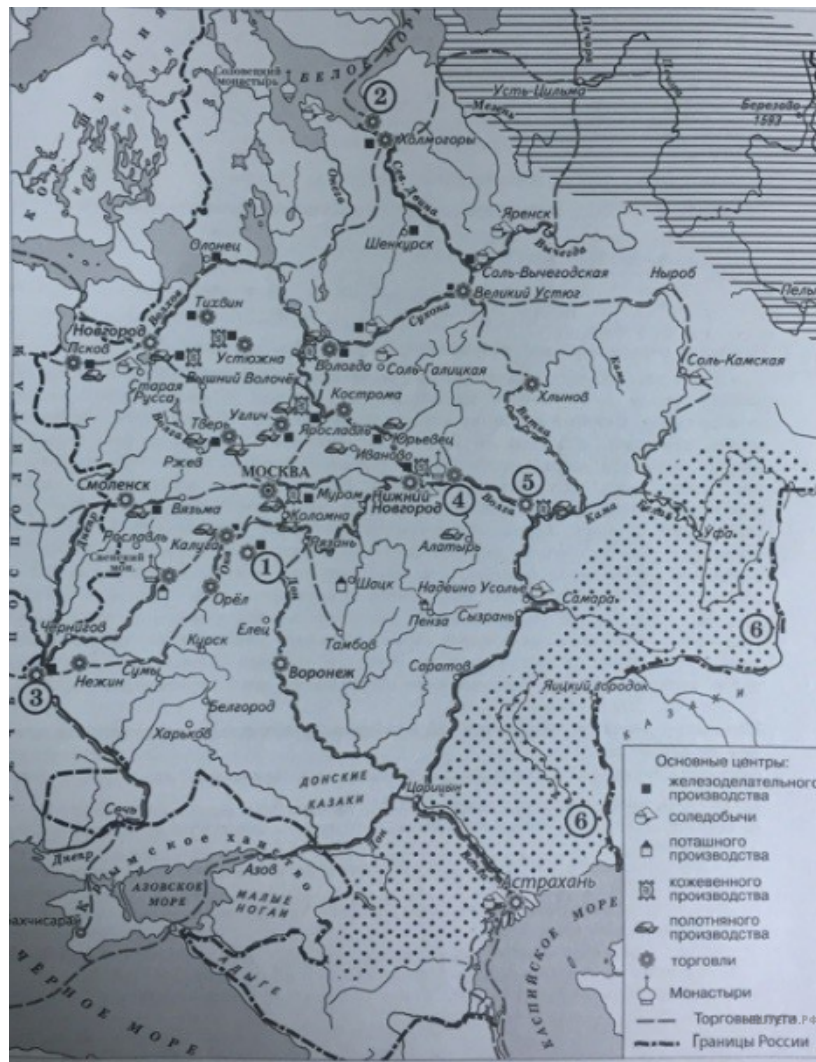
Назовите имя военачальника, шатёр которого обозначен на схеме цифрой 3.

33. Рассмотрите схему и выполните задание.

Назовите имя киевского князя, походы которого обозначены на схеме цифрой 6.



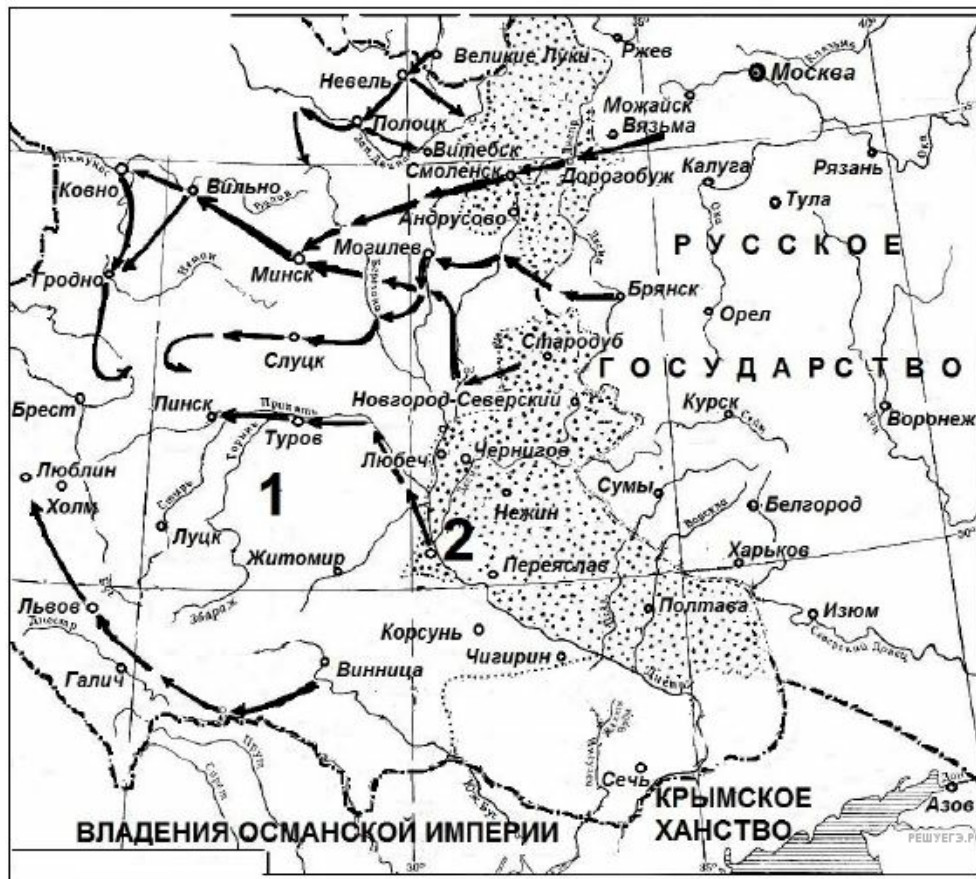
Рассмотрите схему и выполните задание.



34. Рассмотрите схему и выполните задание.

Назовите монарха, при котором установилась западная граница России, обозначенная на схеме. Имя правителя указывается с отчеством (например, Александр Павлович), или с прозвищем (например, Александр Благословенный).

Рассмотрите схему и выполните задание.



35. Рассмотрите схему и выполните задание.

Укажите век, когда произошли события, обозначенные на схеме. Ответ запишите словом.

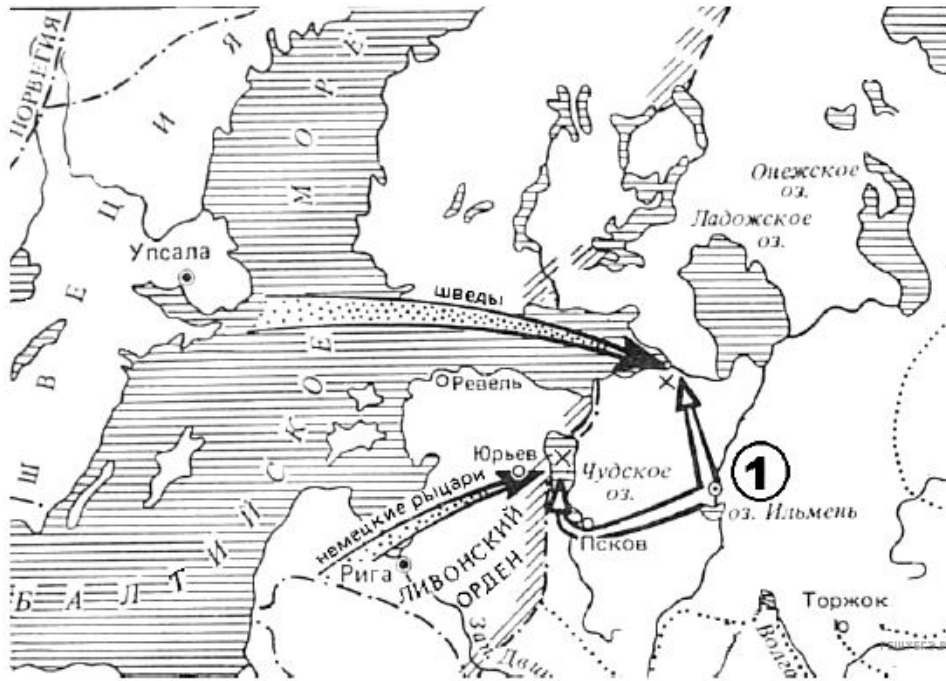
Рассмотрите схему и выполните задание.



36. Рассмотрите схему и выполните задание.

Напишите название государства, которому Русское государство уступало территорию, обозначенную на схеме цифрой 1.

Рассмотрите схему и выполните задание.



37. Рассмотрите схему и выполните задание.

Укажите название города, обозначенного на схеме цифрой 1.

Рассмотрите схему и выполните задание.



38. Рассмотрите схему и выполните задание.

Укажите князя, который впервые объединил под своей властью города, обозначенные на схеме цифрами 1 и 2.

Рассмотрите схему и выполните задание.



39. Рассмотрите схему и выполните задание.

Напишите название озера, обозначенного на схеме цифрой 3.

Рассмотрите схему и выполните задание.



40. Рассмотрите схему и выполните задание.

Укажите век (словом), к которому относится правление государя, при котором сложились обозначенные на схеме границы Российского государства.

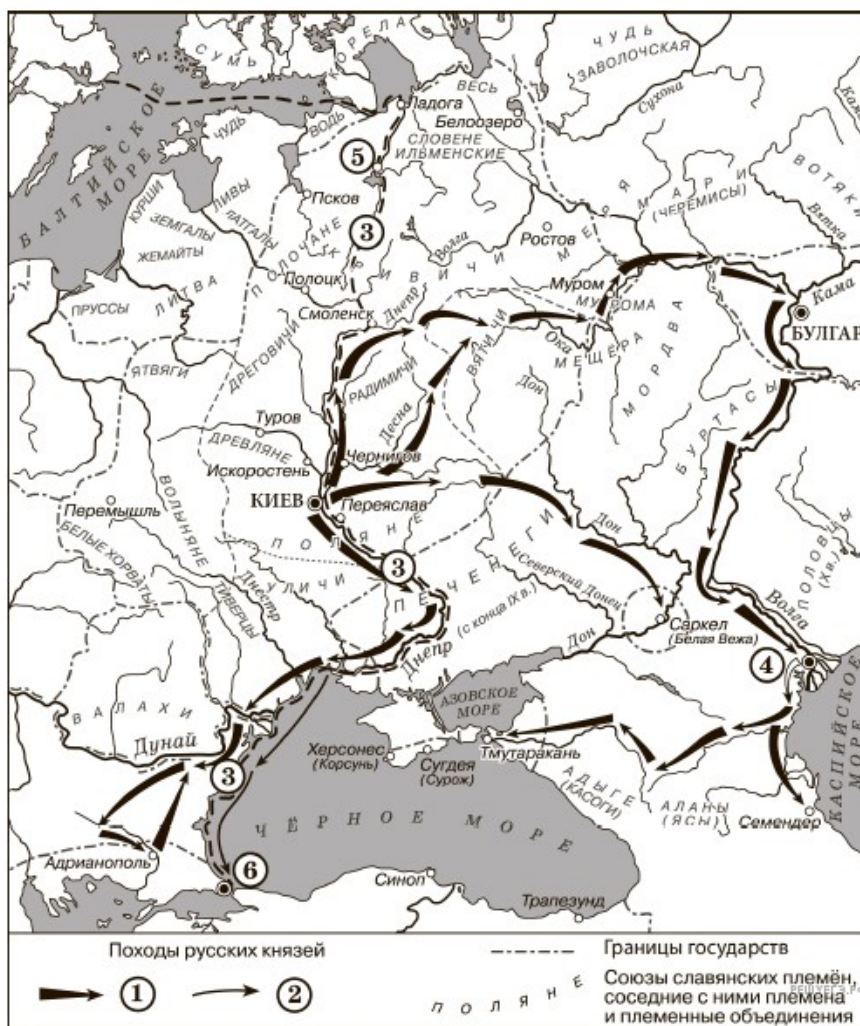
Рассмотрите схему и выполните задание.



41. Рассмотрите схему и выполните задание.

Напишите название государства, обозначенного на схеме цифрой 3, к которому отошли обозначенные цифрой 1 территории.

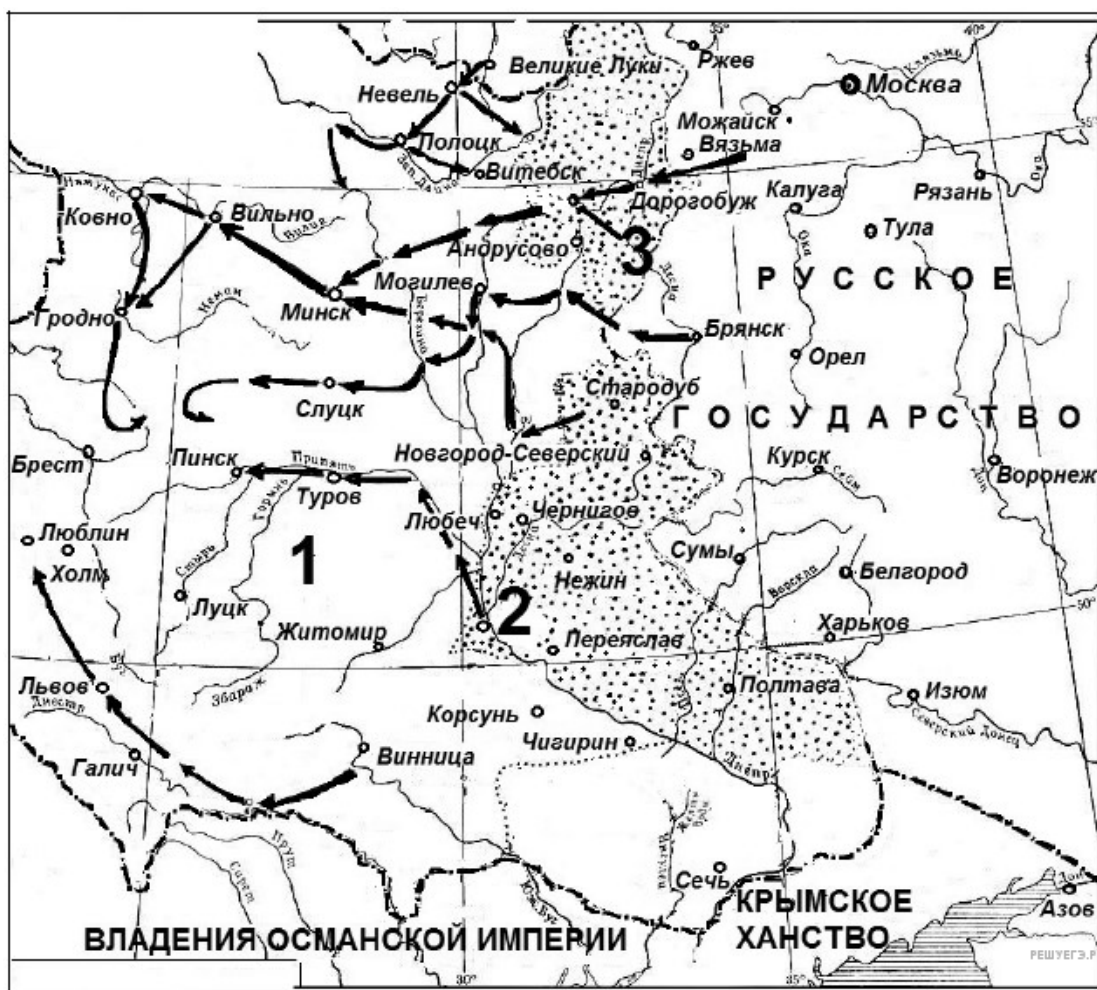
Рассмотрите схему и выполните задание.



42. Рассмотрите схему и выполните задание.

Укажите имя князя, походы которого обозначены в легенде схемы цифрой 1. Имя правителя указывается с отчеством (например, Александр Павлович).

Рассмотрите схему и выполните задание.



43. Рассмотрите схему и выполните задание.

Напишите название города, обозначенного на схеме цифрой 2.

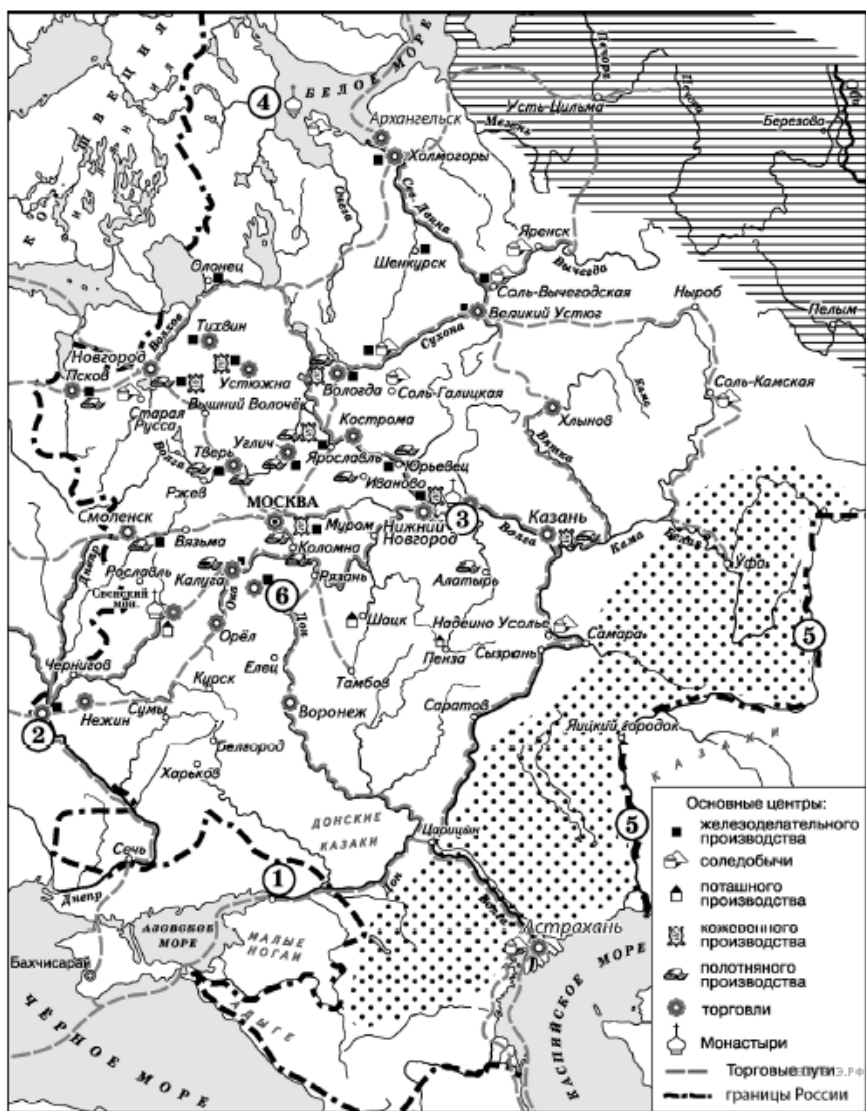
Рассмотрите схему и выполните задание.



44. Рассмотрите схему и выполните задание.

Напишите словом век, в котором происходили обозначенные на схеме события.

Рассмотрите схему и выполните задание.



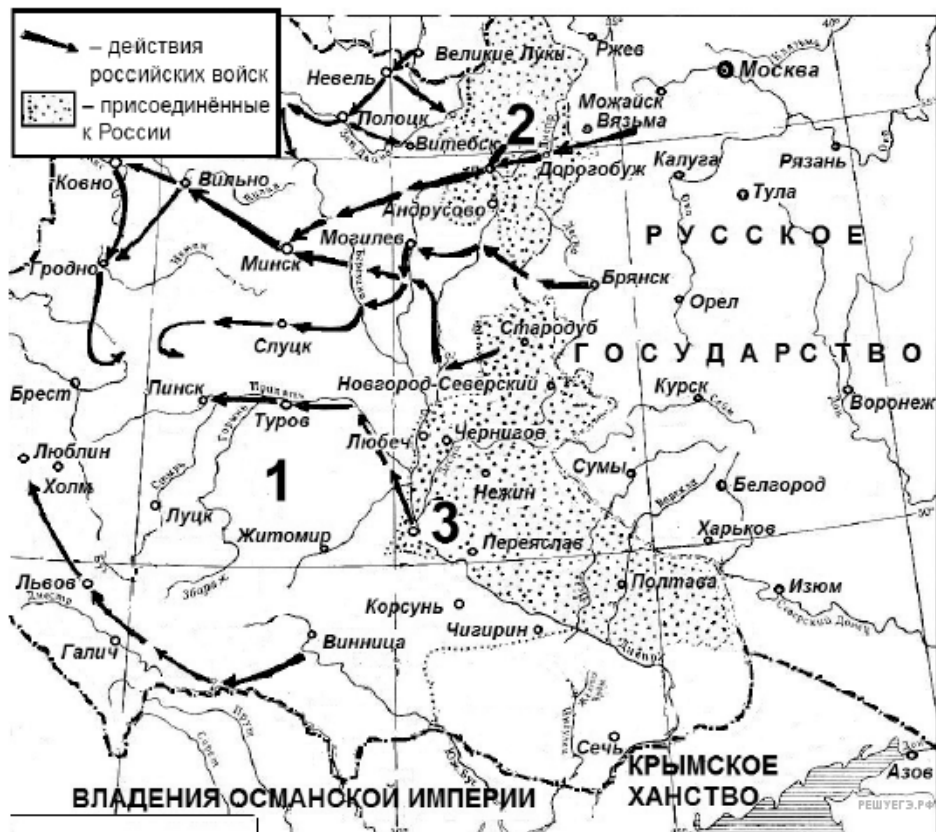
45. Укажите название города-крепости, обозначенного на схеме цифрой 1.

Рассмотрите схему и выполните задание.



46. Назовите российского государя, в период правления которого начался поход, обозначенный на схеме.

Рассмотрите схему и выполните задание.



47. Напишите название города, обозначенного на схеме цифрой 2.

Рассмотрите схему и выполните задание.



48. Напишите название города, обозначенного на схеме цифрой 2.

Рассмотрите схему и выполните задание.



49. Назовите московского князя, возглавившего поход, обозначенный на схеме белыми стрелками.

Рассмотрите схему и выполните задание.



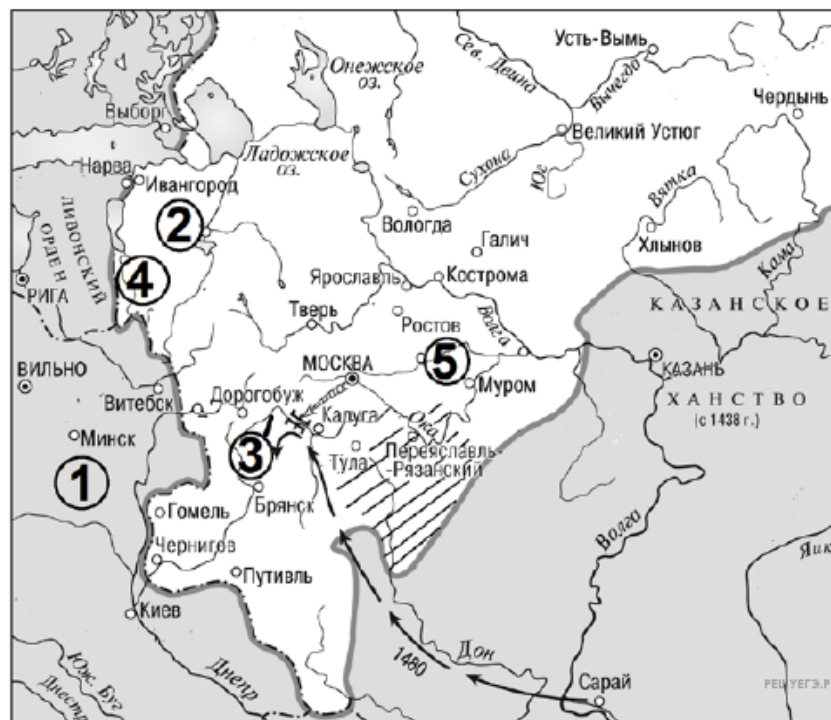
50. Напишите название союза восточнославянских племён, территория проживания которого обозначена на схеме цифрой 5.

Рассмотрите схему и выполните задание.



51. Назовите руководителя военного похода, обозначенного на схеме чёрными стрелками.

Рассмотрите схему и выполните задание.



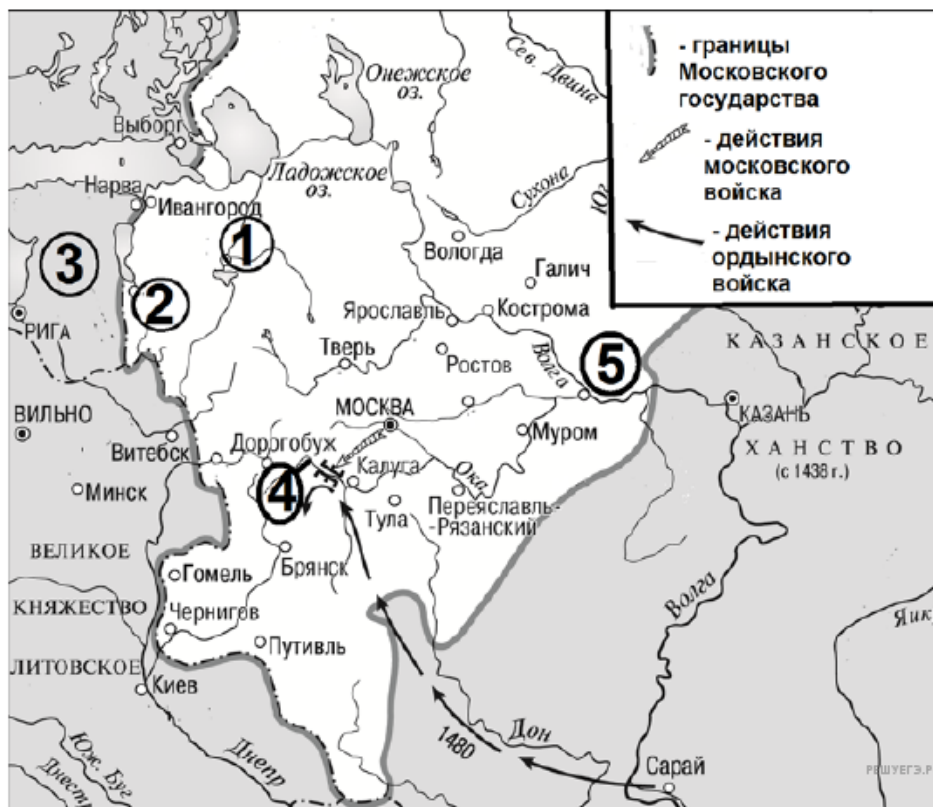
52. Напишите название реки, обозначенной на схеме цифрой 3.

Рассмотрите схему и выполните задание.



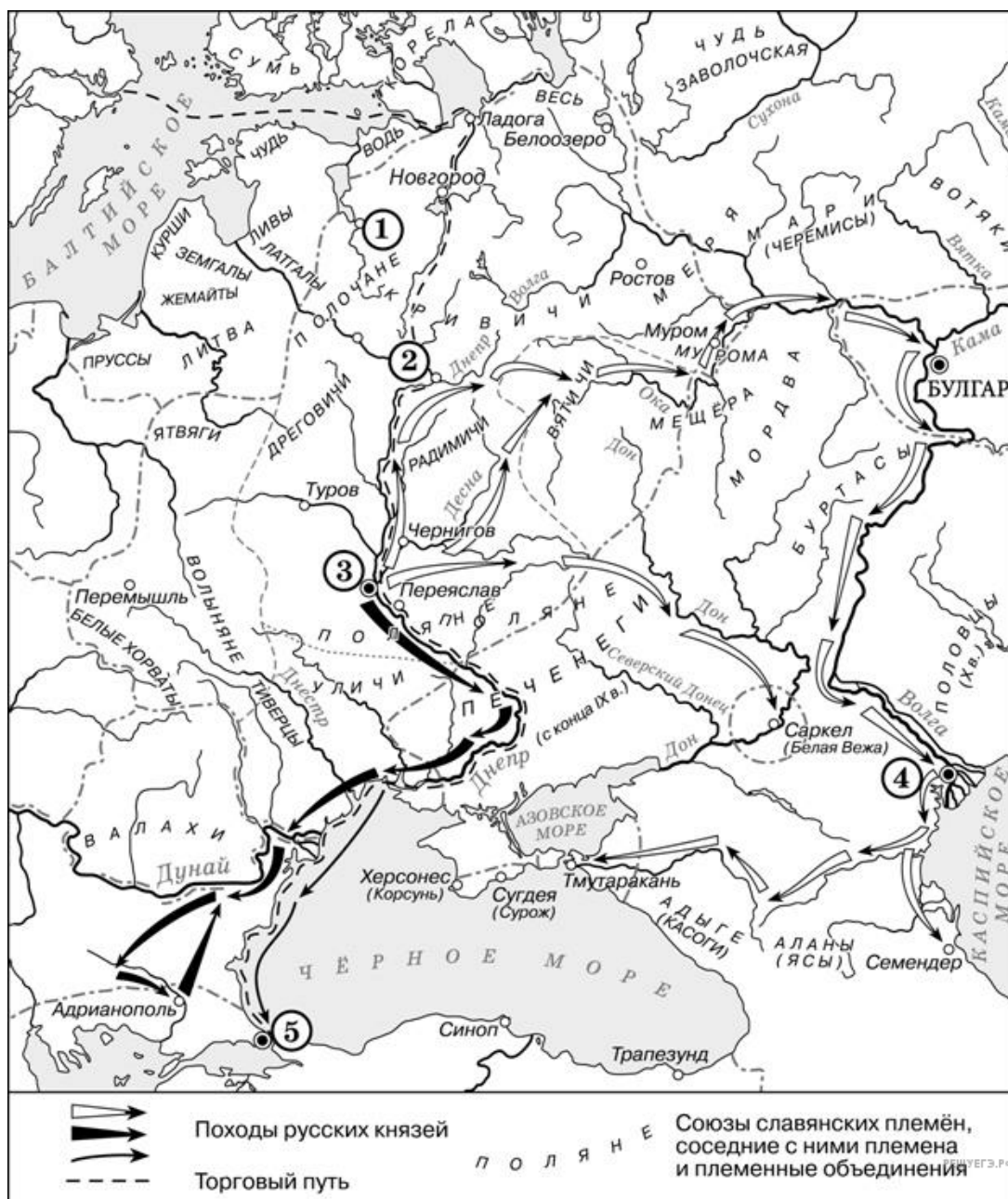
53. Напишите название города, обозначенного на схеме цифрой 1.

Рассмотрите схему и выполните задание.



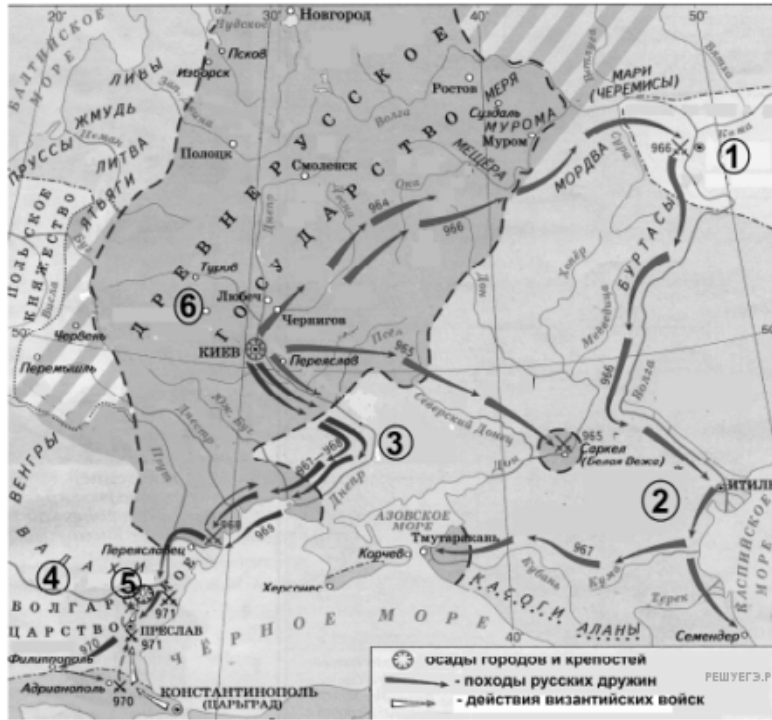
54. Назовите предводителя ордынского войска, действия которого обозначены на схеме. В ответе укажите только его имя.

Рассмотрите схему и выполните задание.



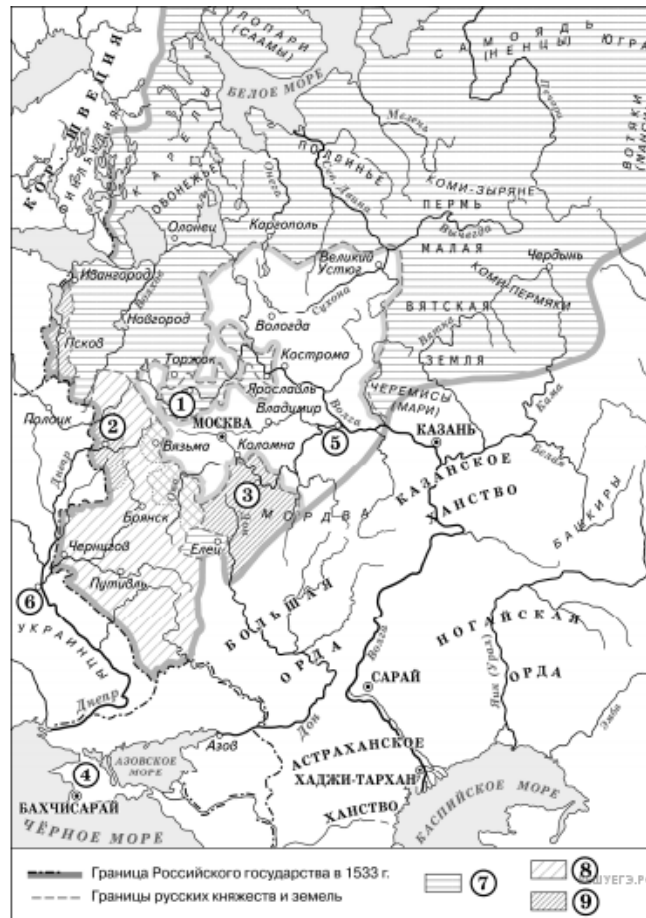
55. Напишите название города, обозначенного на схеме цифрой 2.

Рассмотрите схему и выполните задание.



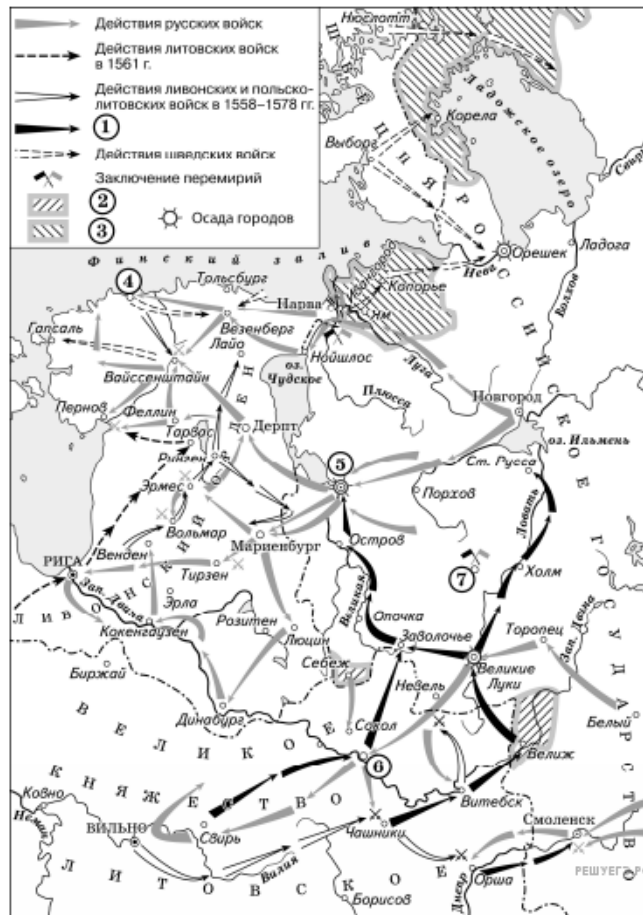
56. Напишите название государства, обозначенного на схеме цифрой 1.

Рассмотрите схему и выполните задание.



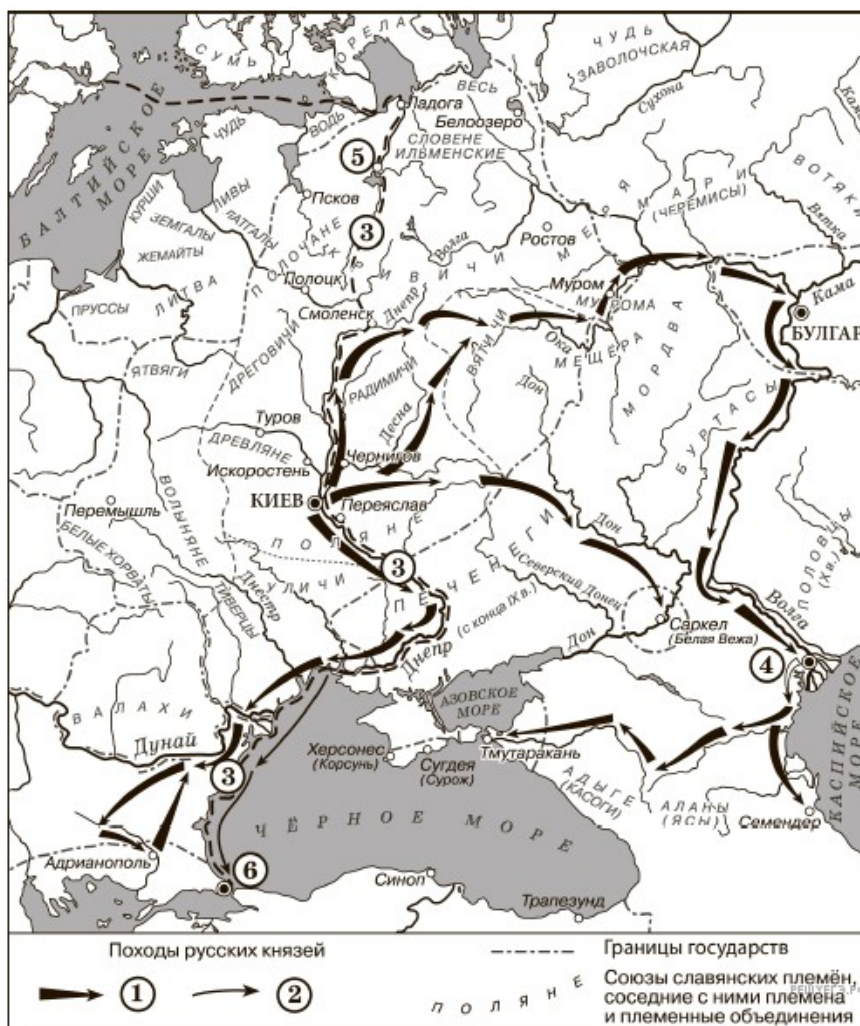
57. Заполните пропуск в предложении: «Вхождение в состав Российского государства города, обозначенного на схеме цифрой 6, было окончательно закреплено условиями «_____ мира» с Речью Посполитой».

Рассмотрите схему и выполните задание.



58. Укажите название государства, в состав которого в результате военных действий, обозначенных на схеме стрелками, вошла территория, обозначенная в легенде схемы цифрой 3.

Рассмотрите схему и выполните задание.



59. Рассмотрите схему и выполните задание.

Укажите имя князя, походы которого обозначены в легенде схемы цифрой 1.

Рассмотрите схему и выполните задание.



РЕШУЕГЭ.РФ

62. Напишите название города, обозначенного на схеме цифрой 3.

Рассмотрите схему и выполните задание.



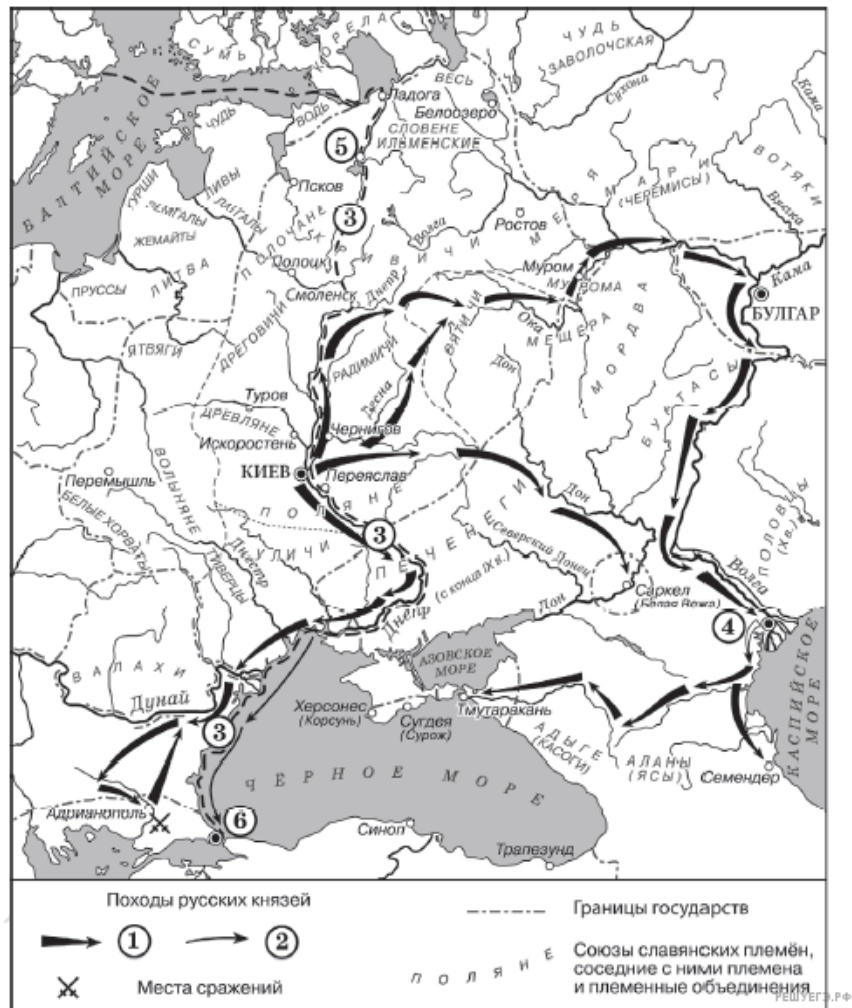
63. Напишите название торгового пути, обозначенного на схеме.

Рассмотрите схему и выполните задание.



64. Назовите руководителя неприятельских войск в походе, обозначенном на схеме цифрой 2.

Рассмотрите схему и выполните задание.



65. Укажите имя князя, походы которого обозначены в легенде схемы цифрой 1.

Рассмотрите схему и выполните задание.



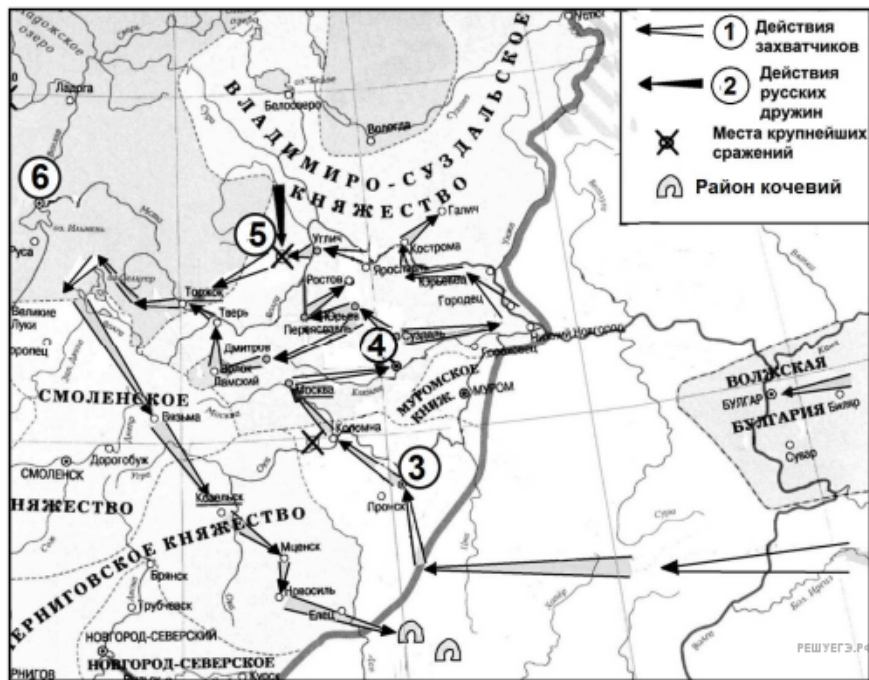
66. Напишите название города, обозначенного на схеме цифрой 4.

Рассмотрите схему и выполните задание.



67. Укажите название реки, обозначенной на схеме цифрой 3.

Рассмотрите схему и выполните задание.



68. Укажите век, когда происходили события, обозначенные на схеме стрелками. Ответ запишите словом.

Рассмотрите схему и выполните задание.



69. Напишите название города, обозначенного на схеме цифрой 7.

Рассмотрите схему и выполните задание.



70. Назовите руководителя восстания, район которого обозначен на схеме.

Рассмотрите схему и выполните задание.



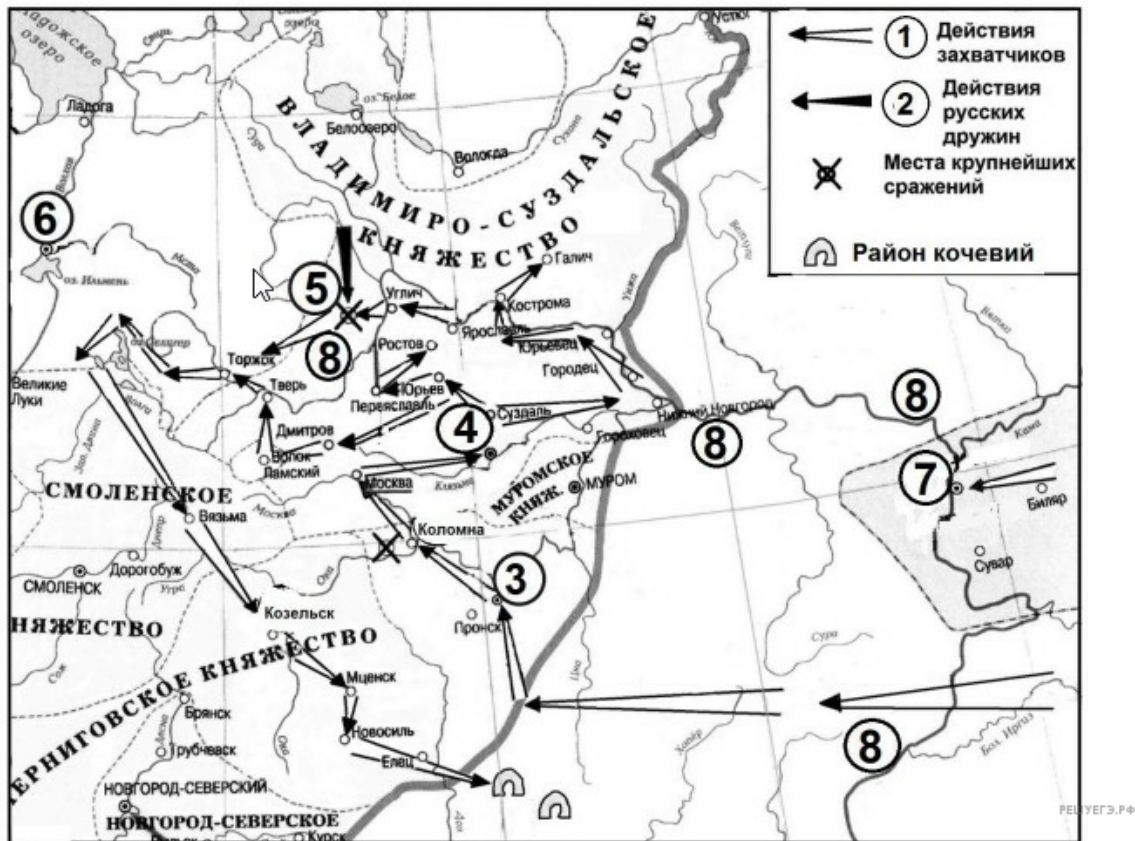
71. Напишите название крепости, обозначенной на схеме цифрой 1.

Рассмотрите схему и выполните задание.



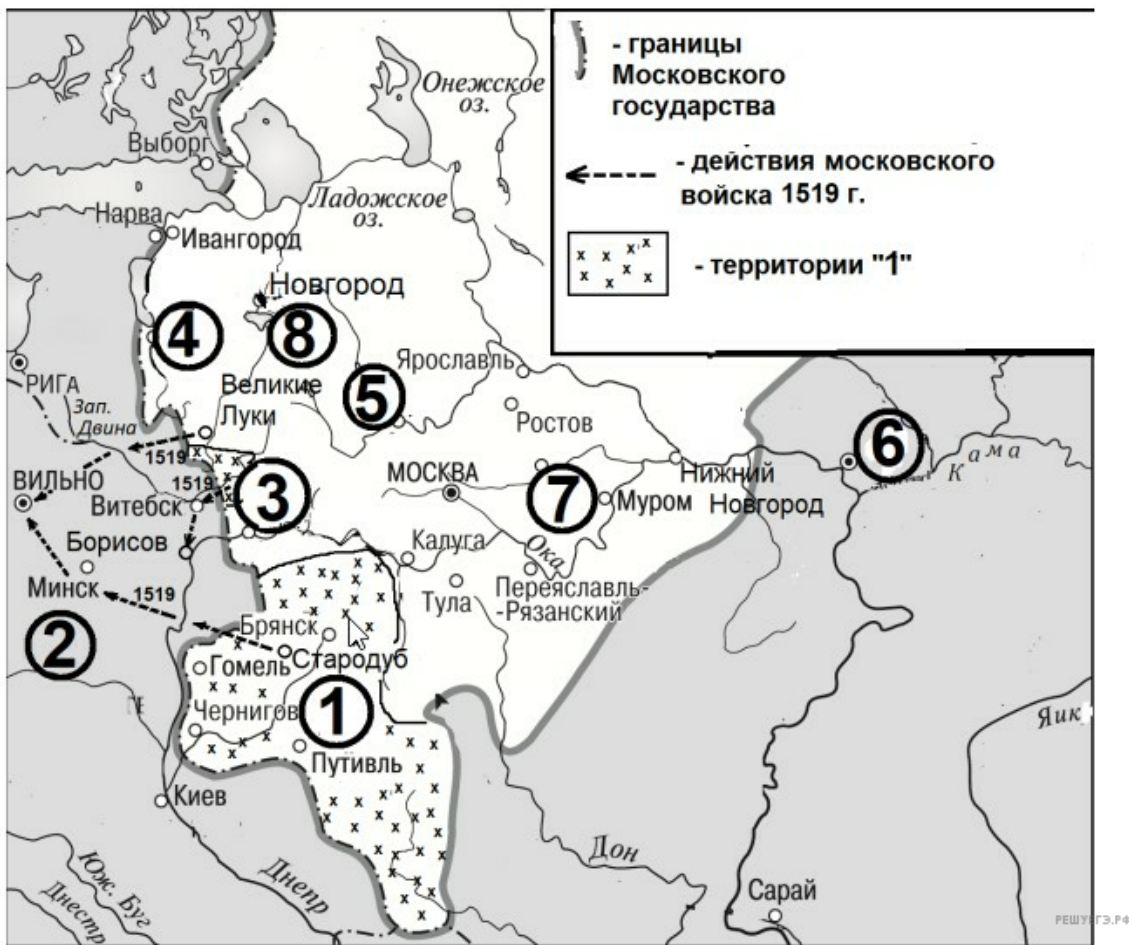
72. Напишите название государства, территория которого обозначена на схеме цифрой 1.

Рассмотрите схему и выполните задание.



73. Укажите имя и отчество русского князя, руководившего войсками в сражении, обозначенном на схеме цифрой 5.

Рассмотрите схему и выполните задание.



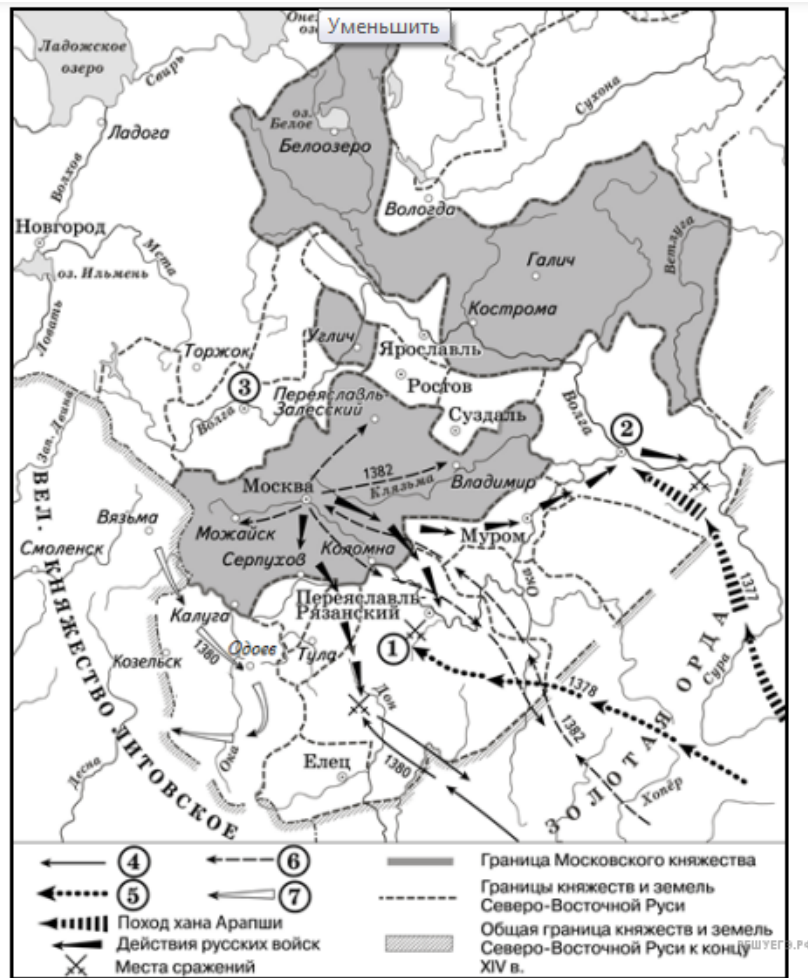
74. Укажите название города, обозначенного на схеме цифрой 4.

Рассмотрите схему и выполните задание.



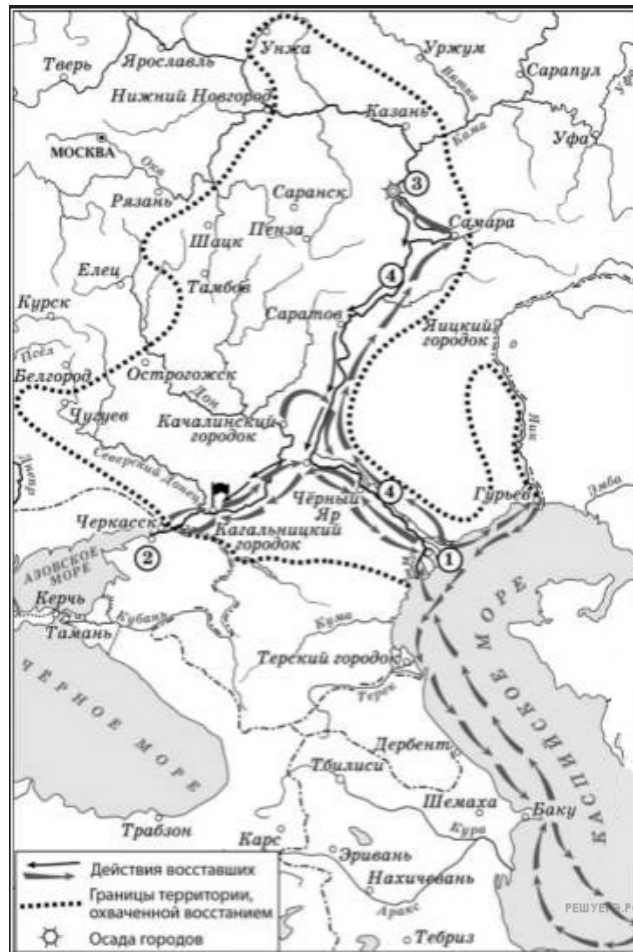
75. Укажите имя и прозвище князя, совершившего походы, обозначенные в легенде схемой цифрой 6.

Рассмотрите схему и выполните задание.



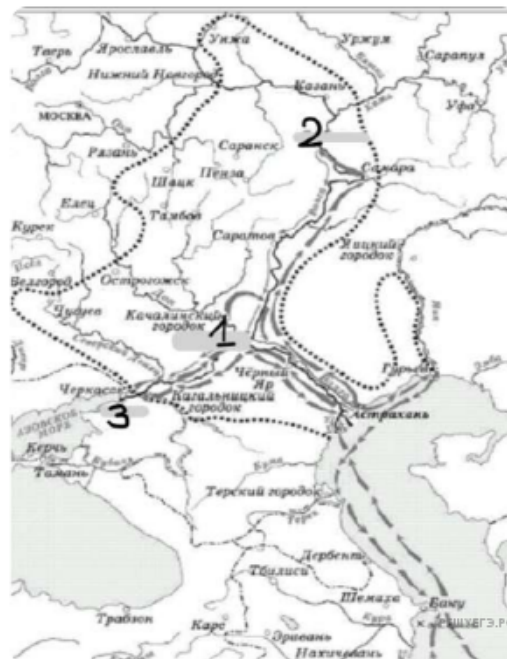
76. Заполните пропуск в предложении: «Поход, обозначенный в легенде схемы цифрой 6, возглавил хан _____».

Рассмотрите схему и выполните задание.



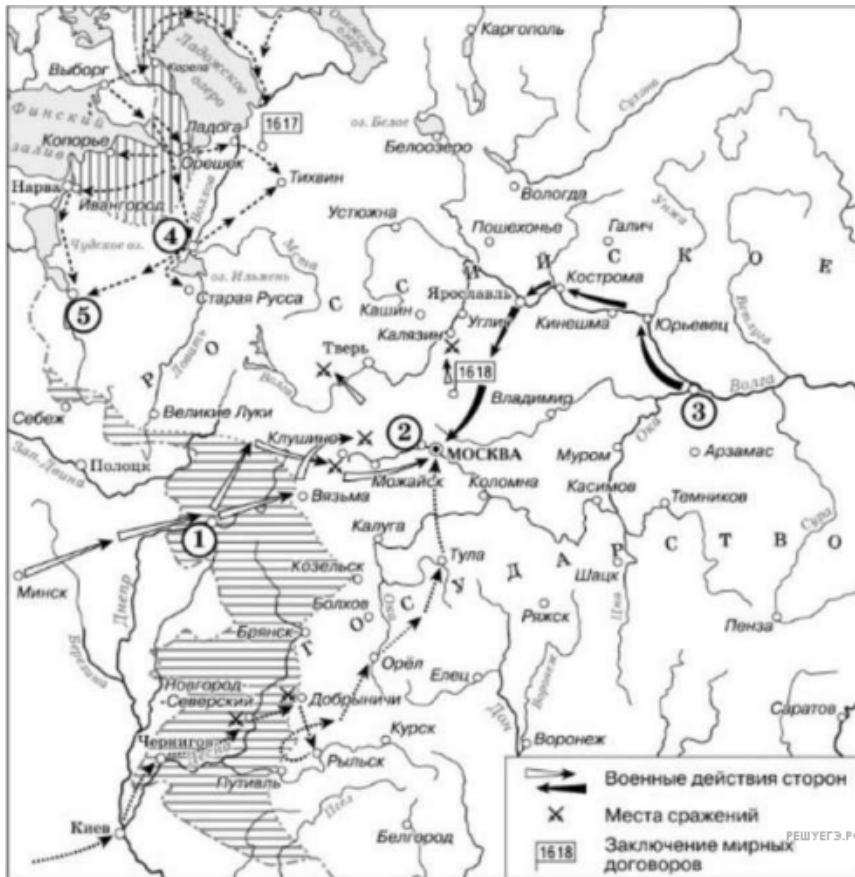
77. Укажите город, обозначенный на схеме цифрой 3, в период изображённых событий.

Рассмотрите схему и выполните задание.



78. Напишите название города, обозначенного на схеме цифрой 1.

Рассмотрите схему и выполните задание.



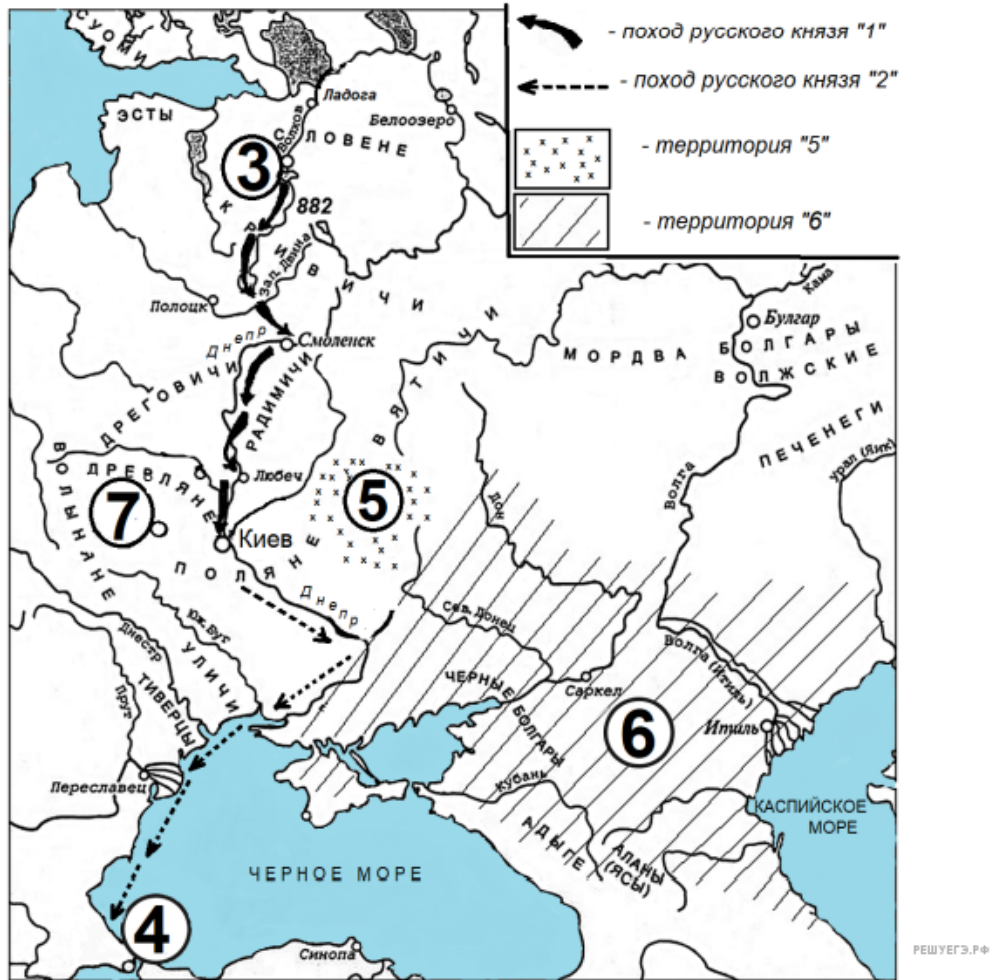
79. Укажите город, обозначенный на схеме цифрой 5.

Рассмотрите схему и выполните задание.



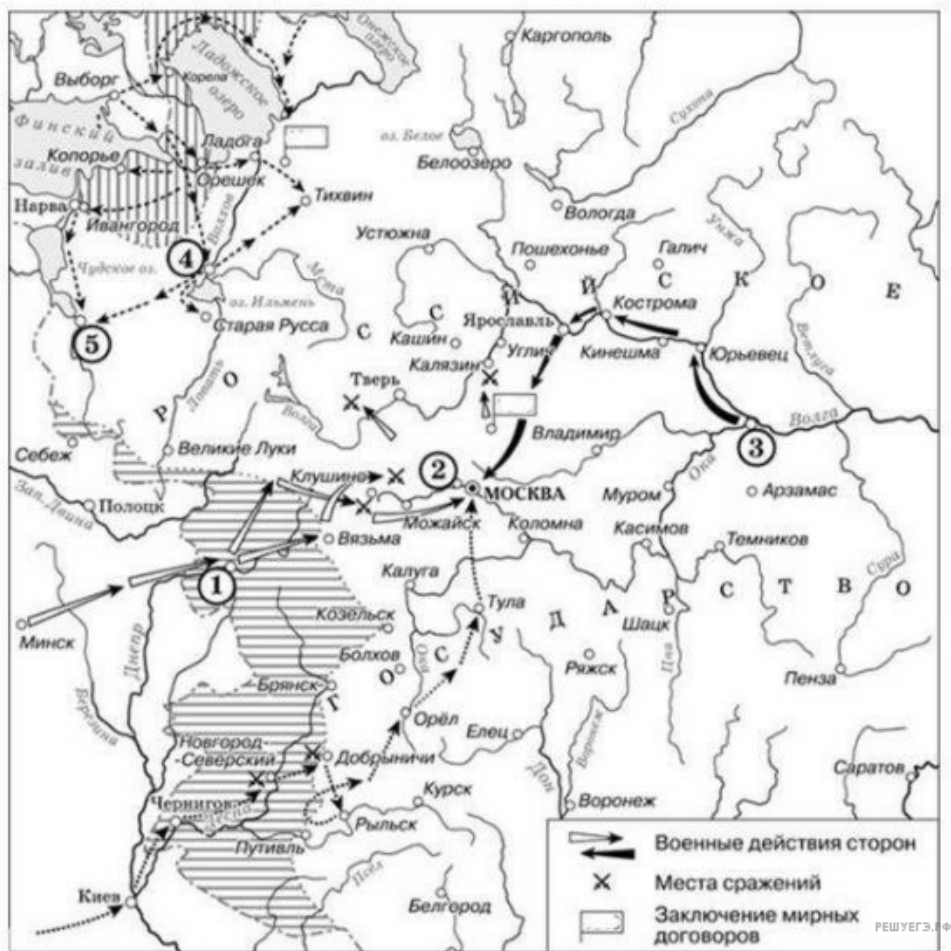
80. Укажите название города, обозначенного на схеме цифрой 1.

Рассмотрите схему и выполните задание.



81. Напишите название союза восточнославянских племён, территория которого обозначена на схеме цифрой 5.

Рассмотрите схему и выполните задание.



82. Укажите название города, обозначенного цифрой «1».

Рассмотрите схему и выполните задание.



83. Напишите название периода отечественной истории, который начался с походом, обозначенным в легенде схемы цифрой «1».

Рассмотрите изображение и выполните задание.



84. Напишите название реки, течение которой обозначено на схеме цифрой «1».

Рассмотрите схему и выполните задание.



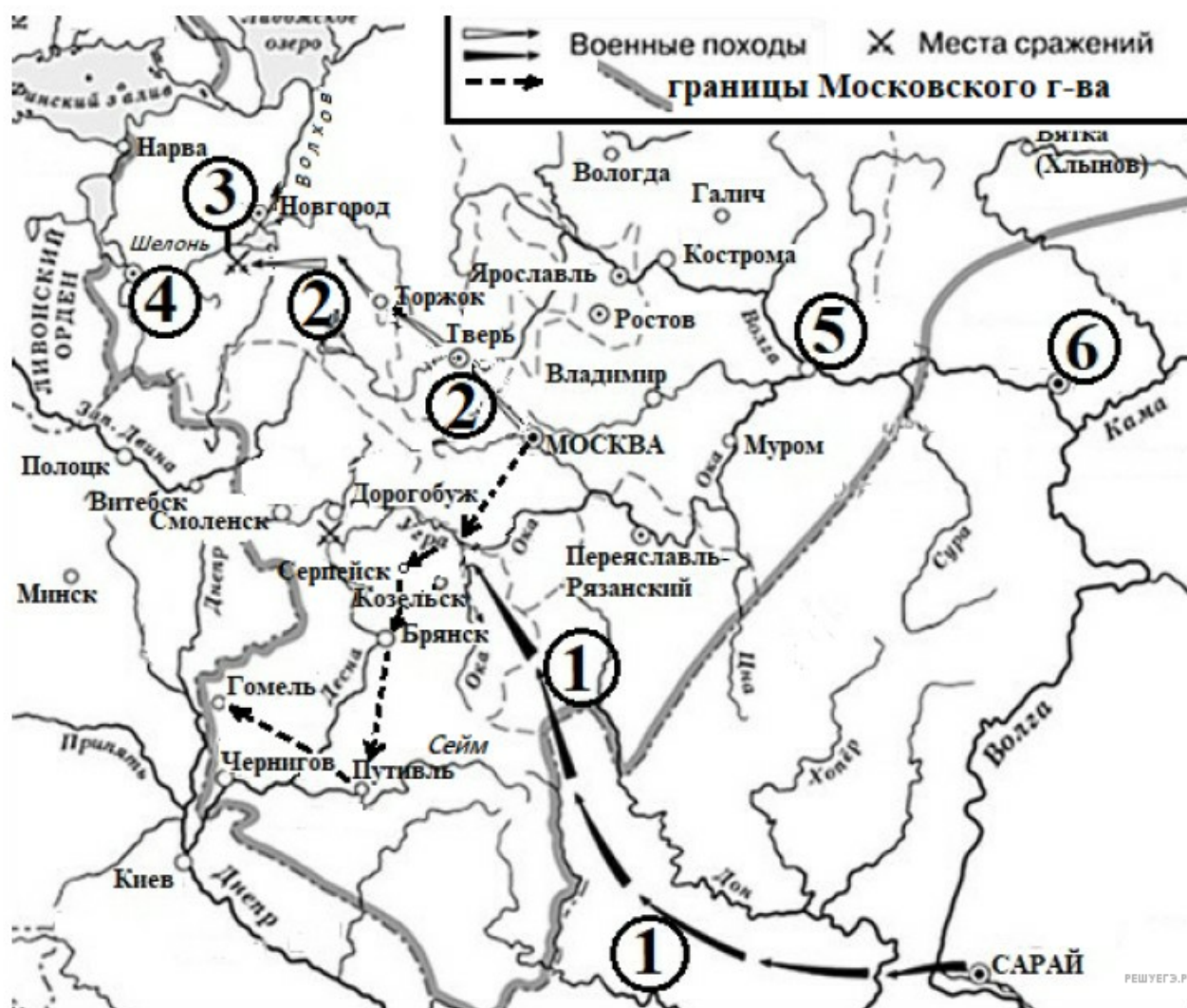
85. Напишите название страны, которой от России перешли обозначенные цифрой «2» территории в конце царствования российского государя, при котором были присоединены территории, обозначенные на схеме цифрой «1».

Рассмотрите схему и выполните задания 9–12.



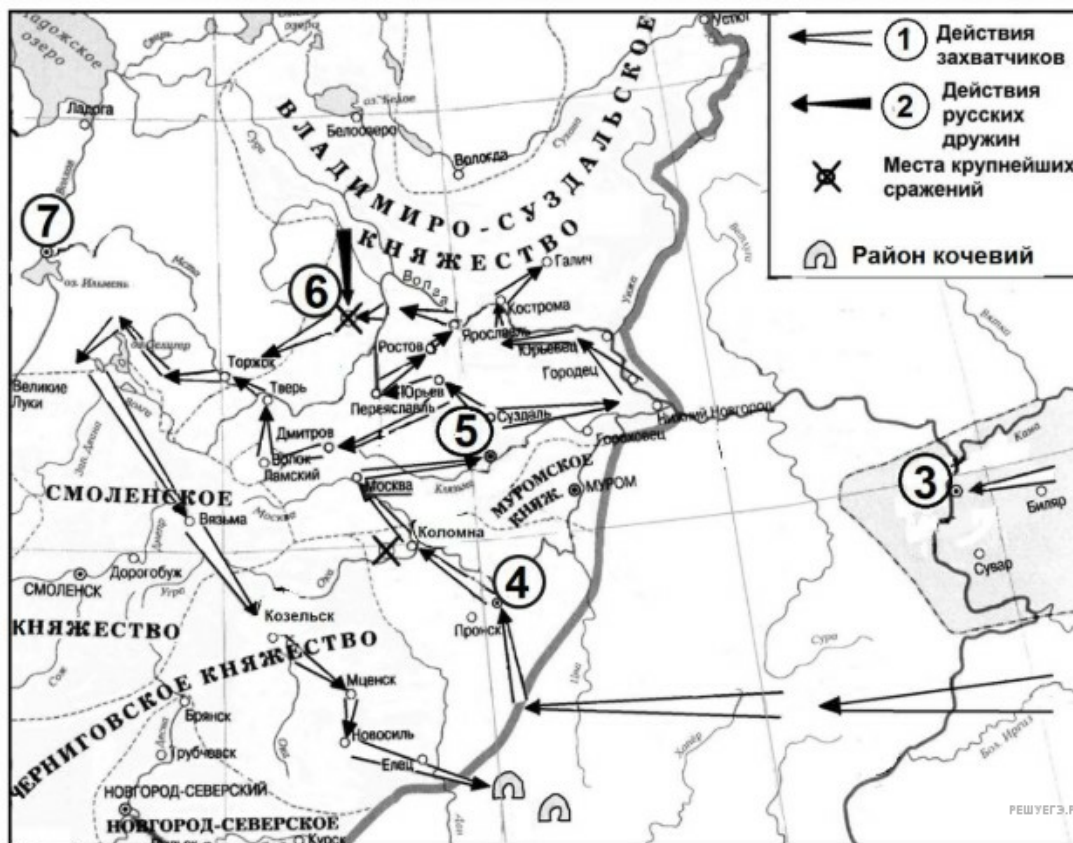
86. Напишите название города, обозначенного на схеме цифрой «1».

Рассмотрите схему и выполните задание.



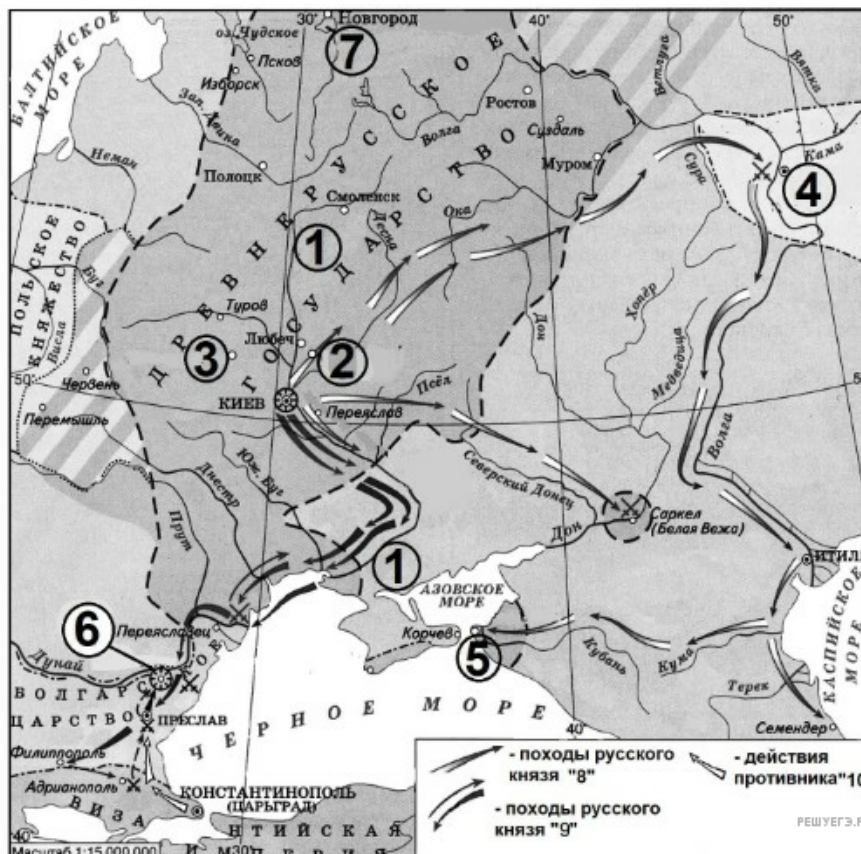
87. Укажите иноземного правителя, возглавлявшего обозначенный на схеме цифрой «1» поход.

Рассмотрите схему и выполните задания 9–12.



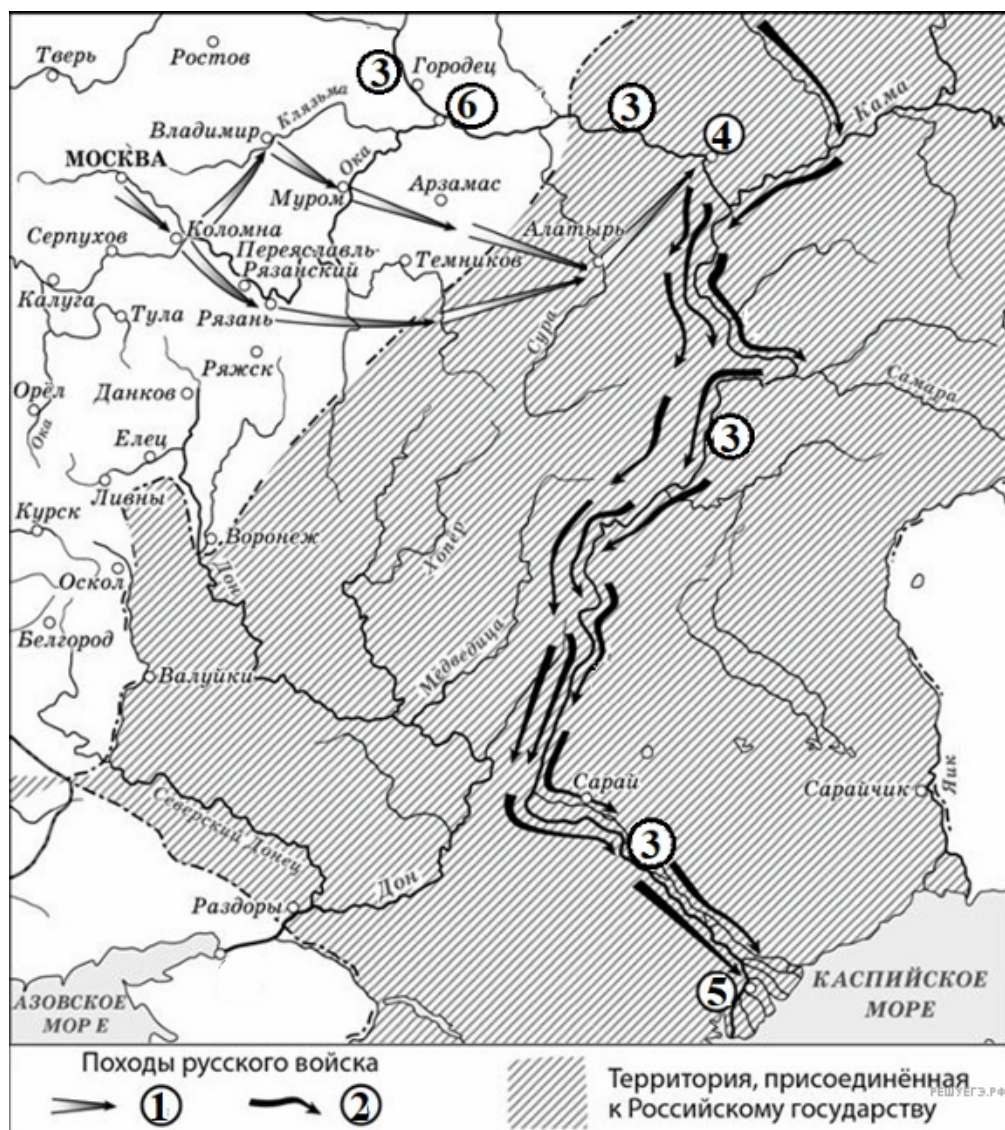
89. Назовите руководителя похода, обозначенного в легенде схемы цифрой «1».

Рассмотрите схему и выполните задания 9–12.



90. Напишите название реки, течение которой обозначено на схеме цифрой «1».

Рассмотрите схему и выполните задания 9–12.



91. Напишите название реки, русло которой четырежды обозначено на схеме цифрой «3».

Рассмотрите схему и выполните задания 9–12.



92. Укажите название города, обозначенного на схеме цифрой «3».

Рассмотрите схему и выполните задания 9–12.



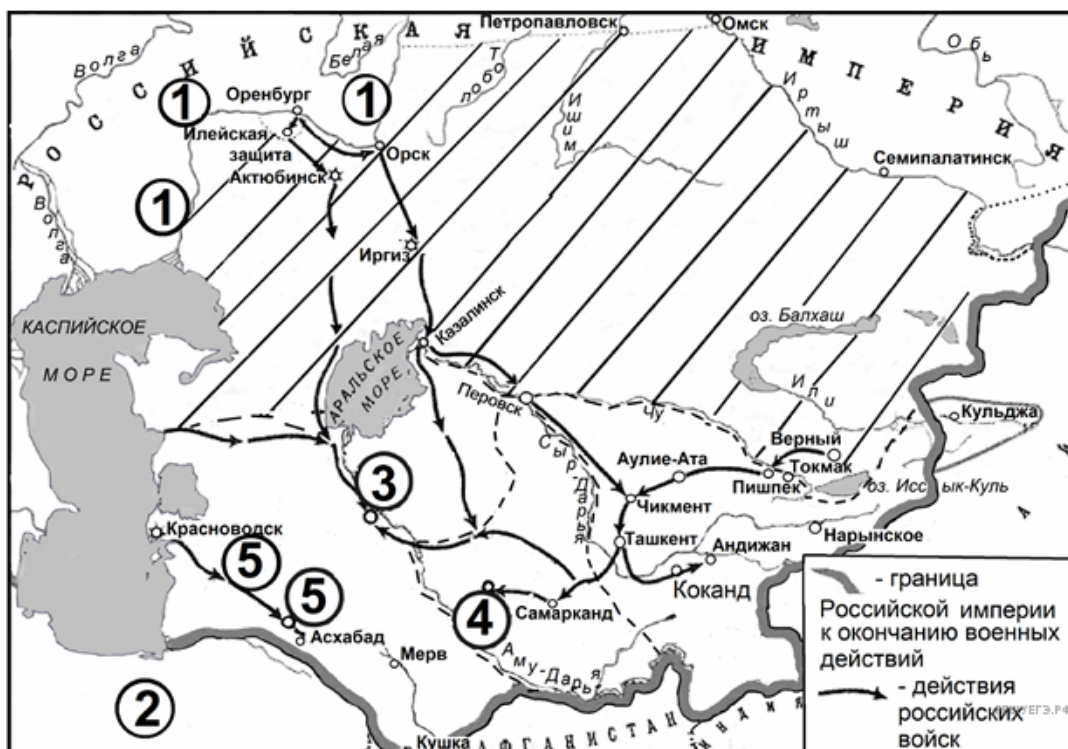
93. Напишите название реки, течение которой обозначено на схеме цифрой «1».

Рассмотрите схему и выполните задания 9–12.



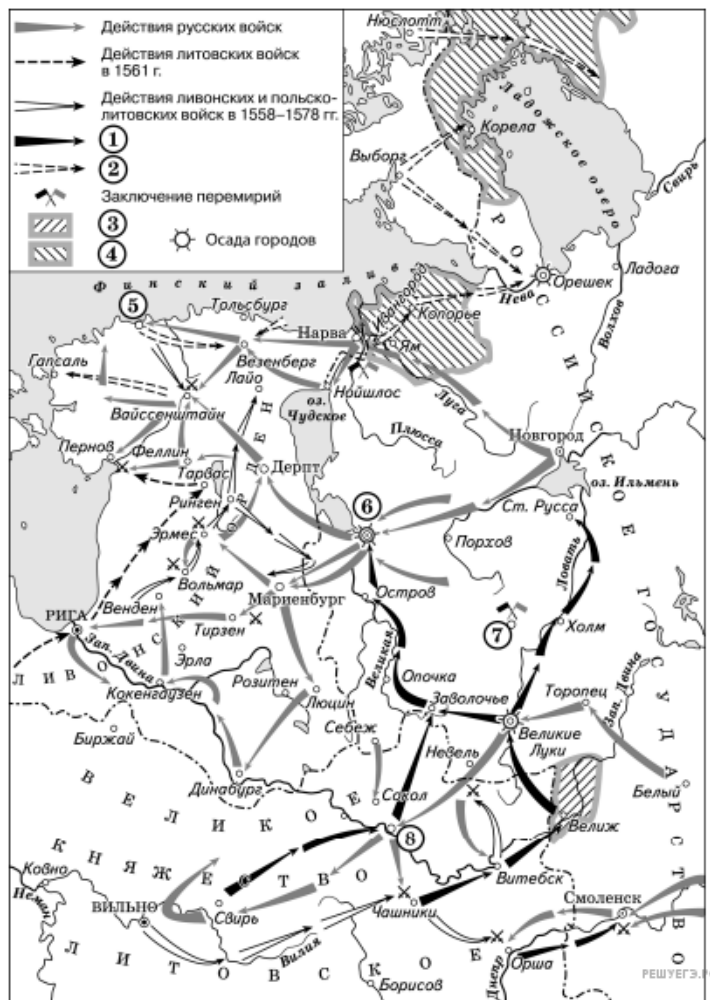
94. Напишите название города, обозначенного на схеме цифрой «5».

Рассмотрите схему и выполните задания 9–12.



95. Напишите название реки, русло которой обозначено на схеме цифрой «1».

Рассмотрите схему и выполните задания 9–12.



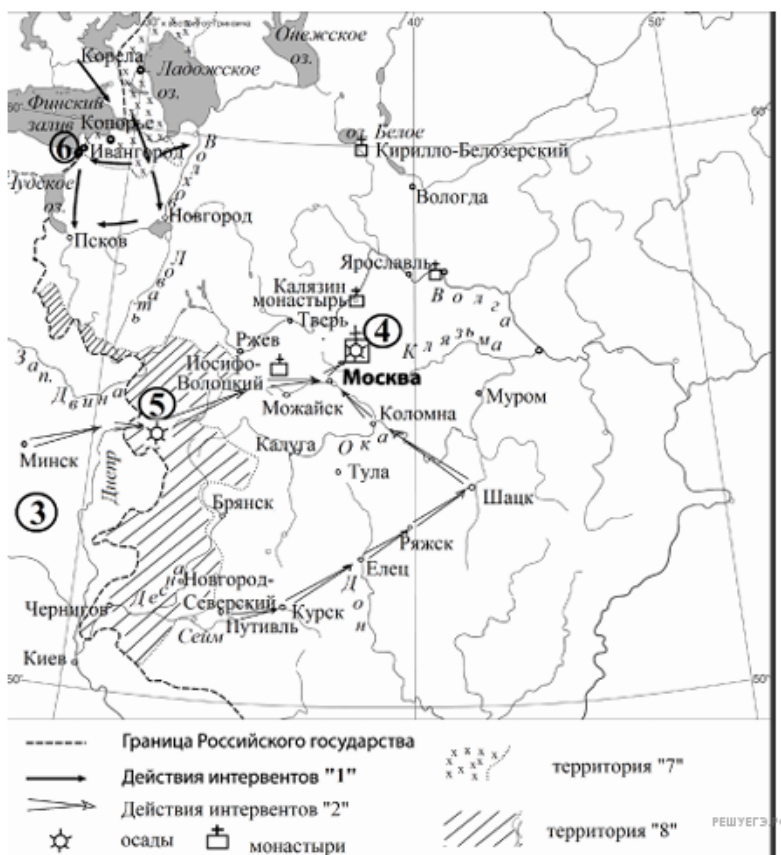
96. Укажите название города, обозначенного на схеме цифрой «6».

Рассмотрите схему и выполните задания 9–12.



97. Укажите название города, обозначенного на схеме цифрой «2», в период, когда произошли события, отражённые на схеме.

Рассмотрите схему и выполните задания 9–12.



98. Напишите название государства, действия отрядов которого обозначены в легенде схемы цифрой «1».

Рассмотрите схему и выполните задания 9–12.



99. Напишите название войны, в результате которой Россия присоединила территорию, обозначенную на схеме цифрой «2».

Рассмотрите схему и выполните задания 9–12.



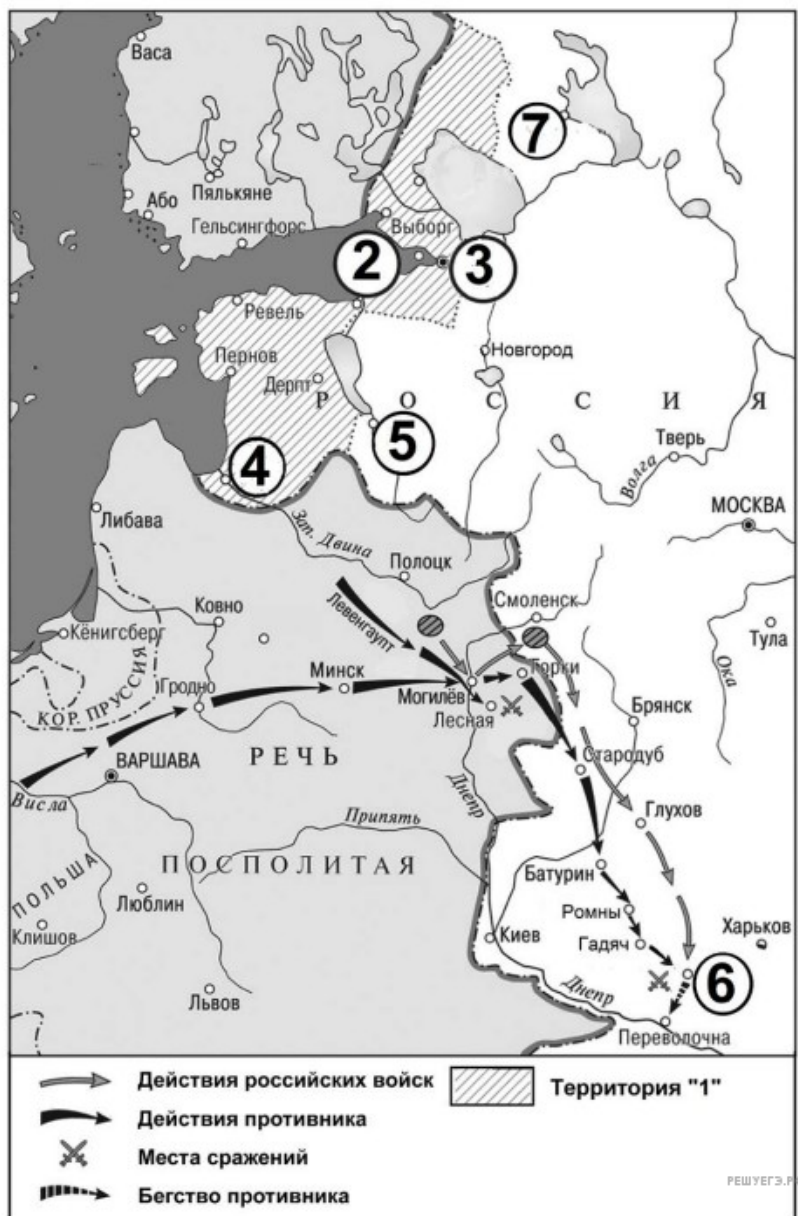
100. Укажите название государства, обозначенного на схеме цифрой «1», в период событий, представленных на схеме.

Рассмотрите схему и выполните задания 9–12.



104. Укажите название реки, русло которой дважды обозначено на схеме цифрой «1».

Рассмотрите схему и выполните задания 9–12.



105. Укажите название обозначенного на схеме цифрой «б» города.

Рассмотрите схему и выполните задания 9–12.



106. Укажите название города, обозначенного на схеме цифрой «1», в период, когда произошли отражённые на схеме события.