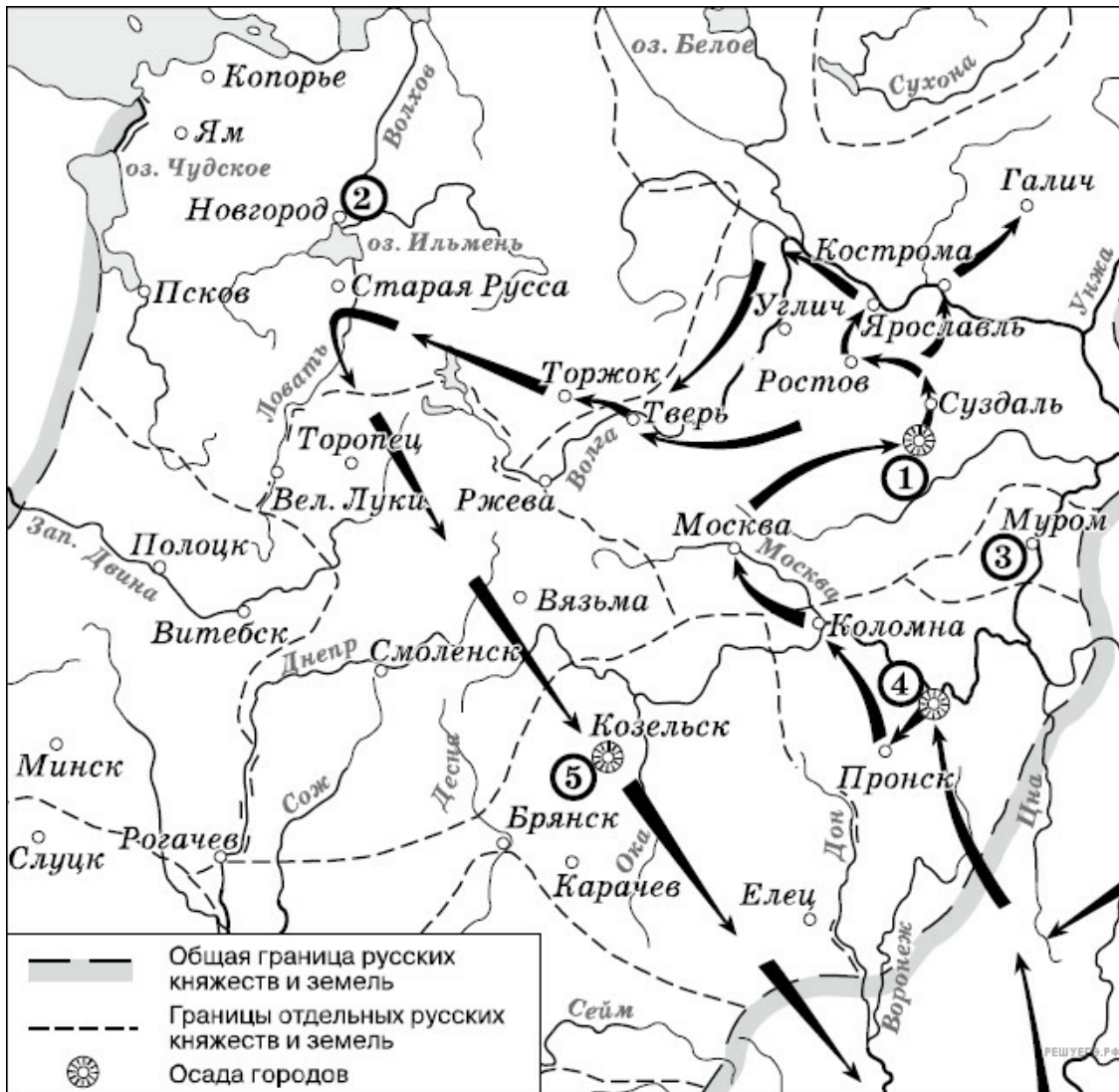


Рассмотрите схему и выполните задание.



1. Рассмотрите схему и выполните задание.

Какие суждения, относящиеся к событиям, обозначенным на схеме, являются верными? Выберите несколько суждений из шести предложенных.

1. Завоеватели вторглись в пределы Руси в зимний период.
2. Ни один из городов, захваченных завоевателями, не выдержал осады более одной недели.
3. Поход, обозначенный на схеме стрелками, длился около трёх лет.
4. Одним из последствий событий, обозначенных на схеме, было начало раздробленности Древнерусского государства.
5. В результате событий, обозначенных на схеме, русские земли попали в зависимость.
6. Полководец, поход которого обозначен на схеме, является главой государственного образования.

Рассмотрите схему и выполните задание.

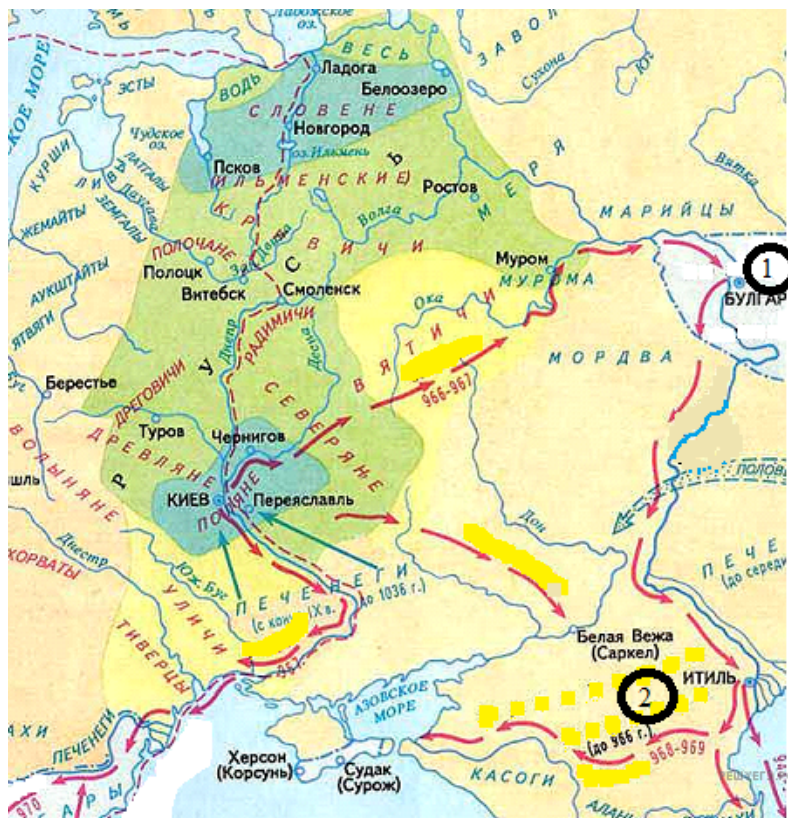


2. Рассмотрите схему и выполните задание.

Какие суждения, относящиеся к обозначенным на схеме древним речным путям, являются верными? Выберите несколько суждений из шести предложенных. Запишите в таблицу цифры, под которыми они указаны.

1. Из Византии в государства Скандинавии купцы везли мёд, воск, пеньку.
2. Одной из причин окончательного упадка торгового пути из Балтийского моря в Чёрное стал захват монголо-татарами нижнего и среднего Поднепровья в XIII в.
3. Торговый путь из Балтийского моря в Чёрное был ликвидирован после захвата турками столицы Византии в середине XV в.
4. Между Западной Двиной и Днепром торговые суда перетаскивались волоком.
5. Одним из государств, контролировавшим торговлю на пути из Балтийского в Каспийское море до середины 60-х гг. X в. была Хазария (Хазарский каганат).
6. Князь Олег заключил выгодный торговый договор между Русью и Византией в середине IX в.

Рассмотрите схему и выполните задание.



3. Рассмотрите схему и выполните задание.

Какие суждения, относящиеся к походам князя, обозначенным на схеме, являются верными? Выберите несколько суждений из шести предложенных. Запишите в таблицу цифры, под которыми они указаны.

1. Киевский князь, чьи походы указаны на карте, разгромил и уничтожил Хазарский каганат.
2. Врагами Древнерусского государства на степных границах в первой половине X в. были половцы.
3. Во время одного из походов Киевский князь заложил город-крепость Корсунь.
4. Указанные на карте походы укрепили могущество Киевской Руси.
5. Киевскому князю не удалось перенести столицу государства на Дунай.
6. Одновременно с завоеванием новых земель великий Киевский князь распространял христианство к востоку от Руси.

Рассмотрите схему и выполните задание.

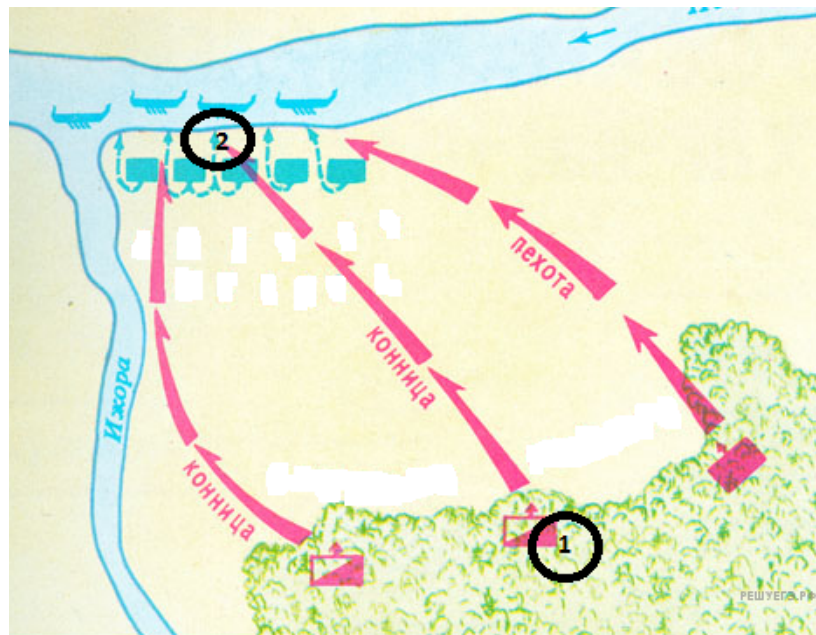


4. Рассмотрите схему и выполните задание.

Какие суждения, относящиеся к событиям, обозначенным на схеме стрелками, являются верными? Выберите несколько суждений из шести предложенных. Запишите в таблицу цифры, под которыми они указаны.

1. Первым русским городом, принявшим на себя удар монголо-татар под командованием хана Батыея летом 1237 г., была Рязань.
2. После ухода монголо-татарского войска из разгромленной Рязани, захватчики подверглись нападению отряда под командованием рязанского боярина Евпатия Коловрата.
3. На территории Владимиро-Суздальского княжества монголо-татары потерпели своё первое поражение от войск князя Юрия Всеволодовича.
4. Город Псков сумел отстоять свою независимость в период вторжения рыцарей Ливонского ордена на русские земли в первой половине XIII в.
5. Столицей образовавшейся Золотой Орды стал в 1243 г. город Сарай (Сарай-Бату).
6. Сражение, отмеченное на карте цифрой 4, произошло в один год с героической обороной и падением Киева.

Рассмотрите схему и выполните задание.



5. Рассмотрите схему и выполните задание.

Какие суждения, относящиеся к событию, обозначенному на схеме, являются верными? Выберите несколько суждений из шести предложенных. Запишите в таблицу цифры, под которыми они указаны.

1. Битва состоялась во время нашествия монголо-татар на юго-западные русские земли.
2. Один из полководцев, участвовавший в битве, в последствие был канонизирован русской Церковью.
3. Битва была примером междоусобных войн на Руси периода политической раздробленности.
4. В составе войска одной из сторон сражался отряд половцев.
5. Результаты битвы имели большое значение для укрепления внешнеполитического авторитета Московского княжества.
6. Земли, на которых состоялась битва, принадлежали Великому Новгороду.

Рассмотрите схему и выполните задание.



6. Рассмотрите схему и выполните задание.

Какие суждения, относящиеся к событию, обозначенному на схеме, являются верными? Выберите несколько суждений из шести предложенных. Запишите в таблицу цифры, под которыми они указаны.

1. В составе русских войск, участвовавших в битве, не было дружин из Рязанского княжества.
2. На стороне ордынцев в битве участвовали литовские полки под командованием князя Ягайло.
3. Битва была крупнейшим сражением русских и ордынских сил начала XV в.
4. Вскоре после победы в битве русские земли освободились от ордынской зависимости.
5. Результаты битвы имели большое значение для укрепления авторитета Москвы как политического центра объединения русских земель.
6. Московский князь Дмитрий Иванович сражался в пешем строю в доспехах простого воина.

Рассмотрите схему и выполните задание.

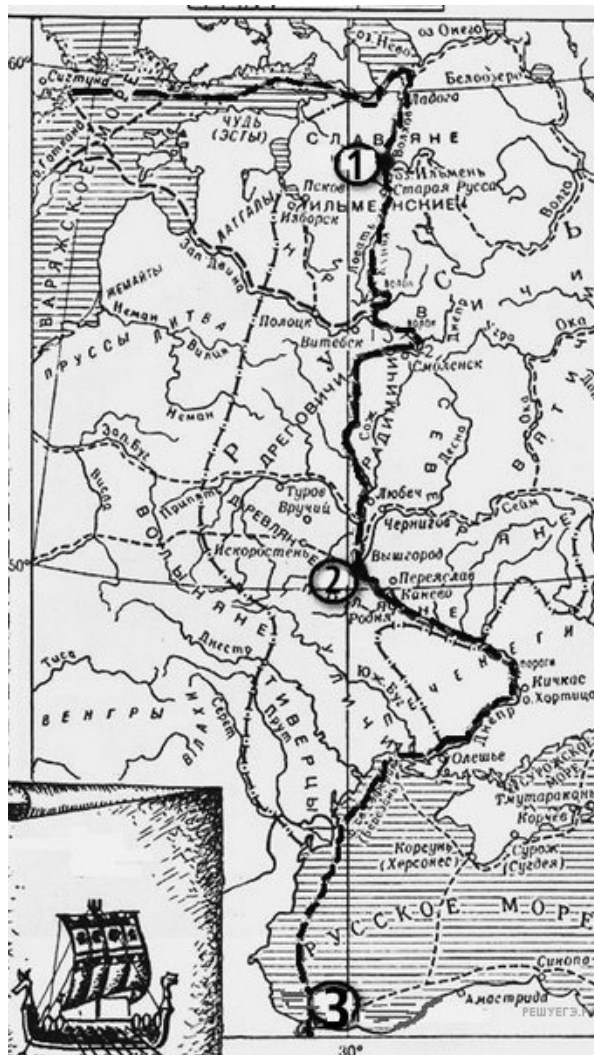


7. Рассмотрите схему и выполните задание.

Какие суждения, относящиеся к событиям, обозначенным на схеме, являются верными? Выберите несколько суждений из шести предложенных. Запишите в таблицу цифры, под которыми они указаны.

1. Россия победила в этой войне.
2. Во время войны правительство сняло ограничения на право перехода крестьян к другому хозяину.
3. Противником России в войне была Швеция.
4. Во время войны образовалось новое государство Речь Посполитая.
5. В ходе войны произошло ужесточение внутренней политики.
6. Война проходила в завершающий период образования единого Русского государства.

Рассмотрите схему и выполните задание.



8. Рассмотрите схему и выполните задание.

Какие суждения, относящиеся к событиям, обозначенным на схеме, являются верными? Выберите несколько суждений из шести предложенных. Запишите в таблицу цифры, под которыми они указаны.

1. Этот торговый путь был одним из важнейших в Европе в этот период.
2. Основным торговым партнером Руси в этот период была Византия.
3. Русские князья начали совершать военные походы на Византию в начале X века.
4. Основными союзниками русских князей в конце IX — начале X века были печенеги.
5. Основными предметами экспорта были благовония и фрукты.
6. Население Древней Руси платило дань великому князю за управление русскими землями.

Рассмотрите схему и выполните задание.



9. Рассмотрите схему и выполните задание.

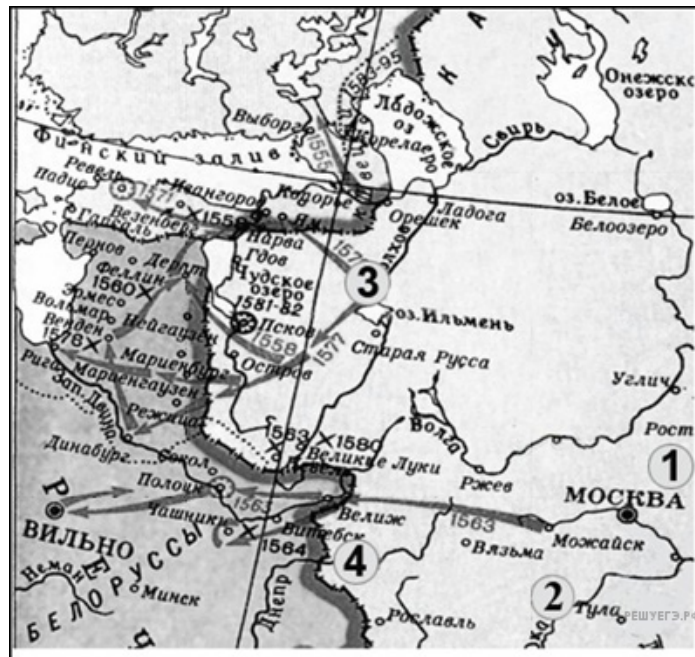
Какие суждения, относящиеся к событиям, обозначенным на схеме, являются верными? Выберите суждения из шести предложенных. Запишите в таблицу цифры, под которыми они указаны.

1. На данной карте стрелками обозначены походы Ярослава Мудрого против половцев.
2. О первых самостоятельных шагах князя «Повесть временных лет» сообщает с 964 года, когда «пошёл на Оку реку и на Волгу, и встретил вятичей»: в результате похода вятичи были временно подчинены Киевской Руси.
3. Во время походов князь «смирил» печенегов и заставил их платить дань Киеву.
4. По сведениям древнерусской летописи, победоносный полководец вплотную подошёл к Царьграду, но отступил, лишь взяв большую дань и закончив войну против Византийской империи подписанием мира.
5. В результате ратных походов (964–972 гг.), обозначенных на схеме, князь с дружиной победил Хазарию и Волжскую Болгарию, ослабил и устрасил Византийскую Империю, открыл пути для торговли Руси с восточными странами.
6. Балканские завоевания были утрачены, но победы на Волге, на Дону и в Приазовье были закреплены. Это дало возможность взять под контроль Великий Волжский путь, который соединяет Русь, Скандинавию и Каспий.

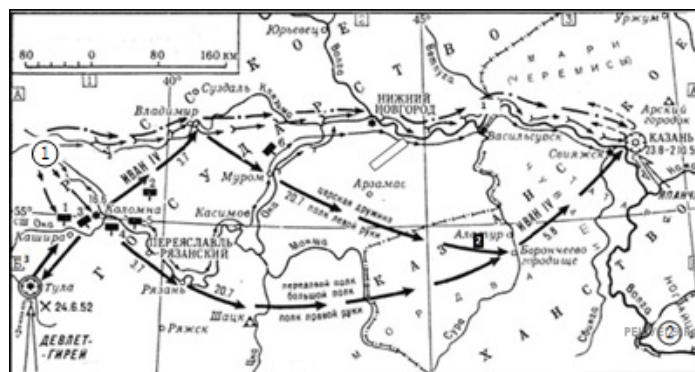
10. Рассмотрите схему и выполните задание.

Какие суждения, относящиеся к событиям, обозначенным на схеме, являются верными? Выберите несколько суждений из шести предложенных. Запишите в таблицу цифры, под которыми они указаны.

1. Россия победила в этой войне.
2. Во время войны правительство сняло ограничения на право перехода крестьян к другому хозяину.
3. Противником России в войне была Швеция.
4. Во время войны образовалось новое государство Речь Посполитая.
5. В ходе войны произошло ужесточение внутренней политики.
6. Война проходила в завершающий период образования единого Русского государства.



Рассмотрите схему и выполните задание.



11. Рассмотрите схему и выполните задание.

Какие суждения, относящиеся к событиям, обозначенным на схеме, являются верными? Выберите суждения из шести предложенных. Запишите в таблицу цифры, под которыми они указаны.

1. Для завоевания столицы ханства была предпринята серия военных походов: второй из них увенчался успехом.
2. В 1559 году московский царь в третий раз осадил столицу ханства.
3. После взрыва городских стен заложенным в тайно сделанных подкопах порохом, город был взят штурмом, значительная часть населения перебита, а сам город сгорел.
4. В результате событий, обозначенных на схеме, ханство прекратило своё существование, и Среднее Поволжье в значительной своей части было присоединено к России, в итоге возникли предпосылки для освоения русскими переселенцами Поволжья, дальнейшего продвижения на Урал и в Сибирь.

5. Одним из последствий событий, обозначенных на схеме, было начало раздробленности Золотой Орды.

6. В память о взятии столицы и победе над ханством был построен Собор Василия Блаженного на Красной площади в Москве.

Рассмотрите схему и выполните задание.



12. Рассмотрите схему и выполните задания.

Какие суждения, относящиеся к событиям, связанным с присоединением указанных территорий, являются верными? Выберите несколько суждений из шести предложенных. Запишите в таблицу цифры, под которыми они указаны.

1. Присоединение данных территорий относится к XVII в.
2. Присоединению данных территорий способствовало восстание местных жителей против прежней власти.
3. До присоединения к России данные территории принадлежали Османской империи.
4. Указанные территории при присоединении получили автономные права.
5. Договор о признании данных территорий за Россией был заключён в Смоленске.
6. Война, которую Россия вела за эти территории, получила название Смоленской.

Рассмотрите схему и выполните задание.

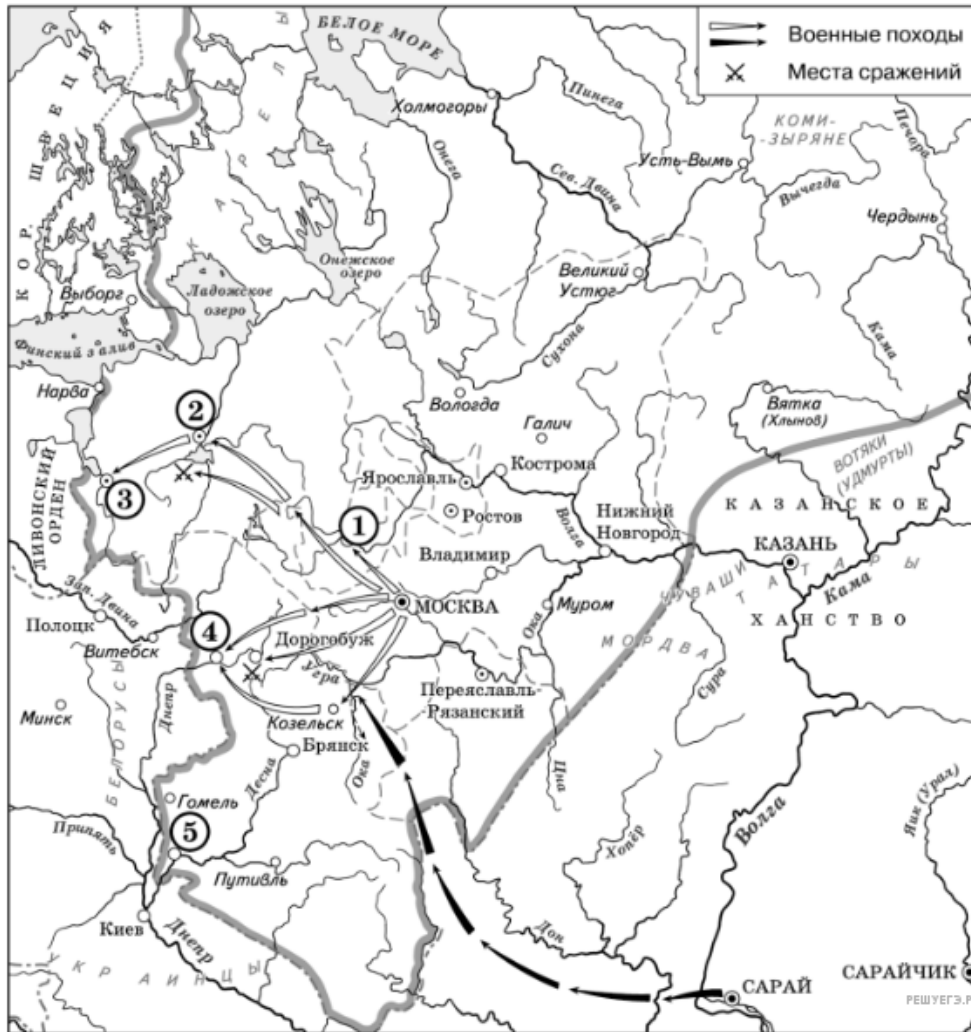


14. Рассмотрите схему и выполните задания.

Какие суждения, относящиеся к событиям, обозначенным на схеме, являются верными? Выберите несколько суждений из шести предложенных. Запишите в таблицу цифры, под которыми они указаны.

1. Изображённые события относятся к XIII в.
2. Сражение с участием отрядов русских князей произошло на реке Калка.
3. Русскими войсками командовал князь Александр Невский.
4. Угроза нападения с юго-востока явилась предпосылкой объединения русских княжеств.
5. Для отражения нападения русские земли заключили союз с Литвой.
6. Сражение было проиграно русскими войсками, потому что русские князья действовали разрозненно.

Рассмотрите схему и выполните задание.

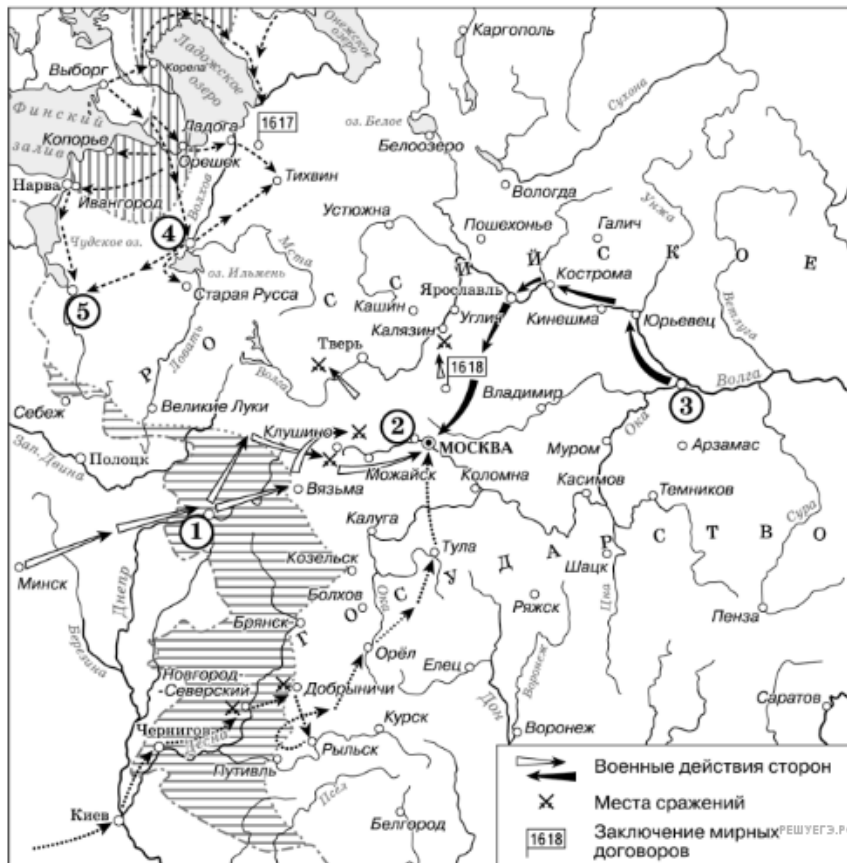


15. Рассмотрите схему и выполните задания.

Какие суждения, относящиеся к данной схеме, являются верными? Выберите несколько суждений из шести предложенных. Запишите в таблицу цифры, под которыми они указаны.

1. В городах, обозначенных цифрами 2 и 3, до вхождения в состав единого Русского государства существовала республиканская форма правления.
2. Следствием провала похода, обозначенного чёрными стрелками, стало освобождение Русского государства от ордынского ига.
3. Город, обозначенный цифрой 1, вошёл в состав единого Русского государства в 1478 г.
4. Ордынское войско в походе, обозначенном чёрными стрелками, возглавлял Мамай.
5. Город, обозначенный цифрой 2, вошёл в состав единого Русского государства в 1485 г.
6. Города, обозначенные цифрами 4 и 5, были отвоёваны Русским государством у Великого княжества Литовского.

Рассмотрите схему и выполните задание.

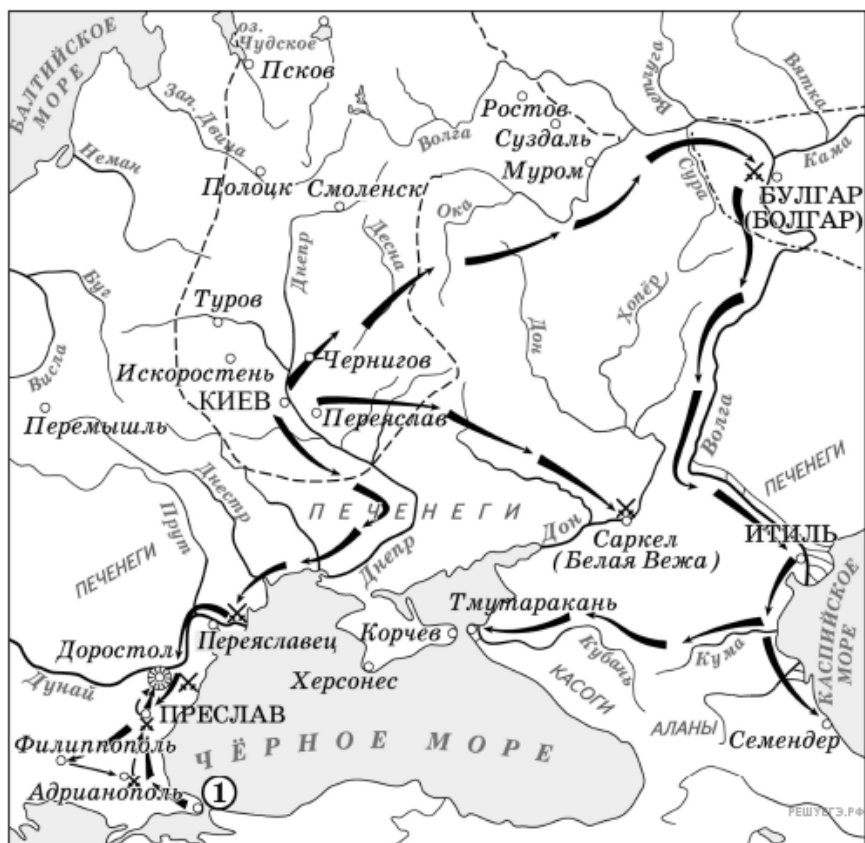


16. Рассмотрите схему и выполните задания

Какие суждения, относящиеся к данной схеме, являются верными? Выберите несколько суждений из шести предложенных. Запишите в таблицу цифры, под которыми они указаны.

1. Участниками событий, изображённых на схеме, были К. Булавин и протопоп Аввакум.
2. Староста посада обратился с призывом к сбору средств на борьбу с интервентами в городе, обозначенном на схеме цифрой 4.
3. Следствием событий, изображённых на схеме, стала утрата Россией заштрихованных на схеме территорий.
4. Одной из причин событий, изображённых на схеме, стало пресечение царствующей династии Рюриковичей.
5. Поход на Москву, обозначенный на схеме точечными стрелками, возглавлял самозванец, известный как Григорий Отрепьев.
6. Древний русский город, обозначенный на схеме цифрой 1, отбил все попытки интервентов захватить его.

Рассмотрите схему и выполните задание.

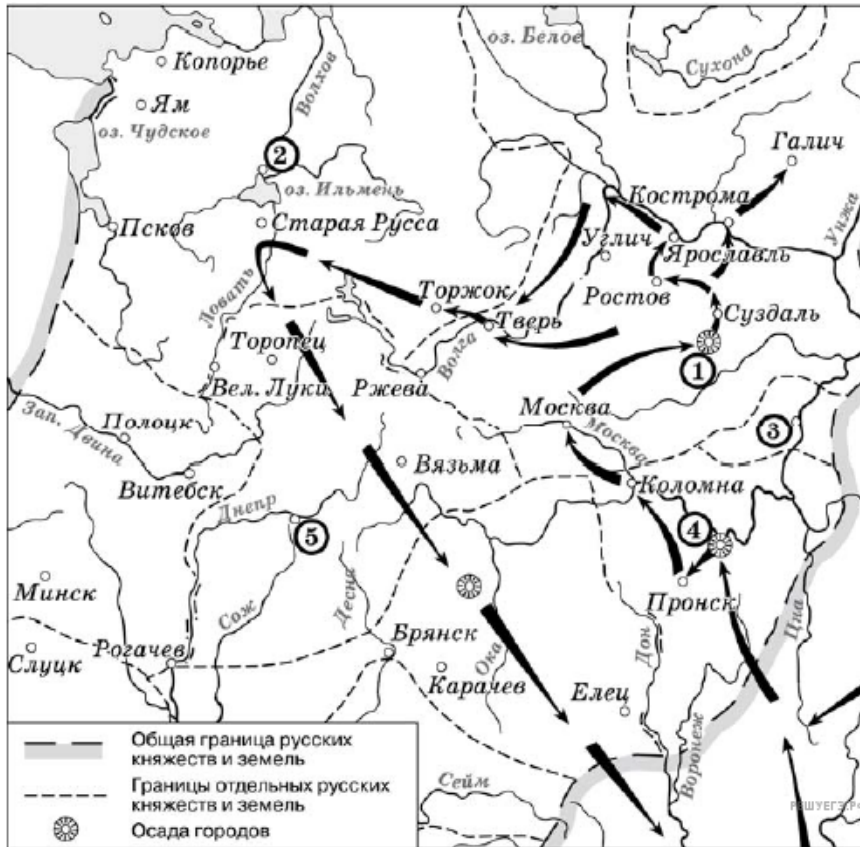


17. Рассмотрите схему и выполните задание.

Какие суждения, относящиеся к исторической ситуации, обозначенной на схеме, являются верными? Выберите несколько суждений из шести предложенных. Запишите в таблицу цифры, под которыми они указаны.

1. Все походы военачальника, обозначенные на схеме, были удачными для него.
2. Военачальник, походы которого обозначены на схеме, вёл первую в истории Древнерусского государства войну с Византией.
3. Военачальник, походы которого обозначены на схеме, погиб во время возвращения с очередной войны.
4. В ходе походов, обозначенных на схеме, был разгромлен Хазарский каганат.
5. На схеме указано название народа, в бою с представителями которого погиб военачальник, чьи походы обозначены на схеме.
6. Согласно летописи военачальник, руководивший походами, обозначенными на схеме, принял христианство.

Рассмотрите схему и выполните задание.

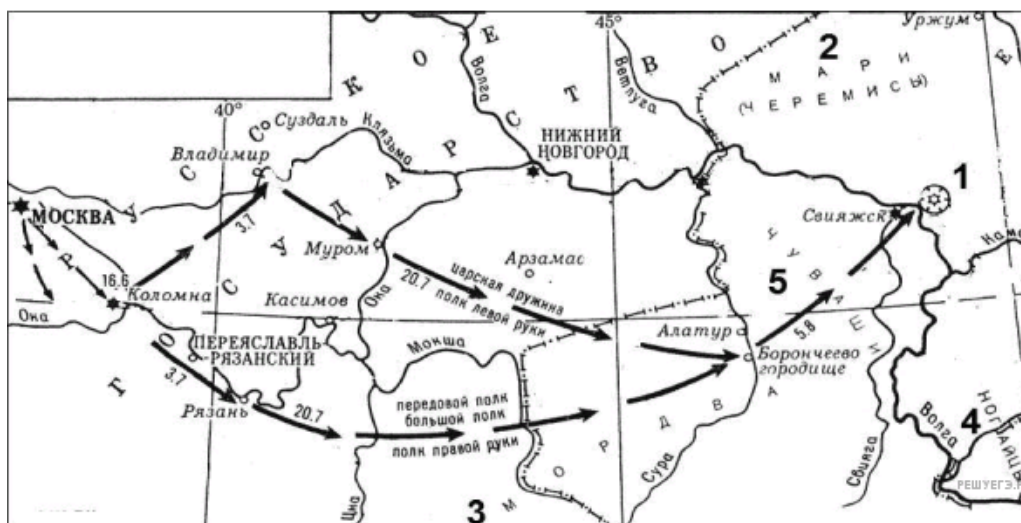


18. Рассмотрите схему и выполните задание

Какие суждения, относящиеся к событиям, обозначенным на схеме, являются верными? Выберите несколько суждений из шести предложенных. Запишите в ответ цифры, под которыми они указаны.

1. Завоеватели вторглись в пределы Руси в зимний период.
2. Ни один из городов, захваченных завоевателями, не выдержал осады более одной недели.
3. Поход, обозначенный на схеме стрелками, длился около трёх лет.
4. Одним из последствий событий, обозначенных на схеме, было начало раздробленности Древнерусского государства.
5. В результате событий, обозначенных на схеме, русские земли попали в зависимость.
6. Полководец, поход которого обозначен на схеме, является основателем государства.

Рассмотрите схему и выполните задание.

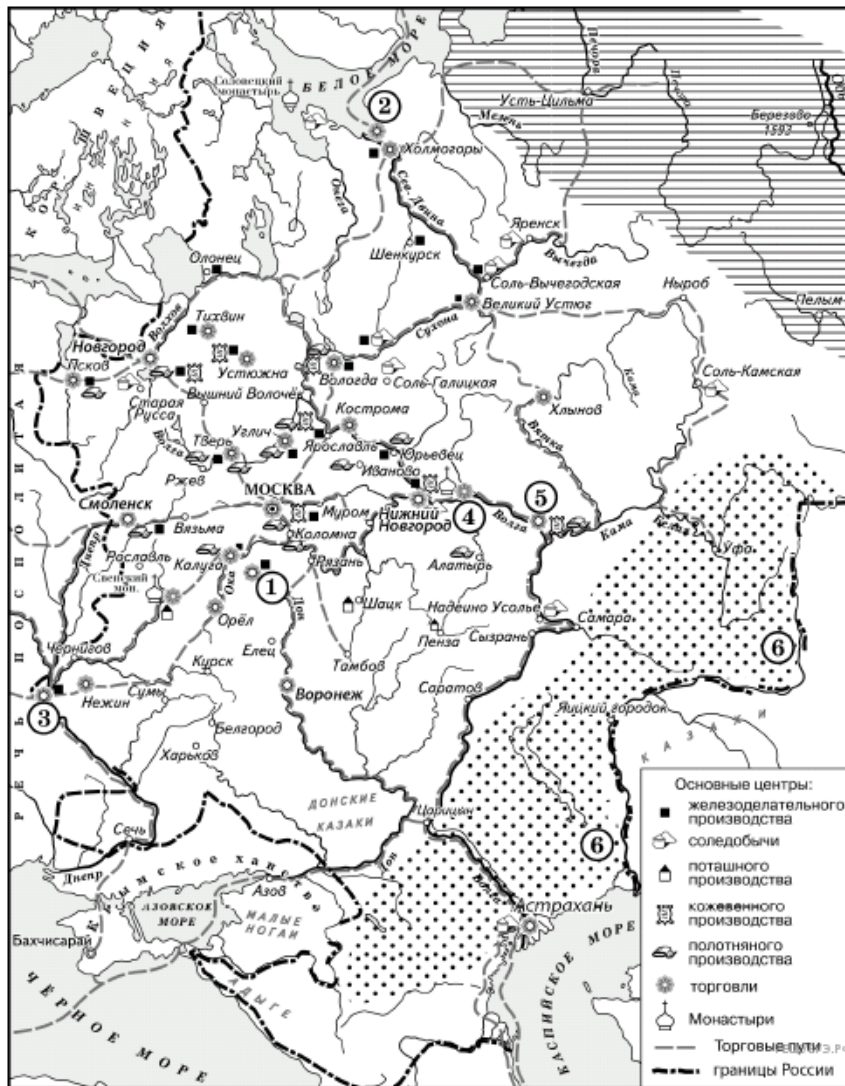


19. Рассмотрите схему и выполните задание.

Какие суждения, относящиеся к схеме, являются верными? Выберите несколько суждений из шести предложенных. Запишите в таблицу цифры, под которыми они указаны.



1. Победа в обозначенном на схеме походе была одержана за счёт недавно организованных на европейский лад «полков нового строя».
2. Значение похода, обозначенного на схеме, заключалось в частности в присоединении плодородных земель, необходимых для раздачи дворянам.
3. К финно-угорской группе относится народ, указанный на схеме под цифрой 2.
4. Обозначенный на схеме цифрой 1 город сдался русскому войску без сопротивления.
5. В правление российского государя, при котором произошли события, обозначенные на схеме, началось завоевание Сибири.
6. Народы, обозначенные на схеме под цифрами 4 и 5, относятся к славянской языковой группе.

Рассмотрите схему и выполните задание.

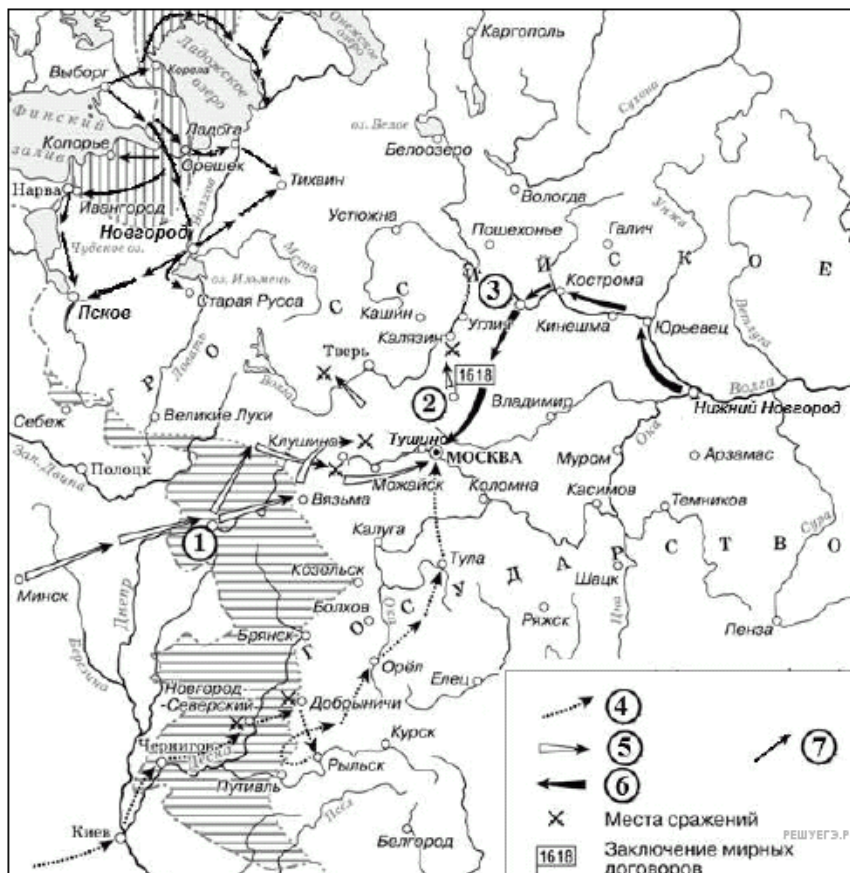


20. Рассмотрите схему и выполните задание.

Какие суждения, относящиеся к данной схеме, являются верными? Выберите несколько суждений из шести предложенных. Запишите в таблицу цифры, под которыми они указаны.

1. Крупными центрами кожевенного производства согласно схеме были Тверь, Калуга, Смоленск.
2. Горизонтальной штриховкой  на схеме обозначены районы, специализировавшиеся на пушном промысле.
3. Точечным узором  на схеме обозначен основной район производства льна и пеньки.
4. Цифрой 6 на схеме обозначена река, название которой было изменено в результате крупного народного восстания, произошедшего в том же веке, в котором установились границы Европейской части России, обозначенные на схеме.
5. Цифрой 5 на схеме обозначен город, вошедший в состав Российского государства в период правления Ивана IV.
6. Цифрой 2 на схеме обозначен Архангельск.

Рассмотрите схему и выполните задание.

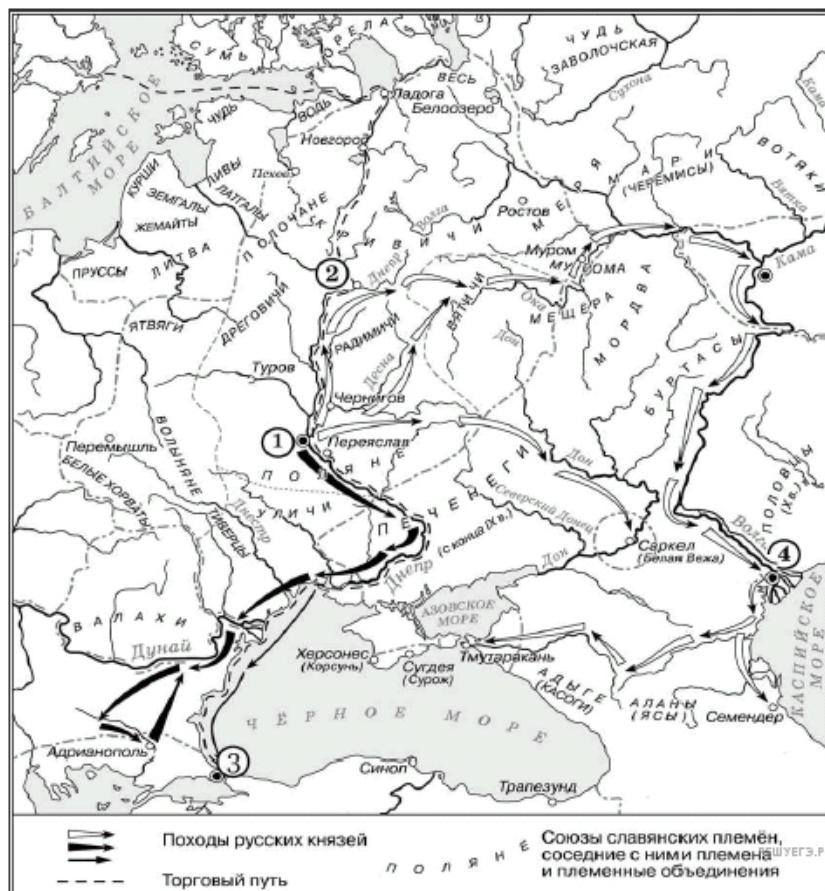


22. Рассмотрите схему и выполните задание.

Какие суждения, относящиеся к исторической ситуации, обозначенной на схеме, являются верными? Выберите несколько суждений из шести предложенных. Запишите в таблицу цифры, под которыми они указаны.

1. Самозванец, действия войск которого обозначены стрелками, подписанными в легенде схемы цифрой 4, получил прозвище «Тушинский вор».
2. Город, обозначенный на схеме цифрой 1, в ходе событий, которым посвящена схема, был захвачен неприятелем после более чем 20-месячной осады.
3. Цифрой 2 на схеме обозначено село Деулино.
4. Действиями войск, обозначенных стрелками, подписанными в легенде схемы цифрой 7, в период, которому посвящена схема, командовал Карл XII.
5. Одним из руководителей похода, обозначенного стрелками, подписанными в легенде схемы цифрой 6, был М. В. Скопин-Шуйский.
6. Территории, заштрихованные на схеме, были потеряны Россией в результате обозначенных событий, но полностью возвращены в течение следующих полутора столетий.

Рассмотрите схему и выполните задание.

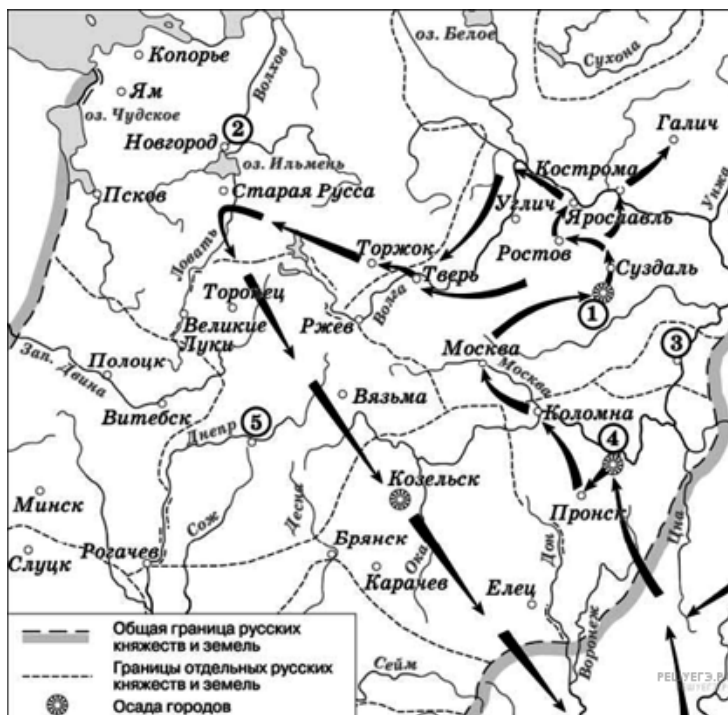


23. Рассмотрите схему и выполните задание.

Какие суждения, относящиеся к исторической ситуации, обозначенной на схеме, являются верными? Выберите несколько суждений из шести предложенных. Запишите в ответ цифры, под которыми они указаны.

1. На схеме обозначен город — племенной центр ильменских словен.
2. Цифрой 2 на схеме обозначен город — центр восточнославянского племенного союза древлян.
3. Поход князя Игоря, совершённый в 941 г. и обозначенный на схеме стрелками \longrightarrow , был успешным.
4. Цифрой «4» на схеме обозначена столица Хазарского каганата.
5. Торговый путь, обозначенный на схеме, соединял Древнерусское государство со странами Арабского Востока.
6. На схеме обозначено место обитания союза кочевых племён, крупную победу над которым в 1036 г. одержал киевский князь Ярослав Мудрый.

Рассмотрите схему и выполните задание.



24. Рассмотрите схему и выполните задание.

Какие суждения, относящиеся к событиям, обозначенным на схеме, являются верными? Выберите несколько суждений из шести предложенных. Запишите в таблицу цифры, которыми они обозначены.

1. Завоеватели вторглись в пределы Руси в зимний период.
2. Ни один из городов, захваченных завоевателями, не выдержал осады более одной недели.
3. Поход, обозначенный на схеме стрелками, длился около трёх лет.
4. Одним из последствий событий, обозначенных на схеме, было начало раздробленности Древнерусского государства.
5. В результате событий, обозначенных на схеме, русские земли попали в зависимость.
6. Полководец, поход которого обозначен на схеме, является основателем государства.

Рассмотрите схему и выполните задание.



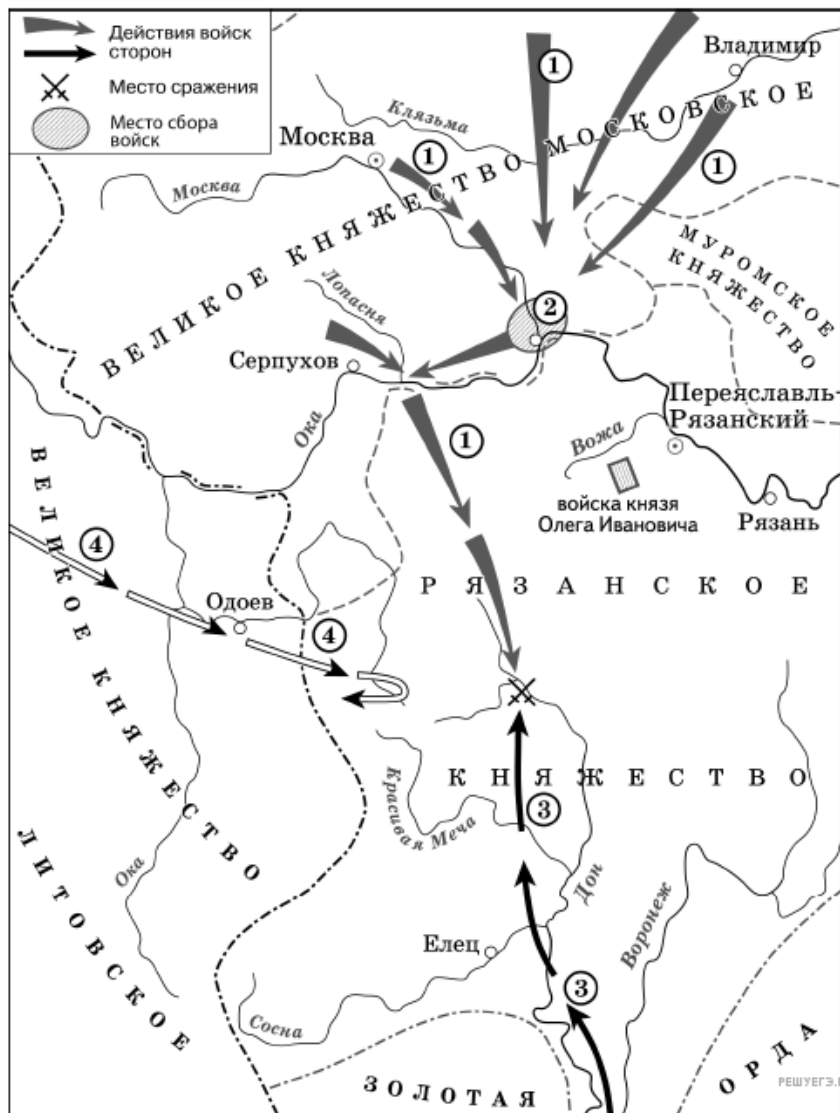
25. Рассмотрите схему и выполните задание.

Какие суждения, относящиеся к схеме, являются верными? Выберите несколько суждений из шести предложенных. Запишите в таблицу цифры, под которыми они указаны.

1. Земля, центром которой являлся город, обозначенный на карте цифрой 3, отличалась сильной княжеской властью.
2. Правители княжества, обозначенного на схеме цифрой 2, были одними из основных противников Москвы в борьбе за ярлык на великое княжение Владимирское.

3. В обозначенном на схеме под цифрой 4 сражении войско Орды возглавлял тёмник Мамай.
4. В обозначенном на схеме под цифрой 4 сражении русское войско потерпело жестокое поражение от войск ордынцев.
5. В том же веке, к концу которого сложились границы Великого княжества Московского, отображённые на схеме, правил московский князь Иван III.
6. Через два года после сражения, обозначенного на схеме цифрой 4, ордынские войска взяли и сожгли Москву.

Рассмотрите схему и выполните задание.

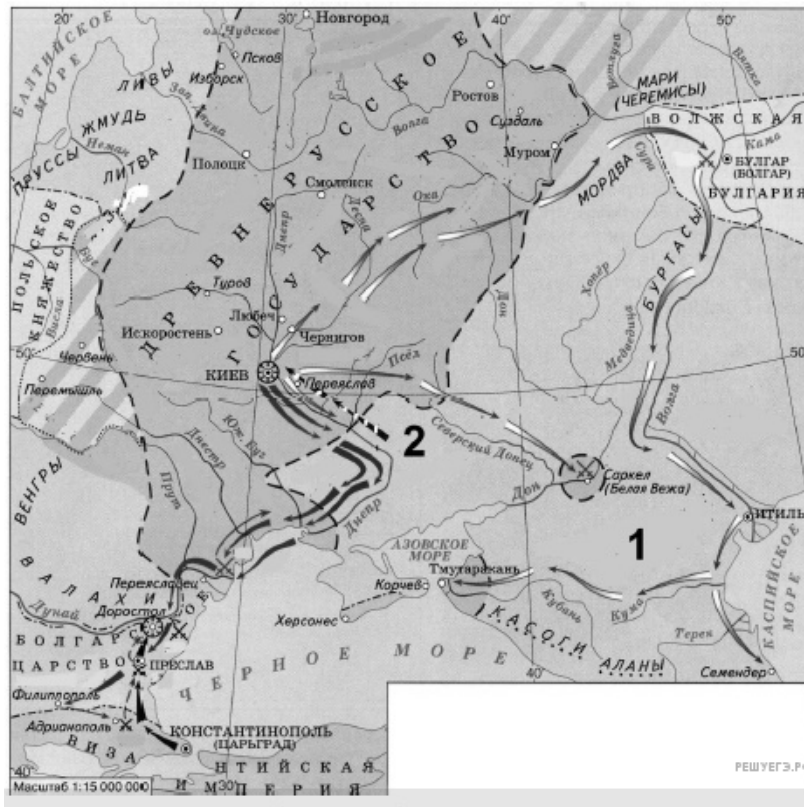


26. Рассмотрите схему и выполните задание.

Какие суждения, относящиеся к исторической ситуации, обозначенной на схеме, являются верными? Выберите несколько суждений из шести предложенных. Запишите в таблицу цифры, под которыми они указаны.

1. Действиями войск, направление движения которых обозначено на схеме цифрой 1, руководил князь — основатель династии московских князей.
2. Цифрой 4 на схеме обозначено направление движения войск под руководством литовского князя Ягайло.
3. В результате сражения, обозначенного на схеме, на Руси было окончательно ликвидировано ордынское владычество.
4. В сражении, обозначенном на схеме, на стороне русских войск принимали участие войска рязанского князя.
5. В период правления князя, руководившего действиями войск, обозначенных на схеме цифрой 1, были возведены белокаменные стены Московского Кремля.
6. На схеме обозначена река, по названию которой было дано прозвище московскому князю, руководившему действиями русских войск, обозначенных на схеме цифрой 1.

Рассмотрите схему и выполните задание.

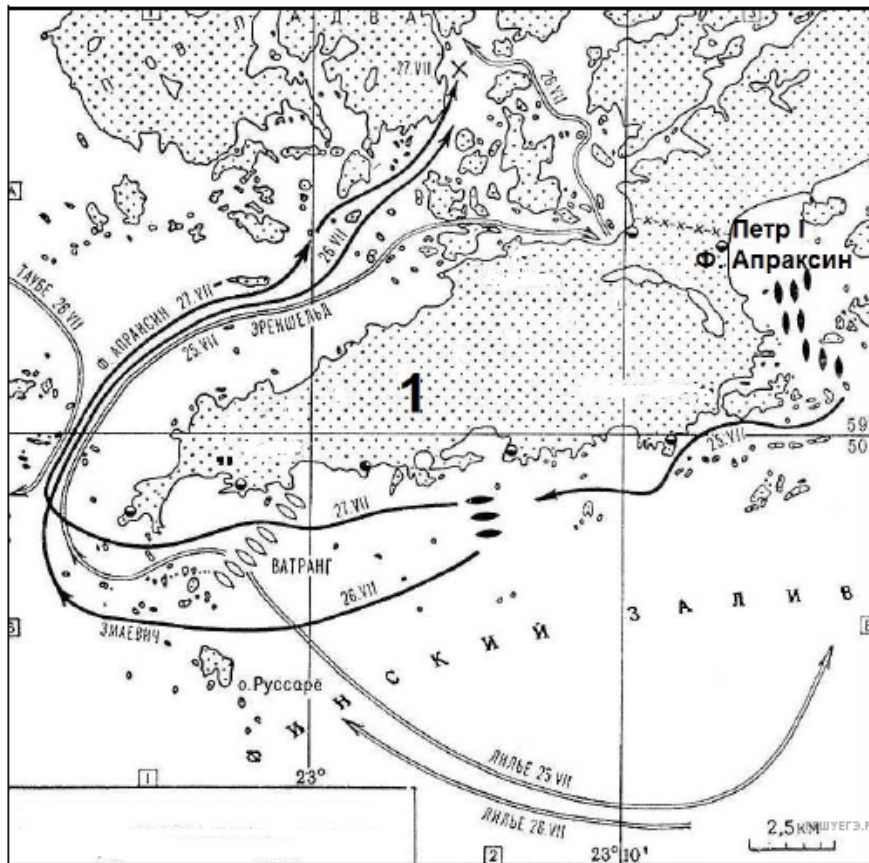


27. Рассмотрите схему и выполните задание.

Какие суждения, относящиеся к событиям, обозначенным на схеме, являются верными? Выберите несколько суждений из шести предложенных. Запишите в таблицу цифры, под которыми они указаны.

1. Одним из результатов походов древнерусского князя, которым посвящена схема, стал разгром государства, отображённого под цифрой 1.
2. Изображённые на схеме события относятся к XI в.
3. Мать древнерусского князя, походы которого изображены на схеме, правила государством в его малолетство и провела реформу сбора дани.
4. С именем древнерусского князя, походы которого изображены на схеме, связано принятие «Русской Правды».
5. В результате одного из походов данному древнерусскому князю удалось захватить Константинополь.
6. Древнерусский князь, походы которого изображены на схеме, пал вместе с дружиной в результате нападения кочевых племен, место проживания которых обозначено на схеме цифрой 2.

Рассмотрите схему и выполните задание.



28. Какие суждения, относящиеся к событиям, обозначенным на схеме, являются верными? Выберите несколько суждений из шести предложенных. Запишите в таблицу цифры, под которыми они указаны.

1. Изображённое на схеме сражение стало первой крупной морской победой России.
2. Противником России в войне, события которой изображены на схеме, была Франция.
3. Во время войны, к событиям которой относится изображённое на схеме сражение, в России была учреждена Адмиралтейств-коллегия.
4. В войне, к событиям которой относится изображённое на схеме сражение, союзником России была Англия.
5. В сражении, изображённом на схеме, принимал участие русский царь.
6. Победа русских в сражении, изображённом на схеме, была достигнута за счёт их подавляющего превосходства над противником в крупных парусных кораблях.

Рассмотрите схему и выполните задание.

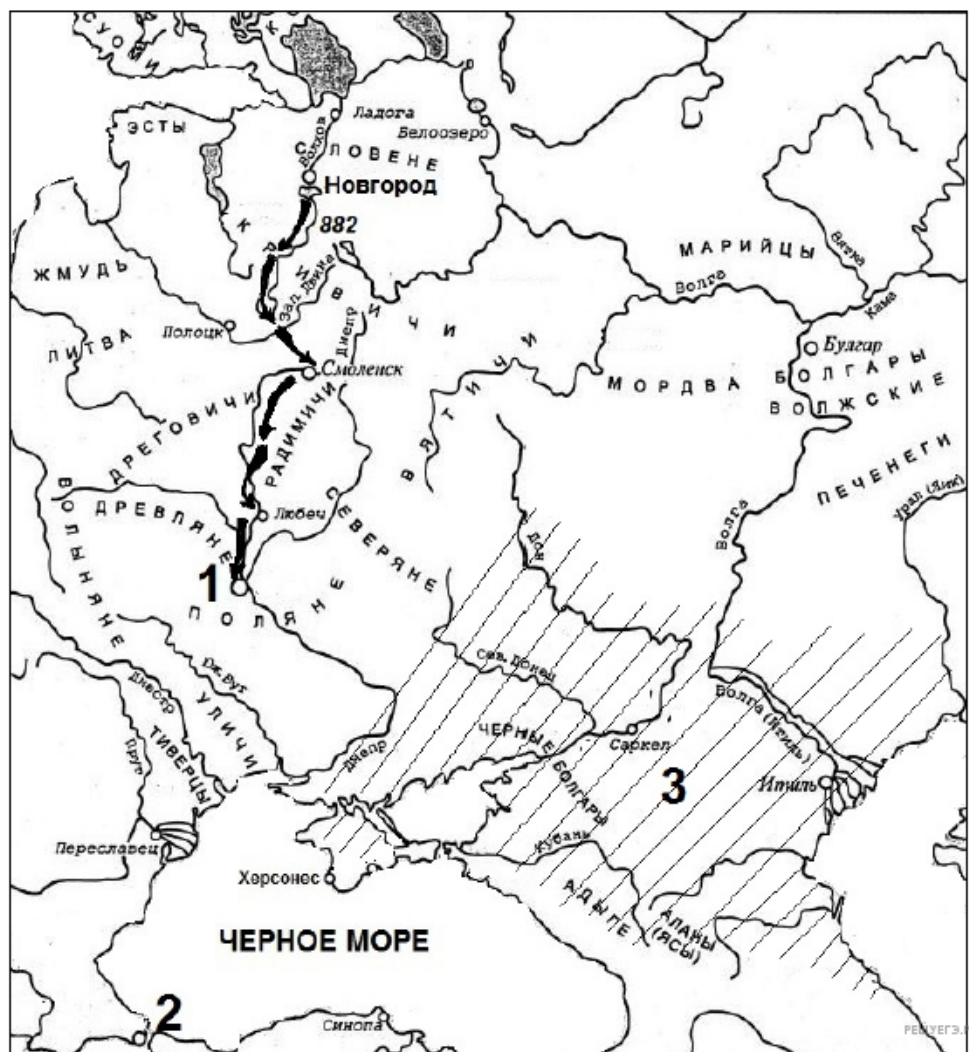


29. Рассмотрите схему и выполните задание.

Какие суждения, относящиеся к схеме, являются верными? Выберите несколько суждений из шести предложенных. Запишите в таблицу цифры, под которыми они указаны.

1. Древнерусский князь, под руководством которого происходили сражения, обозначенные на схеме, прославился также борьбой с Ордой.
2. Сражения, изображённые на схеме, происходили в XIII в.
3. В сражении, обозначенном на схеме цифрой 2, противником русских выступали силы Ливонского ордена.
4. Древнерусский князь, под руководством которого происходили сражения, обозначенные на схеме, был основателем Москвы.
5. Особенностью земли, центром которой был город, обозначенный на схеме цифрой 1, были плодородные земли, позволявшие развивать пашенное земледелие.
6. В городе, обозначенном на схеме под цифрой 1, долгое время сохранялись традиции вечевой демократии.

Рассмотрите схему и выполните задание.

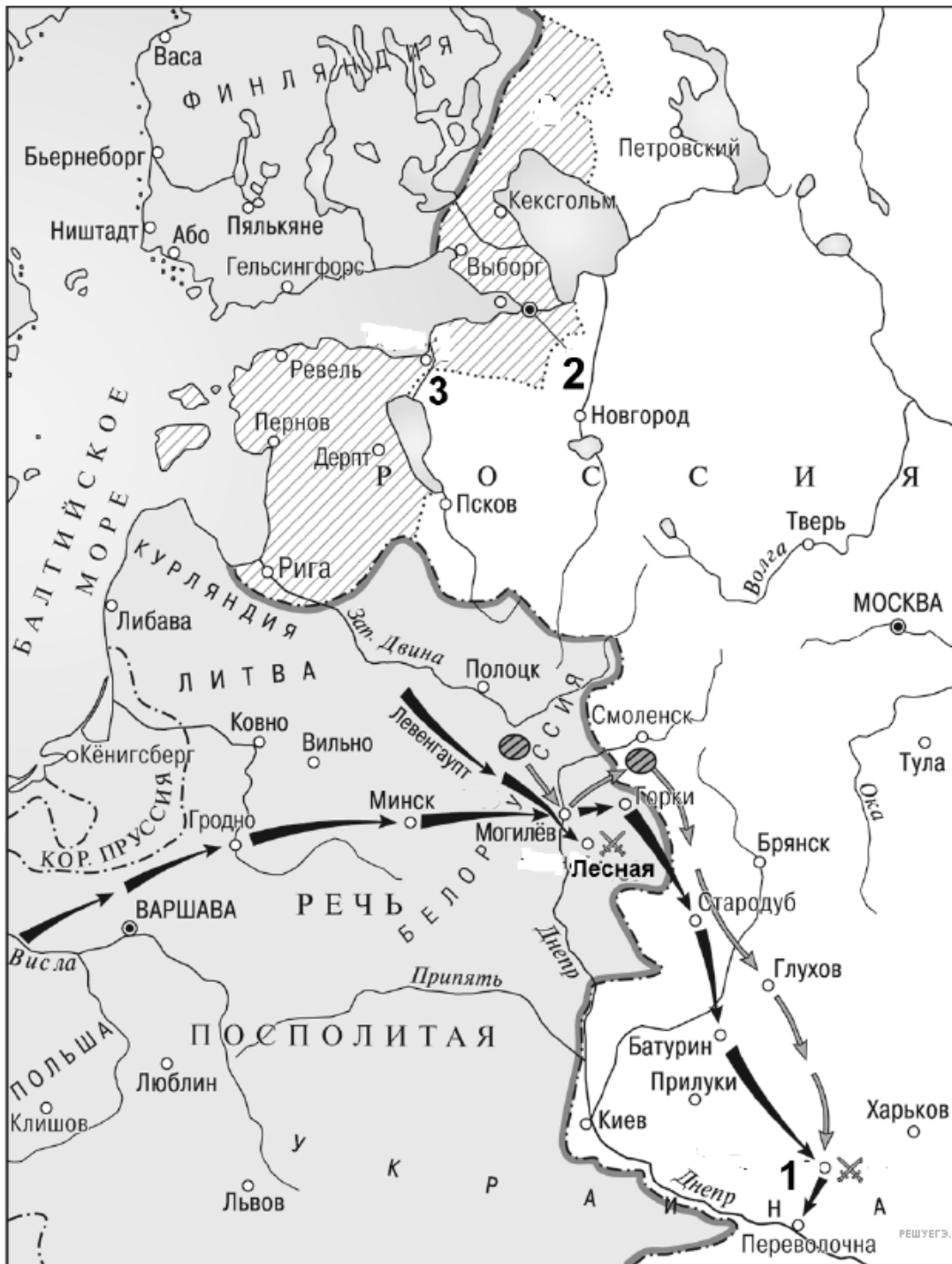


30. Рассмотрите схему и выполните задание.

Какие суждения, относящиеся к событиям, обозначенным на схеме, являются верными? Выберите несколько суждений из шести предложенных. Запишите в таблицу цифры, под которыми они указаны.

1. Поход, который отображён на схеме, привел к распаду единого Древнерусского государства.
2. Князь, руководивший походом, изображённым на схеме, предпринял в дальнейшем успешный поход на Византию.
3. Незадолго до событий, которым посвящена схема, население изображённого на ней под цифрой 1 города и прилегающих территорий, платило дань государству, изображённому на схеме под цифрой 3.
4. Изображённое под цифрой 3 государство было уничтожено в результате действий князя, поход которого изображён на схеме.
5. Князь, руководивший походом, изображённым на схеме, погиб в результате схватки с печенегами.
6. Город, изображённый на схеме под цифрой 2, в древнерусских летописях назывался Царьградом.

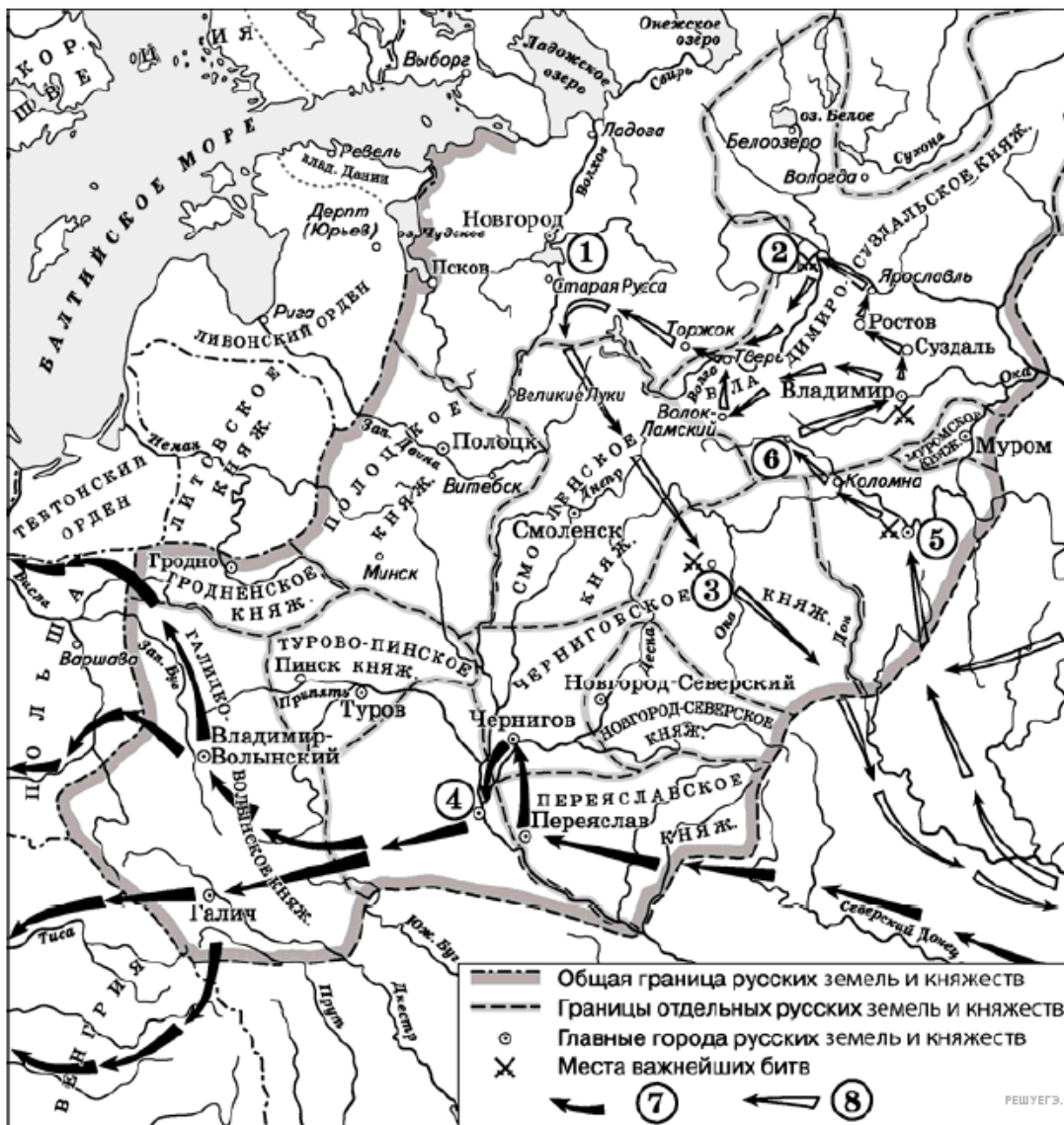
Рассмотрите схему и выполните задание.



31. Какие суждения, относящиеся к событиям, обозначенным на схеме, являются верными? Выберите несколько суждений из шести предложенных. Запишите в таблицу цифры, под которыми они указаны.

1. В этой войне главным противником России была Австрийская империя.
2. Война, события которой отображены на схеме, длилась более двадцати лет.
3. В сражении под городом, обозначенном на схеме цифрой 1, русское войско потерпело сокрушительное поражение.
4. В ходе данной войны в России было учреждено стрелецкое войско.
5. Во главе государства – главного противника России в этой войне стоял король Карл XII.
6. Итогом войны стало присоединение к России заштрихованной на схеме территории.

Рассмотрите схему и выполните задание.



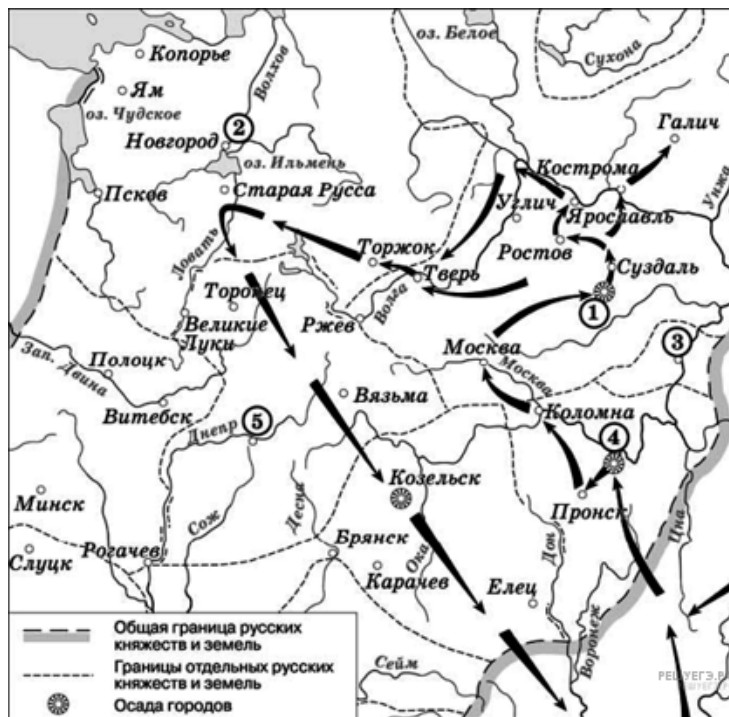
32. Рассмотрите схему и выполните задание.

Какие суждения, относящиеся к данной схеме, являются верными? Выберите несколько суждений из шести предложенных. Запишите в таблицу цифры, под которыми они указаны.

1. Цифрой 5 на схеме обозначена Рязань.
2. Первое летописное упоминание о городе, обозначенном на схеме цифрой 6, относится к 1147 г.
3. Цифрой 2 на схеме обозначена река Калка.
4. Стрелками, обозначенными в легенде схемы цифрой 8, показаны действия монгольских войск.
5. Боярин Евпатий Коловрат, прославившийся своей храбростью, был родом из города, обозначенного на схеме цифрой 4.
6. Цифрой 1 на схеме обозначен водный объект, по которому в годы Великой Отечественной войны проходила Дорога жизни.

33. Какие суждения, относящиеся к событиям, обозначенным на схеме, являются верными? Выберите несколько суждений из шести предложенных. Запишите в таблицу цифры, под которыми они указаны. *Цифры укажите в порядке возрастания.*

1. Завоеватели вторглись в пределы Руси в зимний период.
2. Ни один из городов, захваченных завоевателями, не выдержал осады более одной недели.
3. Ям и Копорье были захвачены завоевателями в ходе событий, обозначенных на схеме стрелками.
4. Одним из последствий событий, обозначенных на схеме, было начало раздробленности Древнерусского государства.
5. Завоеватели, поход которых обозначен на схеме стрелками, вторглись в пределы Руси с юго-востока.
6. Военачальник, поход которого обозначен на схеме, является основателем государства.



Рассмотрите схему и выполните задание.

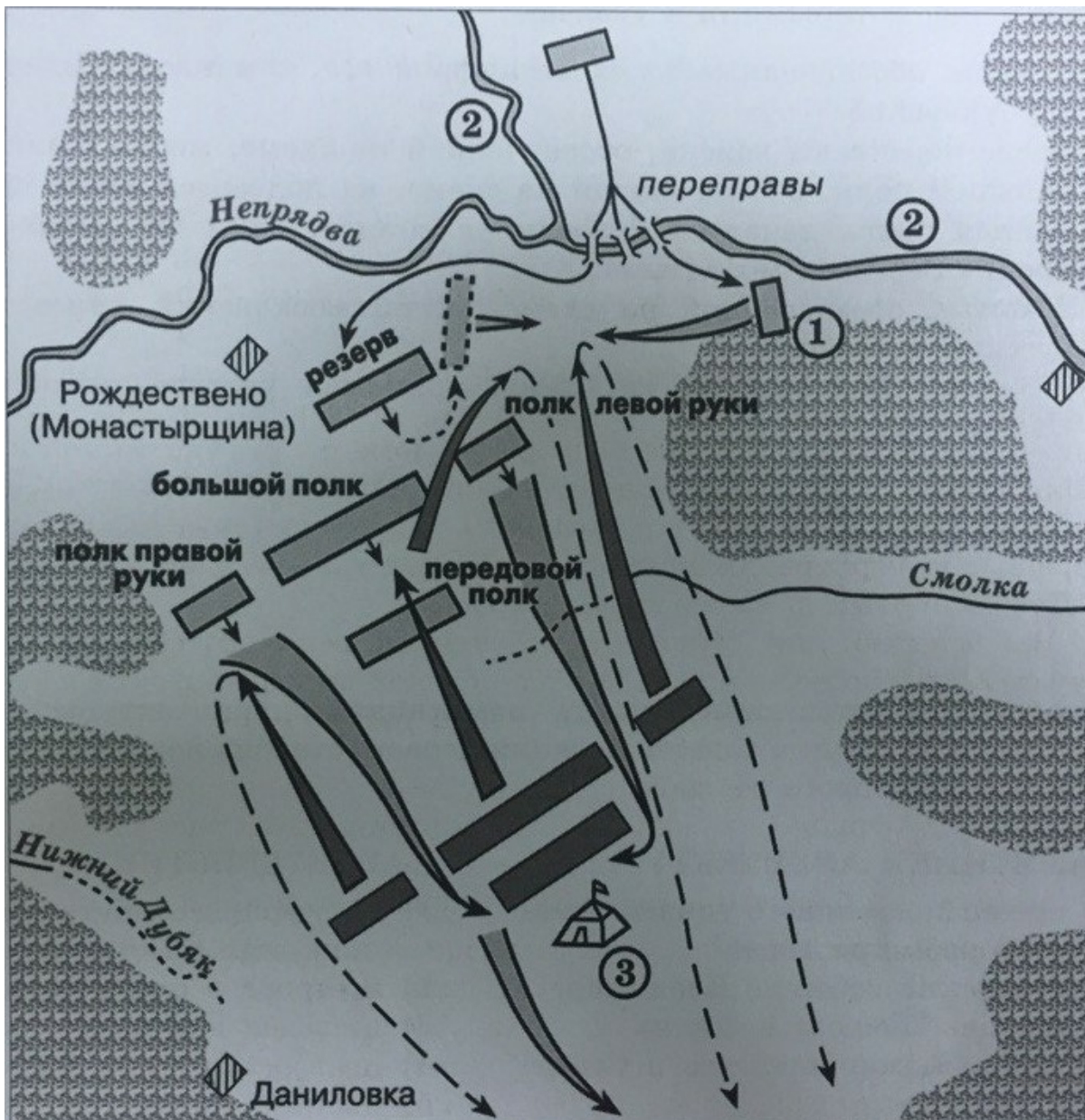


34. Рассмотрите схему и выполните задание.

Какие суждения, относящиеся к событиям, обозначенным на схеме, являются верными? Выберите несколько суждений из шести предложенных. Запишите в таблицу цифры, под которыми они указаны.

1. Цифрой 1 на схеме обозначен г. Смоленск.
2. В период, когда происходили события, обозначенные на схеме стрелками, российским царём был Алексей Михайлович.
3. В период, к которому относится данная схема, в Европе шла Столетняя война между Францией и Англией.
4. Цифрой 5 на схеме обозначен город, вошедший в состав России в том же веке, к которому относятся события, обозначенные на схеме.
5. В том же веке, в котором произошли события, обозначенные на схеме стрелками, Россия создала Черноморский флот.
6. На схеме обозначено место подписания перемирия, по которому была установлена граница между Россией и Речью Посполитой, обозначенная на схеме.

Рассмотрите схему и выполните задание.



35. Рассмотрите схему и выполните задание.

Какие суждения, относящиеся к битве, представленной на схеме, являются верными? Выберите несколько суждений из шести предложенных. Запишите в таблицу цифры, под которыми они указаны.

1. Полком, обозначенным на схеме цифрой 1, командовал Владимир Андреевич Серпуховской.
2. После переправы войска, обозначенной на схеме, мосты были сожжены.
3. Большой полк, обозначенный на схеме, не подвергся атаке противника.
4. Данная битва началась с поединка воинов, один из которых был монахом Троице-Сергиева монастыря.
5. В битве, обозначенной на схеме, погиб московский князь, командовавший русским войском.
6. В битве, обозначенной на схеме, принимал участие рязанский князь Олег Иванович.

Рассмотрите схему и выполните задание.

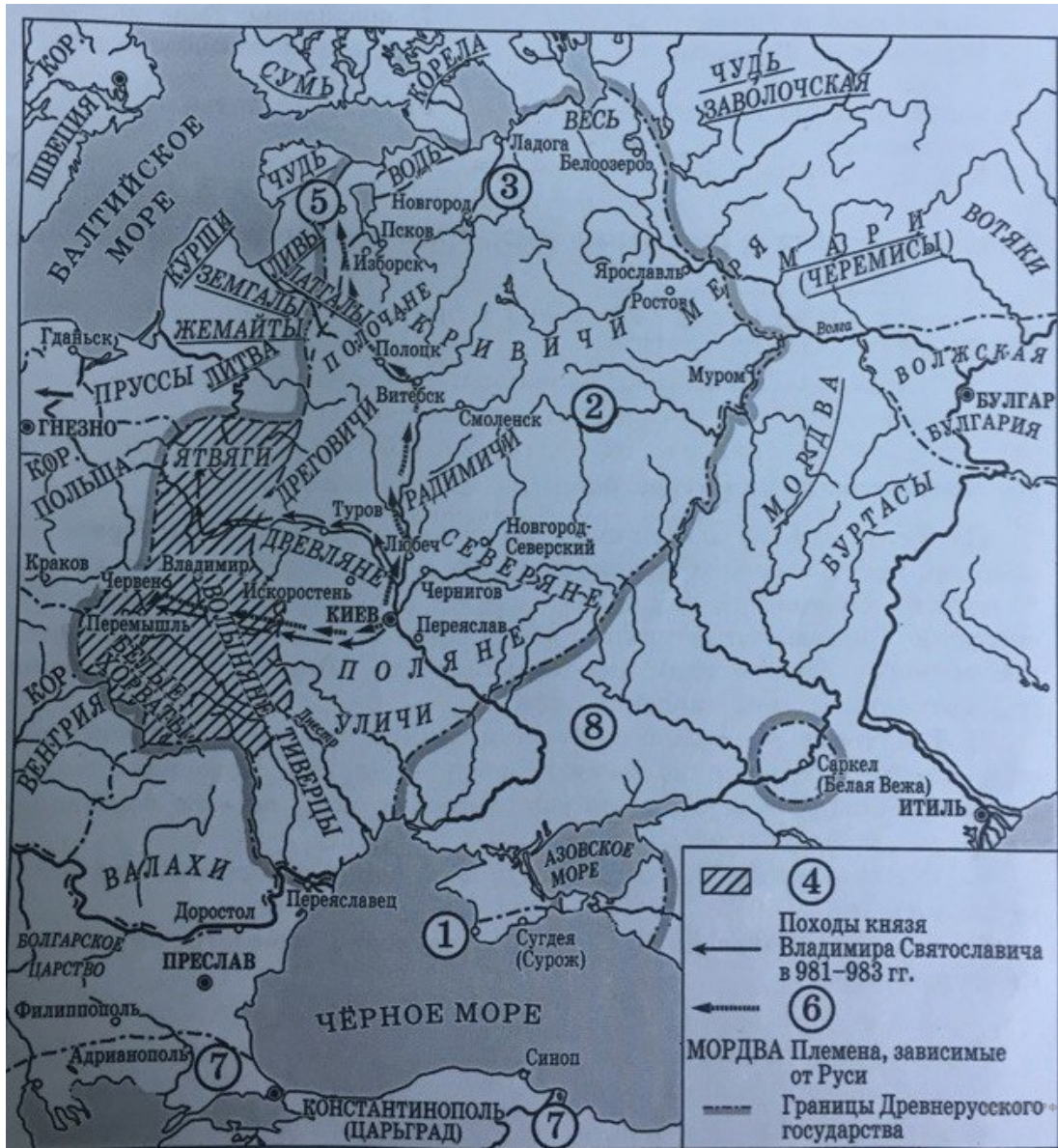


36. Рассмотрите схему и выполните задание.

Какие суждения, относящиеся к событиям, обозначенным на схеме, являются верными? Выберите несколько суждений из шести предложенных. Запишите в таблицу цифры, под которыми они указаны.

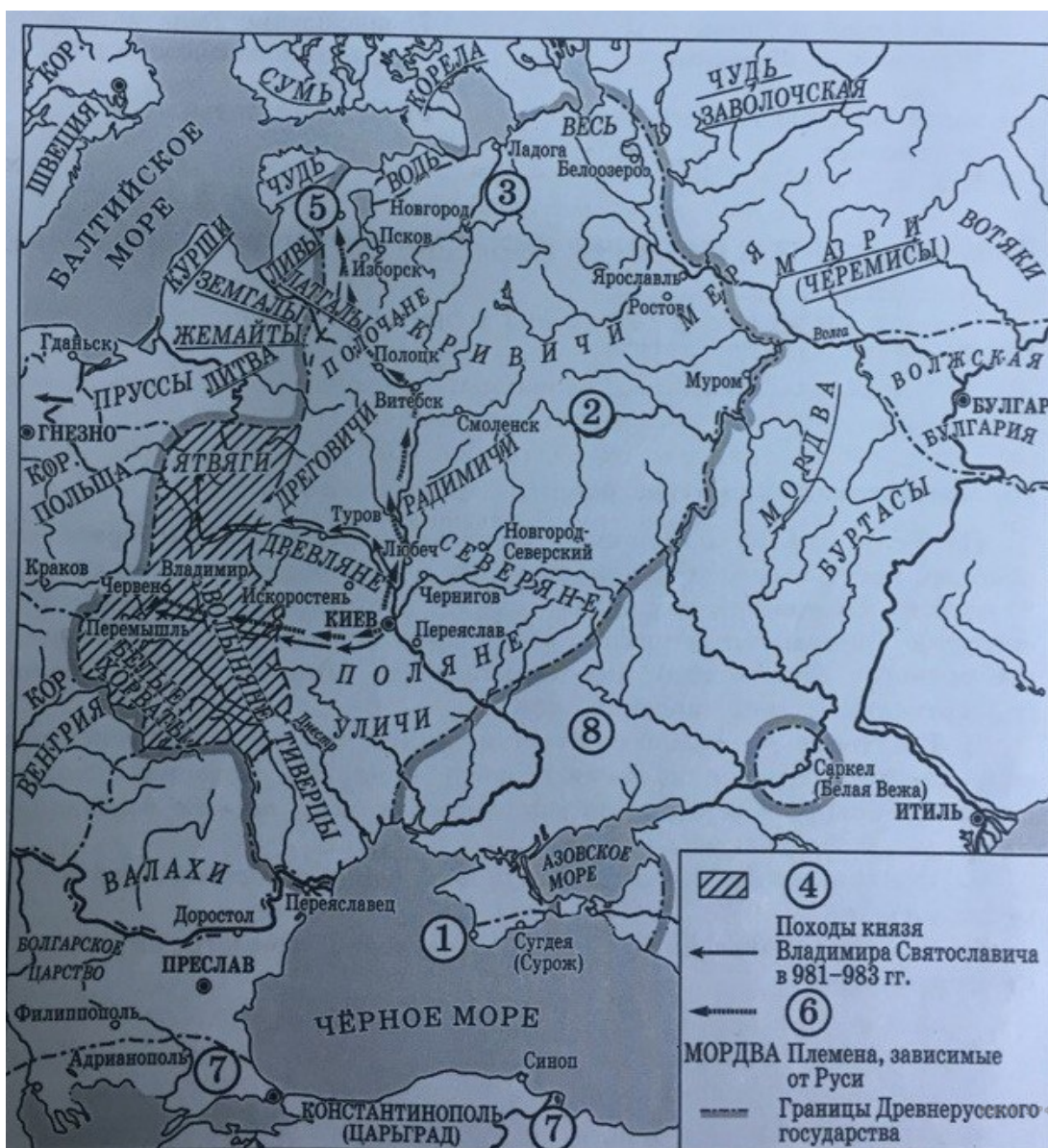
1. Князь, походы которого обозначены на схеме, согласно летописи, планировал перенести столицу Древнерусского государства.
2. Последствием походов князя, обозначенных на схеме, стала раздробленность русских земель.
3. В ходе одного из походов, обозначенных на схеме, произошло первое столкновение русских и половецких войск.
4. В городе, обозначенном на схеме цифрой 2, был заключён первый письменный договор Древнерусского государства.
5. На схеме обозначен поход, в ходе которого был разгромлен Хазарский каганат.
6. Во время походов князя, которые обозначены на схеме, государством управляла его жена.

37. Заполните пропуск в предложении: «Цифрой 7 на схеме обозначена территория _____ империи».

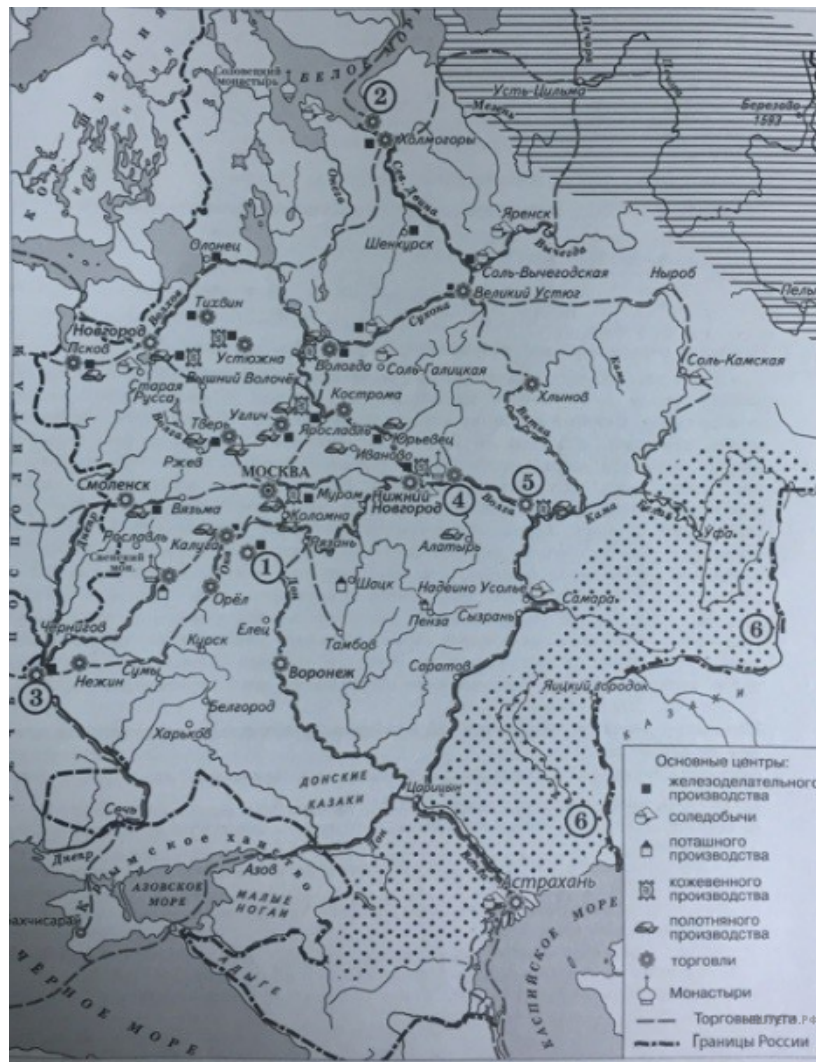


38. Какие суждения, относящиеся к исторической ситуации, обозначенной на схеме, являются верными? Выберите несколько суждений из шести предложенных. Запишите в таблицу цифры, под которыми они указаны.

1. В городе, обозначенном на схеме цифрой 1, крестился киевский князь Владимир.
2. Цифрой 2 на схеме обозначена территория восточнославянского племенного союза вятичей.
3. На схеме обозначен город, названный монголами «злым городом» за стойкость его защитников во время Батыева нашествия на Русь.
4. Город, обозначенный на схеме цифрой 5, расположен в том месте, где теперь находится Санкт-Петербург.
5. С середины XI в. половецкие племена кочевали в районе, обозначенном на схеме цифрой 8.
6. Территория, обозначенная в легенде схемы цифрой 4, вошла в состав Древнерусского государства при князе Олеге Вещем.



Рассмотрите схему и выполните задание.



39. Рассмотрите схему и выполните задание.

Какие суждения, относящиеся к данной схеме, являются верными? Выберите несколько суждений из шести предложенных. Запишите в таблицу цифры, под которыми они указаны.

1. Город, обозначенный на схеме цифрой 1, в период Смуты был центром формирования Первого ополчения.
2. Горизонтальной штриховкой на схеме обозначены основные районы производства товарного хлеба.
3. Точечным узором на схеме обозначены районы кочевого скотоводства.
4. Иван Калита был князем в городе, обозначенном на схеме цифрой 3.
5. Река, обозначенная на схеме цифрой 6, была переименована в XVIII в.
6. В том веке, когда в состав России вошёл город, обозначенный на схеме цифрой 3, морская торговля России со странами Запада велась через порт, обозначенный на схеме цифрой 2.

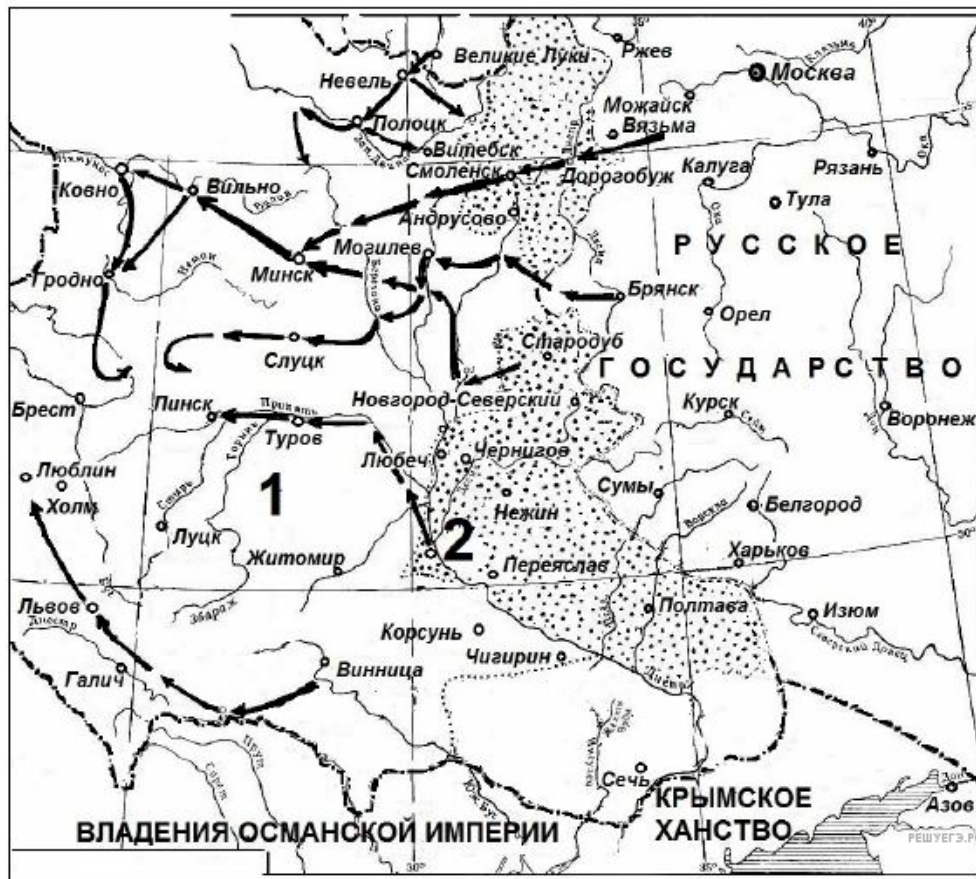
Рассмотрите схему и выполните задание.



40. Какие суждения, относящиеся к событиям, представленным на схеме, являются верными? Выберите несколько суждений из шести предложенных. Запишите в таблицу цифры, под которыми они указаны.

1. В городе, обозначенном на схеме цифрой 1, был взят в плен и расстрелян политический и военный деятель, носивший титул Верховного правителя России.
2. Строительство железной дороги, обозначенной на схеме, было полностью завершено в том же веке, в котором оно началось.
3. Участок железной дороги, обозначенный на схеме цифрой 2, проходил по территории соседнего государства.
4. Один из городов, обозначенных на схеме, назван в честь знаменитого русского землепроходца.
5. В районе города-порта, обозначенного на схеме цифрой 3, погиб адмирал П. С. Нахимов.
6. Город, обозначенный на схеме цифрой 4, был основан в XX в.

Рассмотрите схему и выполните задание.



41. Рассмотрите схему и выполните задание.

Какие суждения, относящиеся к событиям, обозначенным на схеме, являются верными? Выберите несколько суждений из шести предложенных. Цифры укажите в порядке возрастания.

1. В тот же период, к которому относятся события войны, отображенные на схеме, Россия воевала со Швецией.
2. Современником войны, события которой отображены на схеме, был патриарх Филарет.
3. В царствование правителя Русского государства, при котором произошла война, события которой отображены на схеме, был завоёван выход в Балтийское море.
4. По условиям перемирия, завершившего данную войну, Россия должна была вернуть через два года противнику город, обозначенный на схеме цифрой 2.
5. Перемирие, завершившее войну, события которой отображены на схеме, было заключено в селении Андрусово.
6. Во время войны, события которой отображены на схеме, произошло сражение при деревне Лесной.

Рассмотрите схему и выполните задание.

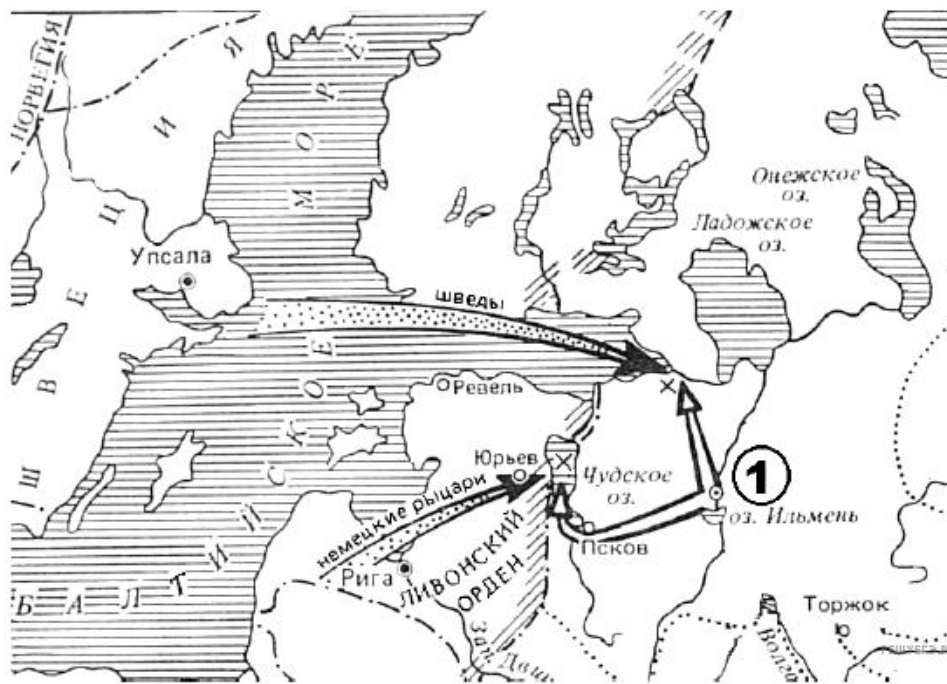


42. Рассмотрите схему и выполните задание.

Какие суждения, относящиеся к событиям, обозначенным на схеме, являются верными? Выберите несколько суждений из шести предложенных. Цифры укажите в порядке возрастания.

1. Обозначенные на схеме цифрой 2 территории были возвращены России в результате Смоленской войны.
2. Государство, обозначенное на схеме цифрой 3, образовалось путём соединения двух прежде самостоятельных государств.
3. При государе, подписавшем с соседними государствами соглашения о передаче им территорий, обозначенных на схеме цифрами 1 и 2, в России начался церковный раскол.
4. Территории, обозначенные на схеме цифрой 1, были возвращены России при Петре I.
5. Заключение соглашений, по которым Русское государство уступало соседям территории, обозначенные на схеме цифрами 1 и 2, относится к началу XVI в.
6. Современником заключения соглашений, по которым Русское государство уступало обозначенные на схеме цифрами 1 и 2 территории, был патриарх Филарет.

Рассмотрите схему и выполните задание.



43. Рассмотрите схему и выполните задание.

Какие суждения, относящиеся к событиям, обозначенным на схеме, являются верными? Выберите несколько суждений из шести предложенных. *Цифры укажите в порядке возрастания.*

1. Русский князь, походы которого обозначены на схеме, был современником хана Батыея.
2. Русский князь, походы которого обозначены на схеме, впоследствии занял престол Великого княжества Владимирского.
3. Русский князь, походы которого обозначены на схеме, был внуком князя Ярослава Мудрого.
4. В том же веке, к которому относятся обозначенные на схеме события, произошло основание Москвы.
5. Город, обозначенный на схеме цифрой 1, отличался сильной княжеской властью.
6. Одно из сражений, обозначенных на схеме, вошло в историю под образным названием «Ледовое побоище».

Рассмотрите схему и выполните задание.



44. Рассмотрите схему и выполните задание.

Какие суждения, относящиеся к событиям, обозначенным на схеме, являются верными? Выберите несколько суждений из шести предложенных. Цифры укажите в порядке возрастания.

1. Город, обозначенный на схеме цифрой 2, был основан раньше города, обозначенного на схеме цифрой 1.
2. Объединение под одной властью городов, обозначенных на схеме цифрами 1 и 2, произошло в IX в.
3. Князь, объединивший под своей властью города, обозначенные на схеме цифрами 1 и 2, прославился и удачным походом против Византии.
4. Какое-то время восточнославянский союз, центром которого был обозначенный на схеме цифрой 1 город, платил дань Хазарскому каганату.
5. После объединения обозначенных на схеме цифрами 1 и 2 городов, князь выбрал своей столицей город, обозначенный цифрой 2.
6. Князь, объединивший под своей властью города, обозначенные на схеме цифрами 1 и 2, погиб в результате восстания восточнославянского союза, территория расселения которого обозначена на схеме цифрой 3.

Рассмотрите схему и выполните задание.



45. Рассмотрите схему и выполните задание.

Какие суждения, относящиеся к событиям, обозначенным на схеме, являются верными? Выберите несколько суждений из шести предложенных. Цифры укажите в порядке возрастания.

1. Через озеро, обозначенное на схеме цифрой 3, проходил торговый путь «из варяг в греки».
2. Города, обозначенные на схеме цифрами 1 и 2, объединил под своей властью князь Рюрик.
3. Объединение под одной властью городов, обозначенных на схеме цифрами 1 и 2, произошло в IX в.
4. После создания единого Древнерусского государства столицей стал город, обозначенный на схеме цифрой 1.
5. В результате восстания, поднятого восточнославянским союзом, территория которого обозначена на схеме цифрой 4, погиб князь Игорь.
6. Город, обозначенный на схеме цифрой 1, впоследствии был известен большими полномочиями местного вече.

Рассмотрите схему и выполните задание.



46. Рассмотрите схему и выполните задание.

Какие суждения, относящиеся к событиям, обозначенным на схеме, являются верными? Выберите несколько суждений из шести предложенных. *Цифры укажите в порядке возрастания.*

1. Государь, к концу правления которого сложились отображённые на схеме границы Российского государства, ввёл опричнину.
2. В том же веке, к которому относится присоединение к Российскому государству заштрихованных на схеме территорий, произошло присоединение территории, обозначенной на схеме цифрой 2.
3. Государь, к концу правления которого сложились отображённые на схеме границы Российского государства, был сыном Ивана III.
4. Государство, обозначенное на схеме цифрой 3, было одним из «осколков» Золотой Орды.
5. К тому же веку, к которому относится присоединение к Российскому государству заштрихованных на схеме территорий, относится Северная война.
6. Государство, обозначенное на схеме цифрой 4, на протяжении всего столетия, к которому относится присоединение к Российскому государству заштрихованных на схеме территорий, было союзником Российского государства.

Рассмотрите схему и выполните задание.

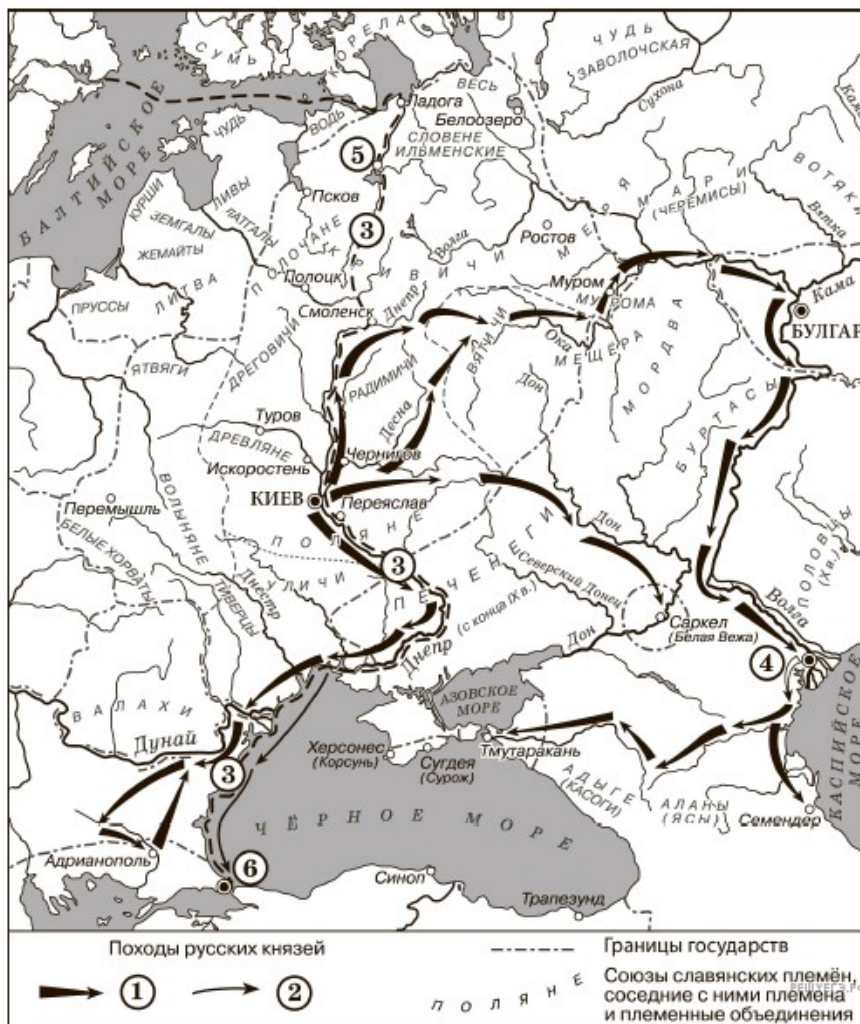


47. Рассмотрите схему и выполните задание.

Какие суждения, относящиеся к событиям, обозначенным на схеме, являются верными? Выберите несколько суждений из шести предложенных. Цифры укажите в порядке возрастания.

1. Потеря Российским государством заштрихованных на схеме территорий относится к XVII в.
2. Один из договоров, по которому Российское государство лишалось заштрихованных на схеме территорий, был заключён в селении Андрусово.
3. При государе, заключившем договоры, по которым Российское государство лишалось заштрихованных на схеме территорий, территория, обозначенная на схеме цифрой 1, была возвращена в состав России.
4. При государе, заключившем договоры, по которым Российское государство лишалось заштрихованных на схеме территорий, в России были проведены церковные реформы патриарха Никона.
5. В том же веке, к которому относится потеря Россией заштрихованных на схеме территорий, территория, обозначенная на схеме цифрой 2, была возвращена в состав России.
6. Территория, обозначенная на схеме цифрой 1, была уступлена Россией по Столбовскому миру.

Рассмотрите схему и выполните задание.



48. Рассмотрите схему и выполните задание.

Какие суждения, относящиеся к событиям, обозначенным на схеме, являются верными? Выберите несколько суждений из шести предложенных. Запишите в таблицу цифры, под которыми они указаны. Цифры укажите в порядке возрастания.

1. Цифрой 5 на схеме обозначен город Новгород.
2. В ходе событий, обозначенных на схеме стрелками, русское войско взяло город Перемышль.
3. В городе, обозначенном на схеме цифрой 6, согласно Повести временных лет, принял крещение киевский князь Владимир.
4. На схеме обозначен политико-административный центр восточнославянского племенного союза древлян.
5. Цифрой 4 на схеме обозначена столица Волжской Булгарии.
6. Киевский князь Олег совершил поход, обозначенный в легенде схемы цифрой 2.

Рассмотрите схему и выполните задание.



49. Рассмотрите схему и выполните задание.

Какие суждения, относящиеся к событиям, обозначенным на схеме, являются верными? Выберите несколько суждений из шести предложенных. Запишите в таблицу цифры, под которыми они указаны. Цифры укажите в порядке возрастания.

1. Война, события которой обозначены на схеме, произошла в XVII в.
2. Российский государь, при котором происходили обозначенные на схеме события, получил престол в результате избрания на Земском соборе.
3. В обозначенном на схеме цифрой 1 государстве государи выбирались на съездах местной знати.
4. Обозначенный на схеме цифрой 2 город был через два года после окончания войны возвращён Россией противнику.
5. Перемирие, завершившее войну, событиям которой посвящена схема, было заключено в Андрусово.
6. В том же веке, к которому относятся отображённые на схеме события, Россия завоевала выход к Балтийскому морю.

Рассмотрите схему и выполните задание.



50. Рассмотрите схему и выполните задание.

Какие суждения, относящиеся к событиям, обозначенным на схеме, являются верными? Выберите несколько суждений из шести предложенных. Запишите в таблицу цифры, под которыми они указаны. Цифры укажите в порядке возрастания.

1. Российский государь, при котором происходили обозначенные на схеме события, — Алексей Михайлович.
2. В результате войны, события которой изображены на схеме, Россия присоединила заштрихованную и обозначенную цифрой 2 территорию.
3. В ходе войны, события которой изображены на схеме, обозначенный цифрой 3 город выдержал длительную осаду неприятеля.
4. Цифрой 1 на карте обозначена территория государства, образовавшегося в ходе войны, которой посвящена схема, через заключение унии двух прежде самостоятельных государств.
5. В войне, события которой обозначены на схеме, одним из противников России была Швеция.
6. Современником событий, обозначенных на схеме, был патриарх Никон.

Рассмотрите схему и выполните задание.



51. Какие суждения, относящиеся к исторической ситуации, обозначенной на схеме, являются верными? Выберите несколько суждений из шести предложенных. Запишите в таблицу цифры, под которыми они указаны.

1. Район производства льна на продажу обозначен на схеме горизонтальной штриховкой.
2. Основной хозяйственной специализацией района, обозначенного на схеме точками, являлось производство хлеба на продажу.
3. Город, обозначенный на схеме цифрой 6, был центром железодельного производства.
4. Одной из причин восстания монахов монастыря, обозначенного на схеме цифрой 4, явилось недовольство церковной реформой патриарха Никона.
5. На схеме обозначен и подписан город, где в конце XVII в. по инициативе Петра I было начато строительство первого в истории России регулярного военно-морского флота.
6. Цифрой 3 на схеме обозначена Ирбитская ярмарка.

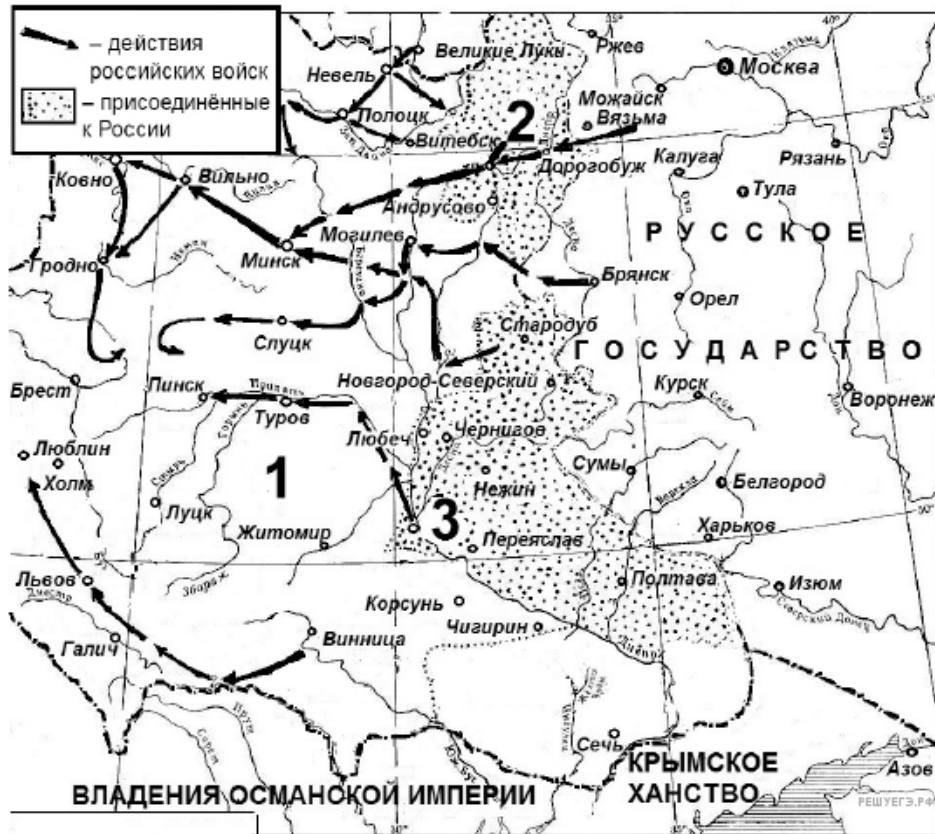
Рассмотрите схему и выполните задание.



52. Какие суждения, относящиеся к событиям, обозначенным на схеме, являются верными? Выберите несколько суждений из шести предложенных. Запишите в таблицу цифры, под которыми они указаны.

1. События, обозначенные на схеме, происходили в начале XVII в.
2. Государь, к царствованию которого относится начало обозначенного на схеме похода, занял престол по решению Земского собора.
3. Территория, обозначенная на схеме цифрой 4, в конце периода, к которому относятся обозначенные на схеме события, перешла к государству, обозначенному на схеме цифрой 1.
4. Успех похода, обозначенного на схеме, был определён победой в сражении, обозначенном на схеме цифрой 2.
5. Руководитель похода, обозначенного на схеме, погиб через год в результате заговора.
6. Территория, обозначенная на схеме цифрой 3, была возвращена в состав России в результате Смоленской войны.

Рассмотрите схему и выполните задание.



53. Какие суждения, относящиеся к событиям, обозначенным на схеме, являются верными? Выберите несколько суждений из шести предложенных. Запишите в таблицу цифры, под которыми они указаны.

1. Российский государь, в царствование которого происходили обозначенные на схеме события, был первым представителем своей династии на троне.
2. Началу войны, событиям которой посвящена схема, предшествовало крупное восстание на территории обозначенного на схеме цифрой 1 государства.
3. Война, событиям которой посвящена схема, продолжалась менее десяти лет.
4. По условиям перемирия, завершившего войну, событиям которой посвящена схема, обозначенный на схеме цифрой 3 город через два года должен был быть возвращён противнику, но Россия оставила его за собой.
5. В период войны, событиям которой посвящена схема, в российском войске были образованы первые гвардейские полки.
6. Современником событий, обозначенных на схеме, был патриарх Никон.

Рассмотрите схему и выполните задание.



54. Какие суждения, относящиеся к событиям, обозначенным на схеме, являются верными? Выберите несколько суждений из шести предложенных. Запишите в таблицу цифры, под которыми они указаны.

1. Обозначенный на схеме цифрой 1 город был центром союза племён словен.
2. Обозначенный на схеме стрелками поход проходил через город Искоростень.
3. Обозначенные на схеме цифрами 1 и 2 города находились на торговом пути «из варяг в греки».
4. В том же веке, в котором произошёл обозначенный на схеме поход, на территории союза племён, обозначенной на схеме цифрой 3, вспыхнуло восстание, в результате которого погиб князь Игорь Старый.
5. Обозначенный на схеме стрелками поход начался в городе Ладоге.
6. В результате обозначенного на схеме стрелками похода сложилось Древнерусское государство.

Рассмотрите схему и выполните задание.



55. Какие суждения, относящиеся к событиям, обозначенным на схеме, являются верными? Выберите несколько суждений из шести предложенных. Запишите в таблицу цифры, под которыми они указаны.

1. Сражение, обозначенное на схеме цифрой 1, — битва на реке Сити.
2. Обозначенное на схеме цифрой 1 сражение произошло на территории Рязанского княжества.
3. Обозначенный на схеме цифрой 2 город выступал основным соперником Москвы в борьбе за лидерство в русских землях.
4. Обозначенный на схеме белыми стрелками поход проходил через город Ярославль.
5. Сражение, обозначенное на схеме цифрой 1, закончилось победой войск, руководимых московским князем.
6. Обозначенный на схеме цифрой 4 город был присоединён к Московскому государству в том же веке, к которому относятся обозначенные на схеме стрелками события.

Рассмотрите схему и выполните задание.



56. Какие суждения, относящиеся к событиям, обозначенным на схеме, являются верными? Выберите несколько суждений из шести предложенных. Запишите в таблицу цифры, под которыми они указаны.

1. На схеме обозначены сражения, происходившие в ходе войны 1768–1774 гг.
2. Одной из причин войны, события которой обозначены на схеме, было присоединение к России территории, обозначенной на схеме цифрой 2.
3. Союзником России в войне, события которой обозначены на схеме, было государство, обозначенное на схеме цифрой 1.
4. Мирный договор, закончивший войну, события которой обозначены на схеме, был заключён в городе Яссы.
5. Обозначенный на схеме цифрой 4 город был до присоединения к России столицей государства, территория которого обозначена на схеме цифрой 2.
6. По результатам войны, события которой обозначены на схеме, крепость, обозначенная на схеме цифрой 3, с прилегающими территориями вошла в состав России.

Рассмотрите схему и выполните задание.



57. Какие суждения, относящиеся к событиям, обозначенным на схеме, являются верными? Выберите несколько суждений из шести предложенных. Запишите в таблицу цифры, под которыми они указаны.

1. Город, обозначенный на схеме цифрой 1, — Ладога.
2. Город, обозначенный на схеме цифрой 2, был впервые объединён под единой властью с городом, обозначенным на схеме цифрой 6, в конце X в.
3. Территория, обозначенная на схеме цифрой 4, была населена восточными славянами.
4. Славяне, центром которых был обозначенный на схеме цифрой 2 город, платили какое-то время дань государству, часть территории которого обозначена на схеме цифрой 4.
5. Город, обозначенный на схеме цифрой 2, стал столицей Древнерусского государства.
6. В результате поднятого восстания союзом племён, территория проживания которого обозначена на схеме цифрой 5, погиб князь Игорь Старый.

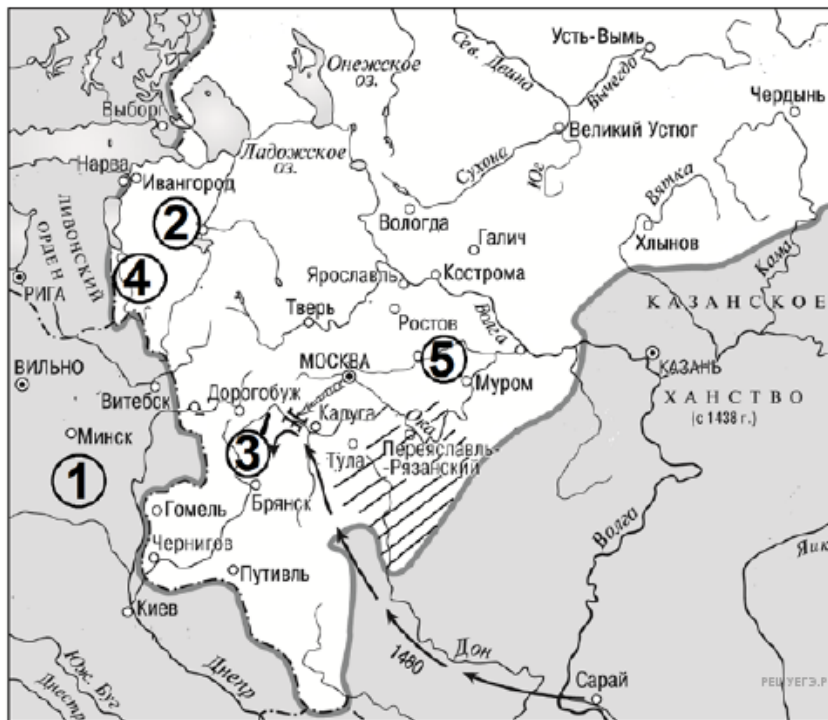
Рассмотрите схему и выполните задание.



58. Какие суждения, относящиеся к событиям, обозначенным на схеме, являются верными? Выберите несколько суждений из шести предложенных. Запишите в таблицу цифры, под которыми они указаны.

1. Территория, обозначенная на схеме цифрой 1, в результате событий, обозначенных на схеме, вошла в состав русского государства.
2. В ходе военных действий, которым посвящена схема, защитники обозначенного на схеме цифрой 4 города смогли его оборонять более полутора лет.
3. Вражеское вторжение, обозначенное на схеме белой стрелкой, возглавлял король Стефан Баторий.
4. В начале военного похода, обозначенного на схеме белыми стрелками, русским царём был Фёдор Иванович.
5. Обозначенный на схеме цифрой 5 город в период, которому посвящена схема, подвергся захвату интервентами.
6. Одним из итогов событий периода, которому посвящена схема, стал переход обозначенной на схеме цифрой 2 территории к государству, обозначенному на схеме цифрой 3.

Рассмотрите схему и выполните задание.



59. Какие суждения, относящиеся к событиям, обозначенным на схеме, являются верными? Выберите несколько суждений из шести предложенных. Запишите в таблицу цифры, под которыми они указаны.

1. Поход, обозначенный на схеме стрелками, возглавлял Мамай.
2. Поход, обозначенный на схеме стрелками, проходил через Чернигов.
3. Город, обозначенный на схеме цифрой 2, за два года до событий, которым посвящена схема, вошёл в состав Московского государства.
4. Город, обозначенный на схеме цифрой 4, вошёл в состав Московского государства в том же столетии, к которому относятся обозначенные на схеме события.
5. Город, обозначенный на схеме цифрой 5, за сто лет до событий, обозначенных на схеме, считался главным городом русских земель.
6. Заштрихованные на схеме территории были включены в состав Московского государства в XVI в.

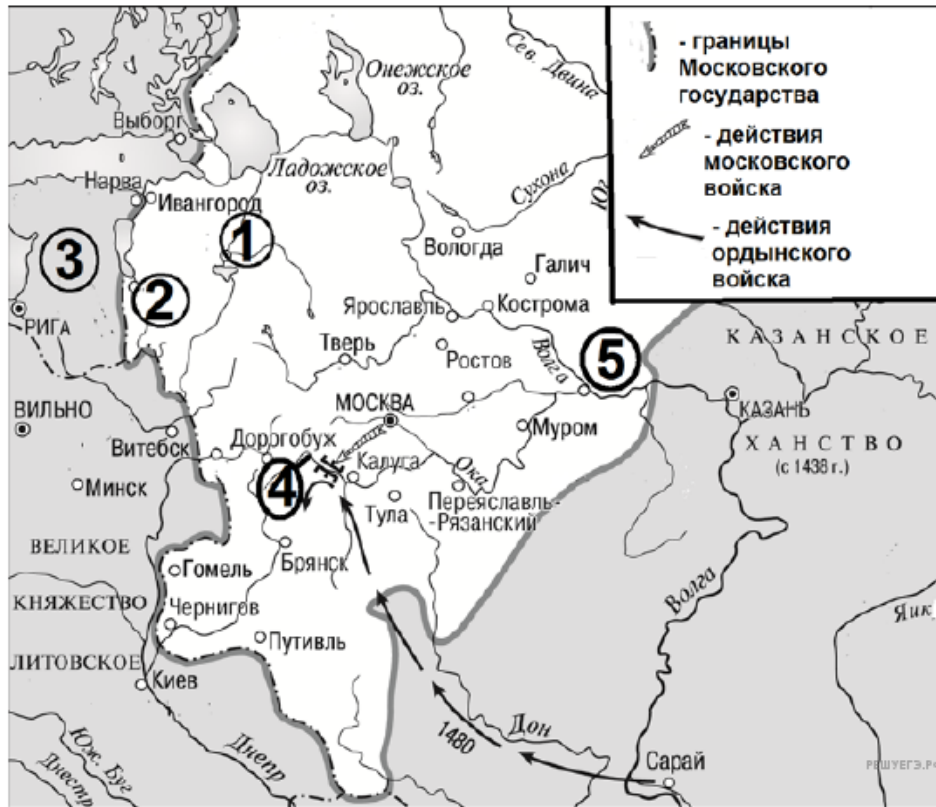
Рассмотрите схему и выполните задание.



60. Какие суждения, относящиеся к событиям, обозначенным на схеме, являются верными? Выберите несколько суждений из шести предложенных. Запишите в таблицу цифры, под которыми они указаны.

1. На схеме среди прочих обозначены события Смоленской войны.
2. Государь, при котором велись военные действия, обозначенные на схеме, был первым, кто венчался на царствие.
3. Цифрой 2 на схеме обозначена существовавшая на момент начала военных действий территория Ливонского ордена.
4. В конце правления русского царя, при котором происходили обозначенные на схеме события, государство, обозначенное на схеме цифрой 5, уступило Русскому государству значительную часть своей территории.
5. Обозначенный на схеме цифрой 4 русский город выдержал длительную осаду в ходе войны, события которой частично обозначены на схеме.
6. Обозначенное на схеме цифрой 3 государство было союзником Русского государства в период всех обозначенных на схеме военных действий.

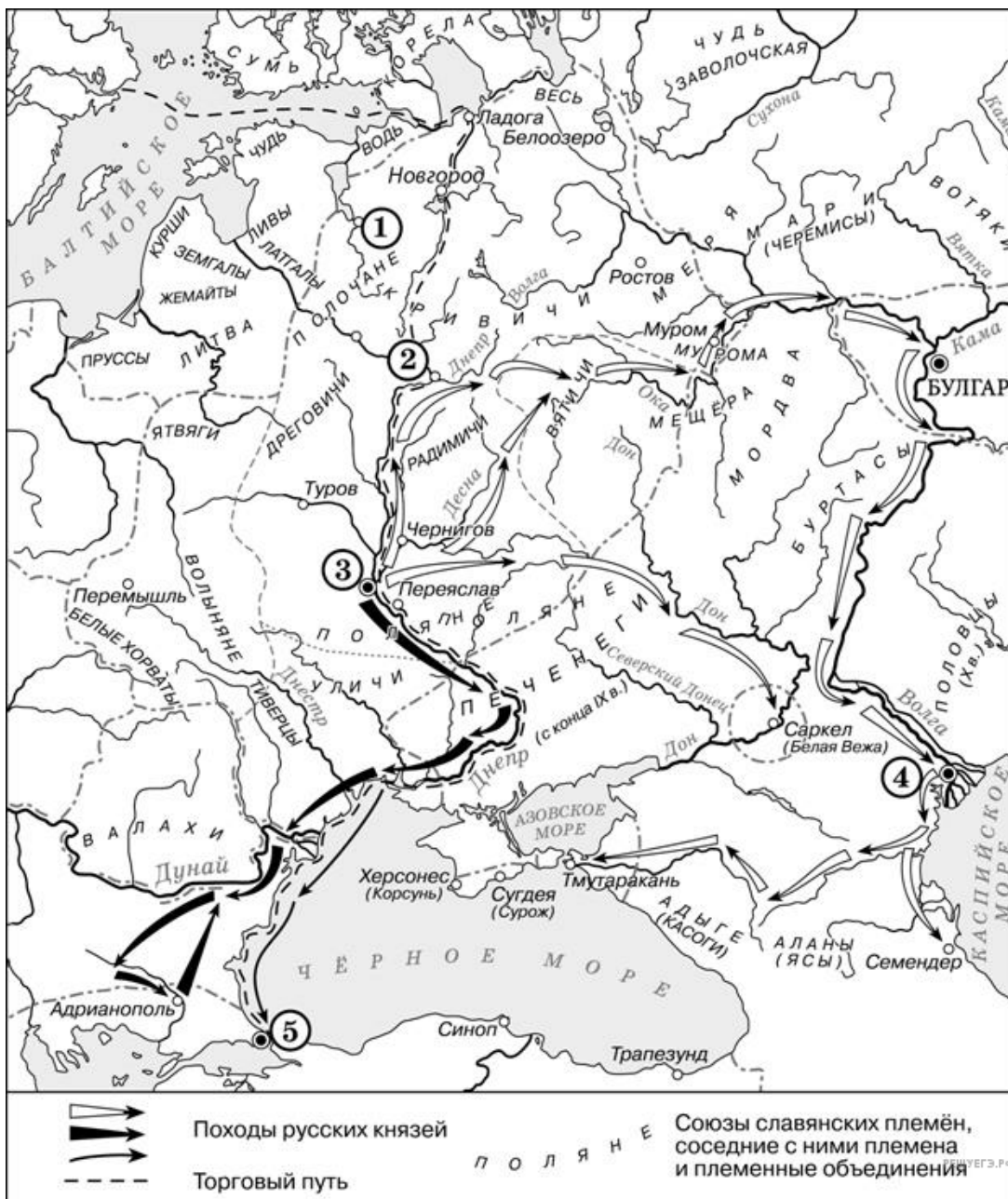
Рассмотрите схему и выполните задание.



61. Какие суждения, относящиеся к событиям, обозначенным на схеме, являются верными? Выберите несколько суждений из шести предложенных. Запишите в таблицу цифры, под которыми они указаны.

1. В результате событий, обозначенных на схеме, Москва была захвачена противником и сожжена.
2. Московский князь, при котором происходили обозначенные на схеме события, присоединил к своему княжеству город, обозначенный на схеме цифрой 1.
3. В том же веке, к которому относятся события, обозначенные на схеме, к Московскому государству был присоединён город, обозначенный на схеме цифрой 2.
4. Князья, правившие в городе, обозначенном на схеме цифрой 5, за сто с лишним лет до обозначенных на схеме военных действий соперничали с Москвой за ярлык на великое княжение Владимирское.
5. Обозначенное на схеме цифрой 3 государство было организовано на основе духовно-рыцарского ордена.
6. Поход ордынско-татарского войска, обозначенный на схеме, проходил через город Муром.

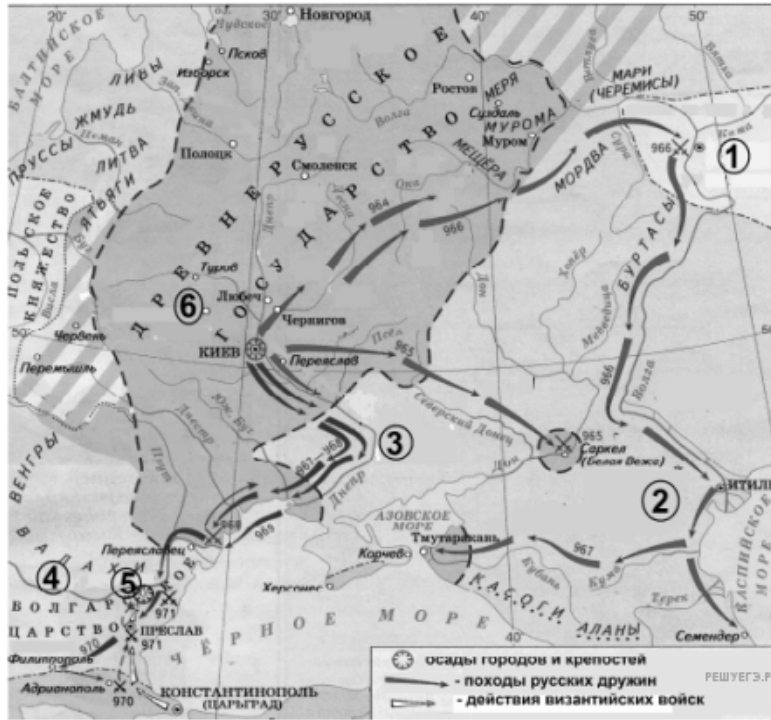
Рассмотрите схему и выполните задание.



62. Какие суждения, относящиеся к событиям, обозначенным на схеме, являются верными? Выберите несколько суждений из шести предложенных. Запишите в таблицу цифры, под которыми они указаны.

1. Обозначенный на схеме цифрой 3 город стал столицей Древнерусского государства после военного похода в 882 году.
2. Обозначенный на схеме цифрой 1 город — Псков.
3. Предводитель военного похода, обозначенного на схеме белыми стрелками, стал основателем династии русских князей, правивших в русских землях до XVI в.
4. Обозначенный на схеме торговый путь назывался «из варяг в греки».
5. Походы, обозначенные на карте разными стрелками, совершил один и тот же русский князь.
6. Цифрой 5 на схеме обозначена столица Хазарского каганата.

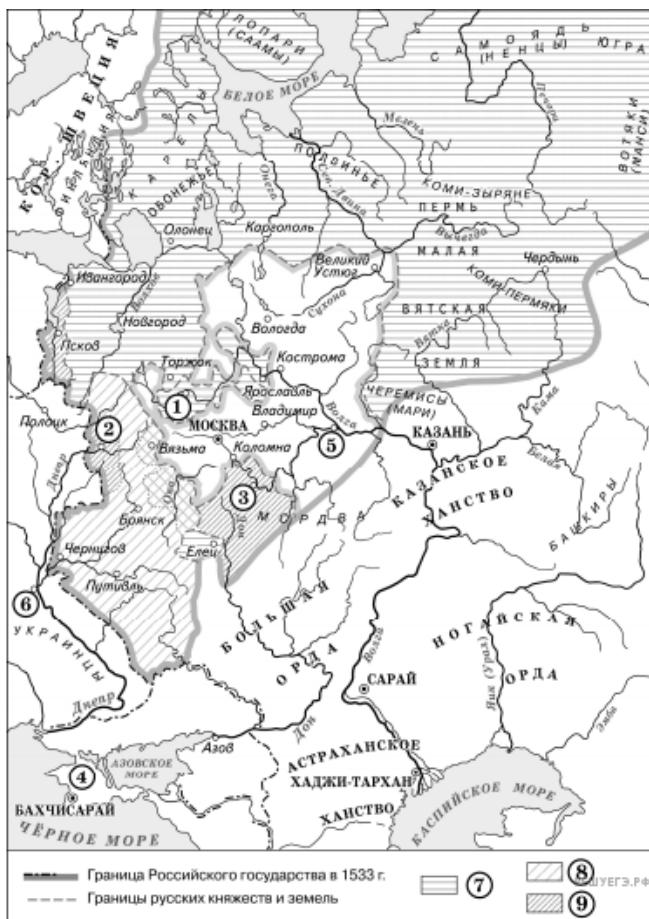
Рассмотрите схему и выполните задание.



63. Какие суждения, относящиеся к событиям, обозначенным на схеме, являются верными? Выберите несколько суждений из шести предложенных. Запишите в таблицу цифры, под которыми они указаны.

1. В ходе обозначенных на схеме походов русских дружин ими был захвачен город Херсонес.
2. Князь, возглавлявший обозначенные на схеме походы русских дружин, принял христианство.
3. Отец древнерусского князя, походы которого обозначены на схеме, погиб близ города, обозначенного на схеме цифрой 6.
4. В конце столетия, к которому относятся обозначенные на схеме походы русских дружин, на территории, обозначенной на схеме цифрой 3, поселились половцы.
5. Древнерусский князь, походы которого обозначены на схеме, погиб в результате нападения племён, территория расселения которых обозначена на схеме цифрой 3.
6. Обозначенная на схеме цифрой 5 крепость — Доростол.

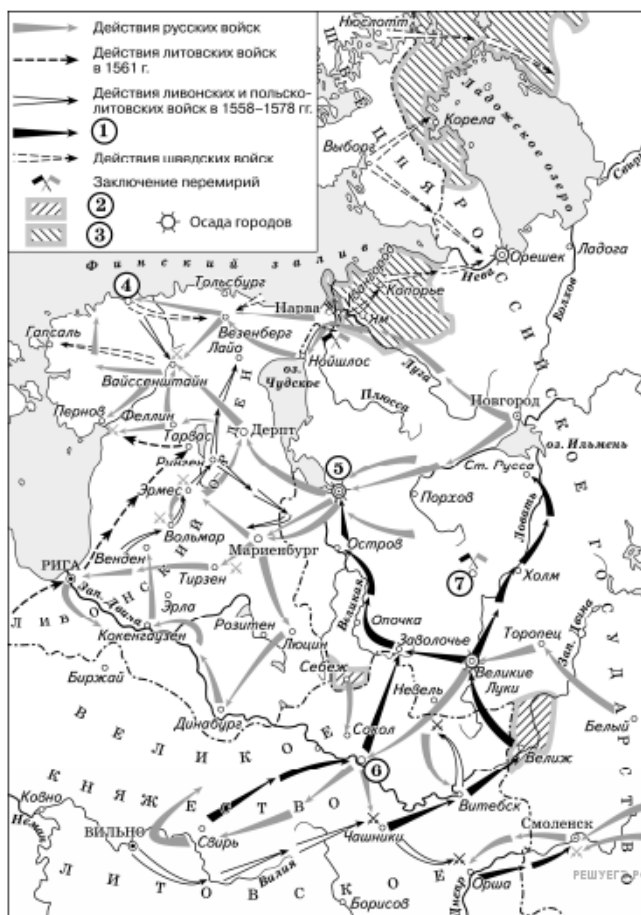
Рассмотрите схему и выполните задание.



64. Какие суждения, относящиеся к схеме, являются верными? Выберите несколько суждений из шести предложенных. Запишите в таблицу цифры, под которыми они указаны.

1. Цифрой 1 на схеме обозначен город, бывший одним из основных противников Москвы в борьбе за великое княжение владимирское в первой половине XIV в.
2. Цифрой 5 на схеме обозначен город, где в период Смуты было сформировано народное ополчение, освободившее Москву от польско-литовских интервентов.
3. Цифрой 3 на схеме обозначен город, в котором до присоединения к Московскому государству существовала республиканская форма правления.
4. Территории, обозначенные в легенде схемы цифрами 8 и 9, вошли в состав Московского государства в течение одного столетия.
5. Цифрой 7 в легенде схемы обозначены территории, присоединённые к Московскому государству в период правления князя, под командованием которого русские войска одержали победу в Куликовской битве.
6. Территории, обозначенные в легенде схемы цифрой «9», были присоединены к Московскому государству монархом, созвавшим первый Земский собор.

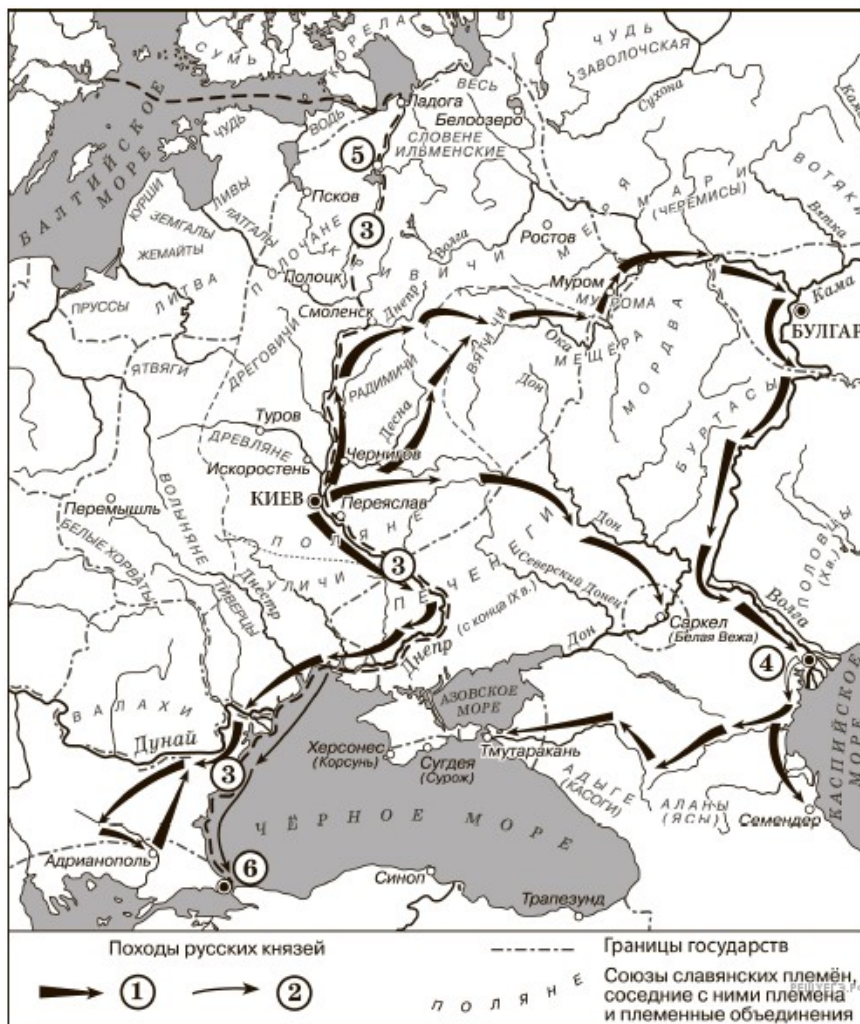
Рассмотрите схему и выполните задание.



65. Какие суждения, относящиеся к схеме, являются верными? Выберите несколько суждений из шести предложенных. Запишите в таблицу цифры, под которыми они указаны.

1. Цифрой 7 на схеме обозначен г. Ништадт.
2. В результате военных действий, которые отражены на схеме, Российское государство утратило территории, обозначенные в легенде схемы цифрой 2.
3. Цифрой 5 на схеме обозначен город, взятый после длительной осады войсками, направления действий которых обозначены в легенде схемы цифрой 1.
4. На схеме обозначен город, являвшийся центром формирования Второго земского ополчения в период Смуты.
5. В ходе боевых действий, отражённых на схеме, русскими войсками был взят город, обозначенный на схеме цифрой 6.
6. На схеме указано государственное образование, прекратившее своё существование в результате обозначенных на схеме событий.

Рассмотрите схему и выполните задание.

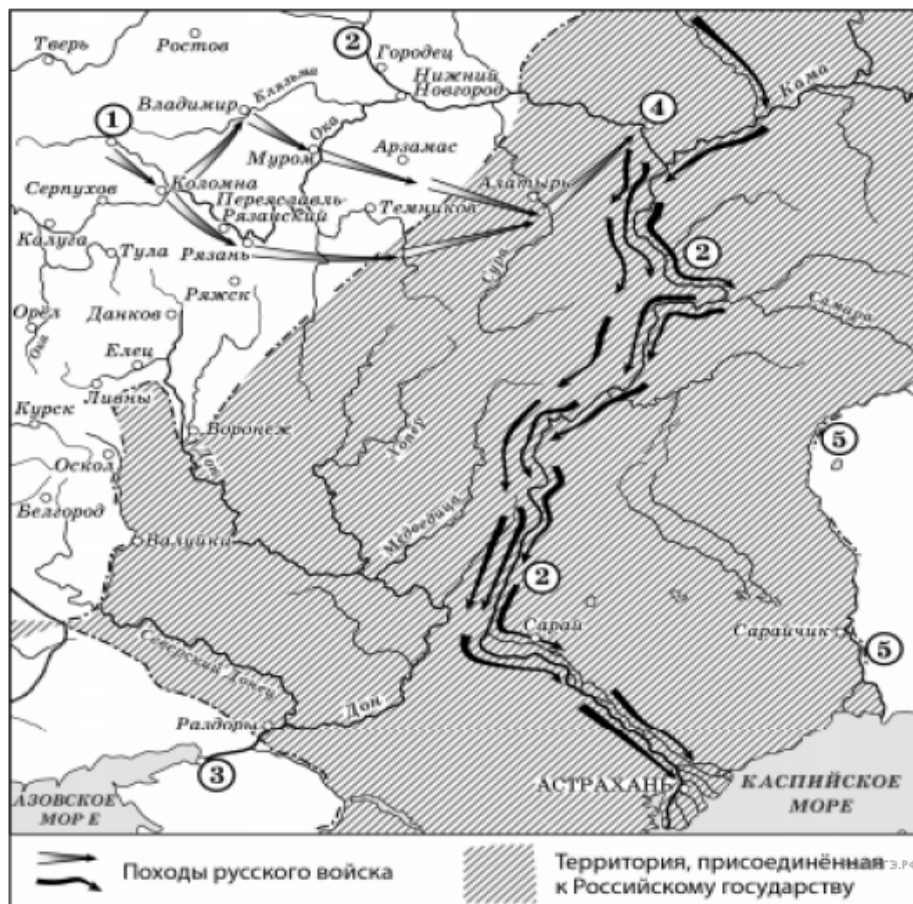


66. Рассмотрите схему и выполните задание.

Какие суждения, относящиеся к событиям, обозначенным на схеме, являются верными? Выберите несколько суждений из шести предложенных. Запишите в таблицу цифры, под которыми они указаны. Цифры укажите в порядке возрастания.

1. Цифрой 5 на схеме обозначен город Новгород.
2. В ходе событий, обозначенных на схеме стрелками, русское войско взяло город Перемышль.
3. В городе, обозначенном на схеме цифрой 6, согласно Повести временных лет, принял крещение киевский князь Владимир.
4. На схеме обозначен политико-административный центр восточнославянского племенного союза древлян.
5. Цифрой 4 на схеме обозначена столица Волжской Булгарии.
6. Киевский князь Олег совершил поход, обозначенный в легенде схемы цифрой 2.

Рассмотрите схему и выполните задание.



67. Какие суждения, относящиеся к схеме, являются верными? Выберите несколько суждений из шести предложенных. Запишите в таблицу цифры, под которыми они указаны.

1. Город, обозначенный на схеме цифрой 3, в период правления Петра I был взят русскими войсками.
2. На схеме отмечен город, где в период Смуты было сформировано Второе земское ополчение.
3. При подготовке к взятию города, обозначенного на схеме цифрой 4, была построена крепость Свияжск.
4. По реке, трижды обозначенной на схеме цифрой 2, проходила большая часть древнего торгового пути «из варяг в греки».
5. На схеме отмечен и подписан город — столица Сибирского ханства.
6. Все походы, обозначенные на схеме стрелками, были осуществлены в течение одного года.

Рассмотрите схему и выполните задание.



68. Какие суждения, относящиеся схеме, являются верными? Выберите несколько суждений из шести предложенных. Запишите в таблицу цифры, под которыми они указаны.

1. Обозначенная на схеме цифрой 1 территория была потеряна Российским государством по условиям Столбовского мира.
2. Территория, обозначенная на схеме цифрой 3, до присоединения к России входила в состав Крымского ханства.
3. Обозначенный на схеме цифрой 7 город вошёл в состав России в XVII в.
4. Восстание, район которого обозначен цифрой 4, затронуло город Орёл.
5. Монастырь, название которого обозначено на схеме цифрой 9, стал центром восстания при том же государе, в правление которого были присоединены территории 2 и 3.
6. Обозначенный на схеме цифрой 8 город до начала XVIII в. был главным морским портом, через который осуществлялись связи России с европейскими странами.

Рассмотрите схему и выполните задание.



РЕШУЕГЭ.РФ

69. Какие суждения, относящиеся к событиям, обозначенным на схеме, являются верными? Выберите несколько суждений из шести предложенных. Запишите в таблицу цифры, под которыми они указаны.

1. Обозначенная на схеме цифрой 2 территория когда-то входила в состав Золотой Орды.
2. Обозначенный на схеме цифрой 3 город перед включением в состав Российского государства выдержал длительную кровопролитную осаду.
3. Обозначенный на схеме цифрой 4 город подвергся опустошительному разгрому от войск государя, к концу правления которого сложились указанные на схеме границы Российского государства,
4. Территория, обозначенная на схеме цифрой 1, перешла в конце правления государя, в которое сложились указанные на схеме границы Российского государства, Речи Посполитой.
5. Обозначенный на схеме цифрой 6 город вошёл в состав Российского государства при отце государя, к концу правления которого сложились указанные на схеме границы Российского государства.
6. Обозначенный на схеме цифрой 5 монастырь — Троице-Сергиев.

Рассмотрите схему и выполните задание.



70. Какие суждения, относящиеся к схеме, являются верными? Выберите несколько суждений из шести предложенных. Запишите в таблицу цифры, под которыми они указаны.

1. Обозначенный на схеме торговый путь проходил через город Ладога.
2. Обозначенная на схеме цифрой 5 территория входила в состав Хазарского каганата.
3. На территории славянского союза племён, обозначенной на схеме цифрой 4, в результате восстания был убит князь Игорь Старый.
4. Города, обозначенные на схеме цифрами 1 и 2, были объединены в единое государство князем Рюриком.
5. В состав Древнерусского государства во время раздела, обозначенного на схеме, входило побережье Балтийского моря.
6. В обозначенном на схеме цифрой 6 городе, согласно легенде, принял крещение князь Владимир Святославович.

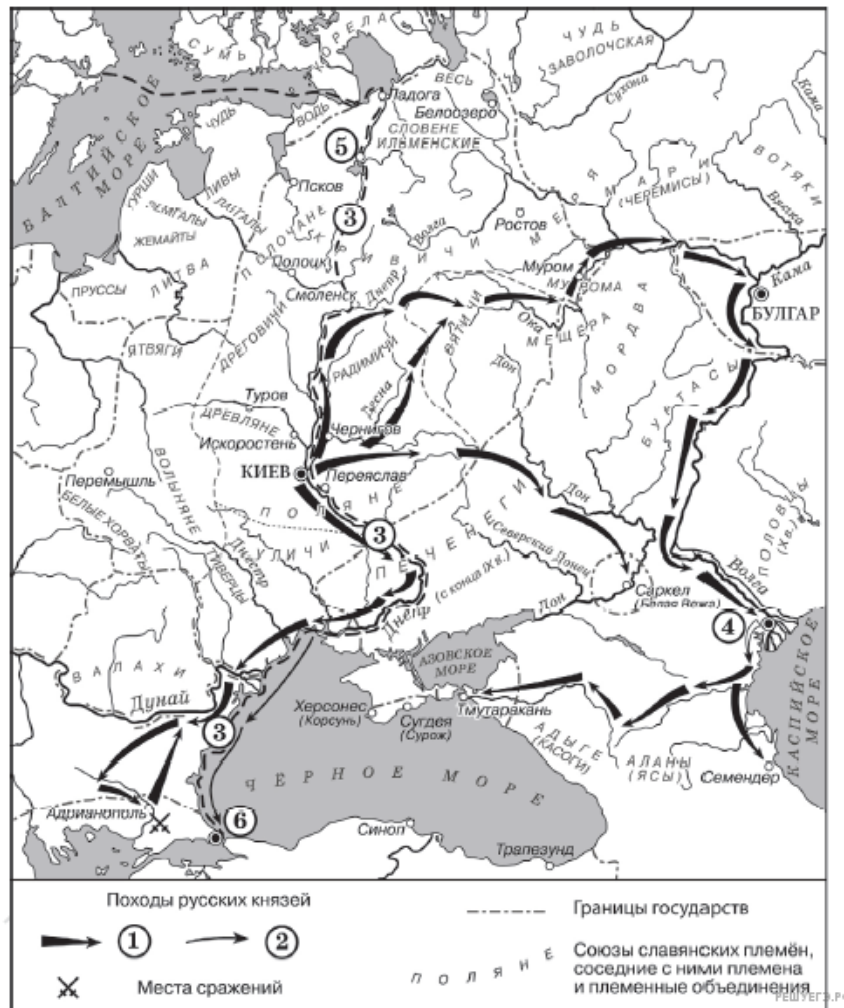
Рассмотрите схему и выполните задание.



71. Какие суждения, относящиеся к событиям, обозначенным на схеме, являются верными? Выберите несколько суждений из шести предложенных. Запишите в таблицу цифры, под которыми они указаны.

1. Неприятельские войска в походе, обозначенном на схеме цифрой 1, возглавлял тёмник Мамай.
2. В сражении, обозначенном на схеме цифрой 3, союзником русских выступали половцы.
3. Обозначенный на схеме цифрой 4 город стал первой из столиц русских княжеств, разрушенной неприятелем в ходе похода, обозначенного на схеме цифрой 2.
4. В сражении, обозначенном на схеме цифрой 6, погиб великий князь Юрий Всеволодович.
5. Обозначенный на схеме цифрой 7 город подвергся разрушению и разграблению в ходе похода, обозначенного на схеме цифрой 2.
6. Поход, обозначенный на схеме цифрой 2, прошёл через земли Ливонского ордена.

Рассмотрите схему и выполните задание.

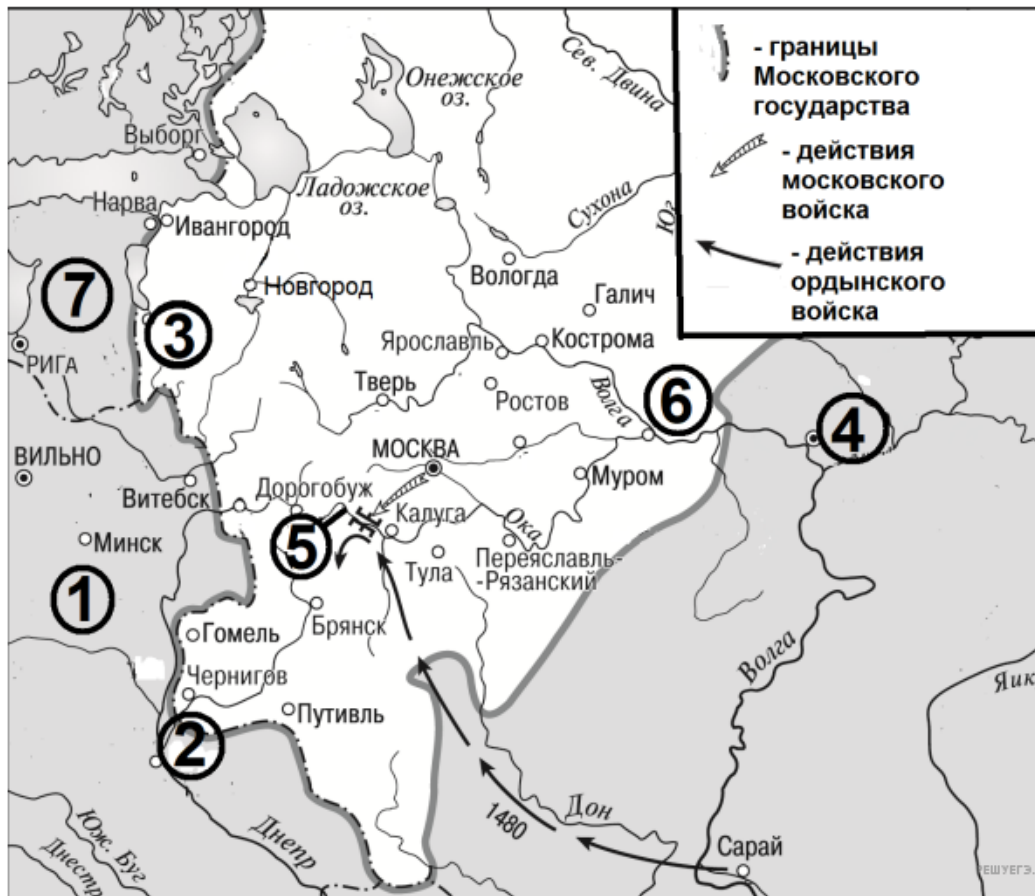


72. Какие суждения, относящиеся к схеме, являются верными?

Запишите цифры, под которыми они указаны.

1. Цифрой 5 на схеме обозначен город Новгород.
2. В ходе событий, обозначенных на схеме стрелками, русское войско взяло город Перемышль.
3. В городе, обозначенном на схеме цифрой 6, согласно «Повести временных лет», принял крещение киевский князь Владимир.
4. На схеме обозначен политико-административный центр восточнославянского племенного союза древлян.
5. Цифрой 4 на схеме обозначен город Кашлык.
6. Киевский князь Олег совершил поход, обозначенный в легенде схемы цифрой 2.

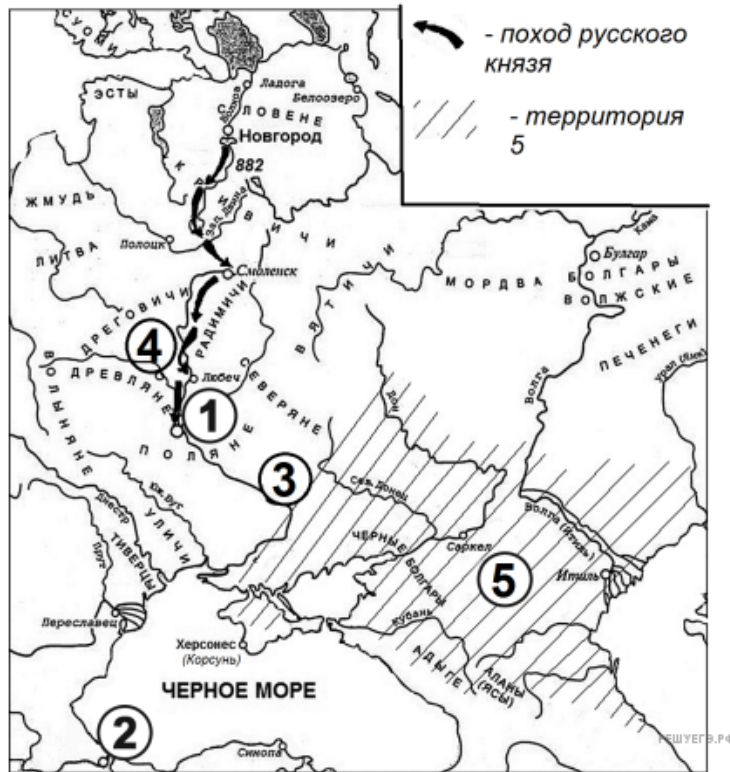
Рассмотрите схему и выполните задание.



73. Какие суждения, относящиеся к схеме, являются верными? Запишите цифры, под которыми они указаны.

1. Государство, обозначенное на схеме цифрой 1, выступало союзником Москвы в конфликте, события которого обозначены на схеме стрелками.
2. Обозначенный на схеме цифрой 2 город был столицей Древнерусского государства в IX–XI вв.
3. Обозначенная на схеме цифрой 5 река — Калка.
4. Обозначенный на схеме цифрой 3 город вошёл в состав Московского государства в правление Василия III.
5. Обозначенный на схеме цифрой 6 город был столицей княжества, правители которого вступили в середине XIV в. в спор с московским князем за ярлык на Великое княжение Владимирское.
6. Обозначенная на схеме цифрой 7 территория вошла в состав Русского государства по Ям-Запольскому перемирию.

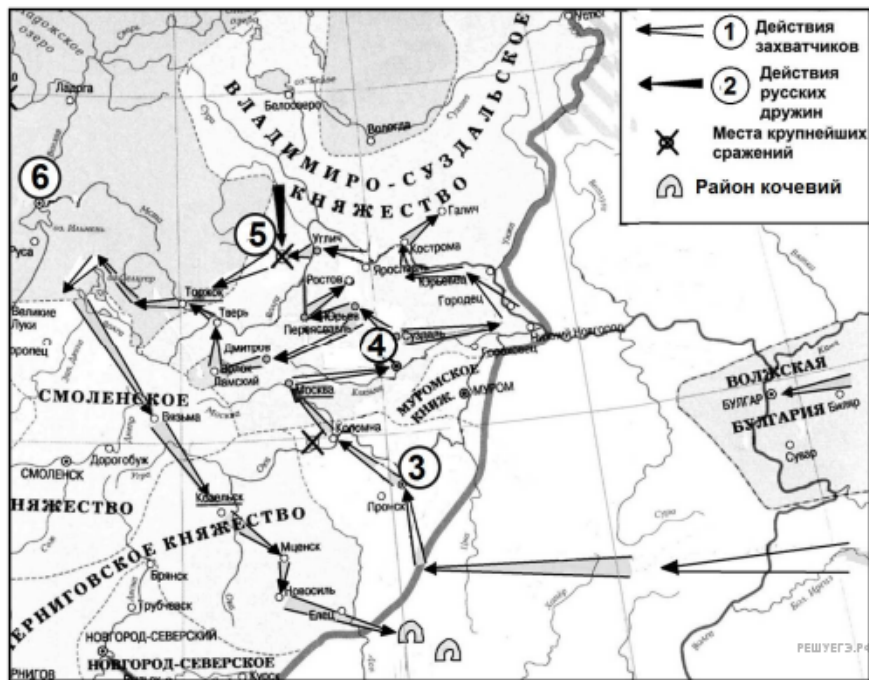
Рассмотрите схему и выполните задание.



74. Какие суждения, относящиеся к схеме, являются верными? Запишите цифры, под которыми они указаны.

1. Обозначенный на схеме цифрой 1 город стал столицей Древнерусского государства.
2. Князь, осуществивший обозначенный на схеме стрелками поход, совершил впоследствии успешный поход к городу, обозначенному на схеме цифрой 2.
3. Поход, обозначенный в легенде схемы и на схеме стрелками, проходил через земли племён эстов.
4. Обозначенный на схеме цифрой 4 город был сожжён в середине X в. войском во главе с княгиней Ольгой.
5. На схеме обозначен город, в котором князь Владимир Святославович принял крещение.
6. Государство, территория которого обозначена на схеме цифрой 5, в VIII в. приняло ислам.

Рассмотрите схему и выполните задание.



75. Какие суждения, относящиеся к схеме, являются верными? Запишите цифры, под которыми они указаны.

1. Цифрой 6 на схеме обозначен город, который в период обозначенных событий был столицей русских земель.
2. Цифрой 3 на схеме обозначен город Рязань.
3. Действиями русских войск, обозначенных в легенде схемы цифрой 2, руководил князь Александр Невский.
4. Цифрой 5 на схеме обозначена река Сить.
5. Обозначенный на схеме цифрой 4 город выдержал двухмесячную осаду захватчиков.
6. Действия захватчиков, обозначенные в легенде схемы цифрой 1, затронули Вологду.

Рассмотрите схему и выполните задание.



76. Какие суждения, относящиеся к схеме, являются верными? Запишите цифры, под которыми они указаны.

1. Обозначенное на схеме цифрой 5 государство отличалось особо сильной монархической властью.
2. Российский государь, в царствование которого был начат поход, обозначенный в легенде схемы цифрой 3, взошёл на престол по выбору Земского собора.
3. Действия неприятеля, обозначенные в легенде схемы цифрой 4, возглавлял король Сигизмунд Третий.
4. В результате событий периода, начало которому положил обозначенный в легенде схемы цифрой 3 военный поход, Русское государство потеряло территории, обозначенные на схеме цифрами 1 и 2.
5. Обозначенный на схеме цифрой 6 город в период, к которому относятся обозначенные стрелками события, подвергся шведской интервенции.
6. Военный поход, обозначенный в легенде схемы цифрой 3, проходил через Воронеж.

Рассмотрите схему и выполните задание.



77. Какие суждения, относящиеся к схеме, являются верными? Запишите цифры, под которыми они указаны.

1. Обозначенное на схеме цифрой 6 государство было вассалом Османской империи.
2. Обозначенная на схеме цифрой 5 территория в период восстания, район которого обозначен на схеме, входила в состав Шведского королевства.
3. Обозначенный на схеме цифрой 3 город вошёл в состав России в царствование Михаила Фёдоровича.
4. Обозначенный на схеме цифрой 4 город был возвращён в состав России в то же царствование, когда произошло восстание, район которого обозначен на схеме.
5. Город, обозначенный на схеме цифрой 1, был когда-то столицей одного из «осколков» Золотой Орды.
6. Район восстания, обозначенный на схеме, включал город Муром.

Рассмотрите схему и выполните задание.



78. Какие суждения, относящиеся к схеме, являются верными? Запишите цифры, под которыми они указаны.

1. Обозначенная на схеме цифрой 2 территория — это часть территории Речи Посполитой на момент военных действий, которым посвящена схема.
2. Обозначенный на схеме цифрой 3 город был в IX–XI вв. столицей Древнерусского государства.
3. Обозначенный на схеме цифрой 4 центр — это Запорожская Сечь.
4. Обозначенный на схеме поход Г. Ромодановского проходил через город Нежин.
5. Обозначенная на схеме цифрой 5 крепость была присоединена к России в то же царствование, к которому относятся обозначенные на схеме военные действия.
6. Территория, обозначенная цифрой 6, вошла в состав Российского государства при отце государя, к царствованию которого относятся обозначенные на схеме военные действия.

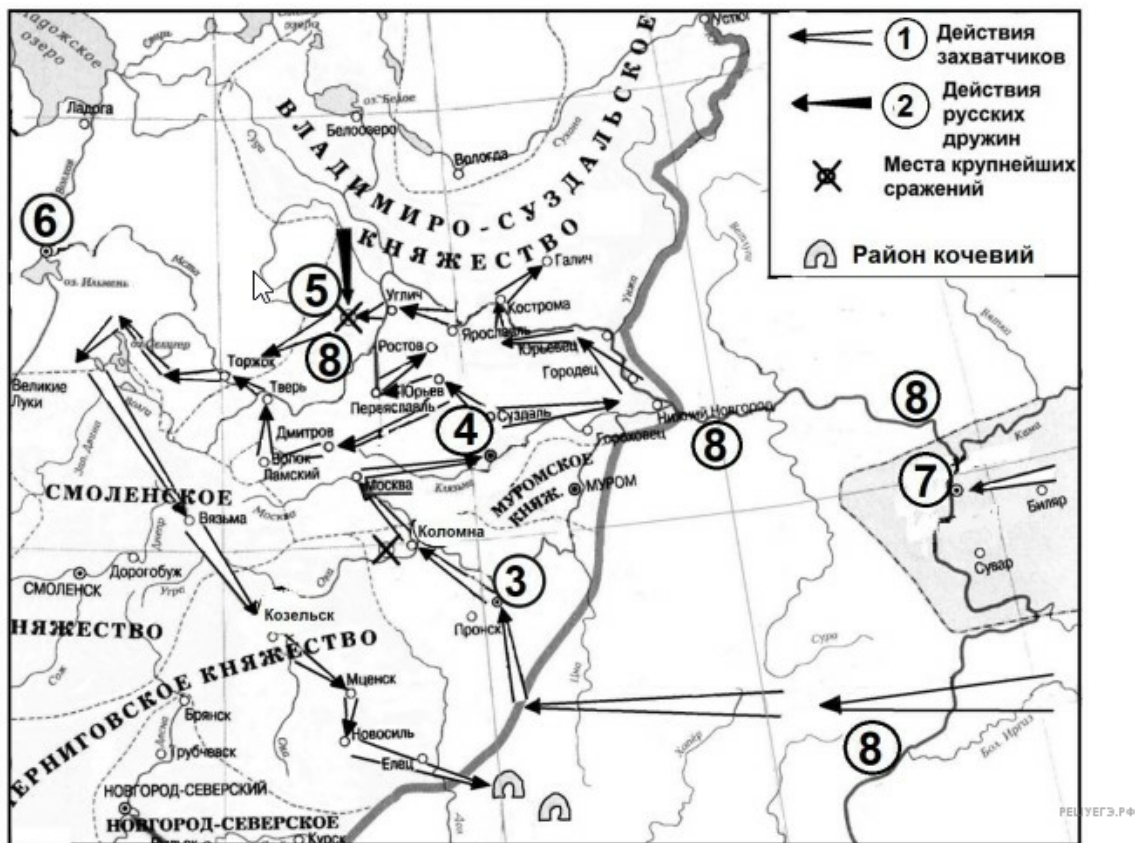
Рассмотрите схему и выполните задание.



79. Какие суждения, относящиеся к схеме, являются верными? Запишите цифры, под которыми они указаны.

1. Обозначенный на схеме цифрой 2 город — Киев.
2. Обозначенный на схеме цифрой 3 город впервые был присоединён к Московскому государству при Василии III.
3. Обозначенные на схеме цифрой 4 территории были присоединены к России по Ям-Запольскому перемирию.
4. Обозначенная на схеме цифрой 5 территория входила до войны, события которой обозначены на схеме, в состав Крымского ханства.
5. Походы российских войск, обозначенные на схеме стрелками, проходили через город Полоцк.
6. В состав территории, обозначенной на схеме цифрой 4, вошёл город Чигирин.

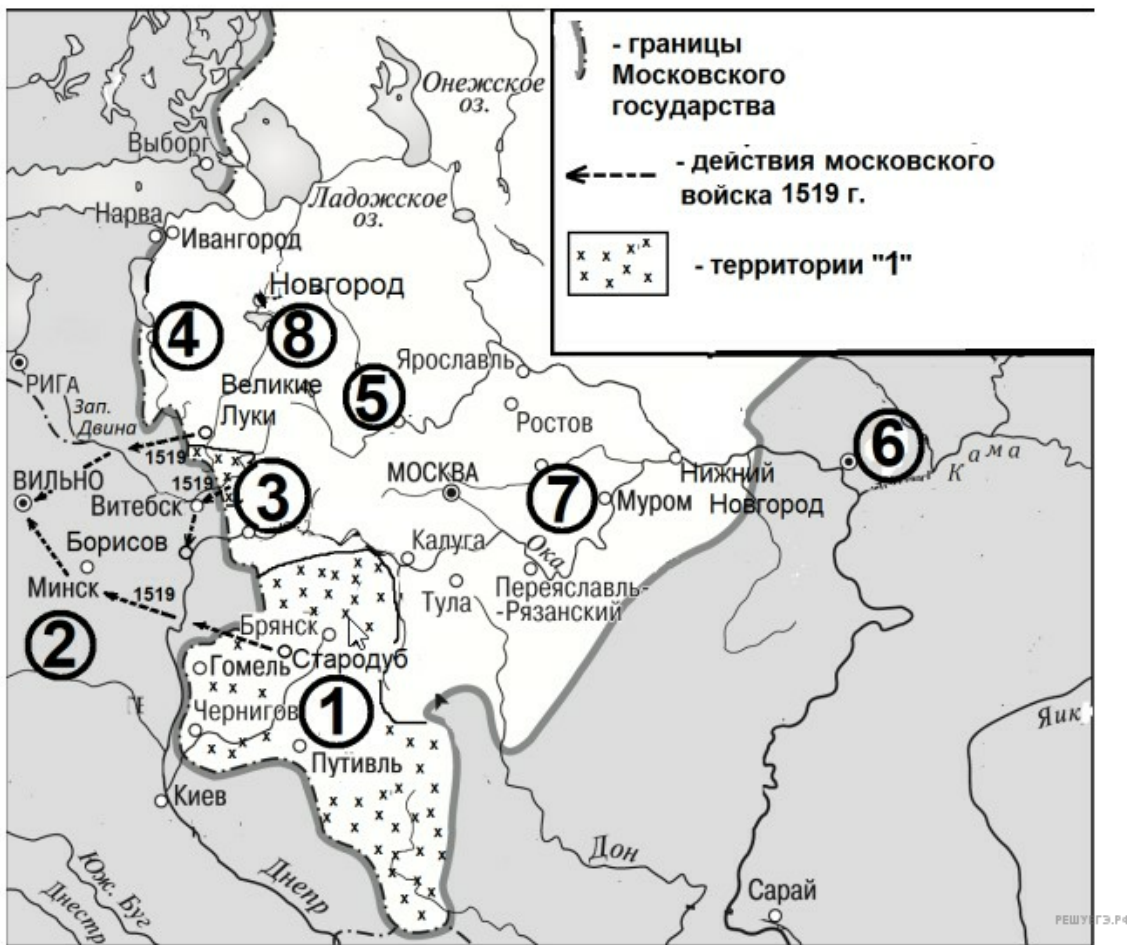
Рассмотрите схему и выполните задание.



80. Какие суждения, относящиеся к схеме, являются верными? Запишите цифры, под которыми они указаны.

1. Поход захватчиков, обозначенный в легенде карты цифрой 1, возглавлял хан Тохтамыш.
2. Обозначенный на схеме цифрой 3 город — Рязань.
3. Обозначенный на схеме цифрой 4 город сдался захватчикам без сопротивления.
4. Цифрой 7 на схеме обозначена столица Хазарского каганата.
5. Обозначенный в легенде карты цифрой 1 поход захватчиков проходил через город Смоленск.
6. Обозначенный на схеме цифрой 6 город в период событий, которым посвящена схема, отличался вечевыми порядками.

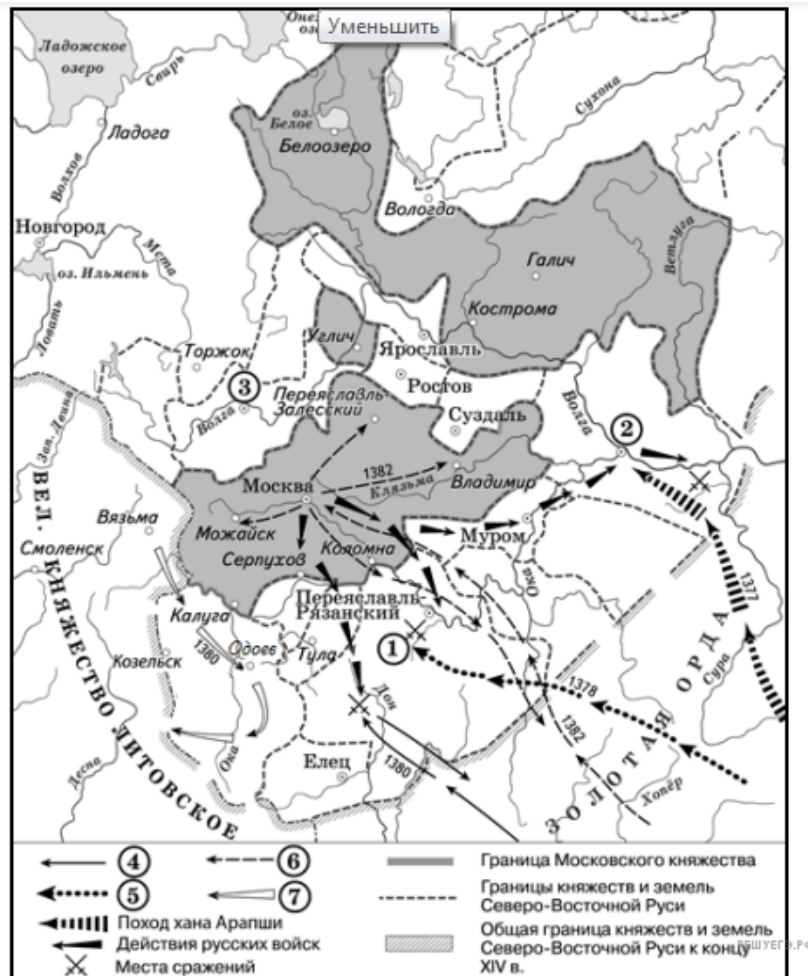
Рассмотрите схему и выполните задание.



81. Какие суждения, относящиеся к схеме, являются верными? Запишите цифры, под которыми они указаны.

1. Цифрой 2 на схеме обозначена территория Ливонского ордена.
2. Город, обозначенный на схеме цифрой 3, был присоединён к Московскому княжеству при том же государе, при котором были присоединены территории, обозначенные цифрой 1.
3. Обозначенный на схеме цифрой 6 город был столицей Золотой Орды.
4. Обозначенный на схеме цифрой 5 город был в XIV в. соперником Москвы в борьбе за лидерство в русских землях.
5. Обозначенный на схеме цифрой 7 город — Владимир.
6. Через обозначенное на схеме цифрой 8 озеро в древности проходил торговый путь «из варяг в греки».

Рассмотрите схему и выполните задание.



83. Какие суждения, относящиеся к схеме, являются верными? Запишите цифры, под которыми они указаны.

1. Сражение, место которого обозначено на схеме цифрой 1, произошло на берегу реки Вожи.
2. Поход, обозначенный в легенде схемы цифрой 4, возглавлял внук Чингисхана.
3. Граница Московского княжества, обозначенная на схеме, установилась к концу правления князя Дмитрия Ивановича Донского.
4. В период событий, отражённых на схеме, Вязьма была пограничной крепостью Московского княжества.
5. Город, обозначенный на схеме цифрой 2, в период Смутного времени стал местом организации Второго земского ополчения.
6. Все сражения, места которых обозначены на схеме, закончились победой русских войск.

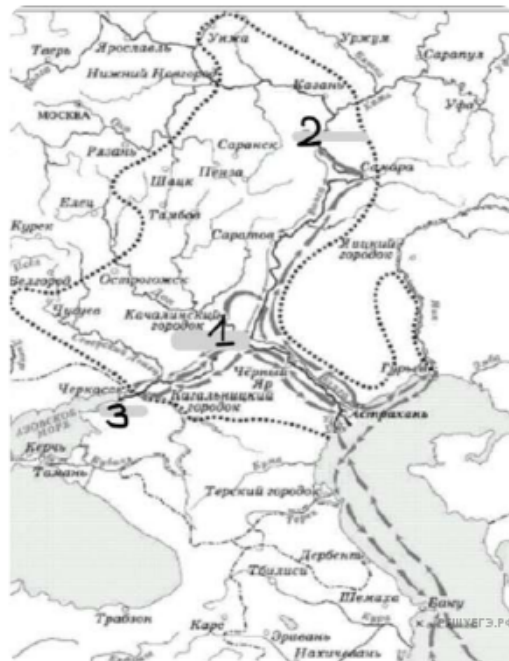
Рассмотрите схему и выполните задание.



84. Какие суждения, относящиеся к схеме, являются верными? Запишите цифры, под которыми они указаны.

1. Предводитель восстания выдавал себя за мужа императрицы Екатерины II.
2. Город, обозначенный на схеме цифрой 2 впервые были присоединен к Российскому государству в том же веке, что и события отраженные на схеме.
3. Восставшим удалось захватить Курск.
4. Восставшим не удалось до конца захватить город под цифрой 3.
5. Одним из результатов восстания, район которого обозначен на схеме, явилось уменьшение налогового гнета.
6. На карте указан город, где во время смуты было организовано первое народное ополчение.

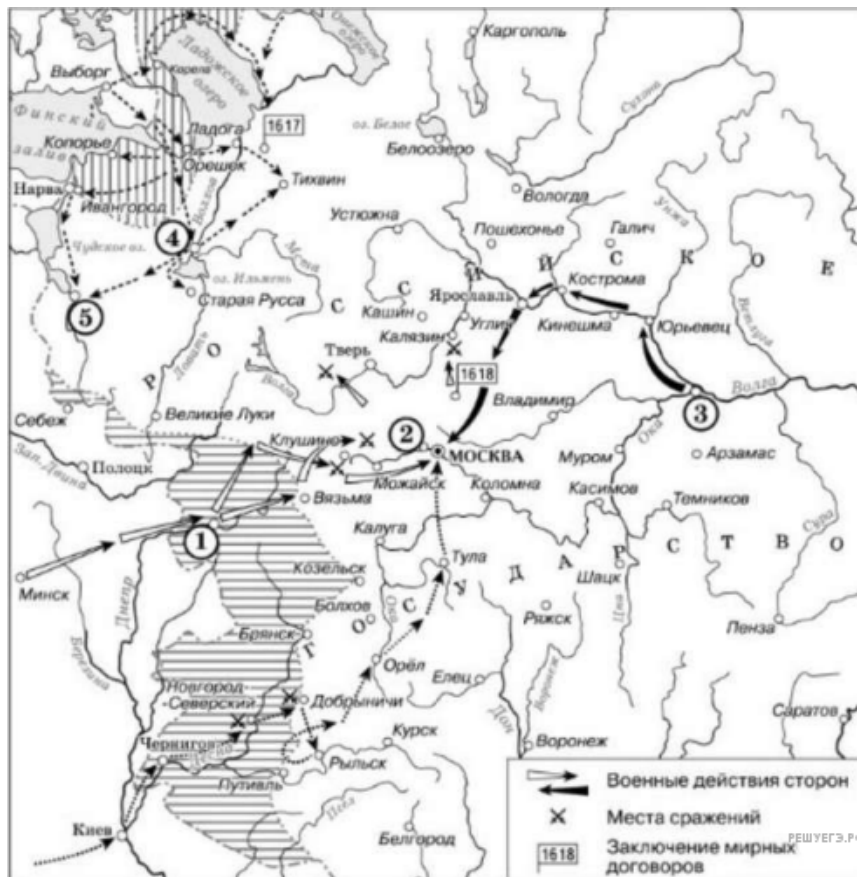
Рассмотрите схему и выполните задание.



85. Какие суждения, относящиеся к схеме, являются верными?

1. Восставший выдавал себя за мужа Екатерины Второй.
2. Город, обозначенный на схеме цифрой 2, не был взят восставшими.
3. В район восстания входил Курск.
4. Город, обозначенный на схеме цифрой 3, был присоединен к России в том же веке, что и события на карте.
5. Восстание, которому посвящена схема, началось в среде казаков.
6. Одним из результатов восстания, район которого обозначен на схеме, явилось прекращение выпуска медных денег.

Рассмотрите схему и выполните задание.



86. Какие суждения, относящиеся к схеме, являются верными? Запишите цифры, под которыми они указаны.

1. По итогам войны Россия приобрела выход к Балтийскому морю.
2. Войска под пунктирной стрелкой (точками) встретили сопротивление на своем пути.
3. Под цифрой 3 находится Рязань.
4. Походом под белыми стрелками руководил Лжедмитрий I.
5. Дмитрий Пожарский был одним из участников похода, обозначенного черными стрелками.
6. На схеме показаны боевые действия с французами и турками.

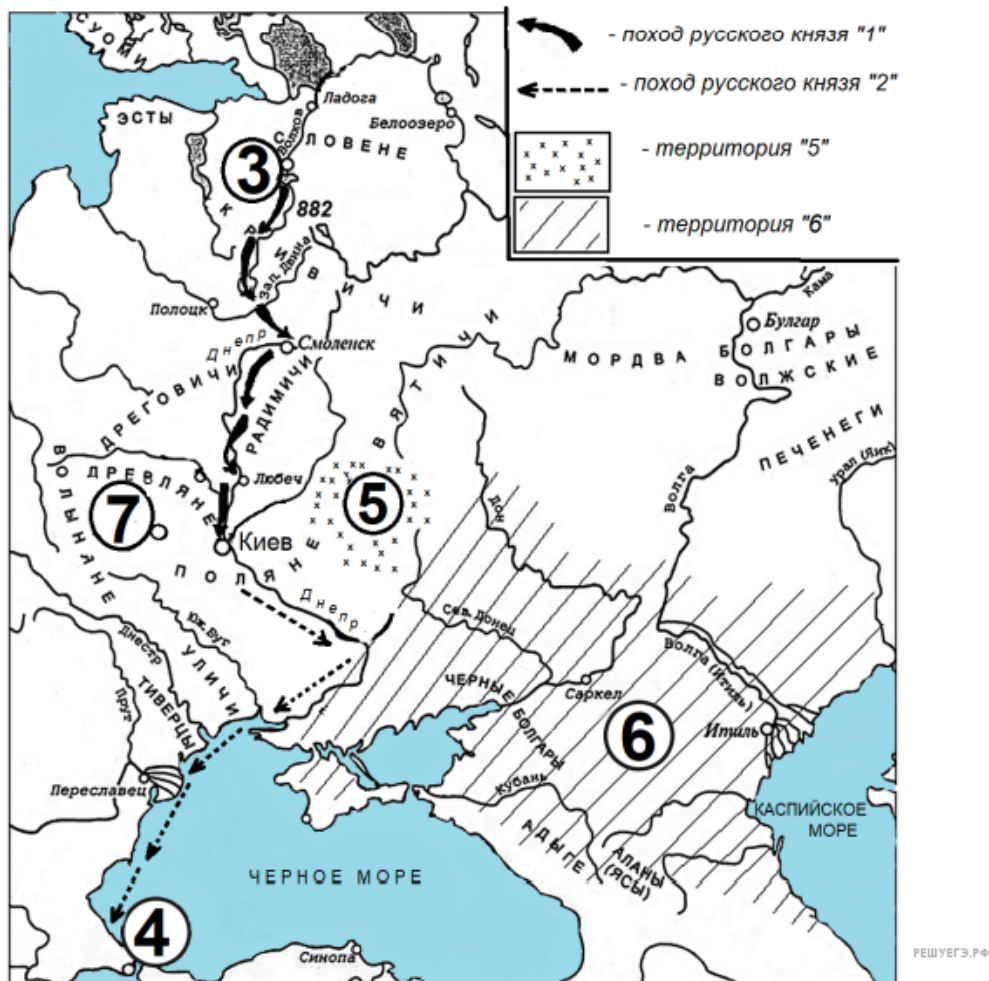
Рассмотрите схему и выполните задание.



87. Какие суждения, относящиеся к схеме, являются верными? Запишите цифры, под которыми они указаны.

1. События, отражённые на схеме, произошли в период правления Михаила Фёдоровича.
2. Цифрой 3 на схеме обозначен Переяслав.
3. В период, когда произошли события, отражённые на схеме, Стародуб входил в состав Российского государства.
4. Цифрой 2 на схеме обозначен Дерпт.
5. Город, обозначенный на схеме цифрой 4, вошёл в состав Российского государства в период правления Василия III.
6. Территория, обозначенная на схеме цифрой 5, вошла в состав Российского государства в XVIII в.

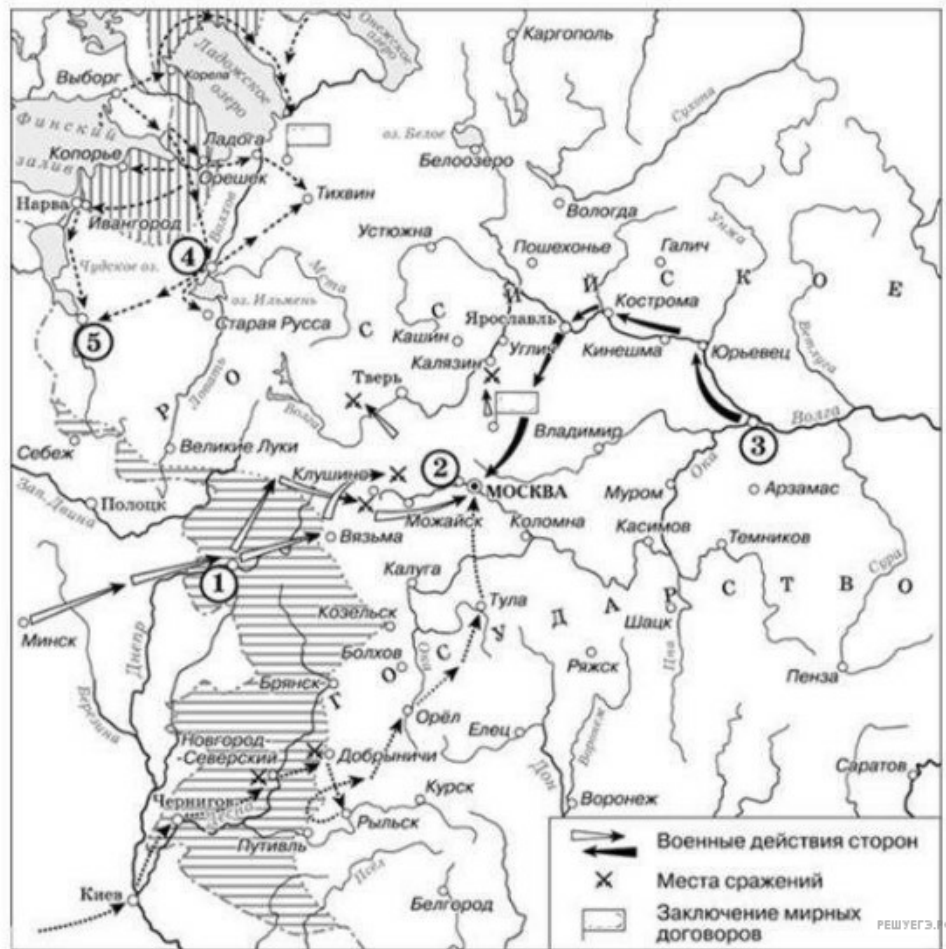
Рассмотрите схему и выполните задание.



88. Какие суждения, относящиеся к схеме, являются верными? Запишите цифры, под которыми они указаны.

1. Обозначенный на схеме цифрой 3 город — Новгород.
2. Поход князя, обозначенный в легенде схемы цифрой 1, проходил через Белоозеро.
3. Обозначенный на схеме цифрой 4 город был конечным пунктом торгового пути «из варяг в греки».
4. Значительная часть похода русского князя, обозначенного в легенде схемы цифрой 2, проходила вдоль морского побережья.
5. Государство, территория которого обозначена на схеме цифрой 6, имело официальной религией ислам.
6. Близ обозначенного на схеме цифрой 7 города погиб князь, который занял престол после князя, совершившего обозначенные на схеме походы.

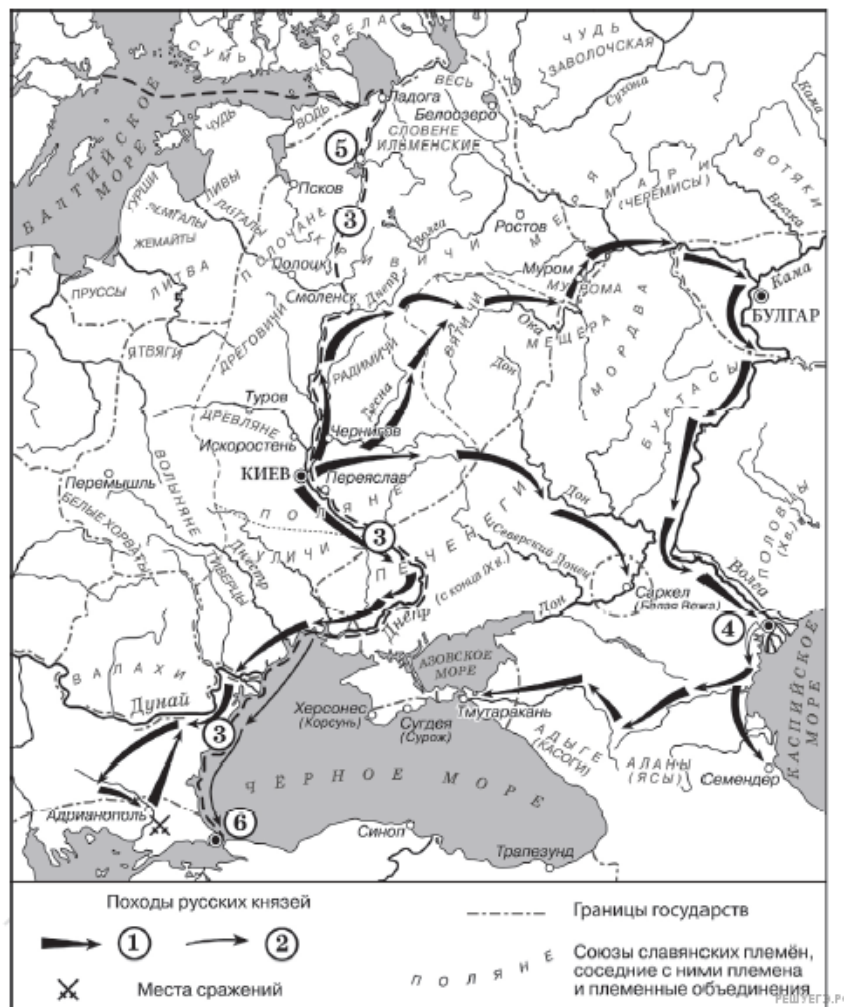
Рассмотрите схему и выполните задание.



89. Какие суждения, относящиеся к схеме, являются верными? Запишите цифры, под которыми они указаны.

- 1) Участником похода из города, обозначенного в легенде схемы цифрой «3», был Прокопий Ляпунов.
- 2) На схеме специальным значком обозначено место, где был подписан Столбовский мир.
- 3) В период, когда произошли обозначенные на схеме события, Киев входил в состав Российского государства.
- 4) В результате обозначенных на схеме событий Россия потеряла заштрихованные территории.
- 5) Цифрой «2» в легенде схемы обозначено Тушино.
- 6) Цифрой «4» на схеме обозначен Великий Новгород.

Рассмотрите схему и выполните задание.



90. Какие суждения, относящиеся к схеме, являются верными?

Запишите цифры, под которыми они указаны.

1. Цифрой «5» на схеме обозначен город Новгород.
2. В ходе событий, обозначенных на схеме стрелками, русское войско взяло город Перемышль.
3. В городе, обозначенном на схеме цифрой «6», согласно «Повести временных лет» принял крещение киевский князь Владимир.
4. Трижды цифрой «3» на схеме обозначен торговый путь «из варяг в греки».
5. Цифрой «4» на схеме обозначен город Кашлык.
6. Киевский князь Олег совершил поход, обозначенный в легенде схемы цифрой «2».

Рассмотрите схему и выполните задание.



91. Какие суждения, относящиеся к схеме, являются верными? Запишите цифры, под которыми они указаны.

1. Поход, обозначенный в легенде схемы цифрой «1», проходил через Вязьму.
2. Обозначенный на схеме цифрой «2» город — Смоленск.
3. Территория, обозначенная на схеме цифрой «3», вошла в состав Русского государства при Иване III и Василии III.
4. Действия неприятеля, обозначенные на схеме цифрой «4», возглавлял король Стефан Баторий.
5. Обозначенная на схеме цифрой «5» территория в результате событий, началу которых посвящена схема, отошла к Ливонскому ордену.
6. Обозначенный на схеме цифрой «6» город вошёл в состав Русского государства в XVI в.

Рассмотрите изображение и выполните задание.



92. Какие суждения, относящиеся к схеме, являются верными? Запишите цифры, под которыми они указаны.

1. Обозначенная на схеме цифрой «2» территория на момент восстания, район которого обозначен на схеме, принадлежала Шведскому королевству.
2. Район восстания, обозначенный на схеме, включал Тулу.
3. Обозначенный на схеме цифрой «3» город вошёл в состав Российского государства при отце государя, в царствование которого происходили обозначенные на схеме события.
4. Территория, обозначенная на схеме цифрой «4», — Крымское ханство.
5. Обозначенный на схеме цифрой «5» город в конце столетия, к которому относятся обозначенные на схеме события, был захвачен российским войском.
6. Город, обозначенный на схеме цифрой «6», — родина первого главы советского государства.

Рассмотрите схему и выполните задание.



93. Какие суждения, относящиеся к схеме, являются верными? Запишите цифры, под которыми они указаны.

- 1) Обозначенный на схеме цифрой «3» город вошёл в состав Российского государства при государе, к концу правления которого сложились указанные на схеме границы Российского государства.
- 2) Обозначенная на схеме цифрой «1» территория когда-то входила в состав Золотой Орды.
- 3) Обозначенный на схеме цифрой «4» город перед включением в состав Российского государства выдержал длительную кровопролитную осаду.
- 4) Обозначенный на схеме цифрой «5» город до включения в состав России был столицей Ногайской Орды.
- 5) Обозначенный на схеме стрелками вражеский набег проходил через Коломну.
- 6) Обозначенный на схеме цифрой «6» город подвергся опустошительному разгрому войсками государя, к концу правления которого сложились указанные на схеме границы Российского государства.

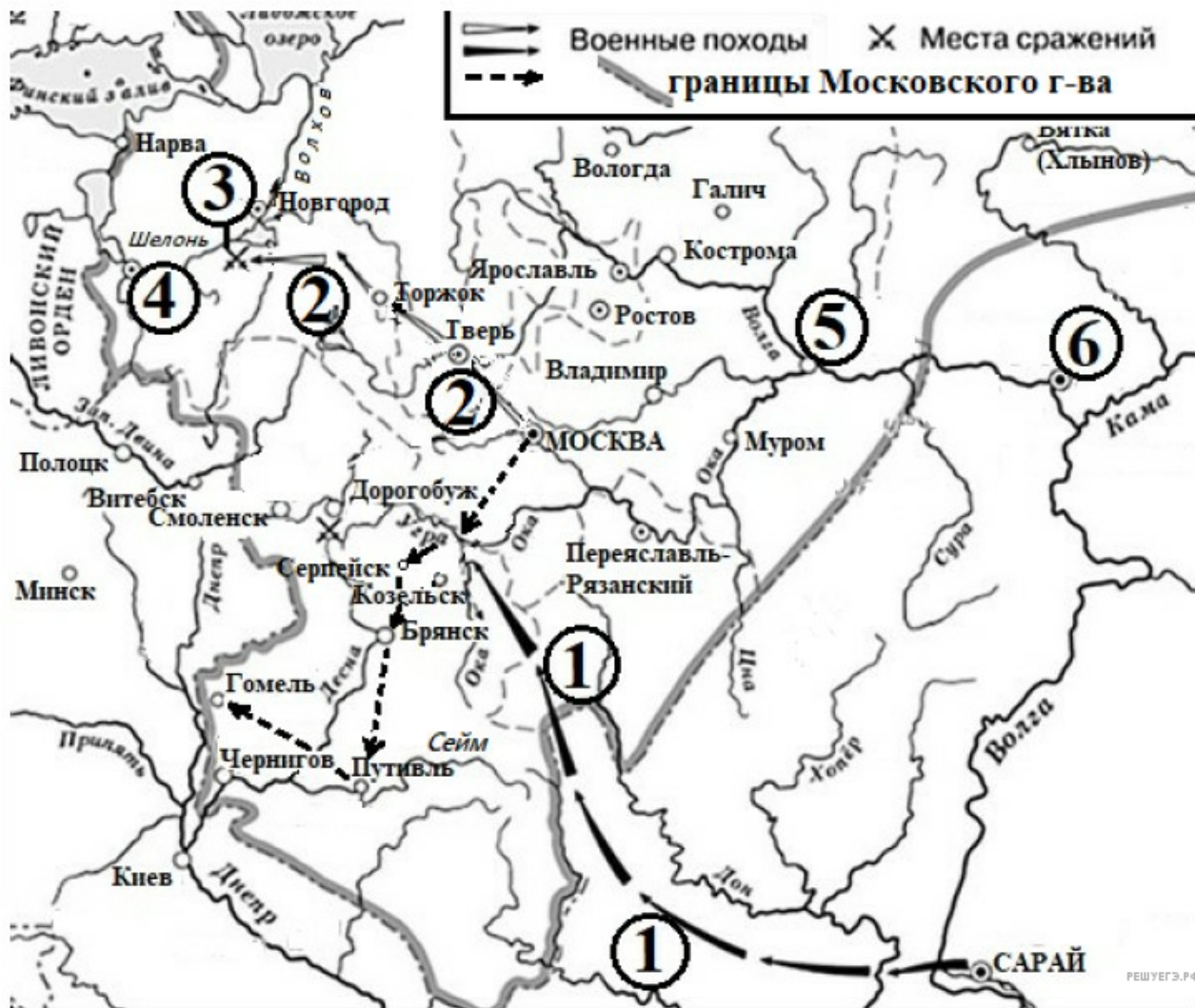
Рассмотрите схему и выполните задания 9–12.



94. Какие суждения, относящиеся к схеме, являются верными? Запишите цифры, под которыми они указаны.

- 1) Обозначенный на схеме цифрой «2» город до присоединения к Российскому государству входил в состав государства, обозначенного цифрой «5».
- 2) В обозначенном на схеме цифрой «3» городе до присоединения к Российскому государству существовало вечевое управление.
- 3) Обозначенный на схеме цифрой «4» город был центром княжества — в середине XIV в. главного конкурента Москвы в борьбе за верховенство в русских землях.
- 4) Обозначенное на схеме цифрой «5» государство в том же веке, в котором обозначенные цифрами «1» и «2» города вошли в состав Российского государства, заключило вечную унию с Польшей и образовало вместе с ней новое государство.
- 5) Обозначенные на схеме цифрами «6» и «7» города были в разное время столицами русских земель.
- 6) Обозначенный на схеме цифрой «8» город — Астрахань.

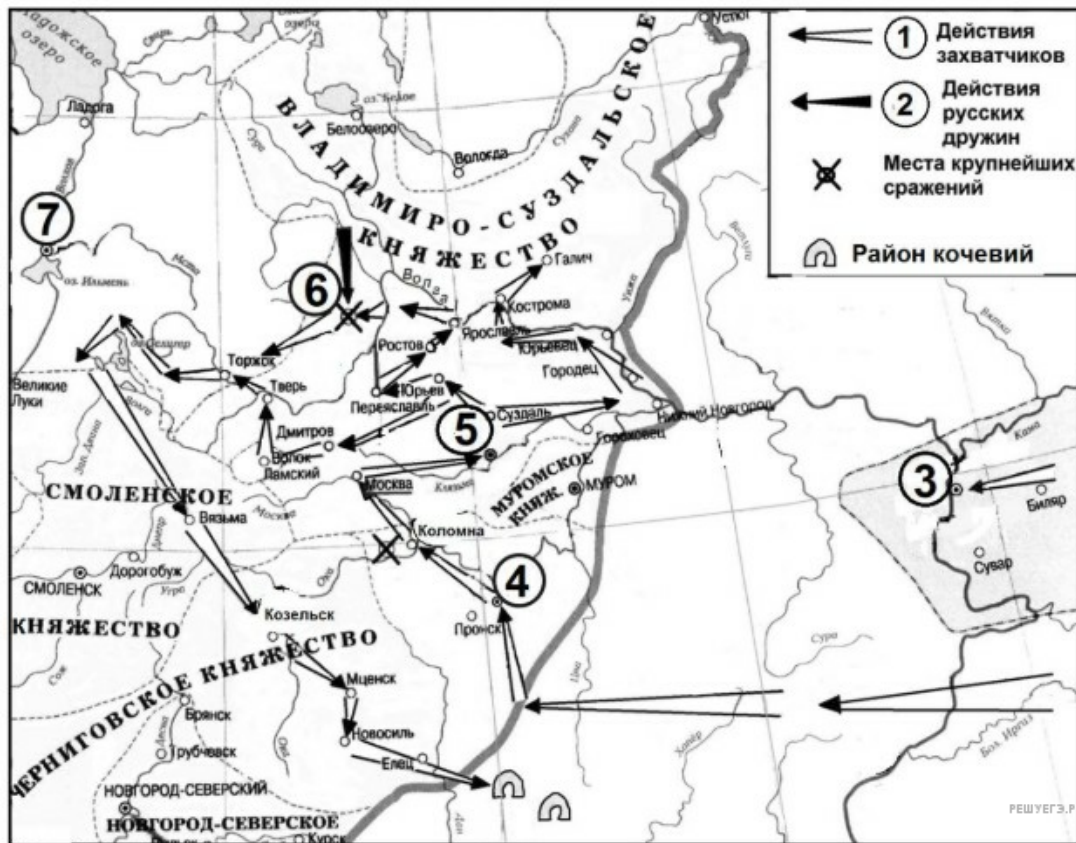
Рассмотрите схему и выполните задание.



95. Какие суждения, относящиеся к схеме, являются верными? Запишите цифры, под которыми они указаны.

- 1) Обозначенный на схеме цифрой «1» поход проходил через Переяславль–Рязанский.
- 2) Обозначенный на схеме цифрой «2» поход проходил в 1470-х гг.
- 3) Битва, место которой обозначено на схеме цифрой «3», проходила между московским и ливонским войсками.
- 4) В том же десятилетии, к которому относится битва, обозначенная на схеме цифрой «3», в состав Московского государства вошёл город, обозначенный на схеме цифрой «4».
- 5) Обозначенный цифрой «5» город был центром княжества, вошедшего в состав Московского княжества при деде государя, в правление которого были совершены обозначенные на схеме стрелками походы.
- 6) Обозначенный на схеме цифрой «6» город был столицей Большой Орды.

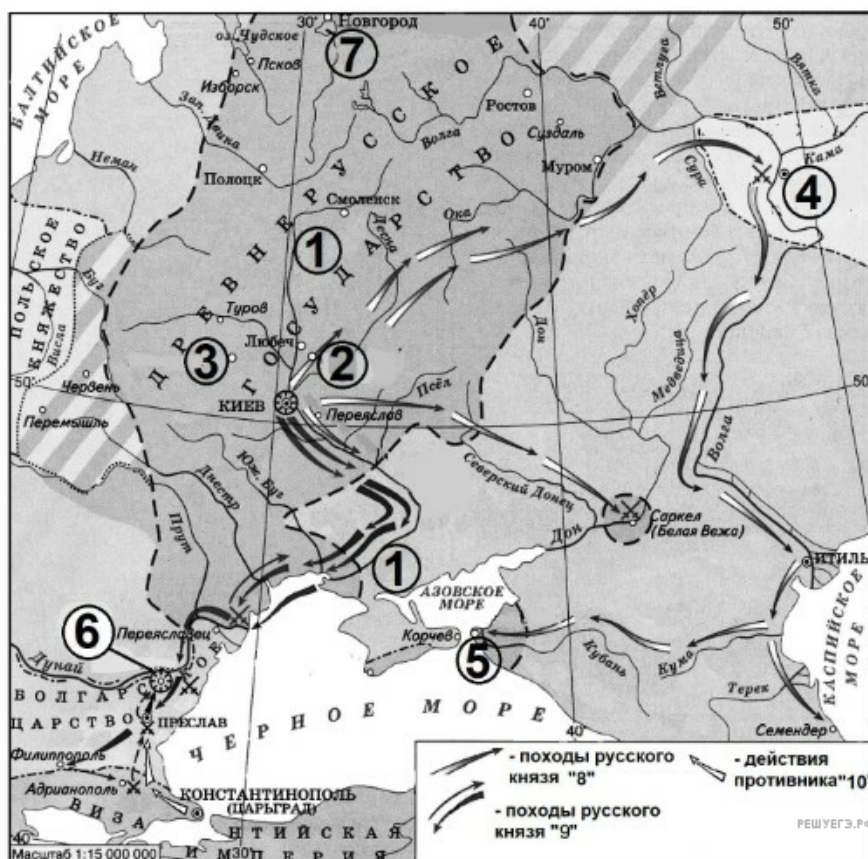
Рассмотрите схему и выполните задания 9–12.



97. Какие суждения, относящиеся к схеме, являются верными? Запишите цифры, под которыми они указаны.

- 1) Обозначенный на схеме цифрой «3» город — Булгар.
- 2) Русский город, обозначенный на схеме цифрой «4», сдался на милость захватчиков без сопротивления.
- 3) Обозначенный на схеме цифрой «5» город выдержал более чем месячную осаду противника.
- 4) Поход захватчиков, обозначенный на схеме, проходил через Вологду.
- 5) В обозначенном на схеме цифрой «6» сражении русские войска разгромили захватчиков.
- 6) Обозначенный на схеме цифрой «7» город в период событий, которым посвящена схема, имел вечевое управление.

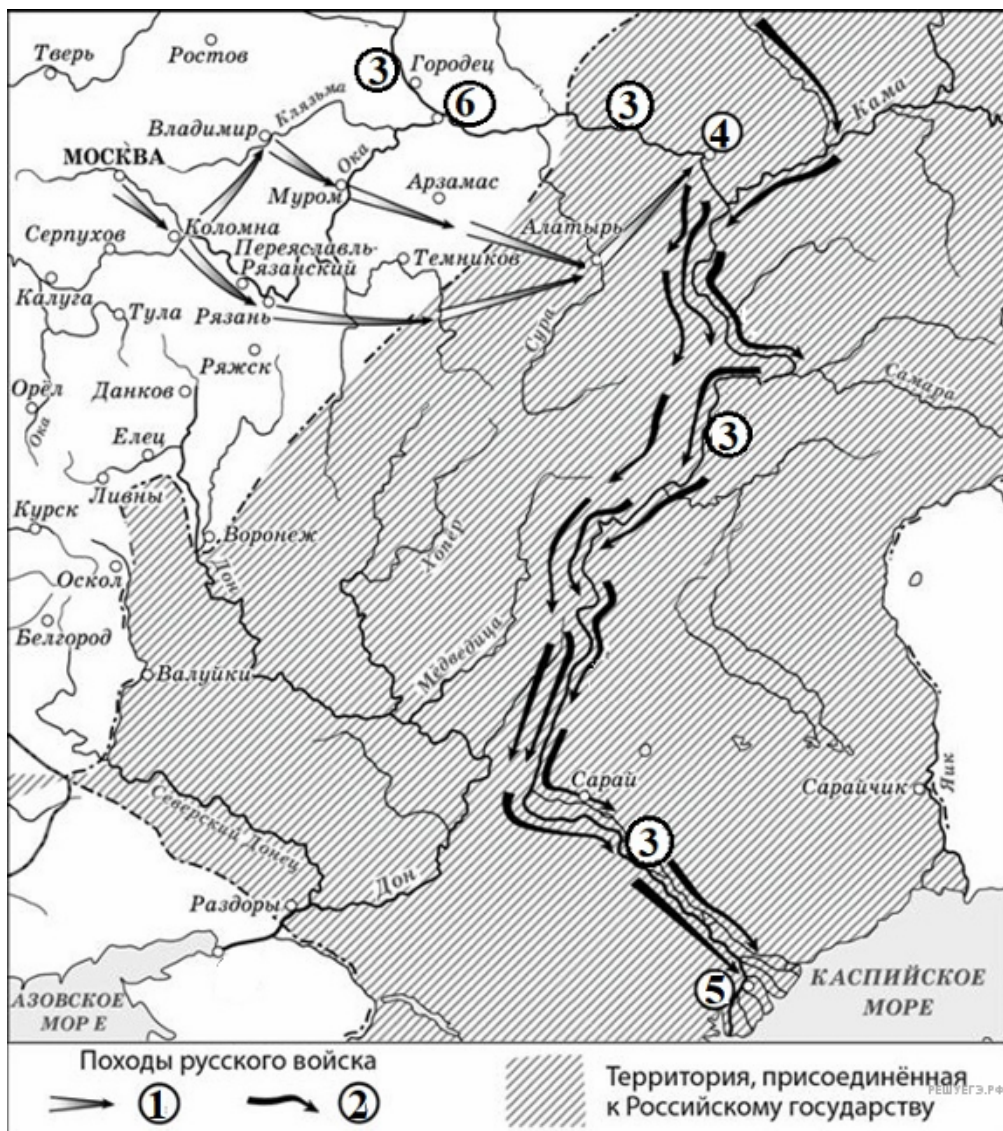
Рассмотрите схему и выполните задания 9–12.



98. Какие суждения, относящиеся к схеме, являются верными? Запишите цифры, под которыми они указаны.

- 1) Обозначенный на схеме цифрой «2» город — Владимир.
- 2) Близ города, обозначенного на схеме цифрой «3», погиб отец князя, который совершал обозначенные в легенде схемы походы «8» и «9».
- 3) Обозначенный на схеме цифрой «4» город был столицей государства, принявшего ислам.
- 4) Название обозначенного на схеме цифрой «5» города стало использоваться в русском языке для нарицательного обозначения чего-то очень далёкого.
- 5) Князь, совершивший походы, обозначенные в легенде схемы цифрами «8» и «9», погиб при обороне крепости, обозначенной на схеме цифрой «6».
- 6) Через обозначенное на схеме цифрой «7» озеро проходил торговый путь «из варяг в греки».

Рассмотрите схему и выполните задания 9–12.



99. Какие суждения, относящиеся к схеме, являются верными? Запишите цифры, под которыми они указаны.

- 1) Походы русских войск, обозначенные в легенде схемы цифрой «1», проходили через Городец.
- 2) Обозначенный на схеме цифрой «4» город оказал яростное сопротивление русским войскам и был взят только в результате кровопролитного штурма.
- 3) Походы русских войск, обозначенные в легенде схемы цифрой «2», проходили через бывшую столицу Золотой Орды.
- 4) В походах русских войск, обозначенных в легенде схемы цифрой «2», участвовали казаки.
- 5) Обозначенный на схеме цифрой «5» город — Бахчисарай.
- 6) Правитель города, обозначенного на схеме цифрой «6», в середине XIV в. боролся с московским князем за ярлык на Великое княжение Владимирское.

Рассмотрите схему и выполните задания 9–12.



100. Какие суждения, относящиеся к схеме, являются верными? Запишите цифры, под которыми они указаны.

- 1) Неприятельский поход, обозначенный на схеме чёрными стрелками, возглавлял хан Ахмат.
- 2) Государственное образование, территория которого обозначена на схеме цифрой «2», имело военно-духовную основу.
- 3) Обозначенный на схеме цифрой «1» город был столицей Великого княжества Литовского.
- 4) Обозначенный на схеме цифрой «4» город вошёл в состав Московского государства при том же московском государе, при котором произошёл неприятельский поход, обозначенный на схеме чёрными стрелками.
- 5) Обозначенный на схеме цифрой «5» город вошёл в состав Московского государства в результате войны с Литвой.
- 6) Обозначенный на схеме цифрой «6» город вошёл в состав Московского государства в результате войны с государственным образованием, территория которого обозначена на схеме цифрой «2».

Рассмотрите схему и выполните задания 9–12.



101. Какие суждения, относящиеся к схеме, являются верными? Запишите цифры, под которыми они указаны.

- 1) На схеме цифрой «2» обозначена крепость Хотин.
- 2) Рядом с городом, обозначенным на схеме цифрой «3», произошло решающее сухопутное сражение Северной войны.
- 3) Российскими войсками в сражении, обозначенном на схеме цифрой «4», руководил А. В. Суворов.
- 4) Обозначенная на схеме цифрой «5» крепость — Измаил.
- 5) Город, обозначенный на схеме цифрой «6», впервые вошёл в состав России по итогам войны, события которой обозначены на схеме.
- 6) Мир, по которому к России перешла обозначенная цифрой «8» территория, был заключён в городе, обозначенном цифрой «7».

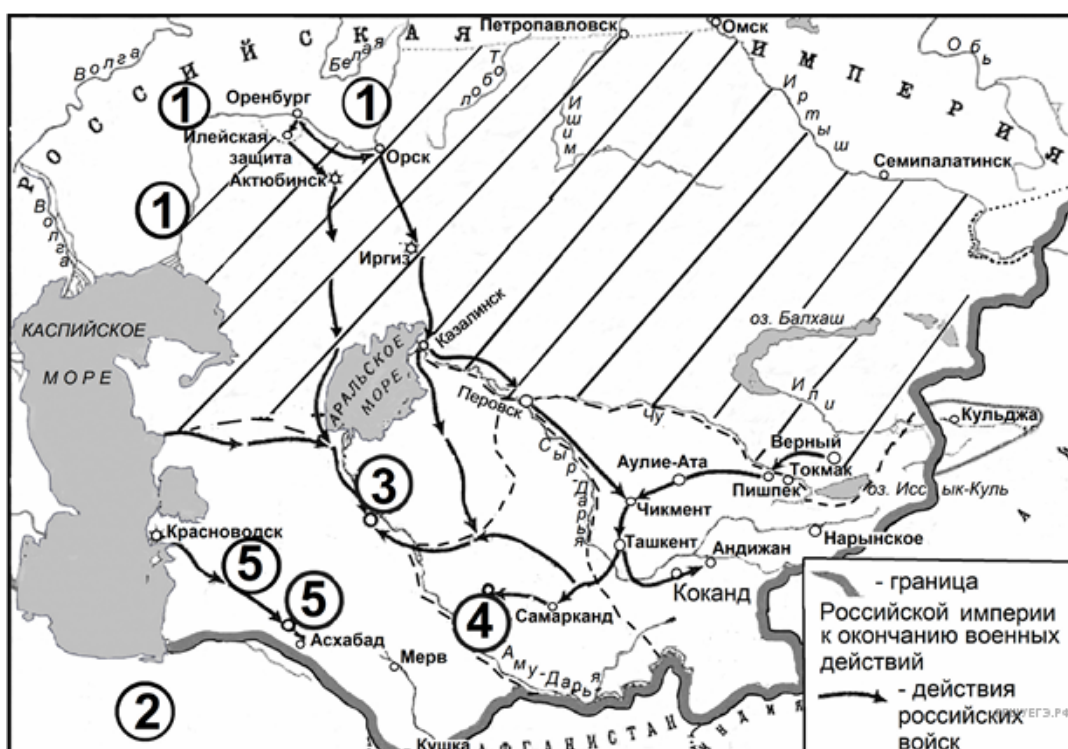
Рассмотрите схему и выполните задания 9–12.



102. Какие суждения, относящиеся к схеме, являются верными? Запишите цифры, под которыми они указаны.

- 1) Российский государь, в царствование которого происходили события, обозначенные на схеме, — Николай I.
- 2) Река, течение которой обозначено на схеме цифрой «1», — Висла.
- 3) Российскую армию, движение которой на схеме обозначено чёрными стрелками и цифрой «2», возглавлял полководец, получивший смертельное ранение в битве, место которой обозначено на схеме цифрой «4».
- 4) Обозначенный на схеме цифрой «3» город в ходе обозначенных на схеме военных действий выдержал двухмесячную осаду со стороны войск неприятеля.
- 5) Движение войск неприятеля, обозначенное на схеме, проходило через город Вязьму.
- 6) На схеме обозначен Тарутинский марш-манёвр русской армии.

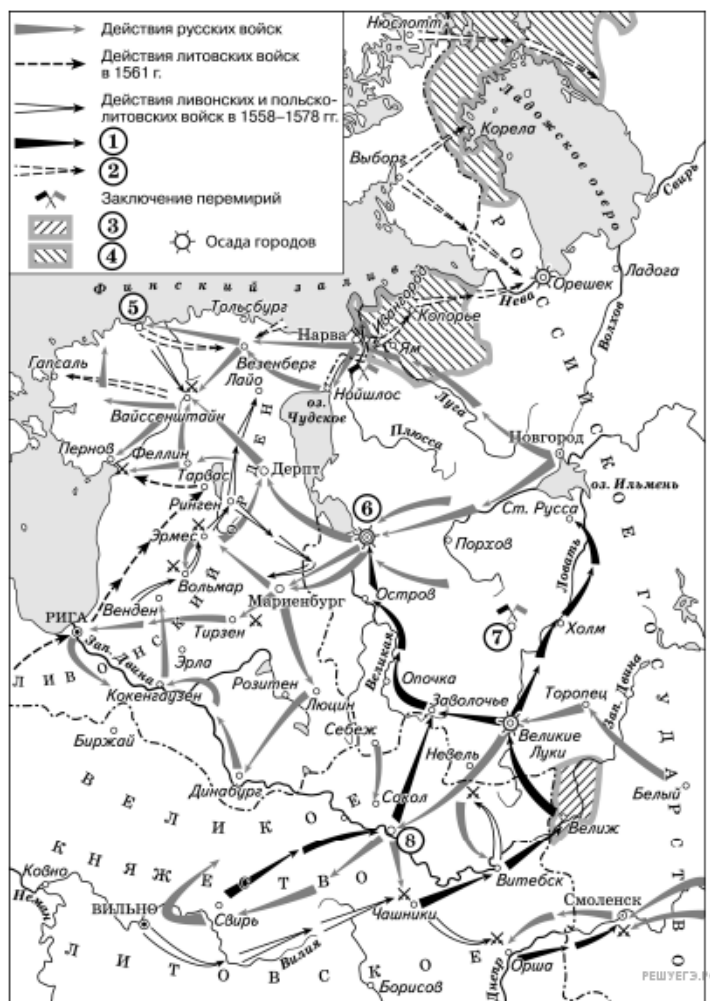
Рассмотрите схему и выполните задания 9–12.



103. Какие суждения, относящиеся к схеме, являются верными? Запишите цифры, под которыми они указаны.

- 1) В столетие, к которому относятся обозначенные на схеме военные действия, Россия дважды воювала с государством, обозначенном на схеме цифрой «2».
- 2) Обозначенный на схеме цифрой «3» город — Хива.
- 3) Государство, столицей которого был обозначенный на схеме цифрой «4» город, без сопротивления принял над собой протекторат Российской империи.
- 4) В территорию Российской империи, сложившуюся в результате военных действий, обозначенных на схеме, вошёл город Кульджа.
- 5) В военных действиях, обозначенных на схеме, в том числе в обозначенном цифрой «5» походе, участвовал генерал М. Д. Скобелев.
- 6) На схеме обозначена река, в водах которой в конце XVI в. погиб атаман Ермак Тимофеевич.

Рассмотрите схему и выполните задания 9–12.



104. Какие суждения, относящиеся к схеме, являются верными? Запишите цифры, под которыми они указаны.

- 1) Цифрами «3» и «4» в легенде схемы обозначены территории, утерянные Россией по итогам войны, события которой отмечены на схеме.
- 2) Цифрой «7» на схеме обозначено место заключения Ям-Запольского мирного договора.
- 3) Цифрой «1» в легенде схемы обозначены действия войск под командованием Станислава Понятовского.
- 4) Город, обозначенный на схеме цифрой «5», был основан Ярославом Мудрым.
- 5) Государство, действия войск которого обозначены в легенде схемы цифрой «2», осуществляло интервенцию в Россию в начале XVII в.
- 6) Город, обозначенный на схеме цифрой «8», на начало войны входил в состав Российского государства.

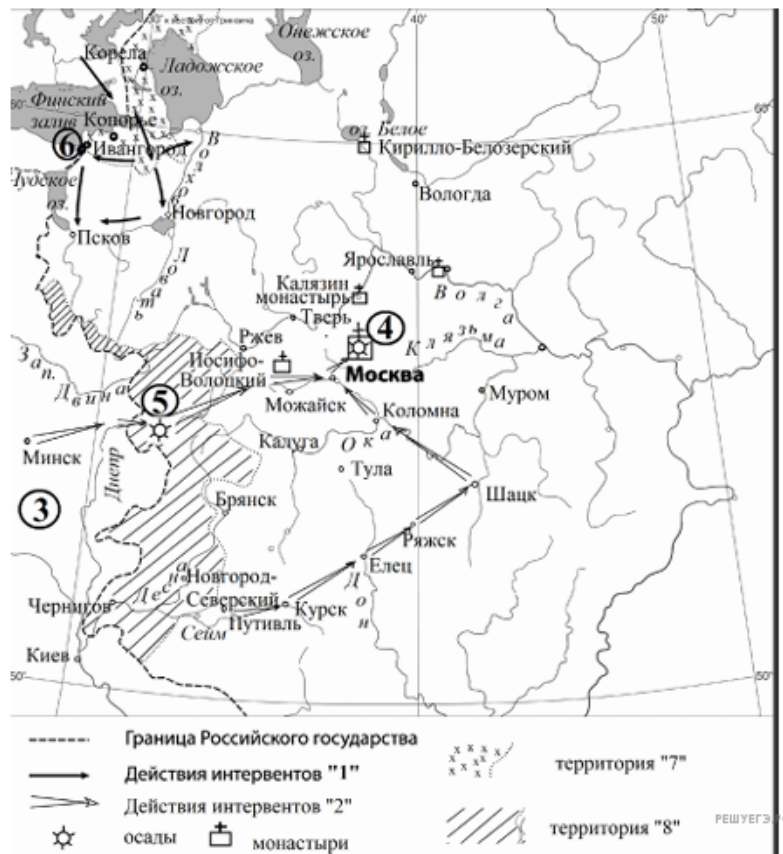
Рассмотрите схему и выполните задания 9–12.



105. Какие суждения, относящиеся к схеме, являются верными? Запишите цифры, под которыми они указаны.

- 1) Флажком на схеме обозначено место казни предводителя восстания, события которого отражены на схеме.
- 2) На схеме отмечена и подписана река, переименованная сразу после подавления восстания, район которой отмечен на схеме.
- 3) В подавлении восстания, район которого обозначен на схеме, принимал участие А. В. Суворов.
- 4) Предводитель восстания, район которого отмечен на схеме, называл себя воеводой царя Дмитрия Ивановича (Лжедмитрия I).
- 5) Саратов находился на территории, охваченной восстанием.
- 6) В городе, обозначенном на схеме цифрой «1», было сформировано Второе народное (земское) ополчение.

Рассмотрите схему и выполните задания 9–12.



106. Какие суждения, относящиеся к схеме, являются верными? Запишите цифры, под которыми они указаны.

- 1) В государстве, территория которого обозначена на схеме цифрой «3», существовала практика избрания монарха.
- 2) На схеме цифрой «4» обозначен Соловецкий монастырь.
- 3) В обороне обозначенного на схеме цифрой «5» города принимал участие М. Б. Шеин.
- 4) Действия интервентов, обозначенные в легенде схемы цифрой «1», затронули Кирилло-Белозерский монастырь.
- 5) Обозначенный на схеме цифрой «6» город — Нарва.
- 6) Территории, обозначенные в легенде схемы цифрой «7», были уступлены Россией по условиям Столбовского мира.

Рассмотрите схему и выполните задания 9–12.



107. Какие суждения, относящиеся к схеме, являются верными? Запишите цифры, под которыми они указаны.

- 1) Руководителем восстания, район которого обозначен на схеме, был Е. И. Пугачёв.
- 2) Обозначенный на схеме цифрой «3» город был присоединён к России в то же царствование, в которое произошло восстание, район которого обозначен на схеме.
- 3) Обозначенный на схеме цифрой «4» город — Царицын.
- 4) Обозначенный на схеме цифрой «5» город был присоединён к России в царствование Ивана Грозного.
- 5) С государством, обозначенном на схеме цифрой «6», в том же столетии, в которое произошло обозначенное на схеме восстание, Россия заключила «Вечный мир».
- 6) Район восстания, обозначенный на схеме, охватывал город Коломну.

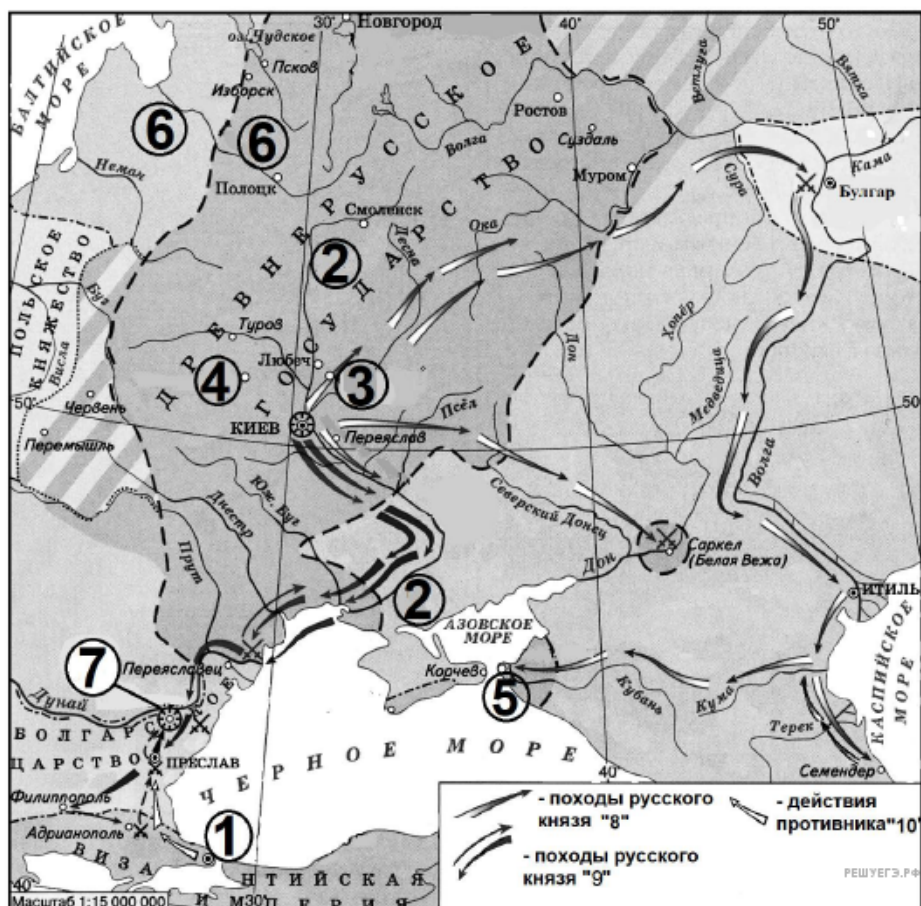
Рассмотрите схему и выполните задания 9–12.



109. Какие суждения, относящиеся к схеме, являются верными? Запишите цифры, под которыми они указаны.

- 1) Русские войска, действия которых обозначены в легенде схемы цифрой «1», достигли реки Неман.
- 2) Войска неприятеля, действия которых обозначены в легенде схемы цифрой «3», проходили через город Холм.
- 3) Войска неприятеля, действия которых обозначены в легенде схемы цифрой «3», возглавлялись королём Стефаном Баторием.
- 4) Обозначенный на схеме цифрой «5» город — Вильно.
- 5) Обозначенный на схеме цифрой «6» город в период войны, события которой обозначены на схеме, был захвачен неприятелем.
- 6) В результате войны, события которой обозначены на схеме, обозначенный цифрой «7» город перешёл под власть шведов.

Рассмотрите схему и выполните задания 9–12.



110. Какие суждения, относящиеся к схеме, являются верными? Запишите цифры, под которыми они указаны.

- 1) Обозначенный на схеме цифрой «3» город — Чернигов.
- 2) Обозначенный на схеме цифрой «4» город был сожжён вместе с жителями матерью князя, совершившего походы, обозначенные в легенде схемы цифрами «8» и «9».
- 3) В обозначенном на схеме цифрой «5» городе сын князя, совершившего походы, обозначенные в легенде схемы цифрами «8» и «9», принял крещение.
- 4) По реке, обозначенной на схеме цифрой «6», проходила часть торгового пути «из варяг в греки».
- 5) В крепости, обозначенной на схеме цифрой «7», русская дружина оборонялась от осаждавших крепость печенегов.
- 6) Походы, обозначенные в легенде схемы цифрой «8», проходили через город Ростов.

Рассмотрите схему и выполните задания 9–12.



111. Какие суждения, относящиеся к схеме, являются верными? Запишите цифры, под которыми они указаны.

- 1) Территория, обозначенная в легенде карты цифрой «1», — это территория расселения союза северян.
- 2) Под цифрой «3» на схеме обозначено Чудское озеро.
- 3) Обозначенный под цифрой «4» город — Ладога.
- 4) В окрестностях города, обозначенного на схеме цифрой «5», погиб князь Игорь Старый.
- 5) Обозначенный на схеме цифрой «6» город некоторое время был столицей одного из братьев, между которыми произошёл обозначенный на схеме раздел территорий.
- 6) В городе, обозначенном цифрой «7», согласно летописной легенде один из великих князей киевских принял крещение.

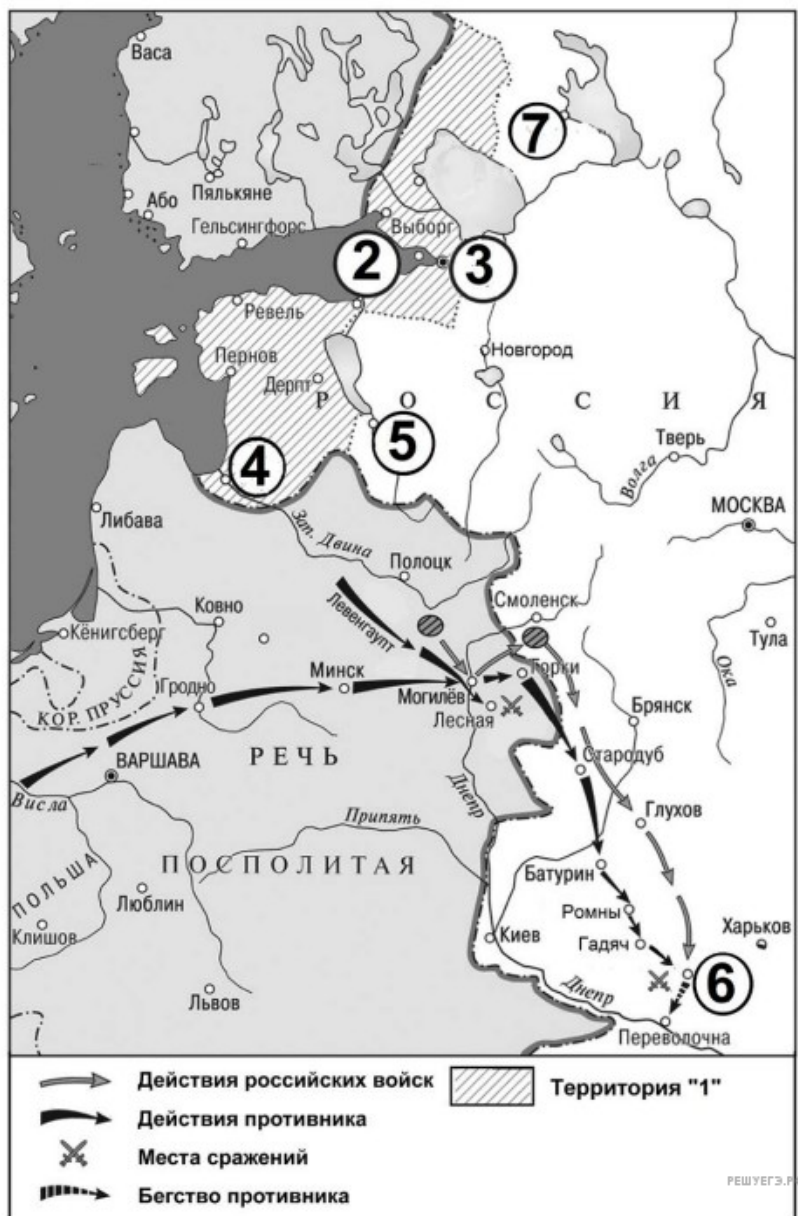
Рассмотрите схему и выполните задания 9–12.



112. Какие суждения, относящиеся к схеме, являются верными? Запишите цифры, под которыми они указаны.

- 1) Цифрой «2» на схеме обозначена столица Крымского ханства.
- 2) Обозначенная на схеме цифрой «3» крепость — Измаил.
- 3) В ходе войны неприятельские войска доходили до города Харьков.
- 4) Обозначенная на схеме цифрой «4» крепость была возвращена Петром I Османской империи по условиям мира, подписанного на реке, русло которой обозначено на схеме цифрой «6».
- 5) В сражении, обозначенном на схеме цифрой «5», российскими войсками командовал П. А. Румянцев.
- 6) Обозначенная в легенде схемы цифрой «7» территория вошла в состав России по мирному договору, заключённому в Бухаресте.

Рассмотрите схему и выполните задания 9–12.



113. Какие суждения, относящиеся к схеме, являются верными? Запишите цифры, под которыми они указаны.

- 1) Территория, обозначенная в легенде схемы цифрой «1», вошла в состав России по условиям мира, подписанного в городе, обозначенном на схеме цифрой «4».
- 2) Близ обозначенного цифрой «2» города произошло первое крупное сражение данной войны, в котором участвовала российская армия.
- 3) Обозначенный на схеме цифрой «3» город был основан при Иване Грозном.
- 4) Обозначенный цифрой «5» город во время войны, события которой обозначены на схеме, подвергся длительной осаде неприятельского войска.
- 5) Поход войск неприятеля, обозначенный на схеме, проходил через Брянск.
- 6) Цифрой «7» на схеме обозначен центр оружейного производства, созданный в годы войны, события которой обозначены на схеме.

Рассмотрите схему и выполните задания 9–12.



114. Какие суждения, относящиеся к схеме, являются верными? Запишите цифры, под которыми они указаны.

- 1) 3-м Белорусским фронтом в начале обозначенных на схеме стрелками событий командовал Г. К. Жуков.
- 2) Участником обозначенных на схеме стрелками событий был И. В. Панфилов.
- 3) В ходе отражённых на схеме событий Красная армия заняла город Вормдитт.
- 4) К началу обозначенных на схеме стрелками событий уже состоялась Тегеранская конференция «Большой тройки».
- 5) Цифрой «2» на схеме обозначена Варшава.
- 6) В ходе отражённых на схеме событий погиб генерал армии И. Д. Черняховский.